

제 4 교시

사회 탐구 영역 (윤리)

성명		수험 번호	
----	--	-------	--

- 먼저 수험생이 선택한 과목의 문제지인지 확인하십시오.
- 선택 과목은 반드시 응시 원서 작성시 자신이 선택한 과목의 문제를 풀어야 합니다.
- 문제지에 성명과 수험 번호를 정확히 기입하십시오.
- 답안지에 수험 번호, 선택 과목, 답을 표기할 때는 반드시 '수험생이 지켜야 할 일'에 따라 표기하십시오.
- 문항에 따라 배점이 다르니, 각 물음의 끝에 표시된 배점을 참고하십시오. 3점 문항에만 점수가 표시되어 있습니다. 점수 표시가 없는 문항은 모두 2점입니다.

1. 다음과 같은 지구촌 문제를 해결하기 위한 방안을 <보기>에서 모두 고른 것은?

- 환경 오염으로 인해 생태계의 자연스러운 순환과 재생 능력이 손상되었다.
- 국가간의 군비 경쟁이 지속되고 있으며, 핵전쟁의 위협이 여전히 남아 있다.
- 인구의 급격한 증가로 인해 식량, 에너지, 물, 주거 공간 등이 부족한 상태이다.

<보 기>

- ㄱ. 개인주의 강조
- ㄴ. 세계 윤리 지향
- ㄷ. 성장 지상주의 추구
- ㄹ. 생태주의 사상의 보급

- ① ㄱ, ㄴ    ② ㄱ, ㄷ    ③ ㄴ, ㄷ    ④ ㄴ, ㄹ    ⑤ ㄷ, ㄹ

2. <가>의 가르침을 따라 실천한 <나>의 전통 예식에 해당하지 않는 것은?

< 가 >

술을 지나치게 마시면 뜻을 잃어 방탕과 안일을 행하다가 결국 악한 행동으로 치닫게 되니, 정성됨이 없으면 참되지 않다.

< 나 >

향음주례(鄉飲酒禮)는 향촌의 선비와 유생들이 학교나 서원 등에 모여 학덕과 연륜이 높은 사람을 주빈(主賓)으로 모시고, 그 밖의 유생을 손님으로 하여 함께 술을 마시는 의식인데, 해마다 초겨울의 길일(吉日)을 택하여 고을 단위로 행하였다.

- ① 남녀노소가 어울려 술 마시며 논다.
  - ② 서로 절하며 양보하는 예절을 지킨다.
  - ③ 연장자를 존중하고 덕이 있는 자를 높인다.
  - ④ 주인과 손님 사이에 절도 있게 술잔을 주고받는다.
  - ⑤ 술자리에서 지켜야 할 규범을 정하고, 행할 것을 맹세한다.
3. 밑줄 친 '이것'과 가장 거리가 먼 것은?

- 이것은 사람들이 공유하고 있는 매우 강력한 힘을 지닌 세계관 또는 가치관이다.
- 이것은 자유주의, 사회주의, 민족주의, 민주주의 등과 같은 사상을 일컫는 사회 과학적 용어이다.

- ① 경직된 이분법을 통해 세계를 바라보는 경향이 있다.
- ② 자신의 이익을 추구하는, 공공성을 결여하는 성향이 있다.
- ③ 인간의 경험 및 외부 세계를 포괄적으로 설명하는 이론적 토대를 제공한다.
- ④ 사회의 바람직한 목표를 제시하고 기존 사회에 대한 비판의 틀을 제공한다.
- ⑤ 인간에게 삶을 개선할 수 있다는 믿음을 심어주고 이를 실천에 옮기게 한다.

4. 다음 글에 함축된 통일의 방법을 <보기>에서 모두 고른 것은?

통일된 나라의 국가(國歌)에는 민족 상잔과 대립으로 이루어진 분단 시대를 슬기롭게 극복하고 세계사에 유례가 없었던 주체적·평화적 통일을 이룩한 민족적 자부심, 그리고 남북이 대등한 처지에서 민족의 재통일을 달성한 환희가 표현되어야 할 것이다.

-역사비평, 1994년 여름호-

<보 기>

- ㄱ. 국제 사회에서 북한의 고립을 유도한다.
- ㄴ. 남북한 교류 확대를 통해 상호 신뢰를 구축한다.
- ㄷ. 주변 강대국들의 이익을 반영한 통일 방안을 설정한다.
- ㄹ. 남북한간의 군사적 긴장 상태를 최소화하기 위한 방안을 마련한다.

- ① ㄱ, ㄴ    ② ㄱ, ㄷ    ③ ㄴ, ㄷ    ④ ㄴ, ㄹ    ⑤ ㄷ, ㄹ

5. 다음 사람들에게 요구되는 행위 규범은? [3점]

갑 : 내 것도 아닌데 아낄 필요가 뭐 있어.  
 을 : 수단과 방법을 가리지 않고 돈만 벌면 돼.  
 병 : 내가 벌어서 내 마음대로 쓰는데 무슨 상관이야.

- ① 이(利)를 보면 의(義)를 생각한다[견리사의의(見利思義)].
- ② 사실에 입각하여 진리를 구한다[실사구시(實事求是)].
- ③ 의식주 등 실제 생활을 풍요롭게 한다[이용후생(利用厚生)].
- ④ 평소에 준비를 잘해 두면 후환이 없다[유비무환(有備無患)].
- ⑤ 아랫사람은 윗사람의 명을 받들어야 한다[상명하복(上命下服)].

6. 다음 글이 함축하는 내용을 <보기>에서 모두 고른 것은? [3점]

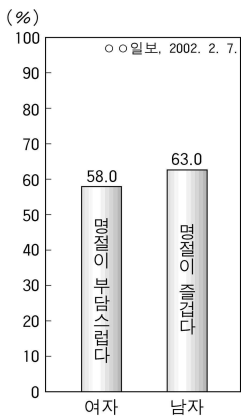
대부분의 미국인들은 거의 매일같이 단백질 권장량의 두 배 이상을 섭취하고 있다. 축산업자들은 이러한 소비에 발맞추기 위해 가축들을 운동할 수 없도록 좁은 우리에 가두어 사육하기도 하고, 초식동물인 소에게 육류를 가공한 사료를 먹이기도 한다. 이러한 사육 방식으로 인해 광우병과 같은 질병이 발생하기도 한다. 또한, 처리할 수 없을 정도의 많은 배설물을 양산함으로써 환경 오염의 원인이 되고, 가축들의 엄청난 물 소비로 인해 수자원이 고갈되고 있다. 이와 같이 우리 인간은 욕구를 충족시키기 위해 생태계를 파괴하고 있는 것이다.

-○○방송, 환경 스페셜, 존 로빈스가 꿈꾸는 새로운 미국-

- <보 기>
- ㄱ. 인간의 행복을 위해서 자연을 정복해야 한다.
  - ㄴ. 인간의 욕망을 절제하고, 환경 보전에 힘써야 한다.
  - ㄷ. 자연을 물질적 효용 가치의 측면에서 보아야 한다.
  - ㄹ. 인위적인 것에서 벗어나 자연의 순리를 따라야 한다.

- ① ㄱ, ㄴ    ② ㄱ, ㄷ    ③ ㄴ, ㄷ    ④ ㄴ, ㄹ    ⑤ ㄷ, ㄹ

7. 다음은 우리 사회에서 나타나는 명절 문화의 문제점에 관한 것이다. 바람직한 명절 문화를 이루기 위한 방안을 <보기>에서 모두 고른 것은?



- <보기>
- ㄱ. 남녀가 따로 앉아 식사한다.
  - ㄴ. 부엌일과 상차림은 여자가 한다.
  - ㄷ. 차례(茶禮)에 남녀가 함께 절한다.
  - ㄹ. 명절에는 양가(兩家)를 모두 방문한다.

- ① ㄱ, ㄴ    ② ㄱ, ㄷ    ③ ㄱ, ㄹ    ④ ㄴ, ㄹ    ⑤ ㄷ, ㄹ

8. 밑줄 친 관점을 수용한 사상가들의 주장을 <보기>에서 모두 고른 것은? [3점]

서양 윤리는 인간의 본성으로서 이성과 사유의 측면을 중시하느냐, 감각과 경험의 측면을 중시하느냐에 따라 크게 두 가지 흐름으로 나누어 볼 수 있다. 이성과 사유를 중시하는 윤리는 이성애 따라 감각적 충동을 억제하고 덕을 실천할 때 선과 정의의 실현이 가능하다고 보는 반면에, 감각과 경험을 중시하는 윤리는 현실과 경험을 중시하고 또한 삶의 목적을 쾌락과 행복의 실현에 둔다.

- <보기>
- ㄱ. 도덕적 행위의 주된 요인은 감정이다.
  - ㄴ. 나는 생각한 다. 그러므로 나는 존재한다.
  - ㄷ. 합리적 사고로 감각적 욕망을 조절하는 인간이 이상적인 인간이다.
  - ㄹ. 도덕이나 윤리도 변화하고 성장하며, 고정적이고 절대적인 가치는 없다.

- ① ㄱ, ㄴ    ② ㄱ, ㄷ    ③ ㄴ, ㄷ    ④ ㄴ, ㄹ    ⑤ ㄷ, ㄹ

[9~10] 다음 글을 읽고 물음에 답하시오.

- 무릇 ( )은(는) 덕(德)의 근본이며 모든 가르침의 시작이다. -논어-
- 나무가 고요하고자 하나 바람이 멈추지 않고, 자식이 ( )하고자 하나 아버지가 기다리지 않는다. -한시외전-

9. ( ) 안에 공통적으로 들어갈 덕목과 관계 깊은 것은?

- ① 친구간의 신의와 우정
- ② 부부간의 구분과 차이
- ③ 임금과 신하 사이의 신의
- ④ 부모에 대한 공경과 사랑
- ⑤ 국가와 군주에 대한 충성

10. 이 덕목이 현대 사회에 기여할 수 있는 점을 <보기>에서 모두 고른 것은?

- <보기>
- ㄱ. 가족적 유대감 중시로 사랑과 공경의 정신 고양
  - ㄴ. 혈연, 지연, 학연 등 비합리적 인간 관계의 극복
  - ㄷ. 남아 선호 사상과 가부장적 요소의 문제점 감소
  - ㄹ. 핵가족화의 심화에서 오는 노인들의 소외감 완화


- ① ㄱ, ㄴ    ② ㄱ, ㄷ    ③ ㄱ, ㄹ    ④ ㄴ, ㄹ    ⑤ ㄷ, ㄹ

11. 다음과 같은 견해를 가진 사상가의 주장은? [3점]

- 인간은 자연의 일부이기 때문에 자연 법칙의 지배를 받는다. 따라서 그 법칙이 인간에게 어떻게 적용되는가를 규명하면 인간의 정체를 파악할 수 있다.
- 우리가 자연을 알기 위해서는 참된 인식을 방해하는 '우상(偶像)'인 선입견과 편견을 없애야 한다.

- ① 인간은 이성을 갖고 있는 한 모두 평등하다.
- ② 개인은 국가의 일원으로서만 행복한 삶을 살 수 있다.
- ③ 참된 지식을 얻기 위해서는 귀납법을 사용해야 한다.
- ④ 참된 세계는 이성을 통해서만 파악될 수 있는 이데아 세계이다.
- ⑤ 정상적인 인간이라면 누구나 질적으로 높고 고상한 쾌락을 추구한다.

12. 다음 문화재에 공통적으로 반영된 사상에서 강조하는 삶의 자세는?



<백제금동대향로>



<무릉도원도>

- ① 중생들과 고락을 함께 하며 자비를 베푼다.
- ② 자연의 순리대로 행하며 만물을 차별 없이 대한다.
- ③ 예법을 익혀 자신의 마음과 행동을 항상 단속한다.
- ④ 집 안에서는 효에 힘쓰고, 집 밖에 나가서는 나라에 충성한다.
- ⑤ 신이 내린 계율을 엄격히 지켜 구원을 얻을 수 있도록 힘쓴다.

13. 다음 전통 의례(儀禮)가 갖는 의미는?

대체로 정월달의 좋은 날을 가려 사당에고하고 예(禮)를 행할 장소를 준비한다. 예를 주관하는 사람[賓(賓)]을 초청하여 처음 세 단계의 절차[삼가(三加)], 즉 관자(冠者)의 상투를 틀어주고, 술을 따라 준 후 축사를 하며, 관자에게 관(冠)을 씌워주는 의식을 행한다. 이어서 관자에게 자(字)를 내려주고 축사를 하면, 관자는 정성어린 답사를 한다[자관자례(字冠者禮)]. 끝으로 관자는 부모와 마을 어른들을 찾아뵙고 절을 올린다[현우존장(見于尊長)].

- ① 장수(長壽)를 축하하고 사랑과 은혜에 감사하는 마음을 가지게 한다.
- ② 아동기와 성인기를 구분하고 성인으로서 자신의 역할을 자각하게 한다.
- ③ 죽은 사람을 떠나 보내며 이별의 슬픔을 승화시키고 삶의 가치를 깨닫게 한다.
- ④ 성장한 남녀가 사회의 인정을 받아 한 가정을 이루고 반려자로 살아가게 한다.
- ⑤ 돌아가신 날에 조상을 기리고 자신의 근원에 대하여 감사하는 마음을 가지게 한다.

14. 다음과 같이 주장한 조선 시대 사상가의 인간관을 <보기>에서 모두 고른 것은? [3점]

- 사람에게는 육체와 감각 기관이 있으므로 해서 갖게 되는 성향이 있고, 하늘로부터 부여된 도덕적인 성향이 있다.
  - 사람은 선악에 대하여 스스로 결정할 수 있다. 금수(禽獸)는 선악에 대하여 스스로 결정할 수 없고 어쩔 수 없이 그러하다.
  - 덕은 인간의 본성에 내재하는 것이 아니라 일상적인 행위 속에서 실천하며 형성되는 것이다.
- 여유당전서-

<보 기>

- ㄱ. 사람의 본성은 기호(嗜好)라고 할 수 있다.
- ㄴ. 사람은 자신의 행위를 자율적으로 선택할 수 있는 존재이다.
- ㄷ. 사람은 인위적인 규범에서 벗어나 자연적 본성에 따라 살아야 한다.
- ㄹ. 사람은 모두가 한울님과 한 몸이 되어 한울님의 뜻을 잊지 말아야 한다.

- ① ㄱ, ㄴ    ② ㄱ, ㄷ    ③ ㄴ, ㄷ    ④ ㄴ, ㄹ    ⑤ ㄷ, ㄹ

15. 다음은 동양 사상의 인성론과 수양론을 제시한 것이다. 불교 사상에 해당하는 것만을 골라 바르게 짝지은 것은? [3점]

(가) 인성론

- ㄱ. 인간은 하늘로부터 선한 본성을 부여받았다.
- ㄴ. 인간은 도(道)로부터 부여받은 자연적 능력과 품성을 갖고 있다.
- ㄷ. 인간은 누구나 불성(佛性)을 지니고 있다.

(나) 수양론

- a. 올바른 도[八正道]를 닦음으로써 무명(無明)과 집착에서 벗어나도록 한다.
- b. 수양(修養)을 통해 욕망을 물리치고 예를 회복하도록 힘쓴다[克己復禮].
- c. 일체의 감각과 사유를 끊어[坐忘] 마음을 비우고 외물(外物)에 흔들리지 않도록 한다.

- |     |     |
|-----|-----|
| (가) | (나) |
| ① ㄱ | b   |
| ② ㄱ | c   |
| ③ ㄴ | a   |
| ④ ㄷ | a   |
| ⑤ ㄷ | b   |

16. 밑줄 친 ‘이 사상’에 대한 설명으로 적절하지 않은 것은?

우리 민족의 윤리 사상은 삼국 시대에 이르러 새로운 외래 사상을 받아들이면서 더욱 정제된 이론 체계를 지니게 되었다. 이 사상은 중국의 한자를 들여오는 과정에서 자연스럽게 이 땅에 전해졌을 것으로 짐작된다. 그 후 이 사상은 정치 철학, 윤리 체계, 생활 규범으로 보편화되어 갔다.

- ① 천인합일 사상을 강조한다.
- ② 개인의 수양과 실천을 중시한다.
- ③ 인간 본성에 대한 믿음을 갖고 있다.
- ④ 다양한 인간 관계의 윤리를 강조한다.
- ⑤ 세속에서 벗어난 정신적 자유를 추구한다.

17. 다음 글에 제시된 수양 방법을 <보기>에서 모두 고른 것은? [3점]

마음을 오로지 하나로 하여 사물의 무수한 변화를 주의 깊게 보아야 한다. 잠시라도 이러한 성찰의 자세를 떠나게 되면, 사사로운 욕심이 온갖 옳지 못한 일의 실마리로 나타나게 되어, 그 나타남의 정도가 불길의 영향을 빌리지 않고도 뜨거워지리만큼 격렬할 수도 있고, 얼음의 영향에 의존하지 아니하고도 차가워지리만큼 전율을 일으킬 수 있는 것이다.  
-이황, 성학십도-

—<보 기>—

- ㄱ. 일체의 번뇌를 끊고 해탈을 추구한다.
- ㄴ. 공(空)을 깨달아 이기심을 버리고 중생 구제에 힘쓴다.
- ㄷ. 정신을 집중하여 마음을 잃지 않도록 늘 깨어 있어야 한다.
- ㄹ. 몸가짐을 단정하게 하고 행동을 조심하여 마음을 엄숙하게 한다.

- ① ㄱ, ㄴ    ② ㄱ, ㄷ    ③ ㄴ, ㄷ    ④ ㄴ, ㄹ    ⑤ ㄷ, ㄹ

18. 다음 글의 내용에 부합하는 것은? [3점]

굶주림이 사람들에게 절박하면 예의가 모두 상실되어 그들이 지도자를 여우나 호랑이, 그리고 원수와 같이 보게 되고, 지도자는 굶주림에 시달리는 사람들을 가볍게 생각하여 그들이 감히 나를 어떻게 하겠느냐고 생각한다. 이러한 상황이 시간을 두고 누적되어 더 이상 견뎌낼 수 없게 되면, 굶주림에 시달린 사람들은 모두 지도자의 적으로 급변하게 되어 이에 대응할 방안을 찾을 수 없을 것이다. 한편, 먹을 것이 충분하고 군사가 충족되어 있다 하더라도 윤리 의식과 그 실천이 수반되지 않는다면, 그러한 상태를 유지할 힘이 없게 될 것이다.  
-이이, 성학집요-

- ① 물질적으로 풍요로운 삶보다 도덕적 수양을 중시해야 한다.
- ② 경제 발전과 윤리 의식의 확립이 보완 관계를 이루어야 한다.
- ③ 풍요로운 삶을 위해서라면 경제 윤리는 고려하지 않아도 된다.
- ④ 국가의 사회 경제적 안정을 위해서는 강력한 통치가 필요하다.
- ⑤ 인간의 자유롭고 평화로운 삶을 위해 국가 권력을 축소해야 한다.

19. 다음 조선 후기 사상에 대한 올바른 설명을 <보기>에서 모두 고른 것은? [3점]

- 사람이 곧 하늘이다[人乃天].
- 내 마음이 곧 네 마음이다[吾心卽汝心].
- 하늘의 조화로 밝은 덕을 온 천하에 베풀어 보국안민(輔國安民)하라.

—<보 기>—

- ㄱ. 인본주의를 기반으로 한 사해 평등주의를 표방하였다.
- ㄴ. 서구 문물을 적극 수용하여 사회를 개혁하고자 하였다.
- ㄷ. 인간은 신의 은총을 통해 원죄로부터 벗어날 수 있다고 하였다.
- ㄹ. 경천 사상을 바탕으로 유교·불교·도교 사상을 융합하여 민족 종교로 발전하였다.

- ① ㄱ, ㄴ    ② ㄱ, ㄷ    ③ ㄱ, ㄹ    ④ ㄴ, ㄹ    ⑤ ㄷ, ㄹ

20. <자료 1>에서 제시된 정의의 원칙에 따라 <자료 2>와 같은 문제를 해결하고자 할 때, 가장 적합한 방안은? [3점]

—<자료 1>—

- 각 개인은 기본적 자유에 있어 평등한 권리를 가져야 한다.
- 사회적·경제적 불평등은 다음의 조건을 만족시켜야 한다. 첫째, 가장 불리한 여건에 있는 사람, 즉 최소 수혜자에게 최대의 이득이 되어야 하며, 둘째, 그 같은 불평등은 기회 균등의 원칙 하에 모든 사람에게 개방된 직책이나 지위와 결부된 것이어야 한다.

—<자료 2>—

지난 7월 생활고를 견디지 못한 30대 주부 ○○씨가 두 자녀와 함께 아파트에서 투신, 동반 자살한 사건이 일어났다. 이 경우처럼 지금의 경제 상황이 IMF 외환 위기 때보다 심각하다는 말이 나올 정도로 많은 사람들이 경제적 어려움을 겪고 있다.

—○○신문, 2003. 7. 20.—

- ① 사회 보험에서 개인 부담의 비중을 높인다.
- ② 모든 국민에게 무상으로 식량과 주택을 공급한다.
- ③ 근로자의 고용과 해고를 보다 자유롭게 할 수 있는 제도를 마련한다.
- ④ 성과에 따라 임금을 차등 지급하는 방안을 모든 근로자에게 확대 적용한다.
- ⑤ 저소득층에 대한 생활비 지원의 대상폭을 늘리고 교육 및 의료 혜택을 확대한다.

\* 확인 사항

- 답안지의 해당란에 필요한 내용을 정확히 기입(표기)했는지 확인 하시오.

제 4 교시

사회 탐구 영역 (국사)

성명

수험 번호

- 먼저 수험생이 선택한 과목의 문제지인지 확인하십시오.
- 선택 과목은 반드시 응시 원서 작성시 자신이 선택한 과목의 문제를 풀어야 합니다.
- 문제지에 성명과 수험 번호를 정확히 기입하십시오.
- 답안지에 수험 번호, 선택 과목, 답을 표기할 때는 반드시 '수험생이 지켜야 할 일'에 따라 표기하십시오.
- 문항에 따라 배점이 다르니, 각 물음의 끝에 표시된 배점을 참고하십시오. 3점 문항에만 점수가 표시되어 있습니다. 점수 표시가 없는 문항은 모두 2점입니다.

1. 다음의 불교 사상과 관련이 없는 것은?

한국 불교사에서 이상 세계에 대한 사상을 찾는다면, 미륵 신앙을 떠올리게 된다. 미륵 신앙은 우리가 사는 이 지상이 정토(淨土)로 된다는 믿음을 바탕으로 하기 때문에 내세보다는 현실 사회를 더 중요하게 여기고 있다. 특히 지배자의 억압이나 사회 체제의 동요가 나타날 때, 미륵 신앙은 현실 사회를 개혁하려는 사상으로 나타나게 된다.

- ① 삼국 시대에 미륵보살반가사유상을 조각하는 것이 유행하였다.
- ② 화랑도 제도와 밀접한 관련을 가지면서 신라 사회에 정착되었다.
- ③ 궁예는 이 신앙을 내세우며 이상적인 불교 세계를 건설하고자 하였다.
- ④ 대각국사 의천이 천태종을 창시하고 교관검수를 제창하면서 발전시켰다.
- ⑤ 조선 후기에는 민간 신앙과 결합하기도 하였으며, 반란 세력과 연결되기도 하였다.


2. 다음 자료를 토대로 하여 유추할 수 있는 장면으로 가장 타당한 것은? [3점]

황해도 관찰사의 보고에 의하면, 수안에는 본래 금광이 다섯 곳이 있었다. 두 곳은 금맥이 다하였고, 세 곳만 금맥이 풍성하였다. 그런데 지난해 장마가 심해 작업이 중지되어 광군들 대부분이 흩어졌다. 금년(1799년, 정조 23년) 여름 새로이 39개소의 금혈을 뚫는데, 550여 명의 광군들이 모여들었다. 이들은 일부가 도내의 무리배들이지만, 대부분은 사방에서 이득을 좇아 몰려 온 무리들이다. 그리하여 금점 앞에는 700여 채의 초막이 세워졌고 광군과 그 가족, 좌고, 행상, 객주 등 인구도 1500여 명에 이른다. 갑자기 많은 사람들이 모여들어 그 곳에서는 생필품의 값이 폭등하는 사태가 종종 일어나고 있다고 한다. -비변사등록-

- ① 부역 노동을 통한 광산 개발을 요구하는 보부상들
- ② 광산을 배경으로 어깨에 힘을 주며 으스대는 덕대들
- ③ 임금에게 잡채의 허용을 요청하는 정부(호조)의 관리들
- ④ 농민들이 광산으로 다 가버려서 황무지가 되어버린 논과 밭
- ⑤ 활발한 광산 개발로 할 일이 없어져 울상을 짓고 있는 공인(貢人)들

3. 다음은 국사 수업 시간에 학생이 발표한 가상 인터뷰이다. 돌이가 살았던 시대에 처음으로 제작하여 사용하였을 유물은?

기자: 안녕하세요. 지금 뭐하고 계시는 건가요?  
 돌이: 우리가 살 집을 짓는 중입니다.  
 기자: 어떻게 짓는지 설명해 주시죠.  
 돌이: 우선 돌괭이로 내 가슴 정도 깊이까지 땅을 팝니다. 그 다음에 바닥에 기둥을 세우고 풀을 덮어 지붕을 만듭니다. 참, 내 키의 두 배 정도 넓이로 파죠.  
 기자: 그렇군요. 어떤 여자분들이 끝이 뾰족한 무언가를 흙으로 만들던데요?  
 돌이: 그것은 그릇입니다. 세우기 불편한 듯하지만 모래흙 속에 세워두면 되거든요. 흙으로 만든 다음에 그릇의 표면에 빗살무늬를 내지요. 조, 수수 등의 수확물을 담아 두기도 합니다.  
 기자: 그렇다면 무언가 재배하시고 있군요?  
 돌이: 땅에 씨앗을 뿌려서 일정 기간이 지나면 거두어 들이는 걸 말하는 것이군요. 그런데 그 양이 너무 적어요. 그래서 물고기를 잡거나 짐승을 잡아먹기도 합니다.



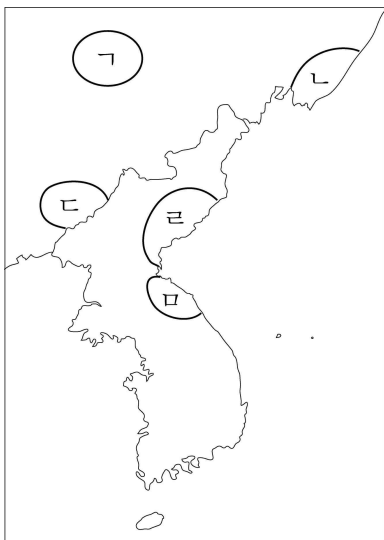
4. 다음은 어떤 시기 가상 시무책의 일부이다. 해당 시기에 있었던 음직한 사실로 알맞은 것은? [3점]

첫째, 지금 나라에서는 골품 제도를 시행하고 있습니다. 6두품 이하의 귀족들은 1관등까지 오르지 못하는 실정입니다. 오직 진골들만이 올라갈 수 있습니다. ... (중략) ... 지금 이웃 나라는 과거 제도를 시행하여 인재를 등용하고 있습니다. 우리도 과거 제도를 시행함이 타당한 것으로 생각합니다. 둘째, 지금 나라 안에는 각지에서 지방 세력이 자립하여 왕실의 권위에 도전하고 있습니다. 또한 상주 지역에서는 원종 등이 반란을 일으켜 왕실의 안위를 위협하고 있습니다. ....

- ① 6두품 갑은 당나라에 유학하여 빈공과에 급제하였다.
- ② 석공(石工) 을은 불국사의 청운교, 백운교의 건립에 참여하였다.
- ③ 승려 병은 지눌의 수선 결사에 가담하여 불교 정화 운동을 벌였다.
- ④ 4두품 정은 독서 삼품과를 통하여 관리에 등용되어 시중이 되었다.
- ⑤ 화랑 무는 김유신의 부하 장수로서 전투에 참여하여 백제를 공격하였다.

5. 다음은 어떤 지역을 답사하기 위하여 조사한 내용들이다. 해당 지역을 지도에서 찾으려면?

- 진흥왕이 건립한 황초령비와 마운령비의 위치와 그 내용을 찾아보았다.
- 문헌 기록을 찾아 다음과 같이 정리하였다.  
“소금과 어물이 풍부하였고 토지가 비옥하여 농사가 잘 되었다. 그러나 고구려에 소금, 어물 등을 바쳤다. 가족이 죽으면 시체를 가매장하였다가 나중에 그 뼈를 추려서 가족 공동의 무덤인 커다란 목곽에 안치하였다. 민며느리제의 풍습이 있었다.”



- ① 가                    ② 나
- ③ 다                    ④ 라
- ⑤ 마

6. 다음은 삼국지 위서 동이전에 실린 기록이다. 각 국가에 대한 설명으로 옳은 것은? [3점]

- (가) 나라에는 군왕이 있다. 가축 이름으로 관직명을 정하여 마가, 우가, 저가, 구가, 대사자, 사자가 있다. 제가들은 별도로 사출도를 주관한다. 적군이 침입하면 제가들이 몸소 전투를 한다. 하호는 양식을 운반하여 음식을 만들어준다. 장마가 계속되어 오곡이 영글지 않으면 그 허물을 왕에게 돌린다.
- (나) 나라에는 왕이 있고, 벼슬로는 상가, 대로, 폐자, 고추가, 사자, 조의, 선인이 있다. 신분이 높고 낮음에 따라 각각 등급을 나눈다. 왕의 종족으로 대가는 모두 고추가로 불린다. 모든 대가들은 사자, 조의, 선인을 둔다. 감옥이 없고 범죄자가 있으면 제가들이 모여서 논의하여 사형에 처하고 처자는 노비로 삼는다.
- (다) 대군장이 없다. 후, 읍군, 삼로의 관직이 있어서 하호를 통치한다. 그 나라 노인들은 예부터 스스로를 ‘고구려와 같은 종족이다’라고 일컬었다. 산천을 중요시하여 산과 강마다 각각 구분이 있고 함부로 들어가지 않는다. 부락을 함부로 침범하면 노비와 소, 말을 가져다 주어야 한다.

- ① (가)는 강력한 중앙 집권 국가이다.
- ② (나)는 율령이 제정 반포된 사회임을 알 수 있다.
- ③ (다)에서는 씨족 사회의 유풍을 확인할 수 있다.
- ④ (가)와 (나)에는 노비는 없고 생산자인 하호가 있다.
- ⑤ (가), (나), (다)는 청동기 문화를 기반으로 건국되었다.

7. 다음 기록의 사료적 가치를 검토하려고 한다. 적절한 탐구 활동을 <보기>에서 모두 고른 것은?


신공황후가 섭정한 지 52년 쯤 되던 해(서기 372년) 9월에 백제의 사신이 와서, 칠지도(七枝刀) 한 자루와 칠자경(七子鏡) 한 개, 그 밖의 갖가지 귀중한 보물을 헌상하였다.  
—일본서기—

<보 기>

- ㉠. 북한산비와 사택지적비의 비문 내용을 조사해 본다.
- ㉡. 일본에 남아 있는 칠지도의 명문 내용을 조사해 본다.
- ㉢. 삼국사기 신라본기에 이와 관련된 내용이 나오는지 찾아본다.
- ㉣. 일본서기가 편찬되던 시기 일본의 정치적 상황과 지배층의 대외 인식을 점검해 본다.

- ① ㉠, ㉡    ② ㉠, ㉢    ③ ㉡, ㉣    ④ ㉢, ㉣    ⑤ ㉢, ㉣

8. 다음은 고려 시대 불상들이다. 이를 통하여 알 수 있는 사실을 <보기>에서 모두 고른 것은?



<광주 춘궁리 철불>



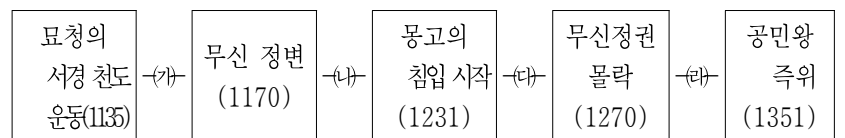
<관축사 석조 미륵보살 입상>

<보 기>

- ㉠. 문벌 귀족 세력의 성장과 깊은 관련이 있다.
- ㉡. 원나라의 영향으로 불상 장식이 화려해졌다.
- ㉢. 양식과 재질 면에서 지역마다 특성이 다르게 나타났다.
- ㉣. 지방 세력이나 일반 백성들이 불상 건립에 참여하였다.

- ① ㉠, ㉡    ② ㉠, ㉢    ③ ㉡, ㉣    ④ ㉢, ㉣    ⑤ ㉢, ㉣

9. 다음 각 시기의 역사 인식과 사서에 관하여 바르게 설명한 것을 <보기>에서 모두 고르면? [3점]



<보 기>

- ㉠. (가) 시기에는 김부식 등이 중심이 되어 신라 계승 의식을 반영한 『삼국사기』를 편찬하였다.
- ㉡. (나) 시기에는 승려 일연이 『삼국사기』에서 누락된 불교 관련 설화를 수집하여 『삼국유사』를 저술하였다.
- ㉢. (다) 시기에는 새로이 수용된 성리학의 역사 인식에 맞추어 정통의식과 대의명분을 강조하는 분위기가 나타났는데, 이제현의 『사략』이 대표적인 사서이다.
- ㉣. (라) 시기에는 삼국 이전 단일 왕조로서의 고조선에 대한 인식이 고양되었는데, 이승휴의 『제왕운기』에서 그런 면이 두드러지게 나타났다.

- ① ㉠, ㉡    ② ㉠, ㉢    ③ ㉠, ㉣    ④ ㉡, ㉣    ⑤ ㉢, ㉣

10. 다음 자료를 통해 파악되는 상황으로 가장 적절한 것은? [3점]

시아버지 죽어서 이미 상복을 입었고  
 갓난아인 배냇물도 안 말랐는데  
 삼대(三代)의 이름이 군적(軍籍)에 실리다니  
 -여유당전서, 애절양-

나라의 제도로서 인정(人丁)에 대한 세를 신포(身布)라 하였는데, 충신과 공신의 자손에게는 모든 신포가 면제되어 있었다. 이 법이 시행된 지도 이미 오래됨에 턱없이 면제된 자가 많았다. 근래에 와서는 무릇 사족이라는 자는 모두 신포를 바치지 않고 그 모자라는 액수를 반드시 평민에게 덧붙여 징수하여 보충하고 있었다. 대원군은 이를 수정코자 동포(洞布)라는 법을 제정하였다.  
 -근세조선정감-

- ① 군역 부과 연한이 규정대로 지켜졌다.
  - ② 군역의 총액제 시행에 따른 문제는 없었다.
  - ③ 노비의 신분 상승에 따른 사회 혼란이 야기되었다.
  - ④ 삼정정책에서 군역의 문제가 상당 부분 해결되었다.
  - ⑤ 양반의 수가 늘어나 농민들의 군역 부담이 가중되었다.
11. 다음은 조선 후기 인간과 사물의 본성을 둘러싸고 벌어진 논쟁과 관련된 글이다. 이 주장의 역사적 의의는? [3점]

생태계를 구성하는 인간·금수·초목은 차별점이 있지만 '차별'이 '차등'이 되는 것은 결코 아니다. 금수와 초목에도 나름대로 예와 의가 있다. 사람과 사물이 귀하고 천함의 차이가 있다고 하여도 하늘이라는 절대적 관점에서 보면 사람과 사물은 균등하다. 인간의 관점에 집착하여 사물을 천하게 보고 인간을 가장 귀한 존재로 보는 생각이야말로 진리를 해치는 가장 근본 요인이다.  
 -의산문답-

- ① 여전제 등 토지 개혁 방안을 제시하였다.
  - ② 화이론적 관점으로 북벌론을 지지하였다.
  - ③ 중국 중심의 세계관을 극복하는 데 기여하였다.
  - ④ 지행 합일을 주장하면서 강화학파를 형성하였다.
  - ⑤ 일본에 전해져 일본 성리학 발전에 영향을 끼쳤다.
12. 다음에 제시된 사건에 관한 설명 중 옳은 것을 <보기>에서 모두 고르면?

평서대원수는 급히 격문을 띄우노니 관서의 부로(父老)와 자제와 공사천민들은 모두 이 격문을 들으라. …(중략)… 조정에서는 관서를 버림이 분토(糞土)와 다름없다. 심지어 권세 있는 집의 노비들도 서토의 사람을 보면 반드시 '평안도 놈'이라 말한다. 어찌 억울하고 원통하지 않은 자 있겠는가. …(중략)… 지금 임금의 나이가 어려 권세 있는 간신배가 그 세를 날로 떨치고 김조순·박종경의 무리가 국가 권력을 오로지 갖고 노니 어진 하늘이 재앙을 내린다. …(중략)…  
 대원수. -패림-

- <보 기>
- ㄱ. 평안도 전지역을 장악하였다.
  - ㄴ. 지역 차별에 따른 저항이었다.
  - ㄷ. 광산 노동자가 대거 가담하였다.
  - ㄹ. 관리들의 탐학이 시정되는 계기가 되었다.

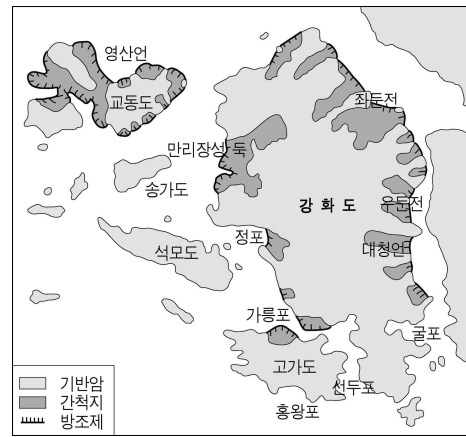
- ① ㄱ, ㄴ    ② ㄱ, ㄷ    ③ ㄴ, ㄷ    ④ ㄴ, ㄹ    ⑤ ㄷ, ㄹ

13. 다음 표의 (가)와 (나)에 들어갈 관리들이 담당하였던 기능과 A, B에 들어갈 해당 정치 기구가 바르게 짝지어진 것은?

<고려시대>		<조선시대>	
중서문하성	2품 이상 3품 이하	재신 (가)	A
중추원	3품 이상 3품	추밀 (나)	B


- |              |            |              |            |
|--------------|------------|--------------|------------|
| (가)          | A          | (나)          | B          |
| ① 정치 비판, 사간원 | 국왕 비서, 승정원 | ① 정치 비판, 사간원 | 국왕 비서, 승정원 |
| ② 정책 자문, 사헌부 | 인재 양성, 성균관 | ② 정책 자문, 사헌부 | 인재 양성, 성균관 |
| ③ 정책 심의, 의정부 | 국왕 비서, 춘추관 | ③ 정책 심의, 의정부 | 국왕 비서, 춘추관 |
| ④ 국왕 비서, 사헌부 | 정책 심의, 승정원 | ④ 국왕 비서, 사헌부 | 정책 심의, 승정원 |
| ⑤ 인재 양성, 성균관 | 정책 집행, 홍문관 | ⑤ 인재 양성, 성균관 | 정책 집행, 홍문관 |

14. 다음은 고려 후기 강화도 간척지에 관한 지도이다. 이에 대한 설명 중 옳지 않은 것은?



- ① 방조제가 축조되었다.
- ② 연해지와 저습지가 간척되었다.
- ③ 인구 증가에 대응한 식량 조달이 용이해졌다.
- ④ 강화도 피난 이후 간척 사업이 적극 시행되었다.
- ⑤ 개간 정책으로 인해 지주보다는 농민이 유리하였다.

15. 다음의 두 사진과 관련이 깊은 왕이 추진한 정책에 해당하지 않는 것은?



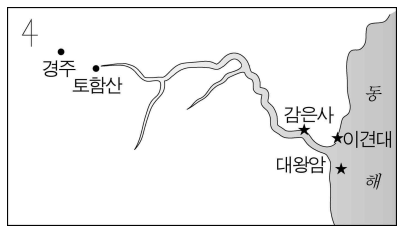
- ① 남인 계열의 중용
- ② 장용영 설치 및 신도시 건설
- ③ 서얼과 노비에 대한 차별 완화
- ④ 자유 상행위에 대한 통제 강화
- ⑤ 규장각 육성 및 초계문신제 시행

16. 다음 신문 자료와 관련된 탐구 활동으로 적절하지 않은 것은?

“현재로선 서울 풍납토성이 백제 초기의 왕성(하남 위례성)일 가능성이 가장 높다.” 국립문화재연구소가 최근 발간한 ‘풍납토성 내부 주거지 발굴 보고서’에서 이와 같은 의견을 내놓아 학계의 관심을 끌고 있다. 백제사 연구의 최대 미스터리였던 하남 위례성의 실체가 밝혀질 수 있을 것인지에 대한 기대 때문이다. -○○일보, 2001.-

- ① 삼국사기 백제본기 기록을 살펴본다.
- ② 발굴된 유물의 종류와 의미를 파악한다.
- ③ 석촌동 고분과 관련이 있는가를 조사한다.
- ④ 성을 쌓은 방식이 어떠한가를 분석한다.
- ⑤ 암사동 유적지와 연관성이 있는가를 살펴본다.

17. 지도에 ★로 표시된 유적지를 답사한 후, 토론을 벌였다. 논의 과정에서 제기되었을 것으로 보기 어려운 주제는? [3점]



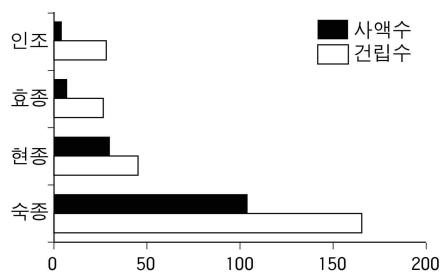
- ① 신라의 삼국 통일 과정 및 일본과의 관계
- ② 신라 지배층의 묘제 및 장법(葬法)의 변천
- ③ 신문왕대의 정치 상황과 중대 왕권의 위상
- ④ 통일신라 시기 석탑 양식의 특징과 그 변천
- ⑤ 신라 하대 선종의 수용과 풍수지리설의 확산

18. 다음 자료를 보고 숙종 연간의 서원과 관련하여 당시 상황을 가장 적절하게 이해한 것은? [3점]

<숙종 연간의 정권 변동과 사액수>

시 기	남인계	서인계	기타	사액총계
숙종 1~6년 (숙종 즉위~경신환국)	13	1	3	17
(가)	0	19	4	23
숙종 15~20년 (기사환국후~갑술환국)	13	1	1	15
합 계	26	21	8	55

<서원의 사액수와 건립수>



- ① (가)시기에 중앙 정계는 남인 세력이 장악하였다.
- ② 훈구파와 사림파 사이에 정권 다툼이 치열하였다.
- ③ 사액서원의 증가는 사림이 향촌 농민을 지배하는 것과 관련이 없었다.
- ④ 각 붕당은 서원을 기반으로 중앙 정계의 주도권을 잡기 위해 경쟁하였다.
- ⑤ 갑술환국 이후 서원은 거의 건립되지 않고 이전의 서원 수를 유지하였다.

19. 다음 자료를 보고 조선 왕조의 농민 정책을 바르게 추론한 것을 <보기>에서 모두 고르면? [3점]

농상(농업과 뽕나무 심기)을 권하여 군현 내에 저수지를 만든 곳이 몇 곳이며 부임 후 백성에게 뽕나무 심기를 권고하여 1호당 몇 그루씩 심었으며 관에서 뽕나무를 나누어 주어서 심은 것은 1호당 몇 그루씩인가? …(중략)… 온 집안이 병을 앓고 있는 자는 이웃으로 하여금 경작해 주도록 하고, 그가 회복되기를 기다려 값을 갚아주기로 한 것이 몇인가?

-태종실록-

성세창이 아뢰기를 “임금이 나라를 다스리는 데 백성을 교화시키는 것이 중요합니다. 그러나 먼저 살게 한 뒤 교화시키는 것이 옳습니다. 세종 임금이 농상에 적극 힘쓴 까닭에 수령들이 사방을 돌면서 살피고 농상을 권하였으므로 들에 경작하지 않은 땅이 없었습니다.” …(중략)… 왕이 8도 관찰사에게 농상을 권하는 글을 내렸다.

-중종실록-

<보 기>

- ㄱ. 농민을 보호하고자 한다.
- ㄴ. 권농 정책을 강화하고자 한다.
- ㄷ. 전세 제도를 개편하고자 한다.
- ㄹ. 농민을 토지에 묶어 두려 한다.
- ㅁ. 향촌의 계(契)를 활성화하고자 한다.

- ① ㄱ, ㄴ, ㄷ      ② ㄱ, ㄴ, ㄹ      ③ ㄱ, ㄷ, ㅁ
- ④ ㄴ, ㄷ, ㄹ      ⑤ ㄷ, ㄹ, ㅁ

20. 다음에서 제시된 제도와 관련된 설명으로 바른 것을 <보기>에서 모두 고르면? [3점]

민호(民戶)는 그 이웃에 따라 모으되 가구의 다과와 재산의 빈부를 논하지 아니하고 다섯 집마다 한 통(統)을 만든다. 다섯 집이 모여 살면서 이웃을 만들어 농사를 서로 돕게 하고 병이 있으면 서로 구조하며, 같은 마을 백성은 힘써서 신뢰를 돈독하게 하여 농기구를 서로 나누어 쓰고 호미와 소를 빌어서 서로 돕도록 한다. 무릇 통리(統里)의 백성은 서로 보호하고 서로 살피서 혼상(婚喪)에 서로 돕고 환난에 서로 구휼하며 착한 일은 서로 권면하고 악한 일은 서로 경계하며 송사를 그치고 다툼을 없앤다. 만약 불효하고 부제(不悌; 공손하지 못함)하거나 주인을 배반하고 사람을 죽이거나 풍속을 손상하고 도적이 되는 등의 일은 반드시 면, 리에 알려 동헌에 보고하고 경중에 따라 징계하여 다스리는 바탕을 삼도록 한다.

-비변사등록, 숙종 원년 9월-

<보 기>

- ㄱ. 면리제의 하부조직이다.
- ㄴ. 농민들이 스스로 만든 노동조직이다.
- ㄷ. 지주와 소작인의 관계를 규정한 것이다.
- ㄹ. 국가가 농민 지배를 강화하기 위한 것이다.
- ㅁ. 사족(士族) 중심의 향촌 지배 질서를 보여준다.

- ① ㄱ, ㄴ      ② ㄱ, ㄹ      ③ ㄴ, ㄷ      ④ ㄴ, ㄹ      ⑤ ㄷ, ㅁ

\* 확인 사항

○ 답안지의 해당란에 필요한 내용을 정확히 기입(표기)했는지 확인 하시오.

# 제 4 교시 사회 탐구 영역 (한국 근·현대사)

성명	수험 번호
----	-------

- 먼저 수험생이 선택한 과목의 문제지인지 확인하십시오.
- 선택 과목은 반드시 응시 원서 작성시 자신이 선택한 과목의 문제를 풀어야 합니다.
- 문제지에 성명과 수험 번호를 정확히 기입하십시오.
- 답안지에 수험 번호, 선택 과목, 답을 표기할 때는 반드시 '수험생이 지켜야 할 일'에 따라 표기하십시오.
- 문항에 따라 배점이 다르니, 각 물음의 끝에 표시된 배점을 참고하십시오. 3점 문항에만 점수가 표시되어 있습니다. 점수 표시가 없는 문항은 모두 2점입니다.

1. 다음은 일제 식민 통치기 한 일본인 기자의 취재 노트에서 발췌한 것이다. 당시 기자가 우리 나라에서 목격했을 것으로 추정되는 광경은? [3점]

농민의 식량 사정은 잡곡 한 홉 정도에 풀뿌리나 나무 껍질을 섞어 끓여 먹는 상황이다. ...(중략)... 어떤 지방에서는 흙을 먹는 경우도 있다. 그 상태는 일본에서는 전혀 볼 수 없는 비참하고 진기한 현상이다. ...(중략)... 조선의 마지막 황제인 순종의 서거 소식에 눈물을 흘리는 농민들을 곳곳에서 볼 수 있었다. 또한 순종의 인산일에 경성에서 대규모 시위가 벌어졌다는 뉴스가 전해지는 가운데 일본의 지배에 대한 농민들의 반감이 고조되고 있다.

- ① 정신대에 끌려가며 울부짖는 소녀들
  - ② 토지조사사업 소식에 불안해하는 지주들
  - ③ 만민공동회에 참석하기 위해 종로로 몰려가는 군중
  - ④ 새로운 삶을 찾아 일본이나 연해주로 떠나는 농민들
  - ⑤ 총독부의 강요로 일본식으로 성과 이름을 고치는 사람들
2. 다음은 어느 학생이 부모님에게서 들은 이야기이다. 부모님이 청소년 시절에 경험한 사실로 보기 어려운 것은? [3점]

나는 50년대 후반 농촌에서 태어났단다. 당시 대부분의 농촌 가정처럼 우리집도 가난했기 때문에 초등학교만 마치고 돈을 벌기 위해서 상경했지. 그 때가 1970년대 초였단다. 서울 구로 공단에 있는 공장을 다니면서 힘든 생활을 했지. 어느 해인가는 고속도로가 개통되었다는 소식을 듣고 추석이나 다음 설에는 편하고 빠르게 집에 갈 수 있겠구나 하고 생각했는데, 추석에도 고향에 가지 못해 몹시 슬퍼 했었지. 작업환경이나 임금이 좋지 않았던 때였단다. 참 힘든 시절이었지. 그 때에 비하면 너희들은 행복한거야. 우리는 공부를 하고 싶어도 못했는데.....

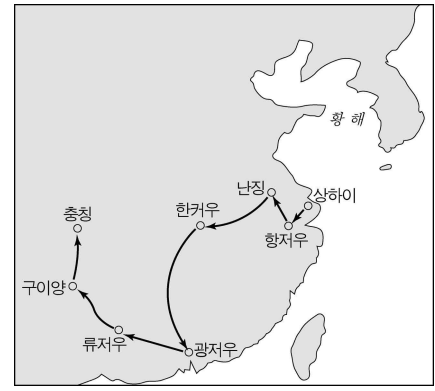
- ① 월남 파병
- ② 새마을 운동
- ③ 금융 실명제 시행
- ④ 국민 교육 현장 낭독
- ⑤ 경부 고속 국도의 건설

3. 다음 선언에 부합하는 민족 운동의 사례로 가장 적절한 것은? [3점]

민중은 우리 혁명의大本영이다. 폭력은 우리 혁명의 유일 무기이다. 우리는 민중 속에 가서 민중과 손잡고 끊임 없는 폭력, 암살, 파괴, 폭동으로써 강도 일본의 통치를 타도하고 우리 생활에 불합리한 일체 제도를 개조하여 인류가 인류를 압박하지 않으며 사회가 사회를 수탈하지 않는 이상적 조선을 건설할지니라. —조선혁명선언—

- ① 3·1 운동
- ② 형평 운동
- ③ 브나로드 운동
- ④ 의열단 활동
- ⑤ 북로 군정서 활동

4. 다음은 어느 학생이 답사를 다녀올 경로를 표시한 지도이다. 이 학생의 답사 주제를 적절하게 추론한 것은?



- ① 자유시 참변의 전말
- ② 이승만의 외교 활동
- ③ 한국 광복군의 항일 활동
- ④ 조선 혁명군의 무장 투쟁
- ⑤ 대한민국 임시정부의 활동

5. 다음은 남북한 당국자 사이에 진행된 회담이다. 이들의 공통점을 옳게 설명한 것은?

- 1972년에 남북한 당국자 사이에 합의한 7·4 남북 공동 성명이 발표되었다.
- 1991년 서울에 열린 남북한 고위급 회담에서 남북 기본 합의서가 채택되었다.
- 2000년 평양에서 남북한 정상 회담이 개최되고 남북 공동 선언이 발표되었다.

- ① 통일의 과도 단계로 1국가 2정부 안을 채택하였다.
- ② 경제 교류와 협력을 강화하고 군사력을 감축하기로 하였다.
- ③ 한반도의 긴장 완화와 평화 정착을 위해 노력하기로 하였다.
- ④ 한반도 비핵화를 선언하고 핵 확산 금지 조약에 가입하기로 결정하였다.
- ⑤ 한반도 문제는 미국, 중국이 참여하는 4자 회담에서 처리하기로 하였다.

6. 다음은 1906년 어떤 신문에 실린 글의 일부이다. 필자의 주장이나 정서와 거리가 먼 시가(詩歌)는? [3점]

만약 충의의 열성을 어루만져 안정시킬 수 없어 성실한 마음으로 국권을 만회코자 한다면, 눈앞의 치욕을 참고 국가의 원대한 계획을 도모하여 일체 병기를 버리고 각자 향리로 돌아가, 농군은 농업을 열심히 하고 공업 기술자는 공업을 열심히 하여 각기 산업에 종사하여 자산을 저축하고 그 자제를 교육하여 지성을 계발하며 실력을 양성하면 다른 날에 독립을 회복할 기회를 자연히 기대할 수 있을 것이니, 이것이 실로 오늘 우리들이 힘쓸 정당한 의무요 또 고금 역사상에 밝게 비추어 살펴 연구할 수 있는 것이다.

- ① 학도야 학도야 청년 학도야/벽상의 쾌종을 들어 보시오/한 소래 두 소래 가고 못오니/인생 백년 가기 주마 같도다.
- ② 오백년 우리 종묘 사직과/사천년 유업 조국 강토를/만만세 영원히 보전하려면/실지상 교육밖에 다시 없겠네.
- ③ 우렁차게 토하는 기적 소리에/남대문을 등지고 떠나가서/빨리 부는 바람의 형세 같으니/날개 가진 새라도 못 따르겠네.
- ④ 동무들아 나아가자 용감하게/이제야 십년의 원한 풀 날이다/불타는 가슴 끓는 피 흐를 때/이천만이 이 한 가슴으로 죽고 또 산다.
- ⑤ 범을 보고 개 그리고/봉을 보고 닭 그린다/문명 개화 하려 하면/실상(實狀) 일이 제일이다.

7. 다음 두 자료를 통해 60~70년대 우리 나라의 경제 활동이나 현상을 추론한 것으로 옳지 않은 것은? [3점]

<경제 계획 기간별 경제 성장률과 수출입 증가율> (단위:%)

구분	경제 성장률	수출입 증가율	수입 증가율	수출 의존도	수입 의존도
1962~66	7.9	44.0	21.5	11.9	20.3
1967~71	9.6	33.8	28.0	16.1	26.5
1972~76	9.7	51.0	32.4	31.2	34.3
1977~81	6.1	22.6	24.9	37.7	47.2

<전태일, 분신 자살하다>

13일 낮 1시 35분경 처우 개선 등을 위해 투쟁해오던 전태일 씨는 회원 10여 명과 함께 업주들의 불성실한 태도에 항의, 농성을 벌이다 “근로 기준법을 지켜주고 내 죽음을 헛되이 하지 말라.”는 유언을 남기고 온몸에 휘발유를 뿌려 분신 자살을 기도, 중화상을 입고 이 날 밤 10시경에 숨졌다.  
-○○일보, 1970. 11. 14.-

- ① 수출이 비약적으로 증가하는 등 고도의 경제 성장이 이루어졌다.
- ② 노동자들은 저임금과 열악한 작업 조건 속에서 장시간 노동에 시달렸다.
- ③ 자본과 기술의 도입 과정에서 미국과 일본에 대한 의존도가 심화되었다.
- ④ 전태일의 분신 자살을 계기로 노동 문제에 대한 사회적 관심이 높아졌다.
- ⑤ 정부는 노동자의 처우 개선과 인권 신장을 위해 적극적으로 노력하였다.

8. 다음의 사실과 관련된 역사적 사건을 바르게 연결한 것은? [3점]

(가) 신군부 세력이 비상 계엄을 전국으로 확대하고 정치 활동 금지, 대학 휴교, 파업 금지, 언론 검열 강화 등을 포고하였다.  
(나) 대학생 박종철이 경찰의 고문을 받다 사망한 사건을 계기로 국민의 저항이 거세어지자, 정부는 헌법 개정을 반대하는 담화를 발표하였다.

- |               |             |
|---------------|-------------|
| (가)           | (나)         |
| ① 4·19 혁명     | 10·26 사태    |
| ② 6·3 사태      | 10·26 사태    |
| ③ 6·3 사태      | 5·18 민주화 운동 |
| ④ 5·18 민주화 운동 | 6월 민주 항쟁    |
| ⑤ 4·19 혁명     | 6월 민주 항쟁    |

9. 다음 주장을 펼친 인물의 광복 후 주요 활동을 <보기>에서 모두 고른 것은?

한국이 있고야 한국 사람이 있고, 한국 사람이 있고서야 민주주의도 공산주의도 또 무슨 단체도 있을 수 있는 것이다. 그러면 우리의 자주 독립적 통일 정부를 수립하여야 하는 이때에 있어서 어찌 개인이나 자기의 집단의 사리사욕을 탐하여 국가 민족의 백년대계를 그르칠 자가 있으랴. …(중략)… 나는 통일된 조국을 건설하려다가 삼팔선을 베고 쓰러질지언정 일선에 구차한 안일을 취하여 단독 정부를 세우는 데는 협력하지 아니하겠다.  
-3천만 동포에게 읊고함(1948.2.10.)-

<보 기>

- ㉠. 단독 정부 수립을 반대하여 남북 협상을 추진하였다.
- ㉡. 토지, 철도 등 주요 산업 시설의 국유화를 주장하였다.
- ㉢. 제헌 국회를 구성하기 위한 5·10 총선거를 거부하였다.
- ㉣. 제주도 4·3 사건과 여수·순천 10·19 사건을 주도하였다.
- ㉤. 모스크바 3국 외상 회의의 결정을 지지하는 군중 대회를 개최하였다.

- ① ㉠, ㉢    ② ㉠, ㉣    ③ ㉡, ㉣    ④ ㉡, ㉤    ⑤ ㉢, ㉤

10. 다음 자료와 같은 상황이 전개되는 시기와 직접적인 관련이 없는 설명은? [3점]

지난해 9월부터 반역 도배들이 집요하게 나를 압박해 오고 있다. 최근에는 단발령으로 일어난 전국적 시위의 혼란을 틈타, 나와 내 아들을 살해할 지 모른다는 두려움에 떨고 있다.  
-고종이 한 외국 공사관에 보낸 친서-

- ① 김홍집 내각이 집권하고 있었다.
- ② 정부는 이 즈음에 태양력을 채택하였다.
- ③ ‘지난해 9월’에 명성 황후가 시해되었다.
- ④ 대한 제국의 군대가 일제에 의해 해산되었다.
- ⑤ 유인석, 이소응 등의 유생들이 의병을 일으켰다.



16. 학생들에게 민족 운동 단체의 활동 목표나 구호를 조사하여 제시하게 하였다. 바르게 제시한 학생끼리 묶은 것은?

학생	민족 운동 단체	활동 목표 또는 구호
갑	신흥무관학교	뜻 있는 한 사람이 일 원씩
을	조선물산장려회	내 살림 내 것으로
병	조선민립대학기성회	독립군 요원을 양성한다.
정	신간회	조선인은 단결을 공고히 한다
무	한인애국단	아는 것이 애국이다

- ① 갑, 병                      ② 을, 정                      ③ 을, 무  
 ④ 병, 정                      ⑤ 정, 무

17. 다음은 광복 후 새로운 국가 건설과 관련된 다양한 의견 가운데 두 가지를 소개한 것이다. 각 주제에 대한 (갑)과 (을)의 의사 표시가 적절하지 않은 것은? [3점]

(갑) 친일파 청산에 매달리기보다는 단결하여 새로운 국가를 건설해야 하며, 개인의 사유 재산이 완전히 보장되는 자본주의 경제 체제가 되어야 한다.  
 (을) 일제에 협력한 사람들은 처벌받아야 하며, 일제시대에 많은 토지를 갖게 된 사람들의 토지를 소작 농민들에게 공평하게 나누어 주는 사회주의 경제 체제가 되어야 한다.

	주제	(갑)	(을)
①	자유 민주주의 국가	찬성	반대
②	반민족 행위 처벌법 제정	반대	찬성
③	소작제 폐지	찬성	반대
④	신탁 통치	반대	찬성
⑤	단독 정부 수립	찬성	반대

18. 다음 <보기>는 19세기 말~20세기 초 여러 계층들이 요구한 개혁 내용이다. 이를 통해 당시 조선의 경제 상황을 잘못 추론한 것은?

<보 기>  
 ㄱ. 개항장 밖의 부동산을 매매하지 말라.  
 ㄴ. 일본 화폐 사용을 금지하라.  
 ㄷ. 곡물 유출을 막고, 빈민 구제법을 채택토록 하라.  
 ㄹ. 토지는 공평하게 나누어 주어 경작하게 하라.  
 ㅁ. 금광(金鑛) 채굴을 엄격히 금지하게 하라.

- ① 쌀이 일본으로 많이 유출되어 쌀값이 오르고 있었다.  
 ② 농민들이 광산에 몰려 농촌 노동력이 크게 부족하였다.  
 ③ 일본인들이 조선에 들어와 땅을 몰래 사들이고 있었다.  
 ④ 일본 화폐가 개항장과 그 주변 지역에서 유통되고 있었다.  
 ⑤ 소수의 지주들이 많은 땅을 소유한 반면에 대다수의 농민들은 소작인이었다.

19. 다음의 역사 인식이 끼친 영향에 관하여 바르게 서술한 것을 <보기>에서 모두 고른 것은? [3점]

○ 역사는 무엇이뇨? 인류 사회의 ‘아(我)’와 ‘비아(非我)’의 투쟁이 시간부터 발전하며 공간부터 확대되는 심적 활동의 상태의 기록이니, 조선인은 조선을 ‘아’라 하고 영·러·불·미 등을 ‘비아’라 하지만, 영·러·불·미 등은 각기 제 나라를 ‘아’라 하고 조선을 ‘비아’라 하며, …(중략)… 그러므로 역사는 ‘아(我)’와 ‘비아(非我)’의 투쟁의 기록이니라.  
 -조선상고사-  
 ○ 옛 사람이 이르기를, 나라는 멸망하더라도 역사는 망할 수 없다고 하였다. 나라라는 것은 형체만을 말하는 것이고, 역사는 바로 민족혼과 같은 것이다. 오늘날 우리 나라의 형체는 이미 훼손되고 말았으나, 민족혼만큼은 고고히 남아 존재하고 있다. …(중략)… 민족혼이 존재하여 없어지지 않으면, 형체는 언젠가는 다시 살아날 것이다.  
 -한국통사-

<보 기>  
 ㄱ. 세계사의 발전 법칙을 우리 역사에 적용하려 하였다.  
 ㄴ. 철저한 고증주의를 표방하는 일본식 연구 방법론을 수용하였다.  
 ㄷ. 한국사의 발전 주체가 우리 민족임을 밝히려는 노력이 전개되었다.  
 ㄹ. 민족주의 사학이 형성되어 정인보, 안재홍, 문일평 등의 연구로 이어졌다.

- ① ㄱ, ㄴ    ② ㄱ, ㄷ    ③ ㄴ, ㄷ    ④ ㄴ, ㄹ    ⑤ ㄷ, ㄹ

20. 다음의 두 자료와 관련된 시기의 정치에 대한 설명으로 옳은 것은? [3점]

<긴급 조치 보도 기사>                      <타는 목마름으로(김지하)>

**헌법비방·개폐선전 금지**

國家安全 公共秩序 重要 憲法 尊重 守護 爲 目的 凡 有 誹謗 詆毀 憲法 言論 或 煽動 謠言 毀謗 憲法 者 均 屬 違法 應 予 嚴懲 此 令

憲法 尊重 守護 爲 目的 凡 有 誹謗 詆毀 憲法 言論 或 煽動 謠言 毀謗 憲法 者 均 屬 違法 應 予 嚴懲 此 令

내 머리는 너를 잊은 지 오래  
 내 발길은 너를 잊은 지 너무도 오래  
 오직 한 가닥 있어  
 타는 가슴 속 목마름의 기억이  
 네 이름을 남 몰래 쓴다 민주주의여

- ① 장기 집권을 위해 발췌 개헌, 사사 오입 개헌을 하였다.  
 ② 양원제 국회를 수립하고 내각 책임제를 처음으로 실시하였다.  
 ③ 북방 외교를 적극 추진하여 동유럽의 여러 공산 국가들과 수교하였다.  
 ④ 폭력배와 사회 문란 사범의 순화를 명목으로 삼청 교육대를 설치하였다.  
 ⑤ 유신 헌법을 제정하여 통일 주체 국민 회의에서 대통령을 선출하였다.

\* 확인 사항  
 ○ 답안지의 해당란에 필요한 내용을 정확히 기입(표기)했는지 확인 하시오.

제 4 교시

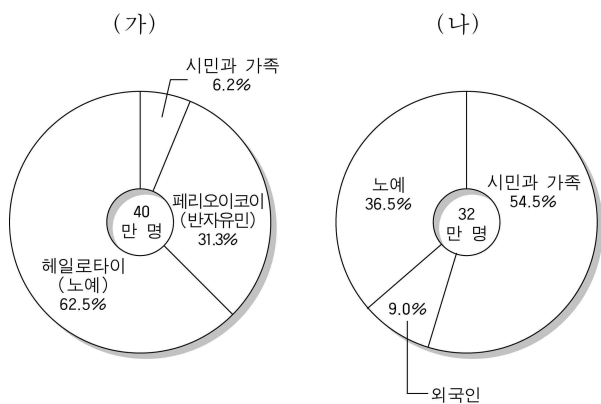
사회 탐구 영역 (세계사)

성명

수험 번호

- 먼저 수험생이 선택한 과목의 문제지인지 확인하시오.
- 선택 과목은 반드시 응시 원서 작성시 자신이 선택한 과목의 문제를 풀어야 합니다.
- 문제지에 성명과 수험 번호를 정확히 기입하시오.
- 답안지에 수험 번호, 선택 과목, 답을 표기할 때는 반드시 '수험생이 지켜야 할 일'에 따라 표기하시오.
- 문항에 따라 배점이 다르니, 각 물음의 끝에 표시된 배점을 참고하시오. 3점 문항에만 점수가 표시되어 있습니다. 점수 표시가 없는 문항은 모두 2점입니다.

1. 다음은 고대 그리스를 대표하는 두 폴리스의 인구 구성이다. 두 폴리스간의 차이점을 바르게 비교한 것은?



- ① (가)는 기술 교육을, (나)는 군사 교육을 중시하였다.
- ② (가)는 남자 노예를 늘렸고, (나)는 줄이고자 하였다.
- ③ (가)에서는 여성의 권리가 낮았고, (나)에서는 높았다.
- ④ (가)는 농업이 중심이었고, (나)는 상공업이 활발하였다.
- ⑤ (가)에서는 중산 계급이 성장하였고, (나)에서는 몰락하였다.

2. 일본에서 다음 시대 상황을 배경으로 대두되었던 주장은? [3점]

일본의 항구에서 일본인과 외국인의 자유롭고 합법적인 무역이 시작되었다. 무역 개시 후 생사(生絲), 차, 해산물 등의 수출품이 해마다 늘었고, 이로 인해 생사와 차 등 상업적 농업이 급속히 발전하였으며 지방 상인의 활동이 활발해졌다. 그러나 수출품은 물론이고 쌀을 비롯한 여러 생필품의 가격이 폭등하여 일반 민중, 특히 빈농과 도시 빈민, 하급 무사의 생활난이 심각하게 되었다. 게다가 일본에서는 국제 시세에 비하여 금이 매우 싸고 은이 비쌌기 때문에 순식간에 금이 대량으로 유출되고 은이 유입되어 물가 상승과 경제 혼란을 가중시켰다.

- ① 대동아 공영권을 형성하자.
- ② 국풍(國風) 문화를 보존하자.
- ③ 난학(蘭學)을 적극적으로 수용하자.
- ④ 천황(天皇)을 받들고 오랑캐를 물리치자.
- ⑤ 산적한 국내 문제를 해결하기 위해 만주를 정복하자.

3. 다음 사실들을 통해 19세기 유럽 사회 모습을 총괄하여 표현한 것은?

- 1820~30년대 라틴 아메리카 여러 나라가 독립하였다.
- 1832년 영국에서 제1차 선거법 개정이 이루어졌다.
- 1834년 프로이센이 주도하여 관세 동맹을 결성하였다.
- 1848년 프랑스에서 2월 혁명으로 7월 왕정이 무너졌다.

- ① 제국주의가 발생하였다.
- ② 민주주의 체제가 확립되었다.
- ③ 자유주의와 민족주의가 시대를 이끌었다.
- ④ 개인적 자유보다 국가적 이익이 우선시되었다.
- ⑤ 전쟁이 국가 문제를 해결하는 중요 수단으로 이용되었다.

4. 다음의 문학 작품이 탄생할 수 있었던 시대적 상황을 적절하게 지적한 것은? [3점]

돌아가리로드,  
전원이 황무(荒蕪)하려는데  
왜 아니 돌아가라.  
.....(중략).....  
좋은 때 사랑하여 외로이 다니고  
때로는 지팡이 꽂아놓고 김매어 준다.  
동쪽 둔덕에 올라 휘파람 시원하게 불고  
맑은 흐름에 나가 시를 짓는다.  
이렇듯 변화타고 인생 다할 때까지 가려거니와  
천명을 즐기는데 또 무엇 의심하라.  
-도연명, 귀거래사-

- ① 잡극과 소설 등의 서민 문화가 화려하게 꽃피었다.
- ② 독창적인 학술과 사상을 주장하는 제자 백가가 등장했다.
- ③ 군신간의 의리와 대의 명분을 중시하는 주자학이 일어났다.
- ④ 세속을 떠나 자유로운 삶을 추구하는 청담 사상이 유행하였다.
- ⑤ 외래 종교인 불교를 배척하는 등 국수주의적 경향을 보였다.

5. 중세 유럽에서 시행된 농법에 관한 설명 그림이다. 이전의 농법에 비해 이 농법이 새로 도입됨으로 초래된 변화를 바르게 제시한 것은? [3점]

연차	1년차	2년차	3년차
경지(A)	춘경지	휴경지	추경지
경지(B)	휴경지	추경지	방목
경지(C)	추경지	방목	춘경지

- ① 올리브유와 포도주의 수출이 활발해졌다.
- ② 노동력이 더 필요하여 부역이 증대되었다.
- ③ 농업 노예를 통한 재식 농업이 가능하였다.
- ④ 휴경지가 늘어나서 경작 기술이 퇴보하였다.
- ⑤ 경작 면적이 늘어나서 식량이 증산되었다.





[16~17] 다음은 중국의 근대화 과정에서 등장한 주장들이다. 물음에 답하시오.

(가) 중국은 외국군보다 수백의 병력을 갖고 있으면서 오랫동안 싸워도 이기지를 못하는데 이것은 총포가 너무 형편없기 때문이라고 생각한다. 만약 무기가 서양과 비슷하게 될 수만 있다면 외국과 대적하는 데 부족함이 없을 것이다.

(나) 좀더 민의를 존중하고 민권을 신장시켜 일반 국민에게도 국민으로서 의무를 지우지 않으면 우수한 기계를 들여와도 잘 운용될 리가 없다. 근대 서양의 의회 정치야말로 군민(君民) 일체와 상하 일심의 정치를 이룩하는 것으로서 중국이 받아들여야 할 제도이다.

(다) 우리는 유교를 버릴 것인가 아니면 공화나 민주(民主)를 버릴 것인가, 어느 한 쪽을 선택하지 않으면 안된다. 민주와 과학의 원리에 근거하여 자유주의와 개인주의를 옹호하고 전통에 대한 통렬한 비판과 재평가를 해야 한다.

16. 위 주장들의 공통점을 적절하게 요약한 것은? [3점]
- ① 민중의 권리를 보장해야 국가가 발전할 수 있다.
  - ② 전통 문화를 보존하는 것이 국력 강화의 핵심이다.
  - ③ 봉건적 신분제를 타파하는 것이 가장 시급한 과제이다.
  - ④ 현재의 위기 극복을 위해 청조를 중심으로 개혁에 노력해야 한다.
  - ⑤ 외세의 침략으로부터 살아남기 위해서는 자강(自強)을 이룩해야 한다.

17. 위 자료와 연관된 수업을 진행하고자 할 때 적절한 탐구 활동이 이루어진 경우를 <보기>에서 모두 고른 것은?

<보 기>

ㄱ. (가)－중체서용(中體西用)의 개념과 한계를 파악한다.  
 ㄴ. (나)－청·일 전쟁이 중국 지식인들에게 끼친 영향을 알아본다.  
 ㄷ. (나)－민족주의, 민권주의, 민생주의의 구체적 내용을 정리해 본다.  
 ㄹ. (다)－국공합작을 통해 항일 연합 전선을 구축하는 과정을 조사한다.

- ① ㄱ, ㄴ    ② ㄱ, ㄷ    ③ ㄴ, ㄷ    ④ ㄴ, ㄹ    ⑤ ㄷ, ㄹ
18. 다음 구호와 연관이 깊은 중국의 정책은?

검은 고양이[흑묘(黑貓)]이건 흰 고양이[백묘(白貓)]이건 쥐를 잘 잡는 고양이가 좋은 고양이이다.

- ① 홍위병을 앞세워 자본주의적 요소를 일소하려 하였다.
- ② 소련의 평화 공존 정책에 대해 수정주의라고 비판하였다.
- ③ 현대화를 정책 목표로 세우고 개혁과 개방 정책을 추진하였다.
- ④ 중화 인민 공화국을 수립하고 토지 개혁과 기업 국유화를 단행하였다.
- ⑤ 생산력의 증대와 자급 자족적인 경제 체제 확립을 위해 인민 공사를 조직하였다.


19. 두 종교의 전파를 보여주는 연표이다. 1세기에 나타난 현상을 지역별로 바르게 비교한 것은? [3점]

(가) 종교	연도	(나) 종교
베드로와 바울 순교	64	중국에 전래
	67	
신약성서 확정	200	둔황 석굴 축조 시작
밀라노 칙령	313	
니케아 공의회	325	
국교로 지정	392	

	(가)를 수용한 지역	(나)를 수용한 지역
①	모반의 위험이 있어 교인들을 농노로 삼았다.	신의 가호를 받기 위해 적극 보호하였다.
②	신앙의 자유를 주장하여 재산권을 박탈하였다.	상업을 진흥하기 위해서 장려하였다.
③	황제 숭배를 거부하여 박해하였다.	전통을 중시해 큰 관심을 갖지 않았다.
④	왕정복고를 주장한 신도를 추방시켰다.	교조를 황제보다 우위에 두었다.
⑤	교황이 황제와 국왕을 임명하였다.	구법승의 인도 왕래가 활발하였다.

20. <자료 1>은 르네상스 시기 이탈리아의 정세도이다. 이와 관련하여 <자료 2>와 같은 주장이 나오게 된 동거나 목적으로 적절한 것은?

<자료 1>



<자료 2>

○ 군주는 여우의 교활한 지혜와 사자의 용맹을 겸비해야 한다. 지배자에게 주어진 최고의 의무는 국가의 권력과 안전을 유지하는 것이며, 그 목적을 달성하기 위해 권모술수를 포함한 냉혹한 현실주의 정치 기술이 필요하다.

- ① 직업 정치가의 체계적인 양성
- ② 크리스티교에 대한 반감 표현
- ③ 이슬람의 재침략에 대한 대비
- ④ 절대 왕권과 중상주의의 달성
- ⑤ 분열된 이탈리아의 통일 염원

\* 확인 사항

○ 답안지의 해당란에 필요한 내용을 정확히 기입(표기)했는지 확인하시오.

제 4 교시

사회 탐구 영역 (정치)

성명

수험 번호

- 먼저 수험생이 선택한 과목의 문제지인지 확인하십시오.
- 선택 과목은 반드시 응시 원서 작성시 자신이 선택한 과목의 문제를 풀어야 합니다.
- 문제지에 성명과 수험 번호를 정확히 기입하십시오.
- 답안지에 수험 번호, 선택 과목, 답을 표기할 때는 반드시 '수험생이 지켜야 할 일'에 따라 표기하십시오.
- 문항에 따라 배점이 다르니, 각 물음의 끝에 표시된 배점을 참고하십시오. 3점 문항에만 점수가 표시되어 있습니다. 점수 표시가 없는 문항은 모두 2점입니다.

1. 다음 글을 통해 내릴 수 있는 결론으로 가장 타당한 것은?

정치 권력은 국민들이 그 권위를 인정하고 자발적으로 복종한다는 측면에서 폭력과 구별된다. 이러한 자발적 복종을 이끌어내기 위해 근대 이전 절대 군주는 “왕의 권력은 신으로부터 부여받았다.”고 주장하였다. 그러나 근대 이후에는 사회 계약설의 영향으로 “정치 권력은 국민으로부터 나온다.”는 생각이 보편화되었다.

- ① 정치 권력은 신성 불가침의 영역이다.
- ② 정치 권력은 물리적 힘의 행사를 전제로 한다.
- ③ 정치 권력은 개인간의 자유로운 계약으로 성립된다.
- ④ 정치 권력은 성립과 행사 과정에서 정당화가 필요하다.
- ⑤ 정치 권력은 인간의 존엄성과 기본권을 침해할 수 없다.

2. 다음은 어느 국가의 총선거 결과 나타난 각 정당의 지역별 득표 비율이다. 이 정치 현상과 관련된 올바른 서술을 <보기>에서 모두 고른 것은?

(단위 : %)

구분	A당	B당	C당	기타 후보
(가) 지역	43	45	5	7
(나) 지역	76	13	7	4
(다) 지역	4	87	2	7
(라) 지역	13	10	65	12

\* 지역은 전국을 넷으로 나눈 것이다.

<보 기>

ㄱ. 건전한 정당 정치의 발전을 위해 지양되어야 할 정치 현상이다.  
 ㄴ. 이 현상을 변화시키기 위한 최선의 방안은 대통령의 권한 강화이다.  
 ㄷ. 이 현상이 지속될 경우, 전국적 지지 기반을 갖는 정당의 출현이 어렵다.

- ① ㄱ                      ② ㄱ, ㄴ                      ③ ㄱ, ㄷ
- ④ ㄴ, ㄷ                      ⑤ ㄱ, ㄴ, ㄷ

3. 다음의 정치 현상과 관련한 추론으로 옳지 않은 것은?

오늘날 선진국에서는 인터넷을 통한 투표가 현실화되고 있다. 예를 들어 미국 ○○주에서는 민주당 대의원을 선출하는 전자 투표가 사상 처음으로 실시된 바 있다. 전자 투표를 통해 나타나는 가장 뚜렷한 변화 중 하나는 투표율 증가이다. 이 선거의 경우, 투표 참가자 수가 종전에 비해 3배 가까이 급증한 것으로 나타났다.

- ① 일반적으로 정치 권력의 집중을 촉진하는 효과가 있다.
- ② 선거 참여를 비롯한 다양한 형태의 정치 참여를 촉진시킨다.
- ③ 개인 정보 유출로 인한 기본권 침해 사례가 증가할 수 있다.
- ④ 컴퓨터 기술 및 정보 통신 수단의 발달과 밀접한 관련이 있다.
- ⑤ 정보 통신 수단에 접근하기 어려운 사람들은 정치 참여 기회가 제한된다.

4. 다음 사례에 대한 옳은 설명을 <보기>에서 모두 고른 것은?

[3점]

(가) 대통령은 국회를 통과한 ‘○○법’에 대해 이의를 제기하고, 국회에 재의(再議)를 요구했다. 이에 따라 이 법은 국회에서 재적 의원 과반수 출석과 출석 의원 3분의 2 이상의 찬성을 얻어야만 법률로 확정된다.  
 (나) 행정 법원은 시민 단체와 지역 주민 등이 행정부를 상대로 낸 △△ 쓰레기 소각장 건설 사업의 취소 청구를 받아들여 건설 사업의 취소를 명하였다.

<보 기>

ㄱ. (가)는 대통령제에 가미된 의원 내각제적 요소이다.  
 ㄴ. (나)는 권력 융합형인 의원 내각제에서는 발생하지 않는다.  
 ㄷ. (가)와 (나)는 모두 견제와 균형의 원리에 해당한다.

- ① ㄱ                      ② ㄷ                      ③ ㄱ, ㄴ                      ④ ㄱ, ㄷ                      ⑤ ㄴ, ㄷ

5. 다음의 성격을 공통으로 가지고 있는 기구를 <보기>에서 모두 고른 것은?

○ 자발적인 사적 집단과 개인들로 구성된다.  
 ○ 특정 전문 영역의 제한된 목적을 가진다.  
 ○ 영리적이며 국제적인 활동을 한다.

<보 기>

ㄱ. 그린피스(Greenpeace)                      ㄴ. 미주 기구(OAS)  
 ㄷ. 국제 사면 기구(AI)                      ㄹ. 국제 통화 기금(IMF)  
 ㅁ. 국제 투명성 기구(TI)

- ① ㄱ, ㄴ, ㄷ                      ② ㄱ, ㄷ, ㅁ                      ③ ㄴ, ㄷ, ㄹ
- ④ ㄴ, ㄹ, ㅁ                      ⑤ ㄷ, ㄹ, ㅁ



11. 다음은 ○○고등학교 학생회칙의 일부이다. 여기에 나타난 민주 정치의 원리를 <보기>에서 모두 고른 것은? [3점]

제2절 학생임원회

제 3 조 【구성】 학생임원회는 학생회장과 10인 이내의 임원으로 구성된다.

제 4 조 【학생회장】 학생회장은 학생회를 대표하며, 전체 학생의 직접 선거에 의해 선출된다.

제 5 조 【권한】 학생임원회는 학생회칙에서 정한 사항을 집행한다.

제3절 대의원회

제 9 조 【구성】 대의원회는 각 학급별로 선출된 학급회장으로 구성된다.

제 10 조 【권한】 대의원회는 다음 각 호의 1이 규정한 사항을 의결한다.

1. 학생회칙의 개정
2. 학생임원회가 제출한 학생회 예산안의 심의

제 11 조 【겸임금지】 대의원은 학생회장이나 학생임원회 임원을 겸임할 수 없다.

<보 기>

㉠. 국민 주권주의	㉡. 직접 민주주의
㉢. 의원 내각제	㉣. 권력 분립

- ① ㉠, ㉡    ② ㉠, ㉢    ③ ㉠, ㉣    ④ ㉡, ㉢    ⑤ ㉢, ㉣

12. 다음에 해당되는 국가 기관과 정치 원리를 바르게 묶은 것은?

○ 9인의 재판관으로 구성되며, 대통령과 대법원장이 각각 3인씩 지명하고 국회에서 3인을 선출한다.

○ 위헌 법률 심판, 정당 해산 심판의 권한이 있다.

○ 재판관은 정당에 가입하거나 정치에 관여할 수 없다.

<u>기관</u>	<u>정치 원리</u>
① 헌법 재판소	정치적 중립
② 헌법 재판소	의회 민주주의
③ 대법원	사법권의 독립
④ 대법원	정치적 중립
⑤ 중앙 선거 관리 위원회	사법권의 독립

13. 다음 정부 정책이 추구하는 것을 <보기>에서 모두 고른 것은?

○ 중앙 정부의 행정 권한을 지방 정부에 대폭 이양한다.

○ 지방 정부의 책임성을 높이기 위해 주민 감사 청구 제도를 활성화하고, 주민 소환제를 도입한다.

○ 국세와 지방세의 항목을 조정하여 지방 정부의 재원을 확충한다.

<보 기>

㉠. 지방 분권의 강화	㉡. 국회 기능의 활성화
㉢. 지역 주민의 참여 확대	㉣. 자치 행정의 신속성 제고

- ① ㉠, ㉡    ② ㉠, ㉢    ③ ㉡, ㉢    ④ ㉡, ㉣    ⑤ ㉢, ㉣

14. 다음은 4·13 총선 당시 벌어진 낙천·낙선 운동에 대한 두 신문 기사 제목과 그 운동에 대한 법원 판결문 일부이다.



(가)

(나)

참정권도 헌법에 따라 공공 복리 등을 위해 법률로 제한할 수 있으며, 입법 상황과 국민 의식 수준 등을 고려할 때 현행법이 낙선 운동 과정의 거리 행진, 집회 등을 제한하는 것을 위헌이라고 할 수 없다. …(중략)… 다만, ○○단체에 대한 우리 사회의 평가 등을 고려해 벌금형만을 선고한다.

-판결문-

자료들이 담고 있는 정치적 의미에 대한 올바른 해석을 <보기>에서 모두 고른 것은? [3점]

<보 기>

㉠. 판결문은 '악법도 법'이라는 인식을 나타낸다.

㉡. 재판부는 낙선 운동에 대해 (가) 신문의 입장과 일치된 판결을 내렸다.

㉢. 두 신문의 기사 제목은 낙선 운동에 대한 사회적 이견이 존재함을 보여준다.

㉣. 판결문은 정당한 목적도 합법적 과정을 통해 추구되어야 한다는 교훈을 담고 있다.

- ① ㉠, ㉡    ② ㉠, ㉢    ③ ㉠, ㉣    ④ ㉡, ㉣    ⑤ ㉢, ㉣

15. 다음 학생의 생각을 반박한다면 그 논거로 가장 적절한 것은? [3점]



- ① 이익 집단은 사회 분열을 조장한다.
- ② 이익 집단의 활동은 사회 통합에 기여한다.
- ③ 이익 집단은 정부 정책 결정에 영향력을 행사한다.
- ④ 민주 사회에서 자신의 이익 표출은 정당한 것이다.
- ⑤ 직능 대표제의 실현을 위해 이익 집단의 활동이 필요하다.

16. 다음의 사례를 보고 내린 결론으로 적절한 것은? [3점]

- 보건 복지부가 금연 구역 확대와 담배값 인상을 추진하자, 담배 애호가들은 반발하였으나 비흡연자들은 환영하고 있다.
- 개발 제한 구역 주민이 낸 헌법 소원에 대해, 헌법 재판소는 적절한 보상 없이 해당 지역 주민들의 재산권을 과도하게 제한한 것은 위헌이라는 결정을 내렸다.

- ① 현대에는 사회권이 더 강조되고 있다.
- ② 자유와 권리의 본질적인 내용도 침해할 수 있다.
- ③ 공공 복리와 개인의 자유는 상충하는 측면이 있다.
- ④ 국민 복지 향상을 위해서는 정부 개입이 필요하다.
- ⑤ 적극적 자유가 소극적 자유보다 우선시되어야 한다.

17. 다음은 교사가 학생들에게 나누어 준 수행 평가 안내문의 일부이다.

우리 나라는 간접 민주주의를 채택하고 있습니다. 그런데 시민이 뽑은 대표와 시민 간에 괴리가 발생하고, 시민의 정치적 무관심이 커지는 현상이 나타나고 있습니다. 게다가 중앙 정부에 권한이 집중되어 지역간 형평성 문제 및 지역 주민의 권익 침해 문제가 제기된 바 있습니다. 이러한 우리 정치의 문제점을 해결하기 위한 방안과 그 사례를 모둠별로 조사하여 보고서를 작성하십시오.

밑줄 친 주제에 대해 보고서를 가장 적절하게 설계한 모둠은?

- |       |             |              |           |
|-------|-------------|--------------|-----------|
|       | <u>모둠</u>   | <u>방안</u>    | <u>사례</u> |
| ① (가) | 시민 참여의 증진   | 소비자 불매 운동    |           |
| ② (나) | 지방 자치의 활성화  | ○○지역의 주민발안   |           |
| ③ (다) | 전자 민주주의의 도입 | 전자 주민 카드제 실시 |           |
| ④ (라) | 직접 민주주의의 실시 | 아테네의 정치 형태   |           |
| ⑤ (마) | 대의 민주주의의 보완 | 선거 공영제의 도입   |           |

18. 다음은 한 국가의 정치 문화에 관한 설문 조사 결과이다. 이를 해석한 내용으로 적절하지 않은 것은?

(단위 : %)

질 문	찬성	반대
윗사람이나 높은 지위에 있는 사람에게 복종하는 것이 마땅하다.	65	35
모든 사람에게 동등한 기회가 보장되어야 한다.	89	11
다수가 원하는 것을 소수가 비판해서는 안 된다.	70	30
문제를 법적으로 해결하기보다 아는 사람을 통해 해결하는 것이 빠르고 현명하다.	75	25
사람은 믿을 수 없으므로 조심해야 한다.	85	15

- ① 관용의 수준이 비교적 높다.
- ② 타인에 대해 상당히 부정적이다.
- ③ 상당히 높은 평등 의식을 지닌다.
- ④ 비교적 권위주의적 속성을 보인다.
- ⑤ 친분 관계에 의존하여 문제를 해결하려 한다.

19. 다음은 한반도 주변 정세에 관한 글이다. 이에 대한 추론으로 적절한 것은? [3점]

오늘날 한반도 주변의 안보 상황은 강대국간 화해 협력의 분위기가 조성되는 가운데, 미-일간 동맹의 강화와 중-러간 전략적 동반자 관계의 구축 등 냉전적인 요소가 잔존하고 있다. 또한 동아시아 국가들간 역내 교역이 활성화되고 있으며 상호 의존의 심화와 함께 경쟁 관계가 형성되고 있다. 한편, 남북한 관계는 경제·사회·문화적 측면에서 금강산 관광 사업과 이산 가족 상봉, 그리고 개성 공단의 착공 등 교류 협력이 증대되고 있으나, 안보적 측면에서는 북한 핵 개발 문제 등으로 인한 위기가 상존하여 국제 사회의 해결 노력이 요구되고 있다.

- ① 동북아는 전쟁 위험이 없이 경제 발전을 지속하고 있다.
- ② 한반도에는 냉전적 요소와 탈냉전적 요소가 공존하고 있다.
- ③ 한반도 주변 정세는 안보 상황보다 경제 상황이 더 우려된다.
- ④ 한반도는 주변 국가들의 경제적 갈등이 첨예하여 전쟁 발발 가능성이 있다.
- ⑤ 남북한 문제는 한반도 주변 국가들과 상관없이 남북한 당국에 의해 해결될 수 있다.

20. 다음은 국제 관계에 대한 교사와 학생들의 대화이다. 이에 대한 설명으로 타당한 것은? [3점]

교 사 : 국제 사회는 행위 규범인 거미줄에 행위 주체인 여러 마리의 거미가 어우러져 있는 모습으로 비유될 수 있습니다. 여러분은 거미줄과 거미의 관계에 대해 어떻게 생각합니까?

학생 A : 거미줄을 친 것은 거미이며, 거미마다 능력은 다릅니다. 강한 거미는 자기가 원하는 대로 거미줄을 칠 수 있지만 거미줄을 칠 능력조차 없는 약한 거미도 있습니다. 따라서 거미줄은 거미간 힘의 우열 관계를 반영한 것입니다.

학생 B : 하지만 강한 거미라도 거미줄을 벗어나서 살아갈 수 없습니다. 또한 다른 거미들의 의사를 무시하고 자의적으로 거미줄을 치는 데 한계가 있습니다. 정도 차이는 있지만 거미줄은 결국 모든 거미들을 구속합니다.

- ① 학생 A는 국력보다 국제 규범의 역할을 강조한다.
- ② 학생 A는 국제 관계가 민주적으로 이루어진다고 본다.
- ③ 학생 B는 현실주의적 입장에서 국제 관계를 설명한다.
- ④ 학생 B는 국제 관계가 규범에 의해 규율된다고 본다.
- ⑤ 학생 A와 B는 국제 관계에 대한 입장이 동일하다.

\* 확인 사항

○ 답안지의 해당란에 필요한 내용을 정확히 기입(표기)했는지 확인하십시오.

제 4 교시

사회 탐구 영역 (경제)

성명

수험 번호

- 먼저 수험생이 선택한 과목의 문제지인지 확인하시오.
- 선택 과목은 반드시 응시 원서 작성시 자신이 선택한 과목의 문제를 풀어야 합니다.
- 문제지에 성명과 수험 번호를 정확히 기입하시오.
- 답안지에 수험 번호, 선택 과목, 답을 표기할 때는 반드시 '수험생이 지켜야 할 일'에 따라 표기하시오.
- 문항에 따라 배점이 다르니, 각 물음의 끝에 표시된 배점을 참고하시오. 3점 문항에만 점수가 표시되어 있습니다. 점수 표시가 없는 문항은 모두 2점입니다.

1. 다음 글에서 추론할 수 있는 '전자 경제'의 특성을 <보기>에서 모두 고른 것은?

인터넷이 생겨나기 전에는 소비자들이 제품과 가격에 대한 정보를 찾는 것이 쉽지 않았다. 그러나 이제는 소비자가 제품에 대한 정보를 인터넷으로 손쉽게 찾을 수 있게 되어 기업이 소비자들의 구미를 맞추는 일이 더욱 어렵게 되었다. 이에 따라 '전자 경제'에서는 소비자의 욕구를 충족하기 위한 주문 생산이 활성화되고 있다.

<보 기>

- ㄱ. 소비자의 영향력이 강화된다.
- ㄴ. 다품종 소량 생산이 확산된다.
- ㄷ. 기업의 재고 비용이 증가한다.
- ㄹ. 신용 카드의 사용이 축소된다.

- ① ㄱ, ㄴ    ② ㄱ, ㄷ    ③ ㄱ, ㄹ    ④ ㄴ, ㄹ    ⑤ ㄷ, ㄹ

2. 다음은 길동이가 대학 진학을 위해 작성한 평가표이다. 바르게 추론한 것을 <보기>에서 모두 고른 것은?

대안	평가 기준	학 비	적 성	취업 가능성	학교 평판	합 계
A 대학교 a학과		1	1	2	3	7
B 대학교 b학과		2	3	1	2	8
C 대학교 c학과		3	2	3	1	9

\* 수치는 길동이가 느끼는 만족감의 크기를 나타낸다. 매우 만족은 3, 약간 만족은 2, 보통은 1을 부여한 것이다.

<보 기>

- ㄱ. 각 평가 기준의 중요도가 같다고 보고 있다.
- ㄴ. 학비와 적성에서 A 대학교 a학과를 가장 높게 평가하고 있다.
- ㄷ. B 대학교 b학과 졸업생에 대한 사회적 수요가 가장 많다고 평가하고 있다.
- ㄹ. A 대학교 a학과를 선택할 것이다.
- ㅁ. C 대학교 c학과를 선택할 것이다.

- ① ㄱ, ㄹ    ② ㄱ, ㅁ    ③ ㄴ, ㄹ    ④ ㄴ, ㅁ    ⑤ ㄷ, ㅁ

3. 다음의 상황을 경제적 의사 결정 과정에 따라 해결하고자 한다. 그 순서를 <보기>에서 찾아 바르게 연결한 것은?

○○마을에서는 육지와 섬을 잇는 새로운 다리가 개통되면서 많은 변화가 일어났다. 주말이 되면 관광객이 몰려 마을의 좁은 도로는 자동차로 아수라장이 되었다. 상점과 민박집의 수입은 나아졌지만 관광객을 경쟁적으로 유치하는 과정에서 상도덕(商道德)이 매우 문란해졌다. 술에 취한 관광객 중 일부는 도로상에서 싸우기도 하고 각종 범죄도 빈번하게 발생하였다.

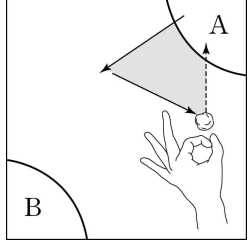
<보 기>

- ㄱ. 대안들의 편익과 비용을 따져본다.
- ㄴ. 마을의 문제 해결을 위한 대안들을 찾아본다.
- ㄷ. 마을이 새롭게 직면한 문제가 무엇인지를 알아본다.
- ㄹ. 대안들의 결과를 비교하여 최선의 대안을 선택한다.
- ㅁ. 자동차는 몇 대나 오가며, 폭력 사건은 얼마나 발생하는지 등을 조사해 본다.

- ① ㄷ-ㄹ-ㄱ-ㄴ-ㅁ    ② ㄷ-ㅁ-ㄱ-ㄹ-ㄴ  
 ③ ㄷ-ㅁ-ㄹ-ㄱ-ㄴ    ④ ㅁ-ㄹ-ㄱ-ㄷ-ㄴ  
 ⑤ ㅁ-ㄷ-ㄹ-ㄴ-ㄱ

4. 다음은 경제 수업 시간에 학생들이 했던 어느 민속 놀이의 방법을 서술하고 있다.

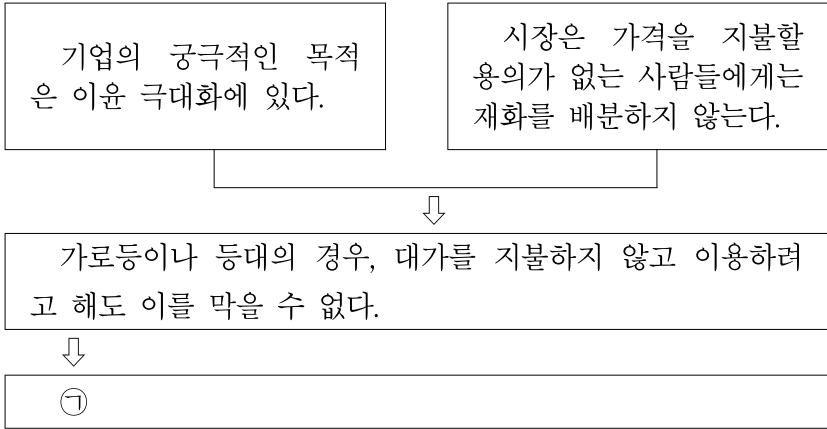
(가) 땅에 큰 사각형을 그린다.  
 (나) (가)에서 만든 사각형 구석에 자기 손가락의 뺨을 재어 자기 집을 만든다.  
 (다) 가위·바위·보로 순서를 정한다.  
 (라) 자기 집을 시작으로 돌을 3번 통겨서 자기 집으로 다시 돌아온다.  
 (마) 3번 이내에 자기 집으로 돌아오지 못하면 차례가 바뀐다.  
 (바) 돌이 지나간 자리의 안쪽이 자기 집이 된다.  
 (사) 남의 땅으로 들어간 돌이라도 통겨서 자기 집으로 돌아오면 남의 땅을 차지할 수 있다.  
 (아) 차례가 10번 바뀌면 놀이는 끝나고, 땅을 가장 많이 차지한 사람이 이긴다.



이 놀이를 한 후에 학생들이 깨달을 수 있는 경제 원리로 보기 어려운 것은? [3점]

- ① 사람들은 경제적 이득에 반응한다.
- ② 교환은 거래 당사자에게 이익을 준다.
- ③ 인간의 욕망에 비해 자원은 유한하다.
- ④ 선택에는 기회 비용이 따르게 마련이다.
- ⑤ 사람들은 경제 활동 과정에서 경쟁에 직면하게 된다.

5. 다음 (가)에 들어갈 말로 가장 적절한 것은?



- ① 기업에게 공공성을 강제하기 어렵다.
- ② 시장은 자원의 효율적 배분에 기여한다.
- ③ 정부의 개입은 경제의 효율성을 떨어뜨린다.
- ④ 시장에서는 공공재가 충분히 공급되기 어렵다.
- ⑤ 경제의 효율성과 형평성은 동시에 달성되기 어렵다.

6. 다음은 ‘국제 수지와 환율’을 주제로 한 수업 시간에 교사가 학생들에게 던진 물음이다. 이에 대한 대답으로 가장 타당한 것은? [3점]

일반적으로 경상 수지가 흑자이면 환율이 하락하고 적자이면 환율은 상승한다. 그러나 항상 그렇지만은 않다. 예를 들어 1994년의 경우 경상 수지가 39억 달러 정도 적자였음에도 불구하고 환율은 800원대에서 700원대로 하락했어. 왜 이러한 일이 일어났을까?

- ① 외국인들의 국내 관광이 늘어났기 때문이에요.
- ② 국내 기업들의 해외 진출이 활발해졌기 때문이에요.
- ③ 우리 나라 사람들의 해외 여행이 늘어났기 때문이에요.
- ④ 외국인들이 우리 나라의 주식을 더 많이 샀기 때문이에요.
- ⑤ 해외 근로자들이 국내에 돈을 더 많이 송금했기 때문이에요.

7. 다음 사례에서 바르게 추론한 것을 <보기>에서 모두 고른 것은?

장거리 전화를 무료로 하면 어떻게 될까? 어느 중동 산유국은 석유 수출로 오일 달러가 급증하여 한때 국민에 대한 서비스의 일환으로 장거리 전화를 무료로 한 적이 있었다. 그랬더니 전화를 안 해도 될 사람도 하고, 짧게 해도 될 것도 길게 하고, 통화를 하다가 볼 일이 생기면 끊지 않고 그냥 두었다가 볼 일을 마치고 계속하는 사람도 있었다. 그 결과, 장거리 전화는 항상 통화 중인 상태로 되어 급하게 전화를 해야 할 사람도 거의 사용할 수 없게 되었다.

<보 기>

㉠. 가격은 사람들의 행위에 영향을 미친다.  
 ㉡. 재화나 서비스가 무료이면 그것은 낭비된다.  
 ㉢. 가격은 자원이 필요한 사람에게 돌아가게 하는 기능을 한다.

- ① ㉠
- ② ㉠, ㉡
- ③ ㉠, ㉢
- ④ ㉡, ㉢
- ⑤ ㉠, ㉡, ㉢

8. 다음 글을 읽고 바르게 추론한 것을 <보기>에서 모두 고른 것은? [3점]

잉크젯 프린터는 잉크를 자주 교환해야 하는 번거로움이 있지만 다른 컴퓨터 관련 제품에 비해 상대적으로 값이 싸다. 그런데 프린터 잉크는 비싼 값에 판매된다. 한 회사 제품만이 아니라 대부분의 회사 제품들도 그러하다. 왜냐하면 프린터 잉크는 기술적으로 자사 제품만 사용할 수 있도록 만들어져 있어서, 일단 프린터를 구매한 고객은 가격이 비싸더라도 동일한 프린터 제조 회사에서 만든 잉크를 사용해야 하기 때문이다.

<보 기>

㉠. 프린터에 비해 프린터 잉크의 판매 경쟁이 치열하다.  
 ㉡. 프린터 잉크의 판매는 프린터와 상호 연계되어 있다.  
 ㉢. 프린터 잉크는 프린터에 비해 수요의 가격 탄력성이 크다.  
 ㉣. 프린터 회사가 프린터를 싸게 파는 이유는 이윤 극대화에 있다.

- ① ㉠, ㉡
- ② ㉠, ㉢
- ③ ㉡, ㉣
- ④ ㉡, ㉣
- ⑤ ㉢, ㉣

9. 다음 자료를 바르게 분석한 것을 <보기>에서 모두 고른 것은? [3점]

문서 작성과 경영 자문에 재능이 있는 김유식과 이상식은 동업을 계획하고 있다. 이 두 사람이 각각의 일에 종사했을 때 얻을 수 있는 월 수입은 다음과 같다.

	업무	문서작성	경영 자문
성명			
김유식		120만원	400만원
이상식		80만원	40만원

<보 기>

㉠. 김유식의 경영 자문의 기회 비용은 120만 원이다.  
 ㉡. 이상식의 문서 작성의 기회 비용은 120만 원이다.  
 ㉢. 김유식은 문서 작성과 경영 자문을 모두 담당하는 것이 효율적이다.  
 ㉣. 김유식은 경영 자문, 이상식은 문서 작성을 담당하는 것이 효율적이다.

- ① ㉠, ㉡
- ② ㉠, ㉢
- ③ ㉠, ㉣
- ④ ㉡, ㉣
- ⑤ ㉡, ㉣

10. 표를 근거로 냉장고에 대한 특별 소비세율 인하가 가져온 결과를 <보기>에서 모두 고른 것은? [3점]

	인하전	인하후
제조 원가	90만 원/대	90만 원/대
출고가	100만 원/대	100만 원/대
특별 소비세율	30%	27%
소비자 판매가	130만 원/대	127만 원/대
판매량	100만 대	115만 대

<보 기>

ㄱ. 냉장고 구매자는 이익을 보았다.  
 ㄴ. 냉장고 제조업체의 이윤은 감소하였다.  
 ㄷ. 냉장고 제조업체로부터 정부가 징수하는 특별 소비세의 수입은 늘었다.

- ① ㄱ      ② ㄴ      ③ ㄱ, ㄴ      ④ ㄱ, ㄷ      ⑤ ㄴ, ㄷ

11. 다음의 두 상황이 난방 연료 시장에 미칠 영향을 바르게 설명하고 있지 않은 것은? [3점]

<상황 1> : 올해 겨울은 유난히 춥다.  
 <상황 2> : 석유 수출국 기구(OPEC)의 감산 결정에 따라 원유 가격이 올랐다.

- ① <상황 1>만 일어나면 공급 곡선은 이동하지 않는다.  
 ② <상황 1>만 일어나면 균형 가격은 상승하고 거래량은 증가한다.  
 ③ <상황 2>만 일어나면 공급 곡선은 왼쪽으로 이동한다.  
 ④ <상황 2>만 일어나면 균형 가격은 상승하고 거래량은 감소한다.  
 ⑤ <상황 1>과 <상황 2>가 동시에 일어나면 균형 가격은 상승하며 거래량은 증가한다.

12. 표는 주요국의 조세 부담률과 직·간접세의 비중을 보여주고 있다. 이를 바르게 분석한 것은? [3점]

(단위%)

		A국	B국	C국	D국	E국
조세 부담률		17.5	30.7	19.1	22.0	22.1
직·간접세 비중	직접세	59.0	57.0	53.0	45.0	93.0
	간접세	41.0	43.0	47.0	55.0	7.0
	합계	100.0	100.0	100.0	100.0	100.0

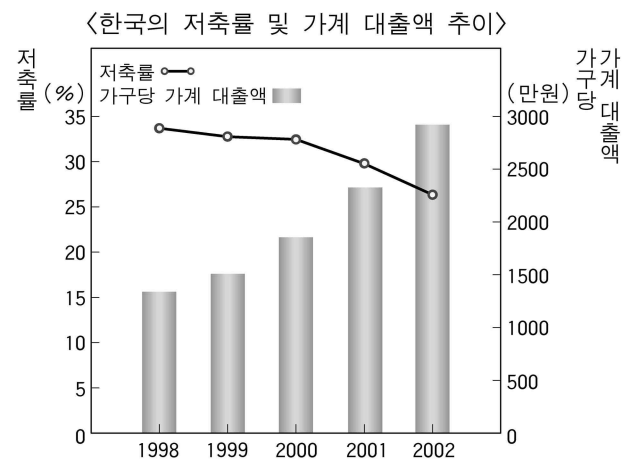
- ① 조세 부담률이 낮은 나라일수록 직접세의 비중이 높다.  
 ② A국의 직접세 비중은 다른 나라들에 비해 낮은 편이다.  
 ③ C국의 조세 부담률은 다른 나라들에 비해 높은 편이다.  
 ④ D국은 조세 저항이 큰 세금의 비중이 다른 나라들에 비해 높은 편이다.  
 ⑤ E국은 소득 분배의 공평성 실현에 기여하는 조세 구조를 갖고 있다.

13. 다음 민요가 기업인들에게 시사하는 것은?

장사 장사 나막신 장사/비가 오면 나막신 장사  
 얼씨구 좋소 얼씨구 좋소/얼씨구 절씨구 지화자 좋소  
 날이 좋으면 짚세기 장사/날이 좋으면 짚세기 장사  
 얼씨구 절씨구 잘 팔아 좋소/얼씨구 절씨구 잘 팔아 좋네  
 -신안 신발 장수 타령 중에서-

- ① 기업의 사회적 책임을 다하라.  
 ② 소비자가 입은 피해를 보상하라.  
 ③ 부가 가치가 높은 제품을 생산하라.  
 ④ 경제 환경 변화에 능동적으로 대응하라.  
 ⑤ 투명 경영을 통해 기업의 신뢰도를 높여라.

14. 그림에서 바르게 추론한 것을 <보기>에서 모두 고른 것은? [3점]

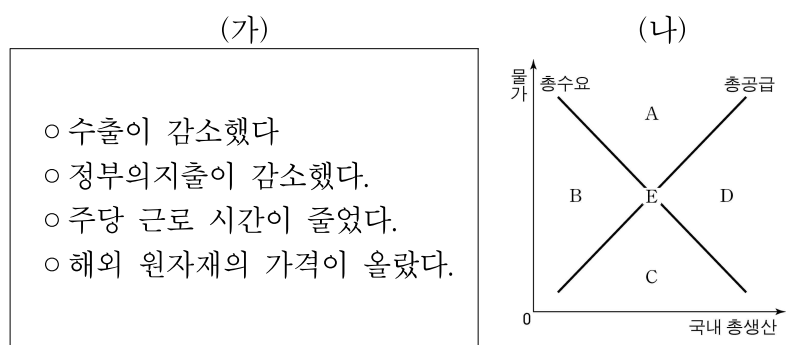


<보 기>

ㄱ. 가계의 소비 지출은 감소하였을 것이다.  
 ㄴ. 이자율 상승이 이와 같은 변화를 초래하였을 것이다.  
 ㄷ. 사람들은 미래 소비보다 현재 소비에 가치를 더 두었을 것이다.  
 ㄹ. 자료에 나타난 추이는 단기적으로 경기에 긍정적인 영향을 미쳤을 것이다.

- ① ㄱ, ㄴ      ② ㄱ, ㄷ      ③ ㄴ, ㄷ      ④ ㄴ, ㄹ      ⑤ ㄷ, ㄹ

15. (가)와 같은 경제 상황이 주어졌을 때, (나)에서 국민 경제의 새로운 균형이 어디에서 이루어지겠는가? [3점]



- ① A      ② B      ③ C      ④ D      ⑤ E

16. 다음 내용과 관련된 진술로 옳은 것을 <보기>에서 모두 고른 것은?

화물 연대 파업으로 부산항과 광양항 등을 통한 수출 제품 선적과 수입 자재 반입이 차질을 빚으면서 국내 전자 업계도 공장 가동에 차질을 빚고 있다. A전자의 광주 공장은 이번 화물 연대 파업으로 인해 출하량이 정상시에 비해 24% 줄었고, B전자의 구미·창원 공장의 경우에는 더 많이 줄었다. 이에 따라 산업계 전체의 수출 피해액은 하루에 1억 달러 이상 발생하고 있는 것으로 나타났다.

<보 기>

- ㄱ. 자금 부족 경제가 효율적이다.
- ㄴ. 경제 주체간의 상호 의존성을 보여준다.
- ㄷ. 공익의 지나친 강조는 사익을 침해할 수 있다.
- ㄹ. 특화가 이루어진 경제에서 나타나는 현상이다.

- ① ㄱ, ㄷ    ② ㄱ, ㄹ    ③ ㄴ, ㄷ    ④ ㄴ, ㄹ    ⑤ ㄷ, ㄹ

17. 다음 신문에 나타난 경제 상황이 초래할 수 있는 경제 문제로 가장 적절한 것은?

제조업 노동생산성 3% 증가  
**임금은 11% 올라**  
산자부 1분기 조사...

- ① 불법 파업의 증가                      ② 디플레이션의 발생
- ③ 절대 빈곤층의 증가                    ④ 기업의 경쟁력 약화
- ⑤ 소득 불평등의 심화

18. 다음의 것들은 국내 총생산(GDP)에 포함되지 않는다. 그 근거를 아래의 국내 총생산의 정의에서 찾을 때 바르게 짝지어진 것은? [3점]

- 가. 남편과 아이들의 옷을 세탁한 주부의 노동 가치 50만 원
- 나. 김대리가 소유했던 (주)신라 통상 주식의 판매 대금 50만 원
- 다. 시청에서 사용하던 노후화된 업무용 차량 매각 대금 100만 원
- 라. 배를 원료로 제조한 술에 들어간 (주)전통 주조의 배 구입 대금 500만 원
- 마. 한국 자동차(주)의 인도 현지 공장에서 조립한 승용차 판매 대금 1,500달러

국내 총생산 :  $\frac{\text{일정한 기간 동안 우리 나라 안에서 생산된}}{A \quad B}$   
 $\frac{\text{최종 생산물의 시장 가치의 합}}{C \quad D}$

- ① 가-D    ② 나-B    ③ 다-C    ④ 라-D    ⑤ 마-A

19. 표를 바르게 분석한 것을 <보기>에서 모두 고른 것은?

<우리 나라의 5대 수출 품목 추이>

(단위 : %)

연도 순위	1970년	1980년	1990년	2000년
1	석유류 40.9	의류 15.9	의류 11.7	반도체 15.1
2	합판 11.0	철강판 4.1	반도체 7.0	컴퓨터 8.4
3	가발 10.8	선박 3.5	가죽신발 4.6	자동차 7.7
4	철광석 5.9	인조섬유 3.2	선박 4.3	석유화학 5.5
5	전자제품 3.5	음향기기 2.8	영상기기 4.1	선박 4.8
소계	72.1	29.5	31.7	41.5

\* 표 안의 수치는 총 수출에서 차지하는 비중을 말한다.

<보 기>

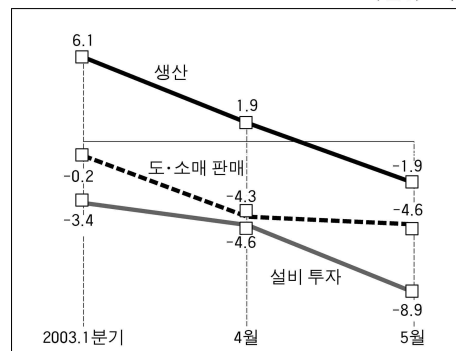
- ㄱ. 정보 관련 산업의 국제 경쟁력은 강화되었다.
- ㄴ. 시간이 흐르면서 비교 우위 상품은 변화되었다.
- ㄷ. 1980년 이후 선박의 수출 비중은 낮아지고 있다.
- ㄹ. 5대 수출 품목이 총 수출에서 차지하는 비중은 줄고 있다.

- ① ㄱ, ㄴ    ② ㄱ, ㄷ    ③ ㄱ, ㄹ    ④ ㄴ, ㄷ    ⑤ ㄴ, ㄹ

20. 그림을 보고 바르게 진술하고 있는 학생을 <보기>에서 모두 고른 것은?

<최근 경기 동향>

(단위 : %)



\*수치는 전년 동기(월)대비 증가율을 말한다.

<보 기>

- 갑 : 사람들이 소비를 늘리고 있네.
- 을 : 물가가 서민 생활을 압박하겠네.
- 병 : 경기 침체의 골이 깊어지고 있어.
- 정 : 정부는 법인세율을 인하할 필요가 있어.

- ① 갑, 을                      ② 갑, 병                      ③ 을, 병  
④ 을, 정                      ⑤ 병, 정

\* 확인 사항

○ 답안지의 해당란에 필요한 내용을 정확히 기입(표기)했는지 확인 하시오.

제 4 교시

사회 탐구 영역 (사회 · 문화)

성명

수험 번호

- 먼저 수험생이 선택한 과목의 문제지인지 확인하십시오.
- 선택 과목은 반드시 응시 원서 작성시 자신이 선택한 과목의 문제를 풀어야 합니다.
- 문제지에 성명과 수험 번호를 정확히 기입하십시오.
- 답안지에 수험 번호, 선택 과목, 답을 표기할 때는 반드시 '수험생이 지켜야 할 일'에 따라 표기하십시오.
- 문항에 따라 배점이 다르니, 각 물음의 끝에 표시된 배점을 참고하십시오. 3점 문항에만 점수가 표시되어 있습니다. 점수 표시가 없는 문항은 모두 2점입니다.

[1~2] 다음은 사회·문화 수업 시간의 한 장면이다. 글을 읽고 물음에 답하십시오.

동훈 : 복지 선진국이라고 불리는 서구 사회에서도 최근 경제가 위축되자 복지 정책을 줄이고 있습니다. 과도한 복지 정책이 경제 성장의 발목을 잡고 있다는 판단 때문입니다.

미영 : 동훈이의 의견은 아직 검증되지 않은 주장에 불과합니다. 복지 정책이 확대되면 경제 성장에 도움이 된다는 주장도 많이 있습니다.

교사 : 그렇다면 여기에서 어느 학생의 주장이 옳은지 확인해 봐야 결론이 나겠군요. 여러분들이 직접 통계 자료를 분석하여 복지 정책과 경제 성장의 관계를 연구해 오기 바랍니다.

1. 학생들이 활용할 탐구 방법에 대한 설명으로 적절한 것을 <보기>에서 모두 고른 것은? [3점]

<보 기>

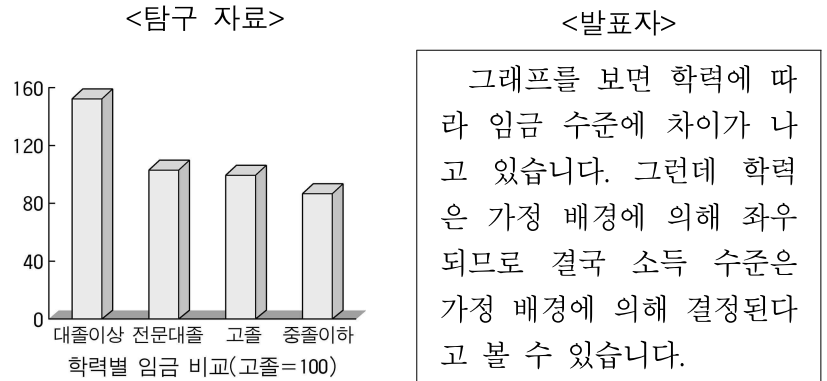
ㄱ. 인간 행위의 내적 의미를 이해하고자 한다.  
 ㄴ. 사회 과학 분야에서만 사용되는 탐구 방법이다.  
 ㄷ. 연구자의 가치 판단을 배제한 탐구를 지향한다.  
 ㄹ. 사회 현상에 내재한 규칙성을 찾을 수 있다고 본다.

- ① ㄱ, ㄷ    ② ㄱ, ㄹ    ③ ㄴ, ㄷ    ④ ㄴ, ㄹ    ⑤ ㄷ, ㄹ

2. 과제를 수행하기 위해 조사해야 할 사회 지표를 바르게 짝지은 것은?

- |             |          |
|-------------|----------|
| 복지 정책       | 경제 성장    |
| ① 인구 증가율    | 이혼율      |
| ② 최저 생계비    | 국내 총생산   |
| ③ 물가 상승률    | 주택 보급률   |
| ④ 최저 임금 수준  | 법정 근로 시간 |
| ⑤ 1인당 국민 소득 | 실업률      |

3. 다음 탐구 자료에 나타난 현상을 발표자와 동일한 관점에서 이해하고 있는 것은? [3점]



- ① 사회적 위화감을 조성하여 사회 발전을 저해한다.
- ② 사람들 간의 경쟁을 유발하는 동기를 심어준다.
- ③ 어느 사회에서나 발견되는 불가피한 현상이다.
- ④ 학력에 따른 업무의 중요도가 반영된 것이다.
- ⑤ 능력에 따른 차등 보상이므로 당연하다.

4. 다음 사례들을 종합하여 도출한 결론으로 가장 타당한 것은? [3점]

○ 돼지 사육은 중동 지방의 덥고 건조한 기후에 적합하지 않고, 유목 생활에도 도움이 되지 않아 종교적 금기를 동원해 돼지 식용을 금지하여 왔다.

○ 페루의 해안 사막 지역의 농부들은 모래를 깊게 파낸 후 막대기로 구멍을 파고, 그 안에 정어리 머리와 옥수수 씨앗을 몇 알 넣고 흙을 덮어 농사를 지었다.

- ① 같은 환경에서도 다양한 문화가 나타날 수 있다.
- ② 문화는 자연 환경에 대한 적응 과정이다.
- ③ 생활 습관이나 관념은 쉽게 변화한다.
- ④ 문화는 일상 생활 속에서 발견된다.
- ⑤ 문화는 자연 환경의 일부이다.

5. 오늘날 한국의 가족 변화 상황에 대해 탐구하려고 한다. <보기>에 제시된 탐구 주제 및 대상에 적합하지 않은 자료 수집 방법은?

<보 기>

탐구 주제	탐구 대상
ㄱ. 부계 혈통 집단의 약화	— 도시 중산층
ㄴ. 호주제 폐지 관련 여론	— 신문·방송 내용
ㄷ. 가족법 개정 운동	— 시민 단체 활동가
ㄹ. 한부모 가족 증가	— 한부모 가족 동호회
ㅁ. 이혼의 사유와 추이	— 가정 법률 상담소 상담 기록

- ① ㄱ - 설문지 조사                      ② ㄴ - 문헌 연구
- ③ ㄷ - 심층 면접                         ④ ㄹ - 실험 관찰
- ⑤ ㅁ - 문헌 연구



12. 다음 조사에 대한 평가로 타당한 것을 <보기>에서 모두 고른 것은? [3점]

한 인터넷 포털 사이트의 시작 화면을 통해, 소파(SOFA)\* 개정의 찬반을 묻는 설문 조사를 실시하였다. 조사에 응할 경우 응답자는 당시까지의 결과를 바로 확인할 수 있었다. 반미 시위가 발생한 직후 일주일 동안, 모두 12,508명이 조사에 참가하였으며, 소파를 개정해야 한다는 의견이 65%를 차지하였다.

\* 소파(SOFA) : (주한) 미군 지위에 관한 협정

<보 기>

- ㄱ. 자료 처리에 장시간이 소요된다.
- ㄴ. 국민 전체의 의견으로 보기 힘들다.
- ㄷ. 조사 시기가 조사 결과에 영향을 미치지 않는다.
- ㄹ. 이 조사만으로는 찬·반의 이유와 동기를 알 수 없다.

- ① ㄱ, ㄴ    ② ㄱ, ㄷ    ③ ㄴ, ㄷ    ④ ㄴ, ㄹ    ⑤ ㄷ, ㄹ

[13~15] 다음은 어떤 사회·문화 수업 시간을 묘사한 것이다. 읽고 물음에 답하시오.

○ 수업이 시작되자 교사는 칠판에 수업 주제를 쓴 후 아래의 그림 자료를 보여주면서 주제와 관련지어 학생들이 자유롭게 발표하게 했다.



- 학생들의 발표 내용
  - 갑 : 우리 나라에서는 아버지께서 꾸중하실 때 자식이 머리를 조아릴 것을 기대하고 계셔.
  - 을 : 우리 나라에서 아이들은 형이나 아버지가 웃어른께 머리를 조아리는 것을 보면서 성장하지.
  - 병 : 서양인들은 우리의 고유 문화를 모르고서는 이러한 행동을 이해할 수 없어.
  - 정 : 문화의 세계화를 위해 우리의 전통 예절은 원형 그대로 보존되어야 해.
- 교사는 정의 발표 내용은 주제에서 크게 벗어나지 않았다고 지적하였다.
- 주제에 대한 학습이 마무리된 후 교사는 학생들에게 이 주제와 관련한 조사를 수행 평가 과제로 제시하고 다음 주까지 제출하도록 하였다.

13. 수업의 주제로 가장 적절한 것은? [3점]

- ① 문화의 속성
- ② 문화의 변동성
- ③ 가족의 문화적 의미
- ④ 문화와 문명의 차이
- ⑤ 문화를 구성하는 요소

14. 다음은 학생들이 제출한 수행 평가 과제의 제목이다. 과제를 올바르게 수행한 학생을 <보기>에서 모두 고른 것은? [3점]

<보 기>

- 갑수 : 일부 다처제와 일처 다부제의 차이
- 을순 : 우리 일상에서 '전통적인 것'의 원래 모습과 오늘날 달라진 모습
- 병식 : 우리의 생활 방식 중에서 유교 문화와 밀접한 관련이 있는 것
- 정화 : 우리 나라 대중 문화에서의 표절 사례와, 표절과 문화 식민주의의 관계에 대한 나의 견해

- ① 갑수, 을순    ② 갑수, 병식    ③ 갑수, 정화
- ④ 을순, 병식    ⑤ 병식, 정화

15. 수업의 주제에 대한 갑의 발언과 맥락이 같은 것은?

- ① 오늘날 미인의 기준은 조선 시대와는 차이가 있다.
- ② 명절 때 고향을 찾는 것은 우리 나라만의 독특한 풍습이 아니다.
- ③ 며느리의 음식 솜씨를 보면 친정 어머니의 음식 솜씨를 알 수 있다.
- ④ 오늘날의 김치는 원래의 소금절임에 전래된 고추가 가미된 것이다.
- ⑤ 우리 나라 사람들은 어른들이 '에헴' 하는 소리의 의미를 알고 있다.

16. 다음 사례에 대한 설명으로 적절한 것을 <보기>에서 모두 고른 것은?

과거 ○○지역 일대에는 소규모의 피복 관련 공장과 다양한 점포들이 빽빽하게 들어서 있었고, 그 사이로 난 복잡한 길을 배달꾼들이 밤낮 없이 누비고 다녔다. 그런데 최근 이러한 조건들이 절묘하게 결합하여 수요자의 주문에서 완제품의 생산, 배달까지 24시간 내에 가능한 새로운 방식을 탄생시켰고, ○○지역의 의류 경쟁력을 부활시킨 요소 중의 하나가 되었다.

<보 기>

- ㄱ. 정부의 개발 정책을 따르고 있다.
- ㄴ. 지역의 특수한 여건을 활용하고 있다.
- ㄷ. 전통적인 생활 방식을 복원, 유지하고 있다.
- ㄹ. 현대 소비자들의 다양한 욕구에 적용한 결과이다.

- ① ㄱ, ㄴ    ② ㄱ, ㄷ    ③ ㄴ, ㄷ    ④ ㄴ, ㄹ    ⑤ ㄷ, ㄹ

17. 다음 신문 기사가 보여주는 사회 현상에 대해 바르게 설명한 것을 <보기>에서 모두 고른 것은?

“빨간 우체통 어디 갔지?”

김은미 할머니(71. ○○시 △△동)는 어린이날을 며칠 앞둔 지난 2일, □□시에 사는 손자에게 편지를 보내려다 애를 먹었다. 우체통을 찾으려고 동네 곳곳을 헤맸지만 결국 찾지 못하고, 집에서 30여분 걸리는 시내 우체국까지 가야 편지를 부칠 수 있었다. 동네 문방구 앞이나 골목 어귀마다 쉽게 눈에 띄던 우체통이 사라지고 있다. -○○일보-

<보 기>

- ㄱ. 서비스업의 위축을 초래한다.
- ㄴ. 정보 통신 기술의 발달과 관련이 있다.
- ㄷ. 세대 간 갈등의 한 요인이 되기도 한다.
- ㄹ. 물질적인 변화 속도가 비물질적인 측면에 비해 느리다.

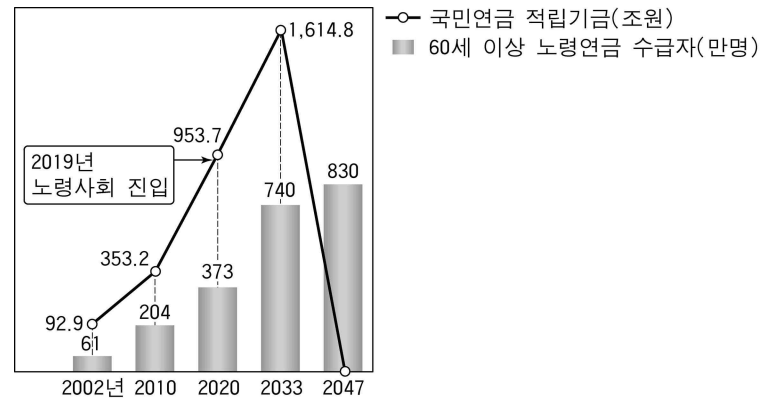
- ① ㄱ, ㄴ    ② ㄱ, ㄷ    ③ ㄴ, ㄷ    ④ ㄴ, ㄹ    ⑤ ㄷ, ㄹ

18. 다음은 국민 기초 생활 보장법의 주요 내용이다. 법 규정의 취지를 가장 적절하게 표현하고 있는 것은?

- 이 법에 의한 급여는 수급자가 자신의 생활의 유지·향상을 위하여 그 소득·재산·근로 능력 등을 활용하여 최대한 노력하는 것을 전제로 이를 보충·발전시키는 것을 기본 원칙으로 한다. (제3조 제1항)
- 근로 능력이 있는 수급자가 자활 계획을 이행하지 않을 경우 생계 급여의 전부 또는 일부를 지급하지 아니할 수 있다. (제30조 제2항 본문 일부)

- ① 공간에서 인심 난다.
- ② 목마른 사람이 우물 판다.
- ③ 미운 자식 떡 하나 더 준다.
- ④ 닭 잡는 데 소 잡는 칼을 쓰라.
- ⑤ 하늘은 스스로 돕는 자를 돕는다.

19. 그림에 대한 해석으로 옳은 것을 <보기>에서 모두 고른 것은? [3점]




<보 기>

- ㄱ. 저부담 고급여 체계가 이러한 문제점이 나타난 한 원인이 될 수 있다.
- ㄴ. 2033년 이후에는 연금 보험료 수입보다 지출이 많아질 것이다.
- ㄷ. 보험료를 낮추는 것은 그림에 나타난 문제점을 해결하는 한 방안이 될 수 있다.

- ① ㄱ    ② ㄴ    ③ ㄱ, ㄴ    ④ ㄱ, ㄷ    ⑤ ㄴ, ㄷ

20. (갑)과 (을)은 서로 대립되는 관점으로 사회 문제를 바라보고 있다. (갑)의 관점에 해당하는 것을 <보기>에서 모두 고른 것은? [3점]



<보 기>

- ㄱ. 기업가와 근로자는 상호 의존적인 관계이다.
- ㄴ. 노사 분규는 비정상적인 상황에서 발생한다.
- ㄷ. 노사간에는 한정된 자원을 둘러싼 갈등이 상존한다.
- ㄹ. 이 문제는 사회의 분배 구조를 근본적으로 바꾸어야 해결된다.

- ① ㄱ, ㄴ    ② ㄱ, ㄷ    ③ ㄱ, ㄹ    ④ ㄴ, ㄷ    ⑤ ㄷ, ㄹ

\* 확인 사항

- 답안지의 해당란에 필요한 내용을 정확히 기입(표기)했는지 확인 하시오.



[6~7] 다음 자료를 읽고 물음에 답하시오.

(가) 범죄가 성립하기 위해서는 구성요건해당성, 위법성, 책임성이라는 세 가지 조건을 갖추어야 한다. 구성요건에 해당하는 행위는 원칙적으로 위법하지만, 위법성조각사유가 있을 때에는 범죄가 성립되지 않는다. 또 위법한 행위라 하더라도 행위자에게 책임이 없으면 범죄가 되지 않는다.

(나) 학생들의 교육과 생활 지도를 담당하는 교사가 교내 흡연과 거짓말을 일삼는 학생을 훈계하고 선도하는 과정에서 때리게 된 것이고, 그 폭행의 정도 또한 무겁지 않다. 이러한 교사의 행위는 교육 목적 달성을 위한 징계로서 사회통념상 비난의 대상이 될 만큼 사회상규를 벗어난 것으로 볼 수 없다. 그러므로 피고인의 체벌 행위는 정당행위에 해당한다.

6. (가)의 밑줄 친 내용에 해당하는 경우를 <보기>에서 모두 고른 것은? [3점]

<보 기>

ㄱ. 13세 소년이 슈퍼마켓에서 장난감을 절취하는 행위  
 ㄴ. 호텔 투숙객이 화재로 인해 창문을 깨고 대피한 행위  
 ㄷ. 칼로 자신을 죽이려는 사람을 곁에 있던 야구 방망이로 때려 실신시킨 행위  
 ㄹ. 은행 직원이 권총 강도의 위협에 의해 금고의 현금을 강도에게 넘겨준 행위

- ① ㄱ, ㄴ    ② ㄱ, ㄷ    ③ ㄴ, ㄷ    ④ ㄴ, ㄹ    ⑤ ㄷ, ㄹ

7. (나)는 어떤 재판의 판결문 요지이다. 이를 바탕으로 옳게 추론한 것은? [3점]

- ① 피고인의 행위가 범죄의 구성요건에는 해당된다.
- ② 법원에서는 피고인에게 유죄를 선고했을 것이다.
- ③ 교사의 체벌 행위는 책임성조각사유에 해당된다.
- ④ 법원에서는 교사의 교육권이 남용되었다고 판단하였다.
- ⑤ 재판 과정에서 피고인은 학습권의 침해를 주장했을 것이다.

8. 다음은 어떤 시(詩)의 일부이다. 이 작품에서 작가가 강조하고자 한 것은?

입법, 행정, 사법  
 의좋은 법의 삼형제에서  
 법보다 정치 쪽으로 건너간  
 행정에게  
 그래도 끈질기게 법을 붙이며  
 안간힘으로 법학의  
 울타리를 쌓는다.  
 천고마비(天高馬肥) 비대해지는  
 행정의 야생마에  
 코뚜레를 끼울 자는  
 누구?

- ① 행정이 더욱 전문화되어야 한다.
- ② 행정부의 독립성이 보장되어야 한다.
- ③ 법률가가 정치에 관여하여서는 안 된다.
- ④ 행정 작용의 형식이 다양화되어야 한다.
- ⑤ 행정의 법률적합성 원리가 강화되어야 한다.

9. 다음 헌법재판소 결정에 나타난 평등의 원칙에 부합하는 것은? [3점]

평등의 원칙은 일체의 차별적 대우를 부정하는 절대적 평등을 의미하는 것이 아니라 입법과 법의 적용에 있어서 합리적인 근거가 없는 차별을 하여서는 안 된다는 상대적 평등을 뜻한다. 따라서 합리적인 근거가 있는 차별 또는 불평등은 평등의 원칙에 반하는 것이 아니다.

- ① 여성에게만 생리 휴가를 인정하는 것
- ② 국가 유공자 아들의 병역을 면제하는 것
- ③ 동일 노동에 대해 남녀간의 임금을 차별하는 것
- ④ 소득의 크기와는 상관없이 동일한 소득세액을 부과하는 것
- ⑤ “혼인 시 퇴직한다”는 취업규칙을 여성에게만 적용하는 것

10. 다음은 어느 제도에 대한 설명이다. 이 제도의 도입 취지에 해당하는 설명을 <보기>에서 모두 고른 것은?

- 이것은 환경에 중요한 영향을 미치게 될 사업 계획을 검토·분석하고 평가하여 환경에 미치게 될 부정적 영향을 제거하거나 감소시키는 방법을 모색하는 제도이다.
- ‘지속 가능한 발전’을 이념적 기초로 한다.

<보 기>

ㄱ. 개발과 환경 보전의 조화를 도모한다.  
 ㄴ. 환경 보전을 위해서는 예방적 조치가 중요하다.  
 ㄷ. 환경 오염의 원인 제공자가 원상 회복의 책임을 진다.

- ① ㄱ    ② ㄴ    ③ ㄷ    ④ ㄱ, ㄴ    ⑤ ㄱ, ㄷ



16. 다음 두 법조항에 대한 올바른 해석을 <보기>에서 모두 고른 것은? [3점]

- 민사(民事)에 관하여 ㉠법률의 규정이 없으면 관습법에 의하고 관습법이 없으면 조리(條理)에 의한다. (민법 제1조)
- 상사(商事)에 관하여 본법에 규정이 없으면 상관습법(商慣習法)에 의하고 상관습법이 없으면 민법의 규정에 의한다. (상법 제1조)

<보 기>

- ㄱ. ㉠은 성문법을 의미한다.
- ㄴ. 상법은 민법의 상위법이다.
- ㄷ. 상사에 관한 사건에서는 조리에 의해 재판할 수 없다.

- ① ㄱ      ② ㄴ      ③ ㄷ      ④ ㄱ, ㄴ      ⑤ ㄴ, ㄷ

17. 다음 법조항의 공통된 입법취지를 가장 적절하게 표현한 것은?

- 정보통신서비스제공자는 이용자의 개인정보를 수집하는 경우 당해 이용자의 동의를 얻어야 한다.
- 이용자는 정보통신서비스제공자 등에 대하여 자신의 개인정보에 대한 열람을 요구할 수 있으며, 자신의 개인정보에 오류가 있는 경우에는 그 정정을 요구할 수 있다.
- 누구든지 정보통신망에 의하여 처리·보관 또는 전송되는 타인의 정보를 훼손하거나 타인의 비밀을 침해·도용 또는 누설하여서는 아니 된다.

- ① 전자 상거래의 활성화
- ② 정보통신망의 안정성 확보
- ③ 정보 통신 기술의 발달 촉진
- ④ 사이버공간에서의 사생활 보호
- ⑤ 디지털(digital) 정보 공유의 강화

18. 다음 사례에서 법원이 적용한 법원칙에 대한 설명으로 옳은 것은? [3점]

다른 거처가 없는 노환의 아버지 A가 자녀인 B 소유의 주택에 거주하고 있었다. 그런데 특별한 사정도 없이 B가 주택에 대한 소유권을 행사한다는 명목으로 A에 대하여 주택에서 퇴거할 것을 청구하였다. 이에 법원은 B의 청구는 부자간의 인륜을 파괴하는 행위로서 권리남용에 해당한다고 하여 B의 청구를 기각하였다.

- ① 신의성실의 원칙과는 관련이 없다.
- ② 권리 행사의 형식만 갖추면 법적으로 문제되지 않는다.
- ③ 이 원칙을 위반하더라도 권리 행사에 제약을 받지 않는다.
- ④ 상대방에게 피해를 줄 목적으로 권리를 행사해서는 안 된다.
- ⑤ 자기의 권리를 행사하는 자는 누구에게도 불법을 행하는 것이 아니다.

19. 다음은 공소시효제도의 폐지 여부에 대한 세 사람의 의견을 기술한 것이다. 각자의 의견이 근거하고 있는 법이념을 가장 바르게 연결한 것은? [3점]

- A : 오랜 시간이 경과한 후에 공소제기를 허용하면, 증거의 멸실(滅失) 등으로 인해 재판의 원활한 진행이 어려워지고, 재판과 관련된 인력과 예산의 낭비가 초래된다. 따라서 국가 자원의 낭비를 막고 국가 업무의 효율적 수행을 위해 이 제도는 유지되어야 한다.
- B : 범죄자는 마땅히 처벌을 받아야 하며, 시간의 경과로 처벌의 당위성이 약화되지는 않는다. 더욱이 도피나 은폐 등의 방법으로 시효기간을 무사히 넘겨 처벌을 회피하려는 현실을 고려하면 처벌의 필요성이 오히려 커진다. 따라서 이 제도는 폐지되어야 한다.
- C : 국가 형벌권이 장기간 행사되지 않아 범죄자가 정상적인 생활을 영위하고 있는 상태에서 공소제기가 이루어지면, 범죄자와 주변 사람들의 생활에 예측하지 못했던 혼란과 고통을 초래하게 된다. 따라서 평온한 사회 생활을 보장하기 위해 이 제도는 필요하다.

\* 공소시효제도 : 일정한 기간이 경과하면 범죄에 대해 공소를 제기할 수 없도록 하는 제도.

- |          |          |          |
|----------|----------|----------|
| <u>A</u> | <u>B</u> | <u>C</u> |
| ① 정의     | 합목적성     | 법적 안정성   |
| ② 정의     | 법적 안정성   | 합목적성     |
| ③ 합목적성   | 정의       | 법적 안정성   |
| ④ 합목적성   | 법적 안정성   | 정의       |
| ⑤ 법적 안정성 | 정의       | 합목적성     |

20. 다음은 한국소비자보호원의 법률 상담 내용을 대화체로 재구성한 것이다. 상담자의 응답 내용으로 가장 적합한 것은?

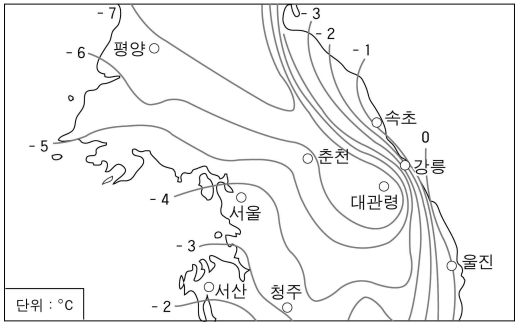
시 민 : ○○자격증 교재와 테이프를 외판 사원에게 구입했어요. 그런데 그 자격증이 별로 유망하지 않은 것 같아서 후회하고 있습니다. 포장지는 이미 뜯은 상태이구요. 어떻게 하면 좋아요?  
 상담자 : 언제 구입하셨나요?  
 시 민 : 3일 전예요.  
 상담자 : \_\_\_\_\_

- ①싼 값으로 다른 사람에게 넘기시죠.
- ② 판매업자에게 손해배상을 청구하세요.
- ③ 일단 포장지를 뜯은 이상 어쩔 수 없군요.
- ④ 판매업자를 사기죄로 수사 기관에 고소하세요.
- ⑤ 구입 철회 의사를 서면으로 밝히고 물건을 반품하세요.

\* 확인 사항  
 ○ 답안지의 해당란에 필요한 내용을 정확히 기입(표기)했는지 확인하시오.



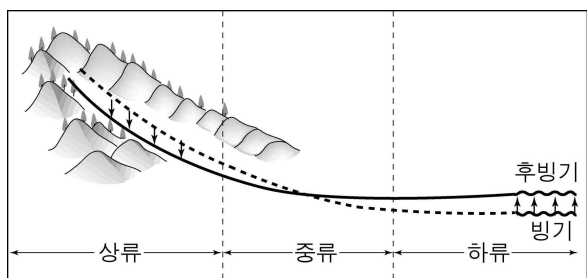
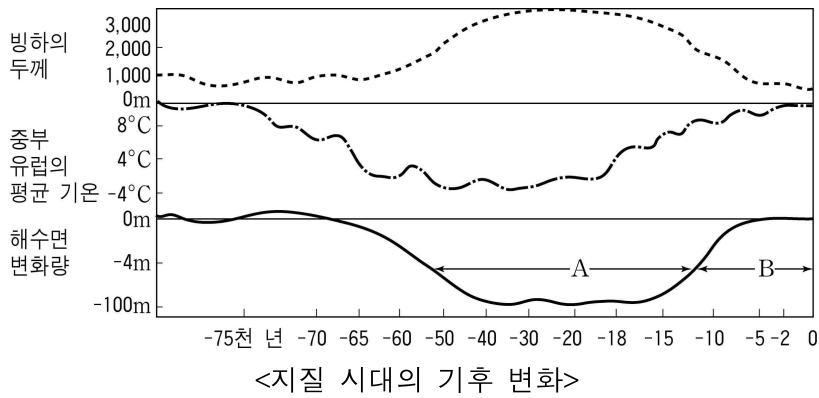
5. 지도는 1월 평균 기온 분포를 나타낸 것이다. 지도를 보고 설명한 내용으로 옳은 것을 <보기>에서 모두 고르면? [3점]



- <보기>
- ㉠. 서산은 속초보다 남쪽에 위치하여 기온이 높다.
  - ㉡. 속초와 울진 간의 기온 차가 작은 것은 바다의 영향 때문이다.
  - ㉢. 춘천과 강릉 간의 기온 차가 속초와 울진보다 큰 것은 위도의 영향 때문이다.
  - ㉣. 대관령과 강릉 간의 기온 차에 가장 큰 영향을 준 것은 해발 고도이다.

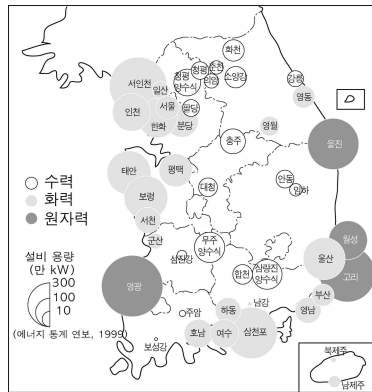
- ① ㉠, ㉡    ② ㉠, ㉢    ③ ㉡, ㉣    ④ ㉢, ㉣    ⑤ ㉣, ㉣

6. 지질 시대의 기후 변화에 관한 그림을 바탕으로 우리나라의 지형 변화를 설명한 내용으로 옳지 않은 것은? [3점]



- <우리 나라 하천 단면의 변화>
- ① A시기에 해안가에서는 석호가 형성된다.
  - ② A시기에 하천 하류에서는 침식 작용이 활발하다.
  - ③ A시기에 하천 상류에서는 식생이 줄어들고 유량이 감소한다.
  - ④ B시기에 육지 면적은 줄어든다.
  - ⑤ B시기에 하천 하류에서는 범람원이 형성된다.

7. 다음 글은 제시된 자료를 활용하여 지리 수업 시간에 이루어진 대화이다.



<발전 현황(1999년)>

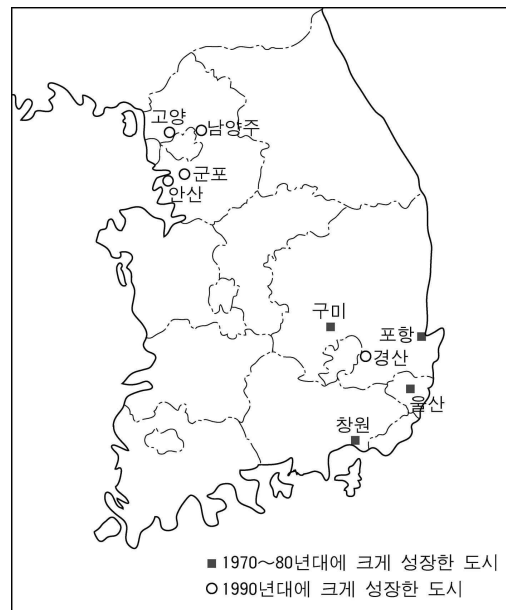
발전 방식	발전 설비 비율(%)	발전량 비율(%)
수력	6.7	2.5
화력	64.1	54.4
원자력	29.2	43.1

<발전소 분포>

교사 : 발전소로부터 전력의 주요 소비지가 가장 가까이 위치한 발전 방식은?  
 성목 : 화력 발전입니다.  
 교사 : 수력 발전소가 가장 많이 건설된 하천은?  
 민희 : 한강입니다.  
 교사 : 발전에 이용된 에너지 자원 가운데 고갈 에너지가 차지하는 비율은?  
 규진 : 90% 이상으로 매우 높습니다.  
 교사 : 수력이 발전 설비에 비해 발전량의 비율이 낮은 이유는?  
 성희 : 자연 조건의 영향을 많이 받기 때문입니다.  
 교사 : 발전소 가동률이 가장 높은 발전 방식은?  
 영호 : 화력 발전입니다.

교사의 질문에 대하여 잘못 답한 학생은? [3점]  
 ① 성목    ② 민희    ③ 규진    ④ 성희    ⑤ 영호

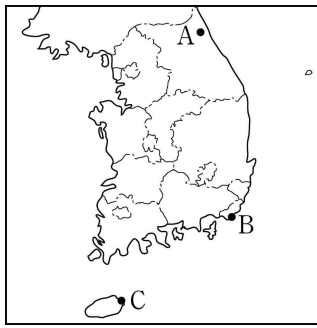
8. 지도에 표시된 두 가지 유형의 도시들이 성장한 원인을 탐구하고자 할 때, 조사 내용으로 적절한 것을 <보기>에서 모두 고르면? [3점]



- <보기>
- ㉠. 공업의 발달 과정
  - ㉡. 대도시권의 확대 과정
  - ㉢. 에너지 소비 구조의 변화
  - ㉣. 지방 자치 제도의 변화

- ① ㉠, ㉡    ② ㉠, ㉢    ③ ㉠, ㉣    ④ ㉢, ㉣    ⑤ ㉣, ㉣


9. 사진과 지도를 보고 설명한 내용으로 적절한 것을 <보기>에서 모두 고르면?



A: 강원도 설악산



B: 부산 태종대



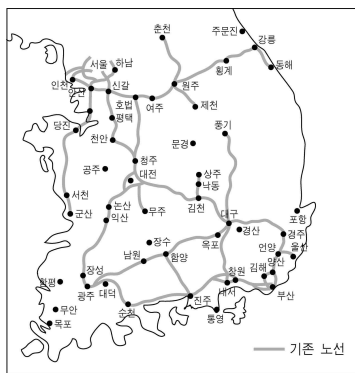
C: 제주도 성산 일출봉

<보 기>

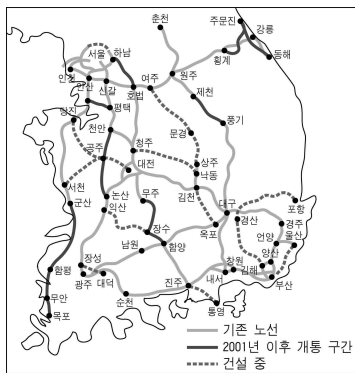
- ㄱ. 모두 자연 경관이 빼어나 관광 자원으로 활용되고 있다.
- ㄴ. 모두 화강암이 침식을 받아 형성된 지형이다.
- ㄷ. A, B 주변에서는 굴 재배가, C 주변에서는 벼농사가 활발하다.
- ㄹ. B에서는 해식애와 해식동굴, C에서는 분화구를 볼 수 있다.

- ① ㄱ, ㄴ    ② ㄱ, ㄷ    ③ ㄱ, ㄹ    ④ ㄴ, ㄷ    ⑤ ㄷ, ㄹ

10. 지도를 보고 2001년 이후 개통된 고속 국도로 인해 나타날 수 있는 변화를 추론한 내용으로 옳은 것을 <보기>에서 모두 고르면? [3점]



<2000년>



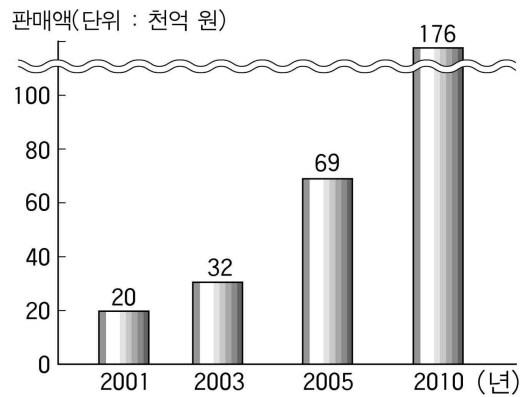
<2001년 이후>

<보 기>

- ㄱ. 경기도에서 서울로의 인구 집중이 심화될 것이다.
- ㄴ. 강원 남부 지역의 지하 자원 개발이 활기를 띠 것이다.
- ㄷ. 경북 북부와 강원 영서 지방의 교류가 활성화될 것이다.
- ㄹ. 황해안의 관광 명소에 수도권 관광객 수가 증가할 것이다.

- ① ㄱ, ㄴ    ② ㄱ, ㄷ    ③ ㄴ, ㄷ    ④ ㄴ, ㄹ    ⑤ ㄷ, ㄹ

11. 홈쇼핑 시장 규모의 변화와 전망을 나타낸 그래프를 보고 추론한 내용으로 타당한 것을 <보기>에서 모두 고르면?

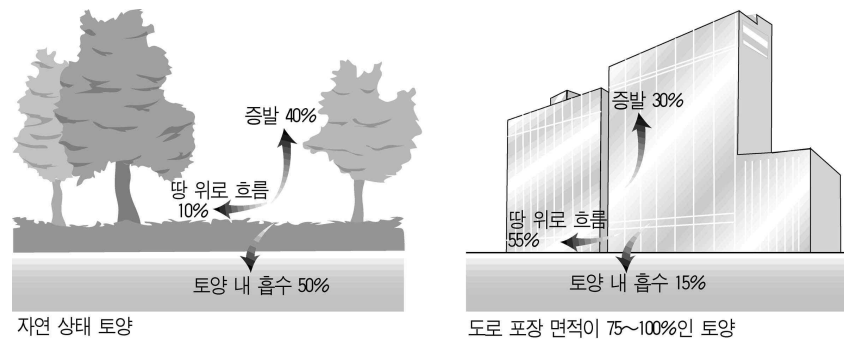


<보 기>

- ㄱ. 택배업이 발달한다.
- ㄴ. 상품의 유통 단계가 복잡해진다.
- ㄷ. 물류를 위한 창고 보관업이 활성화된다.
- ㄹ. 상품의 구매를 위한 이동 거리가 늘어난다.

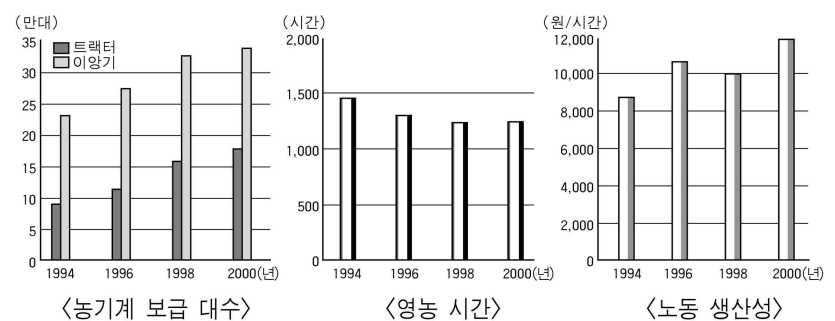
- ① ㄱ, ㄴ    ② ㄱ, ㄷ    ③ ㄱ, ㄹ    ④ ㄴ, ㄷ    ⑤ ㄷ, ㄹ

12. 그림은 강우시 빗물의 흐름을 나타낸 것이다. 이를 보고 도시의 홍수 피해를 줄이기 위해 수립한 대책으로 적절하지 않은 것은?



- ① 하수 종말 처리 시설을 확대한다.
- ② 제방을 보강하고 홍수 경보 체계를 수립한다.
- ③ 빗물이 빠르게 배수될 수 있도록 하수도망을 정비한다.
- ④ 대규모 지하 빗물 저장소나 지하 배수관로를 설치한다.
- ⑤ 빗물이 토양 속으로 스며들 수 있도록 도로의 포장 재질을 바꾼다.

13. 그림을 통해 우리 나라 농촌의 변화를 바르게 추론한 것은?



- ① 영농의 기계화로 농업 생산량이 감소하고 있다.
- ② 노령 인구의 증가로 노동 생산성이 감소하고 있다.
- ③ 농기계 보급의 확대로 전업 농가의 비율이 증가하고 있다.
- ④ 농촌 인구의 감소로 농기계에 대한 의존이 높아지고 있다.
- ⑤ 농촌 인구의 감소로 농민 1인당 영농 시간이 증가하고 있다.

14. 다음 글은 새만금 간척지 내 주민들의 생활 변화에 대해 지역 주민의 입장에서 역할 놀이 학습을 한 내용이다. 역할 담당자의 주장이나 입장을 바르게 추론한 것을 <보기>에서 모두 고르면? [3점]

영희(주민 1): 우리는 매일 갯벌에 나가 일해서 자식들을 키웠어요. 갯벌에서의 1년 벌이도 안되는 보상금으로 어디서 새 삶을 시작한다 말입니까?  
 영수(주민 2): 공사를 중단하면 그 동안 물막이 공사도 다 수포로 돌아가거든. 방조제 앞에 지금도 새로운 갯벌이 생겨 수 십년 후에는 괜찮을거야.  
 민영(주민 3): 농사를 지으려면 자기 땅이 있어야 하지만, 어촌계 소속인 우리들은 언제든지 갯벌에서 수산물을 채취할 수 있어.  
 장현(주민 4): 간척 사업이 완공되면 많은 혜택을 볼 수 있어. 땅도 소유할 수 있고 새로운 수입원도 생길거야.

<보 기>  
 가. 영희-간척 사업으로 어민들의 소득원이 사라진다.  
 나. 영수-간척 사업은 수질을 악화시킨다.  
 다. 민영-간척 사업은 어민들의 소득을 증대시킨다.  
 라. 장현-간척 사업은 국토 면적을 확장시킨다.

- ① 가, 나    ② 가, 라    ③ 나, 다    ④ 나, 라    ⑤ 다, 라

15. 자료는 남북한의 철도 연결로 전개될 유라시아 대륙 광역 철도망과 운송비 변화를 나타낸 것이다. 이러한 교통로의 연결로 예상되는 파급 효과가 아닌 것은? [3점]

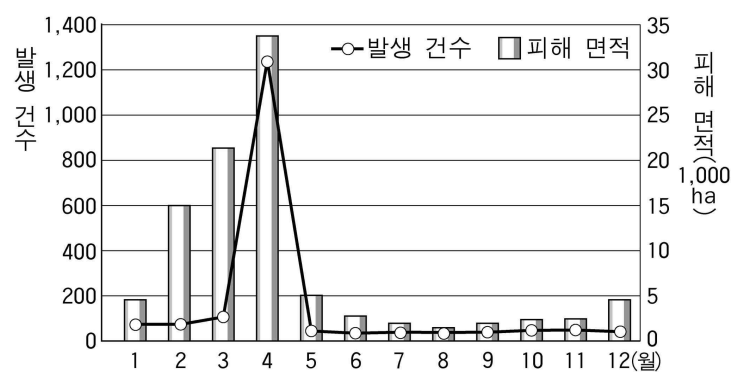


<서울-런던 간 화물 운송>

운송 수단	현행 해상 운송	현행 복합 운송 (선박+철도)	경의선-대륙 철도 운송
소요 일수	33	28	28
운송비*(달러)	2,505	2,050	1,010

- \*운송비는 국제 규격 컨테이너 1개 당 비용을 의미함
- 남북한 경제 교류의 확대에 의한 긴장 완화
  - 대 유럽 교역량 증대에 따른 무역 시장의 다변화
  - 유럽과의 교역 확대에 의한 중국 및 미국과의 무역량 감소
  - 유럽까지 소요 일수 단축으로 인한 물류 비용의 획기적 감소
  - 시베리아 자원 개발과 투자 증대로 인한 자원의 안정적 확보

16. 우리 나라의 산불 발생 현황을 나타낸 그래프를 보고 4월에 산불이 많이 일어나는 이유를 바르게 설명한 것은?



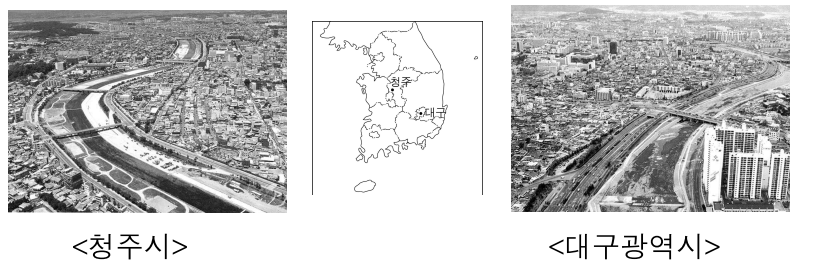
- 꽃샘 추위에 따른 기온의 하강
- 기온 역전에 따른 안개의 발생
- 이동성 저기압과 고기압의 빈번한 통과
- 겨울부터 계속된 가뭄에 따른 건조 현상
- 시베리아 기단의 강약에 따른 삼한 사온 현상

17. 표는 경기도 ○○시의 제조업과 서비스 산업의 변화와 관련하여 수업 시간에 선생님께서 나눠준 자료의 일부이다. 이를 바탕으로 설정한 탐구 내용으로 타당하지 않은 것은? [3점]

산업 분류	1995년		2000년	
	종사자수(명)	구성비(%)	종사자수(명)	구성비(%)
제조업 전체	71,310	100	52,142	100
컴퓨터 사무용 기기	775	1.1	1,397	2.7
전자, 영상, 음향, 통신	20,980	29.4	26,808	51.4
:	:	:	:	:
서비스 산업 전체	163,862	100	187,495	100
음식, 숙박	22,234	13.6	28,115	15.0
금융, 보험	11,065	6.8	11,952	6.4
:	:	:	:	:

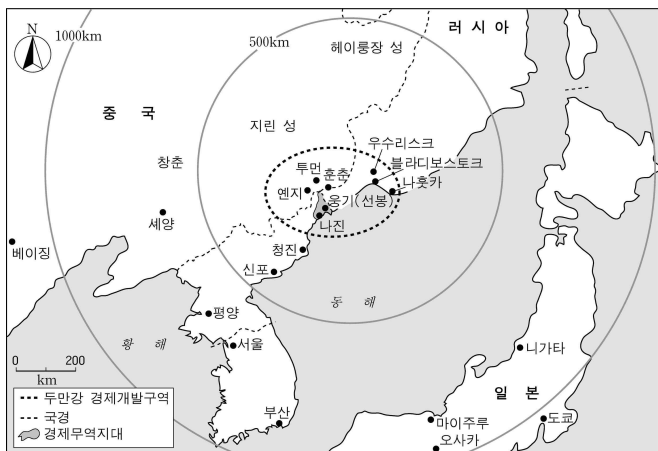
- 제조업 종사자 수는 왜 감소하고 있을까?
- 서비스 산업 종사자 수는 왜 증가하고 있을까?
- 생산자 서비스업의 비율이 왜 증가하고 있을까?
- 컴퓨터, 사무용 기기 산업의 비율이 왜 높아지고 있을까?
- 전자, 영상, 음향, 통신 산업의 비율이 왜 높아지고 있을까?

18. 사진과 지도를 보고 알 수 있는 두 도시의 특징으로 옳지 않은 것은? [3점]



- 침식 분지 상에 발달하였다.
- 내륙에 위치한 전통적인 도시이다.
- 수송 적환지로서 중화학 공업이 발달한 곳이다.
- 하천 주변은 집중 호우시 홍수 피해가 우려된다.
- 하천의 수질을 개선하기 위해 주민들의 노력이 필요하다.

19. 북한의 개방 지역인 나진-웅기(선봉) 경제 무역 지대의 그림과 지도를 보고 분석한 내용으로 옳은 것을 <보기>에서 모두 고르면?



<보 기>

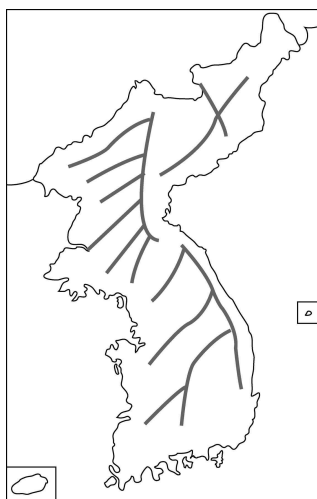
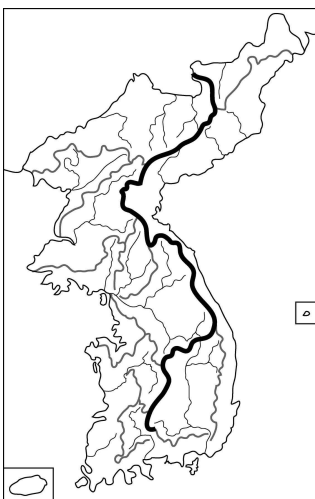
- ㄱ. 동북 아시아의 국제 화물 중계 기지 역할을 할 것이다.
- ㄴ. 중국, 러시아와 생산 요소 교환 및 시장 연계가 가능하다.
- ㄷ. 북한의 곡창 지대로 넓은 평야가 분포하여 농산물 생산이 많다.
- ㄹ. 오희츠크 해 기단과 한류의 영향으로 겨울 기온이 내륙보다 낮다.

- ① ㄱ, ㄴ    ② ㄱ, ㄷ    ③ ㄱ, ㄹ    ④ ㄴ, ㄷ    ⑤ ㄷ, ㄹ

20. 다음 지도를 이용하여 <보기>의 내용을 탐구하려고 한다. 어느 지도를 이용하는 것이 적절한지 올바르게 묶은 것은?

A. 산경도

B. 산맥도



<보 기>

- ㄱ. 풍수 개념                      ㄴ. 지형 발달 과정
- ㄷ. 지질 시대의 지각 변동    ㄹ. 조상들의 산줄기 인식 체계

- |        |      |        |      |
|--------|------|--------|------|
| A      | B    | A      | B    |
| ① ㄱ, ㄴ | ㄷ, ㄹ | ② ㄱ, ㄹ | ㄷ, ㄷ |
| ③ ㄴ, ㄷ | ㄱ, ㄹ | ④ ㄱ, ㄷ | ㄴ, ㄹ |
| ⑤ ㄷ, ㄹ | ㄱ, ㄴ |        |      |

\* 확인 사항

○ 답안지의 해당란에 필요한 내용을 정확히 기입(표기)했는지 확인 하시오.

제 4 교시

사회 탐구 영역 (경제지리)

성명

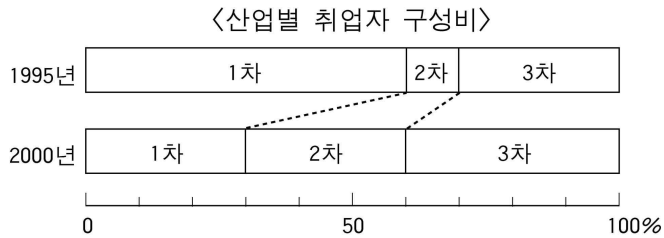
수험 번호

- 먼저 수험생이 선택한 과목의 문제지인지 확인하시오.
- 선택 과목은 반드시 응시 원서 작성시 자신이 선택한 과목의 문제를 풀어야 합니다.
- 문제지에 성명과 수험 번호를 정확히 기입하시오.
- 답안지에 수험 번호, 선택 과목, 답을 표기할 때는 반드시 '수험생이 지켜야 할 일' 에 따라 표기하시오.
- 문항에 따라 배점이 다르니, 각 물음의 끝에 표시된 배점을 참고하시오. 3점 문항에만 점수가 표시되어 있습니다. 점수 표시가 없는 문항은 모두 2점입니다.

3. 농업의 변화에 대한 뉴스 보도이다. 이 보도에서 기자가 준비한 화면으로 가장 타당한 것은? [3점]

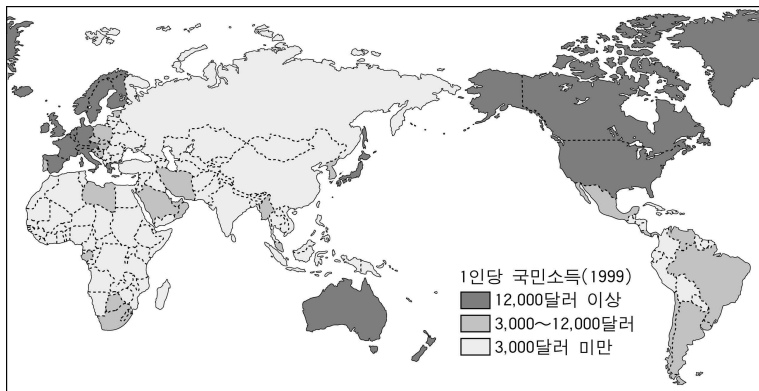
앵커: 요즘 쌀 소비량이 줄어들고 있죠?  
 기자: 예 그렇습니다. 요즘 사람들은 밥 대신 빵과 육류를 많이 먹고 있습니다. 이 때문에 쌀은 소비가 감소하여 남아도는 반면 밀은 소비가 증가하여 수입량이 늘어나고 있습니다. 또한 육류의 소비 증가와 함께 채소류의 생산량과 소비량도 크게 증가하고 있습니다. 이에 따라 우리 농업에도 많은 변화가 나타나고 있습니다.  
 기자: 준비한 화면을 보면서 설명하도록 하겠습니다.

1. 1995년 취업자 수가 1,000명인 농촌 지역에 300명을 고용하는 공장이 건설되어 1996년부터 가동을 시작했다. 다음과 같은 산업 구조의 변화를 통해 추론할 수 있는 이 지역의 사회·경제적 변화가 아닌 것은? [3점]



- ① 지가와 상가 임대료가 하락하였다.
- ② 농업 부문 취업자의 비율이 감소하였다.
- ③ 음식점 등 서비스 업체들이 증가하였다.
- ④ 외지의 인구가 유입되어 인구가 증가하였다.
- ⑤ 공장의 입지로 인하여 환경 문제가 발생하였다.

2. 다음은 1인당 국민 소득을 나타낸 지도이다. ■ 표시된 국가들의 공통적인 특색으로 옳은 것은?



- ① 문맹률이 높다.
- ② 도시 인구율이 낮다.
- ③ 2, 3차 산업의 인구 비율이 낮다.
- ④ 관광과 여가 활동에 대한 지출이 많다.
- ⑤ 부가 가치가 높은 제품의 수출이 적다.

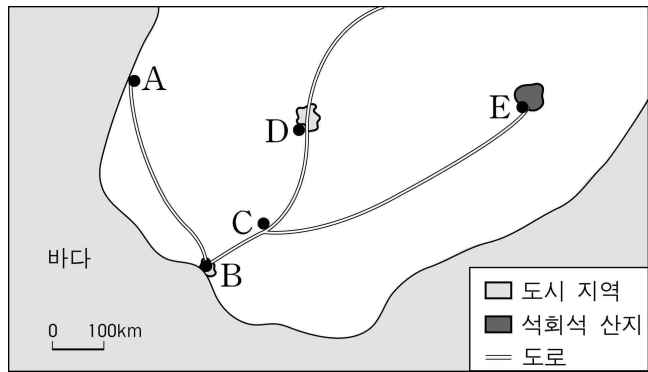
4. 자료와 관련된 공업의 입지 조건을 잘못 이해한 학생은? [3점]

(가) 그녀는 평화시장 3층의 어둡침침한 복도를 지나 숨이 턱턱 막히는 먼지 구덩이의 작업장으로 빨리 들어갔다. 작업장은 약 8평 정도. ... (중략) ... 재단판과 열 너댓대 되는 재봉대와 거기에 맞붙은 시다판들이 가뜩이나 비좁은 방안에 꽉 들어차고 그 틈서리 틈서리에 핏기 잃은 창백한 얼굴의 종업원 32명이 끼어 앉아 일한다.  
 -조영래, 전대일 평전-

(나) 이 공장은 연간 1억 달러 상당의 전자 정밀 기기를 생산하고 있다. 여기에는 1천 5백 명의 종업원이 고용되어 있는데, 그 중 40퍼센트가 기사, 프로그래머, 기술자, 사무직과 관리 요원이다.  
 -앨빈 토플러, 제 3의 물결-

- ① 갑 : (가) 유형의 공장은 저렴한 노동력이 중요해.
- ② 을 : (가) 유형의 공장은 소비 시장과의 접근성이 중요해.
- ③ 병 : (나) 유형의 공장은 연구 개발 부문이 중요해.
- ④ 정 : (나) 유형의 공장은 쾌적한 주거 환경이 중요해.
- ⑤ 무 : (나) 유형의 공장은 도심에 입지하는 것이 중요해.

[5~6] 가상 국가의 지도를 보고 물음에 답하시오.

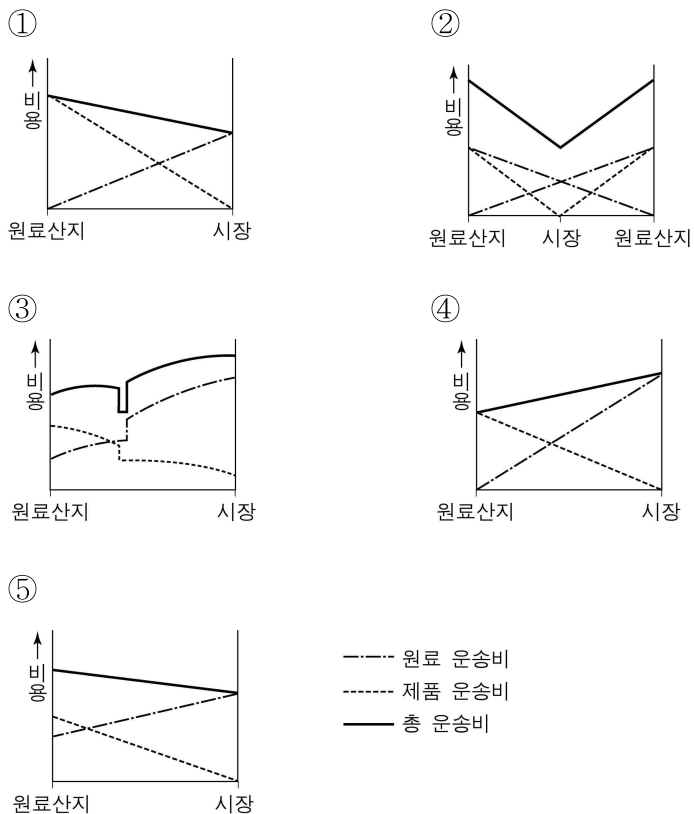


5. 다음 <조건>에 따를 때 시멘트 공장과 가구 공장의 최적 입지를 A~E 중에서 골라 바르게 연결한 것은?

- <보 기>
- 공장의 최적 입지는 최소 운송비 지점으로 한다.
  - 도시 인구의 증가로 주택 건설에 필요한 시멘트 수요가 급증하였다.
  - 목재를 외국에서 선박으로 수입하고, 제작한 가구를 국내에 판매한다.

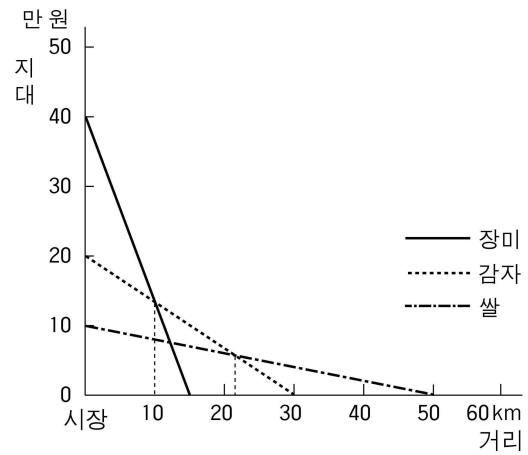
시멘트 공장	가구 공장
① A	B
② B	C
③ B	D
④ E	C
⑤ E	D

6. 시멘트 공장의 최적 입지를 가장 잘 설명하는 운송비 그래프는? [3점]



7. 농업 입지를 수업하면서 교사와 학생이 나눈 대화이다. 입지 지대의 개념을 잘못 이해하고 있는 학생은? [3점]

교사: 지역에 따라 재배하는 농작물이 달라지는 이유를 다음 그림을 통해 알아보시다.



\* 입지 지대 = 시장 가격 - 생산비 - 운송비

교사: 왜 시장으로부터 멀어질수록 지대가 감소할까요?

갑: 운송비가 증가하기 때문입니다.

교사: 지역마다 다른 농작물을 재배하는 이유는 무엇일까요?

을: 소득이 가장 많은 농작물을 선택하기 때문입니다.

교사: 시장으로부터 가장 가까운 지역에서 재배되는 농작물은 무엇일까요?

병: 장미입니다.

교사: 시장으로부터 30km 떨어진 지역에 사는 농부는 어떤 농작물을 재배하는 것이 유리할까요?

정: 감자입니다.

교사: 재배되는 구간이 가장 넓은 농작물은 무엇일까요?

무: 쌀입니다.

- ① 갑      ② 을      ③ 병      ④ 정      ⑤ 무

8. 도심 지역에 입지한 인쇄 관련 공업을 조사하면서 인터뷰한 내용이다. 밑줄 친 부분에 들어갈 내용으로 적절하지 않은 것은?

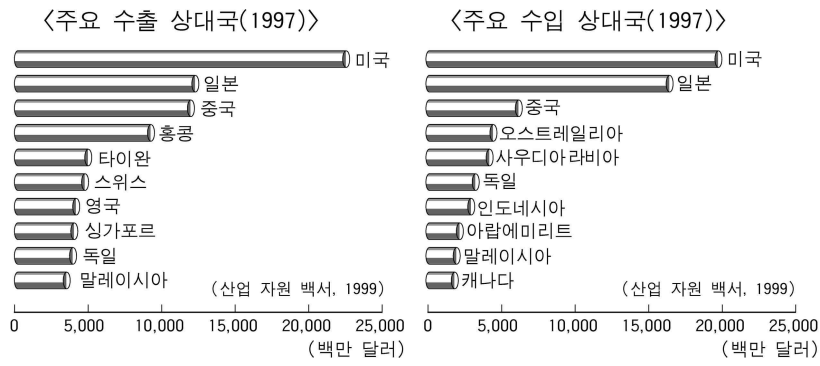
학생: 이 곳에는 좁은 지역에 규모가 작은 인쇄소들이 많이 모여 있네요. 인쇄물을 디자인하는 업체, 인쇄하는 업체, 제본하는 업체들이 밀집되어 있어요.

그런데 도심과 가까운 이 곳은 지가가 비싸 인쇄소가 입지하는 데 적합하지 않을 것 같아요. 사장님께서 왜 이 곳에서 인쇄소를 운영하고 계시나요?

인쇄소 사장: 제가 이 곳에서 인쇄소를 운영하고 있는 이유는

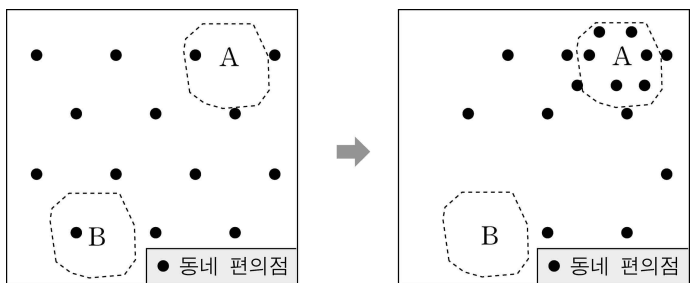
- ① 관공서나 회사가 많아 일감을 얻기 쉽기 때문입니다.
- ② 젊고 숙련된 노동력을 쉽게 구할 수 있기 때문입니다.
- ③ 교통이 편리하여 소비자와 접촉하기 쉽기 때문입니다.
- ④ 관련된 업종이 모여 있어 도움을 받을 수 있기 때문입니다.
- ⑤ 제지 공장과 가까워 종이를 값싸게 구할 수 있기 때문입니다.

9. 우리 나라의 무역과 관련된 자료를 분석한 내용으로 옳은 것은?



- ① 일본과의 무역액이 가장 많다.
- ② 서남 아시아 지역으로의 수출액이 많다.
- ③ 개발 도상 국가와의 무역액이 가장 많다.
- ④ 수입 상대국 대부분이 유럽 연합(EU) 국가이다.
- ⑤ 중국과는 무역 흑자이고 일본과는 무역 적자이다.

10. 그림은 가상 지역의 동네 편의점 분포 변화이다. 변화의 원인을 추론한 내용으로 가장 타당한 것은? [3점]



- ① A 지역에 편의점으로 물품을 공급하는 물류 센터가 들어섰다.
- ② A 지역에 대규모의 아파트 단지가 조성되어 인구 밀도가 높아졌다.
- ③ A 지역 주민들이 자동차로 다른 지역의 편의점을 많이 이용하게 되었다.
- ④ B 지역에 지하철 역이 만들어져 주민 이동이 편리해졌다.
- ⑤ B 지역 주민의 소득이 A 지역보다 높아졌다.

11. 그림 (라)의 밑줄 친 부분에 적합한 내용을 <보기>에서 모두 고른 것은?

(가) 컴퓨터와 정보 통신이 발달하면서

(나) 산업 사회는 정보화 사회로 변천하게 된다.

이 자료가 런던에 있나, 목포에 있나...  
정보의 고속도로 이용하면 세계 각지의 정보를...

(다) 정보와 사회는 농업, 산업 사회와 무엇이 다를까요?

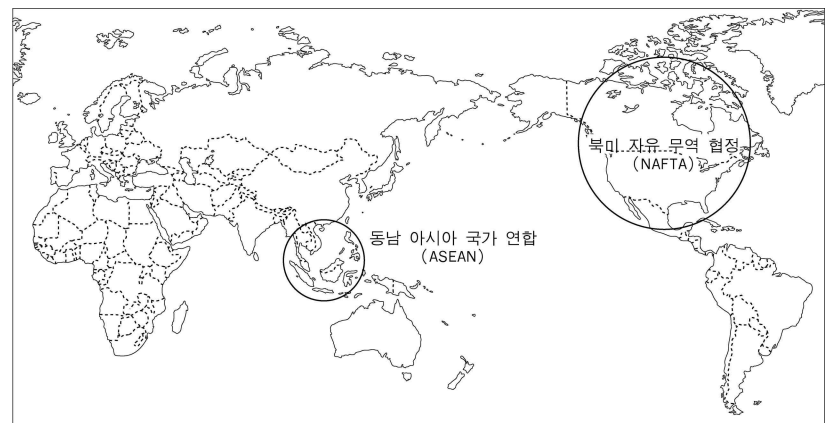
(라) 정보화 사회에서는

<보 기>

- ㄱ. 직장 근처로 거주지를 이동하는 사례가 증가합니다.
- ㄴ. 경제 활동에서 정보와 지식이 더욱 중요해집니다.
- ㄷ. 세계 각 지역의 문화가 빠르게 전파됩니다.
- ㄹ. 시간 거리보다 공간 거리가 중요해집니다.
- ㅁ. 전자 상거래가 활발해집니다.

- ① ㄱ, ㄴ, ㄷ
- ② ㄱ, ㄷ, ㄹ
- ③ ㄱ, ㄹ, ㅁ
- ④ ㄴ, ㄷ, ㅁ
- ⑤ ㄴ, ㄹ, ㅁ

12. 지도에 표시된 경제 협력 기구가 결성된 공통적인 배경으로 가장 적합한 것은?



- ① 동일한 민족
- ② 지리적 인접성
- ③ 단일 화폐 사용
- ④ 동일한 산업 구조
- ⑤ 석유 자원의 공동 개발과 판매

[13~14] 다음 글을 읽고 물음에 답하시오.

오후 6시가 되자 ○○동의 대형 할인 매장 1층 계산대 앞에는 사람들이 길게 늘어서 있다. 지하 7층으로 된 주차장은 지하 6층까지 꽉 차 있고, 인접한 도로에는 많은 차들이 불법 주차되어 있다. 이 매장 주위에는 15층 짜리 주상 복합 아파트가 지어지고 있으며, 조그마한 음식점들이 들어서 있던 건물은 고층 오피스텔로 변신 중이다. 곳곳엔 대형 음식점들이 자리잡고 있다.

이 대형 할인 매장 근처에 위치한 재래 시장은 인적이 드물다. 야채 가게 주인은 “하루에 하나도 못 팔 때가 있죠. 월 25만원인 임대료를 내기도 빠듯해요”라고 하소연했다. 인근 다른 시장도 사정은 마찬가지다.

-○○신문, 2003. 3. 6.-

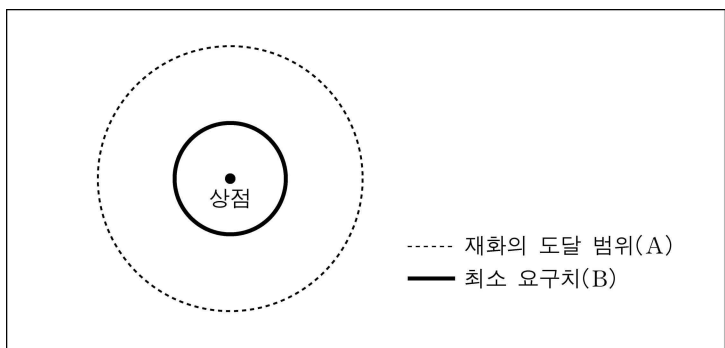
13. 대형 할인 매장의 입지로 인한 지역 변화 내용으로 타당한 것을 <보기>에서 모두 고른 것은? [3점]

<보 기>

ㄱ. 주변 지역의 지가가 상승한다.  
 ㄴ. 인근 재래 시장의 수가 증가한다.  
 ㄷ. 주변 지역의 차량 소통이 원활해진다.  
 ㄹ. 매장 주위에서는 저층 건물을 고층 건물로 바꾸려는 재건축이 많아진다.

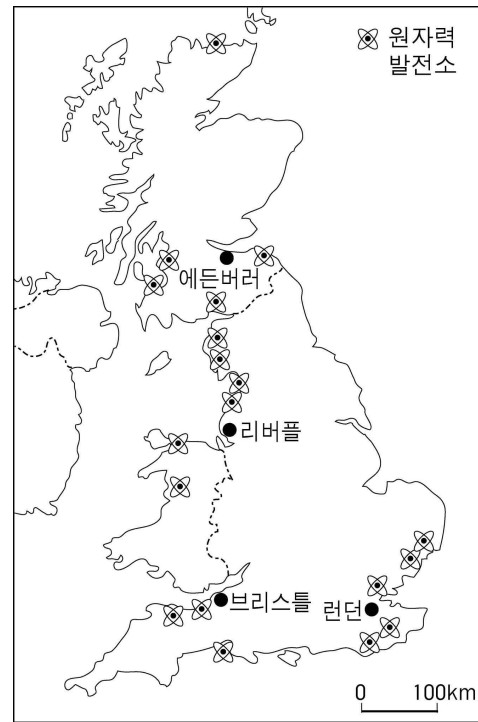
- ① ㄱ, ㄴ    ② ㄱ, ㄹ    ③ ㄴ, ㄷ    ④ ㄴ, ㄹ    ⑤ ㄷ, ㄹ

14. 그림은 어떤 상점의 최소 요구치와 재화의 도달 범위이다. 위 글의 대형 할인 매장과 야채 가게의 특징을 아래 그림을 이용하여 설명한 것으로 옳지 않은 것은? [3점]



- ① A는 대형 할인 매장이 야채 가게보다 크다.
- ② B는 대형 할인 매장이 야채 가게보다 크다.
- ③ 야채 가게는 B가 A보다 더 커야 이윤을 남길 수 있다.
- ④ 대형 할인 매장은 A가 B보다 더 커야 이윤을 남길 수 있다.
- ⑤ 자동차의 보급이 증가하면서 대형 할인 매장의 A는 확대되고 있다.

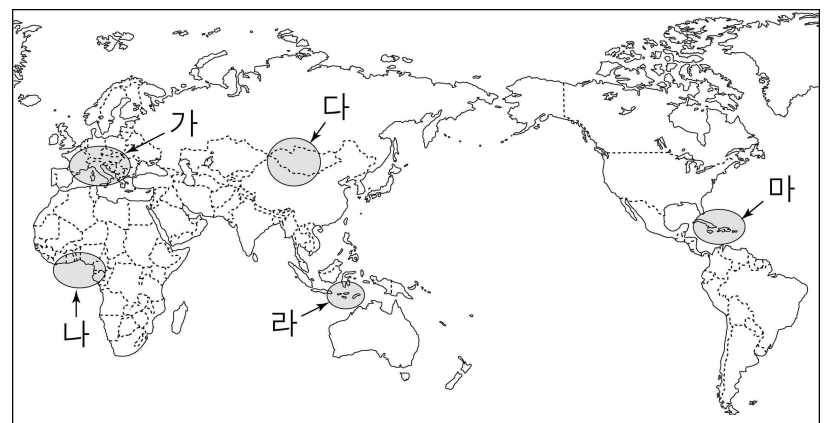
15. 영국의 원자력 발전소 분포를 통해 파악할 수 있는 원자력 발전소의 입지 요인으로 가장 타당한 것은?



- ① 관광지와의 인접성                      ② 대도시와의 인접성
- ③ 용수 이용의 편리성                    ④ 도로 교통의 편리성
- ⑤ 철광석 산지와의 인접성

16. 글에 나타난 유형의 관광을 모두 즐기기에 가장 적합한 지역은?

여가 활동이 활발해지면서 전원에서 농촌 생활을 체험하는 녹색 관광(green tourism), 푸른 바다가 있는 해안에서 이루어지는 청색 관광(blue tourism), 눈 덮인 산악 지대에서 행해지는 백색 관광(white tourism) 등 다양한 형태의 관광에 대한 관심이 높아지고 있다.



- ① 가                      ② 나                      ③ 다
- ④ 라                      ⑤ 마

17. 지속 가능한 개발의 개념을 설명한 글이다. <보기>에서 경제 활동과 지속 가능한 개발의 예를 바르게 연결한 것은? [3점]

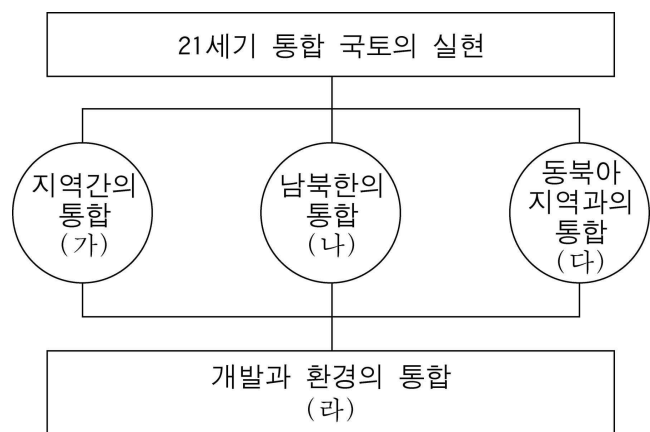
지속 가능한 개발이란 상호 갈등 관계에 있는 환경과 개발을 조화시켜서 환경을 파괴하지 않으면서 개발하자는 개념이다. 세계 환경 개발 위원회는 이 개념을 '미래 세대가 그들의 필요를 충족시킬 수 있는 가능성을 손상시키지 않으면서 현 세대의 필요를 충족시키는 개발'로 정의하고 있다.

<보 기>

- ㄱ. 펄프 산업-꼭 필요한 만큼의 나무를 베어 사용하고, 베어낸 자리에는 다시 나무를 심어 가꾼다.
- ㄴ. 자동차 산업-좀더 빠른 속도를 낼 수 있고 고객들의 기호에 맞는 기능을 채용한 대형 승용차를 주로 개발한다.
- ㄷ. 주택 건설 산업-경치와 전망이 좋은 곳에 대단위 아파트 단지를 건설하고, 주민들을 위한 각종 편의 시설을 마련한다.
- ㄹ. 관광 산업-관광지에 입장하는 관광객 수를 제한하고, 관광 자원의 보전을 위한 환경 교육과 관광지의 홍보를 병행한다.

- ① ㄱ, ㄴ    ② ㄱ, ㄷ    ③ ㄱ, ㄹ    ④ ㄴ, ㄷ    ⑤ ㄴ, ㄹ

18. 제 4차 국토 종합 계획의 기초를 나타낸 도표이다. (가)~(라) 항목과 관련된 지역 개발 내용이 바르게 연결된 것을 <보기>에서 모두 고른 것은?

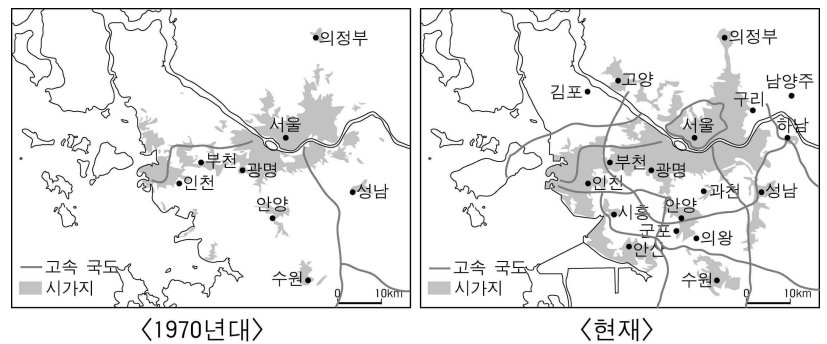


<보 기>

- ㄱ. (가)-고속 국도망의 확대
- ㄴ. (나)-경의선 철도의 복원
- ㄷ. (다)-지역별 특화 산업의 육성
- ㄹ. (라)-간척 사업의 확대

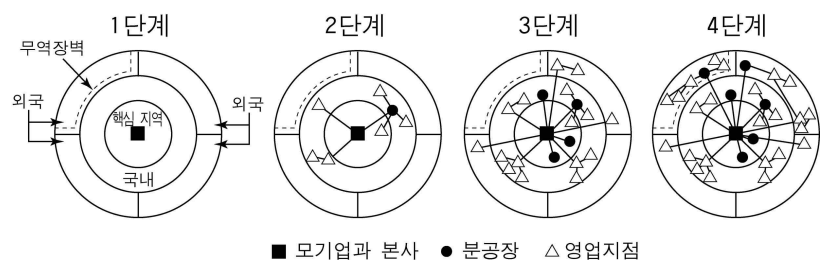
- ① ㄱ, ㄴ    ② ㄱ, ㄷ    ③ ㄱ, ㄹ    ④ ㄴ, ㄷ    ⑤ ㄴ, ㄹ

19. 수도권 지역의 고속 국도망 발달을 나타낸 지도이다. 이로 인하여 수도권에 나타난 변화가 아닌 것은?



- ① 고속 국도의 인근 지역은 접근성이 높아져 지가가 상승하였다.
- ② 1970년대부터 지금까지 서울로의 인구 집중이 계속 심화되었다.
- ③ 서울에 있던 공장들이 교외 지역으로 이전하는 현상이 나타났다.
- ④ 수도권에 많은 아파트가 건설되었고, 서울의 통근권이 확대되었다.
- ⑤ 서울과 주변의 위성 도시들이 통합되어 광역 대도시권을 형성하였다.

20. 그림은 다국적 기업의 공간적 성장 과정을 단계적으로 보여 주고 있다. 이에 대한 설명으로 바르게 설명된 것을 <보기>에서 모두 고른 것은? [3점]



<보 기>

- ㄱ. 1단계에서는 단일 공장 기업이 핵심 지역에 위치하고, 시장은 핵심 지역에 한정된다.
- ㄴ. 2단계에서는 시장 수요가 커지면서 기업의 분공장과 영업 지점이 외국으로 침투한다.
- ㄷ. 3단계에서는 해외의 시장 개척을 위해 무역 장벽이 있는 국가에 분공장이 설치된다.
- ㄹ. 4단계에서는 외국의 여러 국가에 분공장과 영업 지점을 세워 기업 조직의 세계화가 이루어진다.

- ① ㄱ, ㄴ    ② ㄱ, ㄷ    ③ ㄱ, ㄹ    ④ ㄴ, ㄷ    ⑤ ㄴ, ㄹ

\* 확인 사항  
○ 답안지의 해당란에 필요한 내용을 정확히 기입(표기)했는지 확인 하시오.

제 4 교시

사회 탐구 영역 (세계지리)

성명

수험 번호

- 먼저 수험생이 선택한 과목의 문제지인지 확인하십시오.
- 선택 과목은 반드시 응시 원서 작성시 자신이 선택한 과목의 문제를 풀어야 합니다.
- 문제지에 성명과 수험 번호를 정확히 기입하십시오.
- 답안지에 수험 번호, 선택 과목, 답을 표기할 때는 반드시 '수험생이 지켜야 할 일'에 따라 표기하십시오.
- 문항에 따라 배점이 다르니, 각 물음의 끝에 표시된 배점을 참고하십시오. 3점 문항에만 점수가 표시되어 있습니다. 점수 표시가 없는 문항은 모두 2점입니다.

1. 지리적 개념을 만화로 나타낸 것이다. 바르게 표현되지 않은 것은?

① 위치



② 인간과 환경의 관계



③ 분포과



④ 지역성



⑤ 장소과

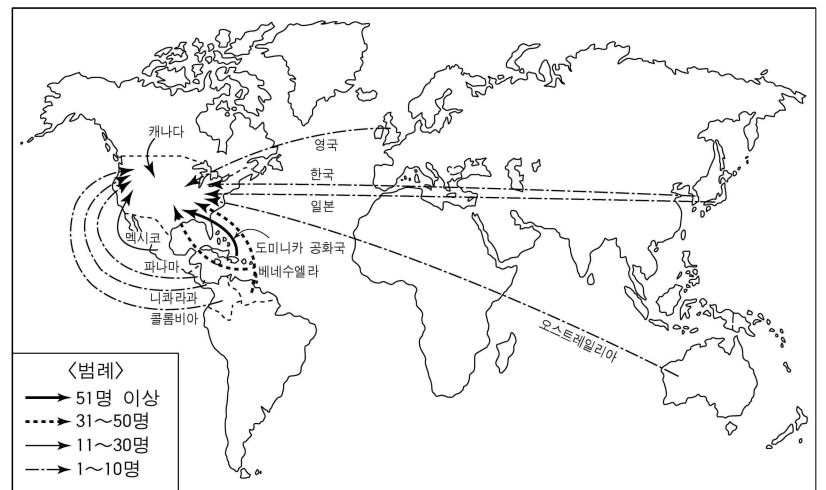


2. 자료에서 공통적으로 추론할 수 있는 것으로, 중국이 당면한 가장 심각한 문제는? [3점]

○ 내륙의 농촌에 거주하고 있는 청·장년층은 가족의 생계를 위하여 일자리가 많은 해안의 도시로 이동한다. 현재 이들의 수는 적어도 수천만 명으로 추산된다.  
○ 10여 년에 걸쳐 어려운 공사를 벌여온 세계 최대의 댐인 황토색 물이 차오르기 시작했다. 댐은 전력 생산과 수운 기능의 향상을 통해 내륙 지역을 개발하기 위해 건설되었다.

- ① 심각한 오염 문제
- ② 지하 자원의 고갈
- ③ 소수 민족 간의 갈등
- ④ 지역 간의 불균형 발전
- ⑤ 공업 노동력의 수요 감소

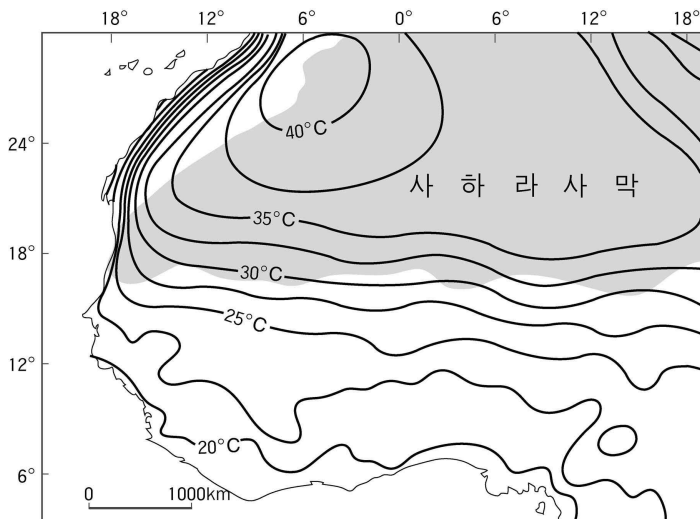
3. 세계 각 국에서 미국 메이저리그로 이동한 야구 선수들의 수를 나타낸 지도이다. 이동한 이유를 <보기>에서 모두 고르면? [3점]



<보 기>  
 ㄱ. 세계 경제의 블록화      ㄴ. 미국 여가 문화의 발달  
 ㄷ. 스포츠 시장의 세계화    ㄹ. 스포츠의 상품화

- ① ㄱ, ㄴ                      ② ㄴ, ㄷ                      ③ ㄴ, ㄹ
- ④ ㄱ, ㄷ, ㄹ                ⑤ ㄴ, ㄷ, ㄹ

4. 서아프리카의 7월 일최고 기온 분포에 대한 설명으로 옳바른 것을 <보기>에서 모두 고르면? [3점]



<보 기>

- ㄱ. 사하라 사막 남쪽에서 등온선이 대체로 위도와 평행하게 나타난다.
- ㄴ. 가장 기온이 높은 곳은 사하라 사막의 중앙에서 동쪽으로 치우쳐 있다.
- ㄷ. 북서부 해안에서는 한류의 영향으로 해안의 기온이 낮아 등온선이 매우 조밀하다.
- ㄹ. 사하라 사막 남쪽에서는 남으로 갈수록 강수량이 증가하기 때문에 기온이 점차 높아진다.

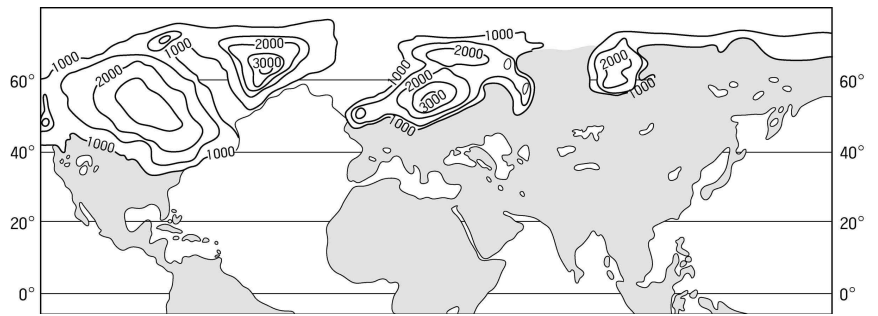
- ① ㄱ, ㄴ    ② ㄱ, ㄷ    ③ ㄴ, ㄷ    ④ ㄴ, ㄹ    ⑤ ㄷ, ㄹ

5. 여행 안내서에 소개된 ‘이 국가’에 대한 설명으로 옳은 것은?

이 국가는 침엽수림이 넓게 펼쳐져 있고, 시베리아를 횡단하는 기차를 타고 밤낮을 쉬지 않고 달려도 1주일 가량 걸리는 광활한 영토를 갖고 있다. 나폴레옹은 이 국가를 정복하기 위해서 1812년 겨울에 군대를 이끌고 진군하였다. 그러나 나폴레옹 군대는 그 해 겨울 북극에서 불어오는 강한 눈보라인 블리자드를 만나서 정복에 실패하였다. 그 해 이 국가는 나폴레옹의 침략으로부터 자국을 보호할 수 있었다. 이 같은 역사적인 사건을 기념하기 위해 차이코프스키는 <1812년 서곡>을 작곡하였다.

- ① 국토의 대부분이 비옥한 농토이다.
- ② 인구가 전 국토에 균등하게 분포한다.
- ③ 자원이 부족하여 공업이 발달하지 못했다.
- ④ 단일한 민족과 언어 집단으로 구성되어 있다.
- ⑤ 사회주의 붕괴 이후 커다란 변화를 겪고 있다.

[6~7] 지도는 빙하기 때의 해안선과 빙하의 높이를 개략적으로 그린 것이다. 물음에 답하시오.




6. 유라시아 대륙의 서북부, 북아메리카 대륙의 북부, 그린란드에 빙하가 크게 발달했던 이유를 탐구하고자 할 때 가장 적절한 조사 내용을 <보기>에서 모두 고르면? [3점]

<보 기>

- ㄱ. 빙하기 때의 해수면 고도의 변화
- ㄴ. 빙하기 때의 강수량 분포
- ㄷ. 빙하기 때의 식생 분포
- ㄹ. 빙하기 때의 기온 분포

- ① ㄱ, ㄴ    ② ㄱ, ㄷ    ③ ㄱ, ㄹ    ④ ㄴ, ㄷ    ⑤ ㄴ, ㄹ

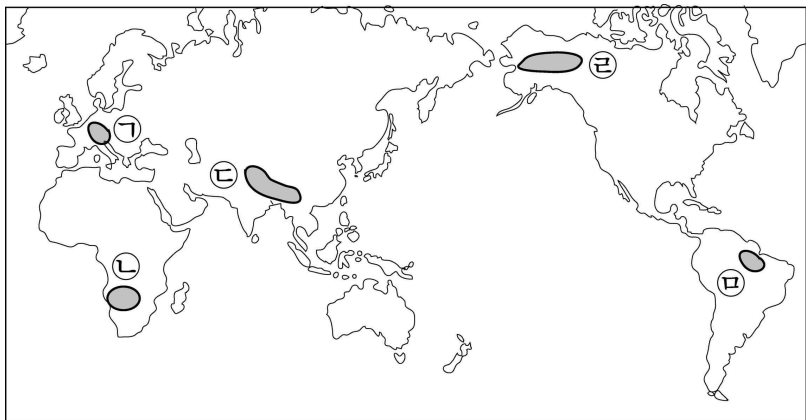
7. 빙하에 의해 형성된 지형은?



8. 어떤 영화의 포스터와 줄거리이다. 이 영화와 관계 있는 지역을 아래의 지도에서 고르면?

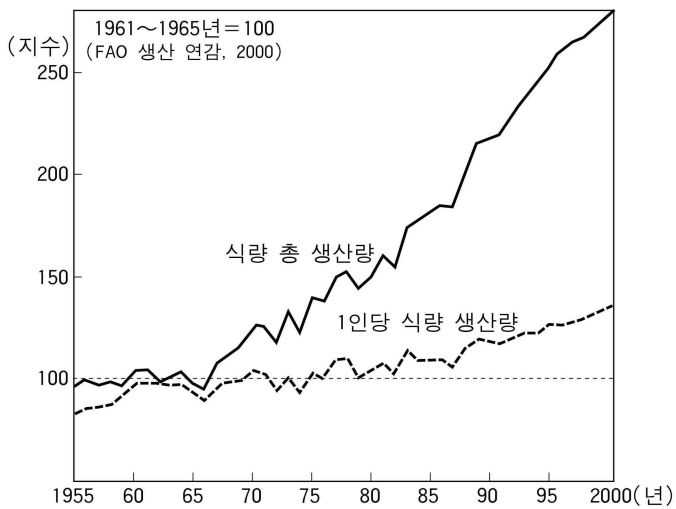


넓은 초원 지대를 지나가던 부시맨이 하늘에서 떨어진 콜라 병을 우연히 발견한다. 부시맨은 처음 본 콜라 병을 신기하게 여기고, 그것 때문에 생활 속에서 다양한 사건들을 경험한다.



- ① ㉠ ② ㉡ ③ ㉢ ④ ㉣ ⑤ ㉤

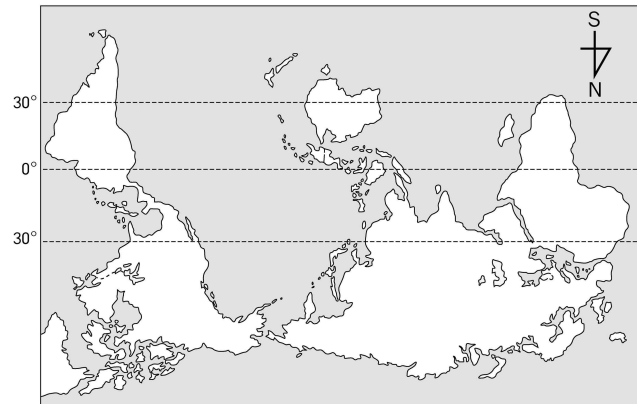
9. 인도의 식량 생산량 변화를 나타낸 그래프를 보고 추론할 수 있는 내용을 <보기>에서 모두 고르면?



<보 기>  
㉠. 총 인구 수가 증가하였다.  
㉡. 화학 비료의 사용량이 증가하였다.  
㉢. 도시 인구 수가 증가하였다.  
㉣. 환경 문제가 해결되었다.

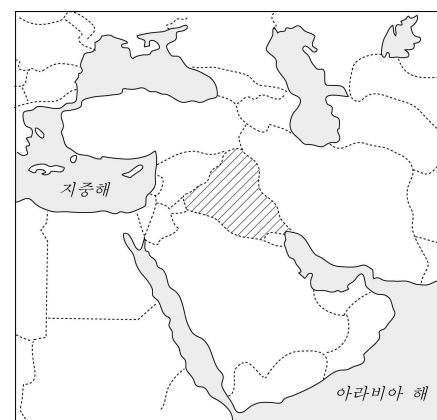
- ① ㉠, ㉡ ② ㉠, ㉢ ③ ㉠, ㉣ ④ ㉡, ㉢ ⑤ ㉡, ㉣

10. 오스트레일리아의 위치를 바탕으로 추론할 수 있는 것이 아닌 것은? [3점]



- ① 해양으로 진출하기가 유리하다.  
② 건조 기후 지역이 넓게 나타난다.  
③ 대륙 동쪽에 서안 해양성 기후가 나타난다.  
④ 눈이 내리는 크리스마스를 경험할 수 있다.  
⑤ 북쪽 지방은 무덥고, 남쪽으로 갈수록 기온이 낮아진다.

11. 지도의 빗금 친 국가에 대한 설명으로 옳은 것은?

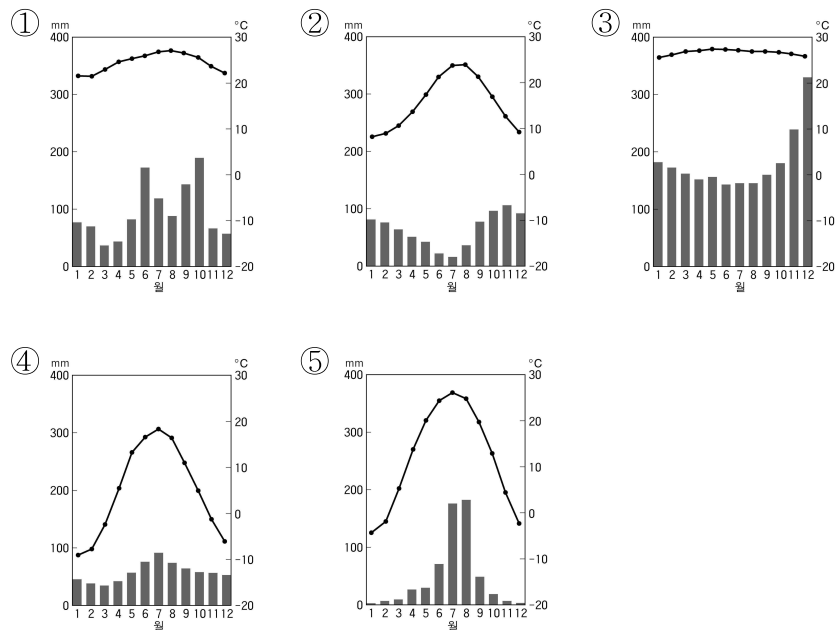


<보 기>  
일찍이 인류 문명이 꽃 피었던 곳으로 ㉠크리스트 교, 이슬람 교의 발상지입니다. ㉡강수량이 많아 국토의 대부분이 비옥한 농토이기 때문에 밀이 많이 생산됩니다. 그래서 식탁에 항상 빵이 있습니다. 또한 돼지가 많이 사육되며, ㉢사람들은 돼지 고기로 만든 음식을 즐겨 먹습니다. 여행하다 보면 ㉣우리와 피부색이 비슷하여 우리 나라의 어느 한 지역을 걷고 있다는 생각이 들기도 합니다. ㉤석유 수출로 경제가 크게 발전하여 국제 석유 가격 변동은 이 나라 경제에 큰 영향을 줍니다.

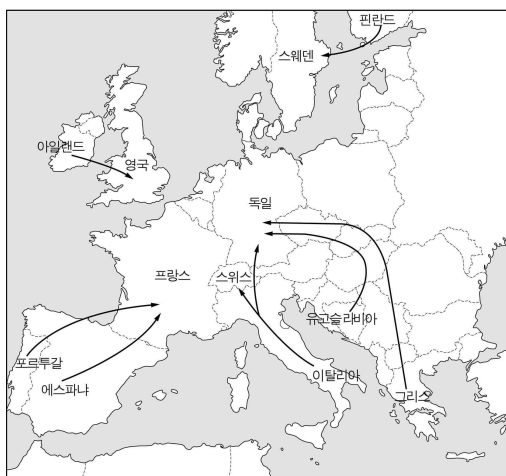
- ① ㉠ ② ㉡ ③ ㉢ ④ ㉣ ⑤ ㉤

12. 신문에 실린 지역의 특성을 나타낸 기후 그래프는?

또한 여름과 가을에는 낮과 밤의 일교차가 15~20℃로 매우 크다. 술을 만들 때 사용되는 포도는 당도와 산도가 동시에 높아야 한다. 당도는 알코올 량을 결정하고 산도는 포도주의 향과 맛을 결정하게 된다. 포도 수확기에 일교차가 커야 이러한 조건을 만족시키므로 나파벨리는 포도의 낙원이라 할 수 있다. -○○신문, 2003.-



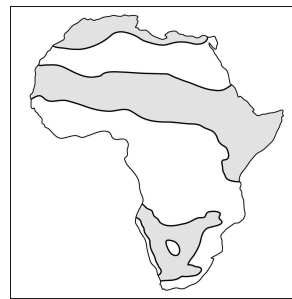
13. 유럽 내의 노동자 이동을 보여주는 지도에서 알 수 있는 내용을 <보기>에서 모두 고르면?



<보 기>  
 ㄱ. 임금 수준의 차이  
 ㄴ. 국가 간의 무역 마찰  
 ㄷ. 단일 경제권의 형성 과정  
 ㄹ. 백인과 유색 인종 간의 갈등

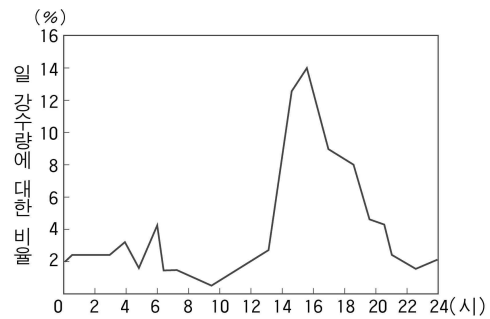
- ① ㄱ, ㄴ    ② ㄱ, ㄷ    ③ ㄱ, ㄹ    ④ ㄴ, ㄷ    ⑤ ㄴ, ㄹ

14. 지도에 표시된 지역의 공통된 특징을 바르게 설명한 것은?



- ① 인구 밀도가 높은 지역이다.  
 ② 세계적인 보석 생산 지역이다.  
 ③ 석탄 자원이 풍부한 지역이다.  
 ④ 사막화가 진행되고 있는 지역이다.  
 ⑤ 이동식 화전 농업이 활발한 지역이다.

15. 시간별 평균 강수량의 변화를 나타낸 그림이다. 이러한 변화가 연중 나타나는 지역의 특성을 바르게 설명한 것을 <보기>에서 모두 고르면? [3점]



<보 기>  
 ㄱ. 열대 우림 기후 지역이다.  
 ㄴ. 낙엽 활엽수림이 많이 분포한다.  
 ㄷ. 비는 한 달에 한두 번만 내린다.  
 ㄹ. 오후에 내리는 비는 짧은 시간에 매우 강하게 내린다.

- ① ㄱ, ㄴ    ② ㄱ, ㄷ    ③ ㄱ, ㄹ    ④ ㄴ, ㄷ    ⑤ ㄴ, ㄹ

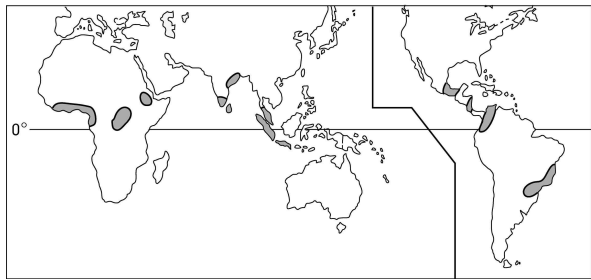
16. 아래와 같은 원인으로 발생한 인구 이동을 지도에서 모두 고르면? [3점]

어떤 사람들은 종교나 민족간의 갈등, 전쟁의 발생 때문에 그들이 살고 있던 고향이나 국가를 떠나 다른 지역으로 이동하고 있다. 이러한 사람들을 난민이라고 하는데, 세계에 약 3천만 명 정도가 있는 것으로 추정된다.



- ① ㉠, ㉡    ② ㉠, ㉢    ③ ㉡, ㉣    ④ ㉡, ㉤    ⑤ ㉢, ㉤

17. 지도에 표시된 농업 지역의 지리적 특색을 <보기>에서 모두 고른 것은? [3점]



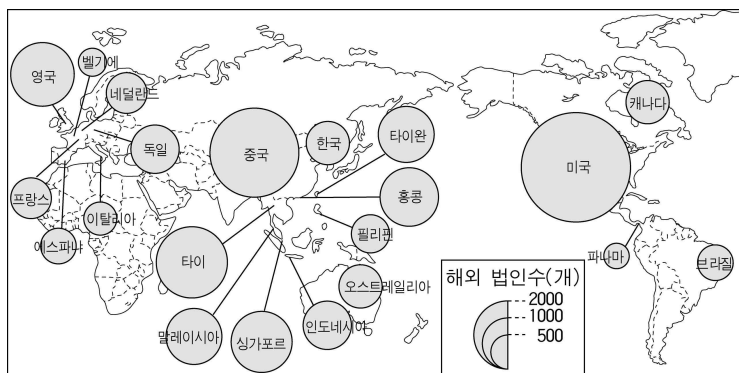
<보 기>

- ㉠. 고학력의 노동력이 풍부한 지역이다.
- ㉡. 주로 열대 및 아열대 기후 지역이다.
- ㉢. 세계적인 기호·원료 작물의 재배 지역이다.
- ㉣. 지각이 불안정하여 화산 활동과 지진이 잦은 지역이다.

- ① ㉠, ㉡    ② ㉠, ㉢    ③ ㉡, ㉢    ④ ㉡, ㉣    ⑤ ㉢, ㉣

18. 일본 단원을 수업할 때 교사가 학생들에게 제시한 학습장이다. (가), (나)에 들어갈 내용을 바르게 짝지은 것은?

<자료> 일본의 해외 투자 현황



<과제 1> 아래 표의 빈 칸을 채워보자.

해외 투자 대상국 분류	중국, 타이, 말레이시아, 인도네시아, 필리핀 등	미국, 캐나다, 영국, 프랑스, 독일, 네덜란드 등
중요한 해외 투자 이유	(가) _____	(나) _____

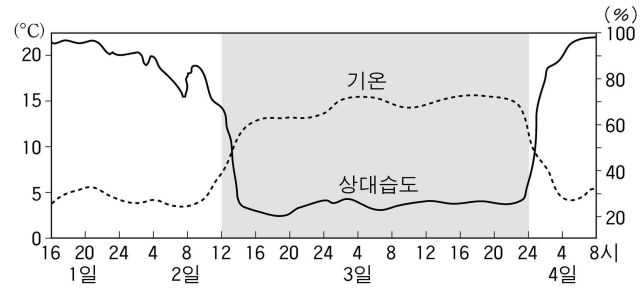
(가)

- ① 인건비 절감
- ② 인건비 절감
- ③ 고급 기술력 이용
- ④ 고급 기술력 이용
- ⑤ 현지 시장 개척

(나)

- 지하 자원 확보
- 무역 장벽 극복
- 인건비 절감
- 지하 자원 확보
- 저렴한 노동력 확보

19. 그림은 스위스의 한 지점에서 봄철에 관측한 기온과 상대습도의 변화를 나타낸 것이다. 2일 오후부터 3일 자정까지 나타난 현상에 대한 설명으로 옳은 것을 <보기>에서 모두 고르면? [3점]



<보 기>

- ㉠. 북쪽에서 차고 건조한 바람이 불어올 때 나타났다.
- ㉡. 높은 산맥을 넘어와 고온 건조해진 바람이 불어올 때 나타났다.
- ㉢. 봄에 나타나면 어린 식물이 피해를 입는다.
- ㉣. 겨울에 나타나면 많은 눈이 내려 관광객이 증가한다.

- ① ㉠, ㉡    ② ㉠, ㉢    ③ ㉠, ㉣    ④ ㉡, ㉢    ⑤ ㉡, ㉣

20. 자료를 보고 바르게 설명한 것을 <보기>에서 모두 고르면? [3점]

항목	국가 분류	(가)	(나)		(다)	
	영국	프랑스	독일	노르웨이	스웨덴	
연간 내리는 산성비의 양(천톤)	728	790	820	224	358	
단위면적당 산성비의 양(톤/km <sup>2</sup> )	2.98	1.43	2.30	0.69	0.80	
외부로부터 들어오는 오염 물질의 비율(%)	20	55	51	93	84	

<보 기>

- ㉠. (가) 국가는 바람의 영향으로 외부로부터 들어오는 오염물질이 적다.
- ㉡. (나) 국가들은 공업과 도시가 발달하여 산성비의 피해가 크다.
- ㉢. (다) 국가들은 산성비의 원인이 되는 오염 물질을 많이 배출한다.
- ㉣. 산성비의 양과 외부로부터 유입되는 오염 물질의 양은 비례한다.

- ① ㉠, ㉡    ② ㉠, ㉢    ③ ㉠, ㉣    ④ ㉡, ㉢    ⑤ ㉡, ㉣

\* 확인 사항

○ 답안지의 해당란에 필요한 내용을 정확히 기입(표기)했는지 확인 하시오.