

제 4 교시

사회탐구영역(윤리)

성명

수험 번호

- 먼저 수험생이 선택한 과목의 문제지인지 확인하시오.
- 선택 과목은 반드시 응시 원서 작성시 자신이 선택한 과목의 문제를 풀어야 합니다.
- 문제지에 성명과 수험 번호를 정확히 기입하시오.
- 수험표에 표기된 선택 1, 선택 2, 선택 3, 선택 4의 과목에 대한 문제를 순서대로 풀어 해당란에 답을 표기하시오.
- 문항에 따라 배점이 다르니, 각 물음의 끝에 표시된 배점을 참고하시오. 3점 문항에만 점수가 표시되어 있습니다. 점수 표시가 없는 문항은 모두 2점입니다.

1. 다음 인물들의 삶에서 우리가 본받을 수 있는 공통적인 내용으로 가장 적절한 것은?

- 동양의 3대 미술품의 하나인 호류사 금당 벽화를 그린 담징
- 전염의 위험을 무릅쓰고 환자들을 병을 치료한 허준
- 지도 제작에 자신의 평생을 바친 김정호

- ① 순천절물(順天節物) ② 청렴결백(淸廉潔白)
- ③ 장인정신(匠人精神) ④ 견리사의(見利思義)
- ⑤ 선공후사(先公後私)

2. 다음 글에 나타난 공통적인 문제를 해결하기 위해 남녀 모두에게 요구되는 자세를 <보기>에서 모두 고른 것은?

- 글라스 실링(glass ceiling)은 유리 천장을 말하는 것으로, 여성이 최고 관리직 또는 중간 관리직으로 진출하는 데 장애가 되는 무형의 벽을 가리킨다. 즉, 이 용어는 여성이 일정 단계 이상을 승진할 수 없다는 사회적 인식을 상징적으로 반영하고 있다.
- 우리 사회에서는 여성에게 슈퍼우먼(superwoman)이 될 것을 요구한다. 직장에서 업무를 잘 수행하고 인정을 받아 경제적인 능력을 지녀야 할 뿐만 아니라 집안 일도 잘 해내야 하기 때문이다. 밖에서 열심히 일하고 집에 돌아와서도 대부분의 가사와 육아는 고스란히 여성의 몫이 되는 것이 우리의 현실이다.


— <보기> —

- ㄱ. 공정한 태도를 지닌다.
- ㄴ. 절대적 평등을 추구한다.
- ㄷ. 동반자 관계임을 인식한다.
- ㄹ. 물질 만능주의에서 벗어난다.

- ① ㄱ, ㄷ ② ㄱ, ㄹ ③ ㄴ, ㄹ
- ④ ㄱ, ㄴ, ㄷ ⑤ ㄴ, ㄷ, ㄹ

3. 다음 글의 관점에서 태극기를 볼 때, 그 상징적 의미로 가장 적절한 것은? [3점]

- '별'이 그려져 있는 미국의 국기나 '태양'을 상징으로 삼은 일본이나 대만의 국기, 그리고 '반달'이 그려져 있는 이슬람 국가들의 국기에 비해, 한국의 태극기는 '우주' 그 자체를 상징하고 있다.
- 태극은 천지만물의 근원이며 우주 내에서 일어나는 만물의 생성과 변화를 가능케하는 원리이다.



- ① 조화성, 상보성(相補性) ② 객관성, 통합성(統合性)
- ③ 실용성, 심미성(審美性) ④ 보편성, 실제성(實際性)
- ⑤ 도덕성, 실증성(實證性)

4. 다음 글을 토대로 하여 추론할 수 있는 장묘 문화에 대한 바람직한 자세를 <보기>에서 모두 고른 것은?

우리나라에서 조성되는 묘지 면적은 매년 평균 서울 여의도 면적의 1.2배에 달하는 9km²로, 현재 전 국토의 1%인 989km²에 달하고 있다고 한다. 이러한 추세라면 수년 내에 밭길이 닿는 전국의 산이 온통 묘지로 뒤덮이지 않을까 우려스럽다. 그럼에도 불구하고 2002년 보건복지부가 국정홍보처와 공동으로 조사해 발표한 「장묘 문화에 관한 국민의식조사」에서 '부모 사망 시 매장하겠다'는 응답이 54.3%나 되었다. 이러한 조사 결과는 아직도 부모가 돌아가셨을 때 매장하는 것이 자식의 도리라는 생각과 명당과 길지를 선호하는 관습 때문인 것으로 분석된다. 지금이야말로 매장 풍습에 대한 우리의 인식을 되돌아보고 장묘 문화의 본질이 무엇인지 다시 한번 생각해 볼 때이다.

— <보기> —

- ㄱ. 형식과 절차를 중시하는 장묘 문화를 정립한다.
- ㄴ. 후손의 이익과 공명(功名)을 위한 장묘 문화는 지양한다.
- ㄷ. 매장 풍습에 담긴 섬김의 정신을 살릴 수 있는 장묘 문화를 추구한다.
- ㄹ. 전통적 장묘 문화에 담겨 있는 풍수지리 사상을 기복 신앙으로 수용한다.

- ① ㄱ, ㄴ ② ㄱ, ㄷ ③ ㄴ, ㄷ
- ④ ㄴ, ㄹ ⑤ ㄷ, ㄹ

11. 그림에 나타나 있는 신앙 형태에 대한 설명으로 적합한 내용을 <보기>에서 모두 고른 것은? [3점]



<보기>

- ㄱ. 신령들의 도움을 받아 삶의 평안을 추구하고자 한다.
- ㄴ. 하늘의 이치가 인간의 본성에 반영되어 있다고 본다.
- ㄷ. 주술을 통해 영혼 세계와 현실 세계를 매개할 수 있다고 믿는다.
- ㄹ. 복을 바라는 심리를 이용하여 사익을 꾀하는 폐단이 나타나기도 한다.

- ① ㄱ, ㄴ ② ㄴ, ㄷ ③ ㄷ, ㄹ
- ④ ㄱ, ㄴ, ㄹ ⑤ ㄱ, ㄷ, ㄹ

12. 다음 현상에 대해 취할 수 있는 윤리적 입장 가운데 벤담(J. Bentham)의 사상이 가장 잘 드러난 것은? [3점]

우리 사회에서 부자 되기 열풍이 급속도로 번지고 있다. 최근의 베스트셀러 목록을 보면 상당수가 돈 버는 방식과 경제적 성공에 관한 것들이다. 한 인터넷 사이트가 실시한 장래의 꿈에 대한 조사에서도 '돈을 가장 많이 버는 사람'이 55%로 1위를 차지하였다. 많은 사람들이 돈을 많이 버는 것을 성공과 행복으로 여기고 있다.

순위	책 제목
1	○○○ 부자들
5	○○ 꿈 10억 ○○○
6	○○○○○ 10억 만들기

2000년 ○월 경제·경영분야 베스트셀러 목록 -△△신문-

- ① 고상하고 정신적인 가치도 함께 추구하고 있는지 반성해야 한다.
- ② 가질수록 커져가는 돈에 대한 욕심을 버리고 평온한 상태를 유지해야 한다.
- ③ 참된 행복을 위해서는 부를 추구하기보다 신과 하나가 되려고 노력해야 한다.
- ④ 개개인의 부의 축적 방식이 다른 사람과 사회에 미치는 결과를 고려해야 한다.
- ⑤ 탐욕스럽거나 궁색하지 않도록 적절하게 부를 추구하는 중용의 자세를 갖추어야 한다.

13. 다음 글을 토대로 인류 문화의 발전을 추구하고자 할 때, 강조해야 할 요소로 적절하지 않은 것은?

우리는 모두 서로 의존하고 있다. 우리 각자는 전체의 복리에 의존하고 있고, 따라서 인간, 동물, 식물, 그리고 지구의 보전을 위해 공기와 물, 흙에 대하여 경의심을 가져야 한다. 우리는 인류를 하나의 가족이라고 생각해야 한다. 따라서 우리는 서로를 친절하고 너그럽게 대하도록 노력해야 한다. (중략) 어떤 사람도 이류(二流) 시민으로 취급되어서는 안 되며, 또 어떤 방식으로든 착취당해서는 결코 안 된다.

- ① 관용 ② 평등 ③ 창조성 ④ 비폭력 ⑤ 연대성

14. 다음을 주장한 서양 윤리 사상가의 관점에 부합하는 내용을 <보기>에서 모두 고른 것은? [3점]

- 감정이 도덕적 판단과 행위의 기초이다.
- 이성은 오직 감정의 노예이며 노예이어야만 한다.
- 이성 그 자체만으로는 의지에 따른 행위의 동기가 될 수 없다.

<보기>

- ㄱ. 감각적 경험이 사유와 지식의 근원이다.
- ㄴ. 신 앞에 선 단독자로서 인간의 주체적 결단이 요구된다.
- ㄷ. 타인의 행복과 불행을 함께 느끼는 공감(共感) 능력이 중요하다.
- ㄹ. 의심할 여지 없이 확실한 지식을 찾기 위해서는 방법적 회의(懷疑)가 필요하다.

- ① ㄱ, ㄴ ② ㄱ, ㄷ ③ ㄴ, ㄹ
- ④ ㄱ, ㄷ, ㄹ ⑤ ㄴ, ㄷ, ㄹ

15. 다음을 주장한 사상가의 입장과 가장 부합하는 것은? [3점]

- 인간은 우주 자연의 기(氣)와 구별되는 혈기(血氣)를 지닌 현실적인 존재이다.
- 육경사서(六經四書)로써 자기 몸을 닦고 일표이서(一表二書)로써 천하 국가를 다스린다.
- 참 선비의 학문은 본디 나라를 다스리고 백성을 편안케 하며 오랑캐를 물리치고 재물의 쓰임을 넉넉히 하는 데 있다.

- ① 타고난 순선한 본성을 함양한다.
- ② 안인(安人)보다 수기(修己)를 중시한다.
- ③ 정통 성리학의 이론적 체계화를 도모한다.
- ④ 자주적이고 실용적인 사회 개혁을 추구한다.
- ⑤ 인본주의를 기반으로 사해 평등주의를 표방한다.

16. 밑줄 친 '이것'과 관련한 진술로 옳지 않은 것은?

이것은 근본이 단절되지 않고 계속해서 이어짐을 의미한다. 우리는 이것을 다소 진부하고 고리타분하게 생각하기도 한다. 하지만 이것은 우리 조상들의 숨결과 정서가 묻어 있는 소중한 것이다.

- ① 우리는 근대화 과정에서 이것을 더욱 중시해 왔다.
- ② 우리는 이것을 통해 선인들의 지혜를 얻을 수 있다.
- ③ 베틀의 씨실을 현대에 비유한다면 낱실은 이것에 비유할 수 있다.
- ④ 기술 문명의 폐단에 대한 반성으로부터 이것에 대한 관심이 높아지고 있다.
- ⑤ 급격한 사회 변화 속에서 정체성 위기를 극복하기 위해서는 이것을 계승해야 한다.

17. 밑줄 친 '원칙'에 부합하는 내용을 <보기>에서 모두 고른 것은?

남녀 고등학생들이 배를 타고 항해를 하던 중 난파 사고를 당했다. 이들은 무인도에 불시착하게 되었고 언제 구조될지 모르는 난감한 상황에 처하게 되었다. 이러한 가운데 학생들은 '개인의 자발성과 자유 및 개성을 중시하며 다수결 원리를 존중하는 생활 규칙을 만들겠다'는 원칙에 합의하고 대표자를 선출했다.

— <보기> —

ㄱ. 타인에게 해악을 끼치는 행위를 금지한다.
 ㄴ. 능력에 따라 일하고 필요에 따라 분배받는다.
 ㄷ. 각자 자유롭게 행동하며 자신의 행동에 책임을 진다.
 ㄹ. 질서 유지를 위해 대표자에게 개인의 모든 권리를 양도한다.

- ① ㄱ, ㄴ ② ㄱ, ㄷ ③ ㄴ, ㄷ ④ ㄴ, ㄹ ⑤ ㄷ, ㄹ

18. 다음은 어떤 윤리 이론을 평가한 내용이다. 이 이론에서 행위의 옳음을 판단하는 적절한 방식을 <보기>에서 모두 고른 것은?

[3점]

○ 도덕의 정언적 성격과 인간 존엄의 정신을 잘 표현하고 있다.
 ○ 현실 사회의 인간에게 구체적인 삶의 지침을 제공해 주지 못한다.

— <보기> —

ㄱ. 행위의 동기가 도덕적 의무에서 비롯되는지 살펴본다.
 ㄴ. 도덕 법칙을 무조건적인 명령으로 따르고 있는지 점검한다.
 ㄷ. 행위를 위한 의지의 격률이 보편적 타당성을 지니는지 검토한다.
 ㄹ. 행위를 통해 얼마나 많은 사람이 행복을 누리게 되는지 고려한다.

- ① ㄱ, ㄷ ② ㄴ, ㄹ ③ ㄷ, ㄹ
- ④ ㄱ, ㄴ, ㄷ ⑤ ㄱ, ㄴ, ㄹ

19. 다음 갑과 을의 주장을 뒷받침하는 근거로서 가장 적절한 것은?

갑 : 현대 사회에서 중친회는 여러 가지 문제를 일으키므로 없어야 한다고 생각해.
 을 : 반드시 그런 것만은 아니야. 그것이 지니고 있는 긍정적 기능도 있거든.

	갑	을
①	집단 이기주의	수평적 인간 관계 확립
②	권위에 대한 맹종	의사 결정의 절차와 합리성 강조
③	물질 가치 추구	개인의 자율성과 독립성 중시
④	무절제한 과소비	구성원 간의 유대감 강화
⑤	배타적 우리 의식	가문에 대한 책임감으로 일탈 행위 억제

20. 다음 내용을 근본으로 하는 윤리 사상과 부합하지 않는 것은? [3점]

○ 이것이 생(生)하면 저것이 생하고, 이것이 멸(滅)하면 저것이 멸한다.
 ○ 당신이 시인이라면 이 종이 안에 구름이 떠다니고 있음을 분명히 알 것이다. 구름이 없다면 비도 내리지 않을 것이며 비가 없다면 나무들이 자랄 수 없다. 그리고 나무가 없다면 종이를 만들 수 없다. (중략) 이 종이를 조금만 더 주의 깊게 들여다보면 우리는 이 종이 안에서 햇빛을 볼 수 있다. 햇빛이 여기에 없다면 나무는 자랄 수 없다. (중략) 계속해서 생각해 보면 나무를 잘라서 종이 제작을 위해 공장으로 운반하는 벌목꾼을 이 종이 안에서 볼 수 있다.

- ① 모든 현상은 원인과 조건이 없으면 결과도 없다.
- ② 인간은 소박하고 순수한 자연의 덕을 가지고 있다.
- ③ 모든 존재와 생명에 대한 경외감과 자비심이 필요하다.
- ④ 자아나 사물에 대한 집착은 모든 고통과 불행의 원인이다.
- ⑤ 무지와 탐욕에서 벗어나면 바르고 행복한 삶을 영위할 수 있다.

* 확인 사항
 ○ 답안지의 해당란에 필요한 내용을 정확히 기입(표기)했는지 확인 하시오.

제 4 교시

사회 탐구 영역 (국사)

성명

수험 번호

- 먼저 수험생이 선택한 과목의 문제지인지 확인하시오.
- 선택 과목은 반드시 응시 원서 작성시 자신이 선택한 과목의 문제를 풀어야 합니다.
- 문제지에 성명과 수험 번호를 정확히 기입하시오.
- 수험표에 표기된 선택 1, 선택 2, 선택 3, 선택 4의 과목에 대한 문제를 순서대로 풀어 해당란에 답을 표기하시오.
- 문항에 따라 배점이 다르니, 각 물음의 끝에 표시된 배점을 참고하시오. 3점 문항에만 점수가 표시되어 있습니다. 점수 표시가 없는 문항은 모두 2점입니다.

1. 다음은 고구려 초기 통치 체제를 설명한 자료이다. 이를 통해 추론한 것으로 적절하지 않은 것은? [3점]

○ 본래는 소노부에서 왕이 나왔으나 점점 힘이 약해져서 지금은 계루부가 왕위를 차지하였다.
 ○ 소노부의 대표는 본래 고구려의 왕이었다. 지금은 비록 왕이 되지 못하나 그 지위를 대대로 세습한 대인을 고추가라고 부른다. 부(部) 자체의 종묘를 세우고 하늘의 별과 사직에 따로 제사지냈다.
 ○ 모든 대가(大加: 각 부의 지배자)들도 왕과 마찬가지로 스스로 사자, 조의, 선인을 임명할 수 있었는데, 그 명단은 모두 왕에게 보고하여야 했다.
 ○ 감옥이 없고, 범죄자가 있으면 제가(諸加)들이 모여서 논의하여 사형에 처하고 처자는 몰수하여 노비로 삼는다.
 -삼국지-

- ① 각 부는 중앙 왕실의 간섭을 받았다.
- ② 국왕은 각 부의 지배자 가운데 가장 힘 있는 존재였다.
- ③ 국가의 중요한 일은 주로 부의 지배자들이 모여 협의하였다.
- ④ 국왕은 중앙 집권적인 관료 조직에 기초하여 국가를 통치하였다.
- ⑤ 각 부의 지배자는 관리를 거느리고 자신의 영역을 지배하였다.

2. 다음은 고려 후기 정치 세력에 대한 기술이다. 이들에 대한 설명으로 옳은 것은? [3점]

(가) 이성계는 홍건적과 왜구를 토벌하는 과정에서 큰 전공을 올려 국민의 신망을 얻었다.
 (나) 무신 집권기 이래 지방의 향리 출신으로 과거를 통하여 중앙의 관리로 진출하였으며, 공민왕의 정치 개혁에 힘입어 지배 세력으로 성장하였다.
 (다) 무신 정권 붕괴 이후 정계의 요직을 장악하고 농장을 소유한 최고의 권력층이었으며, 가문의 힘을 이용하여 음서로써 신분을 세습시켜 갔다.

- ① (가)와 (나)는 개혁의 필요성에 공감하고 있었다.
- ② (가)는 위화도 회군을 계기로 (다)와 손을 잡았다.
- ③ (나)는 공민왕의 개혁을 틈타 (다)를 제거하는 데 성공하였다.
- ④ (다)는 몽고의 침입을 계기로 (나)와 손잡고 정국의 주도권을 잡았다.
- ⑤ (나)와 (다)는 원의 간섭 아래에서도 자주성을 지키려고 노력하였다.

3. 다음 유물과 유적에 공통으로 반영된 신앙은?



농경문 청동기



고령 양전동 바위그림

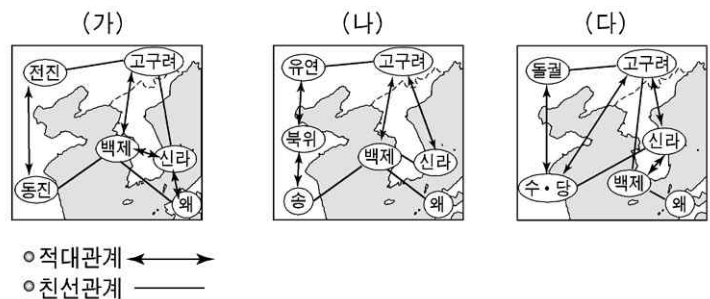
- ① 산신을 숭배하는 신앙
- ② 조상신을 숭배하는 신앙
- ③ 극락왕생을 기원하는 아미타 신앙
- ④ 풍요로운 생산을 기원하는 주술적 신앙
- ⑤ 동식물을 부족의 기원과 상징으로 숭배하는 신앙

4. 다음 글을 통해 고조선의 사회 모습을 적절하게 추론한 것은?

백성들에게 금하는 법 8조를 만들었다. 사람을 죽인 자는 즉시 사형에 처하고, 남에게 상처를 입힌 자는 곡식으로 갚는다. 도둑질한 자는 그 집의 노비로 삼는다. 만일 노비에서 벗어나고자 하는 자는 50만전을 내야 한다. 비록 노비에서 벗어나 일반 백성이 되었다고 하더라도 풍속에 사람들이 이를 부끄럽게 여겨 결혼하기를 꺼려하였다. 이처럼 법이 엄격했기 때문에 도둑질을 하는 자가 거의 없어 문단속을 하지 않았다.
 -한서-

- ① 족외혼을 엄격하게 지켰다.
- ② 사유 재산 제도가 존재하지 않았다.
- ③ 법을 집행하는 공권력이 존재하였다.
- ④ 일반 백성의 대부분이 노비로 전락하였다.
- ⑤ 씨족과 부족 단위로 공동체 생활을 하였다.

5. 다음 지도는 삼국 시대 대외 관계의 변천을 나타낸 것이다. 각 시기의 역사적 사실로 옳은 것을 <보기>에서 모두 고른 것은? [3점]



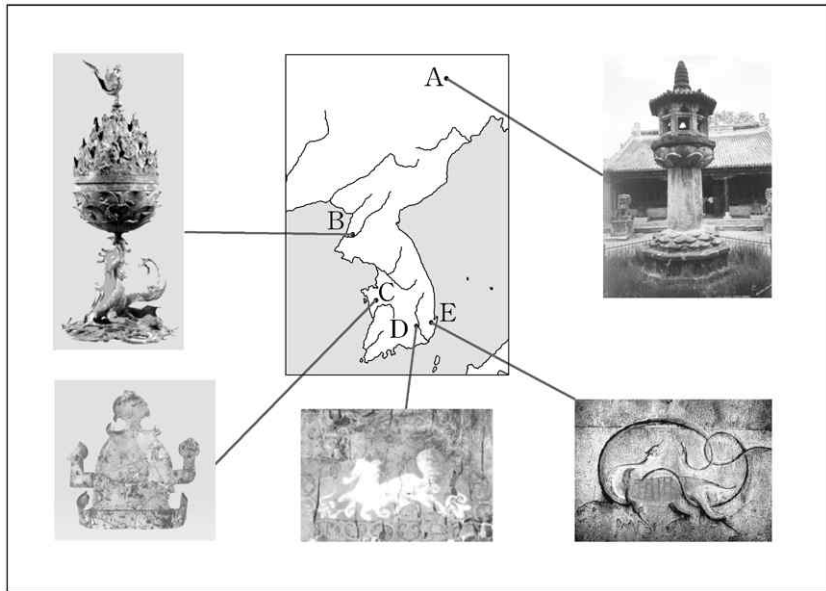
○ 적대관계 ←→
 ○ 친선관계 —

<보기>

- ㄱ. (가) 시기에 고구려는 중국의 전진을 통하여 불교를 수용하였다.
- ㄴ. (나) 시기에 백제 성왕이 신라를 공격하다가 관산성에서 전사하였다.
- ㄷ. (나)와 (다) 시기 사이에 나·당 전쟁이 일어났다.
- ㄹ. (다) 시기에 고구려와 백제의 협공을 받은 신라가 중국 세력과 연합하여 이에 대응하였다.

- ① ㄱ, ㄴ ② ㄱ, ㄷ ③ ㄱ, ㄹ ④ ㄴ, ㄷ ⑤ ㄴ, ㄹ

6. 지도에 표시된 지역과 유물·유적이 바르게 연결된 것은?



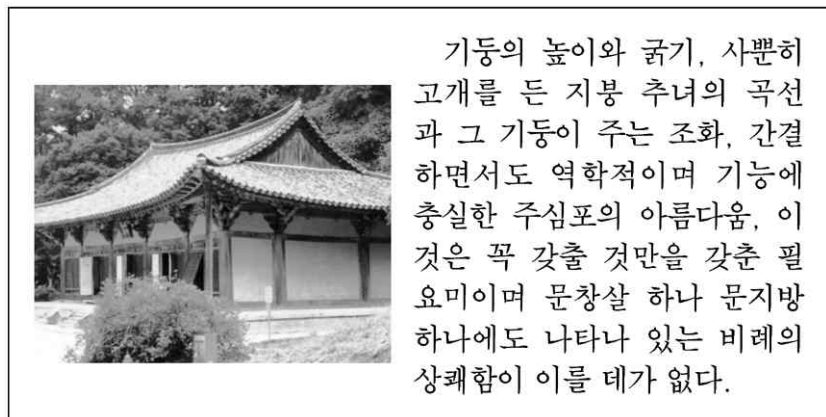
- ① A ② B ③ C ④ D ⑤ E

7. 다음 (가)~(마)에 대한 설명으로 옳지 않은 것은? [3점]

(가) 신문왕 7년(687) 문무관료전을 지급하였다.
 (나) 신문왕 9년(689) 내외관의 녹읍을 혁파하고 매년 조(租)를 내렸다.
 (다) 성덕왕 21년(722) 처음으로 백성에게 정전을 지급하였다.
 (라) 경덕왕 16년(757) 여러 내외관의 월봉을 없애고 다시 녹읍을 나누어 주었다.
 (마) 소성왕 원년(799) 청주 거노현을 국학의 녹읍으로 삼았다.
 -삼국사기-

- ① (가), (나), (다)는 국왕 중심의 통치 체제를 안정시키려는 데 궁극적인 목적이 있다.
 ② (나), (다)는 장차 호족이 등장할 수 있는 경제적 기반이 되었다.
 ③ (나), (라)는 토지와 농민을 둘러싼 국왕과 귀족 간의 권력 갈등을 보여주고 있다.
 ④ (다)는 농민 생활을 안정시키기 위한 조치이다.
 ⑤ (마)를 통해서 관청에도 녹읍이 지급되었음을 알 수 있다.

8. 다음은 경북 영주의 어느 사찰을 답사하기 위하여 만든 자료이다. 사찰과 건물에 대하여 옳게 설명한 사람은? [3점]



- ① 순희: 이 사찰은 의천이 창건하여 천태종을 널리 펼친 곳이지.
 ② 정현: 이 사찰은 지눌이 수선사 결사 운동을 벌인 곳이기도 해.
 ③ 현숙: 이 건물은 현재 남아 있는 가장 오래된 목조 건축물이야.
 ④ 화영: 예산 수덕사 대웅전도 이 건물과 비슷한 시기에 지어졌지.
 ⑤ 철수: 이 건물은 임진왜란 때 불타서 조선 후기에 다시 지은 거야.

9. 다음 자료를 통해 적절하게 추론한 것을 <보기>에서 모두 고른 것은?


- 최치원은 '마한은 고구려, 변한은 백제, 진한은 신라' 라고 말하였다.
 - 춘추(무열왕)는 김유신과 한마음으로 정치를 하여 삼한을 통일하였으니, 나라에 공을 세운 것이 매우 크다.
 - 당나라 현종이 성덕왕에게 조서를 내려 "삼한이 사이 좋게 잘 지내 오늘날 어질고 의로운 나라로 일컬어지고 있다." 라고 하였다.
 - 태조(왕건)가 견훤에게 "지난번에 삼한이 화를 당하고 흥년으로 전국이 황폐해져 백성들이 많이 도적이 되었다." 라고 말하였다.
- 삼국사기-

<보기>

- ㄱ. 신라인은 삼한과 삼국은 서로 관계가 없다고 생각하였다.
- ㄴ. 당나라는 삼국을 동류(同類)의 국가로 생각하여 삼한이라 불렀다.
- ㄷ. 신라인은 만주 땅을 잃었기 때문에 삼국 통일의 의의를 강조하지 않았다.
- ㄹ. 고려인은 삼국을 가리키는 삼한을 우리나라를 뜻하는 호칭으로 사용하였다.

- ① ㄱ, ㄴ ② ㄱ, ㄷ ③ ㄴ, ㄷ ④ ㄴ, ㄹ ⑤ ㄷ, ㄹ

10. 다음 불교 조형물이 만들어진 시기의 사회 모습을 바르게 설명한 것은?



쌍봉사 철감선사 승탑 진전사지 3층 석탑

- ① 골품 제도를 확립하여 신분 질서를 엄격히 하였다.
- ② 진골 귀족 세력이 약화되고 왕권이 전제화되었다.
- ③ 지방 호족들의 정치적 역량이 크게 성장하였다.
- ④ 12목을 설치하고 지방관을 파견하기 시작하였다.
- ⑤ 경원 이씨 가문이 왕실의 외척이 되어 80여 년간 권세를 누렸다.

11. 다음 자료에서 공통으로 추구하는 정치적 목적과 거리가 먼 것은? [3점]

○ 권근 등이 상소하기를, “병권은 국가의 큰 권세이니, 나누어서 관장할 수 없는 것입니다. …(중략)… 이제부터라도 서울에 머물러 있는 각 도의 절제사들을 모조리 없애고, 서울과 지방의 군사들을 모두 삼군부에 소속시켜 국가의 군사로 삼아서 국권을 무겁게 하고, 인심을 편안케 해야 할 것입니다.”라고 하였다. —정종실록—

○ 허조가 건의하기를, “고려 때에는 이민(吏民)으로서 자기 수령을 고소한 자는 사실이 아닐 경우, 법에 따라 그 집을 헐고 연못을 만든다고 했으니 국가 안위에 관계 없거나 법을 어겨 살인한 죄 말고는 이민이 자기 수령을 고발하는 것을 금지해야 할 것입니다.”라고 하자 왕이 허락했다. —세종실록—

- ① 유향소를 중앙에서 통제한다.
- ② 모든 군현에 수령을 파견한다.
- ③ 향촌 사회에서 사창을 운영한다.
- ④ 수시로 암행어사를 지방에 보낸다.
- ⑤ 봉수제를 정비하고 역참을 설치한다.

12. 다음은 조선의 정치 운영과 관련된 자료이다. 이로 인하여 나타난 변화를 적절하게 추론하고 있는 사람을 <보기>에서 모두 고른 것은? [3점]

상왕(단종)이 나이가 어려 무릇 조치하는 바를 모두 의정부 대신에게 논의하게 하였다. 지금 내(세조)가 왕통을 계승하여 국가의 모든 일을 처리하며 우리나라의 옛 제도를 복구하고자 한다. 지금부터 형조의 사형수를 제외한 모든 서무는 6조가 각각 그 직무를 담당하여 직계한다. —세조실록—

—<보기>—

○ 갑송: 집현전의 활동이 더욱 중시되었을 거야.

○ 을주: 의정부 대신들의 활동이 전제되었을 거야.

○ 병철: 의금부나 승정원의 기능이 강화되었을 것 같아.

○ 정순: 향약 보급으로 지방 사회가 안정되었을 것 같아.

- ① 갑송, 을주 ② 갑송, 병철 ③ 병철, 정순
- ④ 을주, 정순 ⑤ 을주, 병철

13. 다음 대화에 나타난 ‘을’의 역사 인식과 거리가 먼 것은?

○ 갑: 너희 나라(고려)는 신라의 땅에서 일어났고, 고구려의 땅은 우리 차지가 되었는데 너희가 침식했다. …(중략)… 그래서 오늘날의 출병이 있게 된 것이다.

○ 을: 아니다. 우리나라는 고구려를 계승하였으니 그래서 국호를 고려라고 하고 평양에 도읍한 것이다. 만약 땅의 경계를 논한다면 너희 나라(거란)의 동경(東京)도 모두 우리 영토 안에 있는 것이 되니, 어찌 침식이라고 하는가?

- ① 왕건의 북진 정책
- ② 이이의 기자실기 편찬
- ③ 유득공의 발해고 편찬
- ④ 묘청의 서경 천도 운동
- ⑤ 이규보의 동명왕편 편찬

14. 준영이는 조선 시대 농민들의 수취 부담에 대한 과제를 해결하기 위해 인터넷 검색을 하여 다음과 같은 내용을 얻었다. 준영이가 입력했을 검색어로 가장 적절한 것은 ?



가호(家戶)를 기준으로 정남의 수를 고려하여 뽑아서 성, 왕릉, 저수지 등의 공사에 동원하였다. 성종 때 경작하는 토지 8결을 기준으로 한 사람을 동원하고 1년 중 동원할 수 있는 날도 6일 이내로 제한하도록 규정을 바꾸었으나 임의로 징발하는 경우도 많았다.

- ① 공납 ② 별공 ③ 진상
- ④ 전세 ⑤ 요역

15. 다음 사상이 조선 시대에 끼친 영향으로 옳은 것은 ?

○ 모든 사원은 도선이 산수(山水)의 순역(順逆)을 가려 개창한 것이다. 신라 말 사원을 함부로 지어 나라가 망하였다. 마땅히 경계해야 할 것이다. —고려사—

○ 아래로는 지맥(地脈)을 살피고 위로는 천심(天心)을 헤아려 묘지를 써야 하니, 이는 천만대 후손에게 미칠 경사(慶事)를 보전하는 것이요, 자연의 이치이다. 불법(佛法)은 머무르는 모양이 없고 장례에는 때가 있으니 땅을 가리어 자리 잡는 것이 하늘의 이치를 따르는 것이다. —승복사비문—

- ① 족보의 편찬이 유행하였다.
- ② 명당 선호 경향이 두드러졌다.
- ③ 삼강행실도, 국조오례의를 편찬하였다.
- ④ 연등회와 팔관회의 개최를 장려하였다.
- ⑤ 선현의 제사와 교육을 목적으로 하는 서원을 설립하였다.

16. 다음 글의 역사관과 일치하는 역사 기술 방식에 해당하는 것을 <보기>에서 모두 고른 것은? [3점]

우리는 역사학에 과거를 재판하고 장래에 유익하도록 인류를 선도한다는 따위의 기능을 기대하여 왔다. 이 글은 그런 허황된 기능을 시도하는 것이 아니다. 단지 그것이 원래 어떻게 있었는가를 보이려 할 뿐이다. …(중략)… 아무리 제약이 많고 아름답지 못한 사실이라도 그것을 정확히 제시하는 일이 최상의 원리임은 의심할 바 없는 것이다.

—<보기>—

ㄱ. 신라 법흥왕 때 율령을 반포하였다.

ㄴ. 고려 시대 삼별초의 저항은 자주 정신의 표현이었다.

ㄷ. 조선 시대의 3사는 정사를 비판하고 관리의 비리를 감찰하는 언론 기능을 담당하였다.

ㄹ. 조선 후기에 급료를 받는 군인으로 편성된 훈련도감이 설치되었다.

ㅁ. 조선 후기 경제 상황의 변동은 근대 경제로 넘어가는 준비 과정이었다.

- ① ㄱ, ㄴ, ㄷ ② ㄱ, ㄴ, ㅁ ③ ㄱ, ㄷ, ㄹ
- ④ ㄴ, ㄹ, ㅁ ⑤ ㄷ, ㄹ, ㅁ

17. 다음 자료에 공통적으로 나타난 조선 후기의 사회상을 이해하기 위한 탐구 주제로 가장 적절한 것은?

○ 옷차림은 신분의 귀천을 나타내는 것이다. 그런데 어찌된 까닭인지 근래 이것이 문란해져 상민·천민들이 갓을 쓰고 도포를 입는 것을 마치 조정의 관리나 선비와 같이 한다. 진실로 한심스럽기 짝이 없다. 심지어 시전 상인들이나 군역을 지는 상민들까지도 서로 양반이라 부른다.
—일성록—

○ 근래 아전의 풍속이 나날이 변하여 하찮은 아전이 길에서 양반을 만나도 절을 하지 않으려 한다. 아전의 아들·손자로서 아전의 역을 맡지 않은 자가 고을 안의 양반을 대할 때 맞먹듯이 너 나 하며, 자(字)를 부르고 예의를 차리지 않는다.
—목민심서—

- ① 양반 수의 변동 및 신분관의 변화
- ② 대외 무역의 발달과 수입품의 변화
- ③ 민영 수공업의 발달과 잡채의 성행
- ④ 병자호란 이후 청 문물의 수입과 그 영향
- ⑤ 아전들의 부정과 이에 대한 농민들의 저항

18. 조선 후기의 다음과 같은 문제점을 해결하기 위해 경세 치용 학파가 제시한 해결책을 <보기>에서 모두 고른 것은? [3점]

부농층은 땅이 넓어서 빈민을 농업 노동에 고용함으로써 농사를 짓지 않고서도 향락을 누릴 수 있다. 빈농층 가운데 어떤 농민은 지주의 농지를 빌려 경작하여 살아간다. 농지를 얻지 못한 농민은 남의 머슴이 되어 생계를 유지한다. 그리고 그것도 할 수 없는 농민들은 농촌을 떠나 유리결식한다.

—<보기>—

ㄱ. 생산을 자극하기 위해서 절약보다 소비를 권장하자.

ㄴ. 신분에 따라 차등 있게 토지를 재분배하고 자영농을 육성하자.

ㄷ. 상공업을 진흥시키고 사농공상의 직업 평등과 전문화를 추진하자.

ㄹ. 한 가정의 생활을 유지하는 데 필요한 규모의 토지는 법으로 매매를 금지하자.

- ① ㄱ, ㄴ ② ㄱ, ㄷ ③ ㄴ, ㄷ
- ④ ㄴ, ㄹ ⑤ ㄷ, ㄹ

19. 다음 사료에 나타나는 문제점을 해결하기 위해 당시 국왕이 취한 정책으로 옳은 것은?

붕당의 폐해가 지금보다 심각한 적이 없었다. 처음에는 예법 문제로 분쟁이 일어나더니, 이제는 한쪽이 다른 쪽을 역적으로 몰아붙이고 있다. …(중략)… 우리나라는 땅이 좁고 인재도 그리 많은 것이 아닌데, 근래에 들어 인재를 등용할 때 같은 붕당의 인사들만 등용하려고 한다. 조정의 대신들이 서로 상대 당을 공격하면서 반역인가 아닌가로 문제를 집중하니 모두가 동의할 수 있는 정책이 나오지 못하고, 정책의 옳고 그름을 판단하기 어렵다.
—영조실록—

- ① 몇몇 세도 가문의 협력을 얻어 정국을 운영하였다.
- ② 붕당을 혁파하고 근대적인 의회 정치를 추구하였다.
- ③ 산림(山林)을 등용하여 붕당 간의 균형을 도모하였다.
- ④ 비변사의 기능을 강화하여 붕당 간의 갈등을 완화하였다.
- ⑤ 정치에 적극 개입하여 탕평파를 중심으로 정국을 운영하였다.

20. 다음 글의 인식과 맥락을 같이 하는 것을 <보기>에서 모두 고른 것은? [3점]

하늘이 낳고 땅이 기르는 것 중에 혈기를 가진 것은 다 같은 사람이다. 그들 가운데 뛰어난 사람이 어느 한 지방을 다스린다면 모두 다 같은 임금이다. 성문을 튼튼하게 하고 해자를 깊게 파서 영토를 잘 지켜 나간다면 어느 것이나 다 나라가 되는 것이다. 화려한 예복이나 몸에 문신을 그리는 것이나 다 같은 풍습에 불과하다. 하늘의 입장에서 보면 무슨 안팎의 차별이 있겠는가. 그러므로 저마다 제 국민을 사랑하고 제 임금을 존중하고 제 나라를 지키고 제 풍습을 좋아하는 것은 중국과 오랑캐가 다 마찬가지이다.
—의산문답—

—<보기>—

ㄱ. 개항 이후 개화 정책 추진에 반대하여 유생층은 위정척사 운동을 전개하였다.

ㄴ. 인조 반정 이후 서인은 의리 명분론을 강화하고, 주자 성리학을 절대화하였다.

ㄷ. 이익은 중국 중심의 역사관에서 벗어나 우리 역사를 체계화할 것을 주장하였다.

ㄹ. 김석문은 지전설을 우리나라에서 처음으로 주장하여 우주관을 크게 전환시켰다.

- ① ㄱ, ㄴ ② ㄱ, ㄷ ③ ㄴ, ㄷ
- ④ ㄴ, ㄹ ⑤ ㄷ, ㄹ

* 확인 사항

○ 답안지의 해당란에 필요한 내용을 정확히 기입(표기)했는지 확인 하시오.

제 4 교시

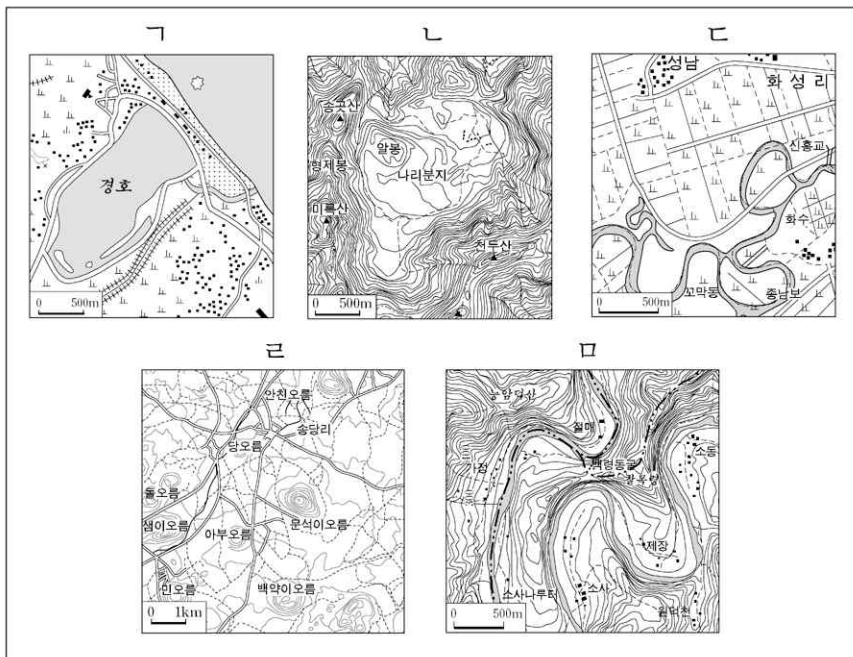
사회탐구영역(한국지리)

성명

수험번호

- 먼저 수험생이 선택한 과목의 문제지인지 확인하시오.
- 선택 과목은 반드시 응시 원서 작성시 자신이 선택한 과목의 문제를 풀어야 합니다.
- 문제지에 성명과 수험 번호를 정확히 기입하시오.
- 수험표에 표기된 선택 1, 선택 2, 선택 3, 선택 4의 과목에 대한 문제를 순서대로 풀어 해당란에 답을 표기하시오.
- 문항에 따라 배점이 다르니, 각 물음의 끝에 표시된 배점을 참고하시오. 3점 문항에만 점수가 표시되어 있습니다. 점수 표시가 없는 문항은 모두 2점입니다.

[1~2] 다음 지형도를 보고 물음에 답하시오.

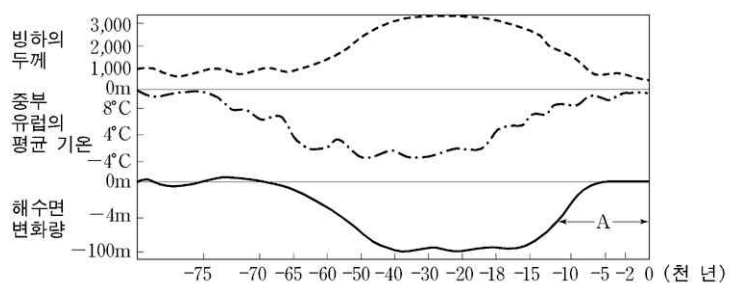


1. 영화 시나리오 중 일부이다. 다음 장면의 촬영 장소로 가장 적절한 지형은?

장면: □□
 어린 ○○가 우두커니 서서 발 밑을 굽어본다.
 발 아래는 천길 낭떠러지
 안개가 휘돌아가는 계곡을 뒤덮고 있다.
 (중략)
 평평 쏟아지는 눈. 뽕뽕 얼어붙은 강물.
 ○○, 눈과 함께 흐르는 눈물을 쓱 문지르고 돌아선다.

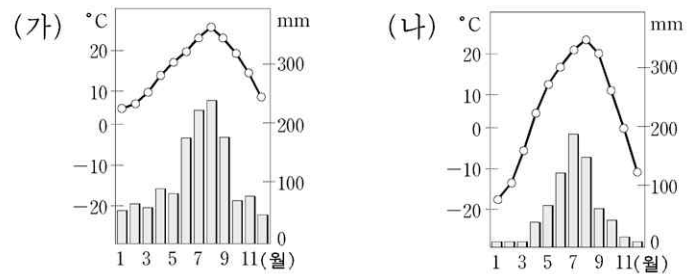
- ① 가 ② 나 ③ 다 ④ 라 ⑤ 로

2. 다음 그래프의 A 시기에 있었던 기후 변화의 영향으로 우리나라에서 발달할 수 있는 지형을 고른 것은? [3점]



- ① 가, 나 ② 가, 다 ③ 나, 다 ④ 나, 로 ⑤ 다, 라

3. 그림 (가)와 (나)는 우리나라의 어느 지역에서 볼 수 있는 월별 강수량과 평균기온을 나타낸 것이다. 이와 관련된 추론으로 옳은 것을 <보기>에서 모두 고른 것은?

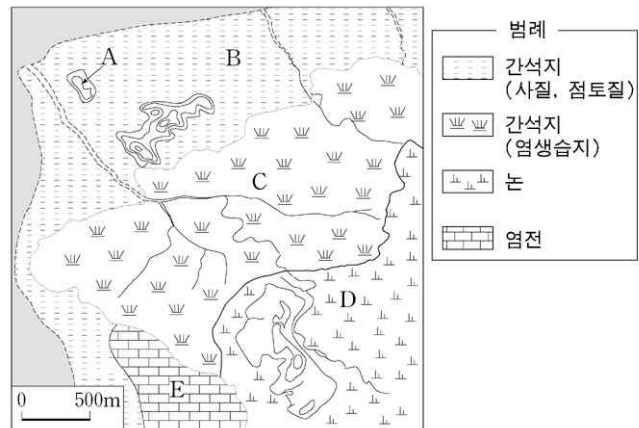


<보기>

- ㄱ. (가)는 (나)보다 해양의 영향을 많이 받는다.
- ㄴ. (가)는 (나)보다 강수량의 계절적 차이가 크다.
- ㄷ. (나) 지역에는 상록활엽수림이 나타난다.
- ㄹ. (나) 지역의 전통가옥은 폐쇄적인 구조가 나타난다.

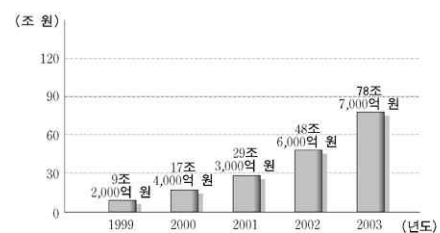
- ① 가, 나 ② 가, 다 ㄹ ④ 나, 다 ⑤ 나, ㄹ

4. 다음 지도의 A~E에 관한 설명 중 옳지 않은 것은?



- ① A는 어항 입지에 좋은 조건을 갖추었다.
- ② B는 해양 생태계의 일부이다.
- ③ C에는 소금기에 강한 식물이 주종을 이룬다.
- ④ D는 염해를 입을 수 있다.
- ⑤ E는 원래 간석지였다.

5. 다음은 국내 전자상거래 실적을 나타낸 그래프이다. 이러한 추세가 계속될 때 나타날 수 있는 지리적 현상을 <보기>에서 모두 고른 것은? [3점]

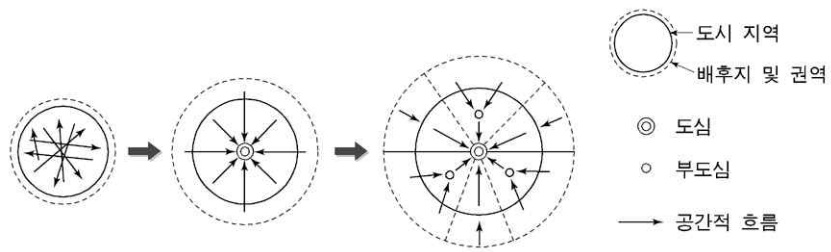


<보기>

- ㄱ. 택배 관련 물류업이 증가한다.
- ㄴ. 상품 구매 범위가 공간적으로 축소된다.
- ㄷ. 서비스 산업의 입지가 비교적 자유로워 진다.
- ㄹ. 소비자에 대한 접근성의 지역적 차이가 커진다.

- ① 가, 나 ② 가, 다 ③ 나, 다 ④ 나, ㄹ ⑤ 다, ㄹ

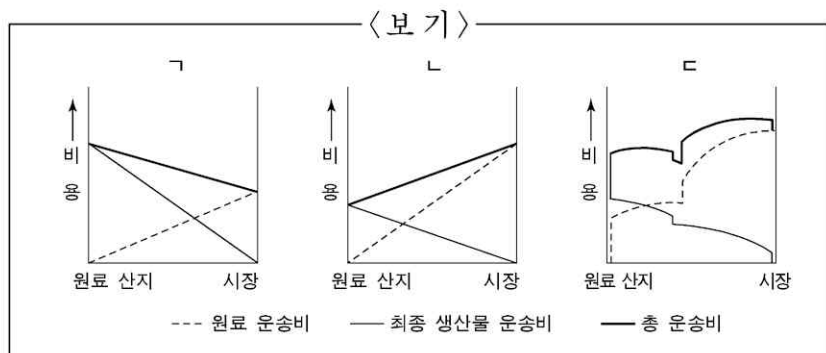
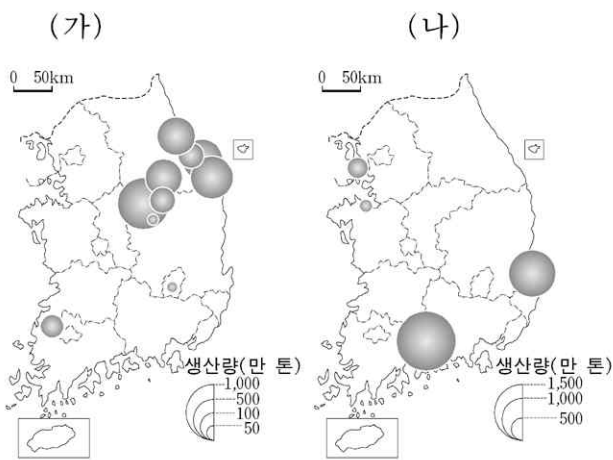
6. 다음은 도시 구조의 변화 과정을 나타낸 것이다. 이에 대한 설명에서 (가)와 (나)에 가장 적절한 것은? [3점]



- 소도시에서 중도시, 대도시로 변화함에 따라 도시 내의 도시심, 부도시심이 형성되고 배후지의 범위가 확대되며 공간적 상호 작용이 일어나 도시 내 (가)가(이) 나타난다.
- 단순하던 도시 구조는 복잡해지고 부도시심을 중심으로 하는 다수의 배후지가 생겨 도시의 내부에 여러 개의 권역이 형성되는 (나)로 변화된다.

- | | |
|----------|-------|
| (가) | (나) |
| ① 집심 현상 | 계층 구조 |
| ② 인구 공동화 | 단핵 구조 |
| ③ 이심 현상 | 단핵 구조 |
| ④ 집적 이익 | 다핵 구조 |
| ⑤ 지역 분화 | 다핵 구조 |

7. 지도 (가)와 (나)는 우리나라 어떤 산업의 입지 분포를 나타낸 것이다. (가)와 (나)에 나타나는 산업의 운송비 구조를 <보기>와 바르게 연결한 것은?



- | | |
|----------------|----------------|
| ① (가)-ㄱ, (나)-ㄴ | ② (가)-ㄱ, (나)-ㄷ |
| ③ (가)-ㄴ, (나)-ㄱ | ④ (가)-ㄴ, (나)-ㄷ |
| ⑤ (가)-ㄷ, (나)-ㄱ | |

8. 다음은 ○○○ 학생이 작성한 보고서의 일부이다. 학생의 탐구 주제로서 가장 적절한 것은?

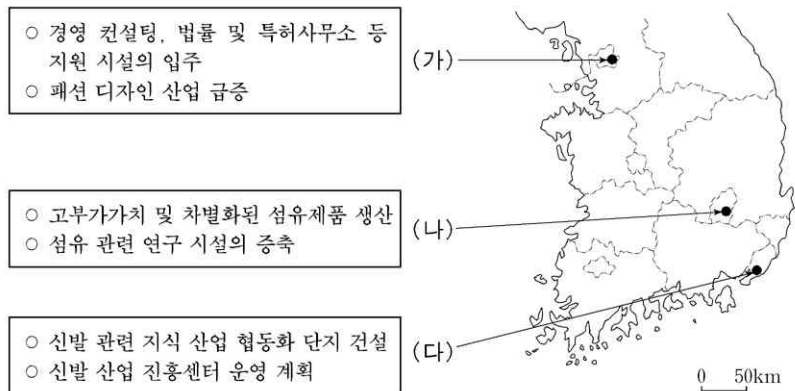
△△ 보고서

○ 조사 항목:
· 대전-무주 간 소요시간, 승객 수 및 운행 횟수
· 대전-무주 간 고속버스 승객의 이용 목적

○ 조사 결과:
· 대전-진주 간의 고속도로에서 대전-무주까지 44km 구간이 개통되었음.
· 대전에서 무주읍까지 소요 시간이 1시간 20분에서 30여분으로 단축되었음.
· 대전-무주 간 승객 수 및 통근 인구가 증가하였음.

- ① 자원 개발에 의한 지역의 변화
- ② 기술 발달에 따른 지역의 변화
- ③ 교외화에 따른 위성도시의 발달
- ④ 교통 발달에 따른 생활권의 변화
- ⑤ 고속도로 개통에 따른 산업의 변화

9. 대도시 내 산업단지 (가), (나), (다)에서 공통적으로 나타나고 있는 변화를 <보기>에서 모두 고른 것은? [3점]

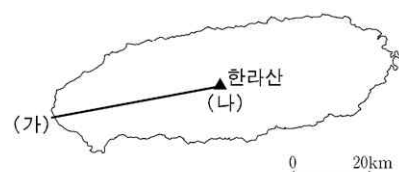


<보기>

ㄱ. 전문 연구 인력 중심의 고용 구조로 전환하고 있다.
ㄴ. 쾌적한 자연 환경을 바탕으로 친환경적 산업이 증가하고 있다.
ㄷ. 지식정보산업 중심으로 산업 구조의 고도화가 진행되고 있다.
ㄹ. 동종 산업체들 간의 연계가 약화되어 집적의 이익이 감소하고 있다.

- ① ㄱ, ㄴ
- ② ㄱ, ㄷ
- ③ ㄴ, ㄷ
- ④ ㄴ, ㄹ
- ⑤ ㄷ, ㄹ

10. 그림은 제주도를 단순화한 지도이다. (가)에서 (나)로 이동할 때에 나타나는 지리적인 현상을 설명한 것 중 옳은 것을 <보기>에서 모두 고른 것은?



<보기>

ㄱ. 경사는 점점 완만해진다.
ㄴ. 다공질의 현무암이 점점 많아진다.
ㄷ. 해발 고도에 따라 식생이 달라진다.
ㄹ. 초지는 중간에 나타났다가 사라진다.
ㅁ. 강수량이 많아져 용수 획득이 쉬워진다.

- ① ㄱ, ㄴ
- ② ㄱ, ㄷ
- ③ ㄴ, ㄷ
- ④ ㄷ, ㄹ
- ⑤ ㄹ, ㅁ

11. 다음은 정부 고속 철도의 개통에 따라 나타난 생활의 변화에 대한 학생들의 발표 내용이다. (가)와 (나)를 보고 진술된 내용으로 적절하지 않은 학생은? [3점]



(나) 구간별 요금과 운행시간

구분	구간	서울-천안	서울-대전	서울-동대구	서울-부산
고속철도	요금	11,400원	19,700원	34,900원	45,000원
	시간	39분	1시간 2분	1시간 51분	2시간 50분
항공기	요금	-	-	57,900원	65,900원
	시간	-	-	50분	1시간
새마을호	요금	7,200원	12,500원	24,500원	33,100원
	시간	1시간	1시간 46분	3시간 29분	4시간 37분

* 항공기 요금은 두 항공사를 비교하여 최저 요금을 선정함

- ① 영수 : 천안의 주부들이 서울로 쇼핑하러 가는 모습을 이전 보다 자주 보게 되었습니다.
- ② 지혜 : 대전에서 서울로 이동 시간은 단축되었으나 거리에 비해 요금이 비쌉니다.
- ③ 창호 : 고속철도가 개통된 이후 대구 공항의 이용객이 증가하였습니다.
- ④ 미옥 : 고속철도가 개통되었으나 진주는 큰 변화가 없습니다.
- ⑤ 선규 : 부산에서 기차로 서울 도심 근처까지 좀 더 빨리 접근할 수 있게 되었습니다.

12. 다음은 철수가 세운 지리 조사 계획서의 일부이다. 철수가 조사하고자 하는 지형은?

○ 실내 조사:

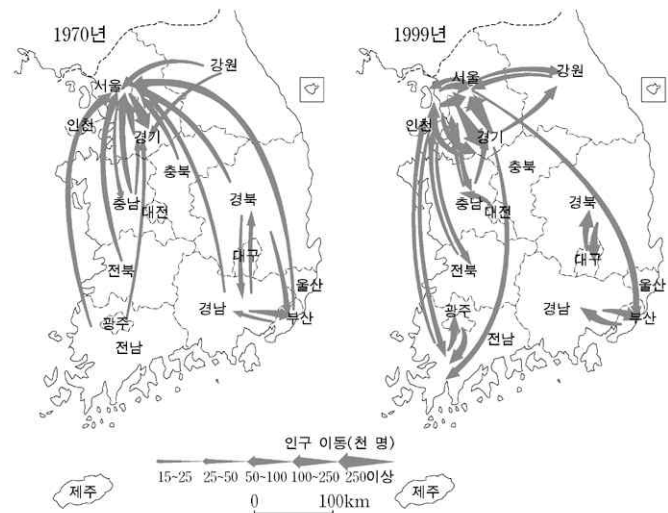
- 지질도를 이용하여 조사 지역의 북북동에서 남남서 방향의 구조선과 지층을 확인한다.
- 지형도에서 하계망을 분석한다.

○ 야외 조사:

- ○○군 ○○면 ○○리 일대 단면에서 자갈 등의 퇴적층을 덮고 있는 두터운 암석층에서 '거무스름하고 곳곳에 구멍이 많이 난 돌'의 표본을 얻는다.
- 절리에 의해 형성된 '다각형의 기둥 형태'를 관찰하여 스케치한다.
- 평탄한 땅에서 벼를 추수하는 농부를 만나 면담을 하고 녹음한다.

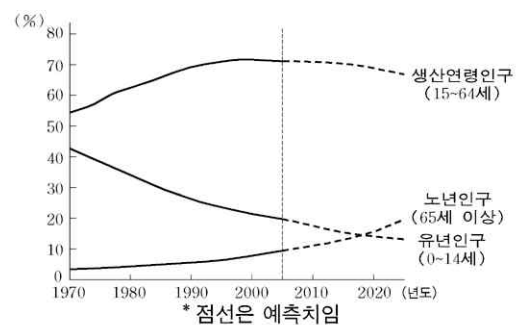
- ① 침식분지
- ② 선상지
- ③ 용암대지
- ④ 삼각주
- ⑤ 범람원

13. 제시된 지도를 보고 우리나라 인구 이동의 변화를 가장 적절하게 분석한 학생은?



- ① 현제: 역도시화 현상이 감소하였다.
- ② 영희: 수도권 내 인구 이동이 증가하였다.
- ③ 종만: 수도권으로의 인구 이동이 증가하였다.
- ④ 성훈: 우리나라 전체 인구 이동량이 감소하였다.
- ⑤ 태은: 대도시와 대도시 외부 지역 간의 인구 이동이 감소하였다.

14. 다음은 우리나라의 연령별 인구 구성비 추이를 나타낸 그래프이다. 이와 관련한 추론으로 옳은 것을 <보기>에서 모두 고른 것은? [3점]



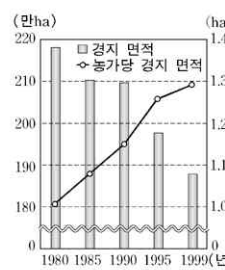
<보기>

- ㄱ. 인구 증감 유형은 소산소사형이 될 것이다.
- ㄴ. 실버산업에 대한 사회적 수요가 커질 것이다.
- ㄷ. 2010년 이후에는 피라미드형 인구구조가 나타날 것이다.
- ㄹ. 2010년 이후에는 노년 부양비가 현저하게 감소하게 될 것이다.

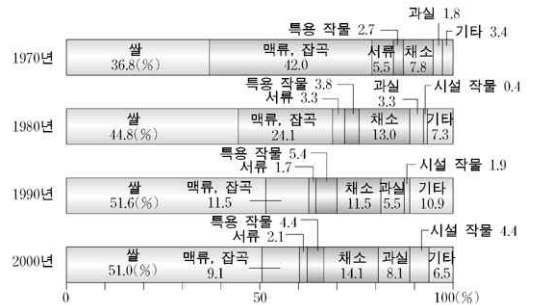
- ① ㄱ, ㄴ
- ② ㄱ, ㄷ
- ③ ㄴ, ㄷ
- ④ ㄴ, ㄹ
- ⑤ ㄷ, ㄹ

15. 다음 자료를 바탕으로 우리나라 농업의 변화를 설명한 것 중 옳지 않은 것은? [3점]

경지 면적의 변화

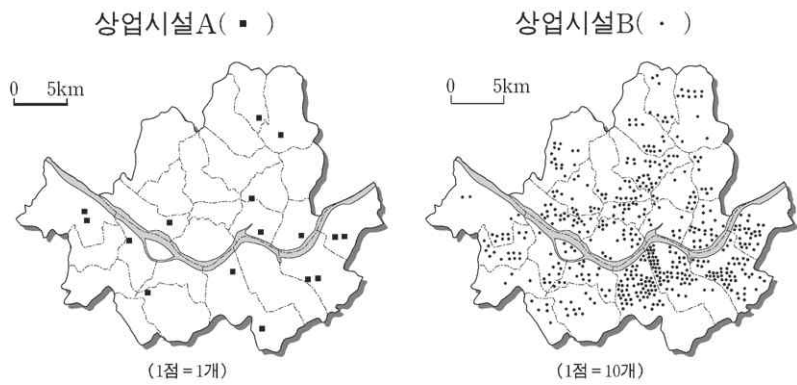


작물 재배 면적의 변화



- ① 지속적인 간척으로 총 경지 면적이 확대되고 있다.
- ② 농촌 인구의 감소로 농가당 경지 면적이 확대되고 있다.
- ③ 교통의 발달로 시설 재배 작물의 비중이 늘어나고 있다.
- ④ 상품 작물을 재배하여 수익성 위주의 영농으로 변화되고 있다.
- ⑤ 생활 수준의 향상과 식생활의 변화로 주곡 작물의 생산 비율이 줄어들었다.

16. 지도는 서울시 상업시설의 분포를 보여준다. 상업시설 A와 상업시설 B에 대한 설명 중 옳은 것을 <보기>에서 모두 고른 것은? [3점]



〈보기〉

ㄱ. 교통이 발달하면 A는 도심으로 집중한다.
 ㄴ. 인구가 증가하면 A의 수가 B보다 많아진다.
 ㄷ. B 간의 거리가 좁은 것은 최소요구치가 작기 때문이다.
 ㄹ. A 간의 거리가 먼 것은 재화의 도달 범위가 B보다 크기 때문이다.

- ① ㄱ, ㄴ ② ㄱ, ㄷ ③ ㄴ, ㄷ ④ ㄴ, ㄹ ⑤ ㄷ, ㄹ

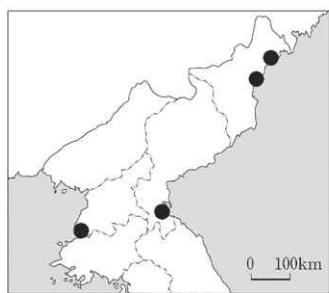
17. 다음 글의 밑줄 친 부분에 대한 지리적 설명으로 적절하지 않은 것은?

○ ㉠서울 근교와 각 지방의 대도시 주변의 파밭, 마늘밭, 배추밭, 오이밭에서는 10무(4두락)의 땅으로 수 만전(수 백냥)의 수입을 올린다. ㉡서북 지방의 담배밭, 관북 지방의 삼밭, 한산의 모시밭, 전주의 생강밭, 강진의 고구마밭, 황주의 지황밭은 농민이 가장 잘 되었을때의 수입과 비교하더라도 이익이 열 배나 된다.
 —정약용의 「경세유표」—

○ 예서부터 옳게 금강이다. 형은 서서남(西西南)으로 빗밧이 ㉢충청 전라 양도의 접경을 골타고 흐른다. 이로부터 ㉣물은 조수(潮水)까지 섞여 더욱 흐리나 그득하니 벽차고, ㉤강 너비가 훨씬 퍼진 게 제법 양양하다.
 —채만식의 「탁류」—

- ① ㉠ 대도시 근교에 원예 농업이 발달하였다.
 ② ㉡ 상품 작물의 재배가 이루어졌다.
 ③ ㉢ 하천이 지역의 경계를 이룬다.
 ④ ㉣ 하천의 유로에 감조 구간이 나타난다.
 ⑤ ㉤ 삼각주가 발달하였다.

18. 지도에 ●으로 표시된 곳의 공통점을 바르게 설명한 것을 <보기>에서 모두 고른 것은? [3점]

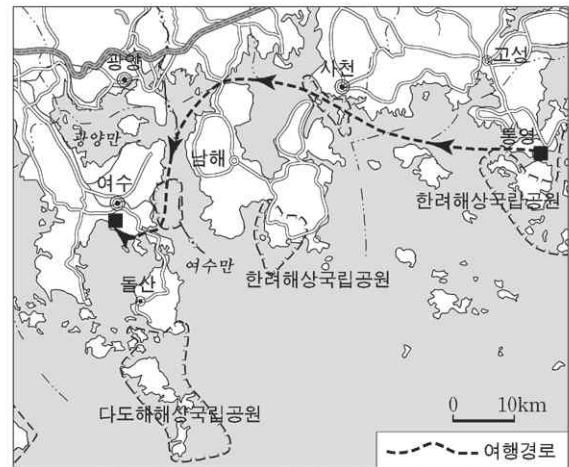


〈보기〉

ㄱ. 최근 남한과 교류가 추진되고 있는 곳이다.
 ㄴ. 북한의 공업 도시로서 일제 시대부터 발달하였다.
 ㄷ. 외국인의 직접 투자가 활발히 일어나고 있는 곳이다.
 ㄹ. 유엔개발계획(UNDP) 사업이 이루어지는 경제 개발 지역이다.

- ① ㄱ, ㄴ ② ㄱ, ㄷ ③ ㄴ, ㄷ ④ ㄴ, ㄹ ⑤ ㄷ, ㄹ

19. 영수는 가족들과 함께 지도에 표시된 경로를 따라 여행하였다. 관찰한 사항으로 옳은 것을 <보기>에서 모두 고른 것은?

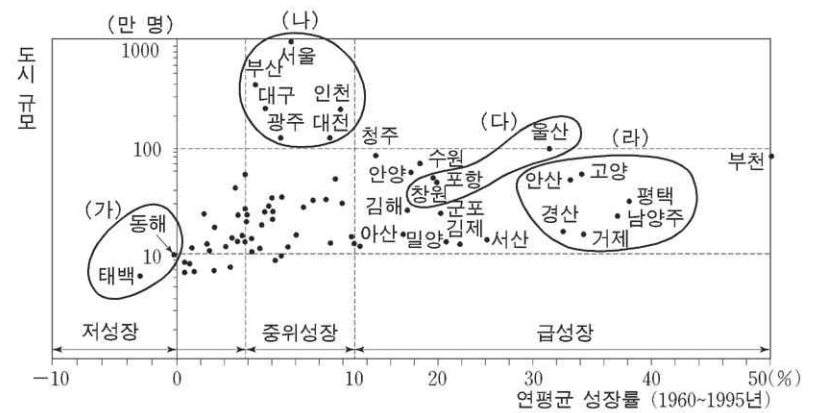


〈보기〉

ㄱ. 해안을 따라 나타나는 석호
 ㄴ. 만입된 곳에 발달한 항구들
 ㄷ. 바다 위에 떠 있는 수산 양식 시설물
 ㄹ. 농경지 조성을 위해 축조된 대규모 방조제

- ① ㄱ, ㄴ ② ㄱ, ㄷ ③ ㄴ, ㄷ ④ ㄴ, ㄹ ⑤ ㄷ, ㄹ

20. 그림은 우리나라 도시들의 규모와 인구 성장률을 나타낸 것이다. 이에 대한 설명으로 옳은 것을 <보기>에서 모두 고른 것은? [3점]



〈보기〉

ㄱ. (가)군의 도시들은 자원 의존형 지역 개발과 관계가 있다.
 ㄴ. (나)군의 도시들은 조선 시대 초기부터 지역 거점으로 성장하였다.
 ㄷ. (다)군의 도시들은 정부 주도적 공업화 정책으로 급성장하였다.
 ㄹ. (라)군의 도시들은 지식정보형 산업의 집적으로 크게 성장하였다.

- ① ㄱ, ㄴ ② ㄱ, ㄷ ③ ㄴ, ㄷ ④ ㄴ, ㄹ ⑤ ㄷ, ㄹ

* 확인 사항
 ○ 답안지의 해당란에 필요한 내용을 정확히 기입(표기)했는지 확인 하시오.

제 4 교시

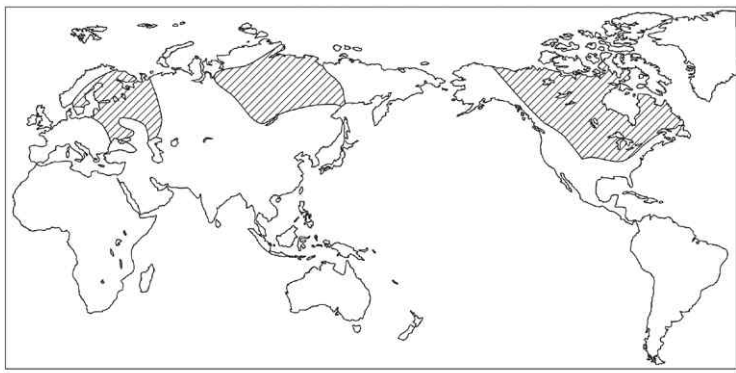
사회탐구영역(세계지리)

성명

수험 번호

- 먼저 수험생이 선택한 과목의 문제지인지 확인하시오.
- 선택 과목은 반드시 응시 원서 작성시 자신이 선택한 과목의 문제를 풀어야 합니다.
- 문제지에 성명과 수험 번호를 정확히 기입하시오.
- 수험표에 표기된 선택 1, 선택 2, 선택 3, 선택 4의 과목에 대한 문제를 순서대로 풀어 해당란에 답을 표기하시오.
- 문항에 따라 배점이 다르니, 각 물음의 끝에 표시된 배점을 참고하시오. 3점 문항에만 점수가 표시되어 있습니다. 점수 표시가 없는 문항은 모두 2점입니다.

1. 지도의 빗금 친 지역에 대한 설명으로 옳은 것을 <보기>에서 모두 고른 것은? [3점]

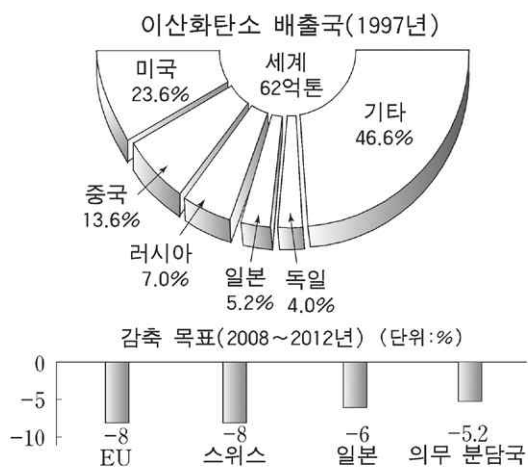


<보기>

- ㄱ. 철광석이 매장되었을 가능성이 높다.
- ㄴ. 오랜 기간 침식을 받아 형성된 땅이다.
- ㄷ. 화산이 분포하고 지진이 자주 발생한다.
- ㄹ. 고생대부터 중생대까지 조산 운동을 받았다.

- ① ㄱ, ㄴ ② ㄱ, ㄷ ③ ㄴ, ㄷ ④ ㄴ, ㄹ ⑤ ㄷ, ㄹ

2. 자료를 바탕으로 알 수 있는 내용을 <보기>에서 모두 고른 것은?

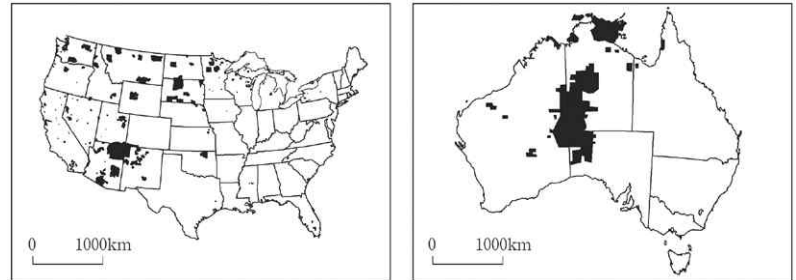


<보기>

- ㄱ. 미국은 이산화탄소 감축에 있어 EU보다 적극적이다.
- ㄴ. 전 세계의 1인당 이산화탄소 배출량은 10톤을 넘는다.
- ㄷ. 유럽 선진국은 많은 양의 이산화탄소를 감축할 것이다.
- ㄹ. 이산화탄소의 주요 배출국은 북반구에 있는 나라들이다.

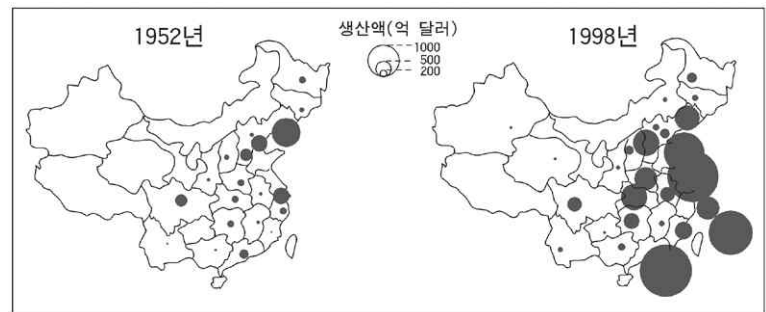
- ① ㄱ, ㄴ ② ㄱ, ㄷ ③ ㄴ, ㄷ ④ ㄴ, ㄹ ⑤ ㄷ, ㄹ

3. 지도에 검게 표시된 지역의 공통적인 특징에 대한 설명 중 옳은 것은?



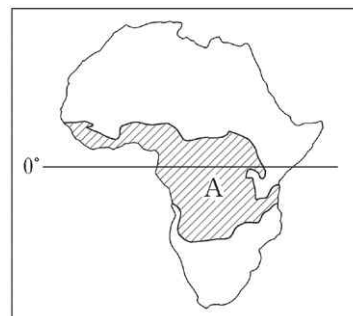
- ① 첨단 산업이 집중된 공업 지역이다.
- ② 원주민에게 자치권이 부여된 보호 구역이다.
- ③ 관개를 통해 조성된 대규모의 원예 농업 단지이다.
- ④ 아시아에서 이주한 사람들의 집중적인 거주지이다.
- ⑤ 다이아몬드가 대량으로 채굴되고 있는 광산 지역이다.

4. 지도는 중국의 지역별 공업 생산액을 나타낸 것이다. 이러한 변화의 원인으로 가장 적절한 것은?



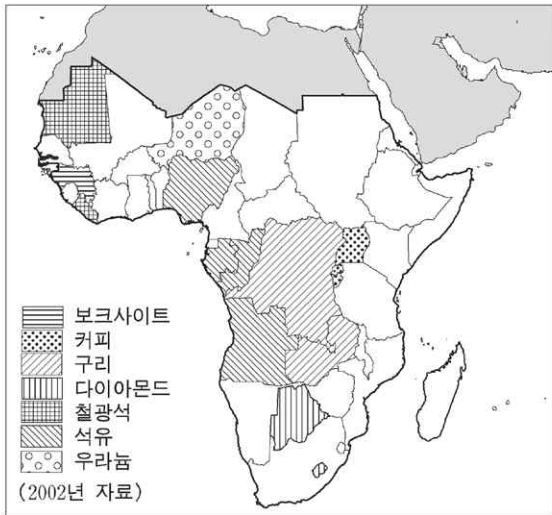
- ① 북서부 지역의 풍부한 지하 자원 개발
- ② 동부 지역의 하천을 이용한 내륙 수운의 발달
- ③ 서부 지역 대개발을 통한 지역 격차 해소 정책
- ④ 북동부 지역에서 해안 지역으로의 노동력 유입
- ⑤ 해안 지역에서 외국 자본과 기술의 적극적 유치

5. A지역에 주로 분포하는 토양에 관한 설명 중 옳은 것은?



- ① 전체적으로 회백색을 띤다.
- ② 유기물이 많아 매우 비옥하다.
- ③ 모암과 지형의 특성을 잘 반영한다.
- ④ 표층에 철과 알루미늄이 집적되어 있다.
- ⑤ 우크라이나 지방과 미국의 프레리 지방에도 분포한다.

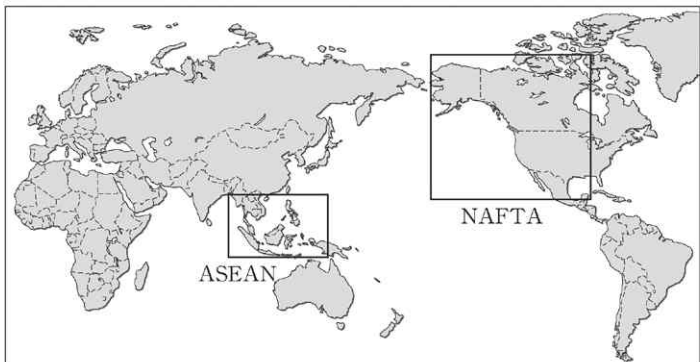
6. 지도는 '중·남부 아프리카'에서 한 가지 수출품이 총 수출액의 50% 이상을 차지하는 국가를 나타낸 것이다. 이로 인해 발생하는 문제에 대한 설명으로 옳은 것을 <보기>에서 모두 고른 것은? [3점]



〈보기〉
 ㄱ. 아프리카 국가 간 경제 협력체 구성이 매우 어렵다.
 ㄴ. 비싼 노동 임금 때문에 선진국이 자본 투자를 꺼린다.
 ㄷ. 부가가치가 높은 공업 제품에 대한 대외 의존성이 높다.
 ㄹ. 국제 시장에서의 가격 하락에 의해 국가 경제 전체가 흔들린다.

- ① ㄱ, ㄴ ② ㄱ, ㄷ ③ ㄴ, ㄷ ④ ㄴ, ㄹ ⑤ ㄷ, ㄹ

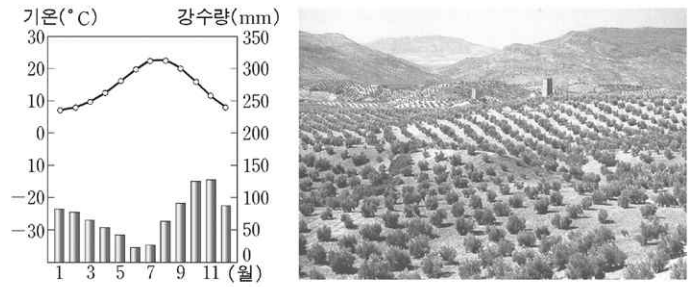
7. 다음은 세계 경제 블록에 관해 수업 시간에 이루어진 대화이다. 잘못 설명한 학생은?



교사 : 지도를 보고 경제 블록에 대해 발표해 볼까요?
 학생1 : 지리적으로 인접하거나 경제적으로 상호 보완 관계에 있는 나라들끼리 경제 블록을 형성합니다.
 학생2 : 북미 자유 무역 협정(NAFTA)은 미국, 캐나다, 멕시코 간에 형성된 경제 블록입니다.
 학생3 : 지도상에 나타나지 않은 경제 블록도 여러 개 있습니다. 예를 들면, 우리 나라가 가입해 있는 아시아·태평양 경제 협력체(APEC)가 있습니다.
 교사 : 경제 블록 형성에도 불구하고, 국가 간 자유 무역 협정(FTA)을 맺는 이유는 무엇일까요?
 학생4 : 국제적 약속이 잘 이행되지 않고, 국가마다 입장이 다르기 때문입니다.
 교사 : 한국-칠레 간 FTA 발효 이후, 농산물 개방 가운데 사과와 배는 제외했지만, 포도는 계절에 따라 다른 관세를 적용하기로 했습니다. 왜 그랬을까요?
 학생5 : 포도는 우리 나라와 수확기가 같기 때문입니다.

- ① 학생1 ② 학생2 ③ 학생3 ④ 학생4 ⑤ 학생5

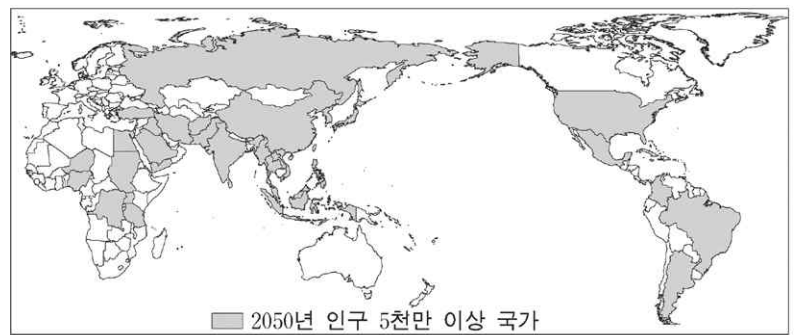
8. 기후 그래프와 사진 경관이 나타나는 지역에 대한 설명으로 옳은 것을 <보기>에서 모두 고른 것은?



〈보기〉
 ㄱ. 올리브, 오렌지 등을 재배하는 농장이 있다.
 ㄴ. 타이가라 불리는 침엽수림 지대가 넓게 나타난다.
 ㄷ. 여름에는 겨울에 비해 산불이 발생할 가능성이 높다.
 ㄹ. 연 강수량 250mm 이하로 증발량이 강수량보다 많다.

- ① ㄱ, ㄴ ② ㄱ, ㄷ ③ ㄴ, ㄷ ④ ㄴ, ㄹ ⑤ ㄷ, ㄹ

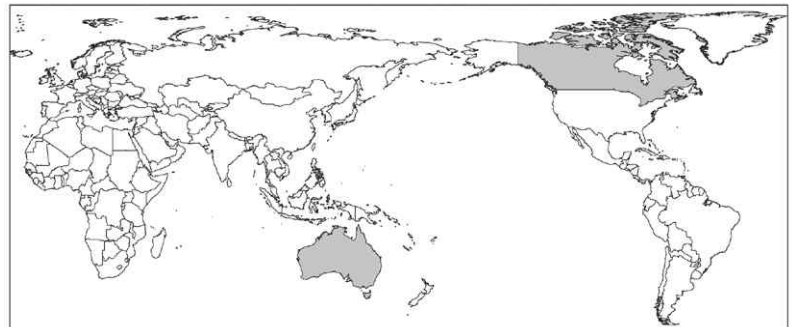
9. 다음 지도는 수행평가 과제인 '2050년 인구 5천만 이상 국가 예측'에 대해 제출된 결과물이다. 이러한 결과를 얻기 위해 사용된 자료로 적절한 것을 <보기>에서 모두 고른 것은?



〈보기〉
 ㄱ. 국가별 2003년 성비
 ㄴ. 국가별 2003년 인구 수
 ㄷ. 국가별 2003년 도시화율
 ㄹ. 국가별 2002~2003년 인구 증가율

- ① ㄱ, ㄴ ② ㄱ, ㄷ ③ ㄴ, ㄷ ④ ㄴ, ㄹ ⑤ ㄷ, ㄹ

10. 지도에 검게 표시된 두 나라의 공통점으로 옳지 않은 것은?



- ① 과거 영국의 식민지였다.
 ② 주요 공업 지역이 편중되어 있다.
 ③ 국토 면적에 비해 인구 수가 적다.
 ④ 광활한 침엽수림대가 펼쳐져 있다.
 ⑤ 철광석, 구리 등의 지하 자원이 풍부하다.

11. 철수가 여행할 나라에 관하여 수집한 정보이다. 이를 통해 분석한 내용으로 옳지 않은 것은? [3점]

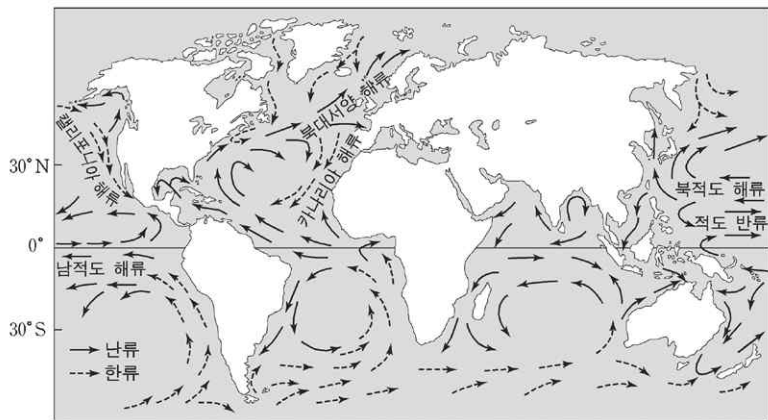
국기	면적 (만 km ²)	인구 (만 명)	수도의 경·위도	주요 언어	주요 관광 자원
	27.1	385	남위 41° 17' 동경 174° 46'	영어	화산 및 빙하 온천욕과 스키

월	1	2	3	4	5	6	7	8	9	10	11	12
기온(℃)	16.3	16.5	15.4	13.4	11.2	9.5	8.6	8.9	10.2	11.5	13.1	15.0
강수량(mm)	78.9	61.2	93.9	108.4	120.3	137.6	145.8	132.6	107.7	96.6	90.5	93.3

—수도의 월평균 기온과 월평균 강수량—

- ① 영국의 영향을 받았다.
- ② 지각이 불안정한 편이다.
- ③ 우리 나라와 시차가 있다.
- ④ 편서풍과 난류의 영향을 많이 받는다.
- ⑤ 우리 나라에 비해 4계절의 변화가 뚜렷하다.

12. 그림은 주요 해류의 흐름을 나타낸다. 대기 대순환과 관련하여 바르게 추론한 내용을 <보기>에서 모두 고른 것은? [3점]



—<보기>—

- ㄱ. 카나리아 해류는 대체로 무역풍의 방향과 일치한다.
- ㄴ. 북대서양 해류는 대체로 극동풍의 방향과 일치한다.
- ㄷ. 무역풍이 약해지면 적도 반류의 흐름은 강해진다.
- ㄹ. 극동풍이 강해지면 캘리포니아 해류의 흐름은 약해진다.

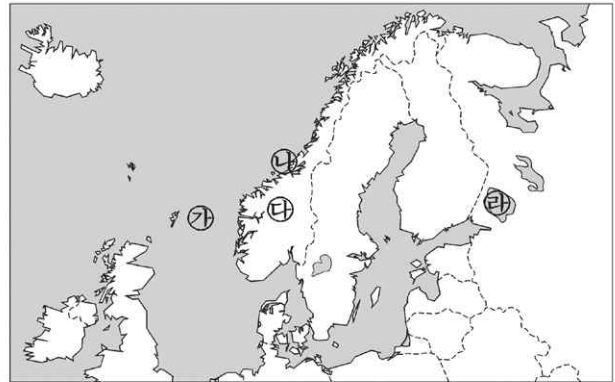
- ① ㄱ, ㄴ ② ㄱ, ㄷ ③ ㄴ, ㄷ ④ ㄴ, ㄹ ⑤ ㄷ, ㄹ

13. 자료에 근거하여 추론한 내용으로 적절하지 않은 것은? [3점]

이슬람의 가장 큰 축제는 '이들 아드하'라 불리는 희생제이다. 이것은 성지(메카) 순례 후에 열리는 축제이다. 축제 때 리비아의 모든 성인 남자 무슬림들은 농촌에서 구입한 각자의 양을 잡아 신에게 바친다. 유전 개발과 유가 폭등으로 부유해진 도시의 일부 계층 사람들은 일자리를 찾아 농촌을 떠난 가난한 사람들에게 여러 마리의 양을 잡아 나누어 준다. 그들은 서민들과 더불어 희생제의 의미를 되새긴다.

- ① 희생제는 농촌 경제에 도움을 준다.
- ② 도시화가 촉진되어 유목민은 감소한다.
- ③ 성지 순례를 하기 위해 국경을 통과한다.
- ④ 종교 행사를 통해 공동체 의식을 강화한다.
- ⑤ 유전 개발 이후 계층 간 빈부 격차는 축소된다.

14. 지도에 표시된 ㉠~㉣ 지역에 대한 설명 중 옳은 것을 <보기>에서 모두 고른 것은? [3점]



—<보기>—

- ㄱ. ㉠-석유와 천연가스가 생산되고 있다.
- ㄴ. ㉡-빙식곡이 침수되어 형성된 피오르 해안이 발달해 있다.
- ㄷ. ㉢-신생대에 형성된 험준한 산지가 발달해 있다.
- ㄹ. ㉣-화구가 함몰된 후 물이 고여 형성된 호수이다.

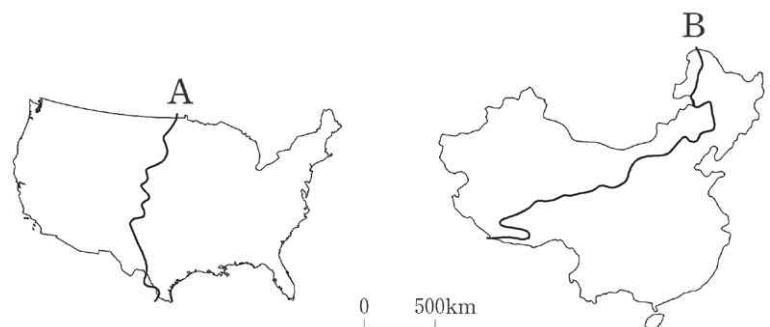
- ① ㄱ, ㄴ ② ㄱ, ㄷ ③ ㄴ, ㄷ ④ ㄴ, ㄹ ⑤ ㄷ, ㄹ

15. 라틴 아메리카에 관한 모듈별 학습의 주제와 활동 내용이다. (가)~(마)에 들어갈 내용으로 적절하지 않은 것은? [3점]

(학습 주제)	(학습 활동 내용)
유럽인들의 라틴 아메리카 진출 →	(가)
문화의 강제 이식 및 노예 수입 →	(나)
농업과 대토지 소유제의 변화 →	(다)
단일 경작에 따른 경제 불안 →	(라)
자원 개발 및 환경 문제 →	(마)

- ① (가)-에스파냐와 포르투갈의 진출 경로 확인
- ② (나)-인종과 문화의 혼합적 특징 파악
- ③ (다)-플랜테이션에 따른 빈부 격차 조사
- ④ (라)-커피 재배 면적의 확대 계획 조사
- ⑤ (마)-아마존 개발에 따른 열대림 파괴 현황 파악

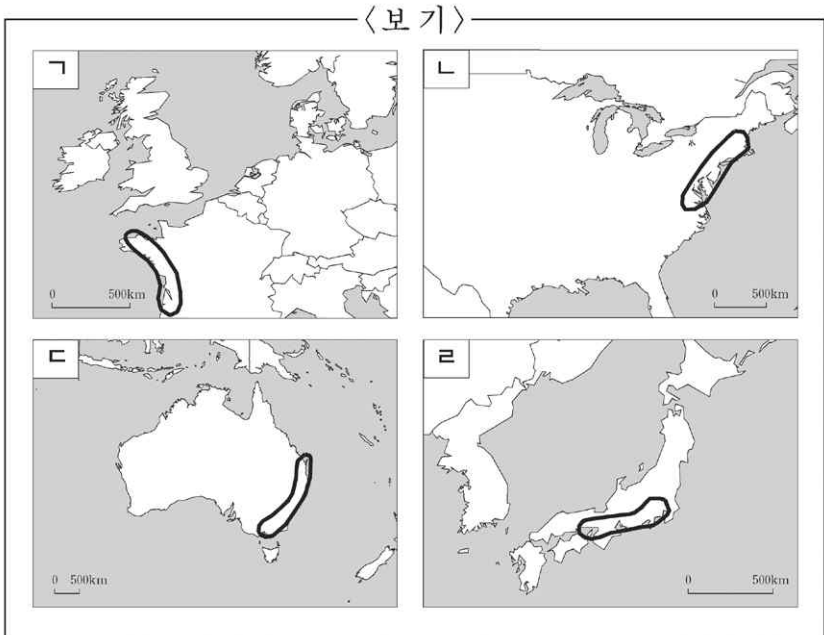
16. 미국과 중국의 지도에서 A와 B는 지역 구분의 기준선이 된다. A와 B를 경계로 크게 구분되는 자연적 요소와 인문적 요소를 바르게 짝지은 것은? [3점]



- ① 강수량, 농업 형태 ② 강수량, 공업 분포
- ③ 해발 고도, 공업 분포 ④ 해발 고도, 농업 형태
- ⑤ 토양 분포, 인구 밀도

17. 아래 제시된 특성이 공통적으로 나타나는 지역을 <보기>에서 모두 고른 것은? [3점]

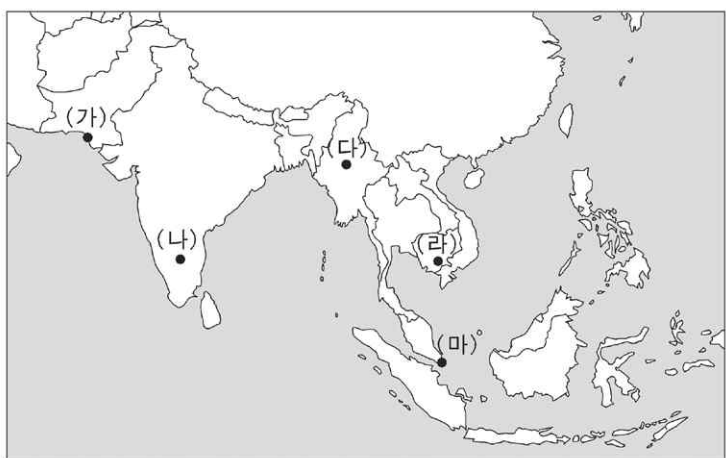
- 세계 경제와 금융, 무역 및 다국적 기업 등의 중심지 역할을 하는 최상위 세계도시를 포함하고 있다.
- 인접한 대도시권이 서로 서로 연결되어 거대한 인구 조밀 지대가 형성되어 있다.



- ① 가, 나 ② 가, 다 ③ 나, 다 ④ 나, 라 ⑤ 다, 라

18. (A), (B)에 해당하는 지역을 바르게 짝지은 것은?

- (A) 이 지역은 우주 항공 산업과 소프트웨어 산업이 세계적인 수준으로 발달하여, 이 나라의 '실리콘 밸리'라고 불리기도 한다. 단지에 입주한 수백 개의 기업에는 영어를 구사하는 정보 기술(IT) 인력이 집중하여 소프트웨어 개발에 주력하고 있다.
- (B) 이 지역 개발 사업은 인접한 국가들끼리 교통, 에너지, 관광, 무역, 환경, 통신, 인력 개발 등을 공동으로 추진하는 것이다. 아시안 슈퍼 고속도로가 건설되고 있으며, 하천에 수십 개의 댐이 건설되어 하류 지역의 벼농사 피해, 광산 개발에 의한 수질 오염 등의 문제가 발생하고 있다.



- | | |
|-----------|-----------|
| (A)-(B) | (A)-(B) |
| ① (가)-(마) | ② (나)-(가) |
| ③ (나)-(라) | ④ (다)-(라) |
| ⑤ (다)-(마) | |

19. 지도에 점선으로 표시된 지역은 '러시아와 그 주위 국가들'의 일부이다. 이 지역에 대한 옳은 설명을 <보기>에서 모두 고른 것은? [3점]



- <보기>
- ㉠. 대부분 산맥과 고원으로 이루어져 있다.
 - ㉡. 세계적인 곡창인 흑토 지대를 포함하고 있다.
 - ㉢. 자원을 결합하여 형성된 주요 공업 단지들이 입지하고 있다.
 - ㉣. 최근 산림 자원 개발이 활발하며, 원목은 태평양 연안의 항구로 수송된다.

- ① 가, 나 ② 가, 다 ③ 나, 다 ④ 나, 라 ⑤ 다, 라

20. 지도와 자료를 바탕으로 검게 표시된 나라에서 발생한 자연 재해의 주요 원인을 <보기>에서 모두 고른 것은?



1998년 9월 중순까지 2개월 동안 지속된 최악의 홍수로 엄청난 타격을 입었다. 국토의 2/3가 물에 잠겼으며, 1,000명 이상이 사망했고, 3,000만 명 이상의 이재민이 발생했다. 더욱 심각한 것은 수도 다카와 치타공 항구를 잇는 생명줄인 도로가 1개월 이상 물에 잠기면서 이 나라의 수출 길이 완전히 막혀버렸다는 것이다.

- <보기>
- ㉠. 해류
 - ㉡. 지형
 - ㉢. 편서풍
 - ㉣. 열대성 저기압

- ① 가, 나 ② 가, 다 ③ 나, 다 ④ 나, 라 ⑤ 다, 라

* 확인 사항

- 답안지의 해당란에 필요한 내용을 정확히 기입(표기)했는지 확인 하시오.

제 4 교시

사회탐구영역(경제지리)

성명

수험번호

- 먼저 수험생이 선택한 과목의 문제지인지 확인하시오.
- 선택 과목은 반드시 응시 원서 작성시 자신이 선택한 과목의 문제를 풀어야 합니다.
- 문제지에 성명과 수험 번호를 정확히 기입하시오.
- 수험표에 표기된 선택 1, 선택 2, 선택 3, 선택 4의 과목에 대한 문제를 순서대로 풀어 해당란에 답을 표기하시오.
- 문항에 따라 배점이 다르니, 각 물음의 끝에 표시된 배점을 참고하시오. 3점 문항에만 점수가 표시되어 있습니다. 점수 표시가 없는 문항은 모두 2점입니다.

1. 다음 글을 읽고 도출할 수 있는 자원의 특성을 <보기>에서 모두 고른 것은? [3점]

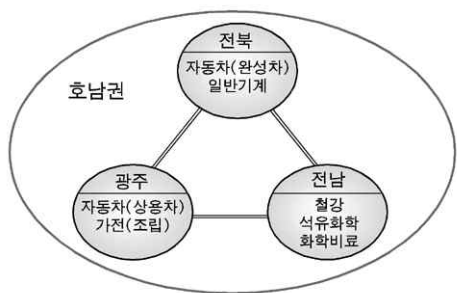
- 석유 가격이 폭등함에 따라, 폐광되었던 석탄 광산이 다시 개발되기도 하였다.
- 다른 지역에서는 돼지고기를 먹지만, 이슬람권에서는 종교적인 이유로 돼지고기를 먹지 않는다.
- 과거에는 어디에서나 구할 수 있는 깨끗한 공기나 맑은 물은 자원이 될 수 없었으나 오늘날에는 중요한 자원으로 인식되기도 한다.

<보기>

- ㄱ. 자원의 고갈은 기술이 발달하면 해결된다.
- ㄴ. 자원의 이용은 문화적 배경에 따라 달라진다.
- ㄷ. 자원의 개발은 자원민족주의를 초래하기도 한다.
- ㄹ. 자원의 가치는 경제성과 희소성에 따라 좌우된다.

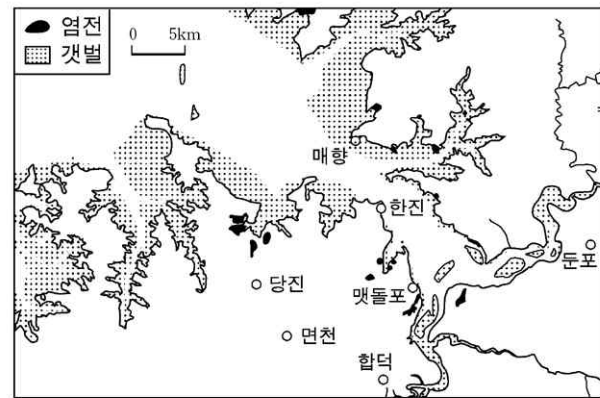
- ① ㄱ, ㄴ ② ㄱ, ㄷ ③ ㄴ, ㄷ
- ④ ㄴ, ㄹ ⑤ ㄷ, ㄹ

2. 다음은 호남권 시·도별 산업을 특성화시키기 위한 정부 정책을 표현한 것이다. 이 지역에 발달이 기대되는 공업 입지의 유형이 아닌 것은?



- ① 원료 지향형 공업 ② 집적 지향형 공업
- ③ 동력 지향형 공업 ④ 노동력 지향형 공업
- ⑤ 적환지 지향형 공업

3. 다음 지도에 나타난 지역의 변화에 대한 추론으로 적절하지 않은 것은? [3점]



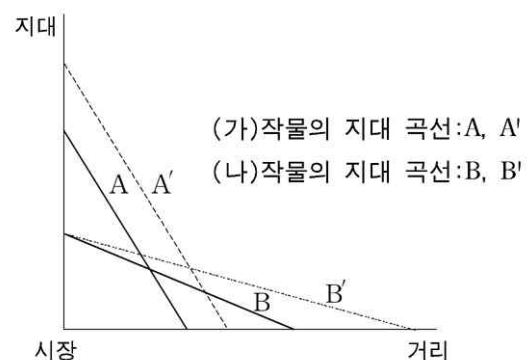
과거



현재

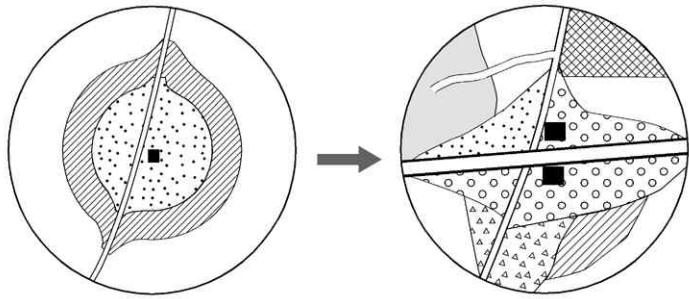
- ① 방조제 건설로 교통이 편리해졌다.
- ② 제염업에 종사하는 인구 비율이 감소했다.
- ③ 풍부한 용수 때문에 화력 발전소가 입지했다.
- ④ 고속도로의 개통으로 공장 입지가 유리해졌다.
- ⑤ 방조제 건설로 농업 및 공업 용수가 풍부해졌다.

4. (가), (나) 작물의 지대 곡선에 대한 설명으로 옳지 않은 것은? (단, 지대=시장가격-생산비-운송비) [3점]



- ① (가)는 (나)보다 토지 이용의 집약도가 높다.
- ② (가)에 비하여 (나)는 운송비의 부담이 적다.
- ③ (나)의 운송비가 감소하면 B→B'로 이동한다.
- ④ (가)는 다른 변동 없이 생산비가 상승하면 A→A'로 이동한다.
- ⑤ (나)의 지대 곡선이 B일 때 A→A'이면 (나)의 재배 범위가 축소된다.

5. 그림은 어느 지역의 토지 이용 변화를 모식적으로 나타낸 것이다. 이 지역의 경제 활동 변화에 대한 추론으로 옳은 것을 <보기>에서 모두 고른 것은? [3점]



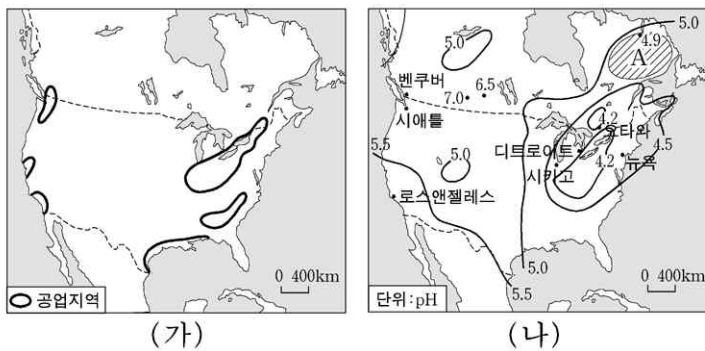
[] 감자 [] 임야 [] 옥수수 [] 주거지 [] 휴양림
 [] 고속도로 [] 농공단지 [] 과수·원예 [] 낙농업 지대

— <보기> —

ㄱ. 관광객이 증가하였을 것이다.
 ㄴ. 농경지 면적이 감소하였을 것이다.
 ㄷ. 상업적 영농의 성격이 강화되었을 것이다.
 ㄹ. 농가당 농업의 소득의 비중이 감소했을 것이다.

- ① ㄱ, ㄴ ② ㄱ, ㄷ ③ ㄴ, ㄷ
 ④ ㄴ, ㄹ ⑤ ㄷ, ㄹ

6. 지도는 북아메리카 지역으로, (가)는 주요 공업 지역을, (나)는 강수의 산성도를 나타낸 것이다. A 지역에 산성비가 내리는 주된 이유는? (산성비 : 빗물의 pH 농도 5.6 이하)



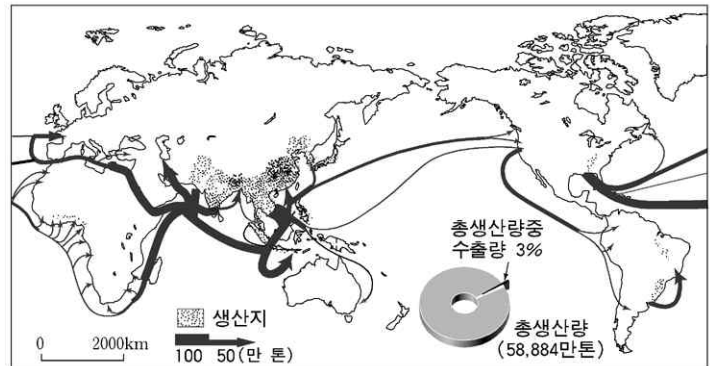
- ① 지구 온난화 ② 인구의 증가
 ③ 삼림의 감소 ④ 편서풍의 영향
 ⑤ 프레온 가스의 사용

7. 자료에서 밑줄 친 에너지 자원에 대한 설명으로 옳은 것은?

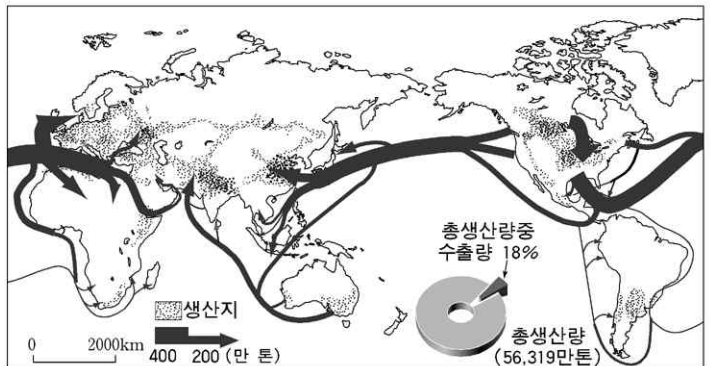
우리나라의 에너지 소비는 매년 10% 이상 높은 증가율을 기록하고 있으며, 국민 1인당 온실 가스 배출량 역시 급격히 증가하고 있다. 1993년에 우리나라도 세계기후변화협약에 가입하였기 때문에 이산화탄소 배출량을 줄여야 할 형편이다. 따라서 에너지 및 환경 문제의 해결을 위해서 이 에너지 자원의 개발이 필요한 실정이다.

- ① 국가 간에 이동이 활발하다.
 ② 지속 가능한 개발에 적합하다.
 ③ 에너지 밀도가 높아 개발 비용이 적게 든다.
 ④ 자원 사용량을 줄이면 고갈 시기를 늦출 수 있다.
 ⑤ 생물 유기체가 오랜 지질 시대에 걸쳐 퇴적되어 형성되었다.

8. 지도에 나타난 식량 자원 (가), (나)의 생산지와 이동에 대한 설명으로 옳지 않은 것은? [3점]



(가)의 생산지와 이동



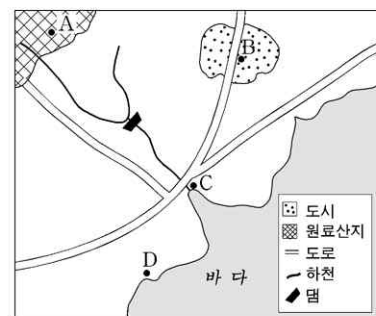
(나)의 생산지와 이동

- ① (가)는 주로 고온 다습한 지역에서 생산된다.
 ② (가)는 생산량의 증감에 따라 국제 가격의 변동 폭이 크다.
 ③ (나)의 주요 이동 방향은 신대륙에서 구대륙이다.
 ④ (나)는 (가)보다 생산 지역의 범위가 넓다.
 ⑤ (나)는 (가)보다 자국 내 소비를 목적으로 생산된다.

9. 다음과 같은 특성을 지닌 공업의 최적 입지를 그림에서 찾아 바르게 고른 것은?

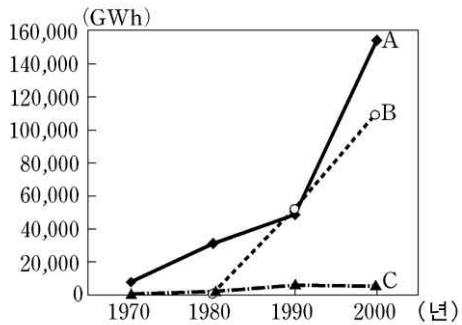
(가) 공업은 원료를 가공하면 무게가 가벼워지므로, 원료를 운송하는 것보다 제품을 운송하는 것이 유리하다. 도시 인구가 증가하여 주택 건설 경기가 활성화되면 수요가 급증한다.

(나) 공업은 초기에는 삼림 지대에 발달했으나, 산업 혁명 이후에는 석탄 산지에 입지했다. 최근에는 대규모 운송 수단의 발달로 원료와 제품의 운송이 편리한 곳에 입지한다. 원료·제품이 모두 무거운 편이며, 제조 공정에 많은 용수가 필요하다.



- (가) (나)
 ① A C
 ② A D
 ③ B C
 ④ C B
 ⑤ D A

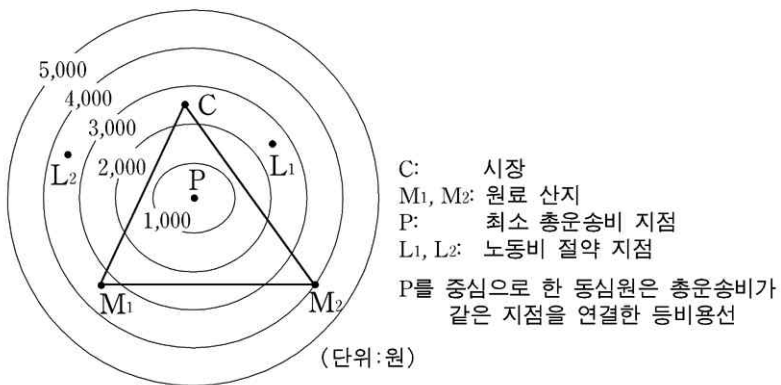
10. 그래프는 우리나라의 발전원별 전력 생산량을 나타낸 것이다. A~C 발전원에 대한 설명으로 옳은 것은?



- ① A는 건설비는 비싸나 유지비가 저렴하다.
- ② A는 대량의 냉각수가 필요하여 해안에 입지한다.
- ③ B는 발전 연료의 대부분을 국내에서 자급한다.
- ④ B는 전력 소비가 많은 대도시 근처에 입지한다.
- ⑤ C는 우리나라의 기후 조건에서는 불리하다.

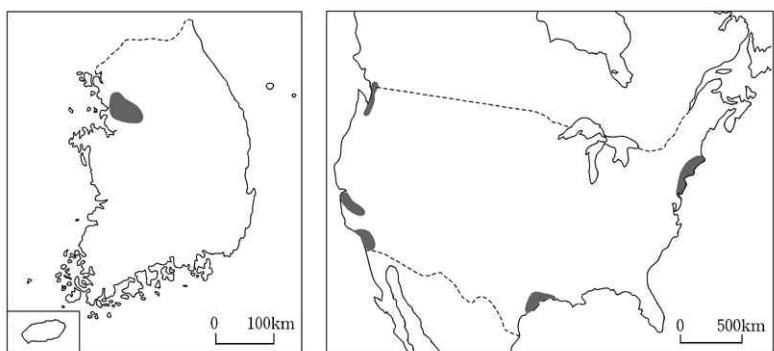
11. ○○씨는 공장을 설립하면서 그림의 P, L₁, L₂ 지점의 입지 조건을 비교하려고 한다. 각 지점의 노동비가 자료와 같을 때, 공장 입지에 가장 유리한 지점부터 순서대로 나열한 것은? [3점]

지점	P	L ₁	L ₂
노동비(원)	8,000	6,000	4,000



- ① P-L₁-L₂
- ② L₁-L₂-P
- ③ L₁-P-L₂
- ④ L₂-L₁-P
- ⑤ L₂-P-L₁

12. (가), (나) 지도에 표시된 지역에서 공통적으로 발달한 대표적인 산업은?



- ① 축적된 기술에 기초한 조선 산업
- ② 풍부한 자원을 바탕으로 한 제철 산업
- ③ 전문 연구 인력을 기반으로 한 첨단 산업
- ④ 풍부한 저임금 노동력을 이용한 섬유 산업
- ⑤ 항만의 편리한 교통을 이용한 석유 화학 산업

13. 다음 자료를 바탕으로 수인선 철도의 철거 이유를 알아보려 할 때 탐구활동으로 적절하지 않은 것은?

수인선(수원-인천 간)은 1930년대에 일제가 경기 내륙의 쌀과 서해안 염전의 소금 등 화물 수송과 여객 수송의 편의를 위해 건설하였다. 그러나 1978년에는 화물 열차 운행이 중지되었고, 1995년에는 연간 20여억 원에 달하는 적자 때문에 여객 열차마저 운행이 중지되면서 철거되었다.

- ① 수원-인천 간 도로 교통의 발달을 조사해 본다.
- ② 주변 지역 인구의 성비 구조 변화를 조사해 본다.
- ③ 주변 지역 인구의 통근·통학권 변화를 조사해 본다.
- ④ 주변 지역의 경지 면적과 쌀 생산량의 변화를 조사해 본다.
- ⑤ 주변 지역의 염전 면적과 소금 생산량의 변화를 조사해 본다.

14. 자료에 나타난 서비스업에 대한 설명으로 옳은 것을 <보기>에서 모두 고른 것은? [3점]

구분	서비스업	A 업종	B 업종	C 업종
점포 수(개)		50	10	2
점포당 최소요구치(명)		500	2,000	10,000

<보기>

- ㄱ. 교통이 발달하면 A의 최소 요구치는 늘어난다.
- ㄴ. 재화의 도달 범위는 A가 B보다 작다.
- ㄷ. 주민들의 이용 빈도는 B가 C보다 낮다.
- ㄹ. C는 B에 비하여 상권이 크다.

- ① ㄱ, ㄴ ② ㄱ, ㄷ ③ ㄴ, ㄷ ④ ㄴ, ㄹ ⑤ ㄷ, ㄹ

15. 다음 계획에서 제시하는 국토의 발전 방향으로 옳은 것을 <보기>에서 모두 고른 것은?



<보기>

- ㄱ. 수자원 종합 개발
- ㄴ. 공업화 기반 조성
- ㄷ. 문화·관광 국토 개발
- ㄹ. 남북한 교류 협력 활성화

- ① ㄱ, ㄴ ② ㄱ, ㄹ ③ ㄴ, ㄷ
- ④ ㄴ, ㄹ ⑤ ㄷ, ㄹ

16. 아래 기업의 공통적인 해외 이전 동기에 대한 추론으로 옳은 것을 <보기>에서 모두 고른 것은?

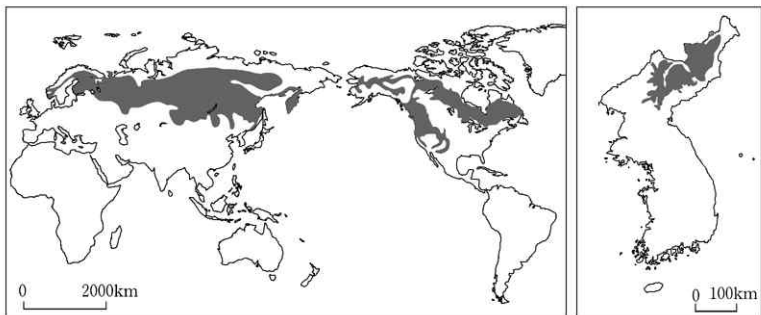
- A전자는 영국과 스페인에 있던 생산 라인의 대부분을 1990년대 말부터 서유럽과 지리적으로 가까운 헝가리와 슬로바키아로 옮겼다.
- B전자는 국내에 공장을 두고 제품을 공급하다가 1980년대 말부터 타이, 필리핀, 이집트, 인도네시아 등에 생산 공장을 건설하게 되었다.

<보기>

- ㄱ. 현지 시장 진출 ㄴ. 원활한 원료 구입
- ㄷ. 첨단 기술 정보 획득 ㄹ. 저임금 노동력 활용

- ① ㄱ, ㄴ ② ㄱ, ㄹ ③ ㄴ, ㄷ
- ④ ㄴ, ㄹ ⑤ ㄷ, ㄹ

17. (가), (나)의 표시된 지역에 분포하는 삼림 자원의 공통적인 특징으로 옳은 것은?

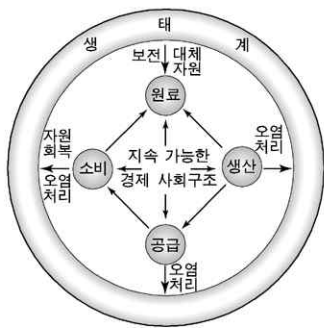


(가)

(나)

- ① 토양이 비옥하여 다양한 수종이 분포한다.
- ② 겨울 기온이 온난하여 활엽수가 주로 분포한다.
- ③ 대부분 펄프·제지용으로 소비되는 목재가 생산된다.
- ④ 소비지에 인접하여 인공림 조성이 가장 활발한 곳이다.
- ⑤ 수목의 성장 속도가 빨라 단위 면적당 임목 축적량이 많다.

18. 다음 그림과 관련된 자연 환경 개발에 대한 설명으로 옳은 것을 <보기>에서 모두 고른 것은? [3점]



<보기>

- ㄱ. 개발의 효율성 추구
- ㄴ. 세대 간 형평성 감안
- ㄷ. 생태계의 수용 능력 고려
- ㄹ. 자원을 무한한 것으로 인식

- ① ㄱ, ㄴ ② ㄱ, ㄷ ③ ㄴ, ㄷ
- ④ ㄴ, ㄹ ⑤ ㄷ, ㄹ

19. 다음은 주 5일 근무제에 관한 방송 내용 일부와 설문 조사 결과이다. 이 제도가 도시와 농어촌 지역에 미치게 될 영향에 대한 추론으로 적절하지 않은 것은? [3점]

앵커 : 주 5일 근무제가 시행되는 첫 주말입니다. 주말 표정을 현장에 나가 있는 ○○ 기자를 연결해 알아보겠습니다.
 기자 : 저는 지금 전보다 한산해진 도시에 나와 있습니다. 잠시 시민과 대화를 나누어 보겠습니다. 늘어난 주말 시간을 앞으로 어떻게 보내실 계획입니까?
 시민1 : 자기 계발을 위해 어학 공부도 하고, 레포츠도 즐길 생각입니다. 참, 여행도 다니려고 합니다.
 시민2 : 가족과 함께 시골에 계신 부모님을 자주 찾아뵙겠습니다.

주5일 근무제	연평균 여행빈도	국내 여행 1회 경비	여행 기간	주말여행의 평균 이동 시간	여행의 적정 이동 거리
실시 전	3.4회	15만원	당일(53.6%)	2.8시간	133km
실시 후	6회	22만원	1박 2일(53.3%) 2박 3일(34.2%)	4.0시간	195km

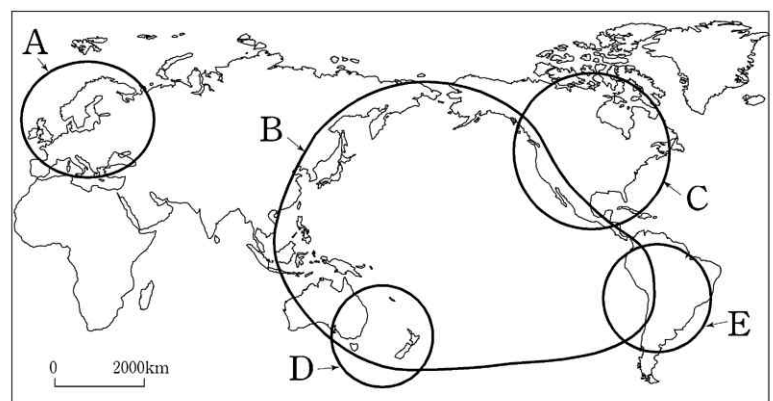
-○○일보, 2004.7.16.-

- ① 농어촌의 겸업 농가가 감소할 것이다.
- ② 도시 주변 지역에 휴양 시설이 늘어날 것이다.
- ③ 주말에는 도·농 간의 교통량이 증가할 것이다.
- ④ 도시와 농어촌의 서비스업 종사자 비율이 증가할 것이다.
- ⑤ 도시에 위치한 회사 인근의 음식점 매출액이 감소할 것이다.

20. 다음 설명에 해당하는 국제 협력 기구를 지도에서 고르면?

[3점]

- 배타적인 지역주의를 지양하고 대외적으로 개방적 성격을 띤다.
- 회원국 간의 경제 구조나 역사·문화 등이 다른 경제 협력 기구보다 다양하다.
- 투자와 기술, 에너지, 환경 등 다양한 부문에 걸친 대화 기구 성격의 협력체이다.



- ① A ② B ③ C ④ D ⑤ E

* 확인 사항

- 답안지의 해당란에 필요한 내용을 정확히 기입(표기)했는지 확인 하시오.

제 4 교시

사회 탐구 영역 (한국근·현대사)

성명

수험 번호

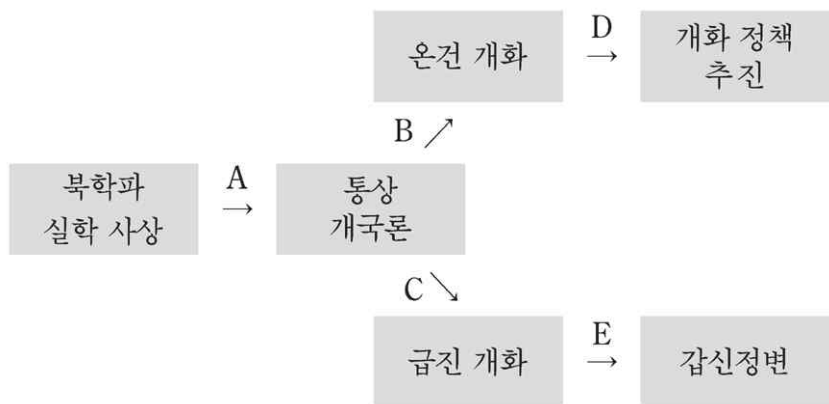
- 먼저 수험생이 선택한 과목의 문제지인지 확인하시오.
- 선택 과목은 반드시 응시 원서 작성시 자신이 선택한 과목의 문제를 풀어야 합니다.
- 문제지에 성명과 수험 번호를 정확히 기입하시오.
- 수험표에 표기된 선택 1, 선택 2, 선택 3, 선택 4의 과목에 대한 문제를 순서대로 풀어 해당란에 답을 표기하시오.
- 문항에 따라 배점이 다르니, 각 물음의 끝에 표시된 배점을 참고하시오. 3점 문항에만 점수가 표시되어 있습니다. 점수 표시가 없는 문항은 모두 2점입니다.

1. 한국 근대 사회의 변동에 대한 설명으로 옳지 않은 것은?

개항 이후 근대 국가 건설을 위한 노력이 전개되었다. ㉠ 갑신정변과 갑오개혁으로 군주 체제가 붕괴되어 정치적 근대화가 실현되었으며, ㉡ 인재의 등용은 능력 위주로 점차 바뀌어 갔고, 노비와 여성에 대한 의식도 점차 개선되어 갔다. 또한 ㉢ 애국 계몽 운동을 통해 민권 의식이 향상되어 갔다. 이러한 근대 국가 수립 노력은 일제 강점으로 좌절되었지만 이후 항일 투쟁으로 계승되어 3·1운동이 일어날 수 있는 바탕이 되었다. 1920년 이후 일제의 경제적 수탈과 사회적 차별에 맞서 일어난 소작 쟁의와 노동 쟁의는 ㉣ 새로이 수용된 사회주의 사상도 작용하였다. 또한 ㉤ 민족주의계와 사회주의계가 통합된 신간회와 근우회가 조직되어 보다 효과적인 항일 운동을 전개하였다.

- ① ㉠ ② ㉡ ③ ㉢ ④ ㉣ ⑤ ㉤

2. 다음은 개화 사상의 흐름을 정리한 표이다. 각 단계에 대한 설명으로 옳은 것은? [3점]




- ① A : 서재필, 윤치호 등이 『조선책략』을 통해 세계의 사정을 살폈다.
 ② B : 메이지 유신을 참고하여 서양 문명을 수용하려 하였다.
 ③ C : 양무 운동을 모델로 조선이 후진 상태를 벗어나야 한다고 생각했다.
 ④ D : 군국기무처가 설치된 후 조사 시찰단과 영선사가 일본에 파견되었다.
 ⑤ E : 김옥균, 박영효 등이 일본과 연계하여 개혁의 주도권을 잡고자 하였다.

3. 다음은 개화와 인사들이 지향하는 개혁 방향을 알려주는 글이다. 연결이 바르지 않은 것은?

(가) 만약에 군주의 전제권을 견고히 하려면 국민을 어리석게 해야 합니다. 그러나 국민이 어리석고 약해지면 나라도 이에 따라 약해집니다.
 (나) 일본이 서양과 사이 좋게 지내면서 서양 옷을 입고 학문을 배우는 일을 우리나라라고 굳이 금할 필요가 없습니다....(중략)... 기계, 기술 등도 나라와 백성에게 이익이 된다면 채용할 것이지 굳이 좋은 법까지 배척할 필요는 없습니다.
 (다) 정부는 왕명을 받들어 교정청을 설치하여 당상관 15명을 두고 폐정 몇 가지를 개혁했는데 이는 모두 동학당이 주장했던 것이다. 아울러 자주 개혁을 추진하기 위해서 일본인들이 끼어드는 것을 막으려 하였다.

- ① (가)-국민 정치 의식 향상 ② (나)-부국 강병 추진
 ③ (나)-실용적 근대화 추구 ④ (다)-무장 투쟁 옹호
 ⑤ (다)-봉건적 폐습 청산

4. 다음은 19세기를 살았던 한 인물에 관한 자료이다. 이 인물의 생전에 있었던 사실은? [3점]



당시 궁중의 중심이요 대표적 인물인 그녀를 제거하여 러시아와 결탁할 당사자를 없애는 일 말고는 다른 방법이 없었다. ... (중략) ... 당시 궁중에서 행해지는 바는 전부 그녀의 계략이었으며 국왕 폐하는 허수아비에 지나지 않았다. —한성신문 편집장 수기—

—창작 뮤지컬 포스터—

- ① 대한 제국의 성립을 선포하였다.
 ② 의회식 중추원 관제를 실시하였다.
 ③ 단발령을 공포하고 양력을 사용하였다.
 ④ 최익현의 상소로 홍선대원군이 물러났다.
 ⑤ 고종이 러시아 공사관으로 거처를 옮겼다.

5. 19세기 말의 어떤 민족 운동 과정에서 등장한 주장이다. 이 운동의 배경을 탐구할 때 그 주제로 적합하지 않은 것은? [3점]

○ 왜와 통하는 자는 엄징한다.
 ○ 토지는 평균으로 나누어 경작한다.
 ○ 충효를 다하여 세상을 구하고 백성을 평안하게 한다.
 ○ 군대를 몰고 서울로 들어가 권세가와 귀족을 없앤다.

- ① 농민들의 세금 부담 정도
 ② 농민들의 사회 의식 성장 정도
 ③ 구식 군대에 대한 차별 대우 실태
 ④ 외국 상인들의 국내 시장 침투 현황
 ⑤ 세력의 규합을 가능케 한 종교 조직의 발전 모습

6. 1950~60년대 한반도 주변 상황을 지도에 표시한 것이다. 이를 통해 당시의 정세를 추론한 것으로 옳은 것은?



- ① 연안파 숙청 후 북측은 소련과 수교하였다.
- ② 한·일 협정으로 한·미 동맹 관계가 느슨해졌다.
- ③ 한·미 방위 조약은 남측의 군사력 증강에 기여하였다.
- ④ 중·소 분쟁 후 북측은 독자적 외교 노선을 포기하였다.
- ⑤ 중·소 분쟁 후 북측은 소련파를 축출하고 일본과 수교하였다.

7. 다음 기사의 분석을 통하여 알 수 없는 것은? [3점]

○ 종점이 되는 곳이면 몰라도 중간 장지나 지방의 역에는 화물이 풍부하지 않고 탑승객이 많지 않은데, 어찌 20만 평을 쓰는가? 이는 일본인의 식민 계략이니, ... (중략) ... 가령 나라가 정거장 40여 곳을 나열하여 영호남 천리의 한복판을 관통하게 한다면 우리는 궁지에 몰려 미국의 인디언과 같은 꼴이 될 것이다. -황성신문-

○ 철도가 지나가는 지역에는 온전한 땅이 없고 기력이 남아 있는 사람이 없으며 열 집에 아홉 집은 텅 비고, 천리 길에 닭과 돼지가 멸종하였다. -황성신문-

○ 원망스러운 시국이라 / 군용 철도 부설하니 / 땅 바치고 종노릇이라 / 1년 농사 망치니 / 유리결식 눈물일세 -대한매일신보-

- ① 철도를 통해 군수품을 수송하였다.
- ② 조선인에 대한 노동력 착취가 심했다.
- ③ 철도 부지 명목으로 많은 토지를 수용하였다.
- ④ 조선인의 철도 이용을 금지하는 법이 공포되었다.
- ⑤ 일본은 조선 지배의 기반을 굳히기 위해 철도를 부설하였다.

8. 다음은 개화기에 발행된 신문 기사이다. 두 기사 자료를 통해 신문의 주장이나 역할로 유추할 수 없는 것은?

○ 우리 신문은 빈부 귀천과 상관없이 이 신문을 보고 외국 물정과 국내 사정을 알게 하려는 뜻이니 남녀 노소 상하 귀천 간에 우리 신문을 하루 걸러 몇 달간 보면 깨달음과 새 학문이 생길 걸 미리 아노라.

○ 만약 진심으로 국권을 만회코자 한다면, 눈앞의 치욕을 참고 국가의 원대한 계획을 도모하여 일체의 병기를 버리고 각자 향리로 돌아가, 각기 산업에 종사하여 자산을 저축하고 자제를 교육하여 실력을 양성하면 다른 날에 독립을 회복할 기회를 기대할 수 있을 것이다.

- ① 자주 독립 정신을 고취하였다.
- ② 항일 의병 전쟁을 옹호하였다.
- ③ 새로운 지식 보급에 기여하였다.
- ④ 정부의 개화 정책을 소개하였다.
- ⑤ 산업 육성을 통한 부강한 국가를 추구하였다.

9. 다음은 한말에 조직된 어떤 단체에 관한 글이다. 밑줄 친 부분에 대한 설명으로 옳지 않은 것은?

○ 무릇 우리 대한인은 내외를 막론하고 통일 연합으로써 그 진로를 정하고 독립 자유로써 그 목적을 세움이니, 이것이 우리의 원하는 바이며 우리가 품어 생각하는 것이다. 간단히 말하면 오직 ㉠ 신 정신을 불러 깨우쳐서 ㉡ 신 단체를 조직한 후에 ㉢ 신 국가를 건설할 뿐이다.

○ 이 단체는 ㉣ 무장 독립 투쟁의 필요성을 제기하고 ㉤ 만주로 이동하여 독립군 기지를 설립하고, 무관 학교를 세우는 등 독립 전쟁의 터전을 마련하였다.

- ① ㉠을 함양하기 위해 대성학교, 오산학교 등을 세웠다.
- ② ㉡은 여러 계층의 애국 지사가 참여한 비밀 조직이었다.
- ③ ㉢의 신 국가는 입헌 군주 정체의 국민 국가를 의미한다.
- ④ ㉣의 제기는 기존 애국 계몽 운동의 한계를 뛰어넘는 것이었다.
- ⑤ ㉤을 위해 건설된 대표적 기지는 남만주의 삼원보였다.

10. 다음은 대한 제국 시기 통감과 재정 고문이 나눈 가상의 대화이다. 이 대화의 주제로 옳은 것은?

통 감 : 그 정책은 계획대로 잘 진행되고 있습니까?
 재정고문 : 예. 그렇긴 한데, 사태가 좀 심각합니다.
 사전에 홍보가 안 되어 모르는 조선인들이 많고, 게다가 구리 함량이 미달된 엽전은 제 가격을 못 받아 불만이 이만저만이 아닙니다. 신문에서도 반발이 큼니다.

통 감 : 신경 쓸 것 없어요. 그건 어느 정도 예상한 일 아닙니까? 이 일은 조선의 금융계를 장악하는 데 꼭 필요한 겁니다.

- ① 화폐 정리 사업
- ② 상업 차관 도입
- ③ 원납전 징수
- ④ 당백전 발행
- ⑤ 한국 은행 설립

11. 다음 사실에서 공통으로 나타나는 역사적 의미로 타당한 것은? [3점]

○ 남과 북은 분단된 조국의 평화적 통일을 염원하는 온 겨레의 뜻에 따라 7·4 공동 성명에서 천명된 조국 통일 3대 원칙을 재확인하고 정치 군사적 대결 상태를 해소하여 민족적 화해를 이룩하고 무력에 의한 침략과 충돌을 막으며….

○ 마침내 남·북 정상은 손을 잡았다. 여기서 양 정상은 '분단 역사상 처음으로 열린 이번 상봉과 회담이 서로 이해를 증진시키고 남북 관계를 발전시키며 평화 통일을 실현하는 데 중대한 의의를 가진다고 평가' 했다.

- ① 탈북자 문제를 해결하였다.
- ② 남북 불가침 조약을 성립시켰다.
- ③ 북측의 빈곤을 해결하게 되었다.
- ④ 민족 문제의 자주적 해결을 꾀하였다.
- ⑤ 자유 민주주의 통일 원칙을 합의하였다.

12. 다음과 같은 주장을 제기한 사람들이 1920년대에 전개한 활동을 <보기>에서 모두 고른 것은?

○ 그 기초가 되고 요건이 되며 가장 급무가 되고 가장 선결의 필요가 있으며 가장 힘있고 가장 필요한 수단은 교육이 아니면 불능하다.

○ 우리 생활에 제일 조건은 의식주의 문제이다. 산업적 기초가 파멸을 당하여 우리에게 남은 것이 없으면 아무것도 없는 우리들은 사람으로 사람다운 생활을 하지 못하고 사람다운 발전을 하지 못할 것은 당연하다.

—<보기>—

ㄱ. 민립 대학 설립을 위해 모금 운동을 전개하였다.

ㄴ. 조선 물산 장려회를 조직하여 토산품 애용 운동을 전개하였다.

ㄷ. 소작료 인하와 소작권 확보를 위해 농민 조합을 결성하였다.

ㄹ. 임금 인상과 근로 조건 개선을 위해 노동 조합을 결성하였다.

- ① ㄱ, ㄴ ② ㄱ, ㄷ ③ ㄴ, ㄷ ④ ㄴ, ㄹ ⑤ ㄷ, ㄹ

13. 북한이 1994년에 제정한 신합영법과 1998년에 수정한 헌법 조항 중 일부이다. 이러한 조항이 추가된 배경으로 바르지 못한 것은?

○ 신합영법은 우리나라와 세계 여러 나라들 사이의 경제 기술 협력과 교류를 확대 발전시키는 데 이바지한다.

○ 개인 소유는 공민들의 개인적이며 소비적인 목적을 위한 소유이다. …(중략)… 텃밭 경리를 비롯한 개인 부업 경리에서 나오는 생산물과 그 밖의 합법적인 경리 활동을 통하여 얻은 수입도 개인 소유에 속한다.

- ① 자연 재해로 인해 식량 부족이 심화되었다.
- ② 에너지와 원자재 부족으로 공장 가동률이 떨어졌다.
- ③ 민간 주도의 자본주의 시장 경제 체제가 확립되었다.
- ④ 경제 침체가 계속되어 폐쇄적인 체제를 유지하기 어려워졌다.
- ⑤ 동유럽 사회주의 국가들의 몰락으로 교역 상대국이 감소하였다.

14. 1910년대 박상진, 김좌진 등이 활약한 국내 비밀 결사 조직의 강령이다. 이 조직에 관한 설명을 <보기>에서 모두 고른 것은?

○ 만주에 사관 학교를 설치하여 독립 전사를 양성한다.

○ 종래의 의병, 해산 군인과 만주 이주민을 소집하여 훈련한다.

○ 무력이 완비되는 대로 일본인 섬멸전을 단행하여 최후 목적을 달성한다.

—<보기>—

ㄱ. 사회주의 계열의 민족 운동 단체였다.

ㄴ. 순종 황제의 밀지를 받아 결성된 조직이었다.

ㄷ. 신교육을 받은 지식인과 의병 출신 인사가 연대하여 결성하였다.

ㄹ. 의연금을 걷어 군자금을 확보하였고, 친일 부호를 처단하기도 하였다.

- ① ㄱ, ㄴ ② ㄱ, ㄷ ③ ㄴ, ㄷ ④ ㄴ, ㄹ ⑤ ㄷ, ㄹ

15. 일제 강점기 일부 조선인들의 주장이다. 이를 통해서 확인할 수 없는 것은? [3점]

○ 전쟁이 일어난 이후 5년 동안 우리도 서구 제국주의와의 성전에 참가했다. 황군 장병 십일만 명이 죽었는데 조선 사람은 겨우 세 사람 죽었고 …(중략)… 노력과 물자와 돈을 바친 다음에 또 할 일이 있다. 황군처럼 우리도 전장에 나가서 우리나라인 일본 제국을 방위해야 한다.

○ 전쟁이 일어난 지 1년이 지났고 적의 장기 항전에 대비한 군수품 확충은 더욱 간절하다. 우리 조선은 대륙의 일부로서 지리적으로 만주국, 화북과 접하여 전시는 물론 평시에도 각종 기계류 등의 수요에 대응해야 한다.

- ① 전쟁에 필요한 물자를 많이 생산하자.
- ② 공출에 협조하여 일본 군대를 후원하자.
- ③ 자치를 실현하기 위해 중국과 긴밀히 협력하자.
- ④ 당면한 전쟁은 영·미 제국주의와 싸우는 성전이다.
- ⑤ 일본인과 같은 대우를 받기 위해서 전쟁터로 나가자.

16. 다음은 광복 후 남북한의 토지 제도 개혁을 비교한 표이다. 두 개혁의 공통적인 결과를 <보기>에서 모두 고른 것은? [3점]

구분	북한	남한
실시 시기	1946. 3.	1950. 3.
분배 원칙	무상 몰수, 무상 분배	유상 매입, 유상 분배
토지 소유 상한선	5정보(15,000평)	3정보(9,000평)
분배 총면적	95만 정보 총경지 면적의 45%	55만 정보 소작지 면적의 38%
분배 농가 총 호수	68만	180만
분배 후 호당 평균 소유	4,500평	1,000평

— <보기> —
 가. 모든 토지가 국유화되었다.
 나. 대규모 기업농이 육성되었다.
 다. 지주 중심의 토지 제도가 해체되었다.
 르. 자작지가 증가하고 생산 의욕이 증대되었다.

- ① 가,나 ② 가,다 ③ 나,다 ④ 나,르 ⑤ 다,르

17. 박정희 정부의 두 정책에 대하여 영희와 철수가 평가한 내용이다. (가)와 (나)에 해당하는 것은?

구분	(가)	(나)
영희	초가 지붕을 슬레이트나 함석으로 바꾸어 환경이 개선되고 근면과 협동 의식이 확산되었다.	자본이 부족했던 우리나라가 경제 개발에 필요한 자본을 마련하게 되었고, 많은 외국 자본이 도입되어 경제 발전에 도움이 되었다.
철수	정부 주도로 추진되면서 가시적인 성과 달성이나 농촌의 걸모습을 바꾸는데 치중하였다.	식민지 지배와 같은 과거사 문제를 소홀하게 다루었으며, 자본의 대외 의존성이 심화되었다.

- | | |
|-------------|-----------|
| (가) | (나) |
| ① 재건 국민 운동 | 베트남 파병 |
| ② 농촌 새마을 운동 | 한·일 협정 체결 |
| ③ 농촌 새마을 운동 | 베트남 파병 |
| ④ 재건 국민 운동 | 한·일 협정 체결 |
| ⑤ 농촌 진흥 운동 | 중화학 공업 육성 |

18. 다음은 일제 강점기를 살았던 한 조선인의 체험을 상상한 것이다. 당시 상황과 관련하여 잘못 추론한 것은? [3점]

○○○은 1897년 부산에서 태어났다. 3·1운동 이듬해 부산에서 1,000원을 들여 인쇄기 공장을 차렸다. 만주사변 후 만주에 지점 개설을 시도했으나 포기했다. 곧이어 인쇄공의 파업이 있었다. 중·일 전쟁이 일어나자 전쟁 특수로 자본금이 10,000원으로 늘어났지만 동남아시아산 납이 부족해서 경영이 어려웠으며, 해방되기 직전 인쇄 기계 및 부품의 헌납을 강요당했다.

- ① 1920년대에는 조선인이 세운 공장이 늘어났다.
 ② 1930년대에는 조선인 노동자에 대한 대우가 좋아졌다.
 ③ 만주사변 후 조선인 자본가들의 만주에 대한 관심이 커졌다.
 ④ 1940년대에는 공장 운영에 필요한 원자재가 부족했다.
 ⑤ 해방 직전에는 조선인 공장이 타격을 받았다.

19. 다음과 같은 무장 독립 전쟁이 가능했던 직접적인 원인을 바르게 지적한 학생은? [3점]

- 한국 독립군과 중국 호로군 연합 : 쌍성보, 사도하자, 동경성 전투 승리
 ○ 조선 혁명군과 중국 의용군 연합 : 영릉가, 흥경성 전투 승리

- ① 태규 : 광복군 창설을 중국 정부가 지원하였다.
 ② 정민 : 청산리 대첩 후 중국인과의 협조가 가능해졌다.
 ③ 은술 : 태평양 전쟁 발발로 동북 항일 연군이 편성되었다.
 ④ 석형 : 일제의 만주 침략 후 한국과 중국의 항일 연대감이 고조되었다.
 ⑤ 은비 : 3·1운동과 5·4운동으로 한국 독립에 대한 국제 여론이 호전되었다.

20. 일제 강점기 어느 사학자의 글이다. 이 글에서 주장하는 역사 연구 방향은? [3점]

최근 우리 선배는 조선 사학을 위하여 어떠한 공헌을 하였는가? 문헌 고증을 위해서 또는 고적 답사나 유물 수집을 위하여 심혈을 기울였다. 물론 모두 필요한 일이겠지만, ... (중략) ... 조선 민족의 발전사는 그 과정이 아시아적이라 하더라도 사회 구성 내면의 발전 법칙은 동일하다. 조선사에서 역사 발전의 법칙성을 발견해야 하며 민족 생활의 발전사를 보편적으로 이해해야 한다.
 —조선사회경제사—

- ① 민족 정신의 원류인 '얼'에 주목해야 한다.
 ② 민중 문화의 보편성 인식을 위해 민속학을 연구해야 한다.
 ③ 민족 고유의 자주 독립 사상을 연구하여 널리 알려야 한다.
 ④ 객관적 사실에 근거하는 문헌 고증의 연구 자세를 가져야 한다.
 ⑤ 세계사적 보편성을 바탕으로 한국사의 발전 과정을 체계화해야 한다.

* 확인 사항
 ○ 답안지의 해당란에 필요한 내용을 정확히 기입(표기)했는지 확인 하시오.

제 4 교시

사회탐구영역(세계사)

성명

수험 번호

- 먼저 수험생이 선택한 과목의 문제지인지 확인하십시오.
- 선택 과목은 반드시 응시 원서 작성시 자신이 선택한 과목의 문제를 풀어야 합니다.
- 문제지에 성명과 수험 번호를 정확히 기입하십시오.
- 수험표에 표기된 선택 1, 선택 2, 선택 3, 선택 4의 과목에 대한 문제를 순서대로 풀어 해당란에 답을 표기하십시오.
- 문항에 따라 배점이 다르니, 각 물음의 끝에 표시된 배점을 참고하십시오. 3점 문항에만 점수가 표시되어 있습니다. 점수 표시가 없는 문항은 모두 2점입니다.

1. 다음 사료를 적절하게 해석한 것을 <보기>에서 모두 고른 것은? [3점]

호족은 대토지를 소유하였고 저수지를 만들어 논밭에 물을 댔다. 연못에는 물고기를 키웠으며 가축을 길러서 구하고자 하는 것을 모두 자급자족하였다. 재산이 많아 인척을 구휼하였고 은혜가 향리(鄕里)에 미쳤다. 난리 때에는 친척을 모아 성과 연못을 만들고 스스로를 지켰다.

-후한서 변광전-

<보기>

- ㄱ. 주된 산업은 어업과 목축업이었다.
- ㄴ. 자위 조직을 갖추어 향리를 보호하였다.
- ㄷ. 여러 상품과 물자를 이웃과 자주 교역하였다.
- ㄹ. 재난 때 도와주어 향리에서 좋은 평판을 얻었다.

- ① ㄱ, ㄴ ② ㄱ, ㄷ ③ ㄴ, ㄷ ④ ㄴ, ㄹ ⑤ ㄷ, ㄹ

2. 다음 자료는 고대 그리스의 두 폴리스에 대한 설명이다. (가)와 (나)의 특징을 바르게 짝지은 것은? [3점]

(가) 소년은 어려서부터 부모와 떨어져 육체적 훈련과 애국심 교육을 받았다. 글과 음악도 배우지만 주로 신체 단련과 군사 훈련, 정신력 강화가 교육의 중심이었다.

(나) 페르시아 전쟁 후 페리클레스의 지도 아래 황금 시대를 맞이하였다. 이 시기에는 특수직을 제외한 모든 관직은 추천으로 선임되었으며, 재판관을 맡은 배심원도 추천으로 뽑았다. 수병으로 전쟁에 참가했던 하층민들의 발언권이 커지고 공무 수행에 대한 수당제가 도입되었다.

(가)

- ① 철학의 발달
- ② 국가에 의한 교육
- ③ 올림픽 경기 개최
- ④ 문화 예술의 발전
- ⑤ 전차 경주의 성행

(나)

- 만민법의 성립
- 민주 정치의 발전
- 복지 정책의 시행
- 사회주의의 기원
- 크리스트 교의 전파

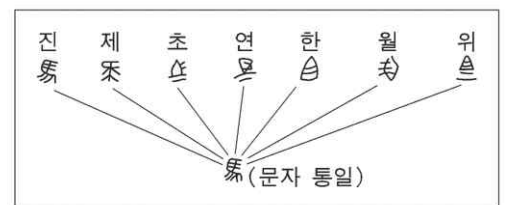

3. 다음 글이 쓰여진 시기에 발생한 역사적 사실로 옳은 것은?

흑사병이 천체의 작용에 의한 것인지, 아니면 인간을 바르게 하기 위한 하느님의 정의로운 노여움에 의한 것인지는 알 수 없다. 하지만 이 병은 몇 해 전 동양에서 발생하여 많은 사람들의 생명을 빼앗고 계속 번져나가 서양에까지 이르렀다. (중략) 무서운 기세로 번져나간 이 병으로 임종 시에 입회인도 없이 이 세상을 떠나는 사람들이 수없이 생겨났다. (중략) 3월과 7월 사이에 피렌체에서는 10만 명 이상이 죽어갔다.

-보카치오, 데카메론-

- ① 게르만 족이 대이동을 시작하였다.
- ② 이탈리아에서 르네상스가 시작되었다.
- ③ 마르크스가 공산당 선언을 발표하였다.
- ④ 영국이 넓은 해외 식민지를 개척하였다.
- ⑤ 이슬람 세력이 서유럽으로 영토를 확장하였다.

4. 다음 자료와 관계 깊은 왕조에 대한 탐구 활동으로 적절한 것은?




- ① 황건적 난의 원인을 알아본다.
- ② 돌궐 제국의 분열 이유를 탐색한다.
- ③ 분서갱유를 실시한 배경을 살펴본다.
- ④ 색목인을 우대할 이유를 추적해 본다.
- ⑤ 양세법의 성립 배경과 결과를 조사한다.

5. 다음 자료와 관련된 인물과 사건을 옳게 짝지은 것은?

국가에 대해 반란 중에 있는 주, 혹은 특정 지역에서 노예 신분에 놓여 있는 사람은 모두 1863년 1월 1일부터 영원히 자유의 몸이 될 것이다. (중략) 나는 주어진 권한에 따라 특정 주 및 지역에서 노예 신분에 있는 모든 사람들이 이제부터 자유의 몸이 된다는 것과 국가는 그들의 자유를 인정하고 지켜 주어야 한다는 것을 명령하고 선언한다.

- ① 레닌-러시아 혁명 ② 링컨-남북 전쟁
- ③ 제퍼슨-독립 전쟁 ④ 알렉산드르 2세-농노 해방령
- ⑤ 스파르타쿠스-노예 반란

6. 다음 자료와 관련된 문명에 대해 탐구 활동을 하려고 한다. 탐구 주제와 내용이 적절하게 연결된 것을 <보기>에서 모두 고른 것은? [3점]




<보기>

	탐구 주제	탐구 내용
ㄱ	문화 생활	제지술의 전래
ㄴ	학문의 발달	실존주의 철학
ㄷ	법률의 제정	12표법
ㄹ	토목과 건축 기술의 발달	도로와 고가식 수로(수도교)

- ① ㄱ, ㄷ ② ㄱ, ㄹ ③ ㄴ, ㄷ ④ ㄴ, ㄹ ⑤ ㄷ, ㄹ

7. 다음 자료와 관련된 문화에 대한 설명으로 옳지 않은 것은?



- ① 나침반, 화약 등을 유럽에 소개하였다.
 ② 정치와 종교의 권력을 아울러 갖는 칼리프가 있었다.
 ③ '코란(쿠란)'의 가르침을 일상 생활의 규범으로 삼았다.
 ④ 주변 각지의 설화를 모은 '아라비안 나이트'가 나타났다.
 ⑤ 엄격한 제사 의식과 카스트 제도로 신분 차별이 두드러졌다.

8. 다음은 중세 유럽의 주군과 봉신에 대한 사료이다. 적절하게 해석한 것을 <보기>에서 모두 고른 것은?

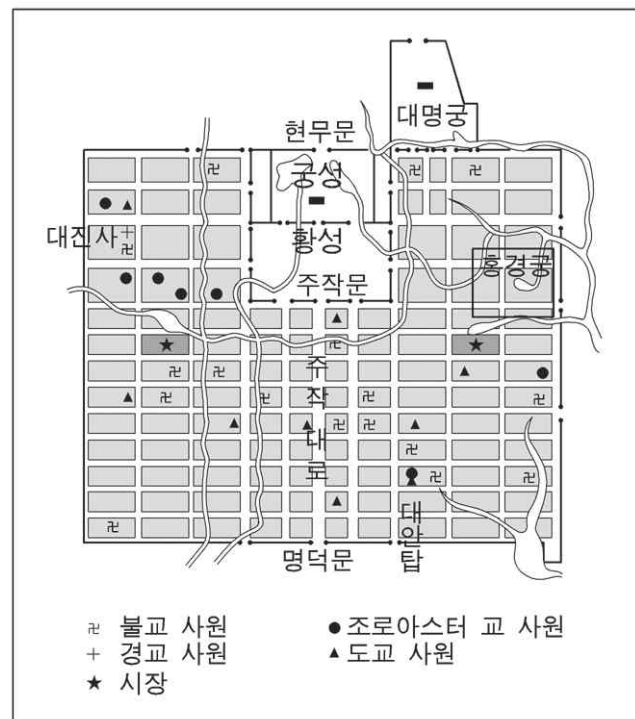
- 나는 당신의 권력 아래 몸을 맡기고 자비를 간청했으며, 당신은 큰 호의를 베풀어 나를 보호 아래 두었다. 당신은 나의 봉사와 공로에 따라 음식과 의복으로 나를 부양해야만 한다. 나는 살아 있는 한 봉사와 복종을 다할 것이다. (중략) 만일 우리 둘 가운데 한 사람이 계약을 파기하고자 한다면, 그는 상대방에게 얼마간의 돈을 지불해야 할 것이며, 그로써 계약은 모든 효력을 상실할 것이다.
- 람지 수도원장 레기날드는 시몽 드 뷰삼프에게 호리월의 영지를 봉토로 주고, 시몽은 그 땅을 받는 대가로 어떤 경우라도 전투 시에는 람지 수도원에 기사를 파견해야만 한다.

<보기>

- ㄱ. 주군은 봉신을 부양하고 보호해야 했다.
- ㄴ. 봉신은 계약을 파기할 수 있는 권리가 없었다.
- ㄷ. 주종 관계의 대부분은 혈연 관계에 기초하였다.
- ㄹ. 봉신은 주군을 위해 기사를 보내거나 직접 전쟁에 참여할 의무가 있었다.

- ① ㄱ, ㄷ ② ㄱ, ㄹ ③ ㄴ, ㄷ ④ ㄴ, ㄹ ⑤ ㄷ, ㄹ

9. 그림은 당대(唐代) 장안성 구획도이다. 이 그림을 통해 추론할 수 있는 당시 장안성의 모습으로 적절하지 않은 것은? [3점]



- ① 많은 외국인이 내왕하였다.
 ② 다양한 종교가 공존하였다.
 ③ 시장 구역이 정해져 있었다.
 ④ 서민 중심 문화가 발달하였다.
 ⑤ 매우 잘 정비된 계획 도시였다.

10. 다음 자료는 어떤 나라에서 일어난 시민 혁명의 기본 이념을 밝힌 것이다. 이 혁명과 관계가 없는 것은? [3점]

1. 사람들은 자유롭게 그리고 평등한 권리를 갖고 태어나며 또 그렇게 존속한다. 사회적 차별은 오직 공동의 유용성에 입각할 때에만 가능하다.

3. 모든 주권의 원천은 본질적으로 국민에게 있다. 명백하게 국민으로부터 유래하지 않은 권위는 어떠한 단체나 개인도 행사할 수 없다.

17. 소유권은 불가침의 신성한 권리이다. 그러므로 누구도 공공의 필요성이 적법하고 명백한 경우가 아니고서는 (중략) 소유권을 빼앗길 수 없다.

-인간과 시민의 권리 선언(1789년)-

- ① 구체제의 모순에서 비롯되었다.
- ② 국왕이 처형되고 공화정이 출현하였다.
- ③ 의회가 제출한 권리 장전이 승인되었다.
- ④ 로베스피에르가 공포 정치를 실시하였다.
- ⑤ 인간의 자유와 평등, 국민 주권을 주장하였다.

11. 다음 자료에 나타난 송대(宋代)의 학문에 관한 설명으로 옳은 것은?

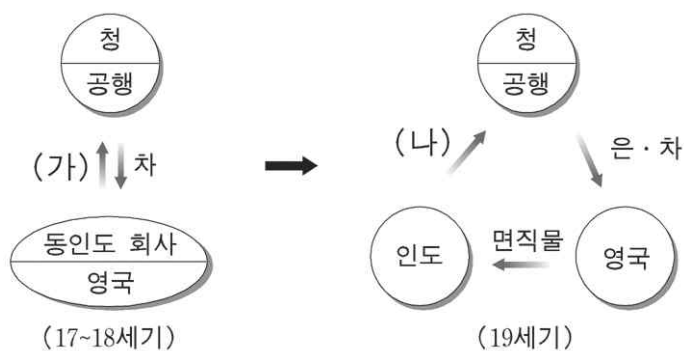
○ 정신 수양과 실천 윤리를 강조하였다.

○ 정통 왕조의 이념 및 가족 윤리의 근본이 되었다.

○ 군신·부자·화이를 구분하는 대의 명분이 강조되었다.

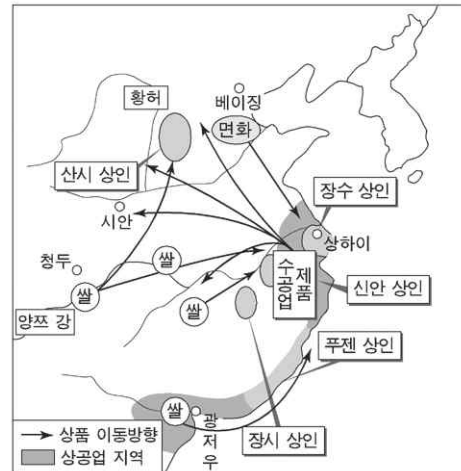
- ① 무위자연과 소국과민을 이상으로 한 노장 사상
- ② 옛 문헌에서 증거를 찾아 경서를 설명하는 고증학
- ③ 양지를 강조하고 앎과 행동의 일치를 역설한 양명학
- ④ 인식의 과정을 명확히 하고 실천 수행을 주장한 유식학
- ⑤ 인간 본성과 우주 원리를 탐구하고 실천을 중시하는 성리학

12. 도표는 중국 청대(清代)의 무역 변화를 보여 준다. (가)와 (나)에 들어갈 항목을 적절하게 짝지은 것은? [3점]



- | | |
|-------|-----|
| (가) | (나) |
| ① 은 | 아편 |
| ② 동전 | 향료 |
| ③ 인삼 | 비단 |
| ④ 면화 | 구리 |
| ⑤ 모직물 | 도자기 |

13. 지도는 명·청대(明清代)의 사회 경제적 발전 양상을 보여 준다. 이에 대한 탐구 활동의 주제와 내용을 짝지은 것으로 적절하지 않은 것은?



- | 탐구 주제 | 탐구 내용 |
|----------|----------------------|
| ① 상인 조직 | - 동향 상인 조직의 발달 |
| ② 국내 교역 | - 쌀 교역망의 전국적 확산 |
| ③ 농업 변화 | - 황허 하류 지역의 면화 재배 |
| ④ 경제 중심 | - 북부 지역으로의 경제 중심 이동 |
| ⑤ 수공업 발전 | - 양쯔 강 하류 지역의 수공업 발전 |

14. 다음 자료에 나타난 이념과 거리가 먼 사실은? [3점]

인류의 복지를 위해 위대한 과업을 달성할 운명을 지닌 민족은 언젠가 하나의 국가를 이루어야만 한다. 우리 민족은 서서히나마 한 시대에서 다른 시대로 옮겨갈 때마다 그런 목표를 향하여 전진해왔다. (중략) 그러므로 이탈리아는 하나로 통일될 것이다.

-마치니, 이탈리아 통일에 관하여-

- ① 이탈리아가 오스트리아에 맞서 전쟁을 일으켰다.
- ② 프랑크푸르트 국민회의에서 통일 방안을 논의하였다.
- ③ 프로이센의 수상 비스마르크는 철혈 정책을 추진하였다.
- ④ 가리발디가 이탈리아 남부를 점령하여 국왕에게 바쳤다.
- ⑤ 영국에서는 노동자들이 중심이 되어 차티스트 운동을 일으켰다.

15. 다음 자료와 관련된 중국의 근대화 운동에 대한 탐구 활동으로 적절한 것을 <보기>에서 모두 고른 것은? [3점]

태평 천국 운동을 진압한 이홍장, 중국변 등은 부국 강병을 목표로 군수 공장을 설립하고 근대적 군사 제도를 도입하였다. 면직업을 육성하고, 철도를 건설하거나 광산을 개발하는 등 근대 산업을 육성하고자 하였다. 또한 유학생을 파견하고 외국어 학교를 설립하였다.

-<보기>-

ㄱ. 정화가 이끈 남해 대원정의 경과와 내용을 살펴본다.
 ㄴ. 지정은 제도 성립의 배경과 그 역사적 의미를 검토한다.
 ㄷ. 양무 운동의 배경과 성과를 알아보고 그 한계를 분석한다.
 ㄹ. 서구화로 인한 중국적 가치와 전통의 위기에 대해 알아본다.

- ① ㄱ, ㄴ ② ㄱ, ㄷ ③ ㄴ, ㄷ ④ ㄴ, ㄹ ⑤ ㄷ, ㄹ

16. 다음 자료에 나타난 인물과 이념에 대한 탐구 활동으로 적절하지 않은 것은?



무솔리니(왼쪽)와 히틀러(가운데)

우리의 신념은 다음과 같다. “모든 것은 국가 안에 있다. 국가 이외에는 아무 것도 없다. 국가에 대립하는 것은 아무 것도 없다.”
—무솔리니—

- ① 빈 체제 수립의 원인과 경과에 대해 조사한다.
- ② 세계적인 공황의 발생과 영향에 대해 알아본다.
- ③ 이탈리아 파시스트 독재 체제 성립에 대해 조사한다.
- ④ 독일의 국제 연맹 탈퇴와 재군비 선언의 배경을 조사한다.
- ⑤ 일부 국가에서 극단적인 인종주의가 나타난 배경을 알아본다.

17. 다음 자료에서 근대 일본 사회가 지향했던 것을 가장 잘 표현한 것은? [3점]

○ 1. 널리 회의를 열어 모든 정사가 공론에 따라 결정되도록 한다.
2. 상하가 한마음이 되어 정치를 실행하여 나간다.
3. 관리에서 서민에 이르기까지 그 뜻을 펴 나가되, 불만이 없도록 한다.
4. 종래의 그릇된 폐습을 버리고 천지의 보편타당한 이치에 따른다.
5. 세계에서 지식을 찾아 왕국의 터전을 굳건히 한다.
—메이지 5개조 서약[어서문](1868년)—

○ 아시아의 이웃들로부터 벗어나서, 서양 문명국과 행동을 함께 해야 한다. 중국·조선과 교섭하는 것도 일본의 이웃 나라라고 해서 특별한 배려를 할 필요가 없다. 유럽 사람들이 아시아의 나라에 대해 하는 것과 마찬가지로 방법으로 대처해야 한다.
—후쿠자와 유키치, 탈아론(1885년)—

- ① 쇄국 정책 ② 국민 혁명 ③ 반청 복명
- ④ 문명 개화 ⑤ 위정 척사

18. 다음 사건들의 공통된 성격을 바르게 정리한 것은?

○ 1857년 세포이에서 인도인들이 영국의 지배에 대항하여 반란을 일으켰다.
○ 1885년 베트남에서 황제의 호소에 호응하여 지식인을 중심으로 근왕 운동이 일어났다.
○ 1900년 중국에서 의화단이 부청 멸양의 기치를 내걸고 봉기하였다.

- ① 반외세 투쟁 ② 농촌 개혁 운동
- ③ 반기독교 투쟁 ④ 공화제 수립 운동
- ⑤ 급진적 근대화 운동

19. 다음 자료와 관련된 시기의 러시아에 대한 설명으로 옳은 것을 <보기>에서 모두 고른 것은?

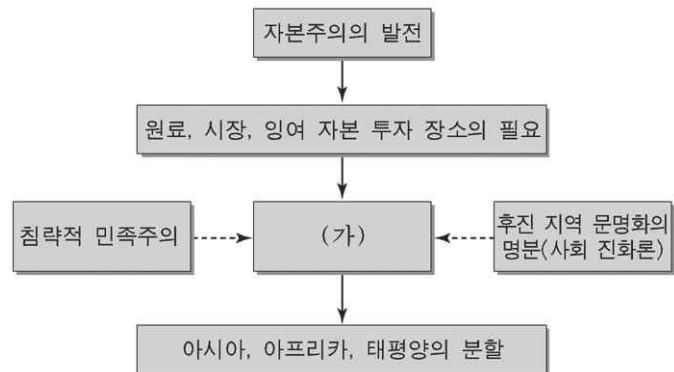
폐하, 우리는 힘든 노동에 시달리고, 핍박받고, 경멸당하고 있으며 (중략) 이 힘든 고통을 참기보다는 차라리 죽는 쪽이 더 낫다는 생각이 들 정도입니다. (중략) 모든 사람이 평등하게 선거권을 가지며 자유롭게 선거할 수 있도록 배려해 주십시오.
—상트 페테르부르크 노동자와 주민의 청원서—

<보기>

ㄱ. 포르트 대제가 서구화를 추진하였다.
ㄴ. 전제 정치가 유지되어 불만이 표출되었다.
ㄷ. 산업화가 진전되고 사회주의 사상이 들어왔다.
ㄹ. 황제와 교황이 서임권 문제로 자주 대립하였다.

- ① ㄱ, ㄴ ② ㄱ, ㄷ ③ ㄴ, ㄷ ④ ㄴ, ㄹ ⑤ ㄷ, ㄹ

20. 도표는 19세기 후반 이래 서양에서 전개된 역사적 현상을 보여준다. (가)에 들어갈 용어로 적절한 것은? [3점]



- ① 제국주의 ② 사회주의 ③ 중농주의
- ④ 실용주의 ⑤ 신자유주의

* 확인 사항

○ 답안지의 해당란에 필요한 내용을 정확히 기입(표기)했는지 확인하십시오.

제 4 교시

사회탐구영역(법과사회)

성명

수험 번호

- 먼저 수험생이 선택한 과목의 문제지인지 확인하시오.
- 선택 과목은 반드시 응시 원서 작성시 자신이 선택한 과목의 문제를 풀어야 합니다.
- 문제지에 성명과 수험 번호를 정확히 기입하시오.
- 수험표에 표기된 선택 1, 선택 2, 선택 3, 선택 4의 과목에 대한 문제를 순서대로 풀어 해당란에 답을 표기하시오.
- 문항에 따라 배점이 다르니, 각 물음의 끝에 표시된 배점을 참고하시오. 3점 문항에만 점수가 표시되어 있습니다. 점수 표시가 없는 문항은 모두 2점입니다.

1. 정의를 다음과 같이 구분할 때 밑줄 친 ㉠과 ㉡에 해당하는 것을 <보기>에서 바르게 짝지은 것은? [3점]

정의와 그에 상응하는 옳음 가운데, ㉠ 하나는 명예나 금전 등을 공민(公民) 간에 분배할 때 적용되는 것이고, ㉡ 다른 하나는 사람과 사람의 상호 교섭에 있어 부당한 것을 교정하기 위한 것이다. —아리스토텔레스, 니코마코스 윤리학—

- <보기>—
- ㄱ. 범죄에 대한 형벌의 부과
 - ㄴ. 임금 지불에 있어서 성과급
 - ㄷ. 국가 유공자에 대한 포상
 - ㄹ. 불법행위에 대한 손해배상

- | | |
|--------|------|
| ㉠ | ㉡ |
| ① ㄱ, ㄴ | ㄷ, ㄹ |
| ② ㄱ, ㄷ | ㄴ, ㄹ |
| ③ ㄴ, ㄷ | ㄱ, ㄹ |
| ④ ㄴ, ㄹ | ㄱ, ㄷ |
| ⑤ ㄷ, ㄹ | ㄱ, ㄴ |

2. 다음 (가), (나)의 내용과 관련된 민법의 기본 원칙을 바르게 짝지은 것은?

(가) 사람은 누구나 합리적인 판단력을 가지고 있기 때문에, 개인의 행위에 대해 국가가 간섭하지 않고 각자의 자유에 맡겨 두면 사회는 조화롭게 된다.
 (나) 사람이 자기의 행위에 대해서만 충분한 주의를 하고 있으면 책임질 염려가 없게 되므로 안심하고 활동할 수 있다.

- | | |
|-----------------|------------|
| (가) | (나) |
| ① 사유 재산권 존중의 원칙 | 과실 책임의 원칙 |
| ② 사적 자치의 원칙 | 무과실 책임의 원칙 |
| ③ 계약 공정의 원칙 | 무과실 책임의 원칙 |
| ④ 사유 재산권 존중의 원칙 | 사적 자치의 원칙 |
| ⑤ 사적 자치의 원칙 | 과실 책임의 원칙 |

3. 다음 글에 대한 올바른 설명을 <보기>에서 모두 고른 것은? [3점]

유자후(柳子厚)가 유주 자사(柳州刺史)가 되었을 때의 일이다. 그곳에는 남녀를 담보로 돈을 썼다가 제때에 갚지 못하여 본전과 이자가 같은 액수에 이르면, 담보 잡힌 남녀를 노비로 삼는 관습법이 있었다. 유자후가 노비가 된 자들을 위한 방책을 마련하여, 돈을 갚으면 노비에서 풀어 주도록 하였다. 너무 가난하여 돈을 갚을 수 없는 자는, 노비로 일한 동안의 품삯이 빚 쓴 돈에 이르면 노비에서 풀어 주었다. 관찰사가 그 방법을 다른 고을에도 시행하니, 한 해 동안에 노비에서 풀려나는 자가 천 명이나 되었다.
 —정약용, 목민심서—

- <보기>—
- ㄱ. 덕치와 예치보다는 법치가 강조되고 있다.
 - ㄴ. 유자후는 담보 잡힌 남녀를 노비로 삼는 것을 일종의 권리남용으로 보았다.
 - ㄷ. 법률을 엄격하게 적용하는 것이 권리를 실현하는 데 중요하다라는 교훈을 준다.
 - ㄹ. 유주(柳州)의 관습법은 오늘날의 관점에서 민법상 '선량한 풍속'에 위반되므로 무효가 된다.

- ① ㄱ, ㄴ ② ㄱ, ㄷ ③ ㄴ, ㄷ ④ ㄴ, ㄹ ⑤ ㄷ, ㄹ

4. 다음 사례와 공통적으로 관련 있는 기본권에 대한 올바른 설명을 <보기>에서 모두 고른 것은? [3점]

- 반전 운동가 100인이 모여 국제 평화 운동을 위한 단체를 결성하였다.
- 신문 기자 A는 경찰관이 위법하게 불심검문을 했다는 사실을 신문에 보도하였다.
- 시민 B는 환경 보호를 위하여 대규모 토목 공사를 반대하는 촛불 집회에 참여하였다.

- <보기>—
- ㄱ. 여론 형성에 필요한 기본권이다.
 - ㄴ. 의사를 표현하기 위한 기본권이다.
 - ㄷ. 평화로운 분위기에서 살기 위한 기본권이다.
 - ㄹ. 국가나 지방자치단체에 적극적인 급부를 요구하는 기본권이다.

- ① ㄱ, ㄴ ② ㄱ, ㄷ ③ ㄴ, ㄷ ④ ㄴ, ㄹ ⑤ ㄷ, ㄹ

17. 그림은 부동산 거래를 안전하게 하기 위한 순서를 나타낸 것이다. (가), (나), (다)에 들어갈 내용을 바르게 짝지은 것은?



- ① (가) : 등기 서류 및 부동산 인수
(나) : 매매 계약 체결
(다) : 등기부 및 토지대장 열람
- ② (가) : 매매 계약 체결
(나) : 등기부 및 토지대장 열람
(다) : 등기 서류 및 부동산 인수
- ③ (가) : 등기부 및 토지대장 열람
(나) : 매매 계약 체결
(다) : 등기 서류 및 부동산 인수
- ④ (가) : 매매 계약 체결
(나) : 등기 서류 및 부동산 인수
(다) : 등기부 및 토지대장 열람
- ⑤ (가) : 등기부 및 토지대장 열람
(나) : 등기 서류 및 부동산 인수
(다) : 매매 계약 체결

18. 다음 사례에서 상호가 국가를 상대로 행사할 수 있는 기본권으로 가장 옳은 것은?

고등학생 상호는 어느 날 밤 학교에서 자율 학습을 마치고 집으로 가는 길에 누구인지 알 수 없는 2명에 의해서 폭행을 당했다. 이 사건으로 상호는 전치 10주의 상처를 입고 병원에 입원하였다. 그러나 퇴원하는 날까지 가해자들이 누구인지 알 수 없었고, 실직 중인 아버지는 치료비조차 감당할 수 없었다.

- ① 손해배상청구권 ② 재판청구권
- ③ 국가배상청구권 ④ 국민기초생활수급권
- ⑤ 범죄피해자구조청구권

19. 다음 사례에 관한 설명으로 옳지 않은 것은? [3점]

갑은 을의 노트북 컴퓨터를 50만원에 사기로 하고, 대금을 완불한 후 물건은 일주일 후에 인도받기로 하였다. 다음날, 병이 이 사실을 전혀 모르고 을에게 100만원에 사겠다고 하자, 욕심이 생긴 을은 이 노트북 컴퓨터를 다시 병에게 팔고 인도까지 해 주었다.

- ① 갑과 을 사이에는 매매 계약이 성립하였다.
- ② 병은 노트북 컴퓨터의 정당한 소유자이다.
- ③ 갑은 을에게 채무불이행을 이유로 계약을 해제할 수 있다.
- ④ 갑은 병에게 불법행위를 이유로 손해배상을 청구할 수 있다.
- ⑤ 을은 갑에게 50만원을 반환하여야 한다.

20. 다음은 혼인으로 인해 발생하는 법률효과를 설명한 것이다. 바르게 알고 있는 사람들을 모두 고른 것은? [3점]

갑 : 부부 간의 계약은 혼인 중에는 원칙적으로 취소하지 못하지.
 을 : 여자가 혼인하면 남편의 가(家)에 입적(入籍)하는 것이 원칙이야.
 병 : 부부의 공동 생활에 필요한 비용은 별도의 약정이 없으면 남편이 부담해야 해.
 정 : 아내가 일상의 가사(家事)에 관하여 제3자와 법률행위를 한 때에는 남편도 그 채무에 대하여 연대책임을 져야 해.

- ① 갑,을 ② 갑, 병 ③ 갑, 정 ④ 을, 병 ⑤ 을, 정

* 확인 사항

○ 답안지의 해당란에 필요한 내용을 정확히 기입(표기)했는지 확인 하시오.

제 4 교시

사회탐구영역(정치)

성명

수험 번호

- 먼저 수험생이 선택한 과목의 문제지인지 확인하시오.
- 선택 과목은 반드시 응시 원서 작성시 자신이 선택한 과목의 문제를 풀어야 합니다.
- 문제지에 성명과 수험 번호를 정확히 기입하시오.
- 수험표에 표기된 선택 1, 선택 2, 선택 3, 선택 4의 과목에 대한 문제를 순서대로 풀어 해당란에 답을 표기하시오.
- 문항에 따라 배점이 다르니, 각 물음의 끝에 표시된 배점을 참고하시오. 3점 문항에만 점수가 표시되어 있습니다. 점수 표시가 없는 문항은 모두 2점입니다.

1. 다음에서 도출되는 민주 정치 원리가 필요한 이유를 가장 적절하게 표현한 것은?

- 헌법 재판소는 법률의 위헌 여부를 심판한다.
- 대통령은 국회에서 의결된 법률안에 대해 거부권을 행사할 수 있다.
- 국회는 국정을 감사하거나 특정한 국정 사안에 대하여 조사할 수 있다.

- ① 악법도 법이다.
- ② 절대 권력은 절대 부패한다.
- ③ 의사(意思)는 대표될 수 없다.
- ④ 왕은 군림하나 통치하지 않는다.
- ⑤ 민심(民心)은 곧 천심(天心)이다.

2. 다음 글에서 강조하는 정치 발전의 조건에 해당하는 것을 <보기>에서 모두 고른 것은? [3점]

민주 정치의 질을 향상시키고 내실 있는 민주 정치를 구현하기 위해서 정치 체제는 국내의 환경으로부터의 각종 도전이나 시민 사회의 다양한 요구에 대해 효율적으로 대응할 수 있는 능력을 갖추어야 한다.

국민으로부터 절차적 정통성을 획득한 민주 정치 체제라도 산출 능력이 부족하여 시민 사회의 요구를 시의 적절하게 반영하지 못하거나, 가치 배분에 있어서 공정성을 상실하거나, 배분 결과를 효율적으로 집행하지 못할 경우, 정치 체제는 정통성과 권위를 상실하게 된다.

- <보기> —
- ㄱ. 국민의 참여 의식 향상
 - ㄴ. 선거 제도의 공정성 확보
 - ㄷ. 정부의 정책 결정 능력 강화
 - ㄹ. 갈등 해결을 위한 제도적 장치 마련

- ① ㄱ, ㄴ ② ㄱ, ㄷ ③ ㄴ, ㄷ
- ④ ㄴ, ㄹ ⑤ ㄷ, ㄹ

3. 다음 글에 나타난 시민 단체의 문제점을 해결하기 위한 방안으로 적절한 것을 <보기>에서 모두 고른 것은? [3점]

시민의 폭 넓은 정치 참여를 중요시하는 현대 민주 사회에서 시민 단체는 정부의 권력 남용을 견제하는 역할을 한다. 또한 시민 단체는 사회 문제에 대한 여론을 수렴하여 대안을 제시하기도 한다. 하지만 중앙 집중형 구조를 가지고 있는 시민 단체는 일반 시민들의 자발적 참여를 활성화시키지 못하고 있다. 오늘날 시민 단체의 운영은 특정 집단의 후원금과 국가 기관의 자금 지원에 의존하고 있으며, 조직의 확대에 따라 관료화되고 시민을 동원하는 경향이 나타나기도 한다. 결국 시민 단체의 내부 조직이 과두화되어 시민 단체의 본질적 성격이 퇴색될 수 있다.

- <보기> —
- ㄱ. 상향식 의사 결정 구조를 모색한다.
 - ㄴ. 재정 자립도를 높여 조직의 독립성을 확보한다.
 - ㄷ. 구성원의 전문성을 강화하여 수익성을 증대시킨다.
 - ㄹ. 이익 집단 및 정당과 유착하여 정치적 활동을 강화한다.
 - ㅁ. 다중심적(多中心的)인 자율적 네트워크 체제로의 변화를 시도한다.

- ① ㄱ, ㄴ, ㅁ ② ㄱ, ㄷ, ㄹ ③ ㄴ, ㄷ, ㄹ
- ④ ㄴ, ㄷ, ㅁ ⑤ ㄴ, ㄹ, ㅁ

4. 다음 글에 대한 옳은 설명을 <보기>에서 모두 고른 것은?

(가) 자연 상태에서 사람들은 타인과 끊임없이 충돌할 것이다. 이러한 '만인의 만인에 대한 투쟁' 상태에서는 개인의 안전과 평화를 유지하기 어렵기 때문에 사람들은 서로 계약을 맺어 국가를 수립하게 된다.

(나) 자연 상태에서 사람들은 자유롭게 행동하고 재산을 처분하며 평등하게 살아간다. 그러나 전쟁이 일어나거나 타인이 자연법을 이행하지 않음으로써 분쟁이 발생하고 이러한 분쟁을 해결하기 위해 정부가 필요하게 된다. 자연권 보장을 위해 사람들은 정부를 세우는 계약을 체결한다.

- <보기> —
- ㄱ. (가)에서 국가는 개인의 안전과 평화를 위해 필수적이다.
 - ㄴ. (나)에서 자연권은 정부 없이 완전하게 보장되지 않는다.
 - ㄷ. (가)와 (나) 모두 인간을 악한 존재로 가정한다.
 - ㄹ. (가)와 (나)에서 국가와 정부는 관습에 따라 구성된다.

- ① ㄱ, ㄴ ② ㄱ, ㄷ ③ ㄴ, ㄷ
- ④ ㄱ, ㄴ, ㄹ ⑤ ㄴ, ㄷ, ㄹ

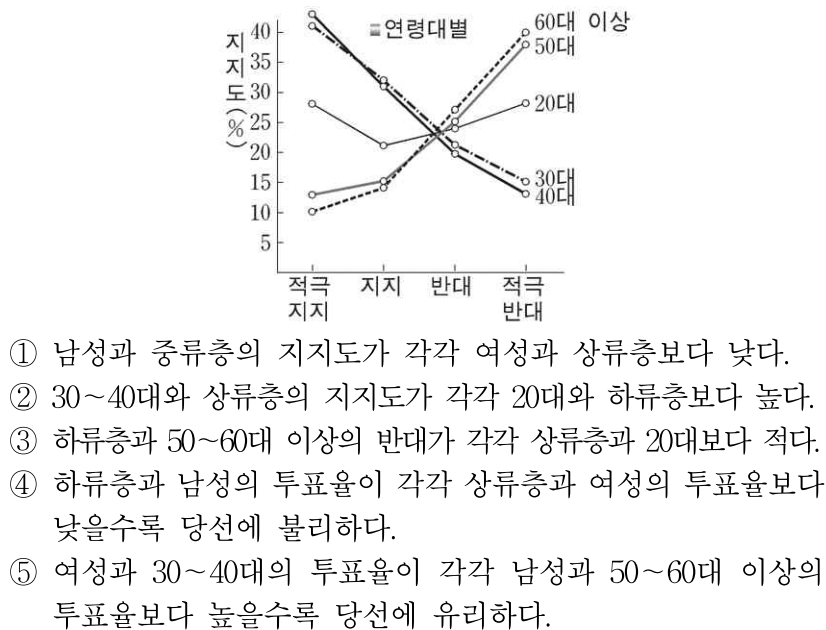
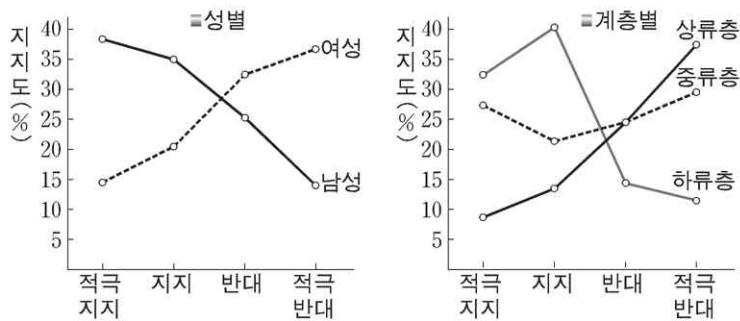
5. 다음은 교사가 학생들에게 제시한 수행평가 과제이다. 보고서를 옳게 설계한 모듬은? [3점]

정부 수립 후 우리나라는 정부 주도로 경제 발전에 매진해 왔습니다. 그 결과 행정부의 역할이 과대해졌고, 국민의 권리와 자유가 침해받는 일이 빈번했습니다. 그러한 통치 문화는 지금도 완전히 없어진 것은 아닙니다. 또한 사회의 여러 복잡한 문제에 대처하기 위한 행정의 역할이 증대되어 행정 국가화 현상도 나타나고 있습니다.

이러한 상황에서 행정부의 책임을 강화하고 국민의 권리와 자유를 보호하기 위해서는 행정부에 대한 통제가 매우 중요합니다. 행정부를 통제하는 방안과 그 사례를 모듬별로 조사하여 보고서를 작성하십시오.

모듬	방안	사례
① 가	국민에 의한 통제	국정 조사
② 나	국회에 의한 통제	행정 처분에 대한 위법 심사
③ 다	사법부에 의한 통제	감사원의 직무 감찰
④ 라	행정부에 의한 통제	행정 심판
⑤ 마	시민 단체에 의한 통제	국민고충처리위원회의 조사 활동

6. 다음은 어느 나라의 한 대통령 후보에 대한 여론 조사 결과이다. 이를 보고 분석한 내용으로 가장 적절한 것은? [3점]



- 남성과 중류층의 지지도가 각각 여성과 상류층보다 낮다.
- 30~40대와 상류층의 지지도가 각각 20대와 하류층보다 높다.
- 하류층과 50~60대 이상의 반대가 각각 상류층과 20대보다 적다.
- 하류층과 남성의 투표율이 각각 상류층과 여성의 투표율보다 낮을수록 당선에 불리하다.
- 여성과 30~40대의 투표율이 각각 남성과 50~60대 이상의 투표율보다 높을수록 당선에 유리하다.

7. 아래와 같은 정치 상황을 가정했을 때 추론할 수 있는 내용으로 가장 적절한 것은?

국민의 직접 선거로 선출된 ○○○ 대통령은 △△△의원을 차기 국무 총리에 지명하였다. 이에 국회는 인사 청문회를 개최하고 대통령이 제출한 국무 총리 임명 동의안을 본회의에서 표결하여 통과시켰다. 다음날 ○○○ 대통령은 △△△ 국무 총리의 인사 제청을 받아들여 여당의 ◇◇◇ 의원과 ▽▽▽ 의원을 장관에 임명하였다.

- 장관은 국회에 대하여 법적 책임을 진다.
- 대통령은 국민에 대하여 정치적 책임을 지지 않는다.
- 대통령은 국회 다수당의 추천에 따라 국무 총리를 지명한다.
- 의원 내각제적 요소를 가진 대통령제에서 나타나는 현상이다.
- 국무 총리는 국회의 동의를 받아 대통령에게 장관의 임명을 제청한다.

8. 다음 대화는 쓰레기 처리장 설치를 둘러싼 입장 차이를 보여주고 있다. 갈등을 합리적으로 해결하기 위한 자치 단체의 방안으로 가장 적절한 것은?

자치 단체장 : 우리는 관내에 새로운 쓰레기 처리장을 설치하는 정책을 추진하고 있습니다. 입지 여건상 ○○ 지역이 가장 적합한 후보지로 선정되었습니다.

○○ 지역 주민들 : 이 지역에 쓰레기 처리장을 만드는 것은 쾌적한 환경에서 생활할 우리의 권리를 박탈하는 일이므로 철회해야 합니다.

자치 단체장 : 하지만 쓰레기 처리장 설치 불가피하고, 또한 그로 인해 지역 주민들이 얻는 혜택도 있습니다.

○○ 지역 주민들 : 그렇지만 우리가 감수해야 할 각종 피해가 더 큼니다.

- 후보지의 토지를 수용하고 보상한다.
- 계획을 유보하고 다른 후보지를 모색한다.
- 주민들의 의견을 수렴하여 타협안을 도출한다.
- 주민들을 타 지역으로 이주시킬 계획을 수립한다.
- 공익은 사익의 희생 없이 확보될 수 없음을 강조하며 정책을 관철한다.

9. 다음 헌법 조항과 정부의 평화 통일 노력에 부합하지 않는 것은?

○ 헌법조항

- 대한민국은 통일을 지향하며, 자유 민주적 기본 질서에 입각한 평화적 통일 정책을 수립하고 이를 추진한다(헌법 제4조).
- 대통령은 조국의 평화적 통일을 위한 신성한 의무를 진다(헌법 제66조 제3항).

○ 정부의 평화 통일 노력

- 6·15 남북 정상 회담에서 합의된 남북 공동 선언문 이행
- 북핵 문제 해결을 위한 6자 회담 개최
- 북한에 대한 인도적 지원 확대

- 남북한 민족 공동체를 점진적으로 형성해 간다.
- 주변 이해 당사국의 결의에 의한 통일을 추구한다.
- 남북한의 이질성 극복을 위한 교류와 협력을 강화한다.
- 식량 지원, 의약품 지원 등 민간 차원의 지원을 강화한다.
- 통일에 대한 사회적 갈등을 극복하고 국민적 합의를 도출한다.

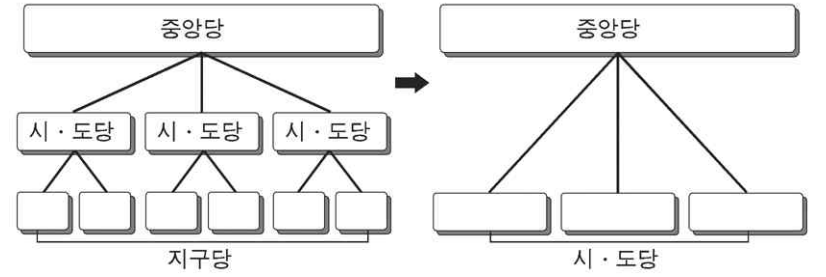
10. 다음은 세계화에 대한 대화이다. 을의 견해에 해당하는 것을 <보기>에서 모두 고른 것은?

갑 : 자유 시장 경제의 활성화로 경제 발전이 촉진되고 사회가 개방화되고 있어.
을 : 경쟁력이 약한 국가에서는 오히려 빈부 격차가 확대되고 선진국의 간섭이 심해지고 있잖아.

—<보기>—
ㄱ. 단일 시장의 형성으로 국가 간 불평등이 심화된다.
ㄴ. 국가 간 경계가 무너져서 국가 간 교류와 협력이 증진된다.
ㄷ. 경제 발전에 따라 건전한 중산층의 성장을 가능하게 한다.
ㄹ. 구조 조정으로 대량 실업이 발생하여 사회적 갈등이 확대된다.
ㅁ. 초국가적 행위자의 영향력 확대로 정책 결정에서 국가의 자율성이 침해된다.

- ① ㄴ, ㄷ ② ㄴ, ㄹ ③ ㄱ, ㄷ, ㄹ
④ ㄱ, ㄹ, ㅁ ⑤ ㄴ, ㄷ, ㅁ

11. 다음은 정당 조직의 변화를 보여주고 있다. 이러한 변화에 따른 기대 효과로 가장 적절한 것은?



- ① 주민의 폭넓은 정치 참여를 촉진할 수 있다.
② 정당 이념의 전파와 확산이 수월해질 수 있다.
③ 선거구 관리 비용과 선거 비용이 절감될 수 있다.
④ 주민 의견의 직접적 수렴이 활발하게 이뤄질 수 있다.
⑤ 유권자와의 개별 접촉을 통한 정치 교육과 사회화가 용이해질 수 있다.

12. 오늘날 국제 질서의 특징을 옳게 설명한 것을 다음에서 모두 고른 것은?

ㄱ. 범세계적 상호 의존이 심화되고 있으며 지역 블록화가 나타나고 있다.
ㄴ. 이념·종교·민족적 지역 내 갈등이 해소되었으나 지역 간 갈등은 심화되고 있다.
ㄷ. 국제 연합의 활동이 강화되면서 국가가 국제 사회의 주요한 행위 주체로 부각되고 있다.
ㄹ. 환경에 대한 국제적 관심이 고조되어 국가 간 협력과 국제적 NGO 활동이 활발히 전개되고 있다.
ㅁ. 정치·군사적으로 미국 중심의 국제 체제가 형성되고 있고, 경제적으로 다극 체제가 형성되고 있다.

- ① ㄱ, ㄴ, ㄷ ② ㄱ, ㄷ, ㄹ ③ ㄱ, ㄹ, ㅁ
④ ㄴ, ㄹ, ㅁ ⑤ ㄷ, ㄹ, ㅁ

13. 다음 자료에 대해 옳게 설명한 것을 <보기>에서 모두 고른 것은? [3점]

(가) 국회 의원 후보자 등록 때 2,000만 원의 기탁금을 내도록 한 규정에 대해 국민들의 피선거권을 부당하게 제한하는 수단이라고 헌법 재판소에서 위헌 결정을 내리자, 국회는 법률을 개정하여 기탁금을 1,500만 원으로 낮추었다.
(나) 지역구 국회 의원 선거의 득표 비율에 따라 비례 대표 의석을 나누도록 한 선거 제도가 위헌이라는 헌법 재판소의 결정에 따라 국회는 지역구 후보와 정당에 각각 1표를 행사하는 제도를 도입하도록 법률을 개정하였다. 그러나 비례 대표 의원 선출에서 정당이 후보자 명부를 작성하고 유권자는 정당에만 투표하여 비례 대표 의원을 선출하는 것은 직접 선거 원칙에 위배가 된다는 문제가 여전히 남아있다.

—<보기>—
ㄱ. (가)의 결과로 정치 참여의 기회가 확대된다.
ㄴ. (가)의 기탁금 제도는 보통 선거 원칙을 보장하기 위한 제도이다.
ㄷ. (나)의 문제는 국민의 의사가 정확히 반영되지 않는다는 것이다.
ㄹ. (나)의 문제는 지역구와 전국구 의석 수를 일치시키면 해결된다.
ㅁ. (가)와 (나)에서의 법률 개정에 따라 유권자의 선택 폭이 넓어진다.

- ① ㄱ, ㄴ, ㄷ ② ㄱ, ㄷ, ㅁ ③ ㄴ, ㄷ, ㄹ
④ ㄴ, ㄹ, ㅁ ⑤ ㄷ, ㄹ, ㅁ

14. 다음에 나타난 국제 사회의 행위 주체를 <보기>에서 모두 고른 것은? [3점]

○ 1970년 팔레스타인 해방 기구(PLO)가 비동맹 77그룹의 회원 자격과 국제 연합 총회 옵저버 자격을 취득하였다.
○ 각국은 국제 민간 항공 기구(ICAO)를 결성하여 항공 안전 기준을 마련하였고, 항공 안전에 가장 민감한 조종사들이 모여 국제 항공 조종사 조직 연맹(IFALPA)을 결성하여 ICAO에 의견을 제시하고 있다.
○ 중국은 북한 이탈 주민을 난민으로 인정하지 않으나, 1951년 국제 연합 난민 협약을 체결하였고 1967년 의정서에 서명하였다. 또한 국제 사면 위원회(AI)는 북한 이탈 주민에 대하여 정치적 난민이라고 규정하고 있다. 한편 국경 없는 의사회(MSF)는 북한 주민을 돕기 위한 인도적 활동을 전개하고 있다.

—<보기>—
ㄱ. 국민 국가 ㄴ. 민족 집단
ㄷ. 다국적 기업 ㄹ. 정부 간 국제 기구
ㅁ. 비정부 간 국제 기구

- ① ㄱ, ㄴ, ㅁ ② ㄴ, ㄷ, ㄹ ③ ㄴ, ㄹ, ㅁ
④ ㄱ, ㄴ, ㄹ, ㅁ ⑤ ㄱ, ㄷ, ㄹ, ㅁ

15. 다음 글의 밑줄 친 ‘심판’의 대상이 될 수 있는 사례로 가장 적절한 것은? [3점]

모든 국민은 공권력에 의하여 자신의 권리가 침해되었을 경우 우선 일반 재판 등과 같이 법률이 정하여 놓은 방법에 의하여 그의 권리를 구제받게 된다. 그러나 이러한 권리 구제 수단에도 의해서도 충분한 구제를 받지 못한 경우, 그 국민은 침해받은 권리가 헌법이 보장하고 있는 기본권일 때 헌법재판소에 그 기본권을 침해하는 행위가 위헌임을 선언하여 주도록 심판을 청구할 수 있다.

- ① 지방 자치 단체의 규칙이 법률에 위반되는 경우
- ② 살인을 하여 고등 법원에서 무기 징역을 선고받은 경우
- ③ 국회 의원 선거에서 당선된 자가 선거법을 위반한 경우
- ④ 감사의 불기소 처분으로 고소인의 재판 청구권이 침해당한 경우
- ⑤ 법원에서 어떤 법률이 헌법에 위반되는지의 여부를 심사 제청한 경우

16. 다음 글이 제시하는 문제점을 해결하는 방안으로 적절하지 않은 것은?

정치 자금이 문제가 되는 것은 선거에 비용이 많이 들고 정치 부패의 원인이 되기 때문이다. 정치인이 불법적으로 정치 자금을 모으는 방법의 하나는 기업의 비자금을 끌어오는 것이다. 기업은 정치인에게 불법 정치 자금을 공여하고, 정치인은 그 대가로 정부의 막강한 규제 권한을 이용하여 그 기업에 편익이 돌아가는 정책을 정부가 시행하도록 영향력을 행사한다.

- ① 기업의 회계 투명성을 강화하는 방안을 마련해야 한다.
- ② 정치 자금의 모금과 사용에 대한 투명성을 확보해야 한다.
- ③ 선거 공영제를 강화하여 돈 안드는 선거를 실시해야 한다.
- ④ 기업인의 정치적 중립을 의무화하기 위한 제도를 마련해야 한다.
- ⑤ 특정 기업에 대한 정부의 특혜를 방지하는 방안을 마련해야 한다.

17. 다음은 한국 정치 발전에 관한 학생들의 견해이다. 괄호 안에 들어갈 적합한 말을 옳게 나열한 것은?

갑 : 우리나라는 지금까지 경제 성장에만 치중해왔어. 그러나 이제는 소득을 적절하게 재분배하는 ()를 지향해야 해.

을 : 시민 의사가 정치에 적극적으로 반영되어야 해. 이를 위해서는 ()를 실행할 필요가 있어.

병 : 시민 단체는 공적인 ()이 부족해. 그래서 시민 단체는 시민의 참여를 적극적으로 권장해야 해.

정 : 사익과 공익을 함께 고려하며 조화를 모색하는 시민의 ()이 절실히 필요하다고 생각해.

- | | | | |
|---------|---------|-----|-------|
| 갑 | 을 | 병 | 정 |
| ① 복지 국가 | 참여 민주주의 | 책임성 | 준법 의식 |
| ② 복지 국가 | 참여 민주주의 | 대표성 | 책임 의식 |
| ③ 복지 국가 | 대의 민주주의 | 합리성 | 책임 의식 |
| ④ 법치 국가 | 대의 민주주의 | 책임성 | 권리 의식 |
| ⑤ 법치 국가 | 참여 민주주의 | 대표성 | 권리 의식 |

18. 다음 글의 밑줄 친 ‘이 제도’의 특징을 <보기>에서 모두 고른 것은? [3점]

근대 국가는 대부분 다수의 국민과 넓은 영토를 갖게 되었다. 그 결과 국민이 모두 직접적으로 정치에 참여하는 일이 불가능하게 되었고, 그 대안으로 국정에 참여하는 소수의 국민 대표가 필요하게 되었다. 이 제도는 오늘날 대부분의 국가에서 보통 선거제를 바탕으로 운영되고 있다.

<보기>

- ㄱ. 정책 결정의 효율성이 증대된다.
- ㄴ. 국민의 정치적 관심이 높아진다.
- ㄷ. 국민 의사의 과대한 표출이 방지된다.
- ㄹ. 정치 권력에 대한 국민의 통제가 제한된다.

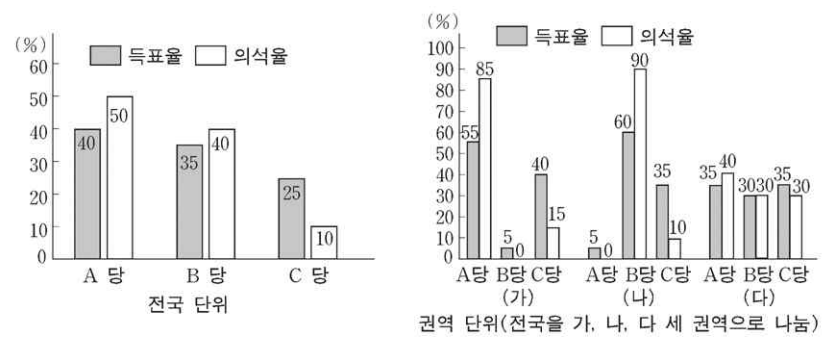
- ① ㄱ, ㄷ ② ㄴ, ㄷ ③ ㄴ, ㄹ
- ④ ㄱ, ㄴ, ㄹ ⑤ ㄱ, ㄷ, ㄹ

19. 다음은 올해 유럽 연합(EU)에서 채택한 헌법안의 주요 내용이다. 이를 통해 추론한 것으로 옳지 않은 것은? [3점]

- EU의 대통령직과 외무 장관직 신설
- 국제 조약을 맺을 때 EU가 법적 주체가 되는 지위 규정
- 회원국이 외부로부터 공격받을 경우 개입하는 상호 방위 원칙 천명
- 재정 적자가 회원국 국내 총생산의 3%를 넘는 회원국에 대한 벌금 부과 등의 제재 가능

- ① EU의 결속력이 강화되고 있다.
- ② 회원국 간 국경 개념이 모호해지고 있다.
- ③ 회원국들의 정부 형태가 유사해지고 있다.
- ④ 경제적 통합을 넘어 정치적 통합을 추구하고 있다.
- ⑤ EU는 회원국의 국내 경제 정책에 대해서 관여할 수 있다.

20. 다음 그림은 어느 나라의 의회 선거 결과이다. 이 자료에 대한 분석으로 적절한 것을 <보기>에서 모두 고른 것은? [3점]



<보기>

- ㄱ. 국민의 의사가 정확하게 반영되지 않았다.
- ㄴ. 의회 내 과반 의석을 보유한 정당이 등장했다.
- ㄷ. 전국 단위 비례 대표제를 대안으로 고려할 수 있다.
- ㄹ. 각 정당에 대한 지지가 전국적으로 고르게 나타났다.

- ① ㄱ, ㄴ ② ㄱ, ㄷ ③ ㄴ, ㄷ
- ④ ㄴ, ㄹ ⑤ ㄷ, ㄹ

* 확인 사항

○ 답안지의 해당란에 필요한 내용을 정확히 기입(표기)했는지 확인 하시오.

제 4 교시

사회탐구영역(경제)

성명

수험 번호

- 먼저 수험생이 선택한 과목의 문제지인지 확인하시오.
- 선택 과목은 반드시 응시 원서 작성시 자신이 선택한 과목의 문제를 풀어야 합니다.
- 문제지에 성명과 수험 번호를 정확히 기입하시오.
- 수험표에 표기된 선택 1, 선택 2, 선택 3, 선택 4의 과목에 대한 문제를 순서대로 풀어 해당란에 답을 표기하시오.
- 문항에 따라 배점이 다르니, 각 물음의 끝에 표시된 배점을 참고하시오. 3점 문항에만 점수가 표시되어 있습니다. 점수 표시가 없는 문항은 모두 2점입니다.

1. 다음 글을 읽고 추론할 수 있는 것 중 가장 적절한 것은?

과거에는 아무런 대가를 지불하지 않고서도 어디서나 깨끗한 물을 쉽게 구할 수 있었다. 하지만 산업화 과정에서 사람들의 무관심과 목인으로 환경 오염이 심해지면서 깨끗한 물을 쉽게 구할 수 없게 되었고, 이제는 깨끗한 물을 구하고자 할 때 그 값을 치르게 되었다.

- ① 자유 거래는 모든 사람을 이롭게 한다.
- ② 같은 비용이면 편익이 큰 것을 선택한다.
- ③ 모든 재화는 시장에서 거래가 이루어진다.
- ④ 시장에서는 분업의 원리가 작용하고 있다.
- ⑤ 재화의 희소성으로 선택의 문제가 발생한다.

2. 다음 두 사람의 대화에서 밑줄 친 부분에 들어갈 답변으로 가장 거리가 먼 것은?

상욱 : 우리나라와 같이 작은 나라가 대외 개방을 한 상태에서는 큰 나라에서 발생하는 충격에 무방비로 당할 수밖에 없어. 외국과의 교역이나 자본의 거래에 일정한 제약을 가해야만 원천적으로 이러한 충격에서 우리 경제를 방어할 수 있다고 봐.

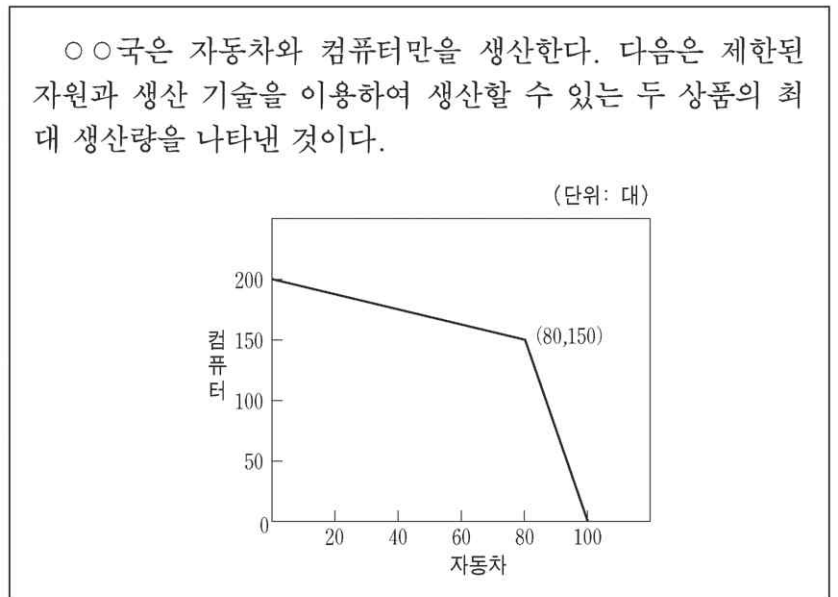
유진 : 외국과의 거래를 제한하자는 주장은 자원이 풍부한 큰 나라에는 맞을 지도 모르지만, 자원이 부족하여 자급자족이 불가능한 우리나라에 적용할 수는 없어. 더구나 전 세계가 개방화, 글로벌화되고 있는 시대적 조류에도 맞지 않아.

상욱 : 그럼 대외 개방을 한 상태에서 우리가 어떻게 대응해야 하지?

유진 : _____

- ① 수출품의 품질 경쟁력을 향상시켜야지.
- ② 해외 자본이 이동할 때 세금을 부과해야지.
- ③ 기업의 경영 관행을 국제 기준에 맞추어야지.
- ④ 금융 시장이 수요·공급의 원칙에 따라 운영되어야지.
- ⑤ 경제협력개발기구(OECD) 기준에 따라 정부 규제를 조정해야지.

3. 다음 자료에서 추론할 수 있는 내용을 <보기>에서 모두 고른 것은? [3점]

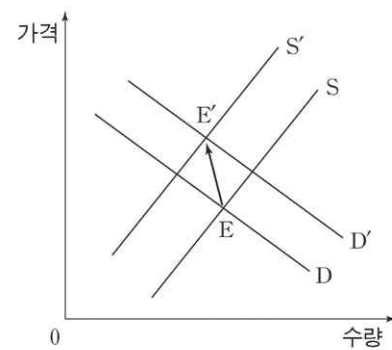


—<보기>—

- ㄱ. 자동차 80대의 기회비용은 컴퓨터 150대이다.
- ㄴ. 컴퓨터 생산이 증가할수록 포기해야 하는 자동차의 수는 줄어든다.
- ㄷ. 자동차 80대와 컴퓨터 100대가 생산되었다는 것은 자원이 비효율적으로 사용되었음을 의미한다.
- ㄹ. 컴퓨터 생산 기술이 향상되면 자동차 80대를 생산하면서도 150대 이상의 컴퓨터 생산이 가능하다.

- ① ㄱ, ㄴ ② ㄱ, ㄹ ③ ㄴ, ㄷ ④ ㄴ, ㄹ ⑤ ㄷ, ㄹ

4. 다음은 쇠고기 시장에 대한 수요 곡선과 공급 곡선을 나타낸 것이다. 쇠고기 시장의 균형점이 E에서 E'로 이동하였을 경우, 그 원인들을 <보기>에서 바르게 고른 것은?



—<보기>—

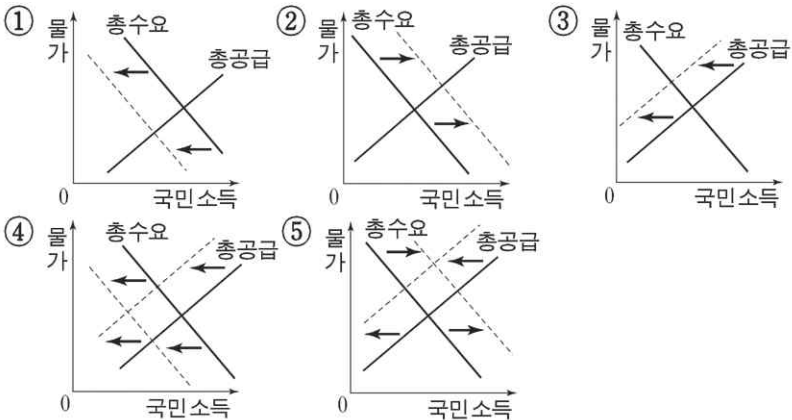
- ㄱ. 소의 사료 값이 대폭 인하되었다.
- ㄴ. 쇠고기와 대체 관계에 있는 돼지고기 가격이 인상되었다.
- ㄷ. 광우병이 발생한 국가로부터의 쇠고기 수입이 전면 금지되었다.
- ㄹ. 육류 섭취를 많이 할수록 성인병에 걸릴 확률이 높아진다는 연구 보고서가 발표되었다.

- ① ㄱ, ㄴ ② ㄱ, ㄷ ③ ㄴ, ㄷ ④ ㄴ, ㄹ ⑤ ㄷ, ㄹ

5. 다음 글의 내용을 그림으로 적절하게 나타낸 것은? [3점]

도시 지역 2,000 가구를 방문해 조사한 결과, 6개월 전과 현재를 비교해 생활 형편, 소비 지출, 경기 상황 등에 대한 소비자들의 판단을 나타내는 '소비자 평가지수'가 67.3을 기록하였다.

※ 소비자 평가지수는 $\frac{\text{호전 응답 가구 수} - \text{악화 응답 가구 수}}{\text{전체 응답 가구 수}} \times 100 + 100$ 의 공식으로 계산하며, 0에서 200사이의 값을 가진다.



6. 다음 글에 나타난 정부의 가격 정책과 성격이 같은 것을 <보기>에서 바르게 짝지은 것은? [3점]

아파트 분양 시장의 과열로 분양가를 규제한다.

- <보기>
- ㄱ. 저임금 근로자를 위해 최저 임금 제도를 시행한다.
 - ㄴ. 공급 과잉이 나타난 농산물의 가격을 일정 수준에서 지지하여 준다.
 - ㄷ. 휴가철 숙박업소의 바가지 요금을 없애기 위해 숙박 요금을 규제한다.
 - ㄹ. 서민 대출의 이자 부담 완화를 위해 금융기관의 이자율 상한을 설정한다.

- ① ㄱ, ㄴ ② ㄱ, ㄹ ③ ㄴ, ㄷ ④ ㄴ, ㄹ ⑤ ㄷ, ㄹ

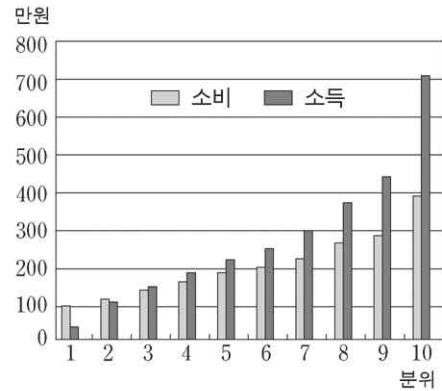
7. 미국의 경제 조치에 대한 기사이다. 밑줄 친 부분에 들어갈 수 있는 것을 <보기>에서 모두 고른 것은?

미국 연방준비제도이사회(FRB)가 지난 6월 30일 연방기금 금리를 연 1%에서 1.25%로 0.25%포인트 올렸다. 그러나 인상된 1.25%의 금리도 1960년대 이후 가장 낮은 수준이어서 경제 전문가들은 올해 말까지 2.25%까지 상승할 것으로 예상하고 있다. 경제 전문가들의 전망이 이처럼 금리 인상에 무게를 두는 것은 _____

- <보기>
- ㄱ. 도시 지역을 중심으로 실업률이 증가하고 있기 때문이다.
 - ㄴ. 최근 미국 경제가 상당한 속도로 성장하고 있기 때문이다.
 - ㄷ. 중국을 비롯한 신흥국과의 무역 분쟁이 증가하고 있기 때문이다.
 - ㄹ. 유가 및 식품 가격의 강세로 인하여 물가 상승률이 높아지고 있기 때문이다.

- ① ㄱ, ㄴ ② ㄱ, ㄷ ③ ㄴ, ㄷ ④ ㄴ, ㄹ ⑤ ㄷ, ㄹ

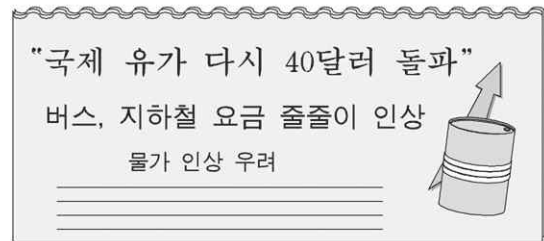
8. 소득 10분위별 월 소득과 소비를 보여주는 그림이다. 이에 대한 올바른 해석을 <보기>에서 모두 고른 것은? [3점]



- <보기>
- ㄱ. 소비는 소득에 비례한다.
 - ㄴ. 소득 1, 2분위 계층은 소득 이상으로 소비를 한다.
 - ㄷ. 빈곤할수록 소득에서 차지하는 소비의 비중이 낮다.
 - ㄹ. 부유할수록 소득에서 차지하는 저축의 비중이 높다.

- ① ㄱ, ㄴ ② ㄴ, ㄷ ③ ㄴ, ㄹ ④ ㄱ, ㄴ, ㄹ ⑤ ㄴ, ㄷ, ㄹ

9. 다음 기사를 읽고, 이 상황을 더욱 악화시킬 수 있는 것을 <보기>에서 모두 고른 것은?

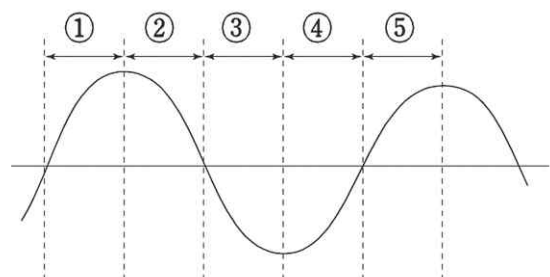


- <보기>
- ㄱ. 저축보다 소비를 권장한다.
 - ㄴ. 통화량을 늘려서 실업 문제를 완화한다.
 - ㄷ. 노사 화합으로 기업의 경쟁력을 향상시킨다.
 - ㄹ. 기업은 신기술 개발로 원가 절감에 노력한다.

- ① ㄱ, ㄴ ② ㄱ, ㄹ ③ ㄴ, ㄷ ④ ㄴ, ㄹ ⑤ ㄷ, ㄹ

10. 다음은 ○○년에 발표된 일련의 경제 정책들이다. 종합적으로 판단할 때, 이러한 정책들을 시행하기에 가장 적절한 경기 순환의 국면은? [3점]

- 일자리 창출 종합 대책
- 승용차, 에어컨 등에 대한 특별소비세 인하
- 고용 창출형 창업 투자 활성화 대책
- 토지 규제 완화 방안
- 건설 경기 진작 방안



11. 다음은 어느 항공사의 회의 내용이다. (A), (B)에 들어갈 내용을 바르게 짝지은 것은? [3점]

사장 : 현재 회사는 ○○-△△ 구간 요금을 4만원으로 책정하여 운행 중에 있으나 계속 적자를 면치 못하고 있습니다. 적자를 타개하기 위한 기획실장의 좋은 의견을 부탁드립니다.

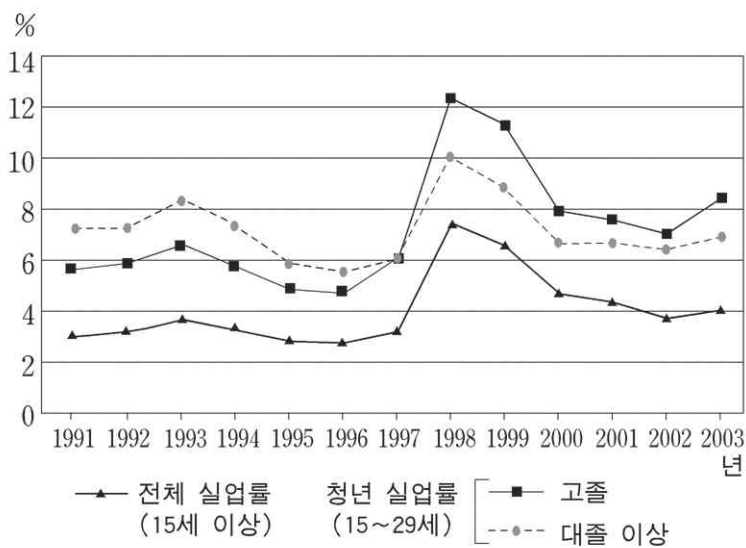
기획실장 : 현 시점에서 우리가 할 수 있는 최선의 대안은 가격 조정이라고 생각합니다. 다음 자료는 가격 조정 시 이용객 변화를 예상한 것입니다.

항공료(만원)	이용객(만명)
3	11
4	10
5	9

따라서 항공기 운행 비용의 변화가 없다고 가정할 때, 가격을 (A)한다면 수입 구조가 개선 될 것으로 예상됩니다. 왜냐하면 우리 회사 이용객의 수요는 가격에 대해 (B)이기 때문입니다.

- | | |
|------|-------|
| (A) | (B) |
| ① 인상 | 탄력적 |
| ② 인상 | 비탄력적 |
| ③ 인상 | 단위탄력적 |
| ④ 인하 | 탄력적 |
| ⑤ 인하 | 비탄력적 |

12. 다음은 실업률 변화를 나타낸 그림이다. 바르게 설명한 것을 <보기>에서 모두 고른 것은? [3점]

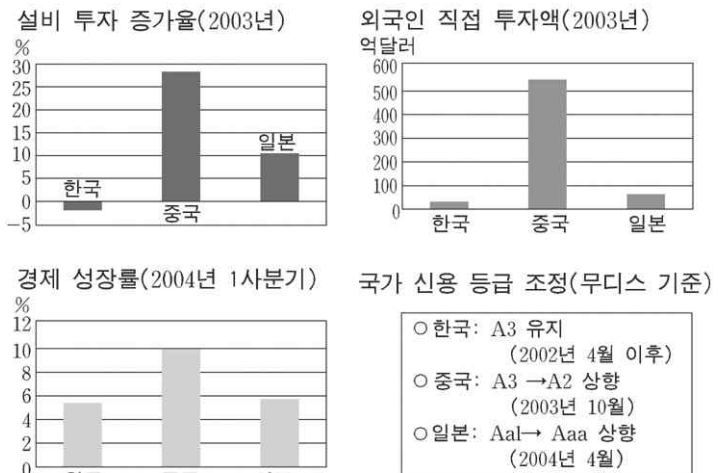


<보기>

ㄱ. 30세 이상 실업률은 전체 실업률보다 높다.
 ㄴ. 1997년 외환 위기 직후 실업률이 급격하게 증가하였다.
 ㄷ. 1997년 외환 위기 이후 청년 실업률의 하락이 역전 현상이 나타났다.
 ㄹ. 1997년 외환 위기 이전 대졸 이상 청년 실업자가 고졸 청년 실업자보다 많았다.

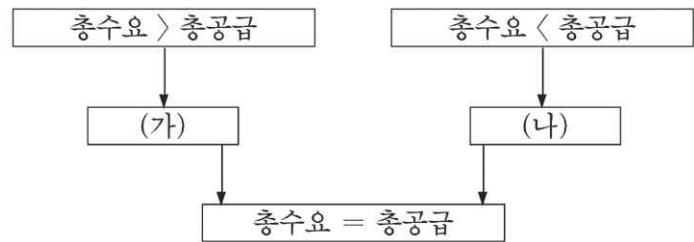
- | | | |
|-----------|--------------|-----------|
| ① ㄱ, ㄹ | ② ㄴ, ㄷ | ③ ㄱ, ㄴ, ㄷ |
| ④ ㄴ, ㄷ, ㄹ | ⑤ ㄱ, ㄴ, ㄷ, ㄹ | |

13. 다음은 세 나라의 경제 관련 자료이다. 이를 통해 해석한 내용으로 가장 적절한 것은?



- ① 일본은 여전히 장기적인 경기 침체에 빠져 있다.
- ② 최근 경제 성적은 '중국 > 한국 > 일본'의 순이다.
- ③ 중국의 경제 성장은 외자 유치와 설비 투자에 힘입었다.
- ④ 일본은 동북아 경제에서 한국과 중국의 추격으로 경쟁력을 상실하고 있다.
- ⑤ 한국은 국가 신용 등급의 안정적 유지로 외자 유치에 상대적으로 성과를 거두고 있다.

14. 총수요와 총공급의 흐름을 나타낸 그림이다. 정부가 추진할 정책으로 (가), (나)에 해당하는 것은? [3점]



- | | |
|------------|----------|
| (가) | (나) |
| ① 세율 인상 | 정부 지출 축소 |
| ② 통화량 감소 | 국·공채 매각 |
| ③ 국·공채 매각 | 세율 인하 |
| ④ 정부 지출 확대 | 통화량 증가 |
| ⑤ 흑자 예산 편성 | 이자율 인상 |

15. 다음 글의 밑줄 친 부분에 해당되지 않는 것은?

이론적으로는 가장 효율적인 자원 배분이 가능한 시장 형태가 존재한다. 이 시장에서는 수요자와 공급자가 가격을 주어진 것으로 받아들인다. 그러나 이 시장은 몇 가지 조건을 충족시켜야 하기 때문에 현실에서 그 사례를 찾는다는 것은 매우 어렵다.

- ① 시장에 진입과 탈퇴의 자유가 보장되어야 한다.
- ② 다수의 수요자와 공급자가 시장에 참여하여야 한다.
- ③ 수요자와 공급자 모두 완전한 정보를 보유해야 한다.
- ④ 하나의 상품에 여러 개의 시장 가격이 존재하여야 한다.
- ⑤ 시장에서 거래되는 상품이 질적으로 차이가 없어야 한다.

16. 다음 두 사람의 주장이 타당한 지를 입증하기 위해 필요한 자료로 가장 거리가 먼 것은?

윤정 : 갑, 을 두 사람이 있다고 생각해 봐. 갑은 직업이 있고 을은 없어. 이때 갑이 하루 8시간 일하는 대신 갑과 을이 4시간씩 나눠서 일하면, 갑은 쉬는 시간이 많아서 좋고(물론 수입은 줄겠지만) 을은 일자리가 생겨서 좋을 거야. 또 갑은 쉬었다 일을 하니 일하는 속도가 더 빨라질 것이고, 일자리가 없어서 돈을 한 푼도 쓰지 못했던 을은 번 돈으로 먹을 것과 입을 것을 살 수 있지.

이렇게 되면 갑 혼자 돈을 쓸 때보다 물건을 사는 사람이 많아지고, 따라서 물건이 더 많이 팔리니 공장은 늘어날 거야.

형우 : 하지만 그렇게 장밋빛 결과만 나올 수 있는 것은 아닐 거야. 기업에서는 한 사람이 하던 일을 두 사람에게 나눠서 시키면, 한 사람이 일할 때와 똑같은 돈이 들지는 않을 거야. 우선 사람을 뽑는 데 돈이 들 테고 신입 사원을 일에 익숙하게 만들려면 교육이 필요하지. 이들을 위해 자리도 마련해줘야 할 거고, 결과적으로 돈이 더 많이 들 거야.

그러면 어느 기업이 새로운 사람을 쓰려고 하겠어? 기업들은 사람 대신 기계 설비 등을 확충하려고 할 거야.

- ① 임금
- ② 취업률
- ③ 노동 생산성
- ④ 조세 부담률
- ⑤ 기업 설비 투자

17. 다음은 원/달러 환율과 엔/달러 환율의 자료이다. 환율 변동의 효과에 대한 설명으로 옳은 것을 <보기>에서 모두 고른 것은? [3점]

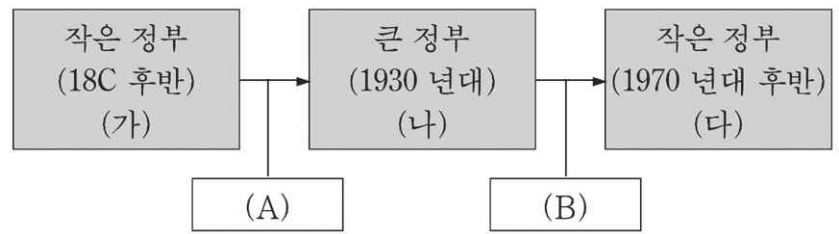
	원/달러	엔/달러
과거	1,200	125
현재	1,100	100

—<보기>—

- ㄱ. 미국이 한국과 일본에 수출하는 제품의 가격 경쟁력은 낮아졌다.
- ㄴ. 일본산 부품을 사용하는 우리나라 기업의 생산 비용은 상승하였다.
- ㄷ. 미국에 수출하는 우리나라 제품의 가격 경쟁력은 일본보다 낮아졌다.
- ㄹ. 달러 표시 채무를 가지고 있는 우리나라 기업의 원리금 상환 부담은 감소하였다.

- ① ㄱ, ㄴ ② ㄱ, ㄷ ③ ㄴ, ㄷ ④ ㄴ, ㄹ ⑤ ㄷ, ㄹ

[18~19] 다음에 나타난 정부 역할의 변화 과정에 대한 자료를 보고 물음에 답하시오.



18. (가), (나), (다) 단계에 대한 설명으로 타당하지 않은 것은?

- ① (가) 시기에는 '보이지 않는 손'의 기능을 신봉하였다.
- ② (나) 시기에는 정부의 중립적 역할을 중시하였다.
- ③ (다) 시기에는 아담 스미스의 이론에 바탕을 둔 고전 경제학의 원리를 다시 강조하게 되었다.
- ④ 세계 대공황은 (가)에서 (나)로 전환하는 계기가 되었다.
- ⑤ (나)와 (다)의 시기는 혼합경제체제에 해당한다.

19. (A)는 (가)로 인해 나타난 문제이고, (B)는 (나)로 인해 나타난 문제이다. 그 사례를 바르게 짝지은 것은?

- | | |
|-----------|------------|
| (A) | (B) |
| ① 관료주의 | 공기업 민영화 |
| ② 독과점 폐해 | 정부의 지나친 간섭 |
| ③ 공공재 부족 | 외부효과 |
| ④ 소득 불균형 | 독과점 폐해 |
| ⑤ 공기업 민영화 | 관료주의 |

20. 다음은 두 나라 사이의 교역에 대한 자료이다. (가), (나)의 상황에 대한 설명으로 맞지 않는 것은? [3점]

다른 조건이 동일하다고 할 때, 프랑스산 밀 1kg의 생산 가격이 1달러인데 반해 영국산 밀 1kg의 생산 가격은 2달러이다.

(가) 프랑스산 감자의 1kg당 생산 가격이 5달러인데, 영국산 감자의 생산 가격은 1kg당 1달러이다.

(나) 프랑스산 감자의 1kg당 생산 가격이 10달러인데, 영국산 감자의 생산 가격은 1kg당 15달러이다.

- ① (가)의 경우, 영국은 감자 생산에 특화한다.
- ② (가)의 경우, 프랑스는 밀 생산에 특화한다.
- ③ (나)의 경우, 영국은 감자 생산에 절대 우위가 있다.
- ④ (나)의 경우, 프랑스는 밀 생산에 절대 우위와 비교 우위가 모두 있다.
- ⑤ 절대 우위론에 따르면, (가)의 경우에는 영국과 프랑스의 교역이 가능하지만 (나)의 경우에는 불가능하다.

* 확인 사항

- 답안지의 해당란에 필요한 내용을 정확히 기입(표기)했는지 확인하시오.

제 4 교시

사회 탐구 영역 (사회·문화)

성명

수험 번호

- 먼저 수험생이 선택한 과목의 문제지인지 확인하시오.
- 선택 과목은 반드시 응시 원서 작성시 자신이 선택한 과목의 문제를 풀어야 합니다.
- 문제지에 성명과 수험 번호를 정확히 기입하시오.
- 수험표에 표기된 선택 1, 선택 2, 선택 3, 선택 4의 과목에 대한 문제를 순서대로 풀어 해당란에 답을 표기하시오.
- 문항에 따라 배점이 다르니, 각 물음의 끝에 표시된 배점을 참고하시오. 3점 문항에만 점수가 표시되어 있습니다. 점수 표시가 없는 문항은 모두 2점입니다.

1. 다음은 어느 학술 발표회의 안내문이다. 각 교수들이 자신의 전공과 관련하여 발표했을 주제와 가장 거리가 먼 것은?

청소년의 인권 신장을 위한 학술 발표회

※주제 : 청소년의 인권 침해 실태 분석과 대안 모색

- 사회 : 김○○ (청소년 ○○ 시민 연대 사무국장)
- 발표 : 이○○ (A대학 교육학과 교수)
박○○ (B대학 심리학과 교수)
최○○ (C대학 사회학과 교수)
정○○ (D대학 문화 인류학과 교수)
- 일시 및 장소 : 2004년 9월 16일 14:00
○○ 시민 회관 대강당
- 주최 : 청소년 ○○ 시민 연대

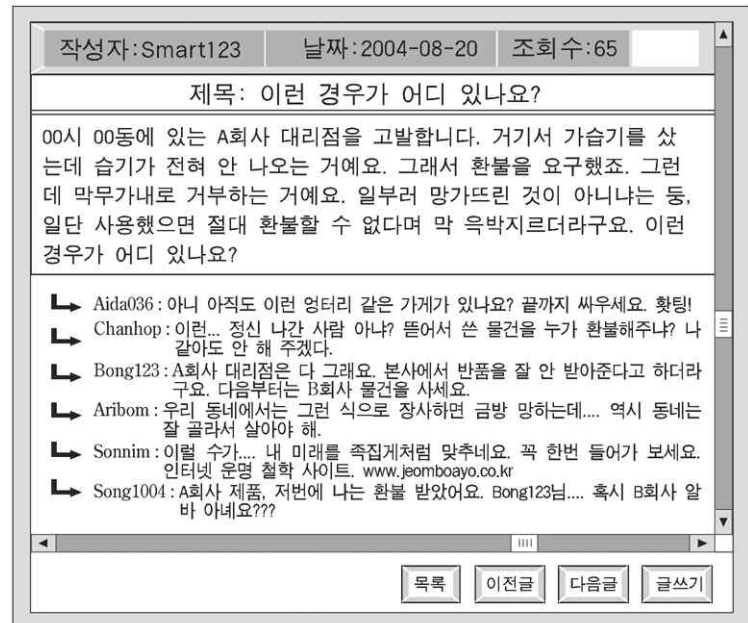
- ① 청소년 권리에 대한 사회적 인식의 변화
- ② 가정 폭력 피해 청소년의 법률적 구제 절차
- ③ 청소년의 학업 스트레스와 정신 건강의 관계
- ④ 집단 따돌림 피해 학생에 대한 문화 서술적 접근
- ⑤ 인성 발달 단계에 따른 청소년들의 권리 의식 함양 방안

2. 다음 글은 사회 현상에 대한 어느 한 관점을 보여주고 있다. 이 관점을 반영하고 있는 것은? [3점]

사회적으로 중요한 역할을 수행하고 있는 직업에 종사하는 사람이 많은 보수를 받는 것은 당연하다. 각 개인은 보다 많은 자원을 분배받기 위하여 각자 최선을 다해 노력하게 되고 이를 통해 사회는 더욱 발전할 수 있다. 이것은 구성원들의 노력과 헌신을 이끌어내기 위한 사회적 장치이다.

- ① 약물 남용이 문제가 되는 것은 사회에서 공유되는 규범과 행동 양식에 위배되기 때문이다.
- ② 가족 문제는 가부장적 가족 제도가 권위주의적이고 불평등하기 때문에 나타나는 현상이다.
- ③ 청년 실업 문제는 제한된 일자리를 두고 기성 세대가 청년 세대를 배제하기 때문에 나타난다.
- ④ 환경 문제는 유용한 자원을 차지하기 위하여 많은 이익 집단들이 갈등을 일으키는 과정에서 나타난다.
- ⑤ 범죄 행위자는 활동적이고 공격적인 체질을 가지고 있으며 범죄 가능성이 높은 유전 인자를 지니고 있다.

3. 다음은 어느 소비자 보호 단체 웹 게시판의 일부이다.



위 게시판 내용에 대한 해석으로 적절한 것을 <보기>에서 모두 고른 것은?

— < 보 기 > —

- ㄱ. 지적 재산권이 침해된다.
- ㄴ. 개별 정보의 질적 가치에 대한 판단이 어렵다.
- ㄷ. 공간적 제약과 무관한 상호 작용이 이루어진다.
- ㄹ. 개인 정보의 유출로 인한 프라이버시 침해가 나타난다.

- ① ㄱ, ㄴ ② ㄴ, ㄷ ③ ㄷ, ㄹ
- ④ ㄱ, ㄴ, ㄷ ⑤ ㄴ, ㄷ, ㄹ

4. 다음 글에 대한 분석으로 가장 타당한 것은?

(가) 노화나 질병, 장애, 실업, 빈곤 같은 위협에 처하는 경우, 우리는 일차적으로 가족에 의존하게 된다. 가족의 복지 기능이 충분치 못하면 친척과 이웃, 또는 종교 단체 같은 민간 단체에 의존하게 된다. 그러나 민간 단체가 빈민과 사회적 약자들의 복지를 제공하는 데는 한계가 있다. 이 때문에 국가가 '최저 수준의 삶'에 책임을 지는 국가 복지의 이념이 출현하였다.

(나) 국민 기초 생활 보장법 제3조 ①: 이 법에 의한 급여는 수급자가 자신의 생활의 유지·향상을 위하여 그 소득·재산·근로 능력 등을 활용하여 최대한 노력하는 것을 전제로 이를 보충·발전시키는 것을 기본 원칙으로 한다.

- ① (가)로 볼 때 현대 복지는 사회 통제 수단의 성격이 강하다.
- ② (가)로 볼 때 빈곤 해결의 책임이 국가에서 개인으로 변화하였다.
- ③ (나)는 극빈자의 생존권을 인정하고 있지 않다.
- ④ (나)는 생활이 어려운 사람들의 자립 의지를 강조하고 있다.
- ⑤ (가)의 내용으로 볼 때 (나)는 복지 정책이라고 보기 어렵다.

5. 다음은 토론 수업의 한 장면이다. 토론 내용에 대한 분석으로 타당한 것을 <보기>에서 모두 고른 것은? [3점]

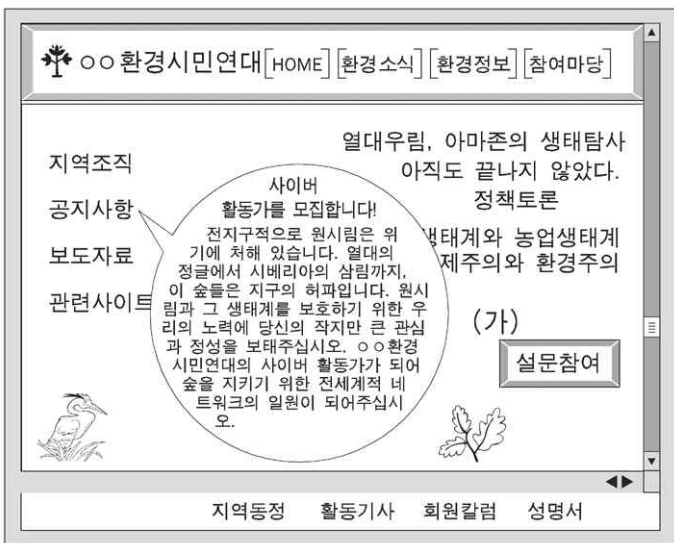
- 교사 : 요즘 인터넷 실명제 도입에 대한 찬반 논쟁이 벌어지고 있습니다. 그러면 인터넷 실명제에 대한 여러분의 생각을 들어볼까요?
- 경수 : 저는 마음껏 자신의 주장을 펼 수 있다는 인터넷의 장점이 위축될 수 있어서 실명제 실시에 반대합니다.
- 민호 : 하지만 다른 사람의 인권을 침해하고 음란 정보를 마음대로 유통시키는 문제를 해결하기 위해서는 반드시 실명제가 도입되어야 합니다.
- 경수 : 실명제는 자유를 억압하는 통제의 수단이라고 봐야 하지 않을까요? 그게 더 큰 인권 침해라고 생각합니다.
- 현정 : 동의합니다. 정보화 시대에서 정보 격차는 가장 큰 문제입니다. 실명제는 안 된다고 생각합니다.

— <보기> —

- ㄱ. 교사는 가치 판단을 하지 않고 사실을 진술하고 있다.
- ㄴ. 경수는 사이버 범죄의 확산을 심각하게 받아들이고 있다.
- ㄷ. 민호는 개인의 자유보다 사회의 질서와 안정을 강조하고 있다.
- ㄹ. 현정은 타당한 근거를 제시하며 실명제 도입에 반대하고 있다.

- ① ㄱ, ㄷ ② ㄴ, ㄷ ③ ㄴ, ㄹ
- ④ ㄱ, ㄴ, ㄷ ⑤ ㄱ, ㄷ, ㄹ

[6~7] 다음은 어떤 단체의 홈페이지이다.



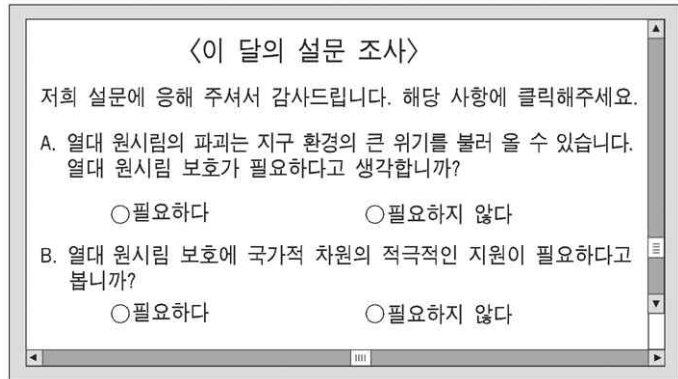
6. 위와 같은 단체의 일반적 특성에 대한 설명으로 옳은 것을 <보기>에서 모두 고른 것은?

— <보기> —

- ㄱ. 가입과 탈퇴가 자유롭지 못하다.
- ㄴ. 이익 사회가 아니라 공동 사회이다.
- ㄷ. 사회의 다원화에 기여하는 조직이다.
- ㄹ. 비공식 조직이 아니라 공식 조직이다.
- ㅁ. 공통의 목표와 이해를 가진 사람들을 기반으로 한다.

- ① ㄱ, ㄷ ② ㄴ, ㄹ ③ ㄱ, ㄷ, ㄹ
- ④ ㄴ, ㄹ, ㅁ ⑤ ㄷ, ㄹ, ㅁ

7. 화면의 (가) **설문참여** 를 클릭했더니 다음과 같은 설문 화면이 나타났다. 이 설문에 대한 분석으로 잘못된 것은?



- ① 조사 결과의 통계 처리가 어렵다.
- ② A 문항은 특정한 응답을 유도하고 있다.
- ③ 오프라인 설문 조사보다 비용이 적게 든다.
- ④ 온라인 조사의 특성상 표본 설계가 어렵다.
- ⑤ 응답자의 특성 때문에 이 결과는 대표성을 갖기 어렵다.

8. 다음 글은 현대 사회의 변화 과정을 서술하고 있다. 이러한 변화 과정에서 나타난 현상을 <보기>에서 모두 고른 것은? [3점]

산업 사회에서 기업은 대량 생산을 통하여 대량 판매를 한다. 대중은 주변 사람이나 매체의 정보와 매력적인 광고 이미지를 바탕으로 상품을 구매한다. 그러나 정보 기술의 발달로 변화된 사회에서 기업은 소비자의 주문에 따라서 다양한 상품들을 소규모로 생산하며, 소비자는 개성과 취향에 따라 소비한다.

— <보기> —

- ㄱ. 지식의 경제적 가치 증가
- ㄴ. 재화의 유통 단계 수 증가
- ㄷ. 중앙 집권화된 기업 구조 정착
- ㄹ. 전자 상거래 및 재택 근무 확대

- ① ㄱ, ㄷ ② ㄱ, ㄹ ③ ㄴ, ㄹ ④ ㄱ, ㄴ, ㄹ ⑤ ㄴ, ㄷ, ㄹ

9. 다음 글을 통해 추론할 수 있는 내용으로 가장 적절한 것은? [3점]

중국, 베트남, 대만에서 한류 열풍이 불고 있지만 한국의 대중 문화에 열광하는 그곳 사람들이 한국의 대중 문화를 있는 그대로 수용하거나 받아들이는 것은 아니다. 중국, 베트남, 대만에서 유행하는 한국의 대중 문화는 철저히 그곳 사람들이 선택하고 재해석한 것이다. 때로는 그들의 고유한 문화적 배경 때문에 원래 한국 사람들이 가지고 있던 것과는 다른 의미로 문화를 이해하고 받아들인다. 이 과정에서 대중 문화의 접변이 일어나게 된다.

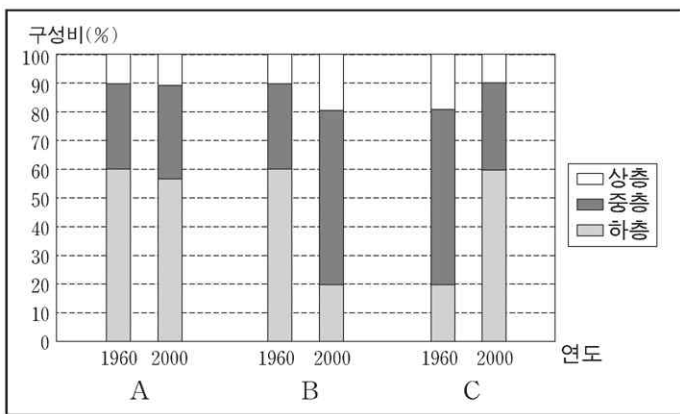
- ① 대중 문화의 국가 간 교류는 문화 동화의 원인이 된다.
- ② 대중 문화의 확산으로 문화적 차별화가 없어지게 된다.
- ③ 한 국가의 대중 문화는 민족 정체성을 담고 있어서 변화되지 않는다.
- ④ 회교 문화권에서 온 사람들은 이슬람 사원을 중심으로 종교 생활을 한다.
- ⑤ 한국인이 일본의 전통극 가부끼를 볼 때 일본인과 다르게 그 의미를 해석한다.

10. 다음 글에 대한 해석으로 옳지 않은 것은? [3점]

나는 얼마 전부터 버스 정류장 부근의 패스트푸드점에서 아르바이트를 하고 있다. 자상한 팀장에게 일을 배우고 있다. ㉠사장님은 팀장이 ㉡아르바이트생들을 잘 관리해 주기를 바라고 있다. 팀장은 내가 들어가고 싶어 하는 ○○대학교를 휴학 중이라고 한다. 나는 가끔 내가 이미 ○○대학생인 것처럼 ㉢○○대학교의 교정을 걷는 모습을 상상하며 그의 말투와 표정을 흉내내어 보곤 한다. 일 외에 다른 힘든 점은 ㉣주방장 아저씨와 우리 아르바이트생들과의 관계이다. 아저씨는 우리가 하는 모든 행동을 못마땅하게 여긴다. 우리도 통명스러운 아저씨를 좋아하지 않는다. 그런데, 나에게 더욱 힘든 것은 콜라나 아이스크림 등을 공짜로 달라고 은근히 압력을 넣는 친구들이다. 솔직히 나도 기분 좋게 인심을 쓰고 싶지만, 양심상 그래서는 안 될 것 같아 ㉤친구들이 오면 마음이 별로 편치 않다.

- ① ㉠이라는 지위는 노인, 흑인, 여자 등의 지위와 그 성격이 다르다.
- ② ㉡은 사장의 팀장에 대한 역할 기대의 내용이다.
- ③ ㉢은 주인공에게 있어서 준거 집단으로 작용하고 있다.
- ④ ㉣과 같은 유형의 상호 작용은 최소한 공통의 목표를 달성하려는 사람들이 많을 때에 일어난다.
- ⑤ ㉤의 상황에서 주인공이 느낀 것은 역할 갈등이다.

11. 그림은 A, B, C 세 나라의 계층 구조를 1960년과 2000년의 두 시점에서 측정한 것이다. 이 그림을 바르게 해석한 것을 <보기>에서 모두 고른 것은? [3점]



<보기>

- ㄱ. 폐쇄적 계층 구조의 사회는 A와 같은 계층 구조 변화를 보일 것이다.
- ㄴ. 산업화의 과정을 겪은 사회는 B와 같은 계층 구조 변화를 보일 것이다.
- ㄷ. C는 계층 구조 변화에 따라 더 안정적인 사회로 변화하였다.
- ㄹ. 개인적 요소에 의한 사회 이동이 가장 많았던 나라는 C이다.
- ㅁ. C보다 B에서 상승 이동의 기회가 더 많았다.

- ① ㄱ, ㄴ ② ㄴ, ㅁ ③ ㄱ, ㄴ, ㅁ ④ ㄴ, ㄷ, ㄹ ⑤ ㄷ, ㄹ, ㅁ

12. 그림은 두 가족의 주민등록등본이다. 두 가족 형태의 일반적인 인 특성에 대한 설명으로 옳은 것은? [3점]

(가)					(나)				
주민등록표 (등·본) ○○○도 ○○군 ○○면장					주민등록표 (등·본) ○○광역시 ○구 ○○동장				
세대주 호주 및 관계 번호	정○○ (정○○의 본인)	세대 구성 호주 및 관계	최초작성	주 소	세대주 호주 및 관계 번호	박○○ (박○○의 자)	세대 구성 호주 및 관계	최초작성	주 소
1	○○○○도 ○○군 ○○면 ○○번지				1	○○광역시 ○구 ○○동장			
번호	세대주 성명	주민등록번호	편입일/변동일	변동사유	번호	세대주 성명	주민등록번호	편입일/변동일	변동사유
1	본인 정○○	451024-1000000	1970-03-01	전입	1	본인 박○○	580810-1000000	1999-03-05	전입
2	처 최○○	461020-2000000	1970-03-01	전입	2	처 김○○	620920-2000000	1999-03-05	전입
3	자 정○○	710620-1000000	1971-06-30	전입	3	자 박○○	871215-1000000	1999-03-05	전입
4	자부 송○○	710430-2000000	1997-03-01	전입					
5	손 정○○	000730-3000000	2000-08-01	출생신고					

- ① (가)가 지배적인 사회에서는 인간 소외 현상이 나타나기 쉽다.
- ② 산업화가 진행되면 (나)의 비율이 높아진다.
- ③ (가)에서는 (나)보다 친족의 유대 관계가 약하다.
- ④ (가)에서는 (나)보다 구성원의 개성과 창의성이 중시된다.
- ⑤ 평등주의적 부부 관계는 (나)보다는 (가)에서 주로 나타난다.

13. 다음은 영희가 제출한 연구 계획서에 대한 교사의 평이다. 영희가 제출했을 것으로 짐작되는 연구 주제와 자료 수집 방법을 고른 것은? [3점]

영희가 무엇에 대해 관심을 가지고 있는가는 비교적 잘 드러나 있지만, 연구 주제와 자료 수집 방법이 잘못 연결된 것 같아. 영희의 연구는 일반적인 법칙을 찾아내기보다는 연구 대상을 심층적으로 이해하는 데 목적이 있어. 그런데 제시한 자료 수집 방법으로는 그 목적을 달성하기 힘들지 않을까?

연구 주제	자료 수집법
① 학급 반장의 고층에 대한 연구	면접법
② 가출 청소년의 의식에 대한 연구	참여 관찰법
③ 우리 학교 학생들의 독서 실태 조사	문헌 조사법
④ 집단 따돌림 현상과 성적과의 관계 분석	실험법
⑤ 징계 받은 학생의 일상 생활에 대한 이해	설문지법

14. 다음 사례에서 드러나는 개념으로 가장 적절한 것은?

아메리카 원주민들의 삶에서 말은 필수적인 것처럼 보이지만 이들이 말을 가지게 된 것은 백인과의 접촉 이후이다. 원주민들은 스페인 거주지에서 말을 훔치거나 도망친 말을 잡아 처음으로 말을 수중에 넣게 되었으며 이후 이들의 전투력이 크게 향상되었다. 1600년대 이후 여러 부족들이 말을 소유하게 되었으며 말의 덕택으로 운반 능력이 크게 향상되어 이동 거리가 늘어나고 교역 범위도 넓어지게 되었다. 그 뿐만 아니라 말의 도입으로 들소를 사냥하는 것이 쉬워져 대규모 들소 사냥이 가능해졌으며 농경을 아예 포기하고 들소 사냥에만 종사하는 부족들도 나타나게 되었다. 들소 사냥은 사회적 변화도 촉진시켜 유능한 개인들은 자신의 책임하에 사냥과 교역, 전투를 하려 하였으며 마을 지도자의 권위에도 전하기 시작하였다.

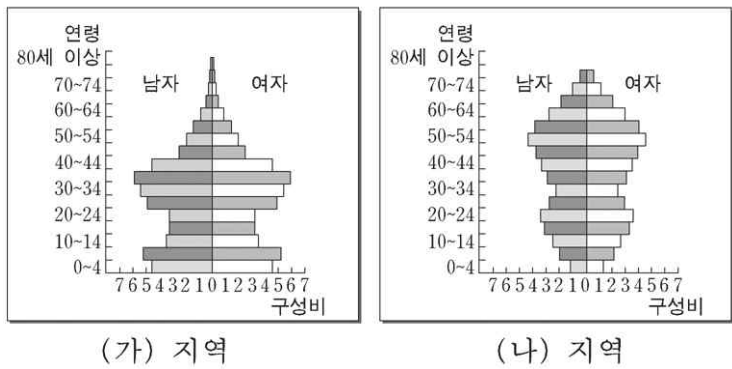
- ① 발견 ② 자극 전파 ③ 문화 동화
- ④ 문화 접변 ⑤ 문화 지체

15. 대규모 조직의 일반적 특징 중, 다음 글에 나타나지 않은 것은?

갑은 교통 사고를 당하여 전주 시내의 한 종합 병원에 의식 불명 상태로 실려왔다. 갑이 도착함과 동시에 응급실에서는 관례적인 응급 처치가 실시되었다. 간호사는 혈압, 맥박 등을 점검하고, 본격적인 진료는 잠시 후 도착한 담당 의사에 의해 시작되었다. 담당 의사의 일차적 판단에 따라 몇 가지 검사가 실시되었고, 그 결과를 바탕으로 담당 의사의 진단이 내려졌다. 갑이 경추에 심각한 손상을 입었고, 당장 수술을 받지 않으면 심각한 상황에 이를 수도 있다는 것이었다. 그러나 이런 수술을 하기 위해서는 보호자의 동의가 필요하다는 것이 병원의 규정이었어서, 의료진은 춘천에 살고 있는 갑의 보호자가 도착할 때까지 기다려야만 했다.

- ① 과업의 전문화 ② 업무의 표준화
- ③ 목적 전치 현상 ④ 경력에 따른 보상
- ⑤ 공식적 규약에 따른 업무 수행

16. 다음은 우리나라 어느 두 지역의 인구 피라미드이다. 이에 대한 분석으로 옳은 것은?



- ① (가)는 (나)보다 지역 주민 간의 유대감이 강하다.
- ② (가)는 (나)보다 교통이 혼잡하고 환경 문제가 심각하다.
- ③ (가)는 (나)보다 소득 수준이나 생활 방식이 동질적이다.
- ④ (나)는 (가)보다 구성원들 간의 상호 작용이 경쟁적이다.
- ⑤ (나)는 (가)보다 20, 30대 인구 구성비가 상대적으로 높다.

17. 다음 사례의 가족과 친족에 대한 설명으로 가장 적절한 것은?

- 시베리아의 척치 부족에서는 형이 죽으면 동생이 형수의 남편이 되고 그 사이에서 태어난 자녀는 형의 자녀로 인정된다.
- 인도의 나야르 부족에서는 어머니와 그 자녀들로 가족이 구성되며, 어머니는 지속적이며 고정적인 남편을 가지지 않는다.
- 네팔의 토다 부족은 극심한 남녀 성비의 불균형으로 일처다부제를 행하며 어머니의 모든 남편을 아버지로 여긴다.
- 한국에서는 아버지와 아들사이에 혈통이 계승되지만 남태평양의 트로브리안드 사회에서는 외삼촌과 생질 사이에 혈통이 계승된다.

- ① 부자 관계는 생물학적 혈연 관계에 근거해 있다.
- ② 가족 구성의 기본 단위는 부부와 그 자녀들이다.
- ③ 혈통의 계승 원리는 대부분의 사회에서 유사하다.
- ④ 혼인은 한 남자와 한 여자가 만나 가족을 이루는 것이다.
- ⑤ 가족은 보편적으로 존재하지만 그 구성 형태는 다양하다.

18. 다음 그림과 관련된 설명으로 거리가 먼 것은? [3점]

(가) 지역 축제의 줄다리기



(나) 승무의 해외 공연



- ① (가)는 우리 민족의 공동체 의식과 협동 정신을 반영하고 있다.
- ② (나)의 활성화를 위하여 전통 문화의 가치를 재발견하여야 한다.
- ③ (나)는 전통 문화가 예술적 가치의 측면에서 보편성을 가질 수 있음을 보여준다.
- ④ (가)는 (나)보다 민족 문화의 정체성을 더 잘 나타내고 있다.
- ⑤ (가)와 (나)는 민족 대대로 내려오면서 축적해 온 생활 경험 총체의 일부이다.

19. 다음 글의 필자가 가지고 있는 개인과 사회에 대한 관점과 부합하지 않은 것은?

국가는 국민들이 모여서 이루어진 것이지만 국민의 삶을 규제하는 구속력을 지니고 있다. 대한민국을 구성하는 국민 각자의 특성과 생활 양식을 통하여 대한민국을 파악할 수도 있지만 국민들의 규범과 가치관에 영향을 미치는 대한민국의 특성이 존재한다는 것이 더욱 본질적이다.

- ① 사회는 개인의 집합체 그 이상이다.
- ② 인간은 사회로부터 자유롭지 못하다.
- ③ 사회는 개인의 암묵적 합의에 의해 움직인다.
- ④ 집합체의 부분이 파괴되어도 전체는 생존한다.
- ⑤ 사회는 단순한 사회에서 복잡한 사회로 진화한다.

20. 다음 사례를 통해 도출할 수 있는 결론으로 가장 적절한 것은? [3점]

호주 북쪽 멜빌섬에 거주하고 있는 티위 부족은 채집 경제 활동을 하고 있다. 여성들이 채집 활동에 종사하기 때문에 많은 여성을 아내로 둔 사람은 경제적 부를 가질 수 있고 이를 바탕으로 정치적 지위를 획득할 수도 있다. 이러한 배경에서 티위 부족에는 일부다처제가 정착되었다. 이 때문에 티위 부족에서는 젊은 아내를 둔 노인과 미혼의 젊은 남자 사이에 사회적 긴장과 분쟁이 발생하기도 한다.

- ① 고립된 사회일수록 일부다처제가 발달하기 쉽다.
- ② 혼인 제도는 경제, 정치 등 다른 사회 제도와 유기적으로 통합되어 있다.
- ③ 일부다처제에서는 비슷한 연령대의 연애 결혼이 많고 남성이 연애를 주도한다.
- ④ 문화의 공유성이라는 측면에서 다른 사회도 티위의 혼인 제도를 수용할 수 있다.
- ⑤ 문화 상대주의 관점에서 보면 티위의 혼인 제도는 일부일처제로 변화될 필요가 있다.

* 확인 사항

- 답안지의 해당란에 필요한 내용을 정확히 기입(표기)했는지 확인 하시오.