

제 4 교시

사회 탐구 영역 (윤리)

성명

수험 번호

- 먼저 수험생이 선택한 과목의 문제지인지 확인하시오.
- 선택 과목은 반드시 응시 원서 작성시 자신이 선택한 과목의 문제를 풀어야 합니다.
- 문제지에 성명과 수험 번호를 정확히 기입하시오.
- 수험표에 표기된 선택 1, 선택 2, 선택 3, 선택 4의 과목에 대한 문제를 순서대로 풀어 해당란에 답을 표기하시오.
- 문항에 따라 배점이 다르니, 각 물음의 끝에 표시된 배점을 참고하시오. 3점 문항에만 점수가 표시되어 있습니다. 점수 표시가 없는 문항은 모두 2점입니다.

3. 그림은 ‘하노이 탑’의 일부이다. 이를 토대로 <보기>의 내용을 폐쇄적 윤리에서 개방적 윤리의 순서로 바르게 배열한 것은? [3점]



1. 밑줄 친 ‘삼독(三毒)’ 중에서 가장 근본이 되는 내용이 잘 드러난 것은?

모든 인간이 저마다 지니고 있는 불성(佛性)은 맑은 거울 처럼 청정하다. 그런데 대다수 중생들은 불성을 상실한 것처럼 살아가고 있는데, 그 이유는 무엇일까? 이러한 불성의 마음을 어둡게 하는 원인으로 삼독이 있다.

- ① 더 많은 돈을 벌려고 부동산 투자를 한다.
- ② 마음에 들지 않는다고 함부로 화를 낸다.
- ③ 어리석음에 빠져 무모하게 사업을 확장한다.
- ④ 남의 일에 사사건건 간섭하여 불화를 일으킨다.
- ⑤ 종종 밤늦도록 인터넷 게임을 하느라 일을 제대로 못한다.

<보 기>

- ㄱ. 추위와 배고픔에 떨고 있는 야생 동물에게 먹이를 준다.
- ㄴ. 용천역 폭발 사고로 고통을 겪고 있는 북한 주민을 도와준다.
- ㄷ. 지하철 역, 공원, 병원 등 편의 시설을 자기 동네 주변에 유치하려고 적극적으로 노력한다.
- ㄹ. ‘그린피스’와 같은 비정부기구(NGO)가 중심이 되어 아마존 강 유역의 난개발에 반대하는 시위를 벌인다.

- ① ㄱ - ㄴ - ㄷ - ㄹ
- ② ㄷ - ㄱ - ㄴ - ㄹ
- ③ ㄷ - ㄴ - ㄱ - ㄹ
- ④ ㄹ - ㄱ - ㄴ - ㄷ
- ⑤ ㄹ - ㄷ - ㄱ - ㄴ

2. 다음과 같은 사회에 도달할 수 있는 적절한 방법을 <보기>에서 모두 고른 것은?

큰 도가 행해지고 어진 사람과 능력 있는 자가 버려지지 않으며, 사람들은 자기 부모만 부모로 여기지 않고 자기 자식만을 자식으로 여기지 않는다. 노인들은 여생을 잘 마치게 되고 장년들에게는 일터가 있으며 어린이들은 모두 잘 자라게 된다. 외롭고 홀로 된 자나 병든 자들은 모두 보살핌을 받는다. 재물을 소중히 여기나 반드시 자기만이 가지려는 것이 아니요, 일에 애쓰는 것도 오직 자기만을 위해서 그런 것이 아니다.

-예기(禮記)-

4. 밑줄 친 ‘이것’과 관계 깊은 인간의 특성을 가장 잘 담고 있는 것은?

예전에는 이것을 건전한 노동과 대립되는 개념으로 간주해 왔으나, 최근에는 인간 생활에 있어 중요한 요소 중 하나로 인식하고, 인간으로서 삶의 재미를 적극적으로 추구하고자 하는 의지적 활동으로 본다.

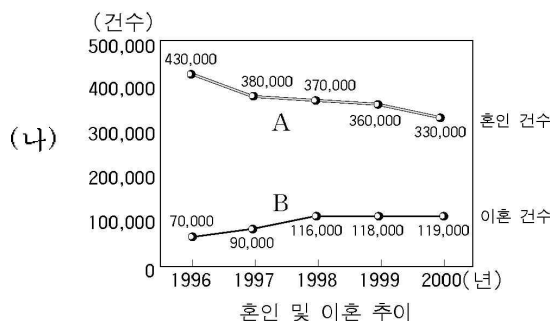
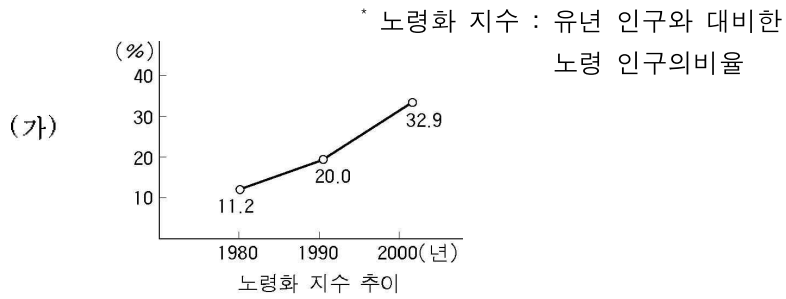
<보 기>

- ㄱ. 사회 복지를 확대한다.
- ㄴ. 혈연 관계를 중시한다.
- ㄷ. 사유 재산권을 강화한다.
- ㄹ. 적재적소에 인재를 골고루 등용한다.

- ① 컴퓨터를 사용해서 과제물을 모두 끝마쳤어.
- ② 인간은 홀로 있으면 고통을 느끼게 마련이야.
- ③ 무엇보다도 먼저 사람다운 사람이 되어야 해.
- ④ 장차 프로 운동 선수가 되는 것도 괜찮을 것 같아.
- ⑤ 동아리 활동을 통해 만든 작품으로 전시회를 열 생각이야.

- ① ㄱ, ㄴ ② ㄱ, ㄹ ③ ㄴ, ㄷ ④ ㄴ, ㄹ ⑤ ㄷ, ㄹ

5. 그래프 (가)와 (나)는 각각 우리 나라 노령화 지수와 혼인 및 이혼 추이를 나타낸 것이다. 이러한 추세가 지속된다고 볼 때, (가)와 (나)의 현상에 대한 추론과 거리가 먼 것은? [3점]



- ① (가)로 보아 정부는 노인 문제 해결을 위해 보다 적극적인 노인 복지 정책을 수립해야 할 것이다.
- ② (가)와 (나)로 보아 부모 봉양에 대한 책임이 가정에서 사회·국가적 차원으로 더욱 확대될 것이다.
- ③ (가)로 인해 나타나는 사회 문제 해결을 위해 정부는 (나)현상을 개선하는 데 힘쓸 것이다.
- ④ (나)의 A현상은 여성의 자아 실현 욕구 충족을 위한 활발한 사회적 진출과 밀접한 관련이 있다.
- ⑤ (나)의 B현상으로 보아 우리 사회의 가족 공동체 의식은 점차 약화될 것이다.

6. 밑줄 친 '이것'의 성격이 가장 잘 나타난 것은? [3점]

○ 이것은 인간의 생활을 외적으로 규제하는 도덕 규범이다.
○ 이것이 없으면 사람이 생존할 수 없고, 도모하는 일에 성공할 수 없으며, 사회의 안정을 이룩할 수 없다.

- ① 도덕 사회는 완전한 개인주의가 보장되어야 실현된다.
- ② 도덕적 삶은 욕심을 부리지 않고 자연의 섭리에 순응하는 것이다.
- ③ 도덕 사회는 덕으로 나라를 다스리는 왕도 정치를 통해서 이루어 진다.
- ④ 도덕적 삶은 자신의 내면에 들어 있는 도덕성을 밖으로 확장해 나가는 것이다.
- ⑤ 도덕 사회는 모든 사람이 조화롭게 살 수 있는 인간 관계의 질서를 통해서 구현된다.

7. 다음 글에 나타난 인간 본성에 대한 설명으로 가장 적절한 것은? [3점]

본성은 갇힌 채 소용돌이 치는 물과 같아 동쪽으로 트면 동쪽으로 흐르고, 서쪽으로 트면 서쪽으로 흐른다. 인의(仁義)란 후천적인 교육이나 학습을 통하여 만들어지는 것이지, 본래부터 고유하게 가지고 나온 것이 아니다. 이는 장인(匠人)이 버드나무로 바구니를 만드는 것과 같은데, 버드나무 속에 바구니가 들어 있지 않은 것이나 마찬가지이다.

- ① 본성에는 선도 없고 악도 없다.
- ② 본성에는 선과 악이 섞여 있다.
- ③ 본성은 선하지만 욕심 때문에 악해진다.
- ④ 본성은 악하지만 예의를 지킴으로써 선하게 된다.
- ⑤ 본성은 사람에 따라 선하기도 하고 악하기도 하다.

8. 다음 내용에 부합하는 주장을 <보기>에서 모두 고른 것은?

○ …… 비천한 물욕(物慾)을 채워 줄 소득에만 눈이 어두워 버린 채,
마침내 명성과 감미로운 욕정의 씨앗만을 탐내는가 하면 또한 하찮은 욕망만을 충족시키려고 애태울 뿐이라네.
○ 우주에는 만물을 지배하는 보편적인 이성이 있고, 인간의 본성에도 이러한 이성이 있으므로, 감각이나 욕망 대신에 이성이 인간의 정신을 지배해야 한다.

—<보 기>—

ㄱ. 인간은 '신 앞에 선 단독자'이다.
ㄴ. 사유와 실천의 근원으로서 지식은 힘이다.
ㄷ. 인간은 이성을 가지고 있는 한 모두 평등하다.
ㄹ. 인간은 아파테이아(apatheia)의 경지에서 진정으로 자유롭다.

- ① ㄱ, ㄴ ② ㄱ, ㄷ ③ ㄴ, ㄷ ④ ㄴ, ㄹ ⑤ ㄷ, ㄹ

9. 다음 글을 근거로 동양의 남녀관을 잘못 추론한 것은? [3점]

○ 남자 아이가 태어나면 강건하게 기르기 위해 가죽띠를 매어 주고, 여자 아이가 태어나면 유순하게 기르기 위해 실로 된 띠를 매어 준다.
○ 남녀는 각기 고유한 특성을 가지고 있으므로, 어느 한쪽을 우월한 존재라 말할 수 없으며, 서로를 보완해 주는 관계라 할 수 있다.

- ① 우주 자연의 음양 원리를 바탕으로 한다.
- ② 남녀의 역할은 관습과 교육에 의해 재생산된다.
- ③ 원칙적으로 남녀를 대등하지 않은 존재로 본다.
- ④ 남녀 간의 차이는 인정하나, 차별은 인정하지 않는다.
- ⑤ 남녀의 역할은 각각 다르지만 무시하거나 배척할 수 없다.

10. 다음 내용에 부합되는 정책을 <보기>에서 모두 고른 것은?

19세기에 접어들면서 서구 여러 나라에서는 개인주의적 자유주의의 문제점을 해결하기 위하여 국가 복지주의가 서서히 태동하기 시작하였다. 자본주의의 심화에 따른 시장 경제 체제의 경제적 불평등을 완화하고, 어려운 사회 계층의 삶을 보장하기 위하여 국가가 적극적으로 개입하기 시작한 것이다.

- <보 기>
- ㄱ. 외국과 자유 무역 협정을 체결한다.
 - ㄴ. 실직자에게 실업 수당을 지급한다.
 - ㄷ. 소득에 상관 없이 균등한 세율을 적용한다.
 - ㄹ. 전 국민을 대상으로 의료 보험 제도를 실시한다.

- ① ㄱ, ㄷ ② ㄱ, ㄹ ③ ㄴ, ㄷ ④ ㄴ, ㄹ ⑤ ㄷ, ㄹ

11. 다음은 인간의 본성과 관련된 서양 윤리 사상의 두 흐름을 나타낸 것이다. (가)와 (나)에 부합하는 윤리적 관점을 바르게 분석한 것은?



- ① (가)는 인식의 방법으로 감각을 중시한다.
- ② (가)는 옳음의 근거를 결과의 좋음에서 찾는다.
- ③ (나)는 선악 판단 기준을 동기에 둔다.
- ④ (나)는 (가)보다 이성에 의한 욕망의 절제를 강조한다.
- ⑤ (가)는 보편주의, (나)는 상대주의와 통한다.

12. 다음 대화에서 밑줄 친 부분에 들어갈 수 있는 가장 적절한 사례는? [3점]

선생님이 사회 운동의 의미와 특성을 설명한 후, 영상 자료를 학생들에게 보여 준다.

선생님 : 여러분, 방금 본 장면들은 사회 운동의 한 방식 이기는 하지만 그 모두가 사회 운동은 아니에요.

학생(갑) : 왜 그런가요?

선생님 : 집단적으로 행동한다고 해서 모두 사회 운동이라고 볼 수는 없지요.

학생(을) : 선생님, 그럼 도대체 어떤 경우를 사회 운동이라고 할 수 있을까요?

선생님 : 예컨대, _____을(를) 들 수 있죠.

- ① 법 개정을 위한 정부 주도의 공청회
- ② 생태계 보존을 위한 환경 단체의 캠페인
- ③ 동아시아 경제 개발을 위한 학술 세미나
- ④ 인터넷을 통해 형성된 연예인 팬 클럽의 활동
- ⑤ 한국 축구팀의 승리를 기원하는 붉은 악마의 응원

13. 다음과 같은 사람이 지냈던 삶의 자세를 <보기>에서 모두 고른 것은?

본래 학덕은 있으나 벼슬하지 않은 사람을 일컬었으며, 일반적으로 학식과 인격을 갖춘 도덕적인 사람을 지칭한다.

- <보 기>
- ㄱ. 의리에 밝으며 이익에도 밝다.
 - ㄴ. 깊은 산 속에서 무예와 도술을 연마한다.
 - ㄷ. 부패 비판에 적극적이고 자신은 청렴하게 산다.
 - ㄹ. 외세의 침략에는 생명을 바쳐 싸우고 절의를 지킨다.

- ① ㄱ, ㄴ ② ㄱ, ㄷ ③ ㄴ, ㄷ ④ ㄴ, ㄹ ⑤ ㄷ, ㄹ

14. 다음 대화에 대한 설명으로 옳지 않은 것은? [3점]

갑 : 종교적 확신에 따라 병역을 거부하는 사람에 대해 이를 강제하는 것은 양심의 자유를 침해하는 일이야.

을 : 대다수 국민들이 군대에 가는데 자기만 가지 않는다면 다른 사람들이 불만스러워 하지 않을까?

갑 : 하지만 양심의 자유는 국민의 기본권이야.

을 : 그래도 군인이 있어야 우리가 마음 편히 생업에 종사할 수 있어. 군인의 수고로 많은 사람들이 행복을 누리게 된다면 결과적으로 좋은 일이잖아.

- ① 갑은 개인에게 보장된 자유의 가치를 중시한다.
- ② 갑의 행동은 공리주의적 입장에서 비난받을 수 있다.
- ③ 을의 주장은 형평성 원칙에 근거하고 있다.
- ④ 을은 의무론적 입장에서 자신의 주장을 정당화하고 있다.
- ⑤ 갑과 을은 각각 자신의 입장에 대한 행위 기준을 제시하고 있다.

15. 다음 대화를 통해 추론할 수 있는 이상적인 삶의 태도와 거리가 먼 것은? [3점]

자로 : 군자는 어떠해야 합니까?

공자 : 공경의 정신으로 수양해야 한다.

자로 : 그것 뿐입니까?

공자 : 자신을 수양하여 주위 사람들을 편안하게 해야 한다.

자로 : 그밖에 또 다른 것은 없습니까?

공자 : 자신을 수양하여 백성들을 편안하게 해야 한다.

- ① 모든 지식을 꿰뚫으며 마음을 비운다.
- ② 남이 자신을 알아 주지 않아도 걱정하지 않는다.
- ③ 좋은 곳에 자기가 나서기 보다는 먼저 남을 내세운다.
- ④ 사람들의 장점을 잘 북돋아 주고 잘못은 헐뜯지 않는다.
- ⑤ 실력을 연마하여 공직에 나아가면 공정하게 업무를 처리한다.

16. (가)는 A사상의 등장 배경이고, (나)는 B사상에 이론적 배경을 제공한 사상가들이다. A와 B의 사회 사상에 대한 설명으로 옳은 것은?



- ① A는 집단적 통제보다 개인의 자발성을 우선시한다.
- ② A는 경제적 불평등의 해소를 중요한 이념으로 삼는다.
- ③ B는 화폐를 매개로 한 이윤 추구 활동을 강조한다.
- ④ B는 분배 문제보다 물질적 재화 생산에 역점을 둔다.
- ⑤ A와 B는 모두 국민 주권과 법치주의에 토대를 두고 있다.

17. 밑줄 친 부분과 관련된 윤리적 삶으로 가장 거리가 먼 것은?

우리 나라에는 현묘한 도가 있으니 이를 풍류라 한다. 이는 실로 삼교(三敎)를 포함하는 것으로 많은 사람들을 교화한다. 집에 들어오면 ㉠ 부모에 효도하고 나가면 나라에 충성하는 것은 ㉡ 공자의 가르침이고, 모든 일을 순리에 따라 묵묵히 실행하는 것은 ㉢ 노자의 중지(宗旨)이며, 모든 악행을 하지 않고 모든 선행을 실천하는 것은 ㉣ 석가모니의 가르침이다.

- ① ㉠ - 부모님이 불의한 일에 빠지게 되면 충심으로 간쟁한다.
- ② ㉡ - 만인을 차별없이 사랑하고 이롭게 한다.
- ③ ㉢ - 검소하고 겸손한 태도로 만사에 임한다.
- ④ ㉣ - 자비로운 마음으로 못 생명들을 소중히 대한다.
- ⑤ ㉢, ㉣ - 이기심을 버리고 깨끗하게 살아간다.

18. '도(道)'에 대해 다음의 관점을 지닌 윤리 사상의 주장으로 가장 타당한 것은?

- 도를 도라고 말로 표현하면, 그 도는 이미 항구 불변한 본연의 도가 아니다.
- 도는 땅강아지나 개미한테도 있고, 기와나 벽돌에도 있으며, 똥이나 오줌에도 있다.

- ① 도덕적 행동은 부단한 노력을 통해 형성된다.
- ② 하늘로부터 타고난 덕성은 수양을 통해서 내면화된다.
- ③ 인간은 자연적 존재이므로 자연의 흐름에 따라야 한다.
- ④ 사회 질서는 도덕과 예의로 교화함으로써 이루어진다.
- ⑤ 인간은 하늘의 기품과 땅의 형상을 부여 받은 존재이다.

19. 다음과 같은 이상 사회론이 갖는 공통적 기능을 <보기>에서 모두 고른 것은? [3점]

- 지혜로운 철학자가 통치하는 공화국, 그곳에서는 정의가 이루어 진다.
- 초승달 모양의 섬 유토피아, 그곳에는 빈곤도 없고 사치나 낭비도 없다.
- 소국 과민(小國寡民)의 사회, 그곳에서는 백성의 자유롭고 평화스러운 삶이 실현된다.

<보 기>

- ㄱ. 바람직한 사회에 대한 지적 상상력을 제공한다.
- ㄴ. 기존 공동체의 화합과 질서 유지에 크게 기여한다.
- ㄷ. 현실 공동체를 비판할 수 있는 사상적 근거를 제시한다.
- ㄹ. 대안적인 사회를 건설할 수 있는 급진적 방식을 제안한다.

- ① ㄱ, ㄷ ② ㄱ, ㄹ ③ ㄴ, ㄷ ④ ㄴ, ㄹ ⑤ ㄷ, ㄹ

20. (가)는 ○○고등학교의 중간 고사 문제지, (나)는 정답지의 일부이다. (가)와 (나)로 미루어 볼 때 빈칸에 들어갈 내용으로 가장 거리가 먼 것은? [3점]

(가) 문제지

2004년 1학기 중간 고사		
3학년	과 목 : 윤 리	○○ 고 등 학 교
주관식1: 다음에 제시된 문제를 해결하기 위한 윤리적 자세를 두 가지 이상 서술하시오.		

(나) 정답지

주관식1	<ul style="list-style-type: none"> ○윤리적 고려의 대상인 이웃의 범위를 확대한다. ○인류가 지향해야 할 보편적 가치의 중요성을 인식한다. ○국제 관계에서 경쟁과 대립보다는 대화와 협력을 중시한다.
------	--

- ① 외국인 노동자의 인권 침해 사례가 증가하고 있다.
- ② 첨단 핵무기 개발로 인해 전쟁 분위기가 고조되고 있다.
- ③ 저개발국에서는 경제 침체로 기아 인구가 급증하고 있다.
- ④ 정부의 거대화과 무능에 따른 정부 실패가 나타나고 있다.
- ⑤ 무분별한 자연 훼손으로 생태계 파괴가 심각해지고 있다.

* 확인 사항

- 답안지의 해당란에 필요한 내용을 정확히 기입(표기)했는지 확인하시오.

제 4 교시

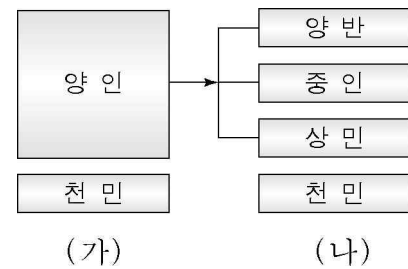
사회 탐구 영역 (국사)

성명

수험 번호

- 먼저 수험생이 선택한 과목의 문제지인지 확인하시오.
- 선택 과목은 반드시 응시 원서 작성시 자신이 선택한 과목의 문제를 풀어야 합니다.
- 문제지에 성명과 수험 번호를 정확히 기입하시오.
- 수험표에 표기된 선택 1, 선택 2, 선택 3, 선택 4의 과목에 대한 문제를 순서대로 풀어 해당란에 답을 표기하시오.
- 문항에 따라 배점이 다르니, 각 물음의 끝에 표시된 배점을 참고하시오. 3점 문항에만 점수가 표시되어 있습니다. 점수 표시가 없는 문항은 모두 2점입니다.

3. 조선 시대 신분 제도를 나타낸 그림이다. 이에 대한 설명으로 옳지 않은 것은?



1. 다음 정책들이 공통적으로 추구하고자 했던 주된 목적은? [3점]

- 법흥왕 15년에 불법(佛法)을 처음으로 행하였다. -삼국사기-
- 신문왕 2년 6월에 국학(國學)을 세웠다. -삼국사기-
- 광종 9년에 과거 제도를 시행하고 한림 학사 쌍기에게 명령하여 진사를 선발하게 하였다. -고려사-

- ① 유교적 통치 이념의 정립
- ② 왕권 중심의 지배 체제 강화
- ③ 학식과 능력을 겸비한 인재 양성
- ④ 새로운 종교를 통한 계층 간의 갈등 해소
- ⑤ 선진 문화 수용을 통한 과학 기술의 진흥

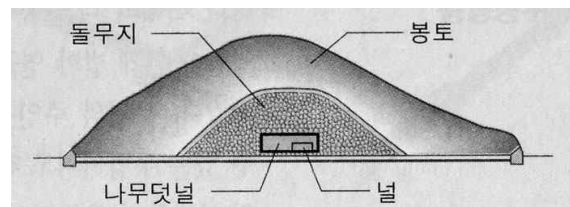
- ① (가)는 법제적 신분 제도였다.
- ② (가)에서 농민은 과거에 응시하여 관리가 될 수 없었다.
- ③ (나)에서 중인은 문과 응시에 제한을 받았다.
- ④ (나)의 양반에는 문반과 무반뿐 아니라 그 가족이나 가문까지 포함되었다.
- ⑤ (가)와 (나)의 천민 중에서 대부분을 차지하는 것은 노비였다.

2. 다음과 같은 주장을 한 승려가 적극적으로 실천에 옮겼을 만한 일은? [3점]

지금의 불교계를 보면 아침저녁으로 행하는 일들이 비록 부처의 법에 의지하였다고 하나 자신을 내세우고 이익을 구하는 데 열중하며 세속의 일에 골몰한다. 도를 닦지 않고 옷과 밥만 허비하니 비록 출가하였다고 하나 무슨 덕이 있겠는가. 하루는 같이 공부하는 사람 10여 인과 약속하였다. 마땅히 명예와 이익을 버리고 산림에 은둔하여 모임을 맺자. 항상 선을 익히고 지혜를 고르는 데 힘쓰고, 예불하고 경전을 읽으며 힘들여 일하는 것에 이르기까지 각자 맡은 바 임무에 따라 경영한다.

- ① 민중에게 아미타 신앙을 널리 보급하면서, 불교 대중화 운동에 힘썼을 것이다.
- ② 천태종을 창시하고, 교관점수의 이론적 토대 위에서 교종과 선종의 통합을 추구하였을 것이다.
- ③ 화엄 사상을 바탕으로 교단을 형성하여 많은 제자를 양성하고, 관음 신앙을 보급하였을 것이다.
- ④ 중국에서 유행한 풍수지리설을 수용하여, 지방 중심으로 국토를 재편성하고자 노력하였을 것이다.
- ⑤ 지방 사회에서 결사 운동을 일으키고, 정혜쌍수를 사상적 바탕으로 하여 선종과 교종의 통합을 시도하였을 것이다.

4. 삼국 시대에 만들어진 어떤 무덤의 단면도이다. 이러한 양식의 무덤에 대해 옳게 설명한 것은?



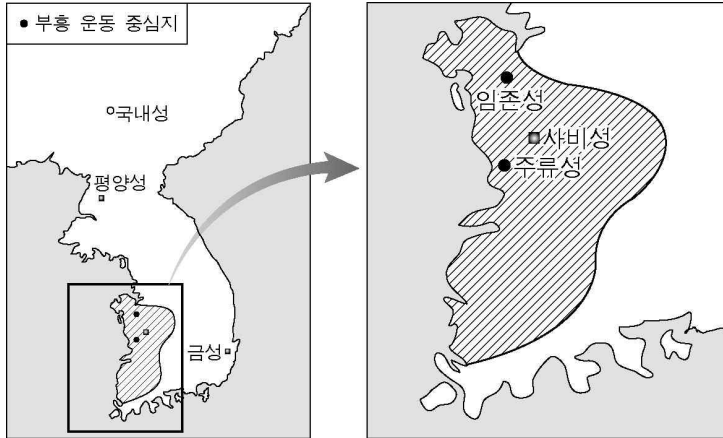
- ① 고구려에서 많이 만들어졌다.
- ② 무덤의 구조상 추가 매장이 힘들다.
- ③ 무덤 속에 벽화가 그려진 경우가 많다.
- ④ 도굴이 쉬워서 껌묻거리가 발견되는 예가 거의 없다.
- ⑤ 봉토 주위의 돌레돌에 12지 신상을 조각한 예가 종종 있다.

5. 다음 글을 읽고 고려 시대 통치 기구의 특징을 옳게 추론한 것은? [3점]

- 중서문하성의 재신과 중추원의 추밀은 6부를 비롯한 주요 관부의 최고직을 겸하고 있었다.
- 국가의 중요한 일을 의논해서 결정하는 도병마사와 식목도감은 만장 일치 제도를 채택하고 있었다.

- ① 중요한 정책의 결정이 신속하게 이루어졌다.
- ② 강력한 왕권을 행사할 수 있는 통치 체제이다.
- ③ 왕권과 재상권 사이에 견제와 대립이 심하였다.
- ④ 고려 시대 정치의 귀족적 특성이 나타나고 있다.
- ⑤ 당의 정치 제도를 모방하여 고려의 독자성이 보이지 않는다.

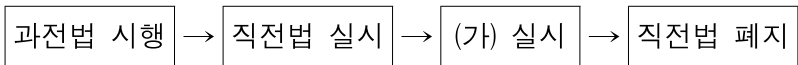
6. 지도의 빗금 친 부분은 어느 국가의 부흥 운동과 관련된 지역이다. 이 운동에 대한 설명으로 옳은 것을 <보기>에서 모두 고른 것은?



<보 기>
 ㄱ. 왜의 수군이 지원병으로 파견되었다.
 ㄴ. 나·당 연합군에 의하여 진압되었다.
 ㄷ. 검모잠, 고연무 등이 주도 세력을 이루었다.
 ㄹ. 당이 안동 도호부를 설치하는 배경이 되었다.

- ① ㄱ, ㄴ ② ㄱ, ㄷ ③ ㄴ, ㄷ
 ④ ㄴ, ㄹ ⑤ ㄷ, ㄹ

7. 조선 시대 토지 제도의 변천 과정이다. (가)의 조치에 대한 설명으로 옳은 것은? [3점]



- ① 전직 관리에게도 토지를 지급하였다.
 ② 토지에 대한 국가의 지배권이 약화되었다.
 ③ 수신전, 활양전 등의 명목으로 토지의 세습이 이루어졌다.
 ④ 지주 전호제가 사라져 농민들의 생활이 안정되는 계기가 되었다.
 ⑤ 관료들이 수조권을 빌미로 토지와 농민을 지배하는 방식이 사라졌다.

8. 밑줄 친 부분과 관련된 내용들을 묶은 것으로 거리가 먼 것은?

조선 후기 사회에서는 새로운 변화가 일어나고있었다. 특히, 경제면에서 변화가 두드러졌다. 그 움직임은 궁극적으로 근대 경제로 넘어가는 준비 과정이었다. 농민들은 생산력을 높이기 위하여 농기구와 시비법을 개량하는 등 ㉠새로운 영농 방법을 추구하였고, ㉡상품 작물을 재배하여 소득을 늘리려 하였다. 상인들도 상업 활동에 적극적으로 참여하여 ㉢대자본을 가진 상인들도 출현하였고, ㉣수공업 생산도 활발해졌다. 이러한 과정에서 자본 축적이 이루어지고 지방에서는 ㉤상업 중심지가 형성되었다.

- ① ㉠-모내기법, 견종법
 ② ㉡-담배, 모시, 생강
 ③ ㉢-경강 상인, 송상, 만상, 내상
 ④ ㉣-관청 수공업, 사원 수공업
 ⑤ ㉤-강경장, 원산장, 마산포장, 대화장

9. 고려의 대외 무역도이다. 이에 대한 설명으로 옳지 않은 것은?



- ① 아라비아 상인들의 왕래가 있었다.
 ② 송에서 수입한 물품은 주로 왕실과 귀족의 수요품이었다.
 ③ 대외 무역에서는 일본과의 무역이 가장 큰 비중을 차지하였다.
 ④ 벽란도는 대외 무역의 발달과 함께 국제 무역항으로 번성하였다.
 ⑤ 거란과 여진은 은을 가지고 와서 농기구나 식량 등과 바꾸어 갔다.

10. 자료를 바탕으로 삼국 시대의 조세 제도에 대해 학생들이 추론한 내용으로 옳은 것을 <보기>에서 모두 고른 것은? [3점]

- 세(인두세)는 포목 5필에 곡식 5섬이다. 조(租)는 상호는 한 섬이고, 그 다음은 7말이고 하호는 5말을 낸다. (고구려)
- 세로는 포목, 비단 실과 삼, 쌀을 냈는데, 풍흉에 따라 차등을 두어 받았다. (백제)
- 3월, 주·군에 영을 내려 “토목 공사 때문에 농사 지을 시기를 놓치지 않게 하라.” 고 하였다. (신라)

<보 기>
 ○ 한얼-재산의 정도에 따라 호를 나누어 세금을 거두었다.
 ○ 병남-삼국은 가능한 한 합리적인 방식으로 세금을 부과했다.
 ○ 윤식-국가는 노동력이 필요하면 임노동자를 고용했을 것이다.
 ○ 수형-삼국의 조세는 화폐로 납부하는 것이 일반적인 현상이었다.

- ① 한얼, 병남 ② 한얼, 윤식 ③ 한얼, 수형
 ④ 병남, 윤식 ⑤ 윤식, 수형

11. 조선 후기의 어떤 실학자가 쓴 글의 일부이다. 여기에 반영된 사상과 관련있는 것을 <보기>에서 모두 고른 것은?

비유하건대 재물은 대체로 샘과 같은 것이다. 퍼내면 차고, 버려두면 말라 버린다. 그러므로 비단 옷을 입지 않아서 나라에 비단 짜는 사람이 없게 되면 여공이 쇠퇴하고, 쭉그러진 그릇을 싫어하지 않고 기교를 숭상하지 않아서 수공업자가 기술을 익히는 일이 없게 되면 기예가 망하게 되며, 농사가 황폐해져서 그 법을 잃게 되므로 사농공상의 사민이 모두 곤궁하여 서로 구제할 수 없게 된다.

<보 기>
ㄱ. 화이론적 명분론을 발전시켰다.
ㄴ. 상공업 진흥을 강조하면서, 청 문물의 적극적인 수용을 주장하였다.
ㄷ. 인간과 사물의 본성이 같다는 인물성동론(人物性同論)에 사상적 연원을 두고 있다.
ㄹ. 주로 정계 진출의 길이 막힌 남인 실학자들에 의해 현실 개혁론으로서 제기되었다.

- ① ㄱ, ㄴ ② ㄱ, ㄷ ③ ㄴ, ㄷ
④ ㄴ, ㄹ ⑤ ㄷ, ㄹ

12. 강화도 일원의 주요 유적지를 나타낸 지도이다. 표시된 곳들을 답사하기 위해 사전에 학습해야 할 역사적 사실로 적절한 것을 <보기>에서 모두 고른 것은? [3점]



<보 기>
ㄱ. A-신석기 시대 사람들의 생활상과 애니미즘
ㄴ. B-고려 시대 몽고의 침입과 최씨 무신 정권의 대응
ㄷ. C-조선 시대 왕조실록의 편찬 및 보관
ㄹ. D-삼국 시대 천문 관측 기술의 발전

- ① ㄱ, ㄴ ② ㄱ, ㄷ ③ ㄴ, ㄷ
④ ㄴ, ㄹ ⑤ ㄷ, ㄹ

13. 다음과 같은 지역에 거주하던 고려 시대 사람들의 생활에 대해 옳게 설명한 것은? [3점]

이제 살펴보건대, 신라가 주군(州郡)을 설치할 때 그 전정(田丁)이나 호구(戶口)가 현(縣)에 미달하는 곳에는 향(鄕)을 두기도 하고, 부곡(部曲)을 두기도 하여 소재 읍에 속하게 하였다. 고려 때에는 또한 소(所)라고 칭하는 것이 있었는데, 금소, 은소 ... 자기소, 어염소 등의 구별이 있어 각기 생산하는 물건을 바쳤다.

- ① 공음전을 세습하여 경제적 특권을 유지하였다.
② 지방의 말단 행정직에 종사하였으며, 직역을 세습하였다.
③ 주인에게 예속되어 있었으며, 매매, 상속, 증여의 대상이었다.
④ 주인과 따로 살면서 농업에 종사하고 일정량의 신공을 바쳤다.
⑤ 신분은 양민이지만 일반 균현민보다 더 많은 역(役)을 부담하였다.

14. 다음 사실들에서 공통적으로 나타나는 삼국의 사회 모습을 옳게 추론한 것은? [3점]

○ 고구려의 사유(고국원왕)가 보병과 기병 2만을 거느리고 와서 치양에 주둔하고 군사를 나누어 민가를 약탈하였다. 왕(근초고왕)이 태자에게 군사를 주니, 곧장 치양으로 가서 고구려 군을 급히 깨뜨리고 5,000명을 사로잡았다. 그 포로를 장수와 사졸들에게 나누어 주었다.
-삼국사기-
○ 삼국은 지방 행정 단위로 부와 방 또는 주를 두고 지방 장관을 파견하였는데, 각 지방관은 곧 군대의 지휘관이었다.

- ① 개인의 능력에 따른 신분 이동이 많았을 것이다.
② 개인의 재산과 생명을 존중하는 사회였을 것이다.
③ 영역을 확대하기 위한 정복 전쟁이 활발했을 것이다.
④ 전쟁 포로보다 빚을 갚지 못해 노비가 된 자가 많았을 것이다.
⑤ 행정 조직이 발달하여 행정권과 군사권이 분리된 사회였을 것이다.

15. 조선 시대에 다음과 같은 학문의 발달이 가져온 사회 현상을 <보기>에서 모두 고른 것은?

예(禮)란 것은 옛 사람이 풀이하기를 “천리(天理)의 절문(節文)이요, 인사의 행동 법칙이다.”라고 했다. ... 한번 예를 잃게 되면 만사가 모두 잘못되기 때문에 옛날의 성인은 예를 중하게 여겼던 것인데 후세에는 예에 밝지 못하여 정욕에 끌리어 행하게 되니 구차한 일이 많다. 반드시 예를 신중하게 한 뒤라야 무궁토록 후세에 법도를 전해 줄 수 있을 것이다.

<보 기>
ㄱ. 양반 수의 증가 ㄴ. 정치적 분쟁의 감소
ㄷ. 가묘와 사당의 건립 증가 ㄹ. 가부장적 종법 질서의 강화

- ① ㄱ, ㄴ ② ㄱ, ㄷ ③ ㄴ, ㄷ
④ ㄴ, ㄹ ⑤ ㄷ, ㄹ

16. 다음은 극화 학습의 내용 중 일부이다. 이 시기의 정치 상황에 해당하는 것은? [3점]

해설자 : 동네 입구 주막에서 두 명의 농민들이 이야기를 하고 있다.
 농민1 : 아니 자네 얼굴이 왜 그런가? 무슨 안 좋은 일이라도 있나?
 농민2 : 군포 때문에 ...
 농민1 : 아니 왜, 또 군포를 내라고 하던가?
 농민2 : 나 원 참 ..., 아버지는 돌아가셔서 벌써 상복을 벗었고, 막내 아이 태어난 지 한 달밖에 안되었는데, 이들 몫으로 군포를 내라고 하니 기가 막힌 일이 아닌가?
 농민1 : 이런 죽일 놈들 ..., 그대 군포를 바칠 셈인가?
 농민2 : 그럼 어찌겠나?
 농민1 : 저 아랫마을 삼봉이는 사또에게 뇌물을 바치고 군포를 안 냈다는데 ...

- ① 진골 귀족들의 치열한 권력 다툼
- ② 집권 무신들에 의한 부정 부패 만연
- ③ 세도 정치로 인한 정치 기강의 문란
- ④ 권문 세족들에 의한 부당한 양민 수탈
- ⑤ 훈구 세력과 사림 세력 간의 정권 다툼

17. 밑줄 친 부분에 반영된 사상과 가장 관계가 깊은 것은?

○ 옛날에 환인(桓因)의 서자 환웅(桓雄)이 계서, 천하에 자주 뜻을 두고 ... 무리 삼천 명을 거느리고 태백산의 신단수 밑에 내려와서 여기를 신시(神市)라 불렀다.
 -삼국유사-

○ 주몽이 강물에 고하여 “나는 천제(天帝)의 아들이며 하백(河伯)의 외손이다. 오늘날 도망하여 이곳까지 왔으나 추격병이 따라오고 있다. 어떻게 하면 좋겠는가?”라고 외치자 물고기와 자라가 떠올라 다리를 만들어 주니 주몽이 강을 건널 수 있었다.
 -삼국사기-

- ① 정치와 종교를 분리하려 하였다.
- ② 정복과 지배를 정당화하려 하였다.
- ③ 지도자는 평등하게 부족을 이끌어가려 하였다.
- ④ 다른 부족의 생활권을 침범하지 못하도록 하였다.
- ⑤ 특정 동물을 부족의 기원과 연결시켜 숭배하려 하였다.

18. 다음 글에 나타난 봉당 정치의 전개 과정과 관련하여 탐구할 만한 문제로 적합하지 않은 것은?

초기의 봉당 정치는 동인과 서인의 대립으로 시작되었는데, 동인은 다시 남인과 북인으로 나뉘었다. 처음에는 남인이 정국을 주도하였으나 임진왜란이 끝난 뒤 북인이 집권하여 광해군 때까지 정국을 주도하였다. 그러나 서인에 의해 북인 정권은 몰락하고 이후의 정국은 현종 때까지 서인이 우세한 가운데 남인이 참여하는 양상으로 전개되었다.

- ① 사회의 발생 원인 ② 북벌 운동의 배경
- ③ 예송 논쟁의 쟁점 ④ 정여립의 모반 사건
- ⑤ 인조 반정 후의 외교 정책

19. 조선 시대의 회화 작품들이다. (가)와 (나)에 대하여 적절하게 설명한 것을 <보기>에서 모두 고른 것은?



(가)



(나)

<보 기>

- ㉠. (가)가 (나)보다 앞서서 그려졌다.
- ㉡. (가)가 그려진 시기에는 풍속화가 함께 유행하였다.
- ㉢. (나)는 우리의 고유 정서와 자연을 표현하려고 하였다.
- ㉣. (나)와 같은 화풍은 김정희에 이르러 절정을 이루었다.

- ① ㉠, ㉡ ② ㉠, ㉢ ③ ㉡, ㉣
- ④ ㉡, ㉣ ⑤ ㉢, ㉣

20. 다음 자료와 관련된 설명으로 옳은 것을 <보기>에서 모두 고른 것은? [3점]

○ 여름 4월에 쌀과 베의 이자를 정하니, 쌀 15말에 이자를 5말, 베 15척에 이자를 5척으로 정하여 법식으로 삼았다. 왕이 명을 내리기를, “민간에 사채를 빌려 주고 이자를 받는 자는, 원금과 이자가 서로 같으면 이자는 다시 받지 말라.”고 하였다.

○ 왕이 조서를 내리기를, “장생고에 쌓인 곡식이 너무 많으므로 곡식을 내어서 이자를 취하게 하였는데, 이제 들건대 해묵고 썩은 곡식을 빌려 주어 백성이 손해를 본다 하니, 관리하는 관원에게 곡식을 은과 베로 바꾸어 그 폐단을 없게 하라.”고 하였다.
 -고려사절요-

<보 기>

- ㉠. 관청이나 사찰도 고리대업을 행하였다.
- ㉡. 활발한 화폐의 유통으로 고리대업이 성행하였다.
- ㉢. 왕이 조서를 내림으로써 농민들의 피해는 사라졌다.
- ㉣. 고리대는 지배층이 부를 축적하는 수단 중 하나였다.

- ① ㉠, ㉡ ② ㉠, ㉣ ③ ㉡, ㉣
- ④ ㉡, ㉣ ⑤ ㉢, ㉣

* 확인 사항

○ 답안지의 해당란에 필요한 내용을 정확히 기입(표기)했는지 확인 하시오.

제 4 교시

사회 탐구 영역 (한국지리)


성명

수험 번호

- 먼저 수험생이 선택한 과목의 문제지인지 확인하시오.
- 선택 과목은 반드시 응시 원서 작성시 자신이 선택한 과목의 문제를 풀어야 합니다.
- 문제지에 성명과 수험 번호를 정확히 기입하시오.
- 수험표에 표기된 선택 1, 선택 2, 선택 3, 선택 4의 과목에 대한 문제를 순서대로 풀어 해당란에 답을 표기하시오.
- 문항에 따라 배점이 다르니, 각 물음의 끝에 표시된 배점을 참고하시오. 3점 문항에만 점수가 표시되어 있습니다. 점수 표시가 없는 문항은 모두 2점입니다.

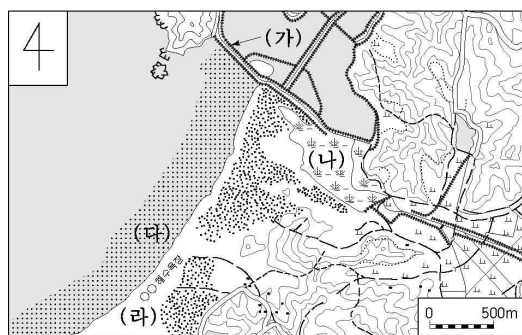
1. 제시된 글에는 공통으로 작용한 기후 요소가 있다. 이 기후 요소가 작용한 경관을 <보기>에서 모두 고른 것은?

- 해안을 따라 소나무 숲이 조성되어 있다.
- 호남 지방에서는 집 둘레에 대나무를 심는다.
- 산간 산지촌에서 지붕에 큰 돌을 올려 놓는다.



- ① 가, 나 ② 가, 다 ③ 가, 라 ④ 나, 다 ⑤ 나, 라

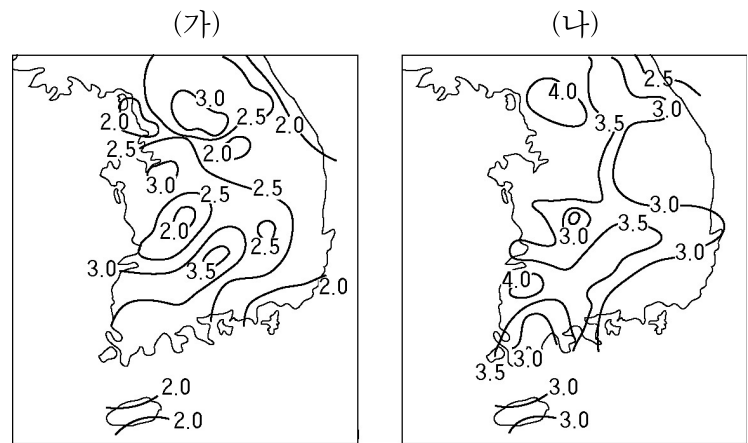
2. 지도의 (가)~(라)에 대해 바르게 설명한 내용을 <보기>에서 모두 고른 것은?



- <보 기>
- 가. (가)는 간척을 위한 제방이다.
 - 나. (나)는 농경지로 이용되고 있다.
 - 다. (다)는 오염 물질의 정화 기능을 갖고 있어 보존 가치가 있다.
 - 라. (라) 사빈은 파랑의 침식으로 형성된 지형이다.

- ① 가, 나 ② 가, 다 ③ 나, 다 ④ 나, 라 ⑤ 다, 라

3. 지도는 각 지역의 평년 황사 관측 일수를 나타낸다. 바르게 분석한 내용을 <보기>에서 모두 고른 것은? [3점]

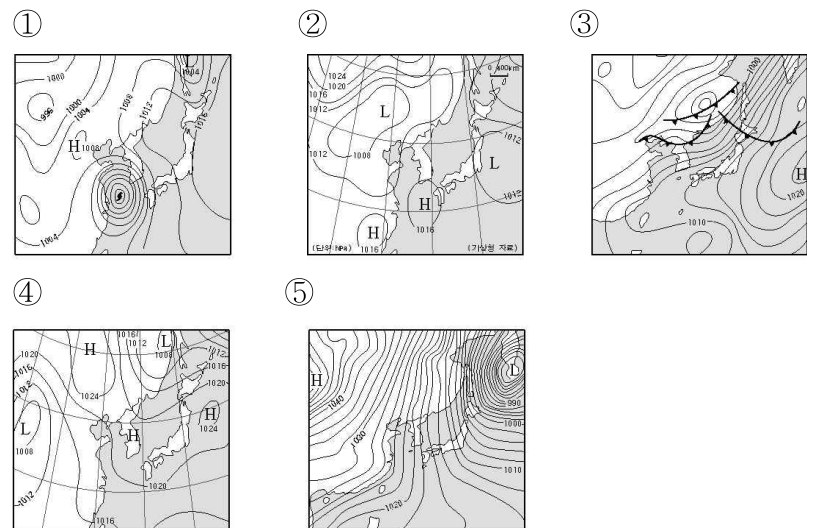


(1961-1990년) (1971-2000년)
 평년 : 30년간의 관측 기간을 의미함.

- <보 기>
- 가. 황사 발원지는 남서쪽이다.
 - 나. 영서 지방이 영동 지방보다 황사 일수가 많다.
 - 다. 황사 일수는 (가) 시기보다 (나) 시기에 더 많아졌다.
 - 라. 동해안 지역의 황사 일수가 적은 것은 바다의 영향이다.

- ① 가, 나 ② 가, 다 ③ 나, 다 ④ 나, 라 ⑤ 다, 라

4. 다음과 같은 자연 재해를 가져 온 요인과 가장 관계 깊은 일기도는?




5. 다음 글에서 (가)와 (나)에 들어갈 말로 가장 적절한 것은?

조차가 큰 황해와 남해로 흐르는 강들은 만조 때에는 바닷물이 역류하기도 하는데 이러한 하천을 (가) 이라고 한다. 이에 해당하였던 영산강, 낙동강, 금강의 하구에는 하구둑을 건설하여 (나) 의 효과가 나타나고 있다.

- | | |
|------------|----------|
| (가) | (나) |
| ① 건천 | 용수 확보 |
| ② 직류 하천 | 수질 개선 |
| ③ 감조 하천 | 염해 방지 |
| ④ 감입 곡류 하천 | 교통로 확보 |
| ⑤ 자유 곡류 하천 | 수산 자원 확보 |

6. (가)와 (나) 두 지형을 바르게 분석한 내용을 <보기>에서 모두 고른 것은? [3점]



<보 기>

ㄱ. (가)는 빙기, (나)는 후빙기에 형성되었다.
 ㄴ. (가)와 (나)는 관광 자원으로 이용되고 있다.
 ㄷ. (가)는 동해안, (나)는 서해안에 잘 나타난다.
 ㄹ. (가)는 조류, (나)는 파랑에 의해 형성되었다.

- ① ㄱ, ㄴ ② ㄱ, ㄹ ③ ㄴ, ㄷ ④ ㄴ, ㄹ ⑤ ㄷ, ㄹ

7. 최종 빙기 때 한반도 주변의 해안선을 나타낸 지도이다. 이 시기에 나타났던 현상을 <보기>에서 모두 고른 것은? [3점]

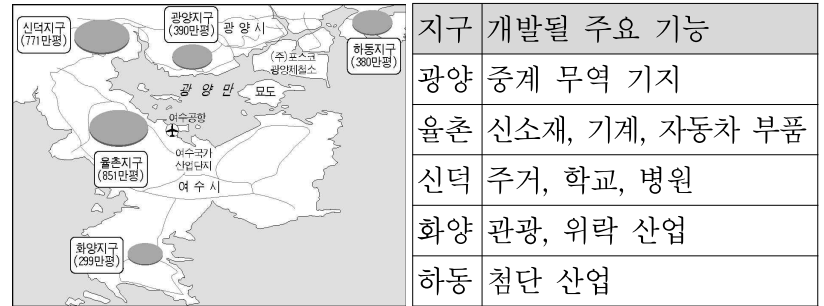


<보 기>

ㄱ. 하천의 길이가 지금보다 길었다.
 ㄴ. 암석의 화학적 풍화 작용이 활발하였다.
 ㄷ. 당시의 설악산은 현재보다 해발 고도가 낮았다.
 ㄹ. 한반도에서 현재의 일본으로 걸어서 이동할 수 있었다.

- ① ㄱ, ㄴ ② ㄱ, ㄹ ③ ㄴ, ㄷ ④ ㄴ, ㄹ ⑤ ㄷ, ㄹ

8. 광양만권 경제 자유 구역 1단계(2004~2010년) 개발 구상에 관한 자료이다. 1단계 개발 후 이 지역에서 나타날 변화를 추론한 내용으로 적절하지 않은 것은? [3점]



(자료 : 광양만권 경제자유구역청, 2004)

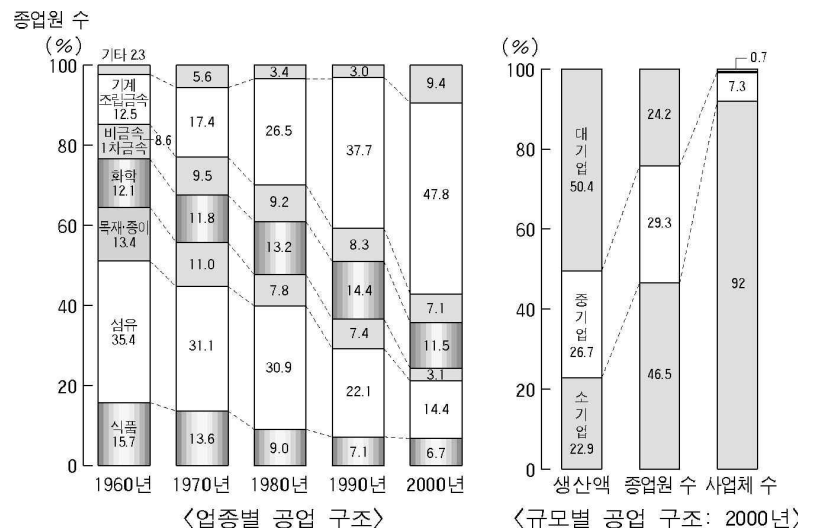
- ① 광양항의 물동량이 증가할 것이다.
 ② 광양만권의 첨단 산업의 비중이 커질 것이다.
 ③ 신덕 지구에 생산 관련 직종이 증가할 것이다.
 ④ 화양 지구에 서비스업의 비중이 증가할 것이다.
 ⑤ 광양시와 하동군 간의 유통량은 증가할 것이다.

9. 다음 글의 (가) 안에 들어갈 말로 가장 적절한 것은?

우리 나라는 1960년대 경제 개발 계획을 추진하면서 투자의 효율성을 중시하여, 산업 기반 시설이 확충된 지역에 공업을 집중적으로 육성하였다. 그 결과 수도권 지역 등에서는 과도한 공업 집중으로 인해 (가) 발생하게 되었다.

- ① 규모의 경제 ② 운송비 감소
 ③ 생활권 확대 ④ 집적의 불이익
 ⑤ 시설의 노후화

10. 다음 자료를 보고 우리 나라 공업 구조에 대하여 바르게 설명한 내용을 <보기>에서 모두 고른 것은?

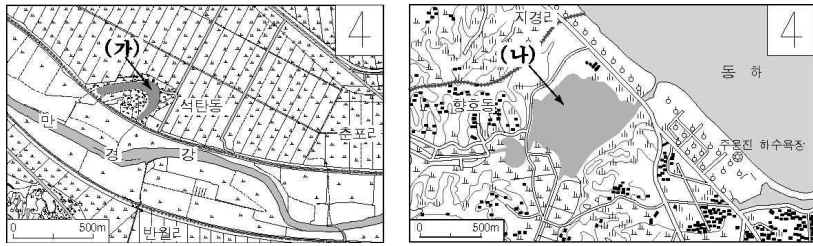


<보 기>

ㄱ. 경공업의 비중은 낮아지고 있다.
 ㄴ. 노동 생산성은 중·소기업보다 대기업이 높다.
 ㄷ. 자본 집약적 공업에서 원료 지향적 공업으로 변하고 있다.
 ㄹ. 사업체 수 대비 고용 효과는 대기업이 중·소기업보다 낮다.

- ① ㄱ, ㄴ ② ㄱ, ㄷ ③ ㄴ, ㄷ ④ ㄴ, ㄹ ⑤ ㄷ, ㄹ

11. 그림의 (가)와 (나)에 대해 바르게 설명한 내용을 <보기>에서 모두 고른 것은? [3점]



<보 기>

ㄱ. (가)는 과거에 하천의 유로였다.
 ㄴ. (나)는 간척 사업에 의해 형성되었다.
 ㄷ. (가)와 (나)는 상수원으로 이용된다.
 ㄹ. (가)와 (나)는 시간이 지나면 축소된다.

- ① ㄱ, ㄴ ② ㄱ, ㄹ ③ ㄴ, ㄷ ④ ㄴ, ㄹ ⑤ ㄷ, ㄹ

12. 자료는 국내 기업인 A전자가 해외로 진출한 두 가지 사례이다. 이 자료에서 공통적으로 찾을 수 있는 이점을 <보기>에서 모두 고른 것은? [3점]

A 전자의 해외 진출 사례

(가) 영국 티즈사이드 시는 영국 북동부에 위치한 도시임. 1980년대 철강 및 화학 공업이 쇠퇴하면서 방치된 공장 부지에 대해 지방 정부가 나서서 외국의 다국적 기업 유치를 적극적으로 추진함. → A 전자는 티즈사이드 시에 방치된 공장 부지에 1995년 전자 복합 단지를 준공해 여기서 만들어진 여러 전자 제품을 유럽 시장에 판매함.

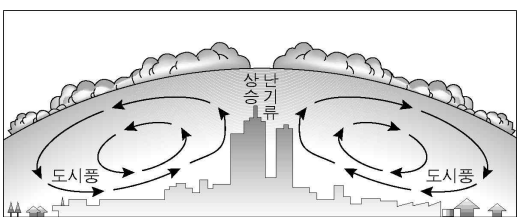
(나) 멕시코 티후아나 시는 외국 자본과 기술을 이용하여 보세 가공 무역을 활성화하기 위해 조성된 국경 공업 지대에 위치한 도시임. → A 전자는 티후아나시에 1996년 전자 복합 단지를 준공해 여기서 만들어진 다양한 가전 제품을 미국 및 중남부 아메리카에 판매함.

<보 기>

ㄱ. 노동비의 절감 ㄴ. 관세 장벽의 극복
 ㄷ. 연구 개발 기능의 강화 ㄹ. 현지 정부의 정책적 지원

- ① ㄱ, ㄴ ② ㄱ, ㄹ ③ ㄴ, ㄷ ④ ㄴ, ㄹ ⑤ ㄷ, ㄹ

13. 그림을 보고 도시 기후 현상에 대해 바르게 설명한 내용을 <보기>에서 모두 고른 것은?



<보 기>

ㄱ. 도심은 공기 소통이 원활해 대기 오염이 적다.
 ㄴ. 도심은 바람이 규칙적이어서 습도가 외곽보다 높다.
 ㄷ. 도심은 외곽보다 기온이 높아 상승 난기류가 자주 발생한다.
 ㄹ. 도심에서 상승된 공기는 도시풍이 되어 도심으로 불어 들어온다.

- ① ㄱ, ㄴ ② ㄱ, ㄷ ③ ㄴ, ㄷ ④ ㄴ, ㄹ ⑤ ㄷ, ㄹ

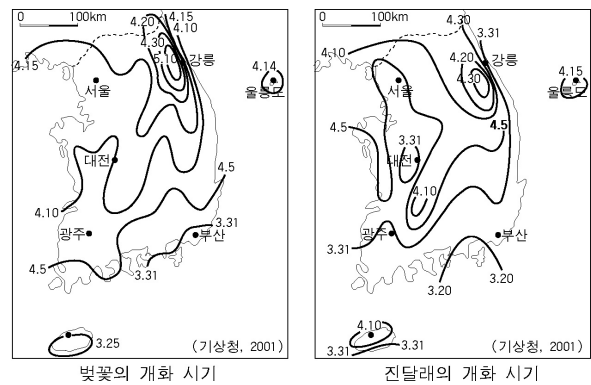
14. 선생님이 다음 지형의 형성 과정을 질문하였을 때 바르게 대답한 학생은?



<제주도 서귀포 해안>

- ① 상미 : 지진으로 인해 바위의 틈이 갈라졌습니다.
- ② 병호 : 화강암이 차별 침식을 받아 만들어졌습니다.
- ③ 희라 : 화산재가 한라산에서 날아와 굳어졌습니다.
- ④ 윤택 : 해안 단구가 단층 운동에 의해 내려앉았습니다.
- ⑤ 준형 : 용암이 굳으면서 기둥모양으로 갈라졌습니다.

15. 벚꽃과 진달래의 개화 시기를 나타낸 지도이다. 바르게 분석한 내용을 <보기>에서 모두 고른 것은? [3점]



<보 기>

ㄱ. 개화 시기는 해발 고도의 영향을 받는다.
 ㄴ. 개화 시기는 장마 전선의 영향을 받는다.
 ㄷ. 육지에서 벚꽃은 진달래보다 대체로 빨리 핀다.
 ㄹ. 같은 위도의 동해안은 서해안보다 꽃이 빨리 핀다.

- ① ㄱ, ㄴ ② ㄱ, ㄹ ③ ㄴ, ㄷ ④ ㄴ, ㄹ ⑤ ㄷ, ㄹ

16. 자료는 우리 나라의 도시 인구 규모에 따른 인구 점유율 및 인터넷 사용자 점유율을 나타낸 것이다. 이를 바탕으로 바르게 추론한 내용을 <보기>에서 모두 고른 것은? [3점]

도 시 인 구 규 모	대도시		중도시			소도시	계
	500~1000만	100~500만	50~100만	20~50만	10~20만	10만 이하	
인 구 점유율	22.9	28.6	15.7	16.4	9.9	6.5	100
인 터 넷 사 용 자 점 유 율	27	29.1	17.4	15.6	7.5	3.4	100

(단위: %)

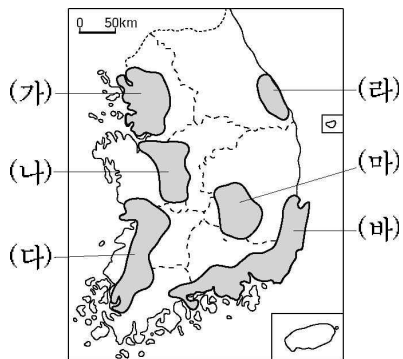
<보 기>

ㄱ. 도시 인구 규모와 인터넷 사용자 점유율은 반비례한다.
 ㄴ. 대도시는 교통 혼잡으로 인해 인터넷 사용자 점유율이 높다.
 ㄷ. 도시 간 인터넷 사용 격차를 줄려면 소규모 도시에 대한 투자가 필요하다.
 ㄹ. 대도시 인터넷 보급률이 높은 것은 시설 투자액에 비해 고객 확보가 쉽기 때문이다.

- ① ㄱ, ㄴ ② ㄱ, ㄷ ③ ㄴ, ㄷ ④ ㄴ, ㄹ ⑤ ㄷ, ㄹ

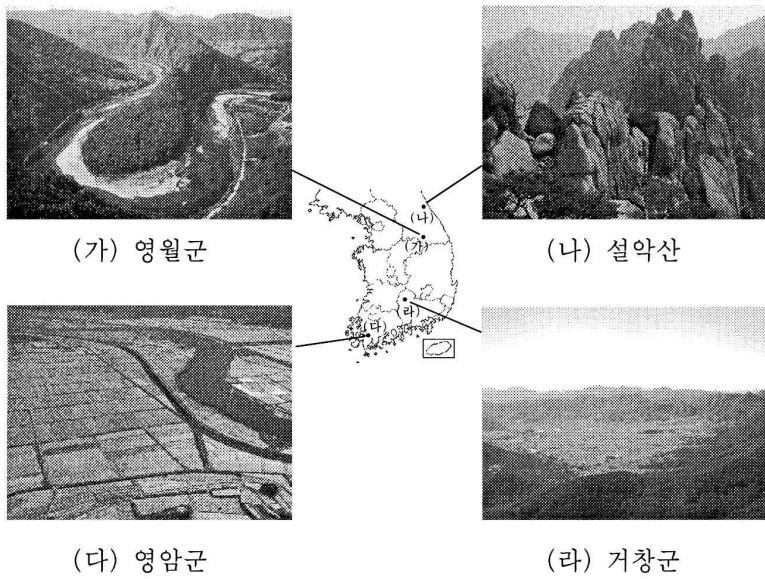
17. 다음 (A), (B), (C)에 해당하는 공업 지역을 바르게 연결한 것은?

(A)는 영남과 호남 지역으로 연결되는 철도와 고속 도로가 만나는 육상 교통의 요지로서, 수도권 공업의 확산으로 기업의 이전이 증가하고 있다.
 (B)는 풍부한 자본과 노동력, 넓은 시장과 편리한 교통 등 유리한 조건을 갖추고 있어 역사가 가장 오래 되고, 공업의 집적이 이루어져 왔으며, 최근에는 첨단 산업이 발달하고 있다.
 (C)는 오랜 전통과 풍부한 노동력을 가지고 있으며, 섬유 및 전자 공업이 발달하였으나, 최근 세계적인 섬유·패션 산업을 육성하려는 ‘밀라노 프로젝트’를 추진하고 있다.



- (A) - (B) - (C) (A) - (B) - (C)
 ① (가)-(나)-(바) ② (나)-(가)-(마)
 ③ (다)-(라)-(마) ④ (라)-(나)-(마)
 ⑤ (바)-(나)-(가)

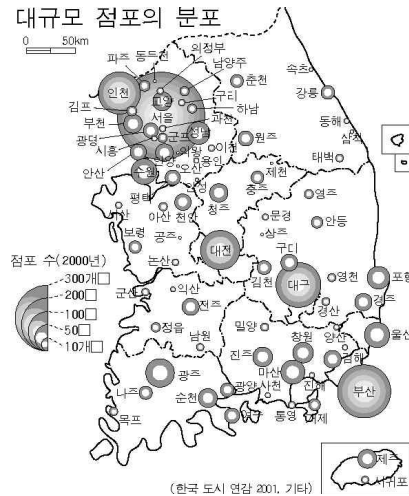
18. 사진을 보고 바르게 설명한 내용을 <보기>에서 모두 고른 것은?



<보 기>
 가. (가) : 하천 중상류 지역에 나타나는 곡류천이다.
 나. (나) : 침식으로 인해 땅 속 화강암이 드러나면서 돌산을 이룬다.
 다. (다) : 지반 융기로 인해 하천 주변에 형성된 침식 지형이다.
 라. (라) : 빗물의 용식 작용을 받아 만들어진 오목한 지형이다.

- ① 가, 나 ② 가, 다 ③ 나, 다 ④ 나, 라 ⑤ 다, 라

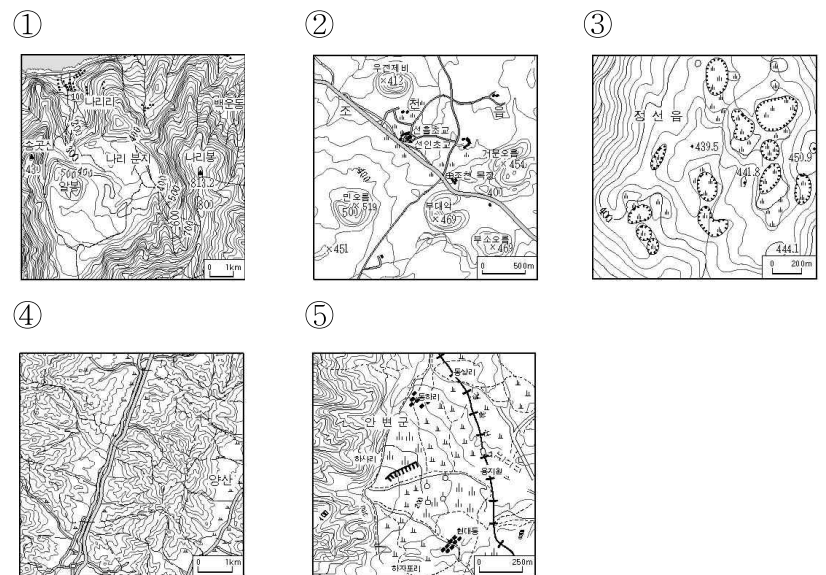

19. 대규모 점포의 분포를 나타낸 지도이다. 이 지도에 대한 설명으로 옳지 않은 것은? [3점]



(대규모 점포 : 동일한 건물 안에 설치된 매장 면적 3,000 m² 이상인, 하나 또는 다수로 상시 운영되는 매장을 가진 점포의 집단)

- ① 대규모 점포의 분포는 인구 분포와 관련이 있다.
 ② 대규모 점포의 수와 도시 규모 간에는 밀접한 관련이 있다.
 ③ 수도권에 대규모 점포가 집중된 것은 인구 집중과 관계 있다.
 ④ 동해안 일대의 점포 수가 적은 것은 유동 인구가 많기 때문이다.
 ⑤ 대규모 점포들이 경부축에 많이 분포하는 것은 교통이 편리하기 때문이다.

20. 다음은 GIS를 이용한 3차원 입체도이다. 이와 일치하는 지형도는? [3점]



* 확인 사항
 ○ 답안지의 해당란에 필요한 내용을 정확히 기입(표기)했는지 확인하십시오.

제 4 교시

사회 탐구 영역 (세계지리)


성명

수험 번호

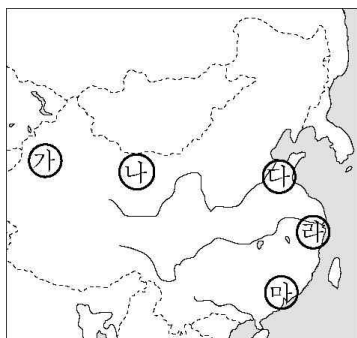
- 먼저 수험생이 선택한 과목의 문제지인지 확인하시오.
- 선택 과목은 반드시 응시 원서 작성시 자신이 선택한 과목의 문제를 풀어야 합니다.
- 문제지에 성명과 수험 번호를 정확히 기입하시오.
- 수험표에 표기된 선택 1, 선택 2, 선택 3, 선택 4의 과목에 대한 문제를 순서대로 풀어 해당란에 답을 표기하시오.
- 문항에 따라 배점이 다르니, 각 물음의 끝에 표시된 배점을 참고하시오. 3점 문항에만 점수가 표시되어 있습니다. 점수 표시가 없는 문항은 모두 2점입니다.

1. 다음 글에 제시된 특징이 나타나는 지역의 사진은?

- 강수량보다 증발량이 더 많다.
- 암석의 기계적 풍화 작용이 활발히 이루어진다.
- 일시적인 폭우에 의한 포상 침식이 이루어진다.

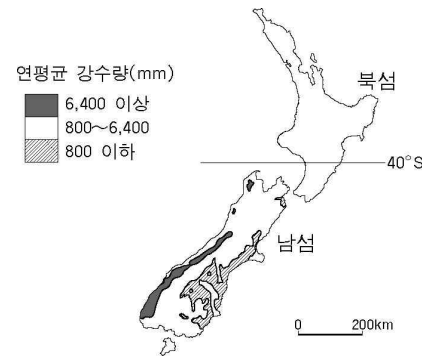


2. 지도에 표시된 각 지역의 특징에 대한 설명으로 옳은 것은?



- ① 가 : 유목 지역이지만 최근 관개 시설을 이용해 경지를 개발하고 있다.
- ② 나 : 도시화가 진행되어 외국계 기업의 진출이 활발하다.
- ③ 다 : 양쯔강 하류에 입지하여 수운 교통이 편리하다.
- ④ 라 : 민족 갈등으로 분리 독립이 추진되고 있다.
- ⑤ 마 : 유전을 바탕으로 대규모 석유 화학 공업이 발달하고 있다.

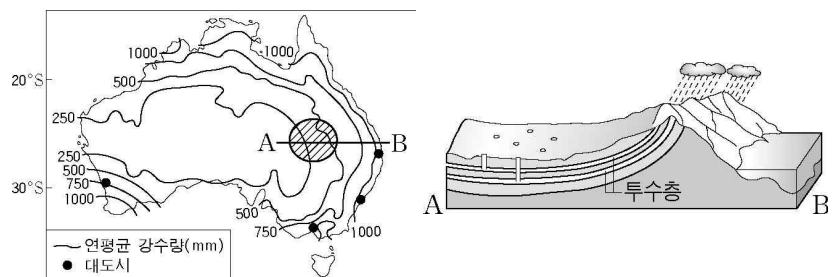
3. 뉴질랜드 남섬에서 연평균 강수량의 차이를 가져오는 요인을 탐구하고자 할 때 조사할 항목으로 가장 적절한 것을 <보기>에서 모두 고른 것은? [3점]



- <보 기>
- ㉠. 지형
 - ㉡. 위도
 - ㉢. 탁월풍
 - ㉣. 열대성 저기압

- ① ㉠, ㉡
- ② ㉠, ㉢
- ③ ㉠, ㉣
- ④ ㉡, ㉢
- ⑤ ㉡, ㉣

4. 지도에서 빗금친 지역의 특징을 <보기>에서 모두 고른 것은?



- <보 기>
- ㉠. 대도시로의 접근성이 높다.
 - ㉡. 집약적 곡물 농업이 발달하고 있다.
 - ㉢. 동부 산지로부터 지하수가 공급된다.
 - ㉣. 아열대 고기압의 영향으로 강수량이 적다.

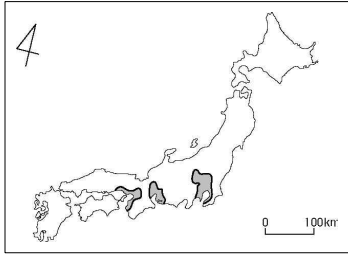
- ① ㉠, ㉡
- ② ㉠, ㉢
- ③ ㉡, ㉣
- ④ ㉡, ㉣
- ⑤ ㉢, ㉣

5. 제시된 자료와 관련이 가장 많은 지리 학습 개념(또는 주제)은?

- 여름철에는 적도에서 북극 부근으로 갈수록 낮이 길어진다.
- 미국 서부 시애틀에 살고 있는 제임스씨는 동부 뉴욕에 사는 동생에게 전화할 때 3시간 차이를 고려하여 전화한다.

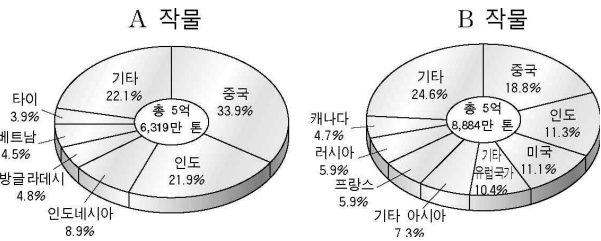
- ① 위치
- ② 장소
- ③ 지역
- ④ 이동
- ⑤ 인간과 환경과의 관계

6. 지도에 표시된 공업 지역의 공통된 특징으로 거리가 먼 것은?



- ① 풍부한 지하 자원
- ② 노동력 확보의 용이성
- ③ 인접한 대규모 소비 시장
- ④ 수출과 수입에 유리한 항만 조건
- ⑤ 교통망 발달에 의한 높은 지역 연계성

7. 세계 주요 식량 작물의 생산량을 나타낸 자료이다. A, B작물에 대한 설명으로 옳은 것을 <보기>에서 모두 고른 것은? [3점]



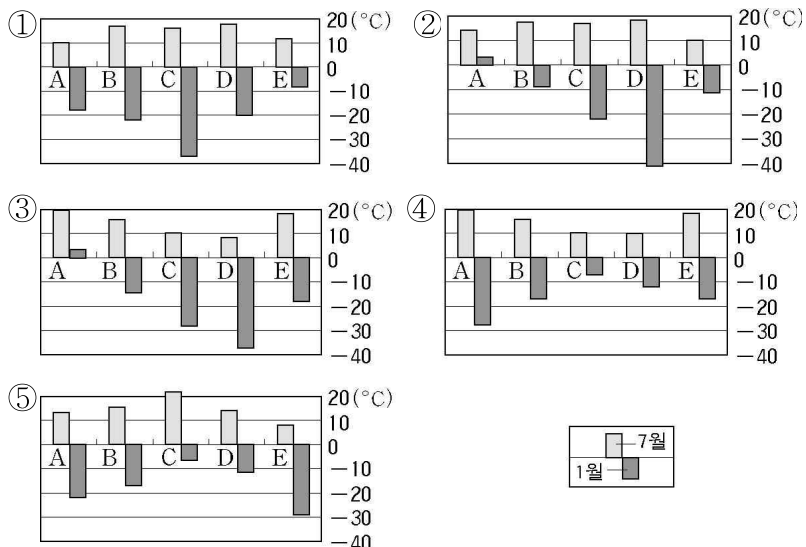
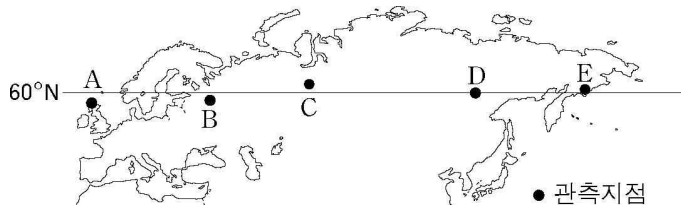
(국제 통계 연감, 2001)

<보 기>

- ㄱ. A작물이 B작물보다 재배 범위가 좁다.
- ㄴ. A작물이 B작물보다 국제적 이동량이 많다.
- ㄷ. A작물은 B작물에 비해 선진국에서 많이 재배한다.
- ㄹ. A작물은 B작물보다 기온이 높고 강수량이 많은 지역에서 더 많이 생산된다.

- ① ㄱ, ㄴ ② ㄱ, ㄷ ③ ㄱ, ㄹ
- ④ ㄴ, ㄷ ⑤ ㄷ, ㄹ

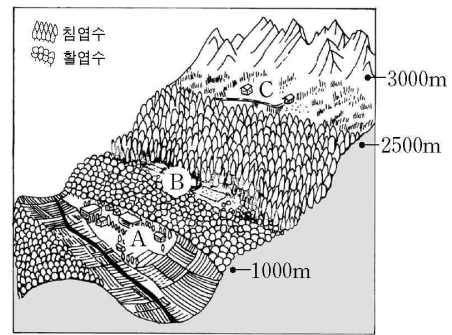
8. 지도에서 각 지점의 1월과 7월 평균 기온을 나타낸 그래프는? [3점]



9. 이목과 관련된 문학 작품과 알프스 산지의 모식도이다. 글 (가), (나)에서 설명하는 지역을 그림의 A, B, C와 바르게 연결한 것은? [3점]

- (가) 내가 뤼르봉 산에서 양을 치고 있을 때의 이야기입니다. 몇 주일씩이나 사람이라고는 통 그림자도 구경 못하였습니다. …… 점심 때 쫓겨 소나기가 퍼부었습니다. …… “칠월이라 밤도 아주 짧습니다. 아가씨, 잠깐만 꼭 참으시면 됩니다.” 시냇물에 젖은 옷과 발을 말리게 했습니다.
- (나) 겨울이 되어 양떼를 몰고 …… 저녁을 먹으러 농장으로 가면, 가끔 아가씨가 식당을 훑 가로질러 지나가는 때도 있었습니다.

— 알프스 도데, 『별』에서 발췌하여 재구성 —



- ① (가)-A, (나)-B ② (가)-A, (나)-C
- ③ (가)-B, (나)-A ④ (가)-C, (나)-A
- ⑤ (가)-C, (나)-B

10. 다음 글에서 자연 환경에 대한 태도를 바르게 기술한 것을 <보기>에서 모두 고른 것은? [3점]

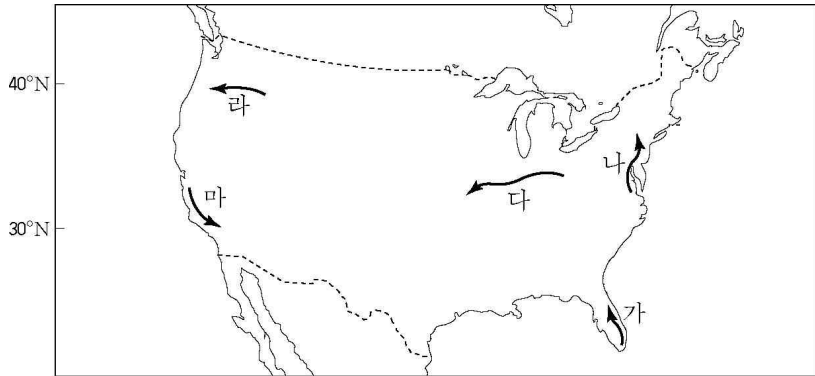
- 호텔 사업자 : 긴 모래 사장과 바다가 보이는 언덕 위에 호텔을 지으면 사업성이 있겠습니다.
- 건축 회사 대표 : 이 지역 경계를 활성화시키려면 호텔 등과 같은 숙박 업소를 많이 지어야 해요. 그런데 언덕이 무너질 위험성이 있으니 언덕 아래 해안벽을 설치하면 이 문제를 해결할 수 있어요.
- 지역 주민 대표 : 아무래도 자연 환경을 건드리는 것은 뭔가 불안해요.
- 환경 운동가 : 맞아요. 그렇게 되면 자연은 가만 있지 않을 거예요. 미국 플로리다 해안에서 해안벽을 설치하였으나 곧 파랑에 의해 모래 사장이 깎이고 언덕이 무너진 경우가 있어요.

<보 기>

- ㄱ. 호텔 사업자-인간과 자연 환경이 조화를 이루어야 한다.
- ㄴ. 건축 회사 대표-인간이 기술을 통해 자연을 통제할 수 있다.
- ㄷ. 지역 주민 대표-가능하면 인간은 자연 환경을 마음대로 이용해야 한다.
- ㄹ. 환경 운동가-인간의 자연 환경에 대한 과도한 간섭은 자연 재앙을 가져온다.

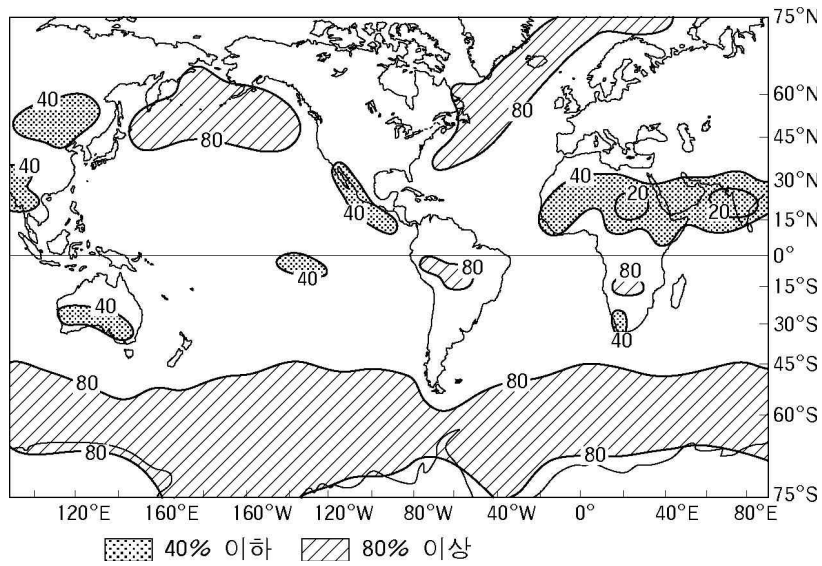
- ① ㄱ, ㄴ ② ㄱ, ㄹ ③ ㄴ, ㄷ ④ ㄴ, ㄹ ⑤ ㄷ, ㄹ

11. 지도에 표시된 (가)~(마)의 경로를 따라 미국을 답사하면서 기록한 내용으로 사실과 다른 것은? [3점]



- ① 가-악어 농장에서 코코넛 과일을 맛 본 다음, 오렌지 농장을 방문하였다.
- ② 나-자동차 차창 너머로 고층 건물과 쇼핑몰, 전원 주택지가 연속적으로 전개되고 있었다.
- ③ 다-끝없이 펼쳐진 옥수수 밭을 통과하면서 간혹 수십량의 화물칸을 달고 지나가는 기차를 보았다.
- ④ 라-대규모 관개 시설을 본 후, 사막의 선인장 옆에서 기념 사진을 찍었다.
- ⑤ 마-차이나 타운을 둘러 본 다음, 해안 도로를 따라 가니 포도 농장에 이르게 되었다.

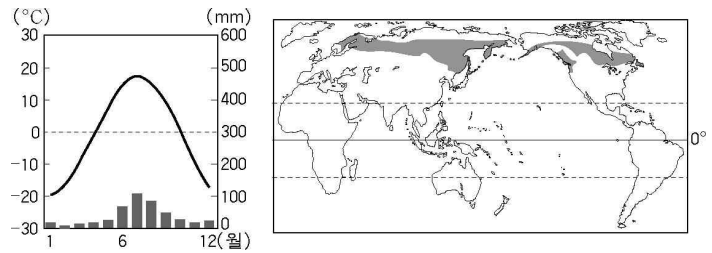
12. 그림은 12월~2월 평균 구름량이 많은(80% 이상) 지역과 적은(40% 이하) 지역을 보여준다. 지도에서 알 수 있는 것을 <보기> 에서 모두 고른 것은? [3점]



- <보 기>
- ㄱ. 인도 반도에서는 이 시기가 우기이다.
 - ㄴ. 60°S 부근의 한대 전선대 부근에서 구름량이 많다.
 - ㄷ. 아프리카에서 강수량이 가장 많은 지역은 30°S 부근이다.
 - ㄹ. 동아시아의 대륙 내부에는 고기압이 발달하여 구름량이 적다.

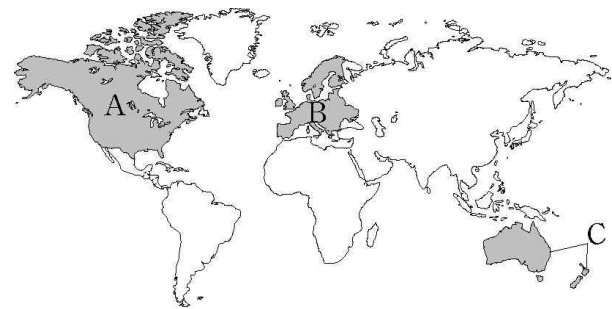
- ① ㄱ, ㄴ ② ㄱ, ㄷ ③ ㄱ, ㄹ
- ④ ㄴ, ㄷ ⑤ ㄴ, ㄹ

13. 그래프는 지도에 표시된 지역의 기후를 나타낸다. 이 지역에서 주로 볼 수 있는 식생의 모습은?



- ① (m) 60, 40, 20, 0: Tall deciduous forest
- ② (m) 60, 40, 20, 0: Sparse grassland
- ③ (m) 60, 40, 20, 0: Coniferous forest
- ④ (m) 60, 40, 20, 0: Mixed forest
- ⑤ (m) 60, 40, 20, 0: Deciduous forest


14. 지도에 표시된 A, B, C 지역의 공통된 특징을 <보기>에서 모두 고른 것은?



- <보 기>
- ㄱ. 백인의 비율이 높다.
 - ㄴ. 자급적 농업이 주를 이룬다.
 - ㄷ. 각 나라의 제1언어는 영어이다.
 - ㄹ. 지역 내 경제적 통합을 추구한다.

- ① ㄱ, ㄴ ② ㄱ, ㄷ ③ ㄱ, ㄹ ④ ㄴ, ㄷ ⑤ ㄷ, ㄹ

15. 계곡의 모습이 과거에서 현재로 변화되는 데 있어서 가장 중요한 지형 형성 과정을 추정한 것은? [3점]



- ① 습곡 작용으로 골짜기가 형성되었다.
- ② 운석의 충돌로 골짜기가 형성되었다.
- ③ 용암 분출 뒤 골짜기 바닥이 함몰되었다.
- ④ 빙하가 이동하면서 골짜기를 침식하였다.
- ⑤ 석회 동굴이 붕괴되면서 골짜기 바닥이 함몰되었다.

16. A 나라의 국가(國歌) 가사이다. 내용에서 알 수 있는 것을 <보기> 에서 모두 고른 것은?

'A'(이)여 굳세게 전진하라.	
1절 'A'인들이여 함께 기뻐하자. 우리는 젊음과 자유를 가졌다. 비옥한 토양과 부를 위해 노력하자. 바다로 둘러 싸인 우리 나라는 자연의 선물로 풍요롭고 아름다워라. 역사의 순간 순간 마다. 'A'(이)여 굳세게 전진하자.	2절 찬란히 빛나는 남십자성 아래 손에 손잡고 합심하여 노력하자. 우리 나라를 새롭게 하기 위해 바다를 건너온 우리들은 끝없이 넓은 평원에서 합심해서 용기를 가지고 굳세게 전진하자.
(후렴) 환희에 찬 합성으로 노래하자. 'A'(이)여 굳세게 전진하라.	

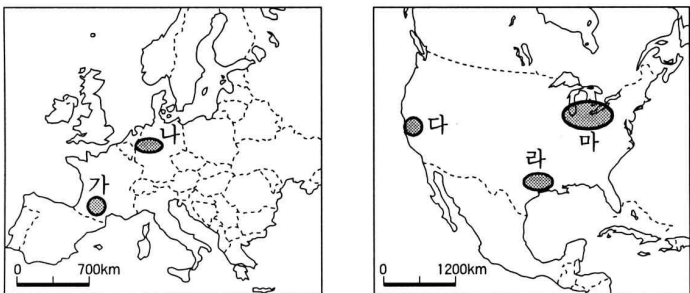
<보 기>

- ㄱ. 국토애를 강조하고 있다.
- ㄴ. 북반구 고위도에 위치한다.
- ㄷ. 이민에 의해 형성된 국가이다.
- ㄹ. 자원 민족주의를 강조하고 있다.

- ① ㄱ, ㄴ ② ㄱ, ㄷ ③ ㄴ, ㄷ ④ ㄴ, ㄹ ⑤ ㄷ, ㄹ

17. 글의 내용에 해당되는 공업 지역을 지도에서 모두 고른 것은?

이 지역의 주요 공업 도시들은 산업 사회 발달의 견인차 역할을 수행해 왔다. 그러나 최근 이 도시들은 철강, 금속 등의 전통적인 제조업이 쇠퇴하면서 산업 구조가 변화되고 있으며 환경 문제 극복을 통한 이미지 쇄신을 위해 노력하고 있다.



- ① 가, 다 ② 가, 라 ③ 나, 다 ④ 나, 라 ⑤ 나, 마

18. 지인이의 여행기에서 알 수 있는 이 지역의 특징을 <보기> 에서 모두 고른 것은?

나는 풍차의 고향이라고 하는 네덜란드 풍차 마을을 견학했다. 여행 안내원은 물을 퍼내기 위해서 풍차를 만들었으나 지금은 때때로 운행되고 있다고 했다. 멀리 제방이 보였다. 튜립 농장을 배경으로 사진을 찍고 상점에 들렀다. 클록이라는 전통 나막신을 팔고 있어 기념으로 구입하였다. 내가 좋아하는 치즈를 만드는 공장도 둘러보았다.

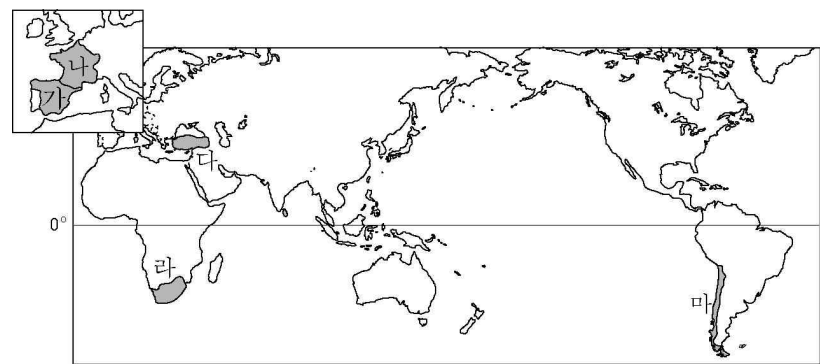
<보 기>

- ㄱ. 풍력이 주요 에너지원이다.
- ㄴ. 낙농업과 원예 농업이 성하다.
- ㄷ. 해안을 매립한 간척지가 나타난다.
- ㄹ. 제방 아래 야자나무 숲이 펼쳐진다.

- ① ㄱ, ㄴ ② ㄱ, ㄷ ③ ㄴ, ㄷ ④ ㄴ, ㄹ ⑤ ㄷ, ㄹ

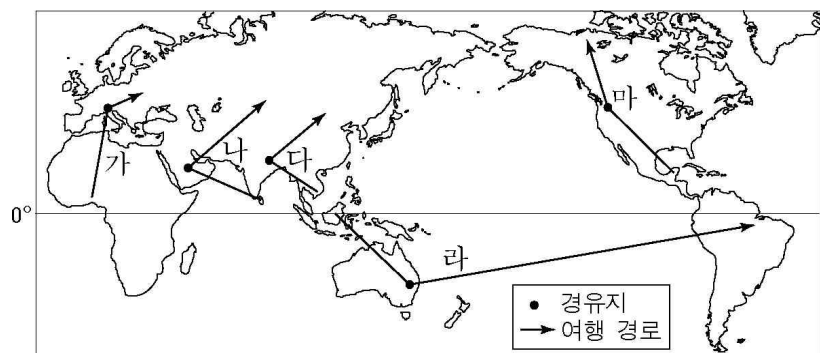
19. 다음 자료를 바탕으로 ○○여행사가 성혁이에게 추천할 가능성이 가장 높은 여행국을 지도에서 고른 것은? [3점]

성혁이의 여행 신청서 일부	
취미/흥미	○ 등산(빙벽 등반)
여행 목적	○ 빙하 사진 촬영 ○ 포도 농장에서 포도 수확 체험
사용 가능 외국어	○ 영어, 에스파냐어
여행 가능 시기	○ 1~4월 사이



- ① 가 ② 나 ③ 다 ④ 라 ⑤ 마

20. 출발지, 경유지, 도착지에서 사진과 같은 모습을 볼 수 있는 여행 경로를 지도에서 고른 것은? [3점]



- ① 가 ② 나 ③ 다 ④ 라 ⑤ 마

* 확인 사항
○ 답안지의 해당란에 필요한 내용을 정확히 기입(표기)했는지 확인하십시오.

제 4 교시

사회 탐구 영역 (경제 지리)

성명

수험 번호

- 먼저 수험생이 선택한 과목의 문제지인지 확인하십시오.
- 선택 과목은 반드시 응시 원서 작성시 자신이 선택한 과목의 문제를 풀어야 합니다.
- 문제지에 성명과 수험 번호를 정확히 기입하십시오.
- 수험표에 표기된 선택 1, 선택 2, 선택 3, 선택 4의 과목에 대한 문제를 순서대로 풀어 해당란에 답을 표기하십시오.
- 문항에 따라 배점이 다르니, 각 물음의 끝에 표시된 배점을 참고하십시오. 3점 문항에만 점수가 표시되어 있습니다. 점수 표시가 없는 문항은 모두 2점입니다.

1. 다음은 진혁이의 수행평가 과제물의 일부이다. 교사가 제시한 수행 평가의 탐구 주제로 가장 적합한 것은?

1960년대 초에는 주민의 대부분이 농·수산업에 종사하였으나 곧이어 정유·제철·비료 공장이 들어섰고, 1968년에 자동차 공장이, 1973년에 조선소가 세워졌다. 울산 공업 단지는 남동 임해 공업 지대의 핵심으로 특히 중화학 공업의 중심지가 되었다. 울산은 농촌 지역에서 인구가 밀집된 대도시로 변모하였다.

- ① 경제 활동에서 자원은 어떤 역할을 하나?
- ② 농업 입지에 영향을 주는 요인은 무엇인가?
- ③ 공업화가 자연 환경에 주는 영향은 무엇인가?
- ④ 지역의 경제 발전을 제약하는 요소는 무엇인가?
- ⑤ 산업 구조가 변화함에 따라 지역은 어떻게 변화하는가?

2. (A)와 같은 개발이 환경에 미치는 부정적 영향을 탐구하고자 한다. 적절한 조사 항목을 <보기>에서 모두 고른 것은?

식량 문제를 해결하기 위해서 화학 비료 사용, 품종 개량, 농약 사용, 그리고 (A)갯벌 간척과 임야 개간을 통해 농경지를 확대하는 작업이 지속되어 왔다.

- <보 기>
- ㉠ 일조량
 - ㉡ 홍수의 빈도
 - ㉢ 미세먼지 농도
 - ㉣ 생물종의 다양성

- ① ㉠, ㉡
- ② ㉠, ㉢
- ③ ㉡, ㉣
- ④ ㉡, ㉣
- ⑤ ㉢, ㉣

3. 원자력 발전소 건설에 대한 의견 중 입지 선정과 가장 밀접하게 관련된 것을 <보기>에서 모두 고른 것은?

- <보 기>
- 준엽 : 생산 단가가 상대적으로 저렴하다.
 - 민경 : 안전을 위하여 지질 구조를 고려한다.
 - 수진 : 전력 생산 과정에서 많은 냉각수가 필요하다.
 - 병호 : 전력 생산을 위한 화석 연료의 사용량을 줄일 수 있다.

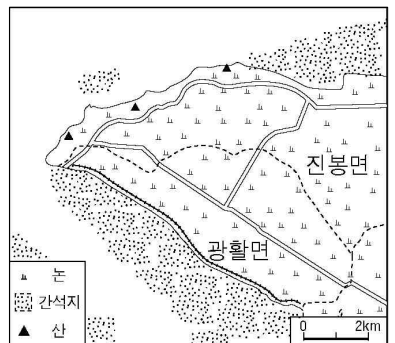
- ① 준엽, 수진
- ② 준엽, 병호
- ③ 민경, 수진
- ④ 민경, 병호
- ⑤ 수진, 병호

4. 다음 두 지역에서 나타난 경제 활동의 변화를 추론한 것으로 옳지 않은 것은? [3점]

(가)



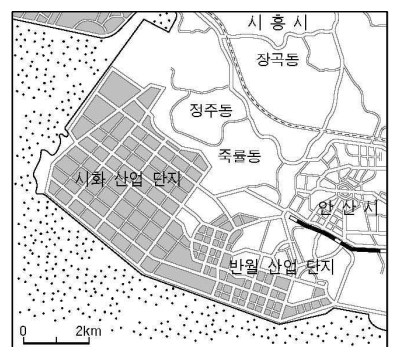
현재



(나)

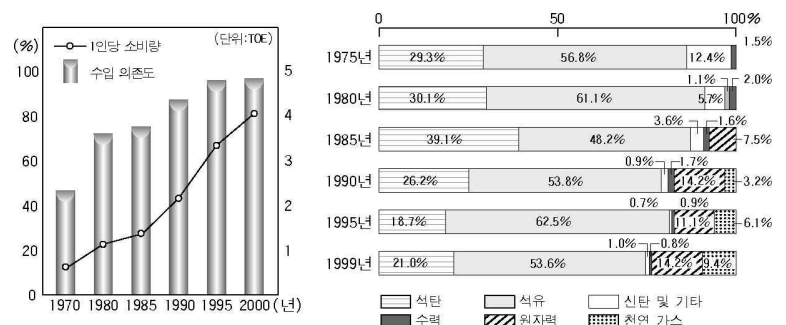


현재



- ① (가) 지역은 과수 농가가 늘어났다.
- ② (가) 지역은 경지 면적이 확대되었다.
- ③ (나) 지역은 소금 생산량이 줄었다.
- ④ (나) 지역은 공업의 비중이 증가하였다.
- ⑤ (가), (나) 지역 모두 수산업 활동이 위축되었다.

5. 다음 자료에서 에너지 자원에 관해 추론한 것으로 옳지 않은 것은? [3점]

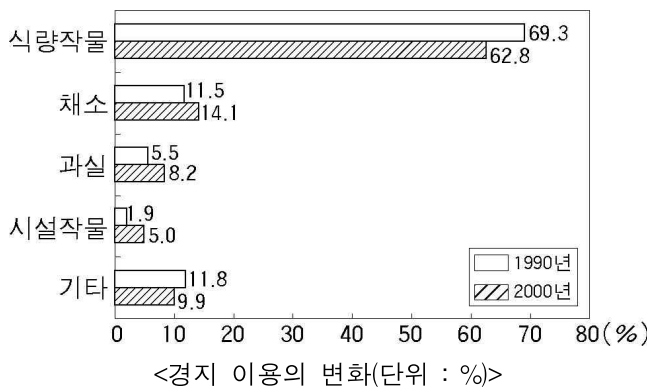


- ① 대체 에너지 개발이 필요할 것이다.
- ② 청정 에너지 사용량이 늘어날 것이다.
- ③ 에너지 소비량 증가로 환경오염이 심해졌을 것이다.
- ④ 천연 가스 비중의 증가는 에너지 자급도를 높일 것이다.
- ⑤ 에너지 소비량의 증가에 따라 수입 의존도가 높아질 것이다.

6. 다음 자료에 나타난 우리나라의 농업 변화에 대하여 옳게 설명한 것은? [3점]

연도	경지 면적(천ha)	농가 인구(천명)	호당 경지 면적(ha)
1970	2,298	14,422	0.92
1980	2,196	10,827	1.02
1990	2,109	6,661	1.19
2000	1,889	4,032	1.37

<농가 인구 및 경지 면적의 변화>



- ① 농업적 토지 이용이 늘고 있다.
- ② 벼 재배 비중이 증가하고 있다.
- ③ 농업 노동력이 부족해지고 있다.
- ④ 농가의 영농 규모가 작아지고 있다.
- ⑤ 원예 작물의 재배 비중이 감소하고 있다.

7. 우리나라 농업에 대한 (가)의 영향을 바르게 추론한 것을 <보기>에서 모두 고른 것은?

우리나라는 외국과의 자유무역협정(FTA)에 대한 논의를 진행하고 있다. 이번의 (가)한·칠레 FTA 발효는 칠레뿐 아니라 인접해 있는 중남미의 수출 시장 개척에 촉진제로 작용할 전망이다.

그러나 농민 단체의 시위로 얼룩졌던 한·칠레 FTA 협상 진행 과정을 보면 포도와 같은 칠레 농산물 수입이 국내 농업에 미치는 영향에 대한 면밀한 분석이 필요할 것으로 보인다.

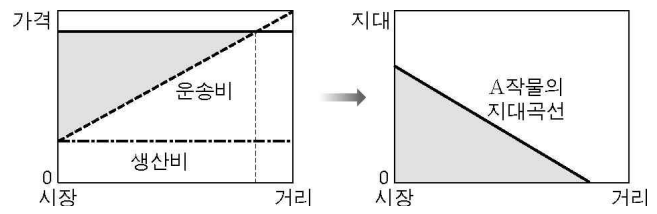
-○○ 신문-

- <보 기>
- ㄱ. 낙농업이 쇠퇴한다.
 - ㄴ. 농가 인구 유출이 증가한다.
 - ㄷ. 과수 재배 면적이 감소한다.
 - ㄹ. 농업의 소득의 비중이 감소한다.

- ① ㄱ, ㄴ ② ㄱ, ㄹ ③ ㄴ, ㄷ
- ④ ㄴ, ㄹ ⑤ ㄷ, ㄹ

[8~9] 다음을 보고 물음에 답하십시오.

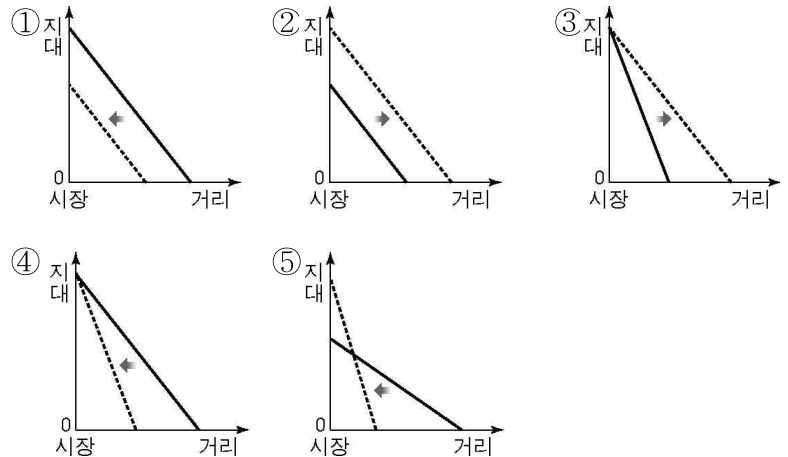
아래의 그래프는 A 작물의 생산비가 모든 지역에서 일정할 경우 시장으로부터 거리에 따라 농부가 얻게 되는 소득 변화를 입지 지대 곡선으로 나타낸 것이다. (단, 입지 지대 = 시장 가격 - [생산비 + 운송비])



8. 위 그림에 대한 설명으로 바르지 않은 것은? [3점]

- ① 입지 지대가 '0'인 지점은 작물 재배의 한계가 된다.
- ② 생산비가 오르면 작물의 재배 범위가 축소될 것이다.
- ③ 시장 가격이 오르면 작물의 재배 범위가 확대될 것이다.
- ④ 시장에 가까워질수록 토지이용의 집약도가 떨어질 것이다.
- ⑤ 단위무게당 운송비가 낮아질수록 지대 곡선의 기울기는 완만해질 것이다.

9. 위 그림의 A 작물이 대량 수입될 경우 입지 지대 곡선 변화로 적절한 것은?



10. 다음 글에서 도출할 수 있는 자원의 성격을 <보기>에서 모두 고른 것은?

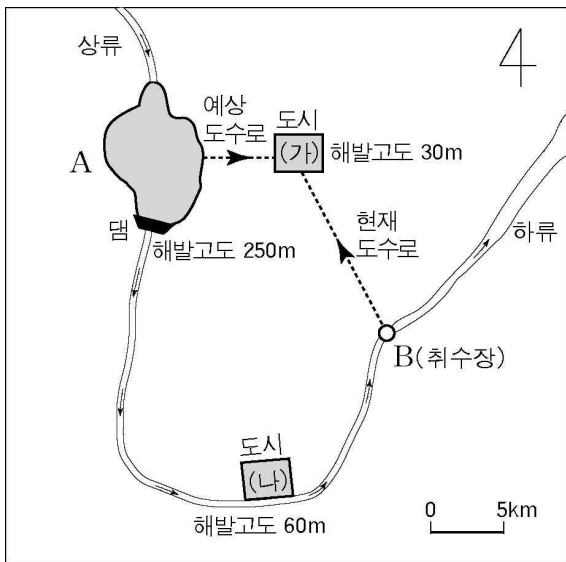
- 석유와 같은 화석 연료는 인간의 이용 속도가 자연적으로 보충되는 속도보다 월등히 빠르기 때문에 궁극적으로 재생이 불가능한 자원이다.
- 세계 금 매장량의 54%, 다이아몬드 매장량의 39%, 크롬 매장량의 95%가 아프리카에 분포한다.

- <보 기>
- ㄱ. 가변성 ㄴ. 절대성
 - ㄷ. 유한성 ㄹ. 편재성

- ① ㄱ, ㄴ ② ㄱ, ㄹ ③ ㄴ, ㄷ
- ④ ㄴ, ㄹ ⑤ ㄷ, ㄹ

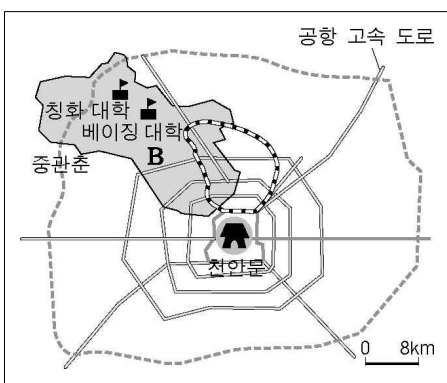
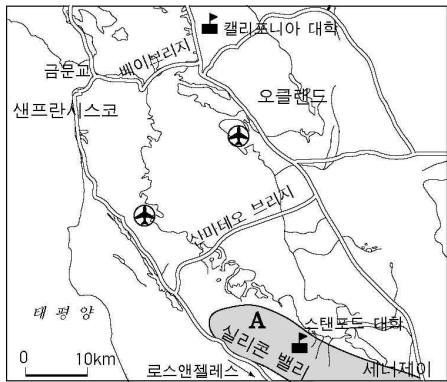
11. A 지역에 댐을 건설함으로써 예상되는 변화에 대하여 잘못 추론한 것은? [3점]

상류인 A지역에 다목적 댐을 건설하여 담수된 물의 일부는 도수로를 이용하여 (가)도시에 공급할 계획이다. 이 지역은 지금까지 B지역의 취수장에서 수돗물 원수를 공급 받아 왔다.



- ① A 지역은 안개 일수가 늘어난다.
- ② B 지역은 수질이 개선된다.
- ③ (가)에서는 과거보다 맑은 물을 공급받을 수 있다.
- ④ (가)에서는 큰 낙차를 이용한 수력 발전이 가능하다.
- ⑤ (나)에서는 하천 생태계가 변화한다.

12. A, B 지역에서 발달한 산업의 공통된 입지 조건을 <보기>에서 모두 고른 것은? [3점]



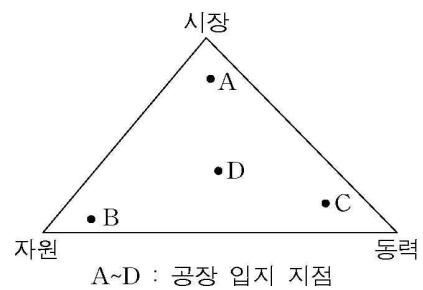
- <보 기>
- | | |
|--------------|--------------|
| ㉠. 편리한 교통 | ㉡. 풍부한 천연 자원 |
| ㉢. 우수한 연구 인력 | ㉣. 저렴한 공업 용수 |

- ① ㉠, ㉡ ② ㉠, ㉢ ③ ㉡, ㉢ ④ ㉡, ㉣ ⑤ ㉢, ㉣

[13~14] 다음 자료를 보고 물음에 답하십시오.

베버에 의하면 단일 공장은 (가) 다른 모든 생산 요소의 비용이 지역간에 차이가 없다면 총운송비가 최소인 지점에 입지한다고 한다. (나) ○○기업은 창업 초기 이를 따랐으나 기업의 규모가 커지면서 업무 관리 기능, 연구 개발 기능, 판매 기능, 생산 기능들이 각각의 조건에 따라 입지하였다. 특히 노동 집약적인 생산 기능은 해외로 옮겨 갔다.

13. (가)에 따른 최적 입지와 업종이 바르게 연결된 것을 <보기>에서 모두 고른 것은? [3점]



<보 기>

	최적 입지	업종
㉠.	A	음료
㉡.	B	시멘트
㉢.	C	인쇄
㉣.	D	알루미늄 제련

- ① ㉠, ㉡ ② ㉠, ㉢ ③ ㉡, ㉢ ④ ㉡, ㉣ ⑤ ㉢, ㉣

14. (나)의 입지 변화에 대하여 바르게 설명한 것을 <보기>에서 모두 고른 것은?

- <보 기>
- ㉠. 판매 기능은 원료를 고려하여 입지한다.
 - ㉡. 생산 기능은 인건비 절감을 고려하여 입지한다.
 - ㉢. 연구 개발 기능은 소비 수요를 고려하여 입지한다.
 - ㉣. 업무 관리 기능은 시장 정보를 고려하여 입지한다.

- ① ㉠, ㉡ ② ㉠, ㉢ ③ ㉡, ㉢ ④ ㉡, ㉣ ⑤ ㉢, ㉣

15. 다음 글에서 (가), (나)에 들어갈 용어를 바르게 연결한 것은?

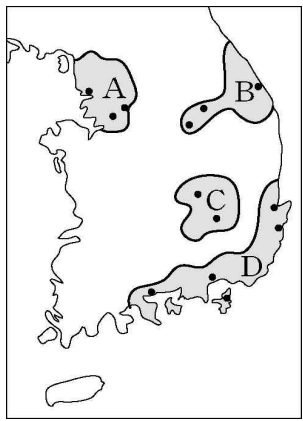
제지 공업은 나무 벌채 → 펄프 제조 → 종이를 생산하는 3 단계로 구성된다. 제지 공업의 원료인 원목은 부피가 크고 제조 과정에서 무게가 현저하게 감소하며, 펄프 제조 공장에서는 많은 양의 물이 필요하다. 따라서 제지 공업은 원목을 구하기 쉽고 수자원이 풍부한 지역을 선호하는 (가) 공업에 속한다. 그러나 최근에는 폐지를 사용하는 기술이 개발되면서 원목에 대한 의존도가 낮아져 이전보다 (나)를 절감할 수 있게 되었다.

- ① (가) - 원료지향형, (나) - 운송비
- ② (가) - 원료지향형, (나) - 노동비
- ③ (가) - 동력지향형, (나) - 생산비
- ④ (가) - 동력지향형, (나) - 운송비
- ⑤ (가) - 시장지향형, (나) - 노동비

16. 우리 나라 공업의 변화를 바르게 추론한 것을 <보기>에서 모두 고른 것은? [3점]

<우리 나라 3대 수출 품목의 변화>

순위	1960년	(가)	순위	1980년	(나)	순위	2000년
1	철광석	↔	1	의류	↔	1	반도체
2	텅스텐		2	철강관		2	자동차
3	생사		3	선박		3	선박



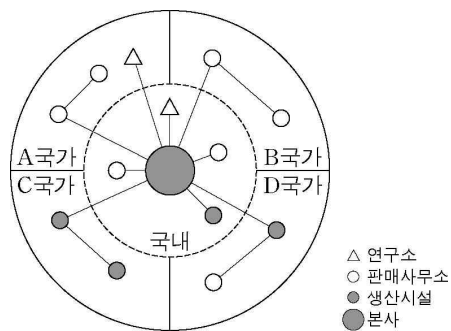
<우리 나라 공업 지역>

<보 기>

- ㄱ. (가) 기간에 A지역에서는 첨단 산업이 발달하였다.
- ㄴ. (나) 기간에 B지역에서는 자본집약적 산업이 성장하였다.
- ㄷ. (가) 기간에 C지역에서는 노동집약적 산업이 성장하였다.
- ㄹ. (나) 기간에 D지역에서는 중공업이 발달하였다.

- ① ㄱ, ㄴ ② ㄱ, ㄷ ③ ㄴ, ㄷ
- ④ ㄴ, ㄹ ⑤ ㄷ, ㄹ

17. 다음은 다국적 기업의 해외 투자를 모식적으로 구분한 것이다. 각 지역의 투자 목적이 바르게 연결된 것을 <보기>에서 모두 고른 것은? [3점]



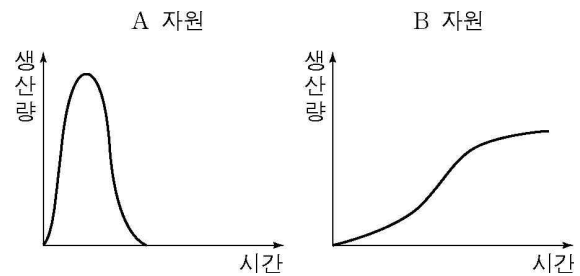
<보 기>

- ㄱ. A 국가-운송비 절감 ㄴ. B 국가-시장 개척
- ㄷ. C 국가-노동비 절감 ㄹ. D 국가-기술 개발

- ① ㄱ, ㄴ ② ㄱ, ㄷ ③ ㄴ, ㄷ
- ④ ㄴ, ㄹ ⑤ ㄷ, ㄹ

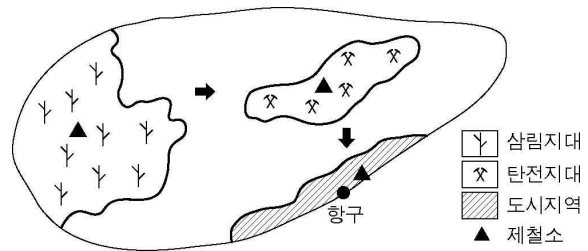
18. 자료의 A, B 에너지 자원에 대한 설명으로 옳지 않은 것은?

에너지 자원은 석탄, 석유와 같이 고갈되는 자원과 태양열, 조력과 같이 고갈되지 않는 자원으로 구분할 수 있다. 아래는 이를 생산량과 고갈 시간과의 관계로 나타내 본 그래프이다.



- ① A 자원은 절약을 통해 이용 연수를 늘릴 수 있다.
- ② A 자원은 B 자원보다 환경을 오염시키는 정도가 약하다.
- ③ B 자원은 이용량이 증가하여도 지속적으로 사용할 수 있다.
- ④ B 자원은 A 자원의 대체 에너지원으로 관심이 높아지고 있다.
- ⑤ B 자원은 A 자원의 가격이 높아지면 이용량이 늘어날 것이다.

19. 그림은 제철 공업의 발달에 따른 입지 변화를 모식적으로 나타낸 것이다. 이러한 변화의 원인을 <보기>에서 모두 고른 것은? [3점]



<보 기>

- ㄱ. 노동비 절감 ㄴ. 생산 기술 혁신
- ㄷ. 시장 정보 확보 ㄹ. 새로운 연료 사용

- ① ㄱ, ㄴ ② ㄱ, ㄷ ③ ㄴ, ㄷ ④ ㄴ, ㄹ ⑤ ㄷ, ㄹ

20. 아래의 사례에서 기업 입지에 공통적으로 영향을 준 요인은?

- 서울시 중구에는 소규모 인쇄소, 제본업체, 종이나 잉크 및 관련 기계류를 취급하는 업체들이 긴밀히 연계되어 있다.
- 테헤란로에는 정보 기술과 관련된 소프트웨어, 이동통신, 네트워크 등의 업체들이 인력과 정보를 교환하고 있다.
- 미국 노스캐롤라이나 연구삼각단지에서는 아이디어로 무장한 기업가들과 첨단 기술을 가진 연구소, 대학들이 기술 개발의 상승 효과를 얻고 있다.

- ① 규모 경제 ② 시장 수요 ③ 집적 이익
- ④ 최소 운송비 ⑤ 최소 노동비

* 확인 사항

- 답안지의 해당란에 필요한 내용을 정확히 기입(표기)했는지 확인 하시오.

제 4 교시 **사회 탐구 영역 (한국 근·현대사)**

성명

수험 번호

- 먼저 수험생이 선택한 과목의 문제지인지 확인하십시오.
- 선택 과목은 반드시 응시 원서 작성시 자신이 선택한 과목의 문제를 풀어야 합니다.
- 문제지에 성명과 수험 번호를 정확히 기입하십시오.
- 수험표에 표기된 선택 1, 선택 2, 선택 3, 선택 4의 과목에 대한 문제를 순서대로 풀어 해당란에 답을 표기하십시오.
- 문항에 따라 배점이 다르니, 각 물음의 끝에 표시된 배점을 참고하십시오. 3점 문항에만 점수가 표시되어 있습니다. 점수 표시가 없는 문항은 모두 2점입니다.

1. 다음은 조선 후기 어느 사상가의 개혁론이다. 개항 이후 이러한 방향의 개혁을 추진하고자 했던 움직임은? [3점]

○ 정전법은 아주 이상적인 제도이다. 토지 경영이 바로 잡히면 모든 일이 제대로 될 것이다. 백성은 일정한 직업을 갖게 되고, 귀천상하가 모두 자기 직책을 갖게 될 것이므로, 민생이 안정되고, 풍속이 도타와질 것이다.

○ 농사를 짓는 사람이 토지를 갖게 하여야 한다. 마을 공동으로 땅을 경작하고, 노동량에 따라 수확물을 분배하게 한다.

- ① 임오군란
- ② 동학 농민 운동
- ③ 갑오개혁
- ④ 독립 협회 활동
- ⑤ 갑신정변

2. 다음은 일본에서 통과된 검정 교과서의 내용이다. 이 글에 숨은 뜻을 바르게 추론한 것은? [3점]

동아시아 지도를 보자. 일본은 유라시아 대륙에서 조금 떨어져서 바다에 떠 있는 섬 나라이다. 이 일본을 향하여 대륙에서 하나의 팔처럼 조선 반도가 돌출되어 있다. 당시 조선 반도가 일본에 적대적인 대국의 지배 하에 들어갔다면, 일본을 공격하는 절호의 기지가 되고 배후지를 갖지 못하는 섬 나라 일본은 자주 방위가 곤란했다.

- 후소샤, 『새로운 역사 교과서』 -

- ① 일본은 지정학상으로 한계를 가지고 있어 발전할 수 없었다는 논리이다.
- ② 일본의 근대화를 위해 서양 문화를 비판 없이 받아들여야 했다는 주장이다.
- ③ 일본의 발전을 위해서는 인근 국가인 한국의 협조가 있어야 했다는 생각이다.
- ④ 아시아를 서구의 지배로부터 해방시키고 '대동아 공영권'을 건설하자는 제안이다.
- ⑤ 한반도 위협설을 명목으로 한국에 대한 지난 날의 침략과 지배를 합리화하려는 의도이다.

3. 어느 외국인이 19세기 후반 조선이 취해야 할 대외 정책을 언급한 글이다. 이와 관련된 설명으로 옳은 것은?

조선은 아시아에서 중요한 위치에 있으므로, 열강들이 서로 차지하려고 할 것이다. 조선이 위태로우면 중국도 위급해진다. 러시아가 영토를 넓히려 하고 한다면 반드시 조선이 그 첫번째 대상이 될 것이다. 그렇다면 오늘날 조선이 세워야 할 책략으로 러시아를 막는 것보다 더 급한 일이 없다. 러시아를 막는 책략은 무엇인가? 중국과 친하고, 일본과 손잡고, 미국과 연합함으로써 자강을 도모하는 방법밖에는 없다.

- ① 유생들은 이러한 주장에 거세게 반발하였다.
- ② 고종은 아관 파천을 통해 이 주장을 수용했다.
- ③ 갑신정변 주도 세력은 이 외교 노선을 충실히 따랐다.
- ④ 이 글에서 예측한 대로 러시아는 거문도를 점령하였다.
- ⑤ 이 주장이 국내에 알려짐으로써 전국적으로 의병 활동이 확산되었다.

4. 다음 글의 ㉠과 ㉡에 해당하는 것을 바르게 묶은 것은 ?

19세기 후반 이후 우리 민족의 역사는 ㉠근대화의 추진과 ㉡자주 국권의 수호를 위한 과정이었다. 그런데 우리 민족의 자주적 근대 국민 국가 수립을 위한 노력은 국내의 여러 사정이 얽히고 세계 열강이 개입하면서 결실을 맺지 못했다.

- | | |
|------------|--------------|
| ㉠ | ㉡ |
| ① 아관 파천 | 양력 채용 |
| ② 독립문 건립 | 단발령 실시 |
| ③ 척화비 건립 | 수신사 파견 |
| ④ 경복궁 중건 | 강화도 조약 체결 |
| ⑤ 신식 학교 설립 | 동학 농민군 2차 봉기 |

5. 다음은 유생 최익현의 격문이다. 이 격문이 나오게 된 계기가 된 사건과 관련이 있는 것은? [3점]

의병을 일으킴에 여러 말이 필요치 않다. …… 슬프다. 작년 10월에 저들이 한 행위는 만고에 일찍이 없었던 일로서, 억압으로 한 조각의 종이에 조인하여 5백 년 전해오던 종묘사직(宗廟社稷)이 드디어 하룻밤 사이에 망하였으니, 천지신명도 놀라고 조종(祖宗)의 영혼도 슬퍼하였다. 나라를 들어 적국에 넘겨준 이지용 등은 실로 우리 나라 만대의 변할 수 없는 원수요, …… 이토 히로부미(伊藤博文)는 마땅히 세계 여러 나라가 함께 토벌해야 할 역적이다.

- ① 한국의 사법권과 경찰권을 빼앗았다.
- ② 각 부의 차관을 일본인으로 임명하였다.
- ③ 통감부를 설치하고 외교권을 박탈하였다.
- ④ 외교와 재정 분야에 외국인 고문을 두도록 하였다.
- ⑤ 국권 강탈시 저항을 미리 막기 위하여 군대를 해산하였다.

6. 일제 시기 민족 운동과 관련된 신문 광고와 포스터이다. (가)와 (나)에 대하여 바르게 설명한 것을 <보기>에서 모두 고른 것은?

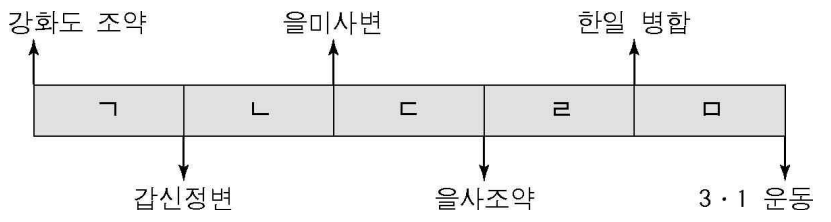


<보 기>
 가. (가)의 결과 회사령이 폐지되었다.
 나. (가)는 '조선 사람, 조선 것으로' 등의 구호를 내세웠다.
 다. (나)는 민립 대학 설립 운동으로 발전하였다.
 리. (가)와 (나)는 3·1 운동 이후에 전개된 실력 양성 운동이다.

- ① 가, 나 ② 가, 리 ③ 나, 다
- ④ 나, 리 ⑤ 다, 리

7. 다음 (가)와 (나)의 사건이 일어났던 시기에 해당하는 것은?

(가) 제1조. 대영 제국은 주로 청국, 일본은 청국에서 가진 이익에 더하여 한국에서 정치상·상업상 및 공업상 탁월한 이익을 가지고 있다.
 제2조. 만약 대영 제국 또는 일본국 중 어느 한쪽이 앞에서 언급한 각자의 이익을 지키기 위해 다른 나라와 전쟁을 개시하게 될 때에는 다른 한쪽 제약국은 엄정 중립을 준수한다.
 (나) 군사장은 미리 군비를 신속히 정돈하여 한 방울의 물도 새지 않도록 철통 같이 해라. 이에 사기를 드높여 서울 진공의 명령을 내리니, 그 목적은 서울로 들어가 통감부를 쳐부수고 성하(城下)의 맹(盟)을 이루어 저들의 소위 신탁약 등을 파기하여 대대적 활동을 기도함 이라.



- (가) (나) (가) (나)
- ① 가 리 ② 가 마
- ③ 다 리 ④ 다 마
- ⑤ 리 마

8. 다음과 같은 변화의 예로 알맞지 않은 것은?

서양과의 수교 이후 우리 나라 사람들은 서양인들과 접촉하면서 자연스럽게 그들의 문화를 접하게 되었다. 또한 무역의 확대와 더불어 외국 상인들이 들여온 생활 용품들을 사용하면서 서양 문화가 우리 나라 사람들의 생활 속에 파고들게 되었다.

- ① 담배를 피우기 시작하였다.
- ② 궁중에서 커피와 홍차를 마셨다.
- ③ 전차가 새로운 교통 수단이 되었다.
- ④ 덕수궁 석조전과 같은 건물이 등장하였다.
- ⑤ 신문을 통해 정보 전달과 상품 광고를 하게 되었다.


9. 다음과 같은 일이 있었던 시기의 국내 상황을 <보기>에서 모두 고른 것은? [3점]

장지연, 신채호, 박은식 등 계몽 사학자들은 우리 역사상 외국의 침략에 대항하여 승리한 영웅들의 전기를 써서 널리 보급시켰으며, 외국의 건국 영웅이나 독립 운동, 혁명 운동의 역사를 번역, 소개하였다.

<보 기>
 가. 민중 계몽을 위한 만민 공동회가 개최되고 있었다.
 나. 국권을 회복하려는 애국 계몽 운동이 전개되고 있었다.
 다. 민족 의식을 드높이기 위하여 외국 흥망사가 많이 소개되고 있었다.
 리. 가혹한 식민 통치를 은폐하기 위한 문화 통치가 실시되고 있었다.

- ① 가, 나 ② 가, 다 ③ 나, 다
- ④ 나, 리 ⑤ 다, 리

10. 개항기 신식 군인들의 모습이다. 이에 대한 설명으로 옳은 것을 <보기>에서 모두 고른 것은? [3점]



<보 기>
 가. 일본인 교관이 훈련시켰다.
 나. 5군영을 개편하여 만들었다.
 다. 임오군란을 계기로 조선군의 핵심 부대로 성장하였다.
 리. 강화도 조약 이후 군사력 강화를 목적으로 창설하였다.

- ① 가, 나 ② 가, 리 ③ 나, 다 ④ 나, 리 ⑤ 다, 리

11. (가)와 (나)는 1920년대 후반에 결성된 민족 운동 단체의 해체를 둘러싼 찬성과 반대 주장이다. 이 글을 토대로 한 추론으로 적절한 것은? [3점]

(가) 해소 투쟁의 전개는 우익 민족주의자의 정체 폭로와 노농 주체의 강대화에 기반해야 한다. 우익 민족주의자의 정체는 이상의 우리의 해소 이론에 의해 폭로되었으리라고 믿는다. …… 이러한 운동은 노농 대중을 우익화하는 것이다. 산업별 조합을 계급적 진영이 되게 하며 강대화하는 데에 그 산업별 조합 또는 직업별 조합이 모든 투쟁의 담당자가 되어야 할 것이다.

(나) 단결은 힘이다. 약자의 힘은 단결이다. 모든 역량을 집중하여 단결을 공고히 하자. …… 조선인의 대중적 운동의 목표는 정면의 일정한 세력을 향하여 집중되어야 할 것이니 이에서 민족 운동과 계급 운동은 동지적 협동으로 병립 병진하여야 할 것이다.

- ① (가)의 주장은 사회주의자들의 반발을 불러 일으켰다.
- ② (가)와 같은 입장의 사람들은 농민과 노동자를 제외한 지식인 운동을 목표로 하였다.
- ③ (나)와 같은 입장의 사람들은 친일파와도 손을 잡고자 하였다.
- ④ (나)와 같은 주장의 궁극적인 목적은 일본에게서 자치권을 획득하는 데 있었다.
- ⑤ 구성원 간의 이념 대립과 사회주의자들의 운동 노선 변경이 해체 주장의 계기였다.

12. 다음은 어느 독립 운동 단체의 활동 방향과 소속 단원의 동이다. (가)의 내용으로 미루어 볼 때, (나)의 활동이 가져온 결과는?

(가) 본 단체는 이제 제1차의 전투사를 세상에 공개하노니 …… 우리가 일편 정성을 다하여 3천만 인민이 모든 굴욕을 받으며 싸워 온 갖은 고초를 호소하여 세간의 인도주의자의 공론을 구하려 하며, 아울러 이것으로써 박빙을 밟는 것 같은 위험한 처지에 있는 중화 민족에게 다소나마 참고와 도움이 된다면 더욱 다행인가 할 뿐이다.

(나) 그는 4월 27일에 식장인 공원으로 가서 모든 것을 세밀하게 또 신중히 배치 수배하고 다시 흥커우로 가서 …… 29일 새벽이 되자 양복을 입고 어깨에 폭탄을 장치한 군용 물병을 메고 손에는 폭탄을 장치한 도시락을 들고 공원으로 달음질 쳐 간 것이다. …… 상하이로 침략한 총사령 시라가와 대장은 전신에 24개의 대탄환과 무수한 소탄환을 맞아 …… 죽고 말았다. 제3함대 사령관 노무라 중장은 …… 실명하였다.

- ① 만주 지역에서는 3부 통합 운동이 일어났다.
- ② 중국이 한국의 독립 운동을 지원하는 계기가 되었다.
- ③ 자유시 참변으로 인하여 독립군이 큰 타격을 받았다.
- ④ 일본이 중국에 대한 침략을 본격화하여 만주를 점령하였다.
- ⑤ 테러 활동에 대한 비판으로 대한민국 임시 정부의 활동이 위축되었다.

13. 대한민국 임시 정부의 활동 방침 중 일부이다. 일제가 이러한 활동에 협조한 사람을 체포하였을 때 적용하게 될 법 조항은?

재정 : 충분한 금력을 확보하기 위해 다음의 방법으로 재정 수입을 함.

- 임시 소득세 납부 : 소득에 비례하여 매월 혹은 매년 납부하게 함. 지주 및 자영업자는 소득의 1/30을 납부하게 함.
- 실업 및 금융 기관 설치.

- ① 공립 또는 사립 학교의 설치·폐지는 총독의 허가를 받아야 한다.
- ② 농지의 임대인은 임차인의 배신 행위가 없는 한 임대차의 갱신을 거절할 수 없다.
- ③ 사유 재산 제도를 부정하는 단체를 만들거나, 여기에 가입하는 자는 10년 이하의 징역 또는 금고에 처한다.
- ④ 국가 체제를 무너뜨릴 목적으로 만들어진 단체의 행위를 돕는 자는 2년 이상의 유기 징역 또는 금고에 처한다.
- ⑤ 전시에 국가 총동원상 필요할 때는 칙령이 정하는 바에 따라 제국 신민을 징용하여 총동원 업무에 종사하게 할 수 있다.

14. 일제 시기 농가 호수 비율의 변화를 나타낸 표이다. 표의 내용과 관련하여 잘못 추론한 것은? [3점]

(단위 : %)

구분 연도	지주	자작농	자소작농	소작농
1916	2.5	20.1	40.6	36.8
1920	3.3	19.5	37.4	39.8
1924	3.8	19.5	34.5	42.2
1928	3.7	18.3	33.1	44.9

-조선 총독부, 『조선 소작 연보』-

- ① 지주의 증가는 소작 쟁의의 감소를 가져왔을 것이다.
- ② 자작농의 감소는 농민의 궁핍화를 가져왔을 것이다.
- ③ 자소작농의 감소는 소작농의 증가로 연결되었을 것이다.
- ④ 소작농의 증가는 반일 감정을 고조시켰을 것이다.
- ⑤ 소작농의 증가는 토지 조사 사업의 영향도 있었을 것이다.

15. 자료와 같은 대일 선전 포고를 한 군대와 관계가 없는 것은? [3점]

1. 한국 전체 인민은 이미 반침략 전선에 참가하여 한 개의 전투 단위로서 추축국(樞軸國)에 대하여 전쟁을 선포한다.

2. 1910년의 합방 조약과 일체의 불평등 조약의 무효를 거듭 선포하며, 아울러 반침략 국가의 한국에서의 합리적 기득권익을 존중한다.

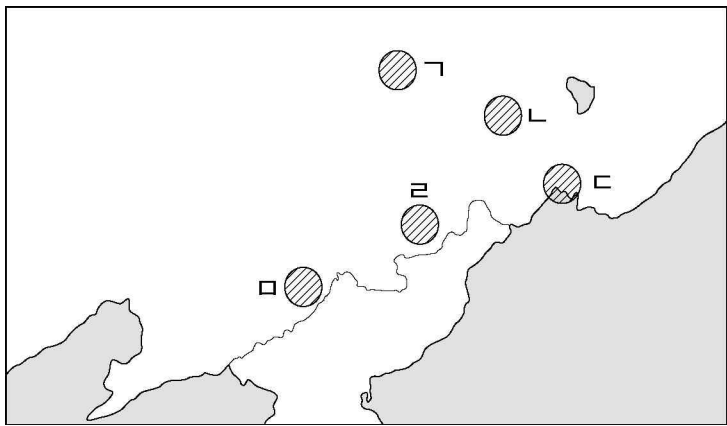
3. 왜구를 한국과 중국 및 태평양에서 완전히 몰아내기 위하여 최후의 승리를 거둘 때까지 피로써 싸운다.

-대일 선전 성명서-

- ① 대한민국 임시 정부에서 창설하였다.
- ② 연합군과 합동으로 전쟁을 수행하였다.
- ③ 중국군과 화북 지방에서 공동 작전을 전개하였다.
- ④ 조선 의용대 병력이 편입됨으로써 전력이 보강되었다.
- ⑤ 국내 진공 작전을 계획하였으나 일본의 패망으로 기회가 무산되었다.

16. 다음의 역사적 사실과 공통적으로 관련 있는 지역을 아래 지도에서 고른 것은?

- 19세기 후반 함경도와 평안도 사람들이 이주하여 한인 사회가 형성되기 시작하였다.
- 1920년 김좌진이 이끄는 북로군정서, 홍범도가 이끄는 대한 독립군 등이 일본군과 싸워 큰 승리를 거두었다.
- ‘일송정 푸른 솔은 홀로 늙어 갔어도, 한 줄기 해란 강은 천년 두고 흐른다.’는 가곡 <선구자>의 무대이다.



- ① ㉠ ② ㉡ ③ ㉢ ④ ㉣ ⑤ ㉤

[17~18] 신채호의 「조선 혁명 선언」 중 일부이다. 물음에 답하시오.

(㉠)을(를) 주장하는 자 누구인가? …… 너희들이 ‘동양 평화’, ‘한국 독립 보전’을 담보한 조약에 먹물이 마르기 전에 삼천리 강토를 집어 먹던 역사를 잊었느냐?

(㉡)을(를) 부르짖는 자 누구인가? …… 검열, 압수 등 모든 압박 중에 몇몇 신문 잡지를 가지고 …… 강도의 비위에 거스르지 아니할 만한 언론이나 주창하여 이것을 문화 발전의 과정으로 본다면, 문화 발전은 도리어 조선의 불행이다.

(㉢)의 주장은 …… 최근 3·1 운동에 일반 인사의 평화 회의, 국제 연맹에 대한 과신의 선전이 도리어 2천만 민중의 용기 있게 분발하여 전진하는 의기를 쳐 없애는 매개가 될 뿐이었도다.

(㉣)을(를) 주장하는 자 있으니, …… 입고 먹을 방법도 단절되는 이 때, 무엇으로 어떻게 실업을 발전하며, 교육을 확대하며, …… 군인을 양성한들, 일본 전투력의 백분의 일에 비교라도 되게 할소냐?

17. 일제 시기 민족 운동 중에서 (㉠)~(㉣)에 들어갈 민족 운동 방안을 바르게 배열한 것은? [3점]

- | | | | |
|---------|---------|-------|-------|
| (㉠) | (㉡) | (㉢) | (㉣) |
| ① 자치론 | 문화운동론 | 외교론 | 준비론 |
| ② 문화운동론 | 자치론 | 준비론 | 외교론 |
| ③ 외교론 | 자치론 | 문화운동론 | 준비론 |
| ④ 준비론 | 문화운동론 | 자치론 | 외교론 |
| ⑤ 자치론 | 준비론 외교론 | 문화운동론 | |

18. 신채호는 이전의 여러 움직임에 대해 다음과 같은 평가를 내리고 있다. 아래 () 속에 들어갈 내용으로 적절한 것은?

우리 지나온 경과를 말하자면 갑신정변은 특수 세력이 특수 세력과 싸우던 궁중의 한 때의 활극이 될 뿐이며, …… 안중근, 이재명 등 열사의 폭력적 행동이 열렬하였지만 그 뒤에는 민중적 역량의 기초가 없었으며, 3·1 운동의 만세 소리는 ().

민중·폭력 둘 중 하나가 빠지면, 비록 천지를 뒤흔드는 장렬한 거사라도 또한 번개처럼 수그러드는도다.

- ① 폭력이 개입됨으로써 좋은 취지가 빛바랬다.
- ② 실력이 뒷받침되지 않은 무모한 도전이었다.
- ③ 민족 사활 문제를 외국의 처분에만 기대었다.
- ④ 민중적 의기가 보였지만 폭력적 중심을 가지지 못하였다.
- ⑤ 불완전한 학교 몇 개와 실력 없는 모임을 만드는 데 그쳤다.

19. 다음은 1920년대 후반에 활동한 여성 단체의 강령이다. 자료에서 추론할 수 있는 당시 역사적 사실로 적절하지 않은 것은? [3점]

- 여성에 대한 사회적·법률적 일체 차별 철폐
- 일체 봉건적 인습 및 미신 타파
- 조혼 폐지 및 결혼의 자유
- 인신 매매 금지
- 부인 노동의 임금 차별 철폐 및 산전 산후 임금 지불

- ① 여성 노동자가 늘어났으나, 노동 조건은 열악하였다.
- ② 야학이나 강습회 등을 통한 여성 계몽 운동이 활발하였다.
- ③ 일상 생활에서 여성을 억압하는 봉건적인 요소가 남아 있었다.
- ④ 남성과 동등한 정치적 권리를 요구하는 참정권 운동이 전개되었다.
- ⑤ 사회적 관습에서 오는 여성 차별의 철폐가 여성 운동의 주요 목표 중 하나였다.

20. 어떤 독립 운동에서 발표한 선언서 공약이다. 이 독립 운동의 영향으로 잘못 설명한 것은?

- 금일 오인의 차거(此舉)는 정의, 인도, 생존, 존영을 위하는 민족적 요구이니, 오직 자유적 정신을 발휘할 것이요, 결코 배타적 감정으로 일주하지 말라.
- 최후의 일인까지, 최후의 일각까지 민족의 정당한 요구를 쾌히 발표하라.
- 일체의 행동은 가장 질서를 존중하여, 오인의 주장과 태도로 하여금 어디까지든지 광명정대하게 하라.

- ① 대한민국 임시 정부 수립의 계기가 되었다.
- ② 일제는 통치 정책을 문화 통치로 바꾸게 되었다.
- ③ 만주 지역에서 독립군 활동을 활성화시키는 계기가 되었다.
- ④ 5·4 운동 등 세계 약소 민족의 독립 운동에 영향을 주었다.
- ⑤ 일제는 이에 대한 보복으로 간도 참변이라는 만행을 저질렀다.

* 확인 사항

- 답안지의 해당란에 필요한 내용을 정확히 기입(표기)했는지 확인하시오.

제 4 교시

사회 탐구 영역 (세계사)

성명

수험 번호

- 먼저 수험생이 선택한 과목의 문제지인지 확인하시오.
- 선택 과목은 반드시 응시 원서 작성시 자신이 선택한 과목의 문제를 풀어야 합니다.
- 문제지에 성명과 수험 번호를 정확히 기입하시오.
- 수험표에 표기된 선택 1, 선택 2, 선택 3, 선택 4의 과목에 대한 문제를 순서대로 풀어 해당란에 답을 표기하시오.
- 문항에 따라 배점이 다르니, 각 물음의 끝에 표시된 배점을 참고하시오. 3점 문항에만 점수가 표시되어 있습니다. 점수 표시가 없는 문항은 모두 2점입니다.

1. 다음 글과 그림에 나타난 사회에 대한 설명으로 적절하지 않은 것은? [3점]



이 사회는 대체로 왕정에서 출발하여 귀족 지배의 과두정으로 이어지는 정치적 변화를 겪었다. 그 후 참주 지배의 독재정을 거쳐 기원전 500년경 이후 민주정으로 발전하였다.

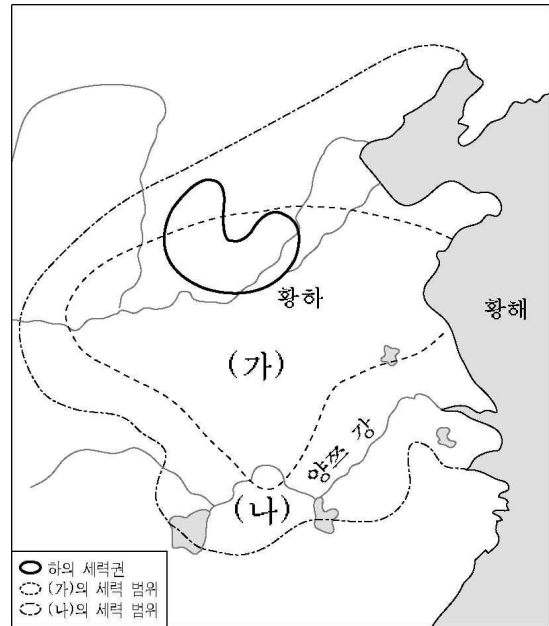
- ① 노예는 가축처럼 취급되었다.
- ② 여성의 정치 참여가 막혀 있었다.
- ③ 아고라는 시민 생활의 중심지였다.
- ④ 콜로세움에서 검투사 경기가 열렸다.
- ⑤ 희극과 비극이 극장에서 상연되었다.

2. 다음 이슬람 왕조와 관련된 역사적 사건에 대한 설명으로 옳은 것은?

○ 이슬람 문화를 바탕으로 비잔틴 문화, 이란 문화, 투르크 문화 등 동서 세계의 여러 문화를 융합하여 새로운 문화를 발전시켰다.
 ○ 16세기 후반 레판토 해전에서 에스파냐 등의 연합 함대에 패배하였으나, 동서 양세계를 연결하는 통로를 계속 장악하여 막대한 무역 수입을 올렸다.

- ① 탈라스에서 당나라와 싸워서 승리하였다.
- ② 콘스탄티노플을 함락시켜 이곳을 수도로 삼았다.
- ③ 헤지라를 단행하여 이슬람 세력의 팽창을 꺾었다.
- ④ 유럽으로 진출하여 게르만 족의 이동을 촉발시켰다.
- ⑤ 예루살렘 순례를 방해하여 십자군 전쟁을 유발하였다.

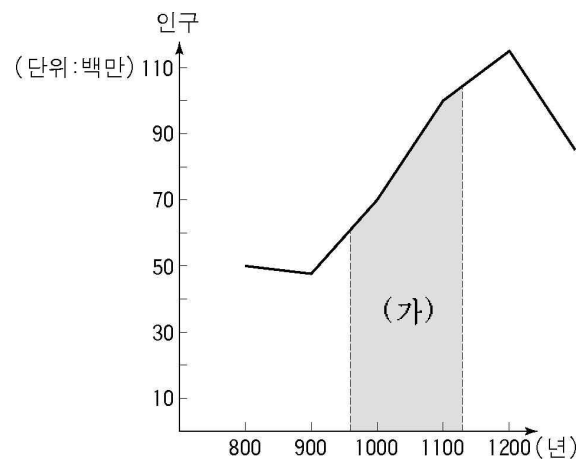
3. 다음은 중국의 초기 왕조들과 관련된 지도이다. (가)와 (나)에 대한 옳은 설명을 <보기>에서 모두 고른 것은? [3점]



<보 기>
 가. (가)에서는 갑골 문자가 쓰였다.
 나. (나)에서는 정전제가 시행되었다.
 다. (가)와 (나)에서는 부병제가 실시되었다.
 리. (가)에서는 군현제가, (나)에서는 군국제가 시행되었다.

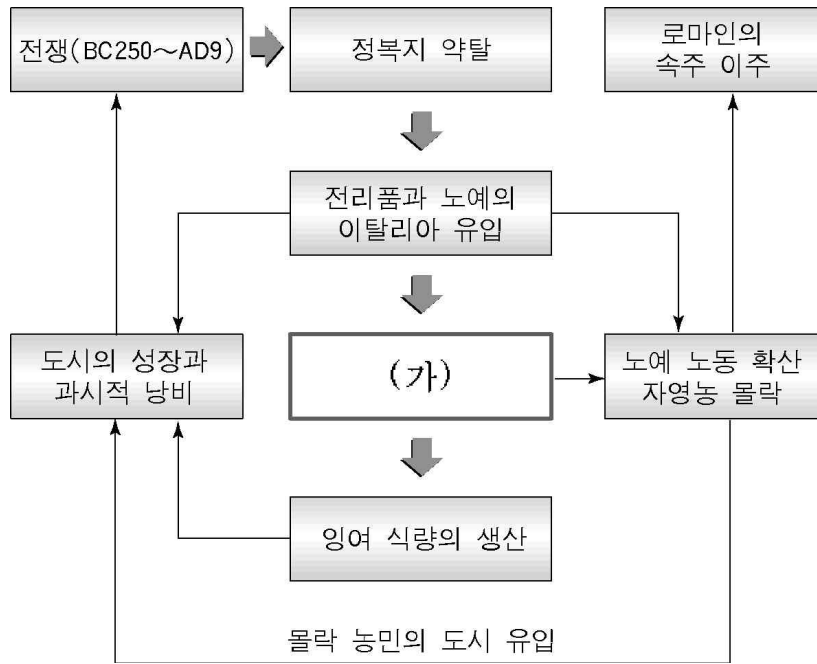
- ① 가, 나 ② 가, 다 ③ 나, 다
- ④ 나, 리 ⑤ 다, 리

4. 다음은 중국의 인구 변화를 나타낸 도표이다. (가) 시기 인구 변화의 경제적 요인에 대한 설명으로 적절한 것은? [3점]



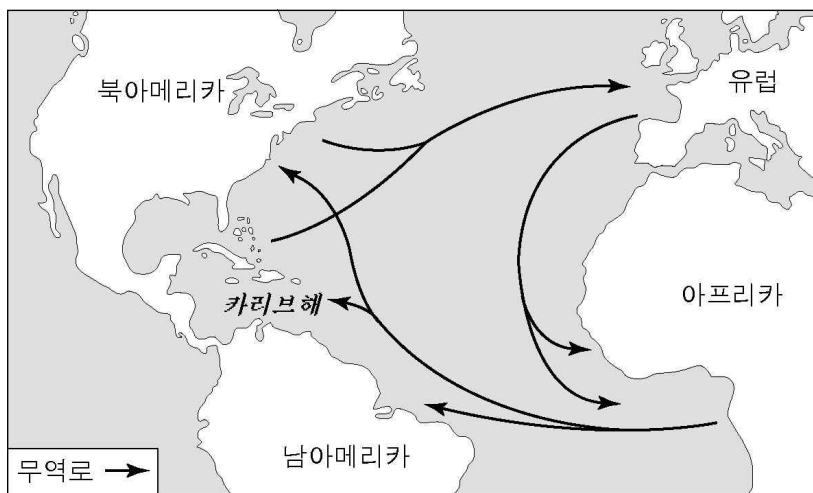
- ① 균전제가 시행되었다.
- ② 신대륙의 은이 유입되었다.
- ③ 우경과 철제 농기구가 도입되었다.
- ④ 감자와 고구마 등 신작물이 도입되었다.
- ⑤ 양쯔 강 하류 유역이 본격적으로 개발되었다.

5. 다음은 공화정 중기 이래 로마 사회의 변화를 보여 주는 도표이다. (가)에 들어갈 사항으로 알맞은 것은? [3점]



- ① 주종 제도의 등장
- ② 장원 제도의 성립
- ③ 라티퐁디움의 발전
- ④ 호민관 제도의 등장
- ⑤ 콜로나투스 제도의 쇠퇴

6. 지도에 나타난 16~18세기 대서양 삼각 무역에 대한 옳은 설명을 <보기>에서 모두 고른 것은? [3점]



- < 보 기 >
- ㄱ. 베네치아 상인이 노예 무역을 주도하였다.
 - ㄴ. 노예가 아프리카에서 아메리카로 팔렸다.
 - ㄷ. 차와 향료가 유럽에서 아프리카로 팔렸다.
 - ㄹ. 설탕과 담배가 아메리카에서 유럽으로 팔렸다.

- ① ㄱ, ㄴ ② ㄱ, ㄷ ③ ㄴ, ㄷ
- ④ ㄴ, ㄹ ⑤ ㄷ, ㄹ

7. 다음 왕조의 문화에 대한 설명으로 옳지 않은 것은?

- 과거 시험의 진사과에 시(詩)를 필수 과목으로 부과하여 시문이 크게 발전하였다.
- 인구 100만 이상의 국제 도시 장안을 비롯한 튀양과 양저우 등의 대도시에는 각국의 상인, 유학생, 예능인이 살았으며, 서방인의 풍속인 호풍(胡風)도 유행하였다.

- ① 이백과 두보 같은 시인들이 탄생하였다.
- ② 현장과 의정이 인도에서 경전을 구해왔다.
- ③ 잠극과 경극 같은 서민 문화가 발달하였다.
- ④ 상인과 사절의 왕래로 동서 교류가 활발하였다.
- ⑤ 조로아스터 교나 이슬람 교를 믿는 사람도 있었다.

8. 다음은 어느 시기 서유럽의 사회 변화를 정리한 글이다. 당시 농민이 볼 수 있었던 상황으로 옳바른 것은?

- 화폐 경제 발달로 영주는 농민들에게 영주 직영지를 빌려주고 그 대가로 화폐를 받기 시작하였다.
- 14세기 중엽에 흑사병이 유행하여 유럽인의 약 1/3이 사망하였다.
- 영주가 기득권을 유지하려고 하자 농민들이 반란을 일으켰다.

- ① 장원이 해체되고 있었다.
- ② 삼포제가 시작되고 있었다.
- ③ 기사 제도가 발전하고 있었다.
- ④ 은대지 제도가 시작되고 있었다.
- ⑤ 자급자족 경제가 발전하고 있었다.

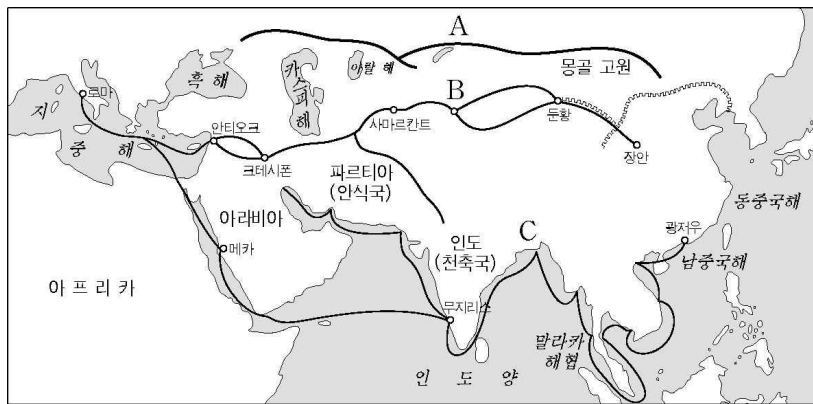
9. 자료와 관련하여 옳은 설명을 <보기>에서 모두 고른 것은?

- 의회의 승인 없이 과세할 수 없고, 개인 집에서 병사를 숙박시킬 수 없으며, 자의적인 인신 구속을 할 수 없다. —권리 청원—
- 국민은 앞으로 자유 공화국인 이 나라에서 최고 권위를 지닌 의회에 국민의 대표로 파견된 사람들과, 국민의 행복을 위하여 관리 및 행정가로서 임명된 사람들에 의해서 통치되며, 국왕이나 상원은 존재하지 않는다. —공화제 선언—

- < 보 기 >
- ㄱ. 대륙 회의가 영국에 저항하였다.
 - ㄴ. 권리 청원으로 왕권이 약화되었다.
 - ㄷ. 의회파가 청교도 혁명을 일으켰다.
 - ㄹ. 무역 활동이 항해법(항해 조례)으로 위축되었다.

- ① ㄱ, ㄴ ② ㄱ, ㄷ ③ ㄴ, ㄷ
- ④ ㄴ, ㄹ ⑤ ㄷ, ㄹ

[10~11] 다음은 근대 이전의 동서 교역로를 표시한 지도이다. 물
음에 답하시오.



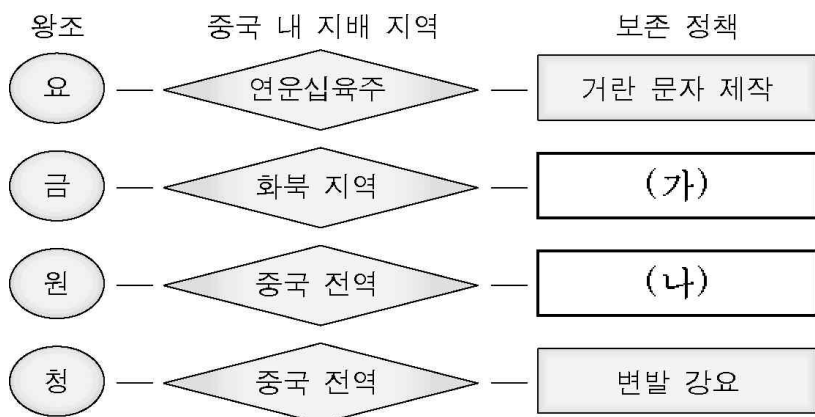
10. 세 교역로를 통한 교류의 내용을 바르게 연결한 것은? [3점]

- ① A-제지술이 유럽으로 전파되었다.
- ② B-흉노족이 유럽으로 이동하였다.
- ③ B-스키타이 인들이 청동기를 전파하였다.
- ④ C-간다라 미술이 중국에 전파되었다.
- ⑤ C-이슬람 상인들이 동서 문화 교류에 기여하였다.

11. B 교역로가 처음 개척된 시대의 중국에 대한 설명과 거리가
 먼 것은?

- ① 유교가 국교화되었다.
- ② 사마천이 『사기』를 지었다.
- ③ 소금과 철과 술을 전매하였다.
- ④ 분서갱유로 사상 통일을 꾀하였다.
- ⑤ 물가 조절을 위한 평준법을 실시하였다.

12. 도표는 중국을 지배한 정복 왕조들의 고유 문화 보존 정책을
 보여 준다. (가)와 (나)에 들어갈 내용으로 적절한 것은?



- | | |
|-------------|-----------|
| (가) | (나) |
| ① 팔기제 실시 | 파스파 문자 제작 |
| ② 라마교 수용 | 서하 문자 제작 |
| ③ 여진 문자 제작 | 양명학 수용 |
| ④ 추놈 문자 제작 | 역참 제도 실시 |
| ⑤ 맹안·모극제 실시 | 색목인 중용 |

13. 다음은 종교 개혁 과정에서 나온 글이다. 이 글과 관련이 없
 는 것은?

제6조. 교황은 신의 용서를 확증하는 이외에 어떠한 죄도
 용서할 수 없다.
 제27조. 그들은 헌금 상자에 던진 동전 소리를 듣고 죽은 자
 의 영혼이 연옥에서 튀어 나온다고 설교한다.
 제36조. 진심으로 회개하는 크리스트 교도는 면벌부(면죄부)
 없이도 벌이나 죄에서 완전히 해방될 수 있다.
 -95개조 반박문-

- ① 교황이 면벌부를 발행하였다.
- ② 그리스 정교 성립의 계기가 되었다.
- ③ 라틴어 성경이 독일어로 번역되었다.
- ④ 이 글은 인쇄술 발달로 널리 보급되었다.
- ⑤ 루터는 오직 신앙으로 구원된다고 주장하였다.

14. 다음의 활동과 관련하여 학생들이 설정한 탐구 주제와 내용
 이 잘못 연결된 것은? [3점]

- 동아리 이름 : 유럽사 탐구반
- 탐구 목표 : 19세기 영국 산업 사회의 빛과 그림자
- 탐구 방법 : 학생들이 5개 조로 주제를 분담하여 조사
 활동
- 탐구 절차 : 탐구 주제 설정 → 관련 자료 수집 → 내
 용 분석 → 보고서 작성 발표

	탐구 주제	탐구 내용
①	산업 혁명의 배경	증기 기관의 발명
②	여성의 정치 참여	대헌장의 제정
③	기술 발전의 단계	공장제 기계 공업
④	노동 문제와 근로 조건	미성년자의 저임금 노동
⑤	도시 발달과 인구 문제	런던의 인구 집중

15. 다음 자료가 제작된 시기에 대한 탐구 활동과 가장 거리가
 먼 것은?



<마테오 리치의 곤여만국전도>



<카스틸리오네의 팔기병>

- ① 예수회의 중국 선교 활동을 조사한다.
- ② 마르코 폴로가 여행한 경로를 조사한다.
- ③ 『천주실의』의 저자와 내용에 대해 살펴본다.
- ④ 중국 문화가 유럽에 소개된 과정을 알아본다.
- ⑤ 유럽의 기하학과 역법의 소개 과정을 살펴본다.

16. 다음은 두 문화 운동을 비교한 표이다. (가)와 (나)의 내용으로 적절한 것은?

카롤링거 르네상스	이탈리아 르네상스
○ 봉건 제도의 형성	○ 상공업과 도시의 발달
○ 유럽 문화의 기반 형성	○ 자연 과학과 기술의 발달
○ 수도원에서 고전 필사 장려	○ 그리스와 로마 고전 문화의 부흥
○ (가)	○ (나)

- | | |
|-----------------|-------------|
| (가) | (나) |
| ① 중상주의의 발달 | 인간과 자연의 재발견 |
| ② 국민 문학의 대두 | 자유와 개성 존중 |
| ③ 대관식 전통의 시작 | 계몽 사상의 확립 |
| ④ 활판 인쇄술의 발명 | 스콜라 철학의 대두 |
| ⑤ 궁정 학교의 라틴어 교육 | 인문주의의 발달 |

17. 다음 글과 관련된 탐구 활동으로 적절하지 않은 것은? [3점]

17세기 초 도쿠가와 이에야스는 쇼군이 되어 막부를 열었으며, 이후 통신사를 통해 조선의 문화를 받아들였다. 그러나 대외적으로는 무역을 금지하고 나가사키만 네덜란드 상인에게 개방하였다.

- ① 막번 체제의 성격에 대해 알아본다.
- ② 무사도의 성격과 역할에 대해 찾아본다.
- ③ 도시와 상업이 발달한 원인을 찾아본다.
- ④ 다이카 개신[大化改新]의 특징을 살펴본다.
- ⑤ 난학(蘭學)의 성격과 내용에 대해 알아본다.

18. 다음 자료와 관계 깊은 문명이 남긴 유산을 <보기>에서 모두 고른 것은?

○ 길가메시여, 당신은 영생을 찾을 수 없을 것입니다. 신이 인간을 만들 때 죽음도 함께 붙여 주었습니다. …(중략)… 밤낮으로 춤추며 즐기십시오. 잔치를 벌이고 기뻐하십시오.
—길가메시 서사시—

○ 제1조. 남을 살인자로 고발하면서 증거를 제시하지 못하는 자를 사형에 처한다.
제195조. 아들이 아버지를 때리면 아들의 두 손을 자른다.
—함무라비 법전—

<보 기>

㉠. 지구라트	㉡. 쉐기 문자
㉢. 사자의 서	㉣. 모헨조다로

- | | | |
|--------|--------|--------|
| ① ㉠, ㉡ | ② ㉠, ㉢ | ③ ㉡, ㉣ |
| ④ ㉢, ㉣ | ⑤ ㉢, ㉣ | |

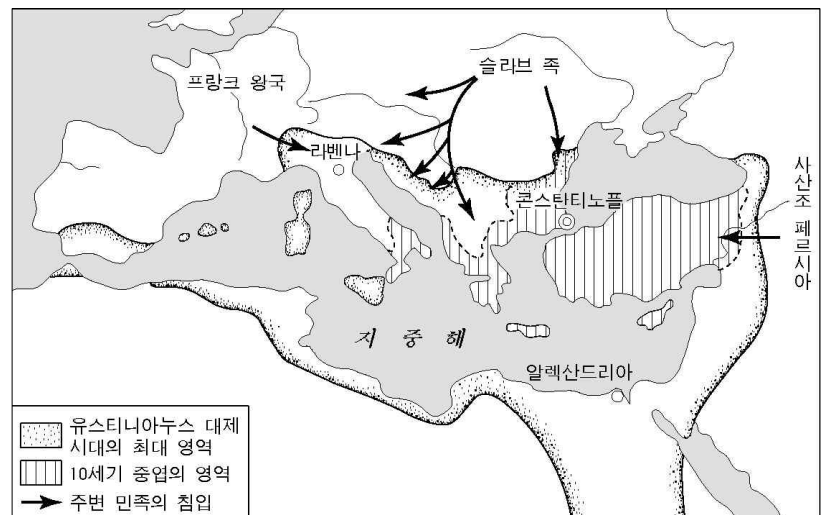
19. 다음 (가)와 (나)의 글에서 드러나는 사상과 제도를 바르게 연결한 것은? [3점]

(가) 인(仁)한가 포악한가가 화이(華夷)를 구분하는 기준이지, 태어난 땅은 화이를 구분하는 기준이 될 수 없다.
—용정제, 대의각미록—

(나) 너는 멀리 해외에 있으면서 줄곧 순종하는 마음으로 이번에도 멀리 사신을 파견하여 천자의 장수를 축복하고 선물을 바쳤다. 그 공손한 태도에 매우 만족한다.
—건륭제, 영국 국왕에게 보낸 국서—

- | | |
|---------|-------|
| (가) | (나) |
| ① 대동 사상 | 책봉 체제 |
| ② 겸애 사상 | 율령 체제 |
| ③ 중화 사상 | 조공 무역 |
| ④ 대동 사상 | 감함 무역 |
| ⑤ 중화 사상 | 봉건 제도 |

20. 지도에서 표시된 제국의 전성기와 관련된 설명으로 적절한 것을 <보기>에서 모두 고른 것은? [3점]



<보 기>

㉠. 크레믈린 궁전이 건립되었다.
㉡. 로마법을 집대성한 법전이 편찬되었다.
㉢. 교황이 지상권을 갖고 교회를 지배하였다.
㉣. 제국의 수도에 성 소피아 성당이 건립되었다.

- | | | |
|--------|--------|--------|
| ① ㉠, ㉡ | ② ㉠, ㉢ | ③ ㉡, ㉣ |
| ④ ㉢, ㉣ | ⑤ ㉢, ㉣ | |

* 확인 사항
○ 답안지의 해당란에 필요한 내용을 정확히 기입(표기)했는지 확인하십시오.

제 4 교시

사회 탐구 영역 (법과 사회)

성명

수험 번호

- 먼저 수험생이 선택한 과목의 문제지인지 확인하시오.
- 선택 과목은 반드시 응시 원서 작성시 자신이 선택한 과목의 문제를 풀어야 합니다.
- 문제지에 성명과 수험 번호를 정확히 기입하시오.
- 수험표에 표기된 선택 1, 선택 2, 선택 3, 선택 4의 과목에 대한 문제를 순서대로 풀어 해당란에 답을 표기하시오.
- 문항에 따라 배점이 다르니, 각 물음의 끝에 표시된 배점을 참고하시오. 3점 문항에만 점수가 표시되어 있습니다. 점수 표시가 없는 문항은 모두 2점입니다.

[1~2] 다음 법 규정을 읽고 물음에 답하시오.

(가) 실종선고를 받은 자는 실종기간이 만료한 때에 사망한 것으로 본다.(민법 제28조)
 (나) 부부의 누구에게 속한 것인지 분명하지 아니한 재산은 부부의 공유로 추정한다.(민법 제830조 제2항)
 (다) 채권은 10년간 행사하지 아니하면 소멸시효가 완성한다.(민법 제162조 제1항)

1. (가)와 (나)의 밑줄 친 부분은 법의 적용 과정에서 어떤 기능을 담당하는가?
- ① 관련 법규의 발견 ② 법의 해석
 ③ 사실의 확정 ④ 판결의 도출
 ⑤ 판결의 집행

2. (가)와 (다)의 제도는 공통적인 법 이념을 추구한다. 이 법 이념의 실현을 목적으로 하는 것을 <보기>에서 모두 고른 것은? [3점]

<보 기>

ㄱ. 남녀평등 ㄴ. 법 내용의 명확성
 ㄷ. 과실책임의 원칙 ㄹ. 법률불소급의 원칙

- ① ㄱ, ㄴ ② ㄱ, ㄷ ③ ㄴ, ㄷ ④ ㄴ, ㄹ ⑤ ㄷ, ㄹ

3. 다음과 같은 법 규정을 통하여 공통적으로 실현하고자 하는 법의 기본원리로서 가장 적합한 것은? [3점]

- 국민의 모든 자유와 권리는 국가안전보장·질서유지 또는 공공복리를 위하여 필요한 경우에 한하여 법률로써 제한할 수 있으며, 제한하는 경우에도 자유와 권리의 본질적인 내용을 침해할 수 없다.(헌법 제37조 제2항)
- 헌법재판소는 법원의 제청에 의해 법률의 위헌 여부를 심판한다.(헌법 제111조 제1항 제1호)

- ① 신법우선의 원칙 ② 권력분립의 원리
 ③ 계약공정의 원칙 ④ 실질적 법치주의
 ⑤ 특별법우선의 원칙

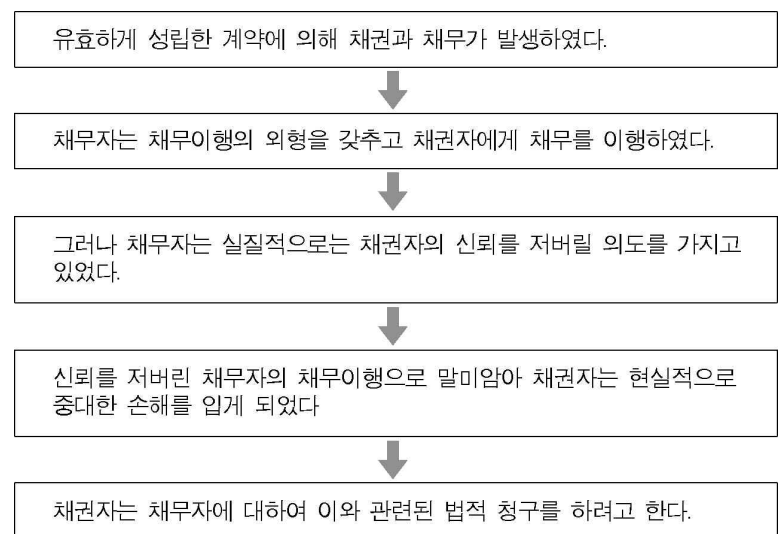
4. 다음 글에서 추론할 수 있는 내용이 아닌 것은? [3점]

복잡하고 다양한 생활관계를 법이라는 체로 거르면 법률관계가 남게 되고, 이 법률관계를 다시 저울에 달면 한쪽에는 권리, 다른 한쪽에는 의무가 놓인다는 비유가 있다. 이 비유에서 알 수 있듯이 법률관계란 권리·의무 관계가 핵심인 것이다.

근대 사회에서는 국가권력의 간섭과 억압으로부터 자유를 확보하는 것이 최우선의 과제로 인식되었다. 이런 시대 사조를 반영하여 근대법은 권리 중심의 법체계를 구축하게 되었다. 그러나 20세기에 들어서면서 복지국가의 정치 이념이 대두되고, 사회 사조가 개인 중심적 사고에서 사회 중심적 사고로 바뀔에 따라, 때로 권리보다 의무 쪽이 강조되기도 한다.

- ① 우리의 삶 속에서 모든 영역은 법의 규율을 받는다.
 ② 매매계약이나 임대차계약이 법률관계의 예에 해당한다.
 ③ 시대에 따라 권리와 의무 중 어느 것을 중시하느냐에 변화가 있었다.
 ④ 근대법에서는 자유주의적인 관점에서 의무보다 권리를 강조하게 되었다.
 ⑤ 공공복리의 중요성이 부각되면서 현대법은 근대법보다 의무를 강조하는 경향이 있다.

5. 다음 사례를 법적으로 해결하기 위해 적용해야 할 법리로서 가장 타당한 것은? [3점]



- ① 신의성실의 원칙 ② 계약자유 원칙
 ③ 일사부재리의 원칙 ④ 무과실책임의 원칙
 ⑤ 권리남용금지의 원칙

6. 다음 법 규정에 관련된 <보기>의 법 해석 가운데 올바른 것을 모두 고른 것은?

- 사람은 생존한 동안 권리와 의무의 주체가 된다. (민법 제3조)
- 법인은 법률의 규정에 좇아 정관으로 정한 범위 내에서 권리와 의무의 주체가 된다.(민법 제34조)
- 태아는 상속순위에 관하여는 이미 출생한 것으로 본다. (민법 제1000조 제3항)

- <보 기>
- ㄱ. 태아의 권리능력은 예외적으로만 인정된다.
 - ㄴ. 법인은 자연인과 동일한 범위에서 권리능력을 갖는다.
 - ㄷ. 모든 사람(자연인)은 평등하게 권리와 의무의 주체가 된다.
 - ㄹ. 죽은 사람도 일정한 범위 내에서 권리와 의무의 주체가 될 수 있다.

- ① ㄱ, ㄴ ② ㄱ, ㄷ ③ ㄴ, ㄷ ④ ㄴ, ㄹ ⑤ ㄷ, ㄹ

[7~8] 다음 글을 읽고 물음에 답하시오.

완전히 유효한 계약을 체결하려면 계약의 모든 당사자들에게 법률이 정한 일정한 능력이 있어야 한다. 우선 당사자는, 그 계약을 통하여 취득하거나 부담하게 될 ㉠ 권리와 의무의 주체가 될 수 있는 법률상의 지위(능력)를 가지고 있어야 하며, ㉡ 행위능력을 가진 자이어야 한다. 그리고 계약을 체결할 당시에 정상인으로서의 판단능력 즉, 의사능력을 가지고 있어야 한다.

7. 계약체결에 있어서 어떤 경우에도 ㉠을 인정받을 수 없는 자는 누구인가?

- ① 지방자치단체
- ② 출생 직전의 태아
- ③ 장학 사업을 목적으로 설립된 재단법인
- ④ 대한민국과 적대 관계에 있는 국가의 국민
- ⑤ 사형 판결을 받고 형집행을 기다리고 있는 죄수

8. ㉡에 관한 올바른 법적 판단을 <보기>에서 모두 고른 것은? [3점]

- <보 기>
- ㄱ. 입원 중인 정신병자는 법원의 선고가 없어도 당연히 금치산자로서 보호받는다.
 - ㄴ. 금치산자가 체결한 계약은 가족법상의 계약(혼인, 입양 등)의 경우를 제외하면 특별한 제한없이 취소할 수 있다.
 - ㄷ. 대학에 입학하면 만 20세 미만이라도 성인으로 취급하는 것이 우리 사회의 관습이므로, 19세의 대학생은 행위능력이 있다고 할 수 있다.
 - ㄹ. 무능력자제도는 제1차적으로 행위능력이 없는 자(무능력자)를 보호하기 위한 것이지만, 거래의 상대방을 보호하기 위한 보완책도 마련되어 있다.

- ① ㄱ, ㄴ ② ㄱ, ㄷ ③ ㄴ, ㄷ ④ ㄴ, ㄹ ⑤ ㄷ, ㄹ

9. 주택임차인이 관련 법률에 의하여 보호받기 위하여 취하여야 할 조치 또는 법적으로 도움이 되는 의미 있는 행위라고 보기에 어려운 것을 <보기>에서 모두 고른 것은? [3점]

- <보 기>
- ㄱ. 임대차계약을 체결하기 전에 그 주택의 등기부등본을 발급받아, 저당권 등 선순위권리가 설정되어 있는지를 살펴본다.
 - ㄴ. 임대차계약이 체결되면 그 계약서에 확정일자를 받아둔다.
 - ㄷ. 임대차계약 체결 후 그 주택으로 이사하면 그 곳으로 주민등록을 이전한다.
 - ㄹ. 임대차계약서 작성과 동시에, 임대차계약이 종료되면 보증금을 반드시 반환하겠다는 임대인의 각서를 받아둔다.

- ① ㄱ ② ㄹ ③ ㄱ, ㄴ ④ ㄴ, ㄷ ⑤ ㄷ, ㄹ

10. 다음은 미성년자의 법률행위 및 불법행위에 관한 사례이다.

19세 6개월의 대학생인 A는 용돈이 부족하여 아버지 C가 사준 자기 소유의 통학용 승용차를 성인 B에게 시가에 팔았다. 그러나 양심에 가책을 느낀 A는 차를 판 날로부터 1개월 후에 B를 찾아가 물려줄 것을 간청하였으나, 아무리 사정 이야기를 해도 B는 허락해 주지 않았다. 이에 순간적으로 격분한 A는 B를 때려서 전치 5주의 상해를 입혔다. 참고로, A는 폭력 전과가 전혀 없는 모범생이다.

위 사례에 대한 <보기>의 법적 판단 가운데 올바른 것을 모두 고른 것은? [3점]

- <보 기>
- ㄱ. A는 계약을 해제할 수 있고, 불법행위 책임도 지지 않는다.
 - ㄴ. A는 B의 동의가 없더라도 그 매매계약을 취소할 수 있다.
 - ㄷ. C는 설사 A가 반대하더라도 그 매매계약을 취소할 수 있다.
 - ㄹ. C는 A의 보호자이므로, A의 폭력행위에 대하여는 언제나 손해배상을 해주어야 할 법적 책임을 진다.

- ① ㄱ, ㄴ ② ㄱ, ㄷ ③ ㄴ, ㄷ ④ ㄴ, ㄹ ⑤ ㄷ, ㄹ

11. <보기>는 ‘법의 분류’를 주제로 한 수업을 듣고 학생들이 나눈 대화이다. 바르게 말한 학생을 모두 고른 것은?

- <보 기>
- 갑 : 국제법과 국내법은 전혀 별개의 법 체계이기 때문에 대한민국이 외국과 체결한 조약은 국내에서는 효력이 없어.
 - 을 : 자본주의의 전개 과정에서 발생한 사회·경제적 문제를 해결하기 위해 사법적 영역에 공법적 규제를 도입한 것이 사회법이야.
 - 병 : 절차법은 권리와 의무의 내용을 규정하는 법이고, 실체법은 권리와 의무를 실현하는 방법을 규정하는 법이야.
 - 정 : 일반법과 특별법은 적용 대상의 범위에 따른 상대적인 법의 분류로서, 어떤 법에 대한 일반법이 다른 법에 대해서는 특별법이 될 수 있어.

- ① 갑, 을 ② 갑, 병 ③ 을, 병 ④ 을, 정 ⑤ 병, 정

12. 다음은 불법행위에 관한 사례이다.

23세의 대학생인 A는 B가 경영하는 식품점의 배달 아르바이트를 하고 있다. A는 식품점의 배달용 자전거를 타고 배달을 가던 도중에, 자신의 친구 C가 보낸 문자 메시지를 받았다. 마침 배달할 곳이 C의 현재 위치와 같은 방향이어서 지나는 길에 잠시 C를 만나기 위하여 급히 배달용 자전거를 몰다가 도로를 무단 횡단하던 D를 미처 발견하지 못하고 그와 충돌하였다. 그 결과 D는 전치 3주의 상해를 입었다.

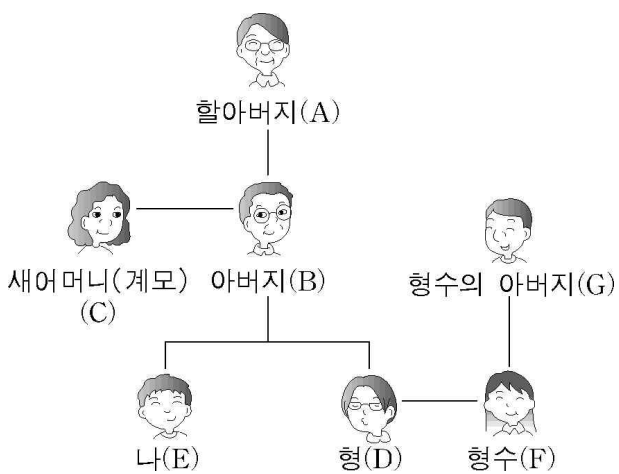
위 사례에 대한 <보기>의 법적 판단 가운데 올바른 것을 모두 고른 것은? [3점]

<보 기>

ㄱ. A의 행위는 불법행위에 해당하므로, A는 손해배상 책임을 진다.
 ㄴ. B를 위하여 배달하는 도중에 사고가 났으므로, B는 손해배상 책임을 진다.
 ㄷ. C가 보낸 문자 메시지 때문에 C를 만나러 급히 가다가 사고가 났으므로, C는 손해배상 책임을 진다.
 ㄹ. D에게도 잘못은 있지만, 그는 피해자이므로 그 잘못은 손해배상액 산정에 고려되지 않는다.

- ① ㄱ, ㄴ ② ㄱ, ㄹ ③ ㄴ, ㄷ ④ ㄴ, ㄹ ⑤ ㄷ, ㄹ

13. 그림에 나타난 친족관계에 관한 <보기>의 법적 판단 가운데 올바른 것을 모두 고른 것은? [3점]



<보 기>

ㄱ. E와 G는 인척 사이이므로, 서로 친족관계에 있다.
 ㄴ. A와 E는 직계혈족 사이이므로, 서로 부양의무를 진다.
 ㄷ. C가 사망하면, B는 C의 상속인이 되지만 D·E는 C의 상속인이 될 수 없다.
 ㄹ. B와 F는 직계혈족 사이로 간주되므로, F는 C·D·E와 함께 B의 제1순위 상속인이 된다.

- ① ㄱ, ㄴ ② ㄱ, ㄷ ③ ㄱ, ㄹ ④ ㄴ, ㄷ ⑤ ㄷ, ㄹ

[14~15] 다음 글을 읽고 물음에 답하십시오.

(가) 교육기본법 제12조(학습자) ① 학생을 포함한 학습자의 기본적 인권은 학교교육 또는 사회교육의 과정에서 존중되고 보호된다. ② 교육내용·교육방법·교재 및 교육시설은 학습자의 인격을 존중하고 개성을 중시하여 학습자의 능력이 최대한으로 발휘될 수 있도록 강구되어야 한다. ③ 학생은 학교의 규칙을 준수하여야 하며, 교원의 교육·연구활동을 방해하거나 학내의 질서를 문란하게 하여서는 아니된다.

(나) 학생은 교육을 받는 피교육자이지만 인권의 주체이기도 하다. 우리나라에서는 학생을 피교육자로만 보는 시각이 일반적이지만, 학생도 국민으로서 헌법상 인권의 주체임에 틀림없다. 우리나라가 1991년에 가입한 ‘유엔 어린이·청소년 권리조약’(Convention on the Rights of the Child)에서는 어린이와 청소년이 인권의 주체임을 명문으로 규정하고 있다.

14. 학생들이 나눈 다음의 대화 중, (가) 법률의 의의를 잘못 이해하고 있는 것은?

- ① 현수 : 이 법은 사법에 해당되지는 않아.
- ② 인욱 : 사립학교법도 이 법의 원칙에 충실해야 돼.
- ③ 정혜 : 초중등교육법이 이 법의 상위법이야.
- ④ 영희 : 헌법상의 교육 관련 조항의 하위법으로 존재하는 거야.
- ⑤ 영철 : 교육에 관한 권리·의무와 이에 대한 국가 등의 책무를 정하고 있지.

15. (가)의 법 규정과 (나)의 글에 비추어 내릴 수 있는 결론들을 <보기>에서 모두 고른 것은?

<보 기>

ㄱ. 학교는 학생들이 잠재력을 최대한 발휘할 수 있도록 배려하여야 한다.
 ㄴ. 학생은 피교육자이므로 필요시 기본적 인권의 본질적 부분도 제한할 수 있다.
 ㄷ. 국가는 학생들의 인권이 존중되도록 바람직한 교육 여건을 마련할 의무가 있다.
 ㄹ. 학교 교칙이 ‘유엔 어린이·청소년 권리조약’과 다를 경우, 교칙을 우선적으로 적용하여야 한다.

- ① ㄱ, ㄴ ② ㄱ, ㄷ ③ ㄴ, ㄷ ④ ㄴ, ㄹ ⑤ ㄷ, ㄹ

제 4 교시

사회 탐구 영역 (정치)

성명

수험 번호

- 먼저 수험생이 선택한 과목의 문제지인지 확인하십시오.
- 선택 과목은 반드시 응시 원서 작성시 자신이 선택한 과목의 문제를 풀어야 합니다.
- 문제지에 성명과 수험 번호를 정확히 기입하십시오.
- 수험표에 표기된 선택 1, 선택 2, 선택 3, 선택 4의 과목에 대한 문제를 순서대로 풀어 해당란에 답을 표기하십시오.
- 문항에 따라 배점이 다르니, 각 물음의 끝에 표시된 배점을 참고하십시오. 3점 문항에만 점수가 표시되어 있습니다. 점수 표시가 없는 문항은 모두 2점입니다.

1. 다음 글에 부합하는 내용을 <보기>에서 모두 고른 것은?

민주주의란 정치 이념이나 체제와 관련해서 다양한 의미로 사용된다. 심지어 북한이나 쿠바의 1인 혹은 일당 독재 체제나 히틀러의 제3제국에서도 민주주의라는 용어를 사용하였다. 그러나 강요된 지지와 동원에 기반한 체제는 민주주의 이념을 실현한다고 볼 수 없다. 진정한 민주주의를 실현하기 위해서는 누구나 자유롭고 동등하게 의사 소통할 수 있는 조건이 요구된다.

<보 기>

- ㄱ. 진정한 의미에서 민주주의 국가는 존립할 수 없다.
- ㄴ. 국민이 정치적 결정에 자발적으로 참여하는 것이 중요하다.
- ㄷ. 정치적 의사 표현이나 언론의 자유는 최대한 보장해야 한다.
- ㄹ. 민주적인 의사 결정에서 필수적인 조건은 다수결 원칙의 보장이다.

- ① ㄱ, ㄴ ② ㄱ, ㄷ ③ ㄴ, ㄷ ④ ㄴ, ㄹ ⑤ ㄷ, ㄹ

2. 다음에 제시된 사실들을 종합하여 내릴 수 있는 결론으로 적절한 것은? [3점]

- 정당법에 의해 정당이 비례 대표 후보자의 50%를 여성에게 할당하였다.
- 국회 의원 선거 결과 노동자와 농민을 대변하는 정당이 원내 3당으로 부상하였다.
- 양성 평등의 목표 아래 여성 관련 사안을 집중적으로 다루는 여성부가 신설되었다.
- 노동자, 사용자, 정부가 동등한 입장에서 근로 조건과 고용 안정을 협의하는 위원회가 출범하였다.

- ① 사회적 소수에 대한 보호 정책을 왜곡할 수 있다.
 ② 직접 민주주의에 의해 국민 자치를 실현할 수 있다.
 ③ 선거를 통해 유권자의 정치 참여를 증진시킬 수 있다.
 ④ 정책 결정 과정에 다양한 이해 관계를 반영할 수 있다.
 ⑤ 정당에 대한 불신과 정치적 무관심을 감소시킬 수 있다.

3. 다음 글에 나타난 인디언 사회에 관하여 바르게 추론한 내용을 <보기>에서 모두 고른 것은? [3점]

북아메리카 인디언들은 19세기까지 부족 사회의 형태로 살고 있었다. 멕시코는 이러한 인디언 사회를 소멸시키려 하였고 아파치 부족들은 멕시코에 강력하게 저항하였다. 아파치 부족들은 제로니모라는 전쟁 영웅의 군사적 지휘에 힘입어 전쟁에서 승리하였다. 그러나 제로니모는 더욱 강도 높은 보복을 주장하면서 자신에게 모든 아파치 부족에 대한 절대적인 지휘권을 달라고 요구하였다. 멕시코의 대통령에게는 그러한 권한이 있었다. 하지만 아파치의 여러 부족들은 제로니모의 제안을 거절하고 예전의 부족 사회로 되돌아갔다.

<보 기>

- ㄱ. 아파치 부족들은 주권을 확립하고자 하였다.
- ㄴ. 아파치 부족 사회는 자치 국가의 형태를 갖추고 있었다.
- ㄷ. 아파치 부족들은 지도자의 절대적 권한 행사를 거부하였다.
- ㄹ. 제로니모는 군사적 지휘권을 독점적으로 사용하려 하였다.

- ① ㄱ, ㄴ ② ㄱ, ㄷ ③ ㄴ, ㄷ ④ ㄴ, ㄹ ⑤ ㄷ, ㄹ

4. (가)와 (나)를 통하여 추론할 수 있는 내용을 <보기>에서 모두 고른 것은?

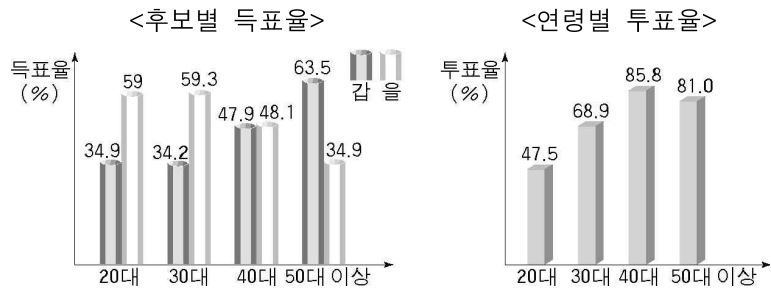
- (가) 헌법 규정
 - 대한민국은 국제 평화의 유지에 노력하고 침략적 전쟁을 부인한다(헌법 제5조 제1항).
 - 국군은 국가의 안전 보장과 국토 방위의 신성한 의무를 수행함을 사명으로 하며, 그 정치적 중립성은 준수된다(헌법 제5조 제2항).
- (나) 이라크 전쟁에 전투병을 추가 파병하는 문제를 놓고 많은 논란이 있었으나, 국회에서 파병 동의안은 통과되었고 정부는 파병의 구체적인 절차를 진행하고 있다. 그럼에도 불구하고 아직 파병 반대 여론이 많이 제기되고 있고 일부 정당 및 시민 사회 단체는 공개적으로 반대를 천명하고 있다.

<보 기>

- ㄱ. 침략 전쟁은 부인하되, 방위 전쟁 내지 자위 전쟁은 허용된다.
- ㄴ. 파병과 관련하여 가치 혼란을 겪는 국민들이 있을 것이다.
- ㄷ. 이라크 전쟁의 성격이 파병에 관한 헌법적 판단 기준이 된다.
- ㄹ. 국회의 동의를 거친 사안에 반대 의견을 표명하는 것은 정당하지 않다.

- ① ㄱ, ㄴ ② ㄴ, ㄷ ③ ㄱ, ㄴ, ㄷ
 ④ ㄱ, ㄷ, ㄹ ⑤ ㄴ, ㄷ, ㄹ

5. 다음은 어느 나라의 대통령 선거 결과 나타난 주요 후보별 득표율과 연령별 투표율이다. 두 자료를 통하여 추론할 수 있는 내용 중 가장 적절한 것은?



- ① 성별에 따라 투표 성향이 다르게 나타난다.
- ② 후보를 선택하는 기준이 지역에 따라 다르다.
- ③ 연령대가 낮아질수록 정치에 대한 관심이 높다.
- ④ 세대간에 정치적 의견 대립이나 갈등이 나타난다.
- ⑤ 고 연령층의 투표율이 높을수록 을 후보에게 유리하다.

6. 다음 글에 나타난 A국의 정치적 문제점을 극복하기 위한 방안으로 적절한 것을 <보기>에서 모두 고른 것은? [3점]

A국에서 정당은 소수의 정당 지도자에 의하여 권위적으로 운영되었고, 지역에 기반을 둔 유력 인물을 따라 이합집산을 거듭하면서 심각한 지역주의 성향을 보여 왔다. 심지어 어떤 지역에서는 특정 정당만이 의석을 독점하기도 하였다. 또한, 당비와 같은 정당 자체에 의한 수입원이 적고 정치 자금이 음성적으로 모금되어 그로 인한 부정부패가 심하였다. 이러한 이유로 정당은 국민의 불신을 받아 왔다.

- <보 기> —
- ㄱ. 정치 자금의 모금과 운영을 정당의 자율에 맡긴다.
 - ㄴ. 당의 규정을 엄격하게 하여 당내 위계 질서를 강화한다.
 - ㄷ. 일반 당원의 의사가 정당의 정책 결정에 반영되도록 한다.
 - ㄹ. 주요 당직 인선과 공직 선거 입후보자의 공천에 경선제를 도입한다.

- ① ㄱ, ㄴ ② ㄷ, ㄹ ③ ㄱ, ㄴ, ㄷ
- ④ ㄱ, ㄷ, ㄹ ⑤ ㄴ, ㄷ, ㄹ

7. 표는 영국의 선거법 개정 과정을 나타낸 것이다. 이를 통하여 추론할 수 있는 내용으로 적절하지 않은 것은?

구분	확장된 유권자	전체 유권자 비율
제1차(1832)	산업 자본가와 중산층	5%
제2차(1867)	도시 노동자와 소시민	9%
제3차(1884)	소작인, 농업 노동자, 광산 노동자	19%
제4차(1918)	남자 21세 이상, 여자 30세 이상	46%
제5차(1928)	21세 이상의 모든 남녀	62%

- ① 보통 선거제는 제4차 개정에서 확립되었다.
- ② 정치 참여에 대한 다양한 계층의 요구가 있었다.
- ③ 초기에는 재산 정도에 따라 선거권의 제한이 있었다.
- ④ 선거법 개정 과정을 볼 때 성별에 의한 차별이 있었다.
- ⑤ 국민의 참정권이 오랜 기간을 통하여 점차 확대되어 왔다.

8. 다음 글에서 밑줄 친 '이것'을 통하여 추구하고자 하는 것은? [3점]

최근에 국민의 뜻을 외면하고 권력을 남용하거나 국민의 대표로서의 역할 수행을 외면하는 정치인을 심판해야 한다는 여론이 제기되고 있다. 이것은 선출직 공무원을 임기 중에 파면시킬 수 있는 제도이다. 이러한 제도가 시행될 경우, 정기적으로 시행되는 선거를 통하지 않고서도 정치인을 임기 중에 바꿀 수 있다.

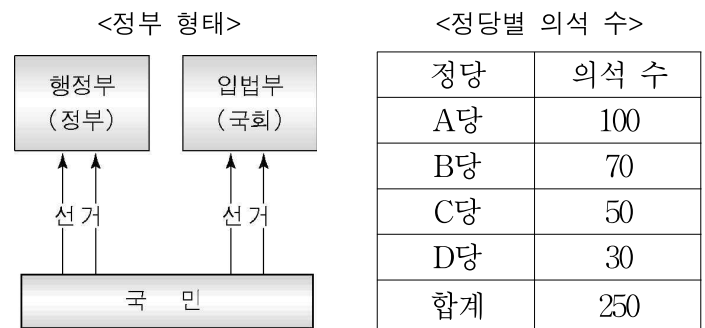
- ① 대의제를 통해 민주주의의 이념을 실현한다.
- ② 철저한 권력 분립으로 권력의 집중화를 막는다.
- ③ 직접 민주제의 요소를 가미하여 책임 정치를 구현한다.
- ④ 정부 관료의 부정부패를 막고 정치의 효율성을 높인다.
- ⑤ 현명한 엘리트에 의해 하향식 의사 결정이 이루어지도록 한다.

9. 다음 글을 통하여 추론할 수 있는 내용 중 가장 적절한 것은?

권력을 획득하고 그것을 유지하는 방식에 국민이 합의할 수 없으면 정치뿐만 아니라 경제, 사회, 문화 등 모든 영역에서 불안과 불신이 나타나기 쉽다. 또한 선출이나 임명에 의해서 권력을 획득한 방식이 정당했다고 하더라도 그 권력을 행사하는 방법이 권력 남용 등으로 민주주의 이념과 가치에 위배될 때 그러한 권력은 국민으로부터 도전을 받게 된다.

- ① 개인의 자연권은 권력자에게 위임되어 행사된다.
- ② 국민이 직접 참여하여 정치적 결정을 할 수 있다.
- ③ 개인적으로 불합리하다고 판단되는 법은 어겨도 된다.
- ④ 권력의 정당성은 국민의 지지와 동의를 통하여 확보된다.
- ⑤ 권력의 형식적 합법성이 충족될 때 권력의 정당성이 인정된다.

10. 다음은 어느 나라의 정부 형태와 정당별 의석 수를 나타낸 것이다. 행정부의 수반이 B당에 소속된 경우, 두 자료를 통하여 추론할 수 있는 내용을 <보기>에서 모두 고른 것은? [3점]



- <보 기> —
- ㄱ. 정부와 국회 간의 갈등이 생길 수 있다.
 - ㄴ. 행정부의 수반은 의회를 해산할 권한을 가진다.
 - ㄷ. 법 제정이 일관되고 안정적인 방향으로 추진되기 쉽다.
 - ㄹ. 행정부의 수반은 의회에 대한 정치적 책임을 직접 지지 않는다.
 - ㅁ. 행정부와 입법부의 권력 관계가 분립보다는 융합의 형태를 띤다.

- ① ㄱ, ㄴ ② ㄱ, ㄹ ③ ㄴ, ㄷ ④ ㄷ, ㅁ ⑤ ㄹ, ㅁ

11. 다음 글을 통하여 내릴 수 있는 결론으로 가장 적절한 것은?

다수의 대중이 민주적 자질을 갖출 때 민주주의는 지속될 수 있다. 그렇지 않다면 전체주의에서 비롯되는 광신과 폭력이 대중을 자극한다. 원자화된 대중은 집단적이고 맹목적인 이데올로기에 좌우되어 개인의 자유는 상실될 수밖에 없다.

제2차 세계 대전 당시 수백만의 유대인 학살을 주도한 아이히만은 선량한 남편이자 아버지였고 평범한 이웃이었다. 그는 자신이 속해 있는 나치 조직의 명령에 순응하고 자신의 직무를 충실하게 이행하였다. 하지만 이러한 행위는 엄청난 사회적 비극을 초래하였다.

- ① 이데올로기는 인간 해방의 도구로 사용된다.
- ② 대중의 의식은 인권 보장과 관계가 별로 없다.
- ③ 자유 신장을 위해서는 급진적인 개혁이 필요하다.
- ④ 현대 사회에서는 시민의 비판적 정치 의식이 요구된다.
- ⑤ 정치 참여의 확대를 위해서 관료주의를 극복하여야 한다

[12~13] 다음 글을 읽고 물음에 답하시오.

(가) 비례 대표제는 득표를 의석으로 전환하는 과정에서 선거인의 의사가 제대로 반영되지 않는 부정적인 측면을 시정하기 위해 고안된 제도이다. 이 제도의 목적은 각 정당이 선거인의 지지에 비례하는 의석을 차지할 수 있도록 하여 선거의 공평성을 향상시키는 것이다.

(나) 위의 비례 대표제에는 여러 가지 형태가 있는데, 헤림이와 철수가 살고 있는 나라는 1인 1표제에 의한 비례 대표제를 실시하고 있다. 헤림이는 고민 없이 투표할 수 있었다. 왜냐하면 헤림이는 갑 후보와 A당을 둘 다 지지하기 때문에 1표의 행사로 갑 후보와 A당에 모두 도움을 줄 수 있기 때문이다. 하지만 철수는 선거를 앞두고 심각한 고민에 빠졌다. 철수가 지지하는 갑 후보는 철수가 가장 꺼려하는 A당 소속이었다. 투표소에 가서 행사할 수 있는 표는 1표뿐이기 때문에 갑 후보를 선택하면 A당에 대한 지지로 간주된다. ㉠ 이러한 선택은 철수가 지지하지 않는 A당의 비례 대표 의석을 늘리는 데 기여할 수 있다. 결과적으로 ㉡ 철수는 헤림이에 비해 절반의 선택권을 박탈당할 가능성이 있다.

12. (가) 글의 비례 대표제를 통하여 해결할 수 있는 과제를 <보기>에서 모두 고른 것은? [3점]

<보 기>

ㄱ. 군소 정당과 소수 그룹의 대표성 보장
 ㄴ. 정당 운영과 정치 자금의 투명성 확보
 ㄷ. 게리맨더링 방지와 선거구 법정주의 실현
 ㄹ. 사표 발생이 많은 소선거구제의 단점 보완

- ① ㄱ, ㄴ ② ㄱ, ㄷ ③ ㄱ, ㄹ
- ④ ㄴ, ㄷ ⑤ ㄴ, ㄹ

13. (나)의 밑줄 친 ㉠과 ㉡은 각각 어떤 선거 원칙에 위배되는가? [3점]

- | | | | |
|---------|-------|---------|-------|
| ㉠ | ㉡ | ㉠ | ㉡ |
| ① 직접 선거 | 자유 선거 | ② 보통 선거 | 평등 선거 |
| ③ 직접 선거 | 평등 선거 | ④ 보통 선거 | 비밀 선거 |
| ⑤ 평등 선거 | 보통 선거 | | |

[14~15] 다음의 (가)와 (나)를 참고하여 물음에 답하시오.

(가) ◇◇시의 도시 개발 계획

◇◇시가 도심 개발 제한을 풀어 초고층 빌딩이 들어설 수 있도록 하는 도시 개발 계획을 추진하고 있다. 이 도시가 추진하는 ‘도심부 발전 계획안’은 도심 건축물 높이에 관한 규제를 전면적으로 완화하는 것이다.

평소 환경 보전을 위해 정부와 기업의 활동을 감시, 비판해왔던 ○○단체는 이러한 규제 완화 조치의 철회를 요구하고 있다. 이 단체는 정부와 기업이 공모하여 무분별한 도시 개발을 계속 추진할 경우 서명 운동과 반대 집회를 통하여 이를 저지할 계획이다.

(나) 정책 결정 과정

```

graph LR
  A[A 투입] --> B[B 산출]
  B -- 환류(Feedback) --> A
  
```

14. 정책 결정 과정에서 (가)의 밑줄 친 ○○단체의 역할에 대한 설명으로 적절한 것을 <보기>에서 모두 고른 것은?

<보 기>

ㄱ. 정책 결정에 대한 정치적 책임을 진다.
 ㄴ. 언론 감시, 의정 감시, 인권 운동 등의 활동을 한다.
 ㄷ. 구성원들의 특수 이익과 목표를 추구하기 위해 활동한다.
 ㄹ. 범세계적인 문제를 해결하기 위해 국외의 단체와 연대를 하기도 한다.

- ① ㄱ, ㄴ ② ㄱ, ㄷ ③ ㄴ, ㄷ ④ ㄴ, ㄹ ⑤ ㄷ, ㄹ

15. (나) 그림에서 A 방향의 정치 참여 형태에 해당하는 것을 <보기>에서 모두 고른 것은? [3점]

<보 기>

ㄱ. 시민 ‘갑’은 도시 개발 계획의 입안을 위한 공청회에 참가하였다.
 ㄴ. 이익 집단 ‘을’은 도시 개발 정책의 채택을 위한 로비 활동을 벌였다.
 ㄷ. 관련 행정 부서 ‘병’은 정책 수행에 필요한 예산 지원을 결정하였다.
 ㄹ. 정당 ‘정’은 여론을 반영하여 새로운 도시 개발 정책을 제시하였다.

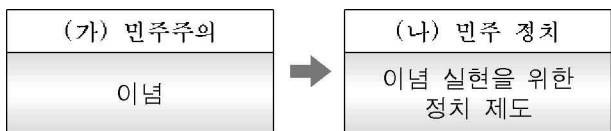
- ① ㄱ, ㄴ ② ㄷ, ㄹ ③ ㄱ, ㄴ, ㄷ
- ④ ㄱ, ㄴ, ㄹ ⑤ ㄴ, ㄷ, ㄹ

16. 다음의 헌법 규정들에서 도출되는 원리가 추구하는 궁극적인 목적으로 가장 적절한 것은?

- 입법권은 국회에 속한다.(헌법 제40조)
- 행정권은 대통령을 수반으로 하는 정부에 속한다.(헌법 제66조 제4항)
- 사법권은 법관으로 구성된 법원에 속한다.(헌법 제101조 제1항)

- ① 국민이 정부를 직접 통제한다.
- ② 국민의 자유와 권리를 보장한다.
- ③ 계층간의 대립과 갈등을 극복한다.
- ④ 국가 비상 사태를 신속히 해결한다.
- ⑤ 정치의 효율성과 행정의 능률성을 극대화한다.

17. 민주주의와 민주 정치의 관계를 다음과 같이 가정할 때, (나)에 가장 가까운 주장을 한 사람은?



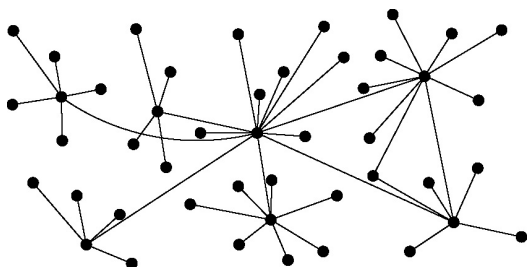
- ① 갑 : 현명한 소수에게 절대적 권력을 주어야 해.
- ② 을 : 자유와 평등이 조화되는 사상을 추구해야 해.
- ③ 병 : 민주적 절차에 따라 국가의 정책이 결정되어야 해.
- ④ 정 : 인간을 수단이 아니라 목적 자체로서 바라보아야 해.
- ⑤ 무 : 국가 내에서 민주적인 생활 양식과 태도가 확산되어야 해.

18. 다음 (가), (나)의 자료에 나타난 정치 참여의 특징으로 가장 적절한 것은?

(가) ○○인터넷 신문 게시판

번호	내용	글쓴이	조회수
123	-정부는 수도 이전 계획을 철회하라	가오리	250
	↳Re : 맞아요. 당장 중지해야 해요	nk114	25
	↳Re : 너 서울에 땅 많은가 보다.	난장이	80
	↳Re : 반말 하지마라. 나이도 어린 게...	nk114	97
	↳Re : 결국은 비용 문제 아닐까요?	고민녀	23
124	○○정당은 선거에서 심판 받아야 한다.	여우사냥	211

(나) 인터넷 의사 소통 구조



- ① 대의제 민주 정치의 형식과 절차를 따른다.
- ② TV나 라디오의 의사 소통 방식과 유사하다.
- ③ 정보에 대한 정부의 획일화된 통제가 가능하다.
- ④ 관용과 상호 존중의 정치 토론 문화가 형성된다.
- ⑤ 대량의 정치적 의사 표출이 수월하게 이루어진다.

19. 다음의 헌법 규정들과 관련된 설명으로 옳은 것을 <보기>에서 모두 고른 것은? [3점]

- ... 모든 영역에 있어서 각인의 기회를 균등히 하고 ... 안으로는 국민 생활의 균등한 향상을 기하고 ... (헌법 전문)
- 모든 국민은 인간다운 생활을 할 권리를 가진다.(헌법 제34조 제1항)
- 국가는 균형 있는 국민 경제의 성장 및 안정과 적정한 소득의 분배를 유지하고, 시장의 지배와 경제력의 남용을 방지하며, 경제 주체간의 조화를 통한 경제의 민주화를 위하여 경제에 관한 규제와 조정을 할 수 있다.(헌법 제119조 제2항)

<보 기>

- ㄱ. 실질적인 사회 정의의 실현을 이상으로 추구하고 있다.
- ㄴ. 생활 무능력자의 보호, 최저 임금제의 실시 등을 통하여 실현될 수 있다.
- ㄷ. 결과의 평등보다 기회의 평등을, 경제적 평등보다 정치적 평등을 강조한다.
- ㄹ. 노사간의 갈등과 대립 및 부익부 빈익빈 현상의 심화 등이 등장 배경이 되었다.
- ㅁ. 자본주의적 생산 양식이나 시장 기구의 자동 조절 작용을 부정하고 있다.

- ① ㄱ, ㄴ
- ② ㄷ, ㄹ
- ③ ㄱ, ㄴ, ㄹ
- ④ ㄱ, ㄷ, ㅁ
- ⑤ ㄴ, ㄹ, ㅁ

20. 다음 (가), (나)를 통하여 추론할 수 있는 결론으로 가장 적절한 것은? [3점]

- (가) 어느 누구도 무제한의 자유를 누릴 수는 없다. 왜냐하면 진정한 의미에서의 자유는 다른 사람의 자유를 존중하는 책임성을 전제하기 때문이다.
- (나) 모든 국민은 법 앞에 평등하다. 누구든지 성별, 종교 또는 사회적 신분에 의하여 차별을 받지 않는다. 하지만 이러한 법 앞에서의 평등이 단지 기회의 균등만을 의미한다면 이는 또 다른 불평등을 초래할 수 있다.

- ① 선천적 차이에 따른 차별은 정당화된다.
- ② 기회의 균등은 실질적 자유와 평등을 달성하는 방법이다.
- ③ 평등은 상호 의존적 관계를 고려한 합리적 차별을 포함한다.
- ④ 자유와 평등의 조화는 국가의 개입에 의해서만 달성될 수 있다.
- ⑤ 평등은 개인의 능력에 따른 대우보다 결과의 균등을 중시한다.

* 확인 사항

- 답안지의 해당란에 필요한 내용을 정확히 기입(표기)했는지 확인하십시오.

제 4 교시

사회 탐구 영역 (경제)

성명

수험 번호

- 먼저 수험생이 선택한 과목의 문제지인지 확인하십시오.
- 선택 과목은 반드시 응시 원서 작성시 자신이 선택한 과목의 문제를 풀어야 합니다.
- 문제지에 성명과 수험 번호를 정확히 기입하십시오.
- 수험표에 표기된 선택 1, 선택 2, 선택 3, 선택 4의 과목에 대한 문제를 순서대로 풀어 해당란에 답을 표기하십시오.
- 문항에 따라 배점이 다르니, 각 물음의 끝에 표시된 배점을 참고하십시오. 3점 문항에만 점수가 표시되어 있습니다. 점수 표시가 없는 문항은 모두 2점입니다.

1. 다음 기사를 읽고 예상할 수 있는 현상을 <보기>에서 모두 고른 것은?

국내 유가에 영향을 미치는 중동산 두바이유의 가격이 급등하여 배럴당 30달러를 넘어섰다. 이에 따라 국내 휘발유 가격이 큰 폭으로 올라 리터당 1,400원을 돌파했다. 더욱이 석유 수출국 기구(OPEC) 회원국들은 다음 달부터 하루 100만 배럴 감산을 예정대로 실행하겠다고 공언하여 유가 불안이 부추기고 있다.

- <보 기>
- ㄱ. 휘발유 사용량이 늘어날 것이다.
 - ㄴ. 비행기 탑승객이 늘어날 것이다.
 - ㄷ. 버스나 지하철 이용자가 늘어날 것이다.
 - ㄹ. 절전형 전자 제품이나 기계의 구입이 늘어날 것이다.

- ① ㄱ, ㄴ ② ㄱ, ㄷ ③ ㄴ, ㄷ ④ ㄴ, ㄹ ⑤ ㄷ, ㄹ

2. 다음 대화의 밑줄 친 부분에 들어갈 내용으로 적절하지 않은 것은?

학 생 : 소비자 단체들이 과소비 추방 운동을 벌이는 것을 보았는데 과소비가 뭐죠?
 선생님 : 과소비란, 자기의 소득 능력 이상으로 지나치게 소비하는 경우를 말한단다.
 학 생 : ‘소비가 미덕’이라는 말도 있잖아요.
 선생님 : 물론 경제 상황에 따라 과소비가 나름대로 경제에 도움을 줄 수도 있지. 그러나 과소비의 폐해가 결코 적지 않단다.
 학 생 : 그럼, 과소비의 폐해에 대해 몇 가지 사례를 말씀해 주세요.
 선생님 : 과소비는 _____.

- ① 사회 계층 간의 위화감을 심화시킬 수 있단다.
- ② 외제품 수입을 늘려 국제 수지를 악화시킨단다.
- ③ 가계의 빚을 키워 신용 불량자로 전락시킬 수 있단다.
- ④ 경기 침체를 유발하여 실업 문제를 심화시키게 된단다.
- ⑤ 저축을 감소시켜 국내에서 조달되는 투자 재원을 줄어든게 한단다.

3. 다음 특성을 갖는 농산물에 대해 바르게 설명한 것을 <보기>에서 모두 고른 것은? [3점]

- 재배 기간이 길고 장기간의 저장이 어렵다.
- 풍작으로 공급이 증가하면 가격이 큰 폭으로 하락한다.

- <보 기>
- ㄱ. 공급의 가격 탄력성이 작다.
 - ㄴ. 수요의 가격 탄력성이 크다.
 - ㄷ. 풍년이 들면 농민의 소득이 증가한다.
 - ㄹ. 수요가 증가하면 가격이 큰 폭으로 상승한다.

- ① ㄱ, ㄴ ② ㄱ, ㄷ ③ ㄱ, ㄹ ④ ㄴ, ㄷ ⑤ ㄷ, ㄹ

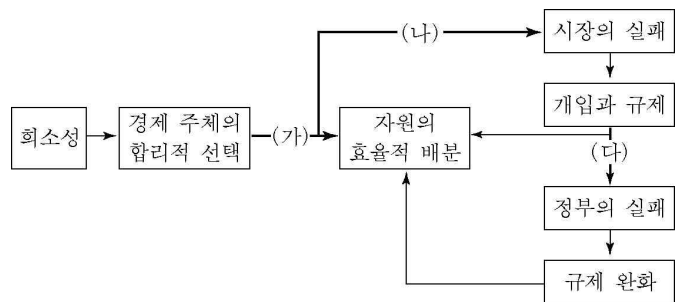
4. 밑줄 친 부분에 해당하는 내용을 <보기>에서 모두 고른 것은?

시장의 ‘보이지 않는 손’은 우리의 전지전능한 인도자가 될 수 없다. 그렇기 때문에 사회가 시장 경제 체제를 선택한다 하더라도, 경우에 따라서는 시장에 어떤 제약을 가할 필요가 생기는 것이다. 시장을 견제하거나 시장의 부족한 부분을 채워주는 역할은 주로 정부가 담당하고 있다.

- <보 기>
- ㄱ. 시장 개방의 확대
 - ㄴ. 공기업의 민영화 실시
 - ㄷ. 국민 연금 제도의 확대
 - ㄹ. 불공정 거래 행위에 대한 규제 강화

- ① ㄱ, ㄴ ② ㄱ, ㄷ ③ ㄴ, ㄷ ④ ㄴ, ㄹ ⑤ ㄷ, ㄹ

5. 그림은 자원의 효율적 배분과 관련된 것이다. 각 단계에서 (가), (나), (다)가 작용하여 그 다음 단계의 현상이 발생한다. (가), (나), (다)에 들어갈 개념을 바르게 묶은 것은? [3점]



- | | | | |
|---|----------|-------|-------|
| | (가) | (나) | (다) |
| ① | 보이지 않는 손 | 독과점 | 전시 행정 |
| ② | 외부 효과 | 부정 부패 | 기회 비용 |
| ③ | 공공재 | 외부 효과 | 전시 행정 |
| ④ | 가격 기구 | 부정 부패 | 기회 비용 |
| ⑤ | 보이지 않는 손 | 외부 경제 | 빈부 격차 |

6. 시장에서 콩 가격이 상승한 것에 대해 두 사람이 TV에서 토론한 내용이다.

A : 콩이 몸에 좋다는 뉴스를 보고 소비자들이 수요를 늘렸기 때문에, 콩 가격이 상승했습니다.
 B : 콩 농사가 흉년이었기 때문에 콩 가격이 상승했습니다.

이 가운데 한 사람의 주장이 맞다고 한다. 누구의 주장이 맞는지 확인하기 위한 다음의 논의에서, 괄호 안에 들어갈 말로 타당한 것은? [3점]

갑 : 맞는 주장을 찾으려면 콩 시장에서의 수요 곡선과 공급 곡선을 생각하면 돼.
 을 : 맞아. A의 말이 맞다면, (㉠) 곡선이 움직여서 콩 거래량이 (㉡)했을 거야.
 병 : 그리고 만약 B의 말이 맞다면, (㉢) 곡선이 움직여서 콩 거래량이 (㉣)했을 거야.
 정 : 그러니까 우리는 콩 거래량의 증감 여부를 확인하면 누구의 주장이 맞는지 알 수 있겠구나.

- | | | | | |
|------|----|----|----|---|
| | ㉠ | ㉡ | ㉢ | ㉣ |
| ① 수요 | 증가 | 공급 | 증가 | |
| ② 수요 | 증가 | 공급 | 감소 | |
| ③ 수요 | 감소 | 공급 | 감소 | |
| ④ 공급 | 감소 | 수요 | 증가 | |
| ⑤ 공급 | 증가 | 수요 | 감소 | |

7. 표로부터 옳게 추론한 것을 <보기>에서 모두 고른 것은? [3점]

(단위 : %)

연도	항목 인구 증가율	연령 계층별 인구 구성비			실업률
		0~14세	15~64세	65세 이상	
1970	1.99	42.5	54.4	3.1	4.4
1980	1.57	34.0	62.2	3.8	5.2
1990	0.99	25.6	69.3	5.1	2.4
2000	0.84	21.1	71.7	7.2	4.1
2002	0.63	20.3	71.4	8.3	3.1

<보 기>
 ㄱ. 청년 실업률이 높아지고 있다.
 ㄴ. 노년 부양비*가 증가하고 있다.
 ㄷ. 1990년 이후 총인구가 감소하고 있다.
 ㄹ. 사회 복지 예산에 대한 노년층의 요구가 커질 것이다.

* 노년 부양비 = $\frac{65\text{세 이상 인구}}{15\sim 64\text{세 인구}} \times 100$

- ① ㄱ, ㄷ ② ㄱ, ㄹ ③ ㄴ, ㄷ
 ④ ㄴ, ㄹ ⑤ ㄷ, ㄹ

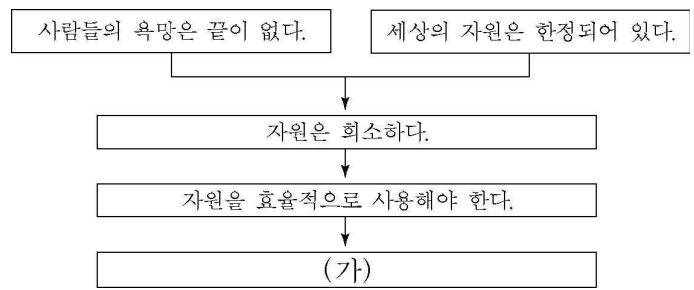
8. 다음 글에 나타난 경제 문제의 해결 방안을 <보기>에서 모두 고른 것은?

정부의 무분별한 개입이 효율적인 자원 배분에 부정적인 영향을 주는 경우가 종종 있다. 정부 조직의 비대화는 예산의 낭비를 초래하며, 과중한 세금은 국민 생활을 압박하기도 한다. 또한 정부는 때때로 민간 부문의 욕구나 선호를 제대로 읽지 못하여 잘못된 정책 결정을 하는 경우도 있고, 부처 이기주의에 따른 횡포나 인기에 영합한 선심 행정을 하는 문제를 유발하기도 한다.

<보 기>
 ㄱ. 시장 기능의 활성화 정책이 필요하다.
 ㄴ. 경제 활동에 있어서 정부의 개입을 늘려야 한다.
 ㄷ. 공기업은 공익 증진을 위해 활동 영역을 지속적으로 넓혀 나가야 한다.
 ㄹ. 정부 정책의 투명성 제고와 시민 단체에 의한 예산 감시 활동이 시급하다.

- ① ㄱ, ㄴ ② ㄱ, ㄷ ③ ㄱ, ㄹ ④ ㄴ, ㄷ ⑤ ㄷ, ㄹ

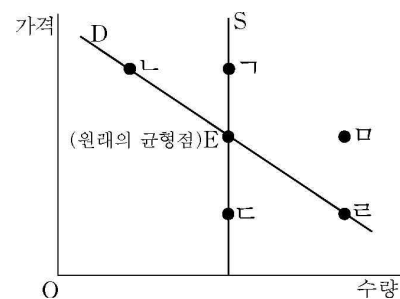
9. 그림의 (가)에 들어갈 말로 가장 적절한 것은? [3점]



- ① 모든 선택에서 기회 비용을 고려한다.
 ② 정부의 시장 개입이 효율성을 높인다.
 ③ 경제적으로 합리적인 선택은 공익을 먼저 고려한다.
 ④ 사람들은 효율성보다 형평성을 더 중요하게 생각한다.
 ⑤ 사람들은 자기 것보다 주인이 없는 것을 과도하게 사용한다.

10. 다음과 같은 정책의 즉각적인 효과로 나타나게 될 새로운 균형점의 위치로 가장 적절한 것은?

서울과 경기의 일부 지역이 주택 거래 신고 지역으로 지정되었다. 이들 지역의 아파트를 구입하는 사람들은 실제 거래 가격으로 매매 가격을 신고해야 한다. 그러면 현재보다 3~6배가 늘어난 아파트 취득세와 등록세를 납부해야 한다.



- ① ㄱ ② ㄴ ③ ㄷ ④ ㄹ ⑤ ㅁ

16. 다음과 같은 경제 조치가 가져올 영향을 <보기>에서 모두 고른 것은?

A 은행은 상환 능력과 의지가 있는 신용 불량자에게 연 6~15%의 저금리 적용, 연체 이자의 1년 분할 상환 등과 같은 혜택을 주기로 했다. 그리고 B 은행은 이번 주부터 최장 8년 분할 상환, 최고 100% 연체 이자 감면 등과 같은 조치를 통해 신용 불량자의 채무 재조정을 본격화하기로 했다.

<보 기>
 ㄱ. 가계의 소비 지출이 큰 폭으로 증가할 것이다.
 ㄴ. 누구나 은행 대출을 쉽게 받을 수 있을 것이다.
 ㄷ. 채무자들의 도덕적 해이를 유발할 수 있을 것이다.

- ① ㄱ ② ㄴ ③ ㄷ ④ ㄱ, ㄴ ⑤ ㄴ, ㄷ

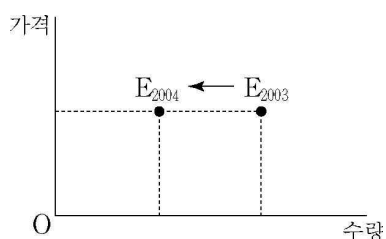
17. 글에 나타난 경제적 관점과 일치하는 내용을 <보기>에서 모두 고른 것은?

정육점 주인, 맥주 만드는 사람, 빵 만드는 사람의 자비심 덕분에 우리가 저녁을 먹을 수 있는 것이 아니다. 그들이 자신의 이익을 추구하는 과정에서 우리의 저녁거리가 생기는 것이다. 우리는 그들의 인정에 호소하지 않고, 그들 자신을 사랑하는 마음에 호소한다. 그들에게 우리가 무엇을 필요로 하는지 말하는 것이 아니라, 어떻게 하면 그들이 이익을 얻을 수 있는지에 대해 말한다.

<보 기>
 ㄱ. 효율성보다 형평성에 더 큰 비중을 둔다.
 ㄴ. '보이지 않는 손'의 역할이 갖는 중요성을 강조한다.
 ㄷ. 정부의 적극적인 시장 개입을 긍정적으로 평가한다.
 ㄹ. 개인은 사회적 이익보다 자신의 이익에 더 많은 관심을 갖는다.

- ① ㄱ, ㄴ ② ㄱ, ㄷ ③ ㄴ, ㄷ ④ ㄴ, ㄹ ⑤ ㄷ, ㄹ

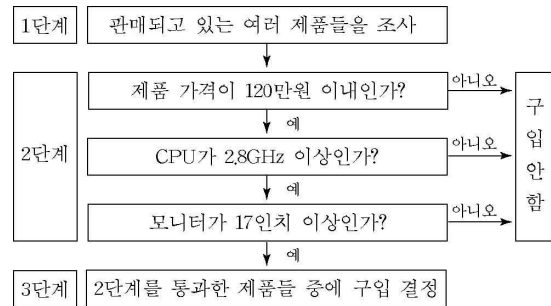
18. 그림은 2003년과 2004년 커피 시장의 균형점을 각각 E_{2003} 과 E_{2004} 로 나타낸 것이다. 수요의 법칙과 공급의 법칙이 적용된다고 할 때, 균형점의 이동을 가져올 수 있는 원인들을 <보기>에서 바르게 짚지은 것은? [3점]



<보 기>
 ㄱ. 커피 원료의 가격이 상승했다.
 ㄴ. 커피 제조업의 생산성이 향상되었다.
 ㄷ. 커피의 보완재인 설탕의 가격이 상승했다.
 ㄹ. 소득의 증대로 커피에 대한 수요가 증가했다.

- ① ㄱ, ㄴ ② ㄱ, ㄷ ③ ㄴ, ㄷ ④ ㄴ, ㄹ ⑤ ㄷ, ㄹ

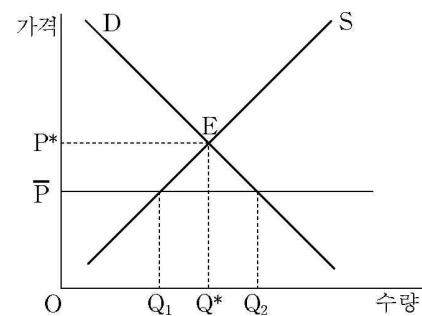
19. 그림은 PC 한 대를 구입하려는 어느 사람의 의사 결정 과정을 나타낸 것이다. 이로부터 추론할 수 있는 적절한 내용을 <보기>에서 모두 고른 것은?



<보 기>
 ㄱ. PC 구입에 필요한 예산을 고려하고 있지 않다.
 ㄴ. '같은 값이면 다홍 치마'라는 속담은 3단계의 의사 결정 과정과 관련이 있다.
 ㄷ. 가격이 115만원, CPU가 2.4GHz, 모니터가 19인치인 PC를 구입할 수도 있다.
 ㄹ. 조사 비용이 들지 않는다면, 판매되고 있는 제품에 대해 많이 조사할수록 좋다.

- ① ㄱ, ㄴ ② ㄱ, ㄹ ③ ㄴ, ㄷ ④ ㄴ, ㄹ ⑤ ㄷ, ㄹ

20. 정부가 어떤 목적에서 재화의 균형 가격 P^* 를 \bar{P} 수준으로 규제하려고 한다. 이에 대한 옳은 설명을 <보기>에서 모두 고른 것은? [3점]



<보 기>
 ㄱ. Q_1Q_2 만큼의 초과 수요로 인해 암시장이 형성될 수 있다.
 ㄴ. 과일 생산으로 인해 가격 폭락이 우려될 때, 정부가 자주 사용하는 정책이다.
 ㄷ. 과거 아파트 분양가 결정에 정부가 적극 개입했던 것은 이러한 정책 유형에 속한다.
 ㄹ. 규제 가격 하에서는 수요자가 최대한 지불하려는 가격이 공급자가 최소로 받아야겠다고 생각하는 가격보다 낮다.

- ① ㄱ, ㄴ ② ㄱ, ㄷ ③ ㄴ, ㄷ ④ ㄴ, ㄹ ⑤ ㄷ, ㄹ

* 확인 사항
 ○ 답안지의 해당란에 필요한 내용을 정확히 기입(표기)했는지 확인 하시오.

제 4 교시


사회탐구 영역 (사회 · 문화)

성명

수험번호

- 먼저 수험생이 선택한 과목의 문제지인지 확인하시오.
- 선택 과목은 반드시 응시 원서 작성시 자신이 선택한 과목의 문제를 풀어야 합니다.
- 문제지에 성명과 수험 번호를 정확히 기입하시오.
- 수험표에 표기된 선택 1, 선택 2, 선택 3, 선택 4의 과목에 대한 문제를 순서대로 풀어 해당란에 답을 표기하시오.
- 문항에 따라 배점이 다르니, 각 물음의 끝에 표시된 배점을 참고하시오. 3점 문항에만 점수가 표시되어 있습니다. 점수 표시가 없는 문항은 모두 2점입니다.

1. 그림 (가)와 (나)에 대한 설명으로 타당한 것을 <보기>에서 모두 고른 것은?



<보 기>
 가. (가)는 통제된 실험이 용이하다.
 나. (가)는 역사성을 가지며 당위 법칙과 관련된다.
 다. (나)의 인과 관계는 필연적이기보다 개연적이다.
 리. (나)는 물가치적인 특성을 지니며 보편성을 가진다.

- ① 가, 나 ② 가, 다 ③ 나, 다 ④ 나, 리 ⑤ 다, 리

2. 다음 연구에서 사용한 주된 자료 수집 방법의 특징을 <보기>에서 모두 고른 것은?

수도권에 거주하는 대부분의 청소년들이 휴대 전화를 소유하고 있고, 주로 방과 후에 사용하는 것으로 나타났다. 이들은 휴대 전화 사용으로 친구 관계에 커다란 변화가 생겼다고 생각하지만, 가족 관계에는 큰 영향을 미치지 않은 것으로 평가한다. 물론 일부 청소년들은 부모님의 간섭이 심해졌다는 반응을 보이지만, 대부분의 청소년들은 휴대 전화가 가족 관계에 별다른 영향을 미치지 않은 것으로 본다.

<보 기>
 가. 통계 분석이 용이하다.
 나. 인간 행위에 일정한 자극을 주고 그 반응을 분석한다.
 다. 동일한 형식의 질문지를 여러 사람들에게 배포하거나 발송하여 조사한다.
 리. 연구자가 연구 대상자의 행동을 관찰하여 자연스러운 생활 방식을 파악하고 그 의미를 해석한다.

- ① 가, 나 ② 가, 다 ③ 나, 다 ④ 나, 리 ⑤ 다, 리

3. 불평등 현상과 관련하여 다음을 설명할 수 있는 개념이 갖는 특징을 <보기>에서 모두 고른 것은? [3점]

영국에서 뼈대 있는 가문 출신의 사람들은 설사 그들이 경제적으로 몰락했다 하더라도 상당한 사회적 존경을 받는다. 이와는 반대로 그러한 가문 출신이 아닌 신흥 부유층들은 졸부라고 불리며 사회적으로 존경을 받지 못한다.

<보 기>
 가. 사회 갈등을 지배와 피지배 관계로 파악한다.
 나. 사회적 희소 가치의 불평등한 분배 상태를 범주화한다.
 다. 생산 수단을 가진 사람과 그렇지 못한 사람으로 구분한다.
 리. 다원화된 현대 사회의 불평등 현상을 설명하는 데 주로 활용된다.

- ① 가, 나 ② 가, 다 ③ 나, 다 ④ 나, 리 ⑤ 다, 리

4. 다음 연구 방법을 적용하기에 가장 적합한 주제는?

대체로 사회·문화 현상과 자연 현상을 동일시한다. 따라서 자연 과학의 탐구 방법을 사회·문화 현상의 탐구에 적용하여 보편적인 인과 법칙의 발견을 목적으로 한다. 방법론적으로는 사회·문화 현상에 대한 경험적 관찰과 측정을 통한 수량화를 중시하여, 계량화된 자료를 통계적으로 분석한다.

- ① 여성의 취업률과 출산율과의 관계
- ② 마사이족과 피그미족의 결혼 풍속 비교
- ③ 조선 후기 위정 척사 운동의 역사적 의미
- ④ 개신교 윤리가 자본주의 성립에 미친 영향
- ⑤ 이라크 전쟁이 국제 정치 질서에 미칠 영향

5. 표의 설명으로 적절하지 않은 것은? [3점]

아내 학력 \ 남편 학력	초졸	중졸	고졸	대졸 이상	계
초졸	152	41	18	1	212
중졸	97	206	76	1	380
고졸	52	174	889	29	1,144
대졸 이상	3	9	152	270	434
계	304	430	1,135	301	2,170

- ① 비슷한 학력의 사람끼리 결혼하는 경향이 있다.
- ② 기혼 여성의 평균 학력이 기혼 남성의 평균 학력보다 낮다.
- ③ 결혼 상대에 대한 개인의 선택은 사회적으로 구조화되어 있다.
- ④ 부부의 학력이 같은 비율과 다른 비율은 구조에 의해 고정된다.
- ⑤ 남성이 자기보다 저학력의 여성과 결혼하는 비율은 고학력의 여성과 결혼하는 비율보다 높다.

[6~7] 표를 보고 물음에 답하십시오.

(단위:%)

연도 \ 지역	1960년		2000년	
	갑	을	갑	을
0~19세	50.2	50.2	22.9	16.6
20~39세	31.4	27.7	42.9	14.9
40~59세	14.3	15.4	28.5	27.1
60세 이상	4.1	6.7	5.7	41.4
합 계	100	100	100	100

6. 갑 지역과 비교하여 을 지역의 특성을 <보기>에서 모두 고른 것은?

<보 기>

- ㄱ. 지역 주민 간의 익명성이 강하다.
- ㄴ. 귀속 지위보다 성취 지위가 지배적이다.
- ㄷ. 지역 주민 간의 경제적 격차가 적은 편이다.
- ㄹ. 사회 통제가 도덕, 관습 등 비공식적 방식에 의존한다.

- ① ㄱ, ㄴ ② ㄱ, ㄷ ③ ㄴ, ㄷ ④ ㄴ, ㄹ ⑤ ㄷ, ㄹ

7. 표를 통해 알 수 있는 것을 <보기>에서 모두 고른 것은?

<보 기>

- ㄱ. 두 지역 전체의 인구가 줄어들었다.
- ㄴ. 을 지역 사회는 급격히 노령화되었다.
- ㄷ. 갑 지역에서 20~39세 구성비가 증가하였다.
- ㄹ. 1960년도 두 지역의 40~59세 인구 수가 비슷하였다.

- ① ㄱ, ㄴ ② ㄱ, ㄷ ③ ㄴ, ㄷ
 ④ ㄱ, ㄴ, ㄷ ⑤ ㄴ, ㄷ, ㄹ

8. 다음과 같은 성격을 지닌 단체에 대한 올바른 설명을 <보기>에서 모두 고른 것은?

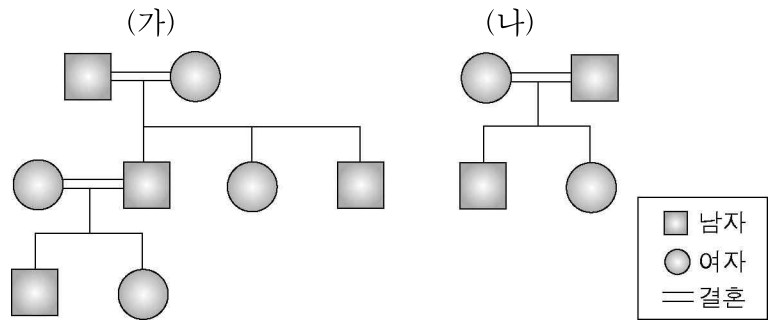
【목적】 각계 각층 국민들의 자발적인 참여로 국가 권력을 감시하고, 구체적인 정책과 대안을 제시하며, 실천적인 시민 행동을 통하여 자유와 정의, 인권과 복지가 바르게 실현되는 참여 민주 사회를 건설하는 것을 목적으로 한다.
【사업】 ① 민주 사회를 바르게 세우며 구체적으로 실현하기 위한 정책과 방법에 관한 연구 및 토론과 시민들의 의사 형성을 위한 사업, ② 입법·사법·행정 등 국가 기관의 활동에 대한 시민들의 감시와 참여, ③ 인권을 옹호하고 향상시키기 위한 사회적·제도적 노력.

<보 기>

- ㄱ. 집단의 가입과 탈퇴가 엄격하다.
- ㄴ. 집단의 운영을 위한 조직 체계가 갖추어져 있다.
- ㄷ. 독일의 사회학자 튀니스가 말한 공동 사회에 해당된다.
- ㄹ. 정부의 힘만으로 해결하기 어려운 문제 해결에 참여한다.

- ① ㄱ, ㄴ ② ㄱ, ㄷ ③ ㄴ, ㄷ ④ ㄴ, ㄹ ⑤ ㄷ, ㄹ

9. 다음은 가족 형태에 대한 그림과 이에 대한 대화이다. 적절하지 않은 설명은? [3점]



갑 : (가)의 가족 형태에서는 가풍과 가치관이 잘 이어져.
 을 : (나)의 가족 형태에서는 배우자를 선택할 때 당사자의 의사가 존중되지.
 병 : 할아버지, 엄마, 동생 합쳐서 네 명이 같이 살고 있는 우리 가족은 (나)의 가족 형태라고 생각해.
 정 : 우리 집은 할머니, 아빠, 엄마, 나 그리고 동생 두 명 해서 모두 여섯 명이 같이 살고 있으니까 (가)와 (나) 가운데 어느 가족 형태와도 맞지 않아.

- ① 갑은 확대 가족의 장점을 설명하고 있다.
- ② 을은 핵가족의 특징을 설명하고 있다.
- ③ 병의 가족 형태는 핵가족이다.
- ④ 정의 가족 형태는 확대 가족이다.
- ⑤ 정은 가족 형태를 정확히 이해하지 못하고 있다.

10. 다음 현상을 바라보는 관점 중 성격이 다른 하나는? [3점]

오늘날 ‘가족 해체’라는 말이 일상적으로 사용된다. 이것은 가족 구성원 간의 ‘주거 공간 분리’를 의미할 수도 있고, ‘인간적 유대 해체’를 의미할 수도 있다. 주거 공간 분리의 경우는 부부 간에 이루어지는 주말 부부 형태의 별거와 가족 구성원 간에 이루어지는 미혼 자녀의 분가, 독신, 노인 가구의 분리 등을 들 수 있다. 인간적 유대의 해체는 이혼, 가정 폭력, 자녀의 유기 등을 들 수 있으며, 이로 인해 한부모 가족, 소년 소녀 가장 가족, 노인 부부 가족, 노인 단독 가구 등이 생겨나고 있다.

- ① 가족 문제는 노인 문제와도 긴밀히 연관되어 있다.
- ② 가부장제가 사라지지 않는 한, 가족 갈등은 지속될 것이다.
- ③ 가족 구성원들 간의 역할 규범에 대한 합의가 결여되어 있다.
- ④ 가족의 전통적인 기능이 감소됨에 따라 가족 구성원들의 인간적 유대가 약화되었다.
- ⑤ 현재의 비정상 가족은 궁극적으로 가족 해체가 아닌 하나의 가족 형태로 인정될 것이다.

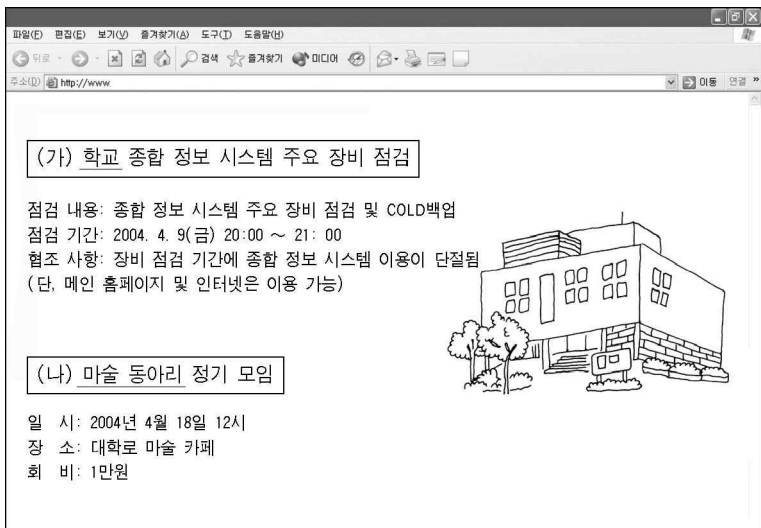
11. 다음 두 글에 공통적으로 관련이 있는 것은? [3점]

○ 고부 사이에 위치한 남편의 태도는 매우 중요하다. 어머니와 아내 사이에서 어느 한쪽으로 지나치게 기울게 되면 반드시 부작용이 오며, 때로는 가정 파탄까지 가져올 수도 있다. 따라서 아들이자 남편의 입장에 서서 양측을 중재하는 노력이 필요하다.

○ 여자가 무슨 수퍼 우먼인가요? 직장에 나가서 돈 벌고 지친 몸으로 집에 와서 아이들 뒷치닥거리에 자질구레한 집안일까지 또 해야 하다니. 남자들에게 그렇게 살라고 하면 일 년도 못 살 겐요. 여자가 밖에 나가 돈 벌면, 이틀에 하루는 남자가 일찍 들어와서 밥하고 청소하고 그래야 공평한 거 아닌가요?

- ① 개인이 차지하고 있는 여러 지위들 사이에서 차이가 생긴다.
- ② 도덕적 규범이 상실되어 사회 구성원의 행위를 규제하지 못한다.
- ③ 여러 가지 역할을 동시에 수행해야 할 경우 역할들 간에 충돌이 일어난다.
- ④ 개인들이 상징 체계를 사용하여 다른 사람들과 관계를 맺고 서로 영향을 준다.
- ⑤ 급속히 발전하는 물질 문화와 완만하게 변하는 비물질 문화 간에 차이가 생겨난다.

12. 어느 대학교의 홈페이지에 게시된 새 소식이다. 밑줄 친 부분에 대한 설명으로 옳은 것은?



- ① (가)는 현대 사회에서 그 비중이 줄어들고 있다.
- ② (가)는 개인의 관심을 바탕으로 자연 발생적으로 조직된다.
- ③ (가)는 인간의 심리적 욕구를 충족시켜 주고 정서적 안정을 제공한다.
- ④ (나)는 권위적인 위계로 구성되어 있고, 구성원의 업무가 전문화된다.
- ⑤ (나)는 구성원의 만족감과 사기를 진작시킴으로써 구성원 간의 결속력을 강화한다.

13. 다음과 같은 탐구 태도를 지녀야 하는 이유를 <보기>에서 모두 고른 것은? [3점]

사회·문화 현상에 대한 올바른 탐구 태도는 크게 세 가지가 있다. 첫째, 연구자는 어떤 특정한 이론을 무비판적으로 추종하거나 무조건 배격하는 자세를 피해야 하고, 어떤 의견이나 주장이 경험적으로 실증될 때까지 이를 가설로서만 받아들이는 태도를 지녀야 한다. 둘째, 연구자는 연구 대상이 속한 사회·문화적 맥락에서 접근하는 태도가 필요하다. 끝으로, 연구자는 객관적 입장에 서야 하고 가능한 자신의 선입관이나 감정적 요소를 배제해야 한다.

<보 기>

ㄱ. 사회 속에는 다양한 가능성이 존재한다.
 ㄴ. 사회 구성원들 간 이해 관계의 대립은 필연적이다.
 ㄷ. 사회에는 시간과 공간을 초월하는 객관적 진리가 있다.
 ㄹ. 연구자의 관점은 그가 살고 있는 사회의 사회·문화적 특성에 의해 영향을 받는다.

- ① ㄱ, ㄴ ② ㄱ, ㄹ ③ ㄴ, ㄷ ④ ㄴ, ㄹ ⑤ ㄷ, ㄹ

[14~15] 다음을 읽고 물음에 답하십시오.

범석이는 다섯 명의 청소년을 연구 대상으로 정하였다. 모두 폭력, 절도 등 범죄를 저지르거나 가출을 자주 시도한 청소년이었다. 범석이는 그들과 자주 만나면서 대화를 나누려고 하였다. 그들이 그런 행위를 할 때 어떤 기분인지, 언제 그렇게 하고 싶은 충동을 느끼는지 등 이것 저것 물어보기도 하고, 그들과 하루 종일 같이 보낸 적도 있었다. 범석이는 일년 동안 그들과의 만남과 대화를 가진 후에 청소년의 일탈 행위에 대한 보고서를 작성하였다.

14. 위 연구를 수행하기 위해 범석이가 하는 일을 <보기>에서 모두 고른 것은? [3점]

<보 기>

ㄱ. 질문의 내용을 구상한다.
 ㄴ. 가설을 통계적으로 검증한다.
 ㄷ. 질문지 문항의 척도를 개발한다.
 ㄹ. 지속적으로 관찰 일지를 작성한다.

- ① ㄱ, ㄷ ② ㄱ, ㄹ ③ ㄴ, ㄹ
- ④ ㄱ, ㄴ, ㄷ ⑤ ㄴ, ㄷ, ㄹ

15. 위 연구에서 사용한 연구 방법의 특성으로 적절한 것을 <보기>에서 모두 고른 것은?

<보 기>

ㄱ. 연구자의 직관적 통찰력이 요구된다.
 ㄴ. 연구 대상을 사회적 맥락 속에서 파악한다.
 ㄷ. 연구의 결과를 일반화하여 미래를 예측한다.
 ㄹ. 연구 과정의 철저한 통제와 조작이 필요하다.

- ① ㄱ, ㄴ ② ㄱ, ㄷ ③ ㄴ, ㄷ ④ ㄴ, ㄹ ⑤ ㄷ, ㄹ

16. 다음 조직들이 출현하게 된 이유를 <보기>에서 모두 고른 것은? [3점]

- 연결망으로 조직된 부문이 자율적으로 활동한다.
- 동등한 지위와 책임을 가진 조직 구성원들이 협력하여 업무를 수행한다.
- 자율성과 유연성을 기본 원칙으로 하여 조직의 변경이 수시로 일어난다.

<보 기>

- ㄱ. 권한과 책임의 모호
- ㄴ. 형식주의에 따른 비효율성 증가
- ㄷ. 조직에 대한 개인의 소속감 저하
- ㄹ. 외부 환경 변화에 대한 신속한 대처 능력 저하

- ① ㄱ, ㄴ ② ㄱ, ㄷ ③ ㄴ, ㄷ ④ ㄴ, ㄹ ⑤ ㄷ, ㄹ

17. 다음 (가), (나)를 설명할 수 있는 개념을 바르게 연결한 것은?

- (가) 철수는 자신이 살고 있는 동네에 강한 소속감을 가지고 있다. 아울러 그 동네 주민들에 대해서 ‘우리 동네 사람’이라는 공동체 의식을 가지고 있다.
- (나) 2차 세계 대전 중 미군의 사기를 조사해 본 결과, 진급률이 높은 부대에서 근무하는 병사들이 진급률이 낮은 부대의 병사들보다 군대 진급 제도에 대해 더 많은 불만을 가졌다.

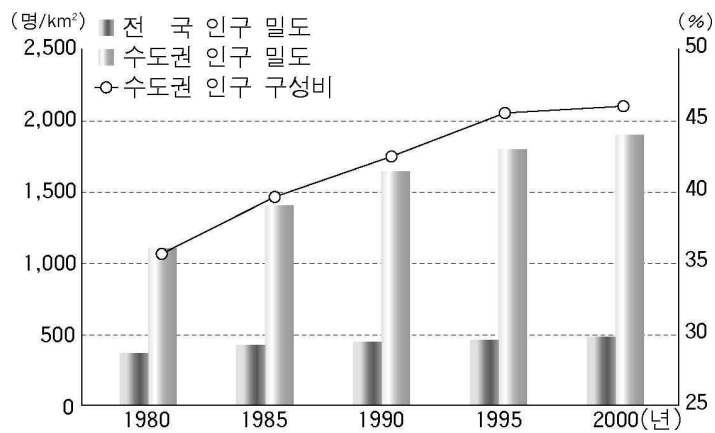
(가)

- ① 내집단
- ② 공식 조직
- ③ 이익 사회
- ④ 또래 집단
- ⑤ 자발적 결사체

(나)

- 준거 집단
- 외집단
- 관료제
- 비공식 조직
- 공동 사회

18. 그래프를 바탕으로 추론한 내용이 아닌 것은?



- ① 인구 분포의 지역간 불균형이 심화되었다.
- ② 전국의 인구 밀도에 비해 수도권의 인구 밀도가 높다.
- ③ 수도권으로의 인구 유입을 억제하는 정책이 필요하다.
- ④ 수도권 중심의 지역 개발 방식을 탈피할 필요성이 있다.
- ⑤ 성장 거점 개발 방식의 지역 개발 계획 수립이 필요하다.

19. 다음 글에 나타나 있는 사회 이동의 유형을 <보기>에서 모두 고른 것은? [3점]

모 그룹의 총수인 갑은 가난한 농부의 아들로 태어났다. 6세 때 부친을 여의고 계속되는 생활고로 시달리다 ○○학교 2학년 때는 등록금을 못내 결국 학업을 중도에 포기하였다. 15세가 되던 해에 일본인이 경영하던 식품 도매점에 사환으로 들어가 직장 생활을 시작하게 되고 사환 생활 3년 만에 정규 판매원으로 승진하였다. 23세가 되던 해에 그 동안 저축한 돈을 모아 식품 도매 회사 사장이 되었다. 그 후 여러 가지 우여곡절을 겪지만 15년 후에는 시멘트, 제과, 건설 등의 방계 회사를 거느린 대재벌 그룹의 회장이 되었다.

<보 기>

- ㄱ. 구조적 이동 ㄴ. 수평 이동 ㄷ. 수직 이동
- ㄹ. 세대 간 이동 ㅁ. 세대 내 이동

- ① ㄱ, ㄴ, ㄷ ② ㄱ, ㄹ, ㅁ ③ ㄴ, ㄷ, ㄹ
 ④ ㄴ, ㄷ, ㅁ ⑤ ㄷ, ㄹ, ㅁ

20. 다음 글의 취지에 부합하는 것을 <보기>에서 모두 고른 것은? [3점]

최근 방사성 폐기물 처리장의 건설을 기피하거나 고속 철도역 유치를 둘러싸고 과도하게 경쟁하는 등 지역 이기주의가 빈번하게 발생하고 있다. 하지만 그것을 지역 이기주의라고 몰아붙이지만 말고, 지역 주민의 입장에서 지역 문제를 생각해 볼 필요도 있다. 아울러 어떤 형태의 지역 이기주의든 국가 공동체 차원에서 될 수 있는 한 빨리 극복하여야 한다. 그러기 위해서는 지역 주민과 정부 모두의 역할이 중요하다.

<보 기>

- ㄱ. 실질적인 행정 권한이 지방으로 분산될 필요가 있다.
- ㄴ. 정책의 결정 과정에 지역 주민 의견이 반영되어야 한다.
- ㄷ. 효율적인 정책 수행을 위해 중앙 정부가 분쟁과 갈등을 억제해야 한다.
- ㄹ. 지역 이기주의에 따른 분쟁은 지역 간의 타협과 공익에 기초하여 해결되어야 한다.

- ① ㄱ, ㄴ ② ㄱ, ㄷ ③ ㄴ, ㄷ ④ ㄴ, ㄹ ⑤ ㄷ, ㄹ

* 확인 사항

○ 답안지의 해당란에 필요한 내용을 정확히 기입(표기)했는지 확인하십시오.