

2005 학년도 대학수학능력시험 6월 모의평가 문제지
직업탐구 영역 (인간 발달)

유아기의 자기 중심적 사고가 반영된 행동으로 옳지 않은 것은?

1. 인간 발달에 대한 설명으로 옳은 것을 <보기>에서 모두 고른 것은? [3 점]

임신한 딸과 어머니의 대화이다. 인간발달의 쟁점 중 이들이 각각 지지하는 입장은?

딸	어머니
유전, 학습	환경, 성숙
유전, 성숙	환경, 학습
환경, 성숙	유전, 학습
환경, 학습	유전, 성숙
성숙, 학습	유전, 환경

그림은 영아기의 신체발달 과정을 나타낸 것이다. 그림을 통해 알 수 있는 발달 원리를 <보기>에서 모두 고른 것은?

다음 상황과 관련된 인간발달 이론가와 이론은? [3 점]

윗 손	학습 이론
계 질	성숙 이론
로렌츠	각인 이론
피아제	인지 발달 이론

직업탐구 영역 (인간 발달)

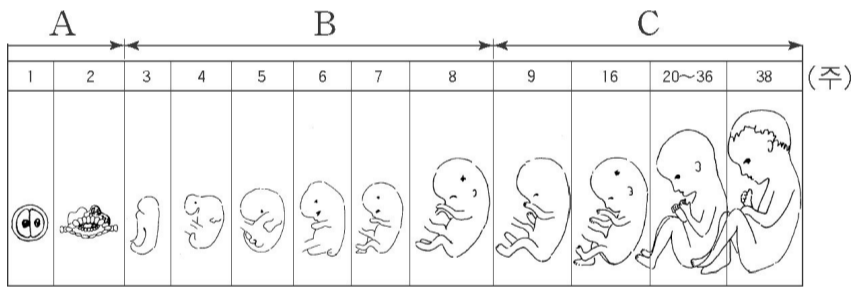
반두라 사회 학습 이론

(인간 발달) 직업탐구 영역

6. 다음의 우정 발달 단계에 도달한 아동에게 볼 수 있는 특징으로 가장 알맞은 것은?

- | | | |
|-----------|------|--------------|
| 심리 성적 발달 | 에릭슨 | 자아실현 |
| 심리 성적 발달 | 프로이트 | 생물학적 본능 |
| 심리 사회적 발달 | 프로이트 | 심리 사회적 위기 해결 |
| 심리 사회적 발달 | 에릭슨 | 심리 사회적 위기 해결 |

태내기의 발달 과정을 나타낸 그림이다. A~C에 대한 설명으로 옳지 않은 것은? [3 점]



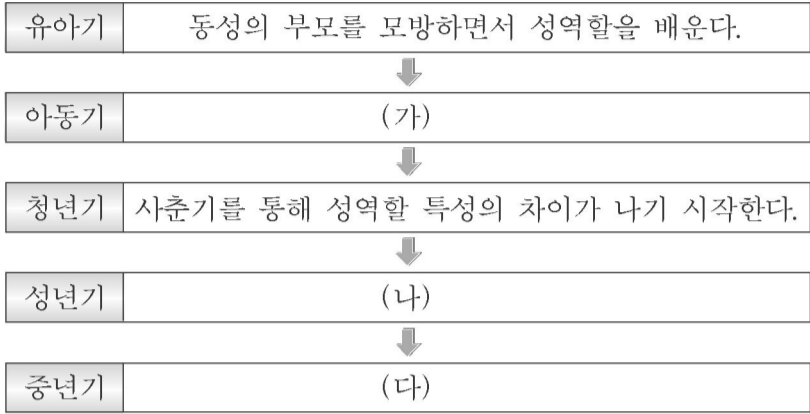
전 생애적 인간발달을 강조한 이론, 이론가와 주요개념이 바르게 연결된 것은?

- | | | |
|----------|-----|------|
| 이론 | 이론가 | 주요개념 |
| 심리 성적 발달 | 메슬로 | 자아실현 |

직업탐구 영역 (인간 발달)

다음은 성역할 발달 변화를 단계별로 제시한 것이다. (가)~(다)에 알맞은 내용을 <보기>에서 골라 바르게 연결한 것은?

[3 점]



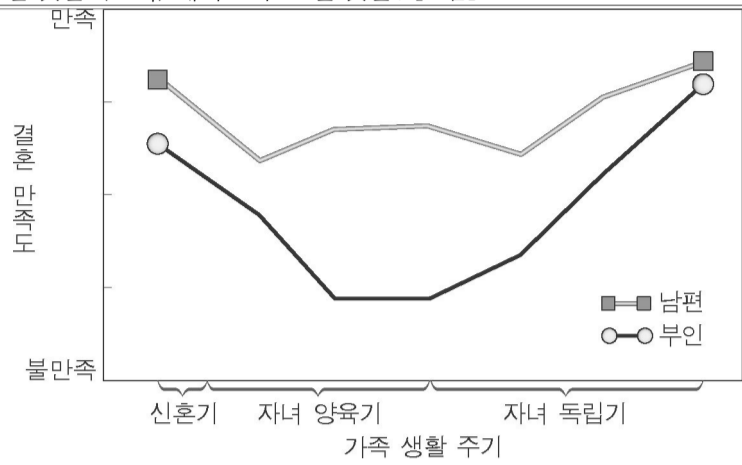
- | | | |
|---|---|---|
| 가 | 나 | 다 |
| ㄱ | ㄴ | ㄷ |
| ㄴ | ㄷ | ㄴ |
| ㄴ | ㄱ | ㄷ |
| ㄴ | ㄷ | ㄱ |
| ㄷ | ㄱ | ㄴ |

발달 단계에 따른 부모의 역할로 가장 적절한 것은? [3 점]

청년기에 나타나는 사교의 특징에 대해 바르게 설명한 것을 <보기>에서 모두 고른 것은? [3 점]

* 확인 사항
 ○ 답안지의 해당란에 필요한 내용을 정확히 기입 (표기) 했는지 확인하십시오.

12. 가족 생활 주기에 따른 결혼 만족도에 대한 그래프이다. 바르게 설명한 것을 <보기>에서 모두 고른 것은? [3 점]



남성의 갱년기 변화에 대한 내용으로 옳은 것을 <보기>에서 모두 고른 것은?

다음 대화에서 비교적 성공적으로 노화에 잘 적응한 사람을 <보기>에서 모두 고른 것은?

다음 대화에서 알 수 있는 청년기의 심리·사회적 발달 특성을 바르게 연결한 것은?

어린이집에서 볼 수 있는 영아의 행동이다. 각 영아의 애착 유형이 바르게 연결된 것은?

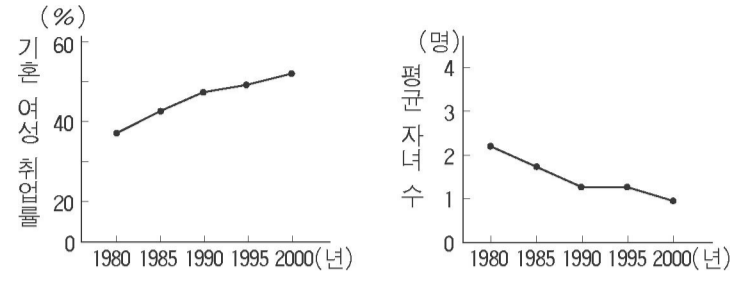


- 선아
- | | |
|--------|--------|
| 민수 | 은숙 |
| 개인적 우화 | 상상적 관중 |
| 상상적 관중 | 개인적 우화 |
| 동조성 | 개인적 우화 |
| 개인적 우화 | 동조성 |
| 상상적 관중 | 동조성 |

- | | | |
|----|----------|----------|
| 영희 | 철수 | 지영 |
| | 불안정 - 회피 | 불안정 - 저항 |
| | 불안정 - 저항 | 불안정 - 회피 |
| | 안정 | 불안정 - 저항 |
| | 안정 | 불안정 - 저항 |
| | 불안정 - 저항 | 안정 |

17. 성년기 이후의 지적 능력에 대해 바르게 설명한 것을 <보기>에서 모두 고른 것은? [3 점]

세 개의 그래프를 종합하여 추론할 수 있는 사회 문제 중 가장 적절한 것은? [3 점]



다음의 대화에서 알 수 있는 부모의 양육 방식은?

다음 실험 결과에서 알 수 있는 사고의 특징으로 가장 적절한 것은? [3 점]