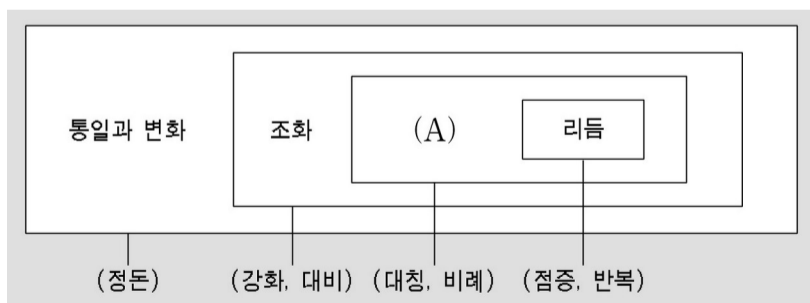


2005 하반기 대학수학능력시험 6월 모의평가 문제지

# 직업탐구 영역 (디자인 일반)



다음은 조형의 원리를 형식화하여 계통적으로 나타낸 것이다. A에 해당하는 것은? [3 점]



## 직업탐구 영역 (디자인 일반)

다음은 환경보호 디자인에 관한 설명이다. 관계가 가장 **뒀** 먼 것은?

[3 점]

- 환경 문제를 디자인 측면에서 파악한다.
- 제품 설계 단계에서 재활용 가능성을 고려한다.
- 자재를 적게 써서 오염물질의 배출을 줄인다.



디자인 요소에 대한 설명으로 옳은 것을 <보기>에서 모두 고른 것은? [3 점]



# (디자인 일반) 직업탐구 영역

웹디자인의 특성에 대한 설명으로 옳은 것을 <보기>에서 모두 고른 것은?



다음에서 A에 공통적으로 들어갈 디자인 형태는?

○(A)의 타자기

마리오 벨리니의 작품

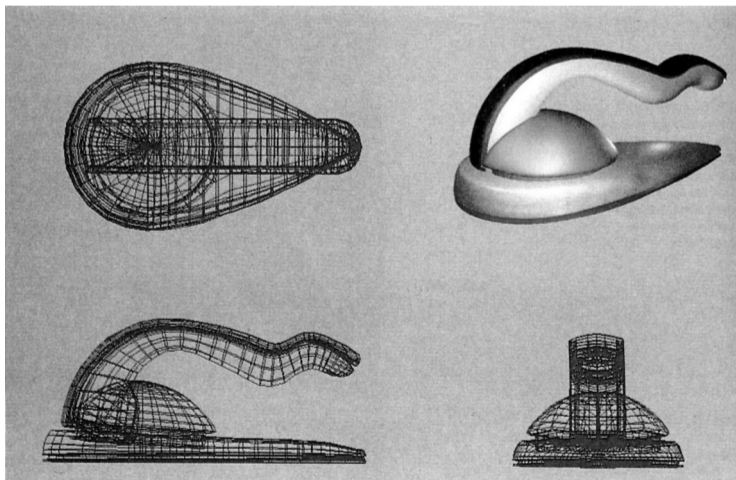
○(A)는 수학적 법칙과 함께 뚜렷한 질서를 가진다.

다음 설명과 관련하여 A와 B를 바르게 연결한 것은?

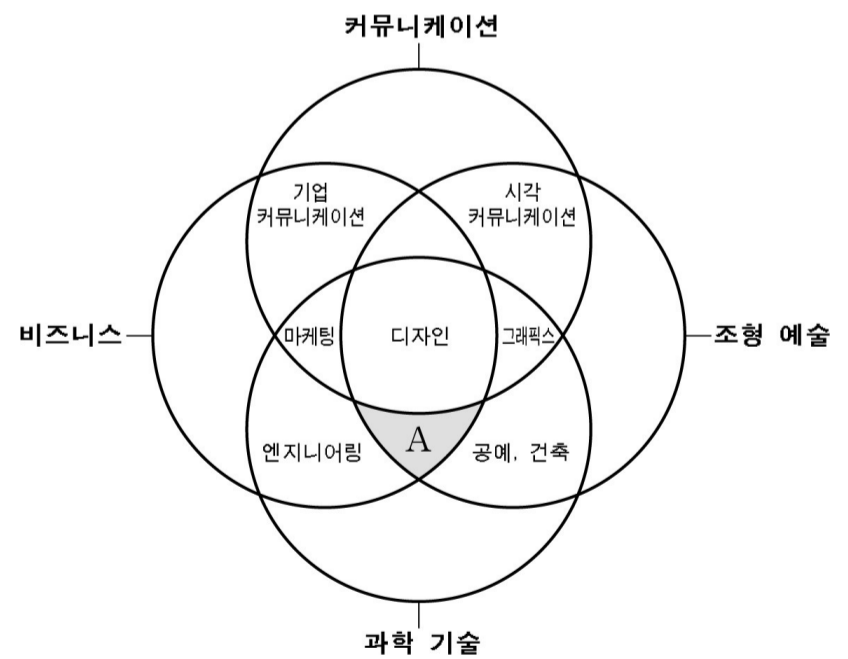
용품 디자인에 전력했다.

- |      |        |
|------|--------|
| A    | B      |
|      | 미술공예운동 |
|      | 미술공예운동 |
|      | 아르누보   |
| 아르누보 |        |
| 아르데코 |        |

그림은 전기 다리미를 제작하기 위한 3D 렌더링이다. 이와 같은 입체물 디자인 과정에서 고려해야 할 요소가 아닌 것은? [3 점]



다음은 디자인의 4대 속성을 나타낸 것이다. A에 해당하는 디자인의 영역으로 묶여진 것은? [3 점]



## 직업탐구 영역 ( 디자인 일반 )

\* 확인 사항

- 답안지의 해당란에 필요한 내용을 정확히 기입 ( 표기 ) 했는지 확인하십시오 .

다음은 디자인 관련 인터넷 카페에 게시된 내용의 일부이다. 물음과

다음 게시판  
답글을 보고 판단할 때, A에 공통적으로 들어갈 내용으로 알맞은 것은? [3 점]

작성자가	홍길동
제목	A (가이) 무엇인가요?
내용	안녕하세요? 디자인에 관심이 많은 학생입니다. 근대 디자인사에 나오는 A에 대해 알고 싶습니다. 아시는 분은 간략하게 글을 남겨 주세요.


답글

- 답글 1 \*모호이노디가 시카고에서 산업계의 원조를 받아 창립했죠.
- 답글 2 1952년 일리노이 공과 대학에 합병된 디자인 학교입니다.
- 답글 3 하버드 대학 교수였던 그로피우스가 교원으로 참가하였습니다.



다음 수업 상황에서 실습과제를 바르게 이해하고 발표한 학생을 모두 고른 것은?

다음은 제품 디자인 개발 진행 과정의 일부를 나타낸 것이다. A 단계에서 진행해야 할 디자인 실무 내용을 <보기>에서 모두 고른 것을 발표해 보세요.



(아이디어 스케치) (A) (완성 제품)

- 영희 : 노약자를 위한 지팡이 디자인을 생각하였습니다.
- 민정 : 놀이 공원의 홍보용 포스터를 디자인하고 싶습니다.



우리나라 전통 공예인 유기에 관한 설명으로 옳은 것을 <보기>에서 모두 고른 것은? [3 점]

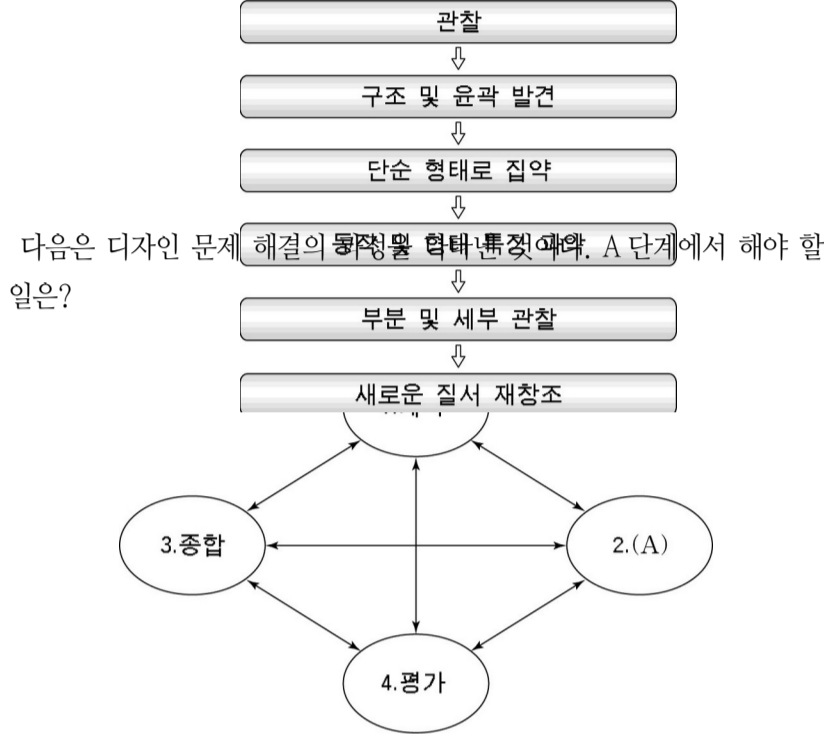
다음은 아동용 치과 의료기기를 개발하기 위한 디자인 컨셉이다. 강조한 디자인의 조건은?



다음 그림을 보고 아이디어를 얻어 신문 광고를 제작한다고 할 때, 고려해야 할 사항을 <보기>에서 모두 고른 것은? [3 점]

16. 이탈리아 현대 디자인의 특징을 <보기>에서 모두 고른 것은?

[3 점]



디자이너 : 업무 환경을 개선해야 합니다.

공간을 융통성 있게 재배치해야 합니다.

