

2005 학년도 대학수학능력시험 6월 모의평가 문제지

사회탐구 영역 (정치)

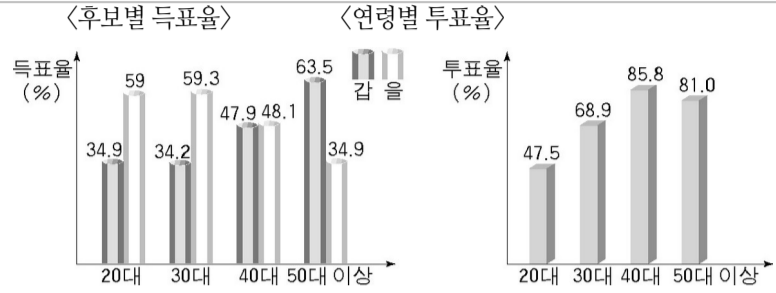
(가) 헌법 규정

국회에서 파병 동의안은 통과되었고 정부는 파병의 구체적인 절차를 진행시키고 있다. 그럼에도 불구하고 아직 파병 반대 여론이 많이 제기되고 있고 일부 정당 및 시민 사회 단체는 공개적으로 반대를 천명하고 있다.

사회탐구 영역 (정치)

[3 점]

5. 다음은 어느 나라의 대통령 선거 결과 나타난 주요 후보별 득표율과 연령별 투표율이다. 두 자료를 통하여 추론할 수 있는 내용 중 가장 적절한 것은?



최근에 국민의 뜻을 외면하고 권력을 남용하거나 국민의 대표로서의 역할 수행을 외면하는 정치인을 심판해야 한다는 여론이 제기되고 있다. 이것은 선출직 공무원을 임기 중에 파면시킬 수 있는 제도이다. 이러한 제도가 시행될 경우, 정기적으로 시행되는 선거를 통하지 않고서도 정치인을 임기 중에 바꿀 수 있다.




권력을 획득하고 그것을 유지하는 방식에 국민이 합의할 수 없으면 정치뿐만 아니라 경제, 사회, 문화 등 모든 영역에서 불안과 불신이 나타나기 쉽다. 또한 선출이나 임명에 의해서 권력을 획득한 방식이 정당했다고 하더라도 그 권력을 행사하는 방법이 권력 남용 등으로 민주주의 이념과 가치에 위배될 때 그러한 권력은 국민으로부터 도전을 받게 된다.

에서 모두 고른 것은? [3 점]

<정부 형태>

<정당별 의석 수>



(정치) 사회탐구 영역

사회탐구 영역 (정치)

보통 선거

11. 다음 글을 통하여 내릴 수 있는 결론으로 가장 적절한 것은?

다수의 대중이 민주적 자질을 갖추어 나갈 때 민주주의는 지속될 수 있다. 그렇지 않다면 전체주의에서 비롯되는 광신과 폭력이 대중을 자극한다. 원자화된 대중은 집단적이고 맹목적인 이데올로기에 좌우되어 개인의 자유는 상실될 수밖에 없다.

제 2차 세계 대전 당시 수백만의 유대인 학살을 주도한 아이히만은 선량한 남편이자 아버지였고 평범한 이웃이었다. 그는 자신이 속해 있는 나치 조직의 명령에 순응하고 자신의 직무를 충실하게 이행하였다. 하지만 이러한 행위는 엄청난 사회적 비극을 초래하였다.

(가) ◇◇시의 도시 개발 계획

◇◇시가 도심 개발 제한을 풀어 초고층 빌딩이 들어설 수 있도록 하는 도시 개발 계획을 추진하고 있다. 이 도시가 추진하는 '도심부 발전 계획안'은 도심 건축물 높이에 관한 규제를 전면적으로 완화하는 것이다.

평소 환경 보전을 위해 정부와 기업의 활동을 감시, 비판해왔던 ○○단체는 이러한 규제 완화 조치의 철회를 요구하고 있다. 이 단체는 정부와 기업이 공모하여 무분별한 도시 개발을 계속 추진할 경우 서명 운동과 반대 집회를 통하여 이를 저지할 계획이다.

(나) 정책 결정 과정

```

graph LR
    A[A 투입] --> B1[정책 결정 기구]
    B1 --> B[B 산출]
    B -- 환류(Feedback) --> A
            
```

환류(Feedback)

(가) 비례 대표제는 득표를 의석으로 전환하는 과정에서 선거인의 의사가 제대로 반영되지 않는 부정적인 측면을 시정하기 위해 고안된 제도이다. 이 제도의 목적은 각 정당이 선거인의 지지에 비례하는 의석을 차지할 수 있도록 하여 선거의 공평성을 향상시키는 것이다.

(나) 위의 비례 대표제에는 여러 가지 형태가 있는데, 헤림이와 철수가 살고 있는 나라는 1인 1표제에 의한 비례 대표제를 실시하고 있다. 헤림이는 고민 없이 투표할 수 있었다. 왜냐하면 헤림이는 갑 후보와 A당을 둘 다 지지하기 때문에 1표의 행사로 갑 후보와 A당에 모두 도움을 줄 수 있기 때문이다. 하지만 철수는 선거를 앞두고 심각한 고민에 빠졌다. 철수가 지지하는 갑 후보는 철수가 가장 꺼려하는 A당 소속이었다. 투표소에 가서 행사할 수 있는 표는 1표뿐이기 때문에 갑 후보를 선택하면 A당에 대한 지지로 간주된다. ㉠ 이러한 선택은 철수가 지지하지 않는 A당의 비례 대표 의석 수를 늘리는 데 기여할 수 있다. 결과적으로 ㉡ 철수는 헤림이에 비해 절반의 선택권을 박탈당할 가능성이 있다.

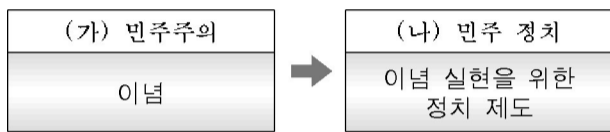
- ㉠ 자유 선거 ㉡ 평등 선거
- ㉢ 평등 선거 ㉣ 비밀 선거

*** 확인 사항**

○ 답안지의 해당란에 필요한 내용을 정확히 기입 (표기) 했는지 확인하십시오.

16. 다음의 헌법 규정들에서 도출되는 원리가 추구하는 ^{경제 주체간의 조화를 통한 경제의 민주화를 위하여 경제에 관한 규제와 조정을 할 수 있다.(헌법 제 119 조)} 가장 적절한 것은? ^{공공적인 목적으로} 제 2 항)

○ 입법권은 국회에 속한다.(헌법 제 40 조)



하지만 이러한 법 앞에서의 평등이 단지 기회의 균등만을 의미한다면 이는 또 다른 불평등을 초래할 수 있다.

(가) ○○인터넷 신문 게시판



(나) 인터넷 의사 소통 구조

