

직업탐구 영역(회계 원리)



0. 그림은 결산에 대한 수업 장면이다. 선생님의 질문에 바르게 대답한 학생을 모두 고른 것은?



- ① 순희-----② 철수-----③ 순희, 현주
- ④ 철수, 현주-----⑤ 순희, 철수, 현주

1. 그림은 비용의 일부를 분류한 것이다. (가)에 영향을 미치는 거래를 <보기>에서 모두 고른 것은?

분류 기준

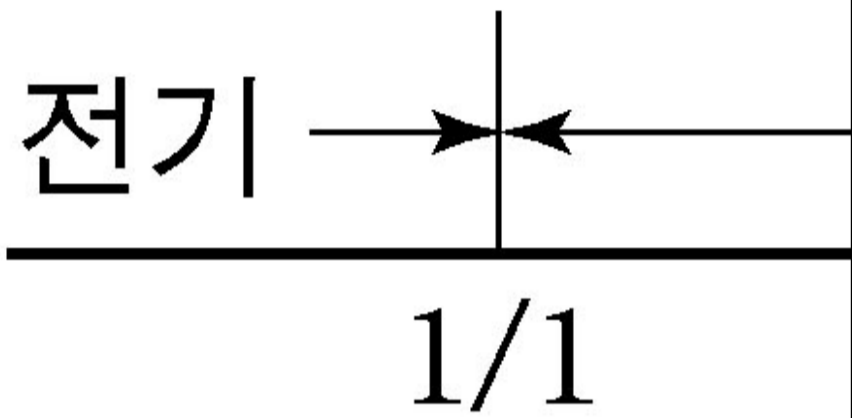
분 류

<보기>

- ㄱ. 사무실 책상을 구입하고, 운임 10,000 을 현금 지급하다.
- ㄴ. 상품을 매출하고 당점 부담 운임 3,000 을 현금 지급하다.
- ㄷ. 제품 생산을 위한 기계를 구입하고, 시운전비 50,000 을 현금 지급하다.

- ① ㄱ-----② ㄴ-----③ ㄱ, ㄷ
- ④ ㄴ, ㄷ-----⑤ ㄱ, ㄴ, ㄷ

2. 그림은 수익의 발생에 대한 내용이다. 당기 12월 31일 결산시 (가), (나)에 대한 회계 처리 결과로 옳은 것은? [3 점]



- ① (가)는 손익계산서의 차변에 임대료로 기록된다.
- ② (가)는 대차대조표의 차변에 선수수익으로 기록된다.
- ③ (나)는 대차대조표의 차변에 임대료로 기록된다.
- ④ (나)는 손익계산서의 대변에 임대료로 기록된다.
- ⑤ (나)는 대차대조표의 대변에 선수수익으로 기록된다.

3. 다음은 결산 시 회계 처리 내용이다. 그 결과 나타나는 현상으로 옳은 것은? [3 점]

결산 결과 당기순이익 500,000 이 산출되었으나, 다음과 같은 분개가 누락되어 이를 수정하다.

<결산 정리 분개>
 (차변)--선급보험료----6,000----(대변)- 보 험 료-----6,000
 (차변)--이자비용-----4,000----(대변)- 미지급이자----4,000

- ① 부채가 2,000 증가한다.
- ② 부채가 4,000 감소한다.
- ③ 자산이 2,000 감소한다.
- ④ 당기순이익이 2,000 증가한다.
- ⑤ 당기순이익이 6,000 증가한다.

4. 다음은 유형자산의 처분에 관한 대화이다. (가)에 들어갈 내용으로 옳은 것은?

박부장 : 사장님, 사무실 온풍기를 1,250,000 원에 처분했습니다.
 사 장 : 온풍기 처분에 따른 손익은 얼마인가요?
 박부장 : 온풍기의 취득원가는 2,000,000 원이었고, 처분일까지의 감가상각누계액이 600,000 원이므로 이 발생하였습니다.

- ① 처분손실 150,000 원-----② 처분손실 750,000 원
- ③ 처분이익 150,000 원-----④ 처분이익 750,000 원
- ⑤ 처분이익 1,250,000 원

5. 다음 (가), (나)에 해당하는 거래 요소의 결합 관계로 옳은 것을 <보기>에서 고른 것은?

(가) 현금 2,000,000 을 출자하여 영업을 시작하다.
 (나) 광고 선전비 30,000 을 자기앞수표로 지급하다.

<보기>

ㄱ	
ㄴ	
ㄷ	
ㄹ	

(가) - (나)

- ① ㄱ-----ㄴ
- ② ㄱ-----ㄷ
- ③ ㄴ-----ㄷ
- ④ ㄴ-----ㄹ
- ⑤ ㄷ-----ㄹ

6. 다음 글의 밑줄 친 부분에 영향을 미치는 거래로 옳은 것은?

기업의 경영 활동으로 수익과 비용이 발생하는 경우 자본이 증감한다. 경영 활동으로 자본을 증가시키는 요인을 수익이라 하고, 수익을 얻기 위해 희생되는 가치를 비용이라 하는데, 해당 기간의 수익에서 비용을 차감한 잔액을 당기순이익이라고 한다.

- ① 어음 대금 500,000 을 현금으로 받다.
- ② 상품 매매 계약금 150,000 을 현금으로 받다.

- ③ 사무실 임대 보증금 1,000,000 을 현금으로 받다.
- ④ 사채를 액면가로 발행하고 현금 1,500,000 을 받다.
- ⑤ 거래처의 장기대여금에 대한 이자 50,000 을 현금으로 받다.

7. 다음 거래를 회계 처리할 때 기장해야 할 보조장부로 옳은 것을 <보기>에서 고른 것은?

거래처인 회사에 대한 외상매입금 500,000 중 300,000 은 약속어음(어음번호 자차 12312012, 지급장소 △△은행, 발행일자 2007년 7월 16일, 만기일자 2007년 10월 16일)을 발행해 주고, 잔액은 현금으로 지급하다.

<보기>

ㄱ. 매입처원장-----ㄴ. 상품재고장
 ㄷ. 당좌예금출납장-----ㄹ. 지급어음기입장

- ① ㄱ, ㄴ-----② ㄱ, ㄷ-----③ ㄱ, ㄹ
- ④ ㄴ, ㄷ-----⑤ ㄷ, ㄹ

8. 다음 대화에서 밑줄 친 거래를 바르게 분개한 것으로 옳은 것은?
[3 점]



- (차변) ---- (대변)
- ① 현-----금--160,000-----수수료수익---160,000
 - ② 현-----금--160,000-----이자수익-----60,000
 배당금수익-----100,000
 - ③ 현-----금--160,000-----수수료수익---60,000
 배당금수익-----100,000
 - ④ 현-----금--60,000-----이자수익-----60,000
 단기매매증권----100,000-----배당금수익---100,000
 - ⑤ 현-----금--60,000-----이자수익-----60,000
 단기매매증권----100,000-----수수료수익---100,000

9. 다음은 ○기업의 소모품에 대한 결산정리 사항과 수정 후

잔액시산표의 일부이다. (가), (나)에 들어갈 금액으로 옳은 것은?

소모품의 당기 구입액은 80,000 이고, 기말 미사용액은 25,000 이다.
단, 소모품의 전기이월액은 없다.

○○기업

차 변

⋮

(가)

⋮

(나)

- (가) - (나)
- ① 25,000-----55,000
 - ② 25,000-----80,000
 - ③ 55,000-----25,000
 - ④ 55,000-----80,000
 - ⑤ 80,000-----55,000

10. 다음 기사에 나타난 현상의 직접적인 원인으로 가장 적절한 것은? [3 점]

조선과 운송업 영업이익 크게 늘 듯

유가증권 시장 시가 총액 상위 종목의 2 분기 실적을 예측한 결과 조선과 운송업의 영업이익이 전년도 같은 기간에 비하여 대폭 개선될 것으로 나타났다. △△조선의 경우 전년도 같은 기간에 비하여 영업이익이 800% 이상 증가할 것으로 예상되었다.

(이하 생략)

○신문, 2007년 7월 5일자 -

- ① 매출액의 증가-----② 보험차익의 증가
- ③ 이자수익의 증가-----④ 자산수증이익의 증가
- ⑤ 유형자산처분이익의 증가

11. 다음 ○회사의 제 3 기(2006. 1. 1 ~ 2006. 12. 31) 회계 자료이다. 기초 자산의 금액으로 옳은 것은?

○ 당기 총수익 250,000-----○ 당기 총비용 150,000
 ○ 기말 자본 250,000-----○ 기초 자본은 기초 자산의 50%
 ○ 회계 기간 중 추가 출자와 인출액은 없음.

- ① 100,000-----② 250,000-----③ 300,000
- ④ 400,000-----⑤ 500,000

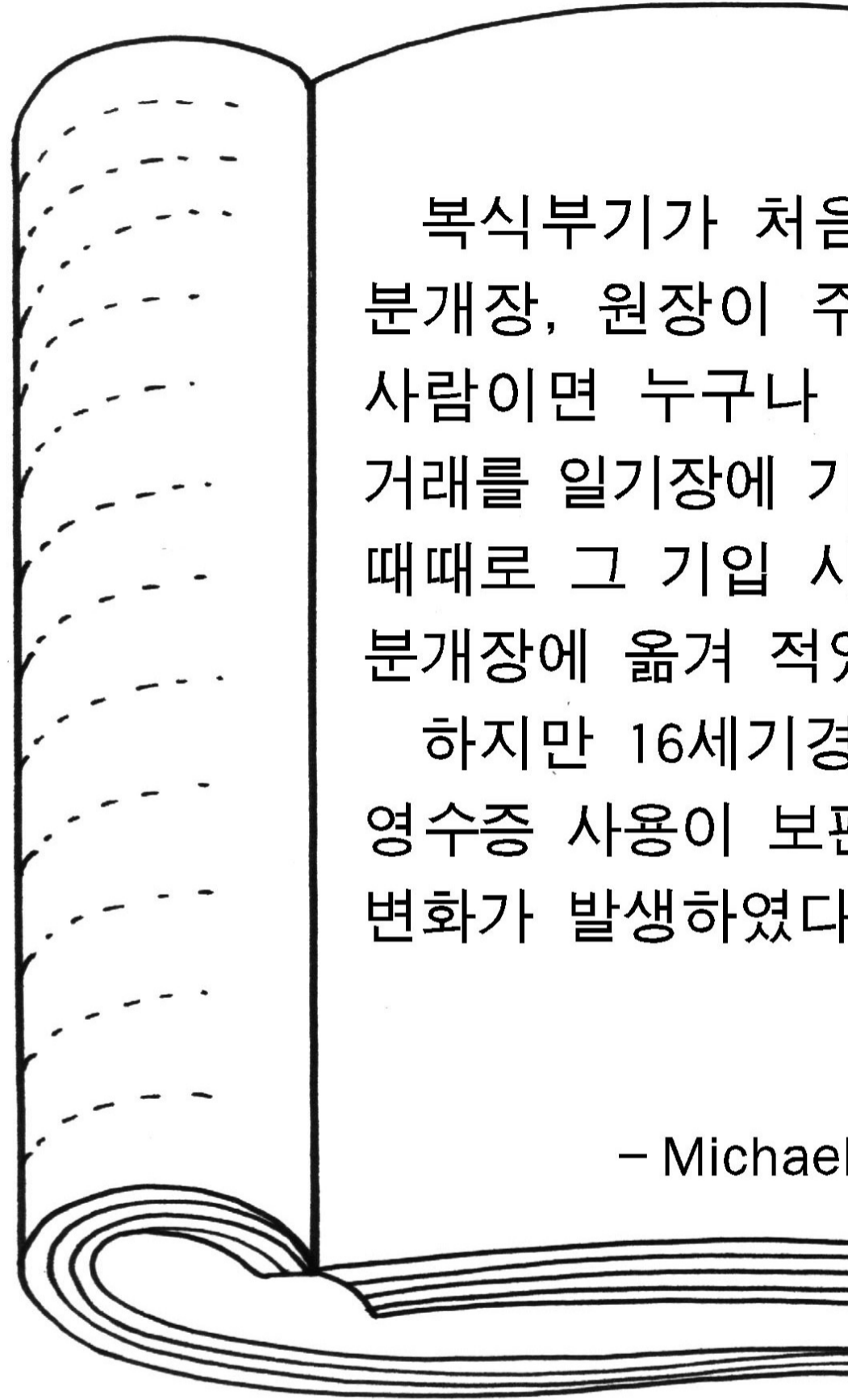
12. 다음은 9월 중 상품 매입을 기록한 장부이다. 이에 대한 설명으로 옳은 것은? (단, 상품의 기장은 3 분법에 의한다.) [3 점]

날 짜		
9	5	(○○ 상점) 갑상품 200개 인수 운임 현금 지
	7	(○○ 상점) 갑상품에 대하여
	15	(△△ 상점) 을상품 100개
	30	
	"	
	"	매입에 누

9/ 5 제 좌
15 [(가)]

- ① 9월 중의 순매입액은 730,000 이다.
- ② 9월 5일의 인수 운임은 매입원가에 포함된다.
- ③ 9월 7일의 거래는 매출원가의 증가 요인이 된다.
- ④ 매입장은 상품의 매매를 기입하는 주요부이다.
- ⑤ 매입계정의 (가)에 기입되는 과목은 외상매입금이다.

13. 다음은 장부 조직에 관한 글이다. 이를 기초로 오늘날의 장부를 설명했을 때 옳은 것을 <보기>에서 모두 고른 것은?



<보기>

- ㄱ. 오늘날은 원장에 기록된 내용을 분개장에 전기한다.
- ㄴ. 원장은 오늘날에도 의사결정에 필요한 재무제표이다.
- ㄷ. 분개장은 오늘날에도 거래를 발생 순서대로 기록하는 주요 장부이다.

- ① ㄱ-----② ㄷ-----③ ㄱ, ㄴ
- ④ ㄴ, ㄷ-----⑤ ㄱ, ㄴ, ㄷ

14. 다음 ○(주)의 2005년부터 설정된 퇴직급여충당부채에 관한 내용이다. 이를 회계 처리 한 결과 (가), (나)에 들어갈 금액으로 옳은 것은? [3 점]

연도	퇴직금 추산액	퇴직금 지급액
2005년	5,000,000	-
2006년	6,000,000	2,000,000

○○(주) 2006년 1월 1일

비 용	금
퇴 직 급 여	()

○○(주) 2006년 1월 1일

자 산	금

※ 퇴직급여충당부채는 기업회계기준에 따라 자산의 감소 또는 이익의 감소에 영향을 미친다. 이 경우 회계 처리 시 자산의 감소 또는 이익의 감소에 영향을 미친다. 이 경우 회계 처리 시 자산의 감소 또는 이익의 감소에 영향을 미친다.

- (가) --- (나)
- ① 1,000,000-----1,000,000
 - ② 3,000,000-----3,000,000
 - ③ 3,000,000-----6,000,000
 - ④ 6,000,000-----3,000,000
 - ⑤ 6,000,000-----6,000,000

15. 다음 ㉠기업의 결손금 보전에 대한 내용이다. 결손금 보전 후 자본잉여금의 금액으로 옳은 것은? [3 점]

주주총회에서 미처리 결손금 14,000 을 보전하기로 결의하다. 결의 당시 자본 상황은 다음과 같다.
 ○ 자본금-----20,000-----○ 이익준비금-----5,000
 ○ 배당평균적립금----8,000-----○ 주식발행초과금---9,000

- ① 1,000-----② 3,000-----③ 5,000
 ④ 6,000-----⑤ 8,000

16. 다음 ㉠주식회사의 2006년 결산일 수정 전 잔액시산표와 결산 정리 분개의 일부이다. 매출채권에 대한 거래의 추정으로 옳은 것은? [3 점]

매출

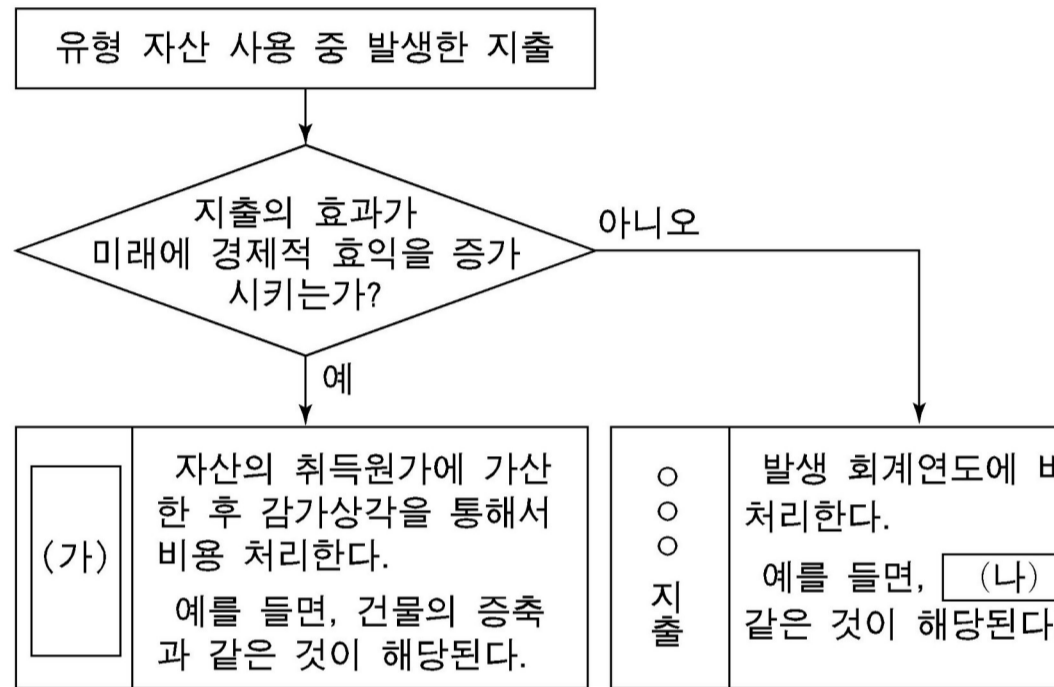
〈결산 정리〉

(차변) 대

① 매출채권 중 1,000 이 회수 불능되다.

- ② 매출채권 중 대손 예상하다.
 ③ 매출채권 중 4,000 이 회수 불능되다.
 ④ 매출채권 중 7,000 을 대손 예상하다.
 ⑤ 매출채권 중 7,000 이 회수 불능되다.


17. 다음은 유형자산 사용 중 발생한 지출의 회계 처리 방법이다. (가), (나)에 들어갈 내용으로 옳은 것은?



(가) --- (나)

- ① 수익적 지출-----건물의 부분도색
 ② 수익적 지출-----자동차의 윤활유 교환
 ③ 자본적 지출-----엘리베이터의 설치
 ④ 자본적 지출-----파손된 유리의 교체
 ⑤ 자본적 지출-----건물에 냉난방 장치 설치

18. 다음은 석유의 8월 중 상품 매매 및 재고자산 평가에 관한 것이다. (가), (나)의 내용으로 옳은 것은? [3 점]



후입선출법에 따라 월말 재고자산을 평가하면 ₩100,000 이 되고, 선입선출법에 따르면 ₩110,000 이 된다. 그런데 월초 상품 재고액과 당월 매입액은 어느 방법을 따르든 간에 동일하므로, 상품 원가가 상승하는 경우에는 두 가지 중 후입선출법에 의하여 평가할 때 월중 매출원가가 많이 발생하고, 매출총이익은 적게 발생한다.

- (가) -- (나)
- ① 100,000-----선입선출법
 - ② 110,000-----선입선출법
 - ③ 110,000-----후입선출법
 - ④ 120,000-----선입선출법
 - ⑤ 120,000-----후입선출법

19. 다음은 2월 20일 현재 현금출납장과 현금의 실제 잔액이다. 이들의 불일치를 수정하기 위해 작성한 전표로 옳은 것은? [3 점]

현금출납장	
전표일자	
전일(월)	이월금
2007-01-01	
~~~~~	
2007-02-20	
소	계(일)

○ 실제 잔액

①

입금  
현금과부족

③

출금

* 확인 사항

○ 답안지의 해당란에 필요한 내용을 정확히 기입(표기)했는지 확인하시오.