

제 4 교시

문제의 지시사항을 주의 깊게 읽고, 답안지 상단에
 답안지의 해당란에 설명과 수필 번호를 정확히 쓰시오.
 답안지의 해당란에 설명과 수필 번호를 쓰고, 각 수필 번호의 답을
 정확히 표시하십시오.
 선택한 과목 순서대로 문제를 풀고, 답은 답안지의 제1선택란부터
 차례대로 표시하십시오.
 문항에 따라 배점이 다르니, 각 문항의 끝에 표시된 배점을 참고하십시오.
 3점 문항에만 점수가 표시되어 있습니다. 점수 표시가 없는 문항은
 모두 2점입니다.

2008 학년도 대학수학능력시험

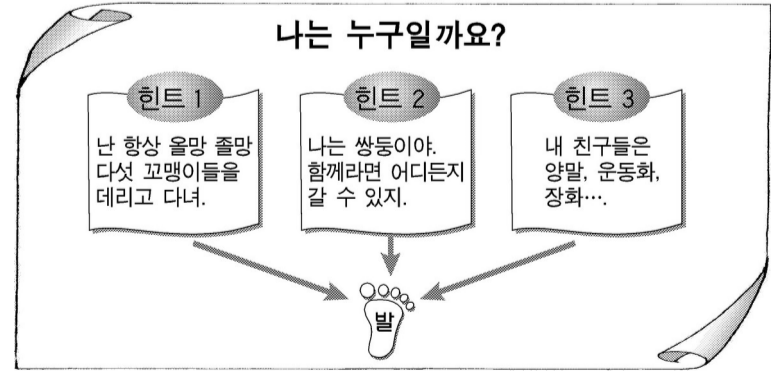
직업탐구 영역

1. 그림의 상황과 관련 있는 학자와 발달 관점으로 옳은 것은?



- 학자 ----- 발달 관점
- ① 반두라-----모방을 통한 학습 과정
 - ② 반두라-----정신 구조가 변화해 가는 과정
 - ③ 에릭슨-----보편적 과업을 성취해 가는 과정
 - ④ 에릭슨-----훈련이나 연습에 의한 학습 과정
 - ⑤ 피아제-----관찰을 통한 학습 과정

2. 다음은 아동의 사고 특성을 반영하여 만든 학습 자료이다. 이러한 사고를 하기 시작하는 시기의 아동에게 나타나는 발달 특성으로 옳은 것을 <보기>에서 고른 것은?



<보기>

- ㄱ. 부피의 보존개념을 이해한다.
- ㄴ. 만취지면 능력이 발달하기 시작한다.
- ㄷ. 다른 사람의 입장을 이해하고 행동한다.
- ㄹ. 내 인형, 내 모자 등 소유물에 의미를 부여한다.

- ① ㄱ, ㄴ ----- ② ㄱ, ㄷ ----- ③ ㄴ, ㄷ
 - ④ ㄴ, ㄹ ----- ⑤ ㄷ, ㄹ
3. 다음은 태내기 발달에 관한 수업 장면이다. (가)~(라)를 태아의 발달 순서대로 바르게 배열한 것은? [3 점]



- ① (가) - (나) - (라) - (다) ----- ② (나) - (가) - (라) - (다)
- ③ (나) - (다) - (라) - (가) ----- ④ (다) - (가) - (나) - (라)
- ⑤ (다) - (라) - (나) - (가)

4. 표는 지능을 분류한 것이다. (가), (나)에 해당하는 요소로 옳은 것은? [3 점]

지능의 종류	정의	영역	하위 요소
결정성 지능	교육과 경험에 따른 정신 능력을 반영함	언어적/양적 추리	(가)
유동성 지능	타고난 지능으로 생물학적으로 결정됨	추상적/시각적 추리	(나)

- (가) ----- (나)
- ① 어휘력-----단어 연상
 - ② 공간 지각-----지각 속도
 - ③ 일반 상식-----공간 지각
 - ④ 일반 상식-----단어 연상
 - ⑤ 지각 속도-----추상적 추론

5. 다음 글에서 아동에게 영향을 미치는 환경 체계로 옳은 것은?

대중매체를 어떻게 이용하느냐에 따라 그 효용성이 매우 달라진다. 연령과 성별의 구분 없이 폭력적인 내용의 텔레비전 프로그램을 시청하면 공격성이 증가되고, 자주 시청할수록 그 영향력은 더욱 커진다. 반면에 모범적인 행동을 담은 내용의 텔레비전 프로그램을 시청하면 아동의 바람직한 행동, 자제력, 상상력이 길러진다. 따라서 대중매체가 아동에게 미치는 영향력은 매우 크다고 하겠다.

- ① 외체계----- ② 거시 체계----- ③ 미시 체계

④ 시간 체계-----⑤ 중간 체계

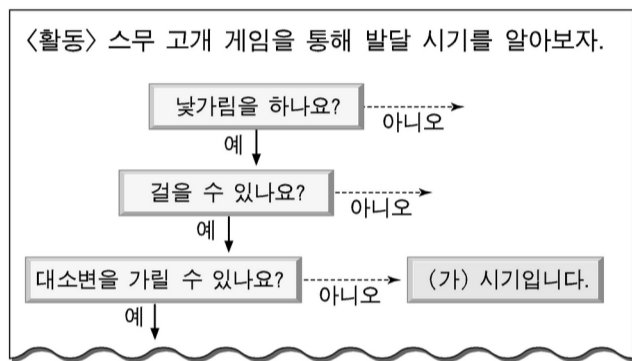


6. 다음은 어느 시기의 심리 발달에 관한 글이다. (가)에 들어갈 내용으로 옳은 것은? [3 점]

형식적 조작기의 청소년들은 타인의 생각이나 관점을 추론할 수 있는 사회적 인지 능력을 가지고 있다. 그러나 그들은 이 시기가 갖는 특성 때문에 추론 과정에서 자신의 관점으로 타인을 이해하는 특징적 오류를 범하게 되는데 이를 (가) (이)라고 한다.

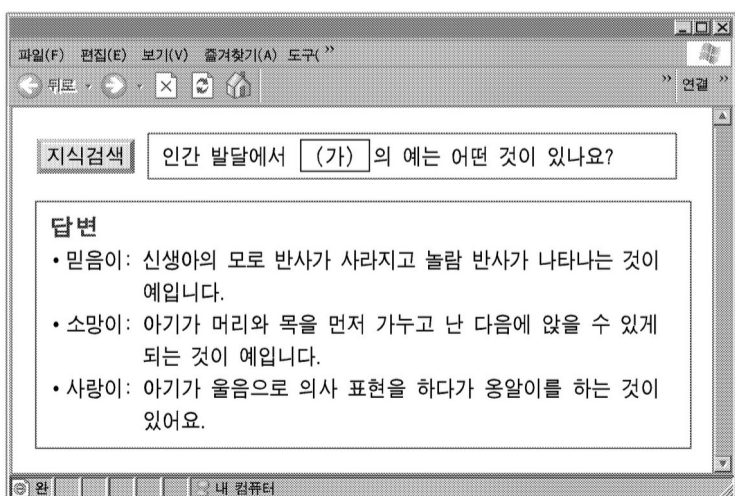
- ① 가설적 추론-----② 가역적 사고-----③ 자아 정체감
- ④ 자아 중심성-----⑤ 자아 통제감

7. 다음은 인간 발달 단계를 알아보기 위한 활동지이다. (가) 시기의 발달 특성으로 옳은 것은? [3 점]



- ① 감정분화가 시작된다.
- ② 자아개념이 획득된다.
- ③ 대상영속성 개념이 생긴다.
- ④ 크고 작은 물건을 배열할 수 있다.
- ⑤ 눈과 손의 협응 능력이 생기기 시작한다.

8. 다음은 지식 검색 사이트에 올려진 글이다. (가)에 들어갈 내용으로 옳은 것은? [3 점]



- ① 각인-----② 성숙-----③ 성장-----④ 애착-----⑤ 학습

9. 다음은 어느 산모의 출산 일지이다. (가)~(다)에 들어갈 내용으로 옳은 것은?

출산 일지		
산모	이름: ○○○	연령: ○○세
최종 월경 시작일	2006년 1월 9일	
분만 예정일	2006년 (가)	
2006년 ○○월 ○○일		
• 제1기(개구기)		
16:00	출산 신호로 (나)가(이) 보임	
20:00	자궁구가 열리기 시작 자궁 수축으로 진통이 규칙적이며 심해짐 자궁구가 더 열리면서 (다)가(이) 나옴	
• 제2기(출산기)		

- (가) (나) (다)
- ① 10월 16일-----이슬-----양수
 - ② 10월 16일-----파수-----태반
 - ③ 10월 17일-----오로-----탯줄
 - ④ 11월 16일-----이슬-----태반
 - ⑤ 11월 17일-----파수-----양수

10. 그림과 같은 행동을 하는 시기의 아동에게 나타나는 사고 특성으로 옳은 것을 <보기>에서 고른 것은?



<보기>


- ㄱ. 상상과 현실을 구분한다.
- ㄴ. 사물을 상징화하여 표현한다.
- ㄷ. 대소변을 자기 분신으로 여긴다.
- ㄹ. 생물과 무생물을 구분할 줄 안다.

- ① ㄱ, ㄴ-----② ㄱ, ㄷ-----③ ㄴ, ㄷ

④ L, 2-----⑤ C, 2

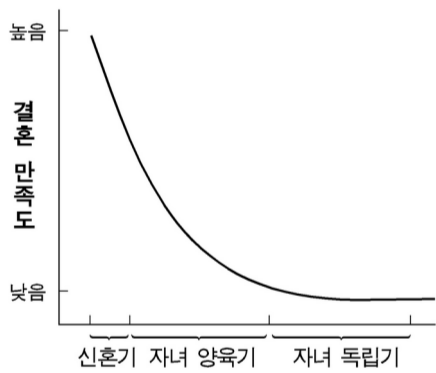


11. 다음은 어느 시기의 사고 특성을 알아보기 위한 자료이다. (가), (나)에 들어갈 내용으로 옳은 것은? [3 점]



- (가) ----- (나)
- ① 유목화-----조직화
 - ② 유목화-----중심화
 - ③ 조직화-----유목화
 - ④ 조직화-----중심화
 - ⑤ 중심화-----유목화

[12~13] 그래프는 A 씨를 대상으로 가족생활주기에 따른 결혼 만족도를 연구한 결과이다. 물음에 답하십시오.



12. 위 그래프와 같은 결혼 만족도의 변화 양상을 보이는 경우를 <보기>에서 모두 고른 것은?

<보기>

- ㄱ. 중년기의 정체감 위기를 극복하지 못할 경우
- ㄴ. 자녀 양육의 부담감이 부정적으로 나타날 경우
- ㄷ. 첫 자녀가 독립한 후 제 2의 신혼기가 나타날 경우
- ㄹ. 자녀 독립기에 배우자와 정서적 교류가 없을 경우

- ① ㄱ, ㄴ ----- ② ㄱ, ㄷ ----- ③ ㄷ, ㄹ
- ④ ㄱ, ㄴ, ㄹ ----- ⑤ ㄴ, ㄷ, ㄹ

13. 위 연구에서 사용한 접근 방법에 대한 설명으로 옳은 것은?

- ① 시간과 비용이 절약되는 연구 방법이다.
- ② 결혼 만족도에 영향을 미치는 요인을 알 수 없다.
- ③ 여러 연령층 사람들의 특성을 동시에 비교할 수 있다.
- ④ 개인의 변화보다는 그가 속한 집단의 차이를 기술한다.

⑤ 개인을 오랜 기간 동안 반복 추적해서 측정하는 방법이다.

14. 다음은 콜버그의 도덕성 발달 단계 중 어느 한 단계에 대한 내용이다. 이에 해당하는 예로 옳은 것을 <보기>에서 고른 것은?

[3 점]

이 단계의 도덕적 수준에 있는 아동은 사회 규범이나 다른 사람의 입장을 이해하지 못하고 자신의 욕구 충족에 관심이 있다.

<보기>

- ㄱ. 부모님께 야단 맞을까봐 벽에 낙서하지 않는다.
- ㄴ. 선생님의 기대에 부응하기 위해서 거짓말을 하지 않는다.
- ㄷ. 어머니께서 사주시기로 한 장난감 때문에 동생과 싸우지 않는다.
- ㄹ. 교통 질서를 준수하기 위해 보는 사람이 없더라도 무단횡단을 하지 않는다.

- ① ㄱ, ㄴ ----- ② ㄱ, ㄷ ----- ③ ㄴ, ㄷ
- ④ ㄴ, ㄹ ----- ⑤ ㄷ, ㄹ

15. 다음 글을 통해 알 수 있는 발달 원리로 가장 옳은 것은?

아동을 가르칠 때는 아동의 특성을 파악하여 그에 맞는 학습 방법을 찾는 것이 효과적이다. 즉, 읽기를 잘하고 즐거워하는 아동에게는 동화책을, 노래와 율동에 관심이 있는 아동에게는 음악을 활용한 학습방법을 적용하는 것이다.

- ① 발달은 개인차가 있다.
- ② 발달은 결정적 시기가 있다.
- ③ 발달은 일정한 순서가 있다.
- ④ 발달은 영역 간에 상호작용한다.
- ⑤ 발달은 일정한 방향으로 진행된다.

16. 그림은 죽음에 직면했을 때 나타나는 심리적 변화를 표현한 것이다. (가)~(마)를 큐블러로스가 제시한 다섯 단계에 따라 순서대로 바르게 배열한 것은? [3 점]



- ① (가) - (나) - (다) - (라) - (마)
- ② (가) - (나) - (라) - (마) - (다)
- ③ (다) - (나) - (가) - (마) - (라)
- ④ (마) - (나) - (가) - (라) - (다)
- ⑤ (마) - (다) - (가) - (나) - (라)

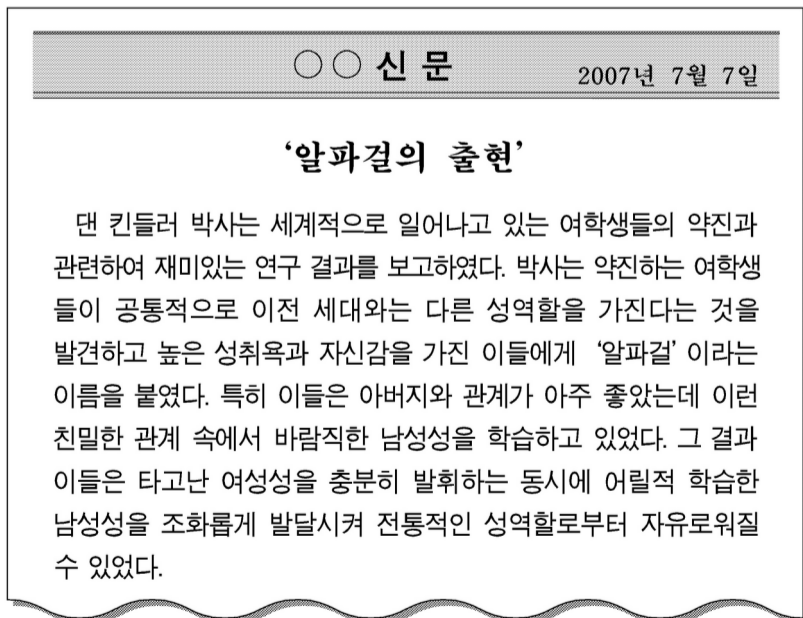
17. 다음은 어느 노인의 신체 상태를 나타낸 것이다. 이 내용을 통해 알 수 있는 신체적 증상으로 옳은 것은?



- ① 백내장-----② 골다공증
- ③ 노인성 난청-----④ 노인성 황반 변성
- ⑤ 류마티스성 관절염




- ④ 무의식 속에 잠재한 아니마를 표출한다.
- ⑤ 아니무스가 아버지의 영향으로 표출된다.

18. 다음 신문 기사에 나타난 여학생들의 성역할과 관련된 내용으로 옳은 것은? [3 점]



- ① 성역할 고정관념이 형성된다.
- ② 엘렉트라 콤플렉스가 시작된다.
- ③ 자신과 반대되는 성격체성을 갖는다.

19. 그림은 최근 사회 문제로 부각되고 있는 자녀 유형의 예이다. 이를 통해 유추할 수 있는 내용으로 옳은 것을 <보기>에서 모두 고른 것은? [3 점]

부메랑 키즈 (Boomerang kids)	키퍼스 (Kippers)	탕기 신드롬 (Tanguy Syndrome)
		
직업 없이 떠돌다 부모 집에 돌아와 생활하는 자녀	혼제언어(Kipper)와 옹크리고 잠자다(Kip)의 의미임 부모 곁으로 돌아와 할 일 없이 기대 사는 자녀	집에서 내쫓으려는 부모와 버티는 28세 자녀를 그린 2001년 영화의 주인공

<보기>

- ㄱ. 가족 확대기가 짧아지고 있다.
- ㄴ. 발달 과업의 심리사회적 위기가 나타난다.
- ㄷ. 가족 구성원의 역할 긴장이 높아질 것이다.
- ㄹ. 부모의 탈부모기로의 전환이 늦어지고 있다.

- ① ㄱ, ㄴ ----- ② ㄱ, ㄷ ----- ③ ㄷ, ㄹ
- ④ ㄱ, ㄴ, ㄹ ----- ⑤ ㄴ, ㄷ, ㄹ

20. 표는 두 가정의 자녀관을 비교한 것이다. A, B 가정의 부모 태도를 통해 알 수 있는 내용으로 옳은 것은?

가정 부모	A	B
아버지	<ul style="list-style-type: none"> ○ 자녀에게 엄격함 ○ 가정생활보다 사회 생활을 우선시 함 	<ul style="list-style-type: none"> ○ 함께 놀아주는 것이 경쟁력이라 생각함 ○ 사회 생활만큼 가정 생활도 중시함
어머니	<ul style="list-style-type: none"> ○ 자녀의 꿈은 나의 꿈이라 생각함 ○ 자녀를 위해 희생을 감수함 	<ul style="list-style-type: none"> ○ 자녀의 삶만큼 자신의 삶도 중시함 ○ 자녀에 대한 애정을 중시함

① A에서는 자녀에 대한 어머니의 책임 의식이 약하다.

② A에서는 자녀의 삶보다 부모 자신의 자아실현을 더 중요시 한다.

- ③ B에서는 부모됨의 도구적 동기가 강하다.
- ④ B에서는 부모와 자녀의 정서적 가치를 중요시 한다.
- ⑤ B에서는 권위적인 부모 역할과 가치관을 중요시 한다.

* 확인 사항

- 답안지의 해당란에 필요한 내용을 정확히 기입(표기)했는지 확인하십시오.