

제 4 교시




번호 _____

2008 학년도 대학수학능력시험

사회탐구 영

0. 그림의 대화를 보고 을의 관점에 부합하는 진술을 <보기>에 서 고른 것은?



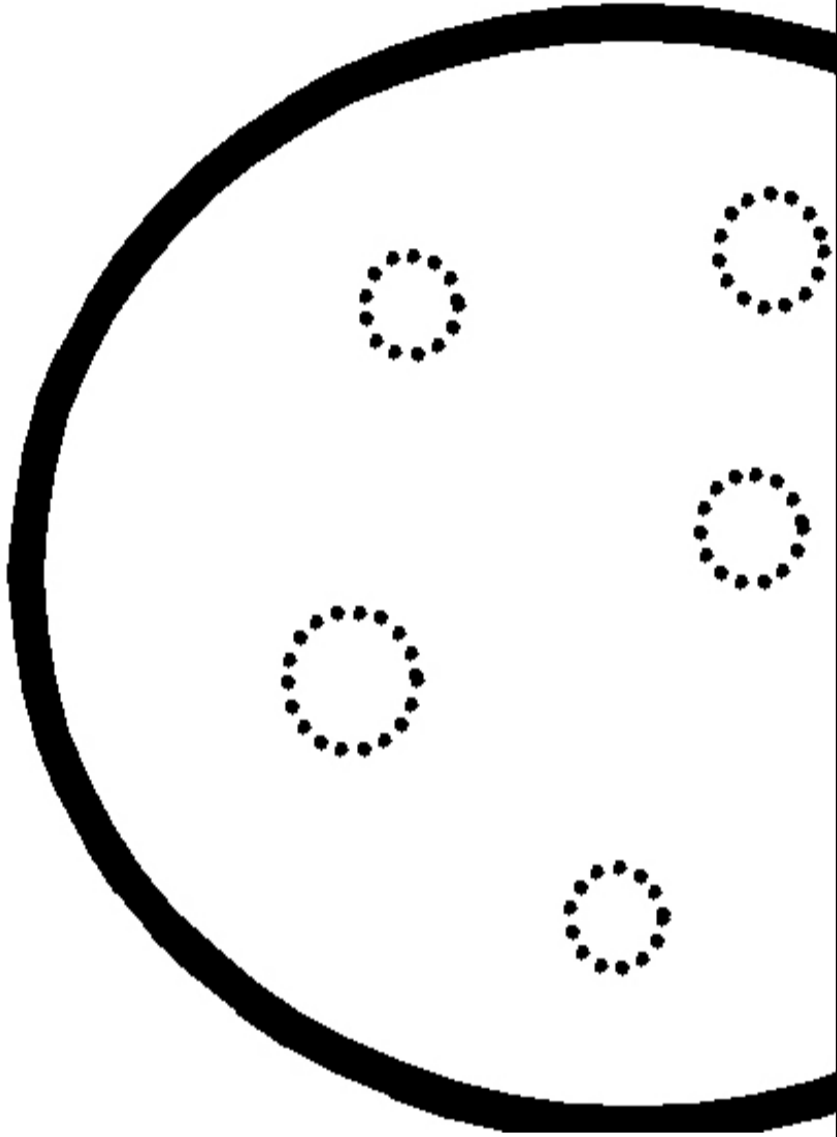
<보기>

- ㄱ. 사회 불평등은 각 개인의 능력을 극대화시켜 개인 및 사회 발전에 기여한다.
- ㄴ. 사회 불평등을 해결하기 위해서는 사회 체제 전반의 구조적 변혁이 중요하다.
- ㄷ. 사회 불평등은 사회 구성원의 의사가 반영된 차등적 분배 체계에 의한 결과이다.
- ㄹ. 기득권 집단의 생각이 옳은 것으로 널리 인식됨으로써 사회 불평등이 잘 인식되지 않거나 정당화된다.

- ① ㄱ, ㄴ-----② ㄱ, ㄷ-----③ ㄴ, ㄷ-----④ ㄴ, ㄹ-----⑤ ㄷ, ㄹ

1. (가)와 (나)는 개인과 사회의 관계에 대한 관점을 그림으로 나타낸 것이다. 이에 부합하는 사례로 적절한 것은?

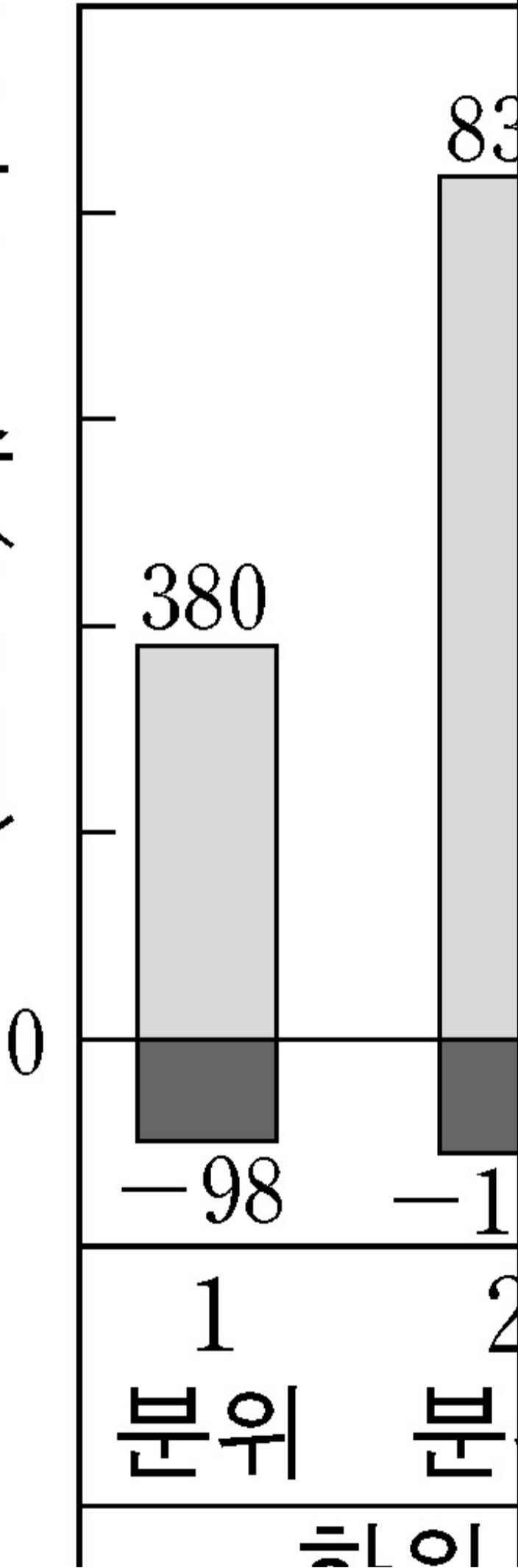
(가)



- ① (가) - 사람들은 언어를 때와 장소에 따라 가려 사용하는 법을 배워야 한다.
- ② (가) - 부동산 가격이 많이 오르는 것은 부동산에 투자하는 사람들이 많아지기 때문이다.
- ③ (가) - 학교의 학습 분위기는 학교의 전통보다는 학생들이 어떤 자세와 태도를 갖는가에 달려 있다.
- ④ (나) - 월드컵에서 세계 4강에 들 수 있었던 것은 우리 민족의 불굴의 정신이 있었기 때문이다.
- ⑤ (나) - 한국인은 모임에서 함께 어울리는 것을 좋아한다. 그러다가 분위기가 무르익으면 싫어도 노래를 해야 한다.

2. 그래프는 어느 사회의 계층별 일자리 수 변화를 나타낸 것이다. 이에 대한 적절한 분석을 <보기>에서 모두 고른 것은? [3 점]

일자리 수(천개)



〈보기〉

- ㄱ. 중간 계층의 일자리는 정규직의 감소로 인해 줄어들었다.
- ㄴ. 상위 계층은 일자리가 늘었으나 고용 상태는 다소 불안정해졌다.
- ㄷ. 전반적으로 정규직 일자리가 줄었으며, 사회 이동 가능성이 증가하였다.
- ㄹ. 하위 계층은 일자리가 다른 계층에 비해 많이 늘어났으며 고용 상태도 안정되었다.

- ① ㄱ, ㄴ ----- ② ㄱ, ㄹ ----- ③ ㄴ, ㄷ
- ④ ㄱ, ㄷ, ㄹ ----- ⑤ ㄴ, ㄷ, ㄹ

3. 표는 우리나라 국민들의 입양에 대한 견해를 보여준다. 이에 대한 옳은 분석을 〈보기〉에서 모두 고른 것은? [3 점]

〈보기〉

- ㄱ. 여자가 남자보다 입양에 대해 긍정적인 경향을 보인다.
- ㄴ. 입양에 대해 긍정적으로 생각하는 사람들이 늘고 있다.
- ㄷ. 학력 수준이 높을수록 혈연 중심의 가족을 선호하는 경향을 보인다.
- ㄹ. 학력 수준이 높을수록 입양 여부에 대해 의사를 결정한 비율이 높다.

- ① ㄱ, ㄷ ----- ② ㄱ, ㄹ ----- ③ ㄴ, ㄹ
- ④ ㄱ, ㄴ, ㄷ ----- ⑤ ㄴ, ㄷ, ㄹ

구

자녀를 원하
이 어려운
극 고려해 보

자녀 유무에
여건이 허락
을 하고 싶다

4. 다음 글에서 파악할 수 있는 개념을 <보기>에서 모두 고른 것은?

초등학교에 입학했을 때 나는 1학년 1반에 배정을 받아 운동회 때 백군이 되어 응원을 했다. 2학년, 3학년 때에는 백군 선수 대표로 뛰기도 했다. 그런데 4학년이 되어서는 청군이 되었다. 생전 처음으로 청군의 틈바구니에서 응원을 하게 된 것은 마음의 갈등을 불러왔다. 나는 내가 적군이 된 것 같았다. 백군의 무리는 나를 무정하게 청군의 틈바구니에 내던지고 “너는 이제 우리 편이 아니야.”하고 말하는 것 같았다.

<보 기>

ㄱ. 성취 지위----- ㄴ. 역할 갈등-
 ㄷ. 이익 사회----- ㄹ. 자발적 결사체

- ① ㄱ, ㄷ-----② ㄱ, ㄹ-----③ ㄴ, ㄷ
 ④ ㄱ, ㄴ, ㄷ-----⑤ ㄴ, ㄷ, ㄹ

5. 자료는 어느 나라의 도시와 농촌의 변화를 나타낸 것이다. 이에 대한 분석으로 가장 적절한 것은? [3 점]

<절대 빈곤>

구 분		1
절대 빈곤율	도시	5
	농촌	3
상대 빈곤율	도시	1
	농촌	1

*** 절대 빈곤율 : 기**

**** 시대 비교율 · 기**

- ① A 기간에 농촌의 절대 빈곤율은 감소했으나 상대 빈곤율은 지속적으로 증가하였다.
 ② A 기간은 도시화가 가속화된 시기로 이 때에 도시, 농촌 모두 상대 빈곤율이 감소하였다.

- ③ 1965년에 도시는 인구의 절반 이상이 절대 빈곤 상태로 농촌보다 소득이 적었다.
- ④ 1970년대 농촌에서 이촌 향도 현상 및 상대 빈곤의 심화가 동시에 나타났다.
- ⑤ 1970년대 도시의 절대 빈곤율은 지속적으로 감소했으나 상대 빈곤율은 지속적으로 증가하였다.

6. 표는 우리나라의 사회 보장 제도를 구분한 것이다. (가)~(라)에 대한 설명으로 옳은 것은?

사회
(가)

- ① (가)는 강제 가입 방식, (라)는 임의 가입 방식이다.
- ② (나)는 (라)에 비해 소득 재분배 효과가 크다.
- ③ (다)는 (라)에 비해 근로 의욕을 저하시키는 부작용이 크다.
- ④ (다)는 국가가 전액 부담하고, (라)는 수혜자 부담 원칙이 적용된다.
- ⑤ (라)는 소득, 재산, 건강 상태, 의무 부양자 평가를 통해 수급 자격이 결정된다.

7. (가)와 (나)는 두 연구 주제에 대한 서로 다른 연구 방법이다. 이에 대한 설명으로 옳은 것은?

1970년대 ○
삶에 대한 사
학부모의 자
결정 간 상관

- ① (가)는 연구 대상자에 대한 연구자의 감정 이입적 이해를 중시한다.
- ② (나)는 계량화되기 어려운 주관, 가치, 관념 등의 분석에 더 관심을 갖는다.
- ③ (가)는 (나)보다 개념의 조작적 정의를 통한 측정을 강조한다.
- ④ (가)는 모집단의 특성 추정, (나)는 개별 사례들의 특성 해석을 중시한다.
- ⑤ (가)는 일반적 법칙 발견에, (나)는 사회·문화 현상의 의미 이해에 주 목적이 있다.

8. 다음 글의 밑줄 친 ㉠~㉣은 특정 사회를 비유적으로 표현한 것이다. 이에 대한 각 사회의 일반적 특징으로 가장 적절한 것은? [3 점]

현대 사회에서는 직업 구조에 있어서 지식을 기반으로 하는 서비스 직종의 고용이 지배적이다. 이에 따라 정보 자원의 활용을 바탕으로 한 ㉠ '사람들 사이의 경쟁'이 강조된다. 이것은 농업 중심의 직업 구조를 바탕으로 ㉡ '자연에 대한 경쟁'을 중시했던 사회와 구별되고, 공장에서의 대량 생산을 가능하게 만든 제조업 중심의 직업 구조를 바탕으로 한 ㉢ '제조된 자연에 대한 경쟁'을 강조하였던 사회와도 구별되는 특성이다.

- ① ㉠ - 소비자와 생산자의 역할이 명확히 구분된다.
- ② ㉠ - 동질성이 강하고, 공식적인 통제가 일반적이다.
- ③ ㉡ - 대부분의 사회 조직이 포괄적 기능을 수행한다.
- ④ ㉢ - 가정과 일터의 통합 정도가 강하다.
- ⑤ ㉢ - 다원화된 분권적 조직이 일반적이다.

9. 다음은 노인 문제에 관한 수행 과제이다. 각 관점에 부합하는 결론을 제시하지 못한 학생은? [3 점]

◎ 수행 과제

◎ 사회 문제

거시적

안정 강조

A 모둠

(갑, 을)

- ① 갑 : 사회가 노인 집단의 새로운 욕구에 적절히 대응하지 못하고 있기 때문이다.
- ② 을 : 노인들이 사회 체계의 유지와 발전에 공헌하지 못하고 있기 때문이다.
- ③ 병 : 노인 집단이 생산 활동 집단에 의해 구조적으로 희소 자원의

접근과 소유 기회를 박탈당하고 있기 때문이다.

- ④ 정 : 세대 간 접촉 빈도가 줄어들면서 노인의 심리적 소외 현상이 심각해지기 때문이다.
- ⑤ 무 : 다수의 사회 구성원이 노인을 가난하고 외롭고 의존적인 존재로 보기 때문이다.

10. 그림은 민법 개정에 따른 가족 관련 문서의 변화를 나타낸 것이다. 이로부터 도출할 수 있는 적절한 내용을 <보기>에서 모두 고른 것은?

○가족 모두
기록
○개인의 선택
관한 모든
○자녀는

<보기>
ㄱ. 가족의 양육과 보호 기능이 약화되고 있다.
ㄴ. 개인의 비밀과 사생활을 보호하는 방향으로 변화하고 있다.
ㄷ. 남성 중심의 사회에서 여성 중심의 사회로 변화하고 있다.
ㄹ. 상대적으로 (가)는 가족 공동체를, (나)는 가족 구성원 개개인을 강조하고 있다.

- ① ㄱ, ㄴ ----- ② ㄱ, ㄷ ----- ③ ㄴ, ㄹ
④ ㄱ, ㄷ, ㄹ ----- ⑤ ㄴ, ㄷ, ㄹ

11. 그림은 A국과 B국의 신문에 난 부고의 사례이다. 이에 대한 적절한 추론을 <보기>에서 모두 고른 것은? [3 점]

A국 ○ ○

부 고

김○○(회계사)
○○(△△건설 사
○(△△공사 부
(△△기업 과장)

9일 10시 △△병
발인 11일 7시
장지 △△공원
연락처 000-00

〈보기〉

- ㄱ. A 국의 부고에 남성 중심적 사고가 보인다.
- ㄴ. 장례는 사적 영역에서 이루어지는 가족 내 문제이다.
- ㄷ. 가족 구성원의 직업 지위는 A 국의 부고에서 상대적으로 더 중요한 의미를 갖는다.
- ㄹ. A 국의 부고는 사망을 알리는 성격이, B 국의 부고는 장례식 참석을 부탁하는 성격이 강하다.

- ① ㄱ, ㄴ-----② ㄱ, ㄷ-----③ ㄴ, ㄹ
- ④ ㄱ, ㄷ, ㄹ-----⑤ ㄴ, ㄷ, ㄹ

12. 그림은 사회 변화에 따른 특징적인 문화 양상을 각각 나타낸 것이다. 이에 대한 설명으로 적절하지 않은 것은?

(가)
오페라 승마, 사
신분제 사회 세력들이 문화로 성향이 강

① (가)문화에서는 폐쇄적 성격이 나타난다.

- ② (나)문화에 대해 본격적인 상업화가 이루어졌다.
- ③ (다)문화는 다양성을 경험할 수 있는 기회를 제공한다.
- ④ (나)문화보다 (다)문화에서 수동적인 형태의 참여가 잘 나타난다.
- ⑤ (가)와 (다)의 문화는 (나)문화에 비해 향유자가 한정적이다.

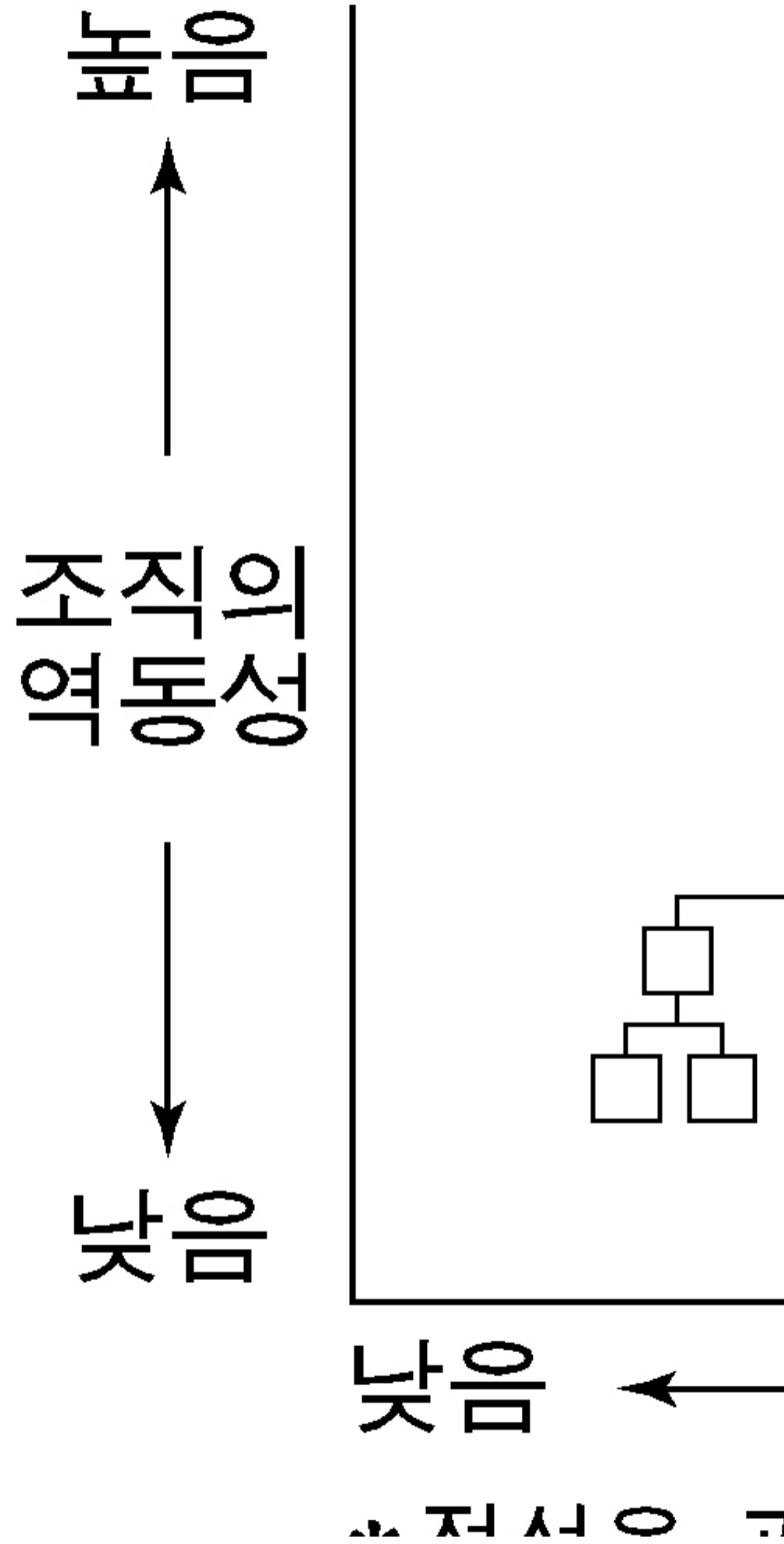
13. 다음 조사 설계에 대한 분석으로 적절하지 않은 것은? [3 점]

- 주제 : 00기업
- 조사 방법

대상	지
표본 수	
자료 수집	
표집	
조사 기간	

- ① 측정 도구의 타당도 문제가 제기될 수 있다.
- ② 통계 처리가 쉬운 양적 자료를 활용하고자 한다.
- ③ 특정 대상자들이 표본으로 많이 선정될 수 있다.
- ④ 변수와 변수 간의 관계 검증에 관심을 두고 있다.
- ⑤ 이메일 설문과 전화 설문의 모집단은 서로 배타적이다.

14. 그림은 사회 조직의 일반적인 변화를 나타낸 것이다. 이에 대한 적절한 추론을 <보기>에서 고른 것은?



〈보기〉

- ㄱ. A에서 C로 변화함에 따라 부서 간 경계가 약화된다.
- ㄴ. B에서 C로 변화함에 따라 외부 환경 대처 능력이 향상된다.
- ㄷ. A는 수직적, B와 C는 수평적 의사 결정 구조이다.
- ㄹ. B는 A보다 창의성이, C보다 유연성이 떨어진다.

- ① ㄱ, ㄴ-----② ㄱ, ㄷ-----③ ㄴ, ㄷ-----④ ㄴ, ㄹ-----⑤ ㄷ, ㄹ

15. 다음 두 사례에서 공통적으로 나타날 수 있는 문제점을 해결하기 위한 대책으로 가장 적절한 것은? [3 점]

- 국가는 빠른 성장을 위해 거점 지역을 지정하고 자원을 집중적으로 투입하여 집적 이익을 추구하는 개발을 추진하였다.
- △△ 지방자치단체는 환경 파괴를 우려하는 지역 주민들의 반대에도 불구하고 지역의 수려한 자연 환경을 활용하는 대규모 관광 단지 조성 사업을 지속적으로 추진하였다.

- ① 국가 전체의 균형적인 개발
- ② 지역의 특성을 고려한 개발
- ③ 주민들의 의사를 반영하는 개발
- ④ 지역 이기주의를 극복하는 개발
- ⑤ 지방자치단체 간의 형평성을 고려한 개발

16. 다음 대화에서 병의 입장에 부합하는 진술을 <보기>에서 고른 것은?

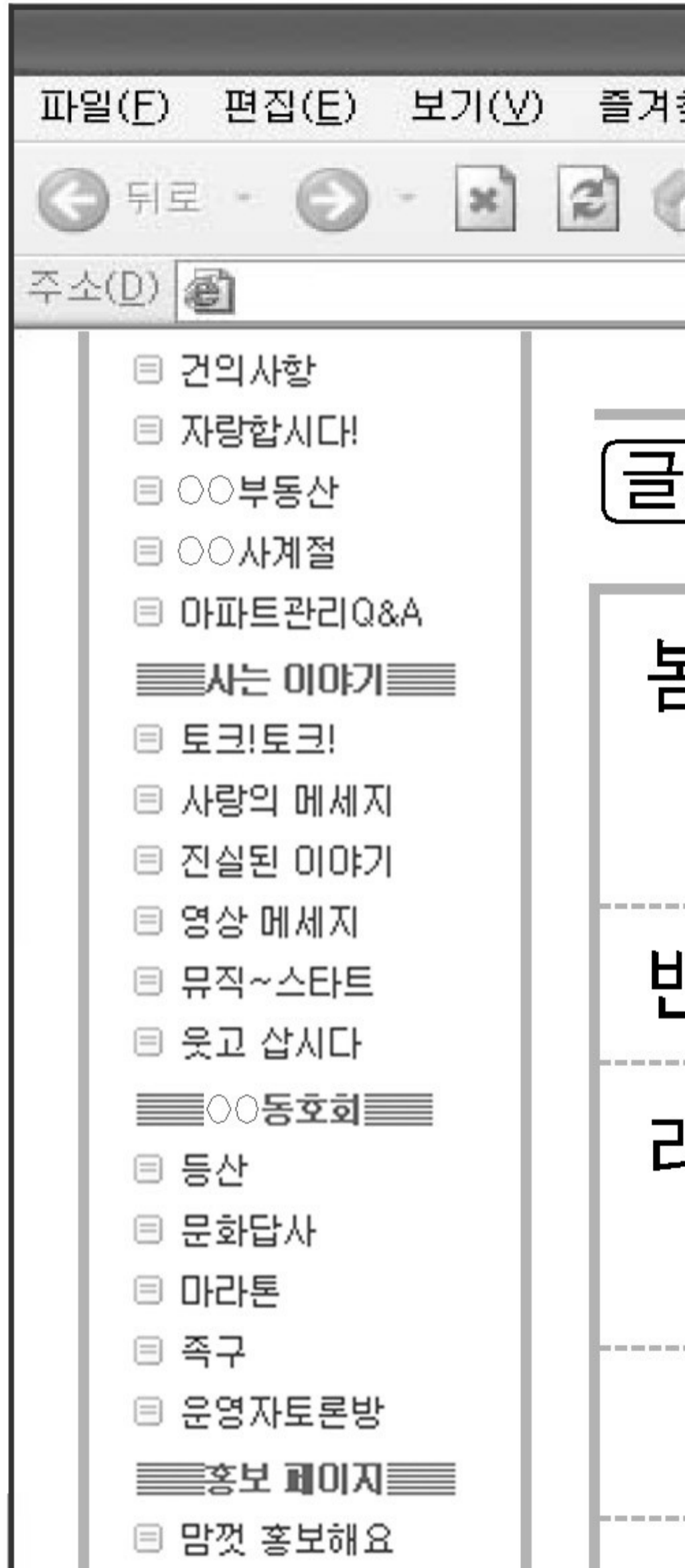
갑 : 여성과 남성의 차이는 유전자 수준에서 이미 결정되는 자연적인 현상이야.
 을 : 아니야, 성(性) 차이는 전적으로 사회·문화적으로 형성되는 거야.
 병 : 생물학적 성 차이가 존재한다는 건 분명히 인정해야 해. 그러나 그 차이가 보편적이고 확정적인 차이로 인식되어 가는 과정은 사회·문화적 현상이야. 우리의 사고도 그것으로부터 많은 영향을 받아.

<보기>

- ㄱ. 여성이라고 군대에 가지 않는 것은 부당하다. 여성도 남성과 똑같은 조건에서 복무할 수 있고, 그래야만 공평하다.
- ㄴ. 여자 아이와 사내 아이는 우는 모습도 다르다. 갓난 아이들의 행동을 보더라도 타고난 성별 차이가 존재한다는 것은 분명하다.
- ㄷ. 남성의 키가 여성보다 평균적으로 큰 것은 사실인데, 그렇다고 해서 적지 않은 남성들이 자신의 키에 대해 열등감을 갖는 것이 설명되는 것은 아니다.
- ㄹ. 여성이 남성보다 공간 지각 능력이 떨어진다는 주장에 생물 진화론적 근거가 없는 건 아니지만, 그것이 성장 환경에 의해 많은 영향을 받는다는 걸 간과하고 있다.

- ① ㄱ, ㄴ-----② ㄱ, ㄷ-----③ ㄴ, ㄷ-----④ ㄴ, ㄹ-----⑤ ㄷ, ㄹ

17. 그림은 어느 아파트 동호회 홈페이지 게시판의 내용이다. 이에 대한 옳은 설명을 <보기>에서 고른 것은? [3 점]



〈보기〉

- ㄱ. ㉠은 주민들의 정보 불평등은 해소할 수 있으나 정보 접근성을 높이는 어렵다.
- ㄴ. ㉡과 같은 표현은 네티즌의 새로운 하위 문화로 볼 수 있다.
- ㄷ. 온라인을 통한 의사소통이 오프라인 공간에서의 주민 교류를 활성화하고 있다.
- ㄹ. 온라인 동호회는 아파트 주민들의 자발적인 모임이지만 사회 집단으로 보기는 어렵다.

- ① ㄱ, ㄴ ----- ② ㄱ, ㄷ ----- ③ ㄴ, ㄷ ----- ④ ㄴ, ㄹ ----- ⑤ ㄷ, ㄹ

18. 다음 연구 결과에 대한 올바른 분석 및 추론을 〈보기〉에서 모두 고른 것은? [3 점]

연구 주

질문 : 귀

- 조사 대
- 표본 수
- 분석 대

항목 지

자녀

〈보기〉

- ㄱ. 조사 결과를 일반화하는데 한계가 있다.
- ㄴ. 독립 변수는 외국인 배우자의 사회적 적응 문제이고 종속 변수는 거주 지역이다.
- ㄷ. 농촌 거주 외국인 배우자가 가장 크게 느끼는 사회적 적응 문제는 문화적 차이이다.
- ㄹ. 지역과 항목에 따라 어렵지 않다는 응답이 어렵다는 응답보다 더 많은 경우도 있다.

- ① ㄱ, ㄴ ----- ② ㄱ, ㄷ ----- ③ ㄴ, ㄹ
- ④ ㄱ, ㄷ, ㄹ ----- ⑤ ㄴ, ㄷ, ㄹ

19. 다음 글의 관점에 부합하는 진술을 <보기>에서 고른 것은?

- 문화가 일상적 삶을 설명하는 핵심 코드가 되어 가는 오늘날에는 ‘보다 발전되고 고양된 상태’를 뜻하는 좁은 의미의 문화 이해 방식을 넘어설 필요가 있다.
- 문화는 일정한 영토 내에 사는 사람들이 공유하고 있는 보편적 특성이라는 관념이 흔들리고 있다. 문화적 양상의 혼재가 일반화되고 있어 지역적, 국가적 차이를 설명하는데 집중되어 온 문화 개념의 확장이 요구된다.

〈보기〉

- ㄱ. 고유한 문화적 정체성을 지켜 나가는 것이 점점 더 중요해지고 있어.
- ㄴ. 문화 생활을 제대로 누리려면 적어도 클래식 악기 하나 정도는 다룰 수 있어야지.
- ㄷ. 일부 청소년들이 매운 음식을 싫어하고, 밥보다 피자를 좋아하는 것도 문화적인 것이야.
- ㄹ. 지역 별로 사람들의 문화적 특성이 자주 비교되는데 그건 자칫하면 지역 내부의 문화적 차이를 보지 못하게 만들어.

- ① ㄱ, ㄴ ----- ② ㄱ, ㄷ ----- ③ ㄴ, ㄷ ----- ④ ㄴ, ㄹ ----- ⑤ ㄷ, ㄹ

* 확인 사항

- 답안지의 해당란에 필요한 내용을 정확히 기입(표기)했는지 확인하시오.