

제 4 교시



번호

2008 학년도 대학수학능력시험

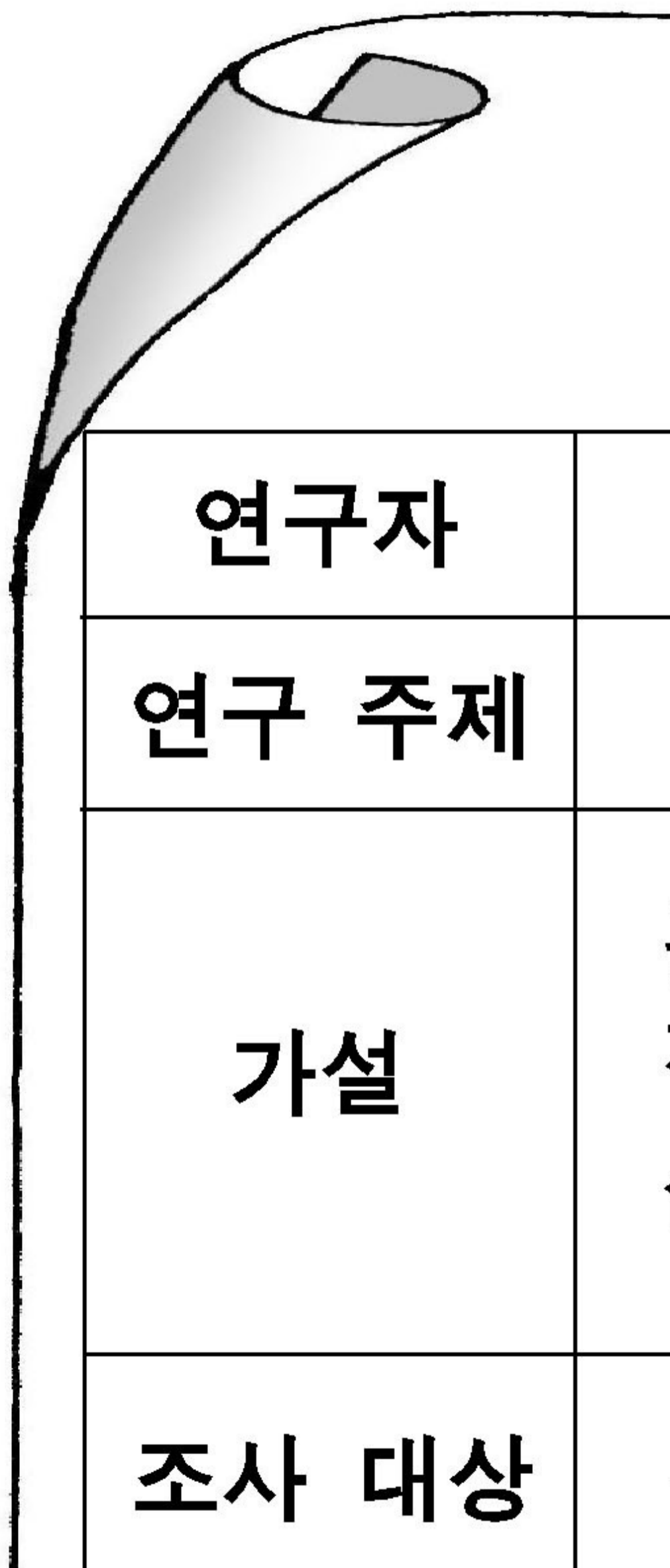
사회탐구

0. 다음 경제학자의 주장에 부합하는 정책으로 가장 적절한 것은?



- ① 공공 주택 건설을 확대한다.
- ② 경기 안정화 정책을 실시한다.
- ③ 의료 보험 제도를 확대 실시한다.
- ④ 민간 경제 부문의 자율성을 확대한다.
- ⑤ 낙후 지역에 대한 교육 지원을 강화한다.

1. 그림은 학생들이 '비합리적인 소비 유형'에 대해 작성한 수행 평가 보고서의 일부이다. 이에 대한 진술로 가장 타당한 것은?



<p>연구자</p>	
<p>연구 주제</p>	
<p>가설</p>	
<p>조사 대상</p>	

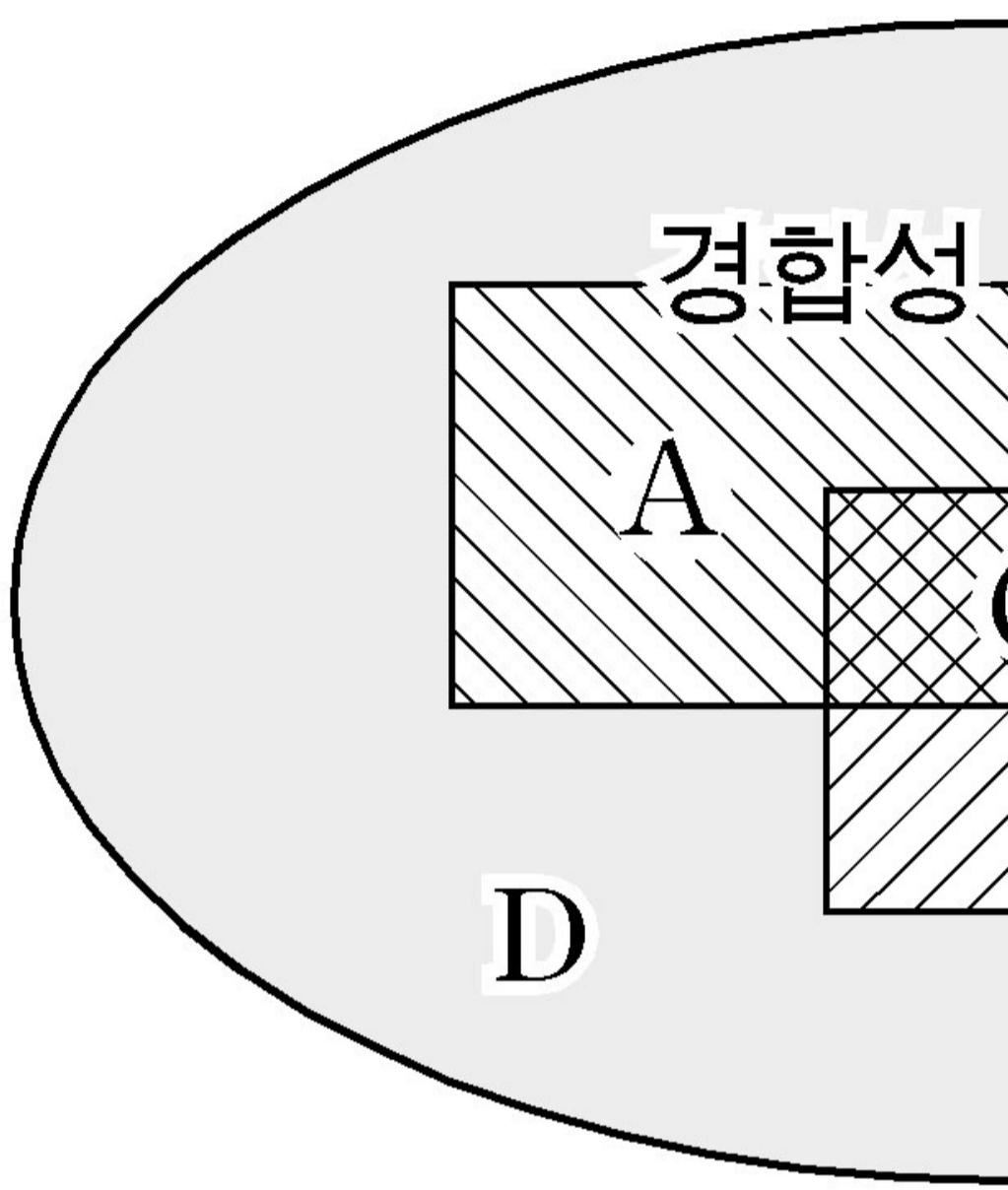
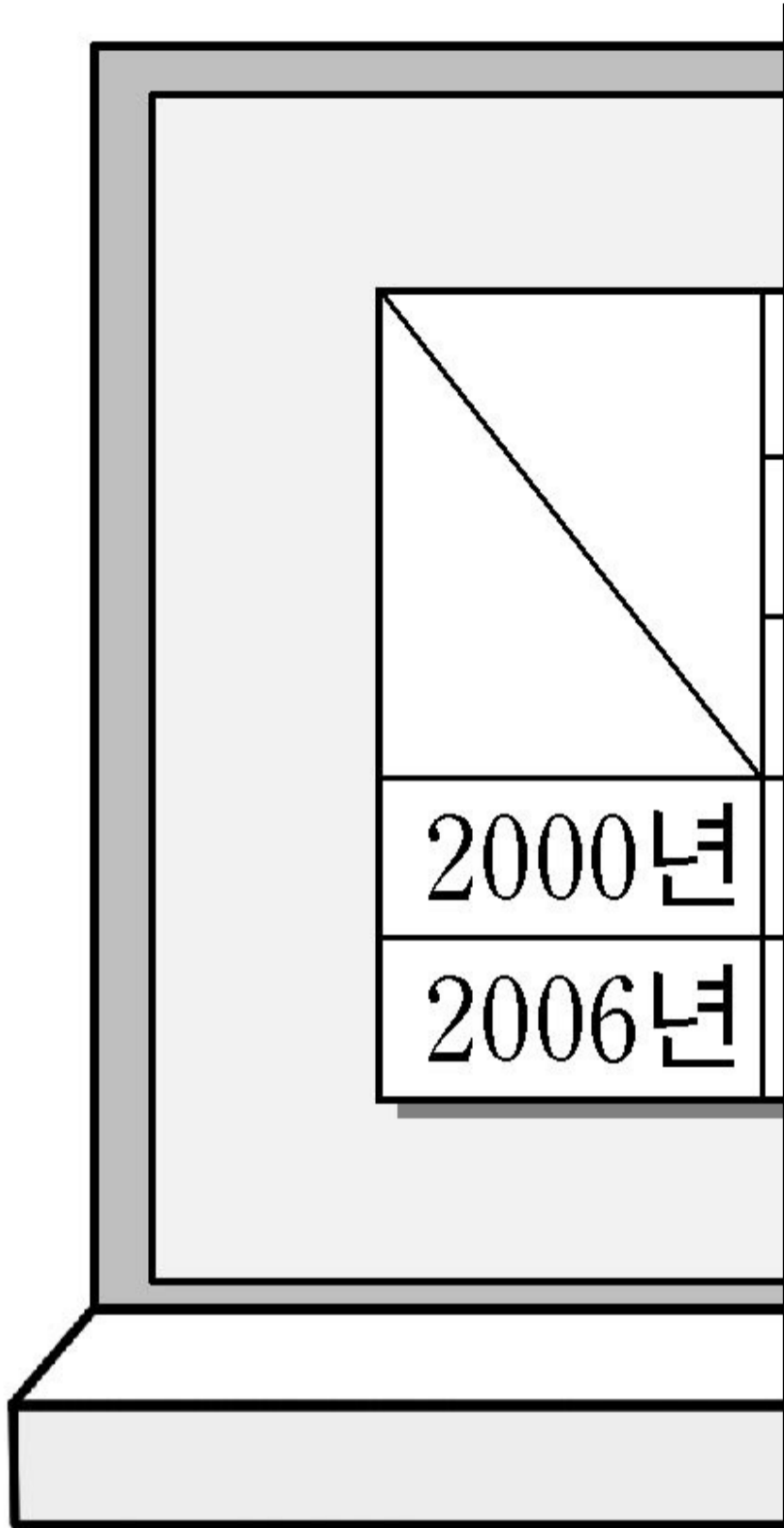
- ① A의 경우 기업 마케팅의 중요성이 낮다.
- ② A의 대표적인 사례로는 사례를 들 수 있다.
- ③ B에는 '자신에 대한 다른 사람들의 평가가 소비의 결정에 있어 중요한 요인이다'라는 가설이 적합하다.
- ④ C에는 '물건 구입 시 가격 상승으로 인한 투기적 이익을 고려하는 정도는?'이라는 질문이 적합하다.
- ⑤ D에는 '신용 카드 결제일은?'이라는 질문이 적합하다.

2. 그림은 국민 경제 주체의 상호 관계를 나타낸 것이다. 이에 대한 설명으로 옳은 것은? [3 점]



- ① 기업에 대한 보조금의 지급은 (가)에서 가격을 상승시키는 요인이다.
- ② 기업에 대한 세율의 인상은 (나)에서 공급 곡선을 이동시키는 요인이다.
- ③ 가계에 대한 세율의 인상은 (가)에서 공급 곡선을 이동시키는 요인이다.
- ④ 가계는 (나)에서 수요자의 역할을 한다.
- ⑤ 정부는 최저 임금제 등을 통해 (나)에 개입한다.

3. 그림은 교사가 어느 나라의 노동 가능 인구 구성 변화를 제시한 것이다. 이에 대한 옳은 설명을 <보기>에서 고른 것은?



- ① A 재화는 한 사람의 소비가 다른 사람의 소비를 제한하는 속성을 지닌다.
- ② B 재화의 예로는 공해상의 어족 자원을 들 수 있다.
- ③ C 재화의 예로는 가로등을 들 수 있다.
- ④ D 재화는 사회적 최적 수준보다 과다 생산되는 속성을 지닌다.
- ⑤ 진입 장벽이 있는 시장의 재화는 B 보다 A 재화의 속성을 지닌다.

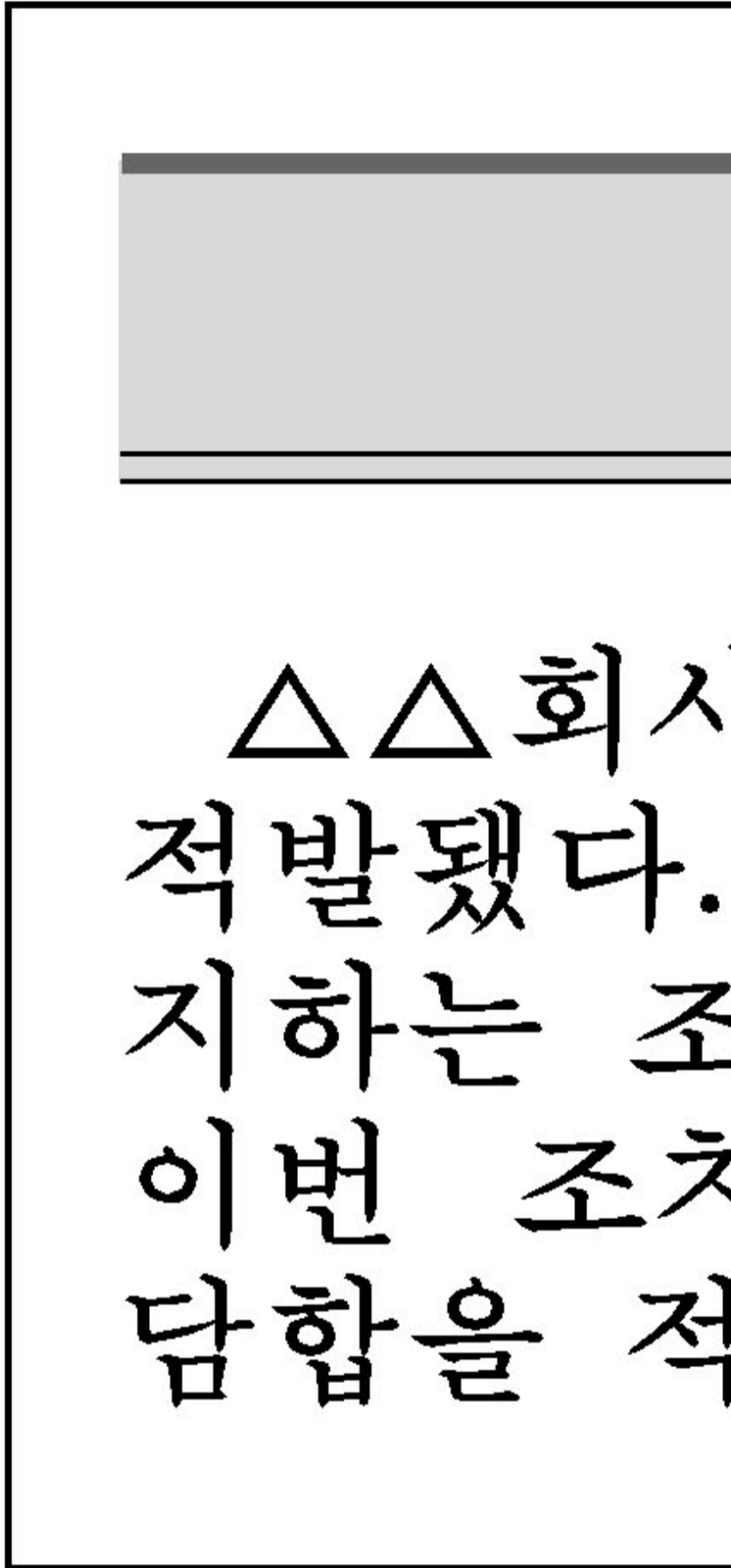
<보기>

ㄱ. 실업률이 감소하였다.
 ㄴ. 노동 시장의 초과 공급이 증가했다.
 ㄷ. 구직 포기자의 증가는 (가)의 감소 요인이다.
 ㄹ. 실업 급여의 증가는 (나)의 증가 요인이다.

- ① ㄱ, ㄴ-----② ㄱ, ㄷ-----③ ㄴ, ㄷ-----④ ㄴ, ㄹ-----⑤ ㄷ, ㄹ

4. 그림은 재화를 두 가지 기준으로 분류한 것이다. 이에 대한 설명으로 옳은 것은? [3 점]

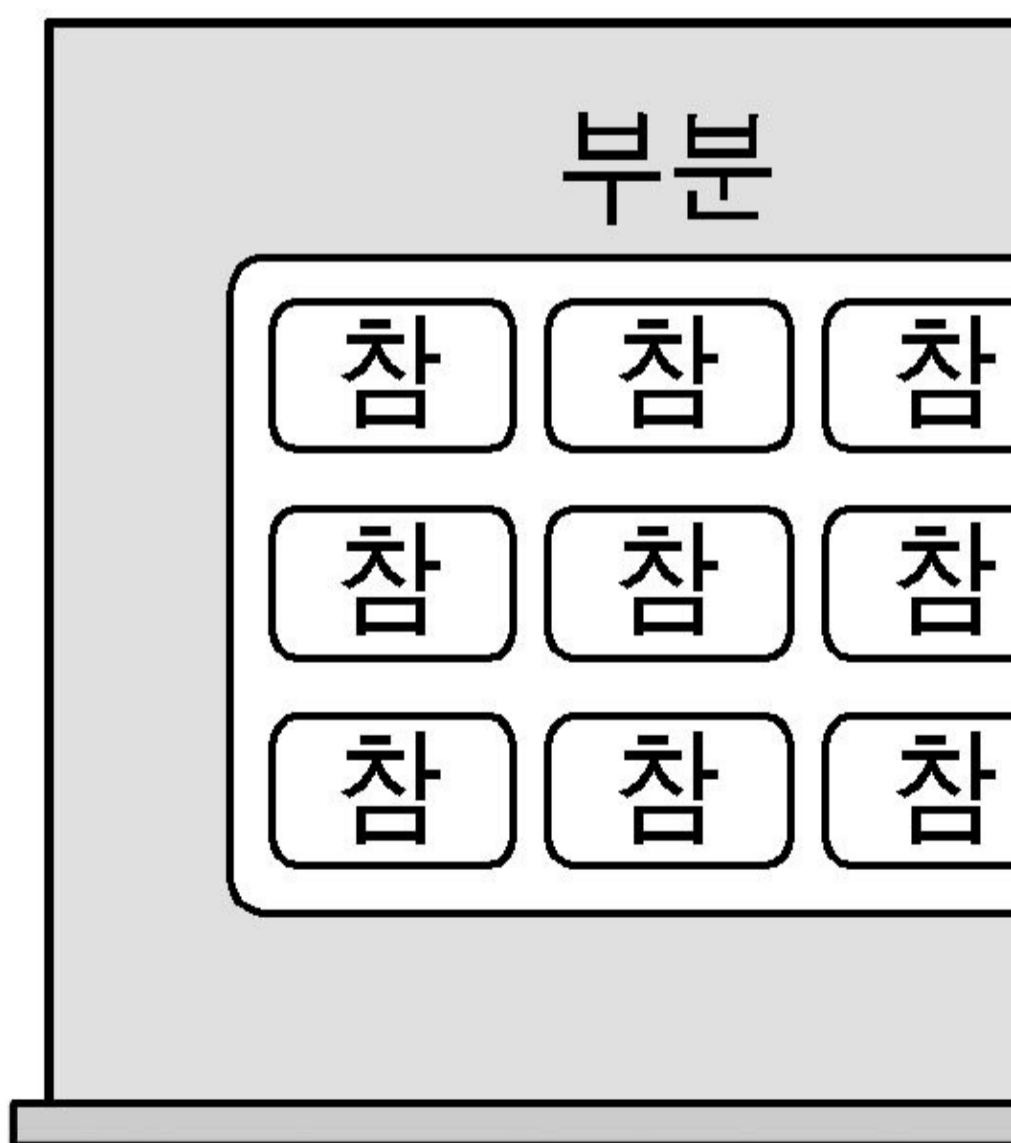
5. 다음 신문 기사와 관련된 정부 기관의 활동에 해당하는 것은?



- ① 도로 및 항만의 공급
- ② 기술 혁신에 대한 특허권 제도 강화
- ③ 개인의 숲 가꾸기 사업에 대한 보조금 지원
- ④ 공해 유발 행위에 대한 정화 시설의 설치 명령
- ⑤ 경쟁 업체들 간 허위 광고 행위에 대한 시정 명령

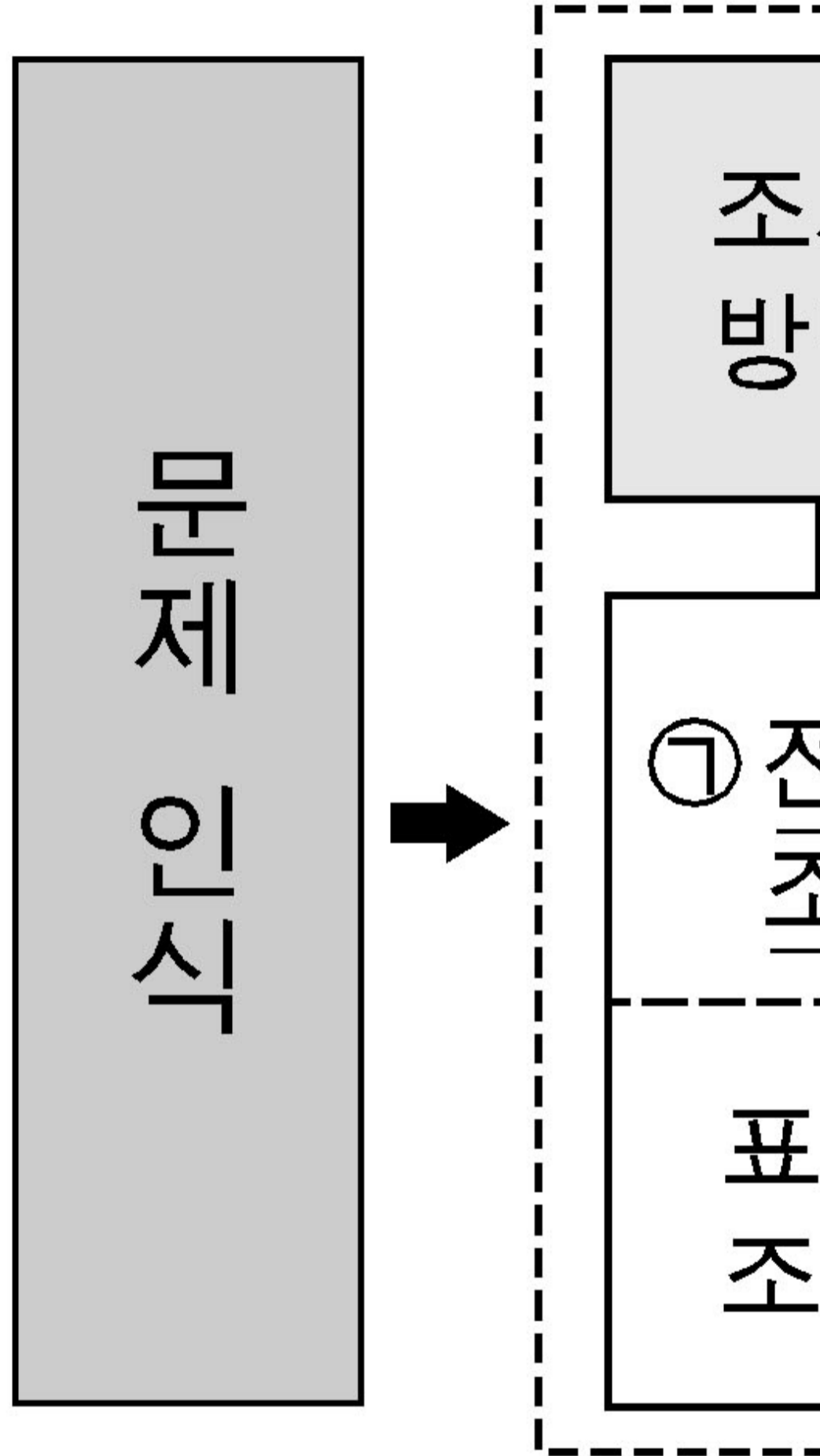
6. 그림과 같은 논리에 기초하여 밑줄 친 부분에 대한 사례를 짚지은 것으로 적절하지 않은 것은?

어떤 사람들은
생각합니다. 그러
가 반드시 참인
경제에서도 각
행동이 반드시 ㉠



- | | | |
|--------------|-------|----------|
| ㉠ | ----- | ㉡ |
| ① 과소 생산 | ----- | 풍요 속의 빈곤 |
| ② 불법 복제 | ----- | 기술 발전 저해 |
| ③ 무임 승차 | ----- | 공공재 부족 |
| ④ 자가용 출근 | ----- | 교통 체증 |
| ⑤ 무분별한 자원 채취 | --- | 자원 고갈 |

7. 그림은 경제 정보의 수집 및 활용 과정이다. 이와 관련된 설명으로 옳은 것은? [3 점]



- ① 소비자 물가 지수는 ㉠에 의해 작성한다.
- ② ㉡은 기준 연도의 값을 이용하여 작성한다.
- ③ ㉢은 물가 상승분을 고려하여 작성한다.
- ④ ㉣은 경제 성장률과 같이 기준 시점으로부터 현 시점까지의 변화 속도와 폭을 나타낸다.
- ⑤ ㉤은 실업률과 같이 비교하고자 하는 변수들의 상대적 비중을 나타낸다.

[9~10] 다음 자료를 읽고 물음에 답하시오.

대

○○○국 가
A, B, C 세
출량이 허용
게 배출권을
다. 각 기업
배출권을 구
기관에 대처

8. 위 제도에 대한 설명으로 옳은 것은?

〈보기〉

- ㄱ. 오염 물질 배출권은 재화의 일종이다.
- ㄴ. 사회 전체의 환경 보호 비용을 증가시킨다.
- ㄷ. 외부 효과의 원인 제공자에게 비용을 부담하게 한다.
- ㄹ. 시장의 가격 기능보다 정부의 직접 규제를 강조한다.

- ① ㄱ, ㄴ ----- ② ㄱ, ㄷ ----- ③ ㄴ, ㄷ ----- ④ ㄴ, ㄹ ----- ⑤ ㄷ, ㄹ

9. 위 제도의 도입에 따른 영향으로 옳지 않은 것은? [3 점]

- ① A 기업은 이 제도의 시행으로 새로운 수익이 발생할 것이다.
- ② B 기업이 자체적인 오염 물질 정화를 선택한다면 정화 비용은 130,000 원일 것이다.
- ③ C 기업은 배출권의 구입보다는 자체적인 오염 물질 정화를 선호할 것이다.
- ④ 오염 물질 배출권의 거래량은 오염 물질 70 톤에 해당할 것이다.
- ⑤ 오염 물질 배출권의 균형 가격은 톤당 11,000 원과 13,000 원 사이에서 결정될 것이다.

10. 다음 글에 대한 옳은 설명을 <보기>에서 고른 것은?

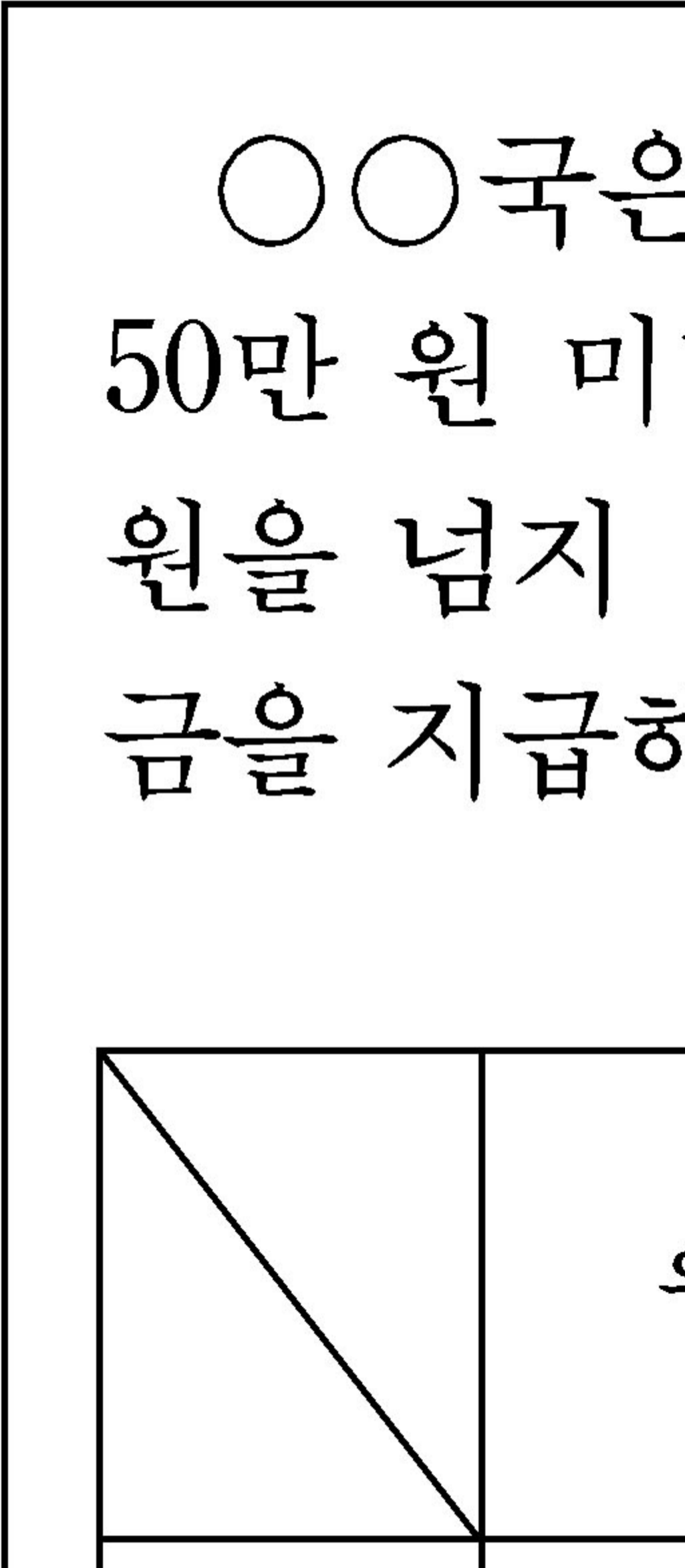
1960년대에는 값비싼 쌀밥만을 먹고 사는 사람들이 그리 많지 않았고, 대부분의 가정에서는 값싼 보리밥을 주로 먹었다. 그 후 사람들의 소득이 증가하면서 쌀 소비는 늘어난 반면 보리 소비는 오히려 줄어들었다.

<보기>

- ㄱ. 쌀은 정상재이고 보리는 열등재이다.
- ㄴ. 소득 증가는 쌀 공급을 감소시키는 요인이다.
- ㄷ. 소득 증가는 쌀 가격을 상승시키는 요인이다.
- ㄹ. 소득 증가는 보리 가격을 상승시키는 요인이다.

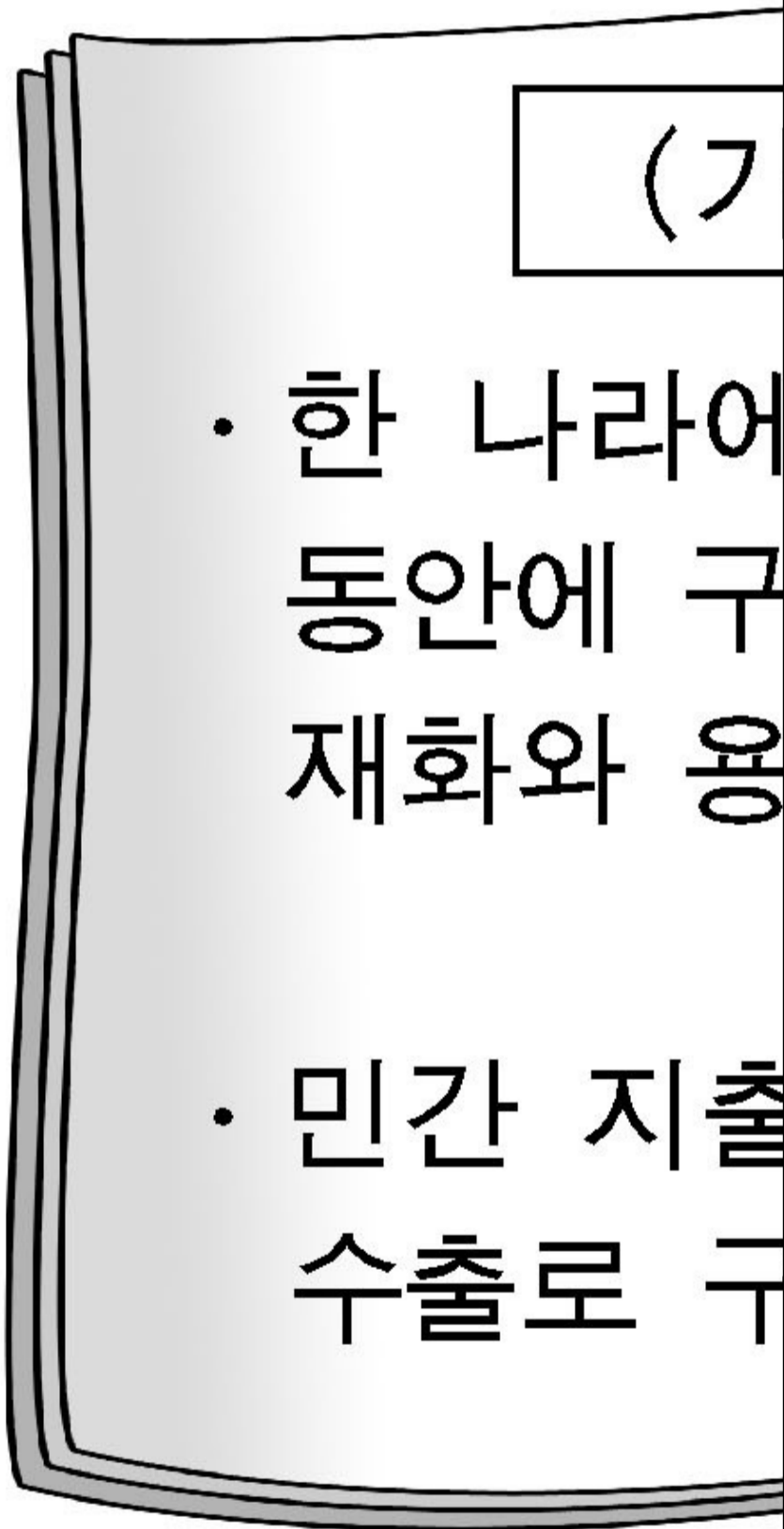
- ① ㄱ, ㄴ-----② ㄱ, ㄷ-----③ ㄴ, ㄷ-----④ ㄴ, ㄹ-----⑤ ㄷ, ㄹ

11. 다음 자료에서 연금법 개정 전·후에 대한 비교로 옳은 것은?



- ① 갑의 이전 소득은 증가할 것이다.
- ② 을의 이전 소득 감소가 가장 클 것이다.
- ③ 병의 비경상 소득은 감소할 것이다.
- ④ 갑과 을의 이전 소득은 모두 감소할 것이다.
- ⑤ 갑, 을, 병의 이전 소득 총합은 증가할 것이다.

12. 그림은 어느 학생의 경제 노트 내용이다. 이와 관련된 옳은 설명을 <보기>에서 고른 것은? [3 점]



<보기>

- ㄱ. 기업의 투자 증가는 (가)를 감소시키는 요인이다.
- ㄴ. 정부의 소득세 인하는 (가)를 증가시키는 요인이다.
- ㄷ. 생산 기술 향상은 (나)를 증가시켜 물가를 상승시키는 요인이다.
- ㄹ. 원자재 가격의 상승은 (나)를 감소시켜 스태그플레이션을 유발할 수 있는 요인이다.

- ① ㄱ, ㄴ-----② ㄱ, ㄷ-----③ ㄴ, ㄷ-----④ ㄴ, ㄹ-----⑤ ㄷ, ㄹ

[14~15] 다음 자료를 읽고 물음에 답하시오.

원/달러
원/100엔
엔/달러

* 한국, 미국,

13. 위 (가)와 (나)에 대한 설명으로 옳은 것은?

- ① 원화의 가치는 달러에 대해 하락했다.
- ② 달러의 가치는 엔화에 대해 하락했다.
- ③ 엔화의 가치는 원화에 대해 상승했지만 달러에 대해서는 하락했다.
- ④ 환율 변화는 내수 시장에서 A 기업의 수익성을 악화시키는 요인이다.
- ⑤ 환율 변화는 미국보다 일본 시장에서 A 기업의 가격 경쟁력을 더 악화시키는 요인이다.

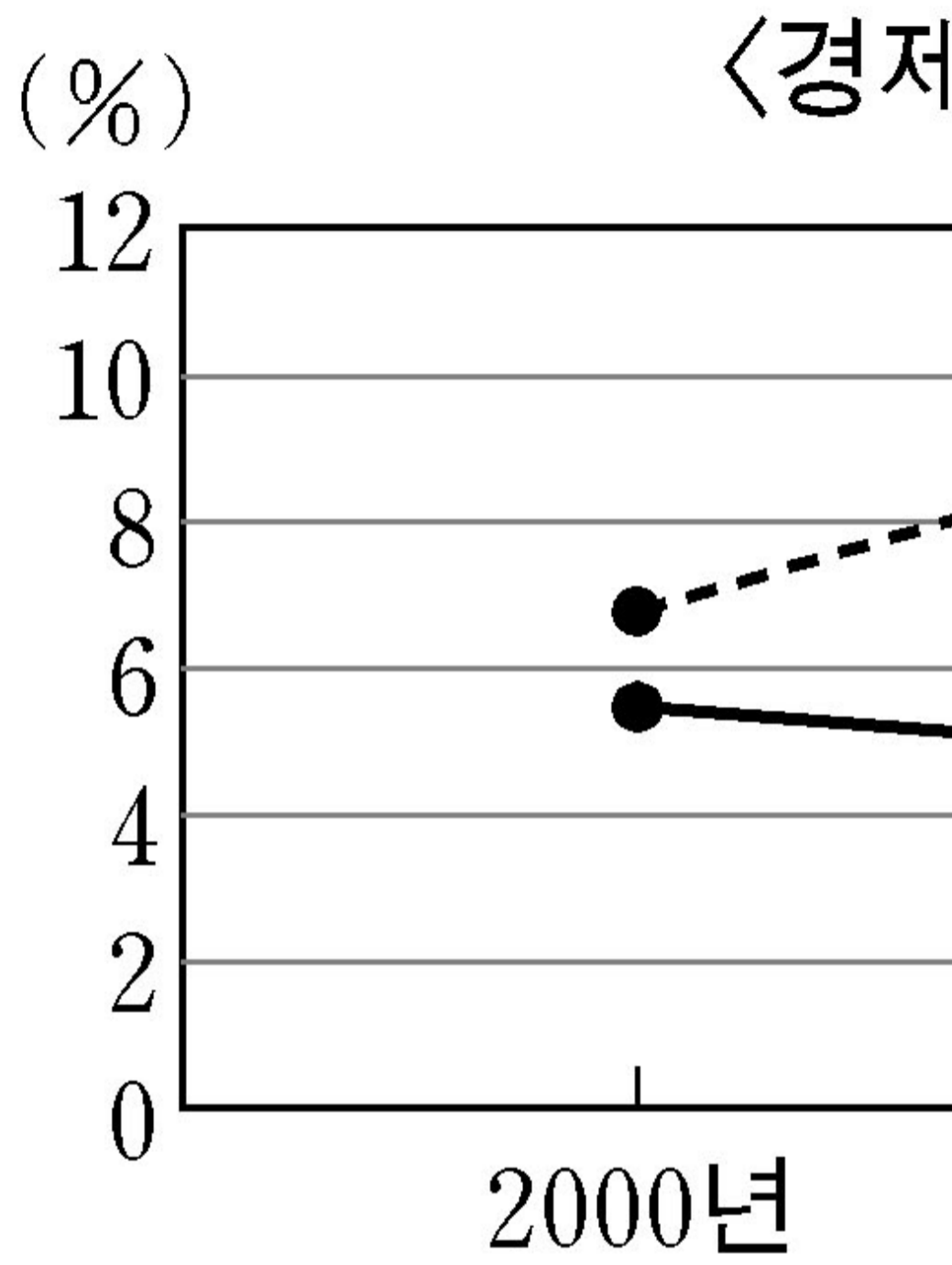
14. 위 (가)의 환율 추이가 계속될 경우 (다)로부터 옳게 추론한 내용을 <보기>에서 고른 것은? [3 점]

〈보기〉

- ㄱ. 갑은 일본 여행 비용이 증가할 것으로 예상한다.
- ㄴ. 을은 일본 여행 비용이 증가할 것으로 예상한다.
- ㄷ. 을이 한국으로 여행한다면 출발일을 앞당기려 할 것이다.
- ㄹ. 병은 미국보다는 한국으로의 여행 비용이 더 증가할 것으로 예상한다.

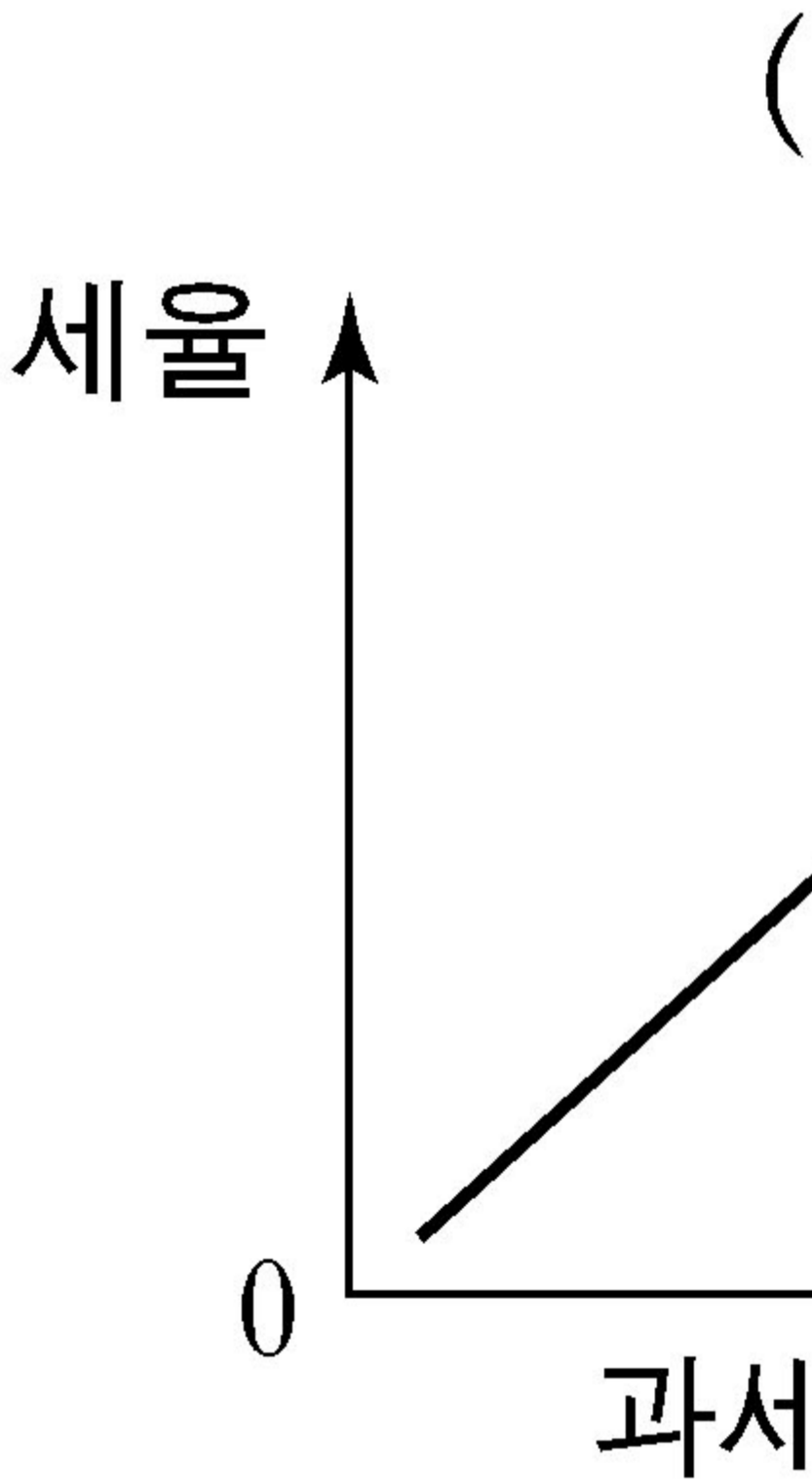
- ① ㄱ, ㄴ-----② ㄱ, ㄷ-----③ ㄴ, ㄷ-----④ ㄴ, ㄹ-----⑤ ㄷ, ㄹ

15. 그림은 A국과 B국의 경제 변화를 나타낸 것이다. 이에 대한 설명으로 옳은 것은?



- ① A 국의 경제 규모는 축소되었다.
- ② A 국에서 기술 혁신의 성장 기여도는 감소하였다.
- ③ B 국에서 취업자 수의 성장 기여도는 감소하였다.
- ④ A 국의 1 인당 실질 GDP 증가 폭은 B 국에 비해 작다.
- ⑤ 양국 모두 2000 년보다 2005 년에 1 인당 실질 GDP 가 감소하였다.

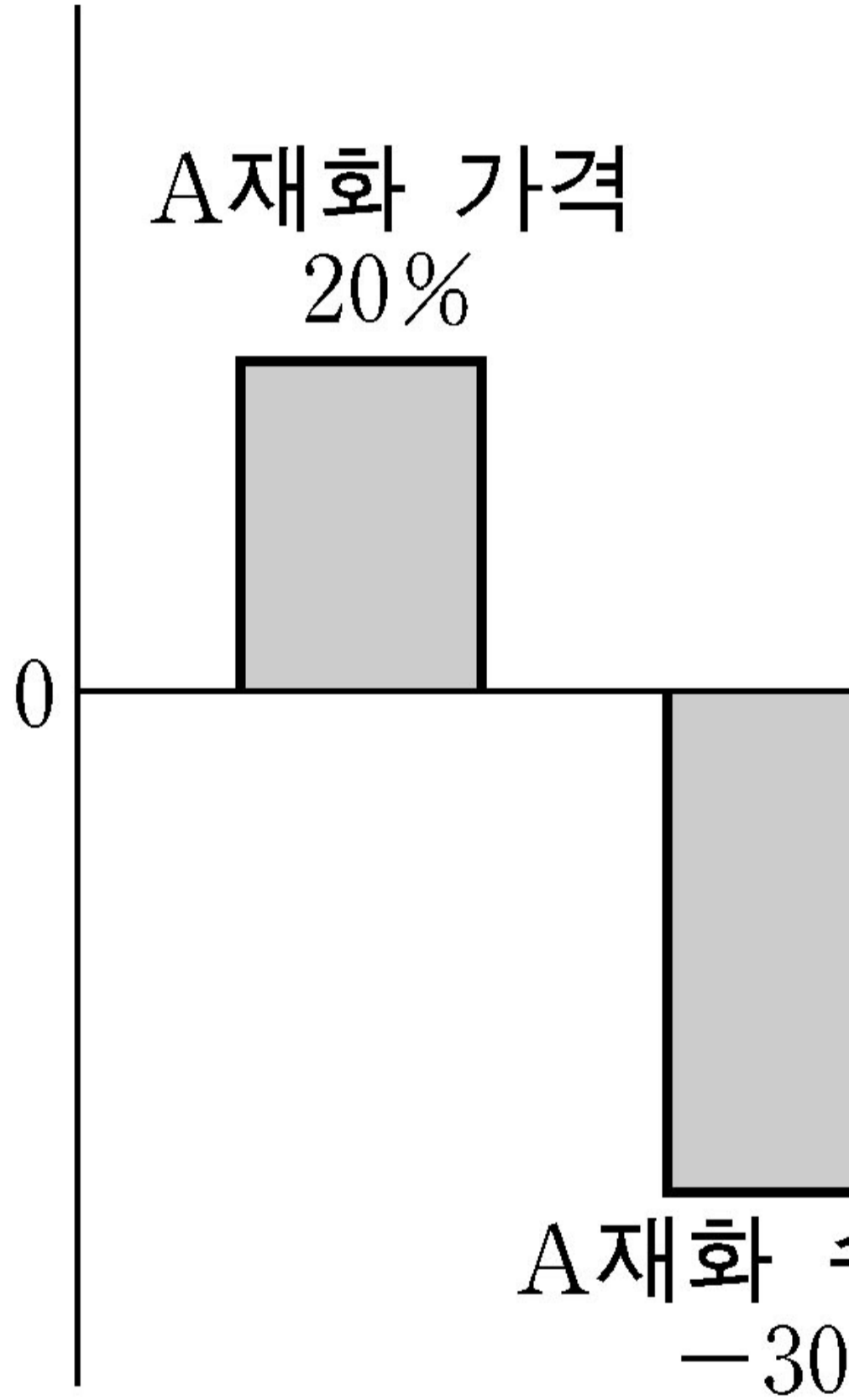
16. 그림에 대한 분석 내용으로 옳은 것은? [3 점]



- ① 간접세는 주로 (가)의 형태를 띤다.
- ② (나)의 조세 제도는 A 구간보다 B 구간에 있는 사람에게 불리하다.
- ③ 조세 제도가 (나)에서 (가)로 변화하면 조세 부담의 역진성이 커진다.
- ④ (가)의 조세 제도 하에서는 A 구간과 B 구간에 있는 사람의 세액이 같다.
- ⑤ (나)의 조세 제도 하에서는 A 구간과 B 구간에 있는 사람의

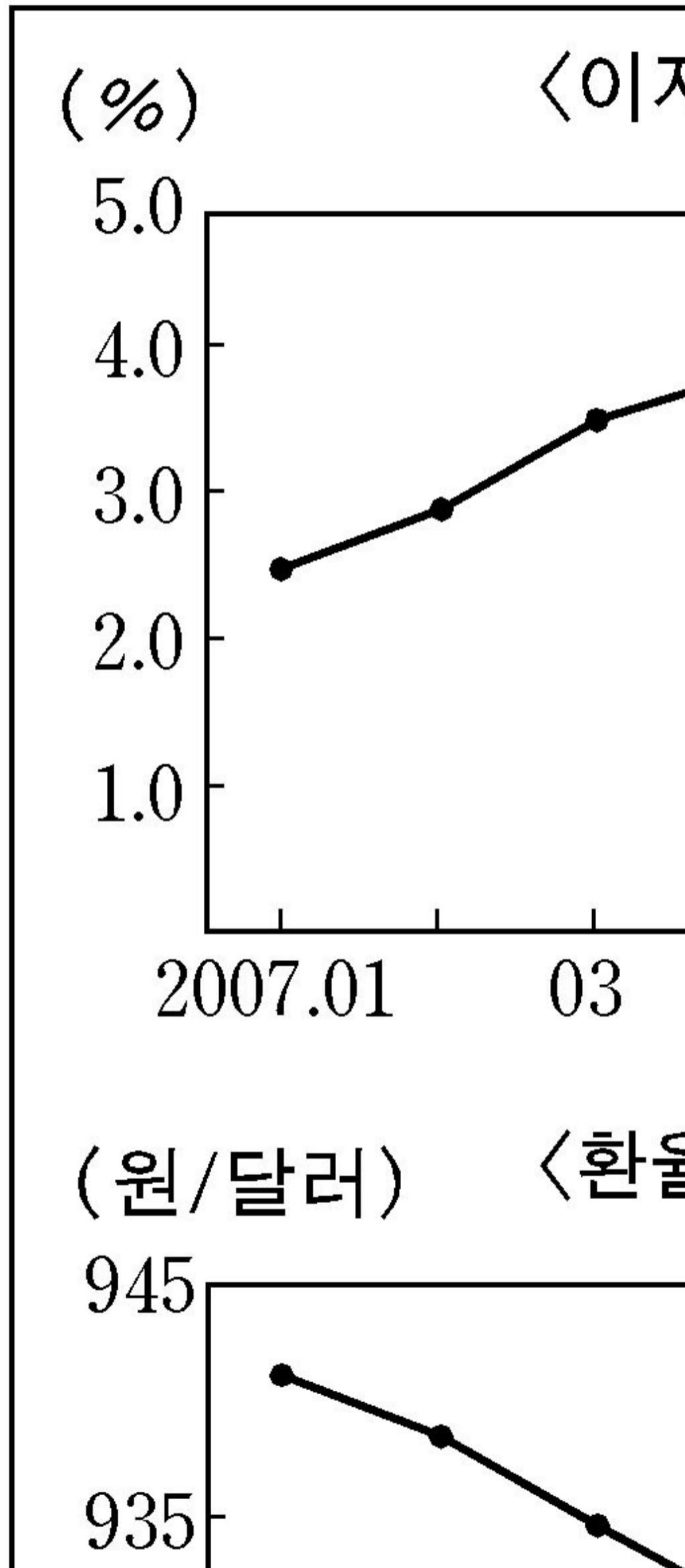
세율이 같다.

17. 그림은 A 재화 가격 변화에 따른 각 재화의 수요량 변화를 나타낸 것이다. 이에 대한 설명으로 옳지 않은 것은? [3 점]



- ① A 재화의 가격이 상승하면 A 재화의 총판매 수입은 감소한다.
- ② A 재화의 수요가 증가하면 A 재화의 총판매 수입은 증가한다.
- ③ A 재화의 공급이 증가하면 A 재화의 총판매 수입은 감소한다.
- ④ A 재화의 공급이 증가하면 B 재화의 총판매 수입은 증가한다.
- ⑤ A 재화의 가격이 상승하면 C 재화의 총판매 수입은 증가한다.

18. 그림을 보고 타당한 의견을 제시한 사람을 <보기>에서 고른 것은? [3 점]



〈보기〉

갑 : 이자율 추이로 볼 때 통화량을 감소시켜야 합니다.
을 : 이자율 추이가 계속된다면 기업의 부담이 완화됩니다.
병 : 환율 추이가 계속된다면 물가 상승 부담이 완화됩니다.
정 : 물가 추이가 계속된다면 물가 안정을 위해 국공채를 매각해야 합니다.

- ① 갑, 을 ----- ② 갑, 병 ---- ③ 을, 병 ----- ④ 을, 정 ---- ⑤ 병, 정

19. 다음 자료에서 그림은 갑과 을의 A, B 두 재화에 대한 생산가능 곡선을 나타낸 것이다. 이에 대한 옳은 설명을 〈보기〉에서 고른 것은? [3 점]

갑은 을이
일정한 비율
은 교환을
경우에만 주

A재
(개)

36

24



〈보기〉

- ㄱ. 갑의 경우 B 재를 1 개 생산하는 데 따른 기회 비용은 A 재 3 개이다.
- ㄴ. A 재와 B 재의 교환 비율이 1 : 1 이라면 을은 갑의 제안을 수락할 것이다.
- ㄷ. 교환을 통해 갑이 최대 소비할 수 있는 A 재와 B 재의 수량은 각각 26 개와 5 개이다.
- ㄹ. 두 사람이 비교 우위가 있는 재화에 특화한 후 최대 생산할 수 있는 A 재와 B 재의 수량은 각각 40 개와 12 개이다.

- ① ㄱ, ㄴ ----- ② ㄱ, ㄷ ----- ③ ㄴ, ㄷ ----- ④ ㄴ, ㄹ ----- ⑤ ㄷ, ㄹ

* 확인 사항

- 답안지의 해당란에 필요한 내용을 정확히 기입(표기)했는지 확인하시오.