

## 직업탐구 영역(인간 발달)

- 자신이 선택한 과목의 문제지인지 확인하십시오.
- 문제지에 성명과 수험번호를 정확히 써 넣으십시오.
- 답안지에 성명과 수험번호를 써 넣고, 또 수험번호와 답을 정확히 표시하십시오.
- 과목을 선택한 순서대로 풀고, 답은 답안지의 제 1 선택란에서부터 차례대로 표시하십시오.
- 문항에 따라 배점이 다르니, 각 물음의 끝에 표시된 배점을 참고하십시오. 3 점 문항에만 점수가 표시되어 있습니다. 점수 표시가 없는 문항은 모두 2 점입니다.

0. 다음은 인간 발달에 관한 개념이다. (가)에 대한 설명으로 옳은 것을 <보기>에서 고른 것은?

발달이란 인간이  
변화 과정으로서  
총체적인 결과이다

- ㄱ. 정해진 순서에
- ㄴ. 관찰 또는 모방
- ㄷ. 교육과 양육에
- ㄹ. 유전적 요인에

1. 그림에 나타난 여아의 행동을 보고 이 시기의 공통된 특성으로 옳은 것을 <보기>에서 모두 고른 것은?



ㄱ. 보존 개념이 희  
 ㄴ. 물활론적 사고  
 ㄷ. 가설적 사고가  
 ㄹ. 자기중심적 사

- ① ㄱ, ㄷ ----- ② ㄱ, ㄹ ----- ③ ㄴ, ㄹ  
 ④ ㄱ, ㄴ, ㄷ ----- ⑤ ㄴ, ㄷ, ㄹ

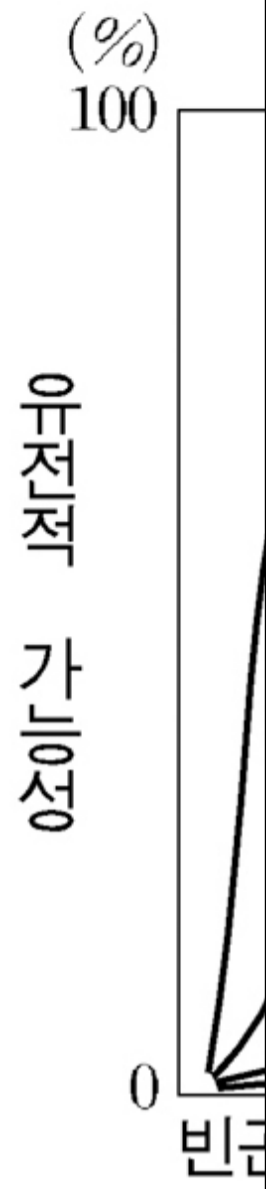
2. 다음은 아동의 공격성에 대한 사례이다. ㉠~㉣에 대한 설명으로 옳은 것을 <보기>에서 골라 바르게 짝지은 것은?

- 철수는 어렸을 때부터 공격적이었다. 그럴 때 태도를 보였다.
- 철수는 집에 있을 때 폭력적인 주인공을 사 공격적인 행동을 보

ㄱ. 호르몬은 공격성의  
 ㄴ. 다른 문화적 기대가  
 ㄷ. 대중 매체를 통해 폭

- ㉠ ----- ㉡ ----- ㉢  
 ① ㄱ ----- ㄴ ----- ㄷ  
 ② ㄱ ----- ㄷ ----- ㄴ  
 ③ ㄴ ----- ㄱ ----- ㄷ  
 ④ ㄴ ----- ㄷ ----- ㄱ  
 ⑤ ㄷ ----- ㄴ ----- ㄱ

3. 그래프는 유전과 환경이 발달에 미치는 관계를 연구한 결과이다. 이를 통해 알 수 있는 내용으로 (가)와 (나)에 해당하는 것을 바르게 짝지은 것은? [3 점]



○ 지능은 외국어 발  
 ○ 그래프는 인간  
 나타낸다.

- | <u>(가)</u> | <u>(나)</u> |
|------------|------------|
| ① 환경-----  | 상호작용       |
| ② 환경-----  | 학습         |
| ③ 유전-----  | 동일성        |
| ④ 유전-----  | 상호작용       |
| ⑤ 유전-----  | 학습         |

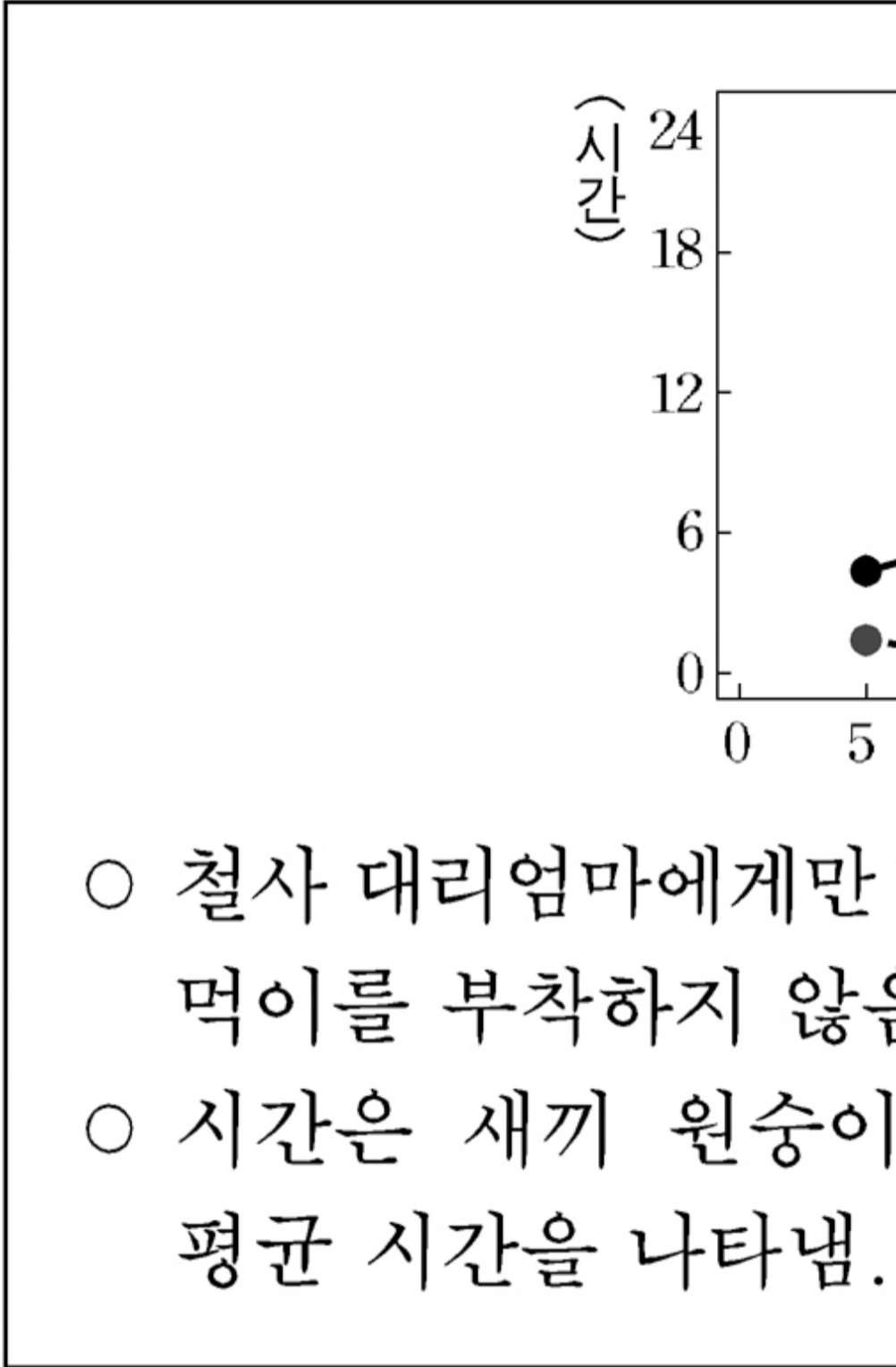
4. 다음 대화에 나타난 자녀의 기질 유형에 대한 부모의 양육 태도로 적절한 것을 <보기>에서 고른 것은?

가영 엄마 : 가영이 걱정이  
 영철 엄마 : 그래요  
 가영 엄마 : 특히 울어요

ㄱ. 가능한 한 많은  
 ㄴ. 소극적이고 나  
 ㄷ. 자녀의 요구에  
 ㄹ. 기질을 욕구의

- ① ㄱ, ㄴ-----② ㄱ, ㄹ-----③ ㄴ, ㄷ-----④ ㄴ, ㄹ-----⑤ ㄷ, ㄹ

[6~7] 그래프는 애착형성에 대한 할로의 실험 결과이다. 이를 보고 물음에 답하시오.



5. 위의 실험을 통해 알 수 없는 것은? [3 점]

- ① 애착은 본능적인 행동이다.
- ② 먹이는 애착 형성에 결정적 요인이 된다.
- ③ 형깃 대리엄마에게 애착 형성이 이루어진다.
- ④ 환경 조건은 애착 형성에 영향을 미치는 요인이다.
- ⑤ 부드러운 감촉은 애착 형성에 긍정적 영향을 미친다.

6. 위의 실험을 통해 알 수 있는 바람직한 양육 행동을 <보기>에서 고른 것은?

ㄱ. 포근하게 안아  
 ㄴ. 신체적 접촉을  
 ㄷ. 아동의 모든 요  
 ㄹ. 시간을 정해놓

① ㄱ, ㄴ-----② ㄱ, ㄹ-----③ ㄴ, ㄷ-----④ ㄴ, ㄹ-----⑤ ㄷ, ㄹ

7. 그림은 임신부와 의사의 대화이다. (가)에 들어갈 내용으로 옳은 것을 <보기>에서 모두 고른 것은? [3 점]



ㄱ. 자궁에 수정란이 착  
 ㄴ. 자연 유산의 가능성  
 ㄷ. 태아 기형이 가장 많  
 ㄹ. 태아의 신체 기관이

① ㄱ, ㄴ-----② ㄱ, ㄷ-----③ ㄴ, ㄹ  
 ④ ㄱ, ㄷ, ㄹ-----⑤ ㄴ, ㄷ, ㄹ

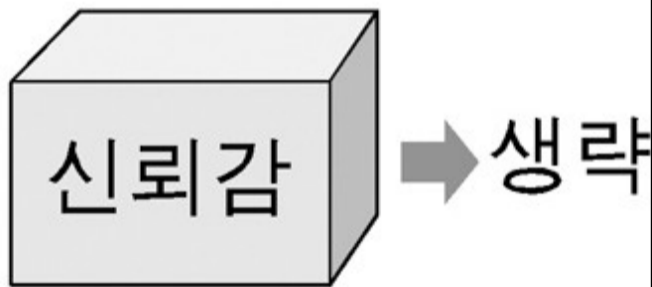
8. 다음은 청년기 발달에 관한 글이다. (가)와 (나)에 들어갈 개념을 바르게 짝지은 것은?

청년기는 급격한  
심리적으로도 동요  
위치와 역할, 불확  
되면서 자신에 대해  
자기의 존재를 확  
하려는 자기탐색 고

(가) ----- (나)


- ① 성적 성숙-----개인적 우화
- ② 성적 성숙-----자기 중심성
- ③ 성적 성숙-----자아 정체감
- ④ 조속과 만족-----상상적 관중
- ⑤ 조속과 만족-----자기 중심성

9. 그림은 에릭슨의 심리사회적 발달 8 단계에서 성취해야 할 발달과업을 나타낸 것이다. (가)단계의 시기에 나타나는 발달 특성으로 옳지 않은 것은? [3 점]



- ① 유동성 지능이 증가한다.
- ② 실직에 대한 두려움이 가장 높다.
- ③ 갱년기로서 심리적 변화도 수반한다.
- ④ 노안이 진행되면서 돌보기가 필요해진다.
- ⑤ 실제적인 문제 해결 능력이 절정에 달한다.

10. 그림에 나타난 학생들의 발표 내용으로 알 수 있는 우정의 발달 단계로 옳은 것은?



- ① 놀이 친구 관계
- ② 일방적인 지원 관계
- ③ 좋을 때만 친구 관계
- ④ 호혜적인 친밀한 관계
- ⑤ 정서적·경제적 지원 관계

11. 아동의 자아관 발달 과정을 <보기>에서 골라 순서대로 바르게 나열한 것은? [3 점]

ㄱ. 자기의 존재를 인식  
 ㄴ. 소유물에 의미를 부여  
 ㄷ. 여러 능력을 연마할  
 ㄹ. 자신의 모습에 대한

- ① ㄱ-ㄴ-ㄷ-ㄹ ----- ② ㄱ-ㄷ-ㄴ-ㄹ
- ③ ㄴ-ㄱ-ㄷ-ㄹ ----- ④ ㄴ-ㄷ-ㄱ-ㄹ
- ⑤ ㄷ-ㄴ-ㄷ-ㄱ

12. 그림은 지식 검색 사이트의 일부를 나타낸 것이다. 질문 내용에 대한 답변 중 옳은 것을 고른 것은? [3 점]

# 지식창고

지식통합

문고 답

질문 ●

태어난 지 사흘밖에 되지 않았는데  
혹시 나쁜 병에 걸린 것 아닌가 걱정하는  
엄마가 보아하니

답변 ●

- ㄱ. 생리적 몸무게가 감소한다.
- ㄴ. 태변에 의한 증세이다.
- ㄷ. 신생아 황달이네요.
- ㄹ. 간 기능 미숙으로 나타나는 증상입니다.

① ㄱ, ㄴ-----② ㄱ, ㄹ-----③ ㄴ, ㄷ-----④ ㄴ, ㄹ-----⑤ ㄷ, ㄹ

13. 그림을 통해 알 수 있는 아기의 사고와 관련된 내용으로 옳은 것을 <보기>에서 모두 고른 것은? [3 점]



- ㄱ. 분류적 사고를 한다.
- ㄴ. 인공론적 사고를 한다.
- ㄷ. 2세 말경이면 획득된다.
- ㄹ. 자기 및 타인의 인식을 한다.

① ㄱ, ㄴ-----② ㄱ, ㄷ-----③ ㄷ, ㄹ  
④ ㄱ, ㄴ, ㄹ-----⑤ ㄴ, ㄷ, ㄹ

14. 표는 인간 발달 이론을 비교한 것이다.

이론	기여한 점	비판한 점
인본주의 이론	(가)	생물학적인 기 고려하지 않
심리성적 발달 이론	초기 경험의 중요성에 주의를 기울임	(나)

위의 표에 들어갈 내용으로 옳은 것을 (가)는 <보기 1> (나)는 <보기 2>에서 골라 바르게 짝지은 것은? [3점]

— <보기 1> —

ㄱ. 인간 발달의 결정적 시기를 규명함  
 ㄴ. 사회·문화적 환경의 중요성을 첨가함  
 ㄷ. 인간을 자아실현의 욕구를 가진 능동적 인격체로 봄

— <보기 2> —

a. 성적 충동을 너무 강조함  
 b. 환경의 영향을 전적으로 무시함  
 c. 인간의 자유의지를 전혀 고려하지 않음

- (가)      (나)
- ① ㄱ-----a  
 ② ㄱ-----b  
 ③ ㄴ-----c  
 ④ ㄷ-----a  
 ⑤ ㄷ-----c

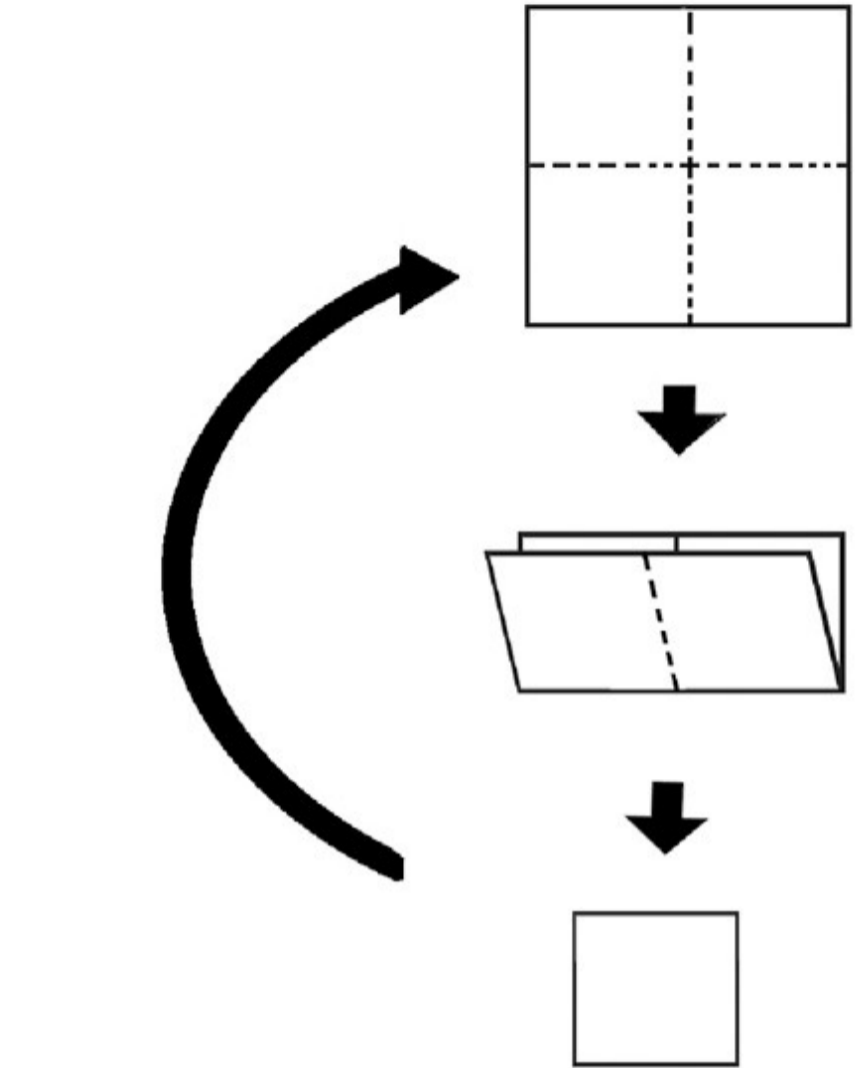
15. 다음은 어느 시기의 발달 특징이다. 이 시기에 나타나는 성 역할 변화로 옳은 것을 <보기>에서 고른 것은?

- 직업 만족도가 커진다
- 체력, 정력, 지구력이 증가한다
- 인생에서 스트레스가 증가한다

- ㄱ. 성 역할 차이가 커진다
- ㄴ. 성 역할에 대한 관심이 줄어든다
- ㄷ. 양성 간의 성 역할 차이가 커진다
- ㄹ. 역할 갈등, 역할 혼란이 나타난다

- ① ㄱ, ㄷ ----- ② ㄱ, ㄹ ----- ③ ㄴ, ㄷ
- ④ ㄴ, ㄹ ----- ⑤ ㄷ, ㄹ

16. 그림은 어느 시기의 사고 특성을 나타낸 것이다. 이 시기의 발달 내용으로 옳은 것을 <보기>에서 모두 고른 것은? [3 점]



- ㄱ. 논리적 사고가 가능하다
- ㄴ. 성 역할 동일시가 나타난다
- ㄷ. 주도성이 나타나기 시작한다
- ㄹ. 동일성과 보상성 개념이 발달한다

- ① ㄱ, ㄷ ----- ② ㄱ, ㄹ ----- ③ ㄴ, ㄹ
- ④ ㄱ, ㄴ, ㄷ ----- ⑤ ㄴ, ㄷ, ㄹ

17. 다음 글에서 현경이의 적응을 설명할 수 있는 이론으로 가장 적절한 것은? [3 점]

현경 (9세)이는 이  
 처음에는 낯선 환  
 도움으로 잘 적응하  
 적응하는 것을 보고

- ① 성숙 이론
- ② 애착 이론 -----
- ③ 생태학 이론 -----
- ④ 사회학습 이론 -----
- ⑤ 심리사회적 발달 이론----

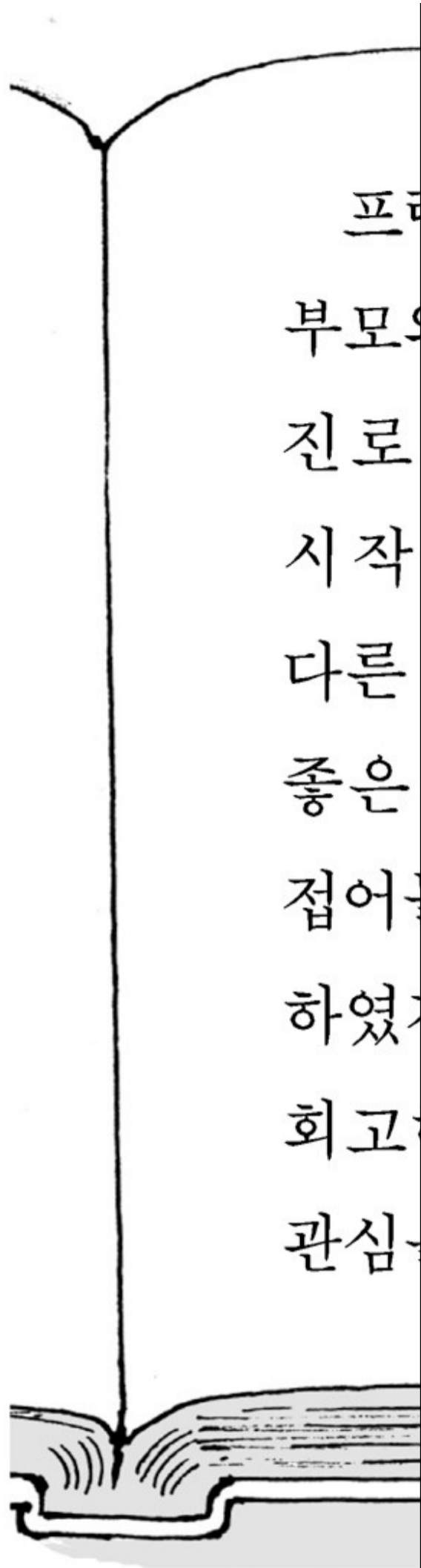
18. 그림은 할아버지와 손자의 대화 장면이다. 이러한 상황을 겪는 노인들에게 흔히 나타날 수 있는 현상을 <보기>에서 모두 고른 것은?



ㄱ. 인지 능력이 향상된  
 ㄴ. 언어 이해력이 감퇴  
 ㄷ. 사회적 고립감을 느  
 ㄹ. 자기를 험담하는 것

- ① ㄱ, ㄹ -----② ㄴ, ㄷ-----③ ㄴ, ㄹ
- ④ ㄱ, ㄴ, ㄷ-----⑤ ㄴ, ㄷ, ㄹ

19. 다음의 글을 통해 알 수 있는 노인의 성격 유형은?



- ① 분노형 -----② 성숙형 -----③ 자학형
- ④ 흔들의자형 -----⑤ 무장 방어형

\* 확인 사항  
○ 답안지의 해당란에 필요한 내용을 정확히 기입(표기)했는지 확인하시오.