

제 4 교시

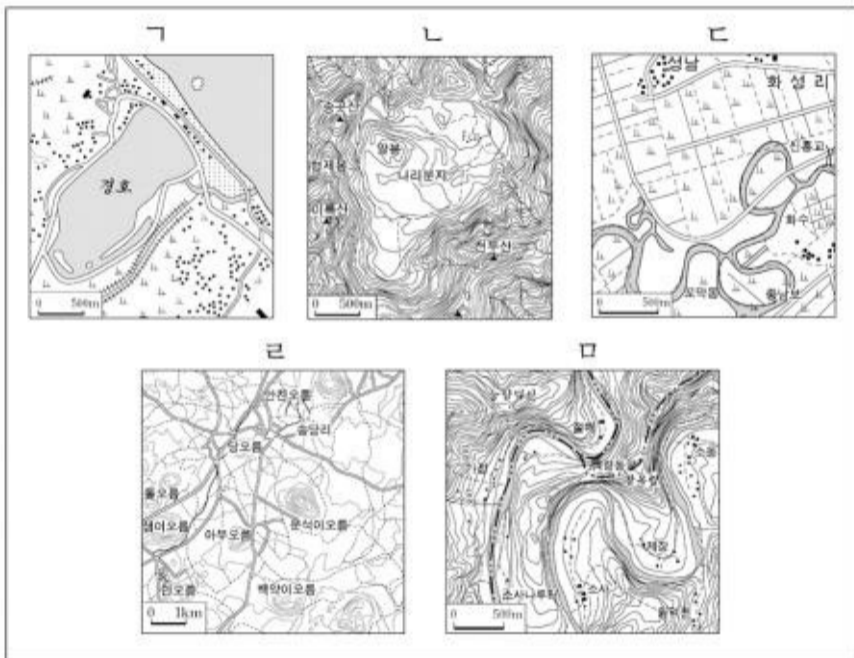
사회탐구영역(한국지리)

성명

수험 번호

- 먼저 수험생이 선택한 과목의 문제인지 확인하시오.
- 선택 과목은 반드시 응시 원서 작성시 자신이 선택한 과목의 문제를 풀어야 합니다.
- 문제지에 성명과 수험 번호를 정확히 기입하시오.
- 수험표에 표기된 선택 1, 선택 2, 선택 3, 선택 4 의 과목에 대한 문제를 순서대로 풀어 해당란에 답을 표기하시오.
- 문항에 따라 배점이 다르니, 각 물음의 끝에 표시된 배점을 참고하시오. 3 점 문항에만 점수가 표시되어 있습니다. 점수 표시가 없는 문항은 모두 2 점입니다.

[1~2] 다음 지형도를 보고 물음에 답하시오.

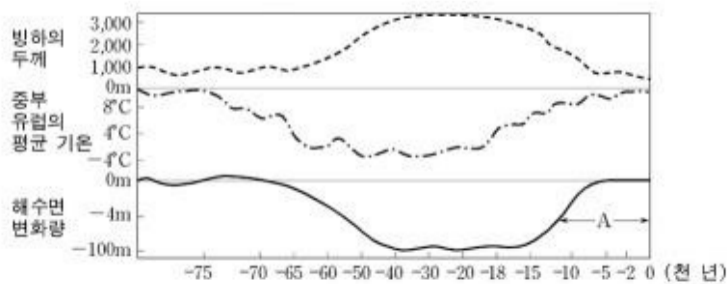


1. 영화 시나리오 중 일부이다. 다음 장면의 촬영 장소로 가장 적절한 지형은?

장면: □□  
 어린 ○○가 우두커니 서서 발 밑을 굽어 본다.  
 발 아래는 천길 낭떠러지  
 안개가 휘돌아가는 계곡을 뒤덮고 있다.  
 (중략)  
 펄펄 쏟아지는 눈. 뽕뽕 얼어붙은 강물.  
 ○○, 눈과 함께 흐르는 눈물을 쓱 문지르고 돌아선다.

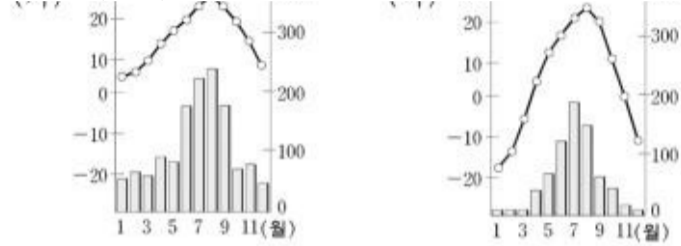
- ① 가-----② 나-----③ 다-----④ 라-----⑤ 리

2. 다음 그래프의 A 시기에 있었던 기후 변화의 영향으로 우리나라에서 발달할 수 있는 지형을 고른 것은? [3 점]



- ① 가, 나-----② 가, 다-----③ 나, 다-----④ 나, 리-----⑤ 다, 리

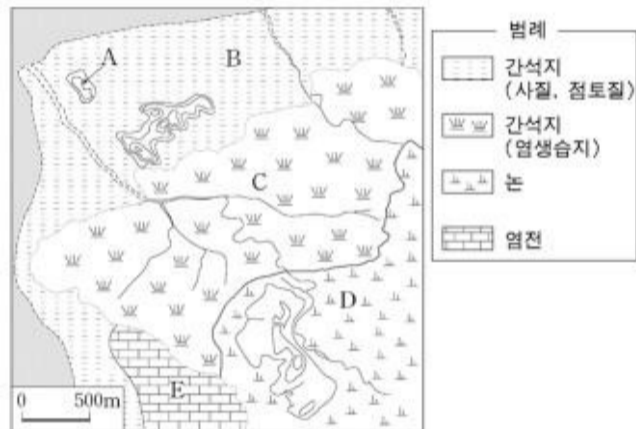
3. 그림 (가)와 (나)는 우리나라의 어느 지역에서 볼 수 있는 월별 강수량과 평균기온을 나타낸 것이다. 이와 관련된 추론으로 옳은 것을 <보기>에서 모두 고른 것은?



<보기>

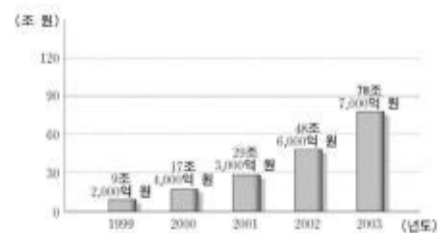
- 가. (가)는 (나)보다 해양의 영향을 많이 받는다.
  - 나. (가)는 (나)보다 강수량의 계절적 차이가 크다.
  - 다. (나) 지역에는 상록활엽수림이 나타난다.
- ① 가, 나-----② 가, 다-----③ 가, 리-----④ 나, 다-----⑤ 나, 리

4. 다음 지도의 A~E에 관한 설명 중 옳지 않은 것은?



- ① A는 어항 입지에 좋은 조건을 갖추었다.
- ② B는 해양 생태계의 일부이다.
- ③ C에는 소금기에 강한 식물이 주종을 이룬다.
- ④ D는 염해를 입을 수 있다.
- ⑤ E는 원래 간석지였다.

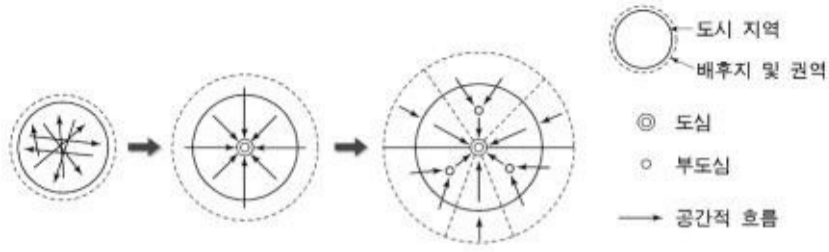
5. 다음은 국내 전자상거래 실적을 나타낸 그래프이다. 이러한 추세가 계속될 때 나타날 수 있는 지리적 현상을 <보기>에서 모두 고른 것은? [3 점]



<보기>

- 가. 택배 관련 물류업이 증가한다.
  - 나. 상품 구매 범위가 공간적으로 축소된다.
  - 다. 서비스 산업의 입지가 비교적 자유로워 진다.
  - 리. 소비자에 대한 접근성의 지역적 차이가 커진다.
- ① 가, 나-----② 가, 다-----③ 나, 다-----④ 나, 리-----⑤ 다, 리

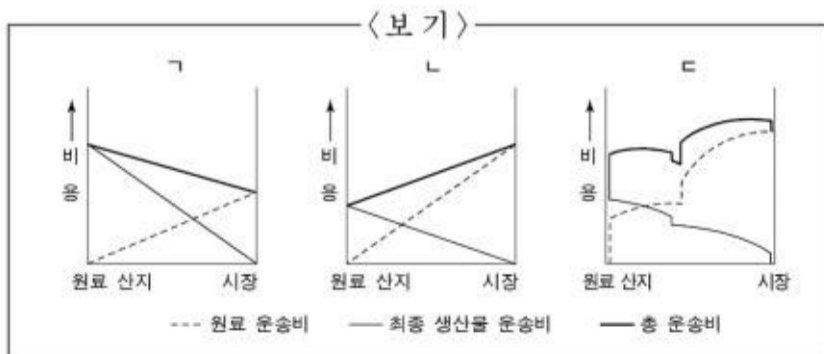
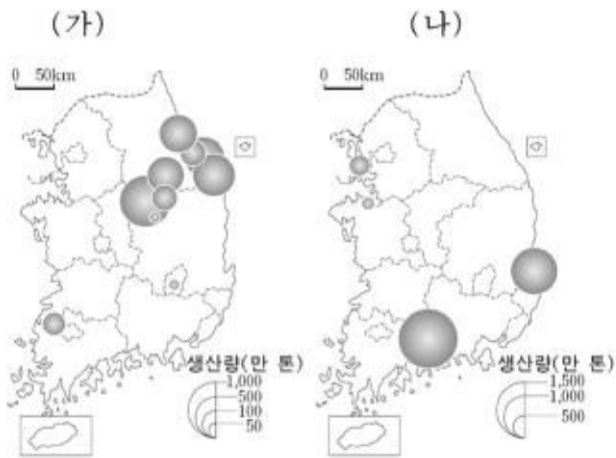
6. 다음은 도시 구조의 변화 과정을 나타낸 것이다. 이에 대한 설명에서 (가)와 (나)에 가장 적절한 것은? [3 점]



○ 소도시에서 중도시, 대도시로 변화함에 따라 도시 내의 도심, 부도심이 형성되고 배후지의 범위가 확대되며 공간적 상호 작용이 일어나 도시 내 (가)가(이) 나타난다.  
○ 단순하던 도시 구조는 복잡해지고 부도심을 중심으로 하는 다수의 배후지가 생겨 도시의 내부에 여러 개의 권역이 형성되는 (나)로 변화된다.

- (가) (나)
- ① 집심 현상-----계층 구조
  - ② 인구 공동화--단핵 구조
  - ③ 이심 현상-----단핵 구조
  - ④ 집적 이익-----다핵 구조
  - ⑤ 지역 분화-----다핵 구조

7. 지도 (가)와 (나)는 우리나라 어떤 산업의 입지 분포를 나타낸 것이다. (가)와 (나)에 나타나는 산업의 운송비 구조를 <보기>와 바르게 연결한 것은?



- ① (가)-ㄱ, (나)-ㄴ
- ② (가)-ㄱ, (나)-ㄷ
- ③ (가)-ㄴ, (나)-ㄱ
- ④ (가)-ㄴ, (나)-ㄷ
- ⑤ (가)-ㄷ, (나)-ㄱ

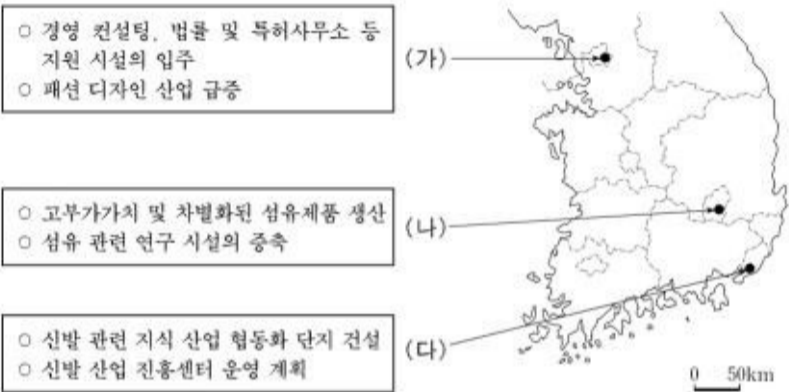
8. 다음은 ○○○ 학생이 작성한 보고서의 일부이다. 학생의 탐구 주제로서 가장 적절한 것은?

△△ 보고서

- 조사 항목:  
· 대전-무주 간 소요시간, 승객 수 및 운행 횟수  
· 대전-무주 간 고속버스 승객의 이용 목적
- 조사 결과:  
· 대전-진주 간의 고속도로에서 대전-무주까지 44km 구간이 개통되었음.  
· 대전에서 무주읍까지 소요 시간이 1시간 20분에서 30여분으로 단축되었음.  
· 대전-무주 간 승객 수 및 통근 인구가 증가하였음.

- ① 자원 개발에 의한 지역의 변화
- ② 기술 발달에 따른 지역의 변화
- ③ 교외화에 따른 위성도시의 발달
- ④ 교통 발달에 따른 생활권의 변화
- ⑤ 고속도로 개통에 따른 산업의 변화

9. 대도시 내 산업단지 (가), (나), (다)에서 공통적으로 나타나고 있는 변화를 <보기>에서 모두 고른 것은? [3 점]

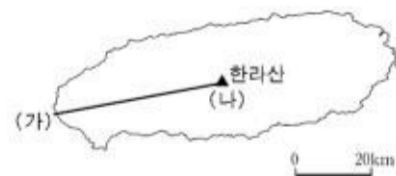


<보기>

ㄱ. 전문 연구 인력 중심의 고용 구조로 전환하고 있다.  
ㄴ. 쾌적한 자연 환경을 바탕으로 친환경적 산업이 증가하고 있다.  
ㄷ. 지식정보산업 중심으로 산업 구조의 고도화가 진행되고 있다.  
ㄹ. 동종 산업체들 간의 연계가 약화되어 집적의 이익이 감소하고 있다.

- ① ㄱ, ㄴ
- ② ㄱ, ㄷ
- ③ ㄴ, ㄷ
- ④ ㄴ, ㄹ
- ⑤ ㄷ, ㄹ

10. 그림은 제주도를 단순화한 지도이다. (가)에서 (나)로 이동할 때 나타나는 지리적인 현상을 설명한 것 중 옳은 것을 <보기>에서 모두 고른 것은?



<보기>

ㄱ. 경사는 점점 완만해진다.  
ㄴ. 다공질의 현무암이 점점 많아진다.  
ㄷ. 해발 고도에 따라 식생이 달라진다.  
ㄹ. 초지는 중간에 나타났다가 사라진다.  
ㅁ. 강수량이 많아져 용수 획득이 쉬워진다.

- ① ㄱ, ㄴ
- ② ㄱ, ㄷ
- ③ ㄴ, ㄷ
- ④ ㄷ, ㄹ
- ⑤ ㄹ, ㅁ

11. 다음은 경부 고속 철도의 개통에 따라 나타난 생활의 변화에 대한 학생들의 발표 내용이다. (가)와 (나)를 보고 진술된 내용으로

적절하지 않은 학생은? [3 점]



(나) 구간별 요금과 운행시간

구분	구간	서울-천안	서울-대전	서울-동대구	서울-부산
고속철도	요금	11,400원	19,700원	34,900원	45,000원
	시간	39분	1시간 2분	1시간 51분	2시간 50분
항공기	요금	-	-	57,900원	65,900원
	시간	-	-	50분	1시간
새마을호	요금	7,200원	12,500원	24,500원	33,100원
	시간	1시간	1시간 46분	3시간 29분	4시간 37분

\* 항공기 요금은 두 항공사를 비교하여 최저 요금을 선정함

- ① 영수 : 천안의 주부들이 서울로 쇼핑하러 가는 모습을 이전 보다 자주 보게 되었습니다.
- ② 지혜 : 대전에서 서울로 이동 시간은 단축되었으나 거리에 비해 요금이 비쌉니다.
- ③ 창호 : 고속철도가 개통된 이후 대구 공항의 이용객이 증가하였습니다.
- ④ 미옥 : 고속철도가 개통되었으나 진주는 큰 변화가 없습니다.
- ⑤ 선규 : 부산에서 기차로 서울 도심 근처까지 좀 더 빨리 접근할 수 있게 되었습니다.

12. 다음은 철수가 세운 지리 조사 계획서의 일부이다. 철수가 조사하고자 하는 지형은?

○ 실내 조사:

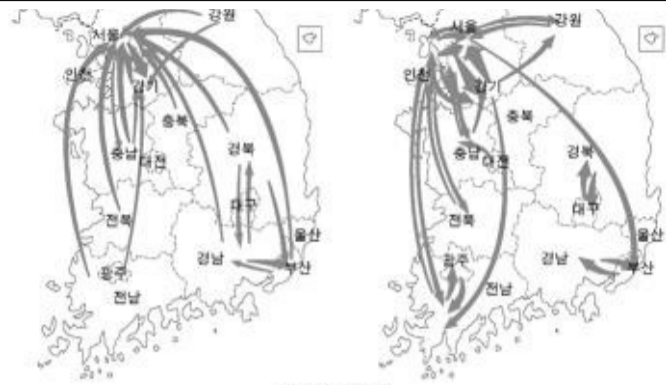
- 지질도를 이용하여 조사 지역의 북북동에서 남남서 방향의 구조선과 지층을 확인한다.
- 지형도에서 하계망을 분석한다.

○ 야외 조사:

- ○○군 ○○면 ○○리 일대 단면에서 자갈 등의 퇴적층을 덮고 있는 두터운 암석층에서 '거무스름하고 곳곳에 구멍이 많이 난 돌'의 표본을 얻는다.
- 절리에 의해 형성된 '다각형의 기둥 형태'를 관찰하여 스케치한다.
- 평탄한 땅에서 벼를 추수하는 농부를 만나 면담을 하고 녹음한다.

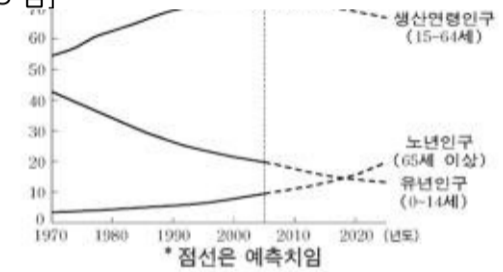
- ① 침식분지-----② 선상지
- ③ 용암대지-----④ 삼각주
- ⑤ 범람원

13. 제시된 지도를 보고 우리나라 인구 이동의 변화를 가장 적절하게 분석한 학생은?



- ① 현재: 역도시화 현상이 감소하였다.
- ② 영희: 수도권 내 인구 이동이 증가하였다.
- ③ 종만: 수도권으로의 인구 이동이 증가하였다
- ④ 성훈: 우리나라 전체 인구 이동량이 감소하였다.
- ⑤ 태은: 대도시와 대도시 외부 지역 간의 인구 이동이 감소하였다.

14. 다음은 우리나라의 연령별 인구 구성비 추이를 나타낸 그래프이다. 이와 관련한 추론으로 옳은 것을 <보기>에서 모두 고른 것은? [3 점]



<보기>

- ㄱ. 인구 증감 유형은 소산소사형이 될 것이다.
  - ㄴ. 실버산업에 대한 사회적 수요가 커질 것이다.
  - ㄷ. 2010년 이후에는 피라미드형 인구구조가 나타날 것이다.
  - ㄹ. 2010년 이후에는 노년 부양비가 현저하게 감소하게 될
- ① ㄱ, ㄴ-----② ㄱ, ㄷ-----③ ㄴ, ㄷ-----④ ㄴ, ㄹ-----⑤ ㄷ, ㄹ

15. 다음 자료를 바탕으로 우리나라 농업의 변화를 설명한 것 중 옳지 않은 것은? [3 점]

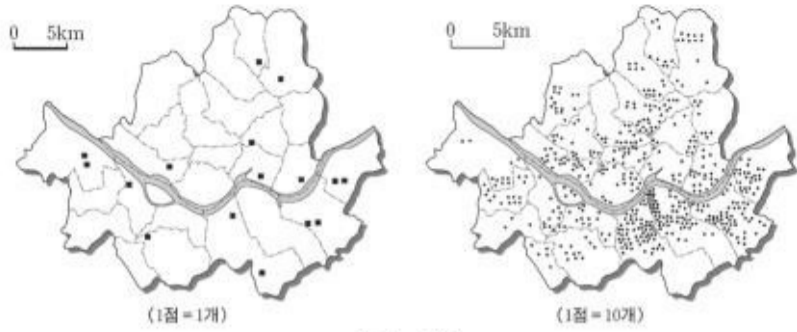


- ① 지속적인 간척으로 총 경지 면적이 확대되고 있다
- ② 농촌 인구의 감소로 농가당 경지 면적이 확대되고 있다.
- ③ 교통의 발달로 시설 재배 작물의 비중이 늘어나고 있다.
- ④ 상품 작물을 재배하여 수익성 위주의 영농으로 변화되고 있다.
- ⑤ 생활 수준의 향상과 식생활의 변화로 주곡 작물의 생산 비율이 줄어들었다.

16. 지도는 서울시 상업시설의 분포를 보여준다. 상업시설 A와 상업시설 B에 대한 설명 중 옳은 것을 <보기>에서 모두 고른 것은? [3 점]

# 사회탐구영역

(한국지리)



〈보기〉

ㄱ. 교통이 발달하면 A는 도심으로 집중한다.  
 ㄴ. 인구가 증가하면 A의 수가 B보다 많아진다.  
 ㄷ. B 간의 거리가 좁은 것은 최소요구치가 작기 때문이다.  
 ㄹ. A 간의 거리가 먼 것은 재화의 도달 범위가 B보다 크기 때문이다.

① ㄱ, ㄴ-----② ㄱ, ㄷ-----③ ㄴ, ㄷ-----④ ㄴ, ㄹ-----⑤ ㄷ, ㄹ

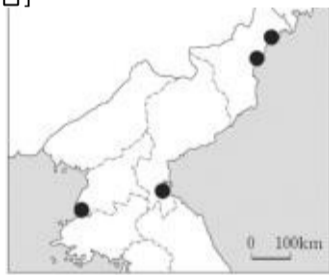
17. 다음 글의 밑줄 친 부분에 대한 지리적 설명으로 적절하지 않은 것은?

○ ㉞서울 근교와 각 지방의 대도시 주변의 과밭, 마늘밭, 배추밭, 오이밭에서는 10무(4두락)의 땅으로 수 만전(수 백냥)의 수입을 올린다. ㉞서북 지방의 담배밭, 관북 지방의 삼밭, 한산의 모시밭, 전주와 생강밭, 강진의 고구마밭, 황주의 지황밭은 농민이 가장 잘 되었을때의 수입과 비교하더라도 이익이 열 배나 된다.  
 -정약용의 「경세유표」-

○ 예로부터 울계 금강이다. 형은 서서남(西西南)으로 빗뚫이 ㉞충청 전라 양도의 접경을 골타고 흐른다. 이로부터 ㉞물은 조수(潮水)까지 섞여 더욱 흐리나 그득하니 벽차고, ㉞강 너비가 훨씬 퍼진 게 제법 양양하다.  
 -채만식의 「탁류」-

- ① ㉞ 대도시 근교에 원예 농업이 발달하였다.
- ② ㉞ 상품 작물의 재배가 이루어졌다.
- ③ ㉞ 하천이 지역의 경계를 이룬다.
- ④ ㉞ 하천의 유로에 감조 구간이 나타난다.
- ⑤ ㉞ 삼각주가 발달하였다.

18. 지도에 ●으로 표시된 곳의 공통점을 바르게 설명한 것을 <보기>에서 모두 고른 것은? [3 점]



〈보기〉

ㄱ. 최근 남한과 교류가 추진되고 있는 곳이다.  
 ㄴ. 북한의 공업 도시로서 일제 시대부터 발달하였다.  
 ㄷ. 외국인의 직접 투자가 활발히 일어나고 있는 곳이다.  
 ㄹ. 유엔개발계획(UNDP) 사업이 이루어지는 경제 개발 지역이다.

① ㄱ, ㄴ-----② ㄱ, ㄷ-----③ ㄴ, ㄷ-----④ ㄴ, ㄹ-----⑤ ㄷ, ㄹ

19. 영수는 가족들과 함께 지도에 표시된 경로를 따라 여행하였다. 관찰한 사항으로 옳은 것을 <보기>에서 모두 고른 것은?

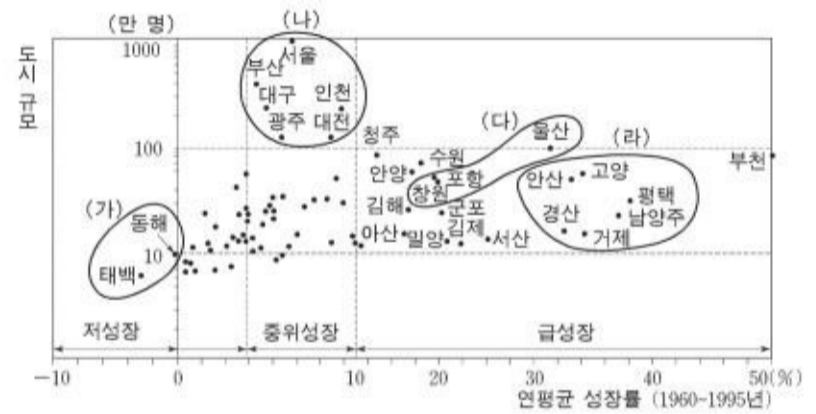


〈보기〉

ㄱ. 해안을 따라 나타나는 석호  
 ㄴ. 만입된 곳에 발달한 항구들  
 ㄷ. 바다 위에 떠 있는 수산 양식 시설물  
 ㄹ. 농경지 조성을 위해 축조된 대규모 방조제

① ㄱ, ㄴ-----② ㄱ, ㄷ-----③ ㄴ, ㄷ-----④ ㄴ, ㄹ-----⑤ ㄷ, ㄹ

20. 그림은 우리나라 도시들의 규모와 인구 성장률을 나타낸 것이다. 이에 대한 설명으로 옳은 것을 <보기>에서 모두 고른 것은? [3 점]



〈보기〉

ㄱ. (가)군의 도시들은 자원 의존형 지역 개발과 관계가 있다.  
 ㄴ. (나)군의 도시들은 조선 시대 초기부터 지역 거점으로 성장하였다.  
 ㄷ. (다)군의 도시들은 정부 주도적 공업화 정책으로 급성장하였다.  
 ㄹ. (라)군의 도시들은 지식정보형 산업의 집적으로 크게 성장하였다.

① ㄱ, ㄴ-----② ㄱ, ㄷ-----③ ㄴ, ㄷ-----④ ㄴ, ㄹ-----⑤ ㄷ, ㄹ

\* 확인 사항

- 답안지의 해당란에 필요한 내용을 정확히 기입(표기)했는지 확인하십시오.