

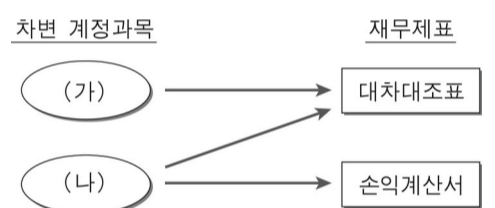
제 4 교시



2009 학년도 대학수학능력시험

직업탐구 영역

0. 그림은 계정과목과 재무제표의 연결관계이다. <보기>의 거래를 분개할 경우 (가), (나)에 해당하는 것으로 옳은 것은?



<보기>

- ㄱ. 복리후생비 ₩20,000 을 현금으로 지출하다.
- ㄴ. 비품 ₩500,000 을 구입하고 대금은 외상으로 하다.
- ㄷ. 단기차입금 ₩300,000 과 그에 대한 이자 ₩5,000 을 현금으로 지급하다.

- (가) ----- (나)
- ① ㄱ ----- ㄴ
  - ② ㄱ ----- ㄷ
  - ③ ㄴ ----- ㄱ
  - ④ ㄴ ----- ㄷ
  - ⑤ ㄷ ----- ㄱ

1. 그림은 ○○기업에서 발생한 거래이다. (가)~(다)의 회계처리에 대한 설명으로 옳은 것은?



번호

- ① (가)는 유형자산이 증가한다.
- ② (나)는 상품 취득원가에 포함한다.
- ③ (다)는 세금과공과계정에 계상한다.
- ④ (가)와 (나)는 유동자산이 증가한다.
- ⑤ (나)와 (다)는 비용이 발생한다.

2. 다음은 경영실적 발표에 관한 신문기사이다. (가)에 들어갈 항목으로 옳은 것은?

**내실경영 2년 연속 흑자**

△△기업이 발표한 2007년 사업보고서에 따르면, 전년 대비 영업이익은 다소 줄었지만 당기순이익은 15% 이상 상승했다. 이러한 당기순이익의 상승과 흑자 기조를 이어간 것은 (가) 을(를) 전년 대비 절반으로 줄이려는 경영진의 노력이 컸던 것으로 풀이된다.

- ○○신문, 2008년 3월 27일자 -

- ① 접대비 ----- ② 매출원가 ----- ③ 이자비용
- ④ 광고선전비 ----- ⑤ 수도광열

3. 다음은 (주)○○은행이 건물 리모델링회사로부터 받은 청구서이다. 이 건물의 취득원가에 산입할 금액으로 옳은 것은?

| 청 구 서        |                           |    |              |
|--------------|---------------------------|----|--------------|
| △△리모델링       |                           |    |              |
| 합 계 금 액      | 인근 사백사십칠만 원정 (₩4,470,000) |    |              |
| 품 명          | 규격                        | 수량 | 단가           |
| 1층 에스컬레이터 설치 |                           |    | 3,000,000    |
| 현관문 유리 교체    |                           |    | 700,000      |
| 급고보관식 개량     |                           |    | 600,000      |
| 외벽 도색(페인트칠)  |                           |    | 800,000      |
| 계            |                           |    | 4,470,000    |
|              |                           |    | 비 고          |
|              |                           |    | 고객 편의시설 제공   |
|              |                           |    | 파손 유리문 교체    |
|              |                           |    | 확장 및 보안기능 강화 |
|              |                           |    | 정기 도색        |

- ① ₩3,600,000 ----- ② ₩3,670,000 ----- ③ ₩3,800,000
- ④ ₩4,400,000 ----- ⑤ ₩4,470,000

4. 다음 밑줄 친 부분을 회계처리할 경우 차변 계정과목과 해당 재무제표 구성요소로 옳은 것은?

소유주 우주선에 탑재되어 한국 최초의 우주인과 함께 이송될 우주저울이 러시아에서 실시된 인증시험을 최종 통과하였다. 이 저울은 무중력상태에서도 질량을 측정할 수 있는데 국내의 △△회사가 개발활동에 5억 원을 투입하여 세계 최초로 만든 것이며, 우주 항공 제품시장에서 그 상업적 가치가 높을 것으로 예상된다.

- ○○신문, 2008년 4월 8일자 -

차변 계정과목 ----- 재무제표 구성요소

- ① 개발비 ----- 비용
- ② 개발비 ----- 자산
- ③ 개발비 ----- 자본
- ④ 경상개발비 ----- 비용
- ⑤ 경상개발비 ----- 자산

5. 다음은 ○○기업의 손익계산서를 간략하게 나타낸 것이다. (가), (나)의 항목에 해당하는 거래의 분개로 옳은 것을 <보기>에서 고른 것은? (단, 중단사업손익은 없다.) [3 점]

| 과 목         | 금 액       |
|-------------|-----------|
| 매 출 액       | 3,000,000 |
| 매 출 원 가     | 2,000,000 |
| 매 출 총 이 익   | × × ×     |
| ⋮           | ⋮         |
| 영 업 이 익     | × × ×     |
| (가)         | (+) × × × |
| (나)         | (-) × × × |
| 법인세비용차감전순이익 | × × ×     |
| ⋮           | ⋮         |

※특별항목은 기업회계기준서 제21호(2006.12.31이후부터 시행)의 시행 이전에는 구분 표기되었다.

<보기>

| (차변)                      | (대변) |
|---------------------------|------|
| ㄱ. 건 물 xxx 자산수증이익 xxx     |      |
| ㄴ. 기타의대손상각비 xxx 미 수 금 xxx |      |
| ㄷ. 임 차 료 xxx 현 금 xxx      |      |
| ㄹ. 자 본 금 xxx 당 좌 예 금 xxx  |      |
| 감 자 차 익 xxx               |      |

(가) ----- (나)

- ① ㄱ ----- ㄴ
- ② ㄱ ----- ㄷ
- ③ ㄴ ----- ㄹ
- ④ ㄷ ----- ㄱ
- ⑤ ㄷ ----- ㄹ

6. 그림은 현금과부족에 관한 내용이다. 이의 원인이 될 수 있는 거래로 옳은 것을 <보기>에서 고른 것은? [3 점]



<보기>

- ㄱ. 현금 매출한 상품 거래가 기장 누락되었다.
- ㄴ. 전기료를 현금 납부하였으나 기장 누락되었다.
- ㄷ. 현금으로 받은 배당금수익이 과소 기장되었다.
- ㄹ. 현금 지급한 운반비가 실제보다 과소 기장되었다.

- ① ㄱ, ㄴ ----- ② ㄱ, ㄷ ----- ③ ㄴ, ㄷ
- ④ ㄴ, ㄹ ----- ⑤ ㄷ, ㄹ

7. 다음은 ○○기업에서 작성한 출장보고서이다. 여비를 정산할 때 가지급금계정 대변에 기입될 금액으로 옳은 것은?

| 소속       | 영업부  | 직위    | 대리     | 성명 | 홍길동 |
|----------|--|-------|--------|----|-----|
| 출장지      | 대전   | 출장 목적 | 거래처 방문 |    |     |
| 출장기간     | 2008년 5월 12일~14일(03일간)                         |       |        |    |     |
| 여비 개산액   | 5월 12일 현금 ₩300,000 수령                          |       |        |    |     |
| 여비 정산 내역 | -숙박비 ₩100,000<br>-교통비 ₩120,000<br>-식비 ₩100,000 |       |        |    |     |
| 출장보고     | -거래처 제조 현황 파악                                  |       |        |    |     |

- ① ₩20,000 ----- ② ₩200,000 ----- ③ ₩220,000
- ④ ₩300,000 ----- ⑤ ₩320,000

8. 그림의 대화에 나타난 거래요소의 결합관계로 옳은 것은? (단, 상품계정은 순수계정(분기법)으로 처리한다.)



(차변) ----- (대변)

- ① 자산의 증가 ----- 자산의 감소
- ② 비용의 발생 ----- 자산의 감소
- ③ 자산의 감소 ----- 수익의 발생
- ④ 자산의 증가 ----- 자산의 감소
- 수익의 발생
- ⑤ 자산의 증가 ----- 자산의 감소

비용의 발생

9. 다음은 [거래]에 대한 잘못된 [분개]이다. 이를 바르게 수정하지 않을 경우 결산 재무제표에 미치는 영향으로 옳은 것을 <보기>에서 모두 고른 것은? [3 점]

[거래]  
직원의 12 월분 급여 ₩500,000 에서 소득세 ₩30,000 을 차감한 잔액을 현금으로 지급하다.(단, 결산일인 12 월 31 일 현재 소득세는 미납부 상태이다.)

[분개]  
(차변) 급여 470,000 (대변) 현금 470,000

<보기>

- ㄱ. 부채의 과소 계상
- ㄴ. 비용의 과대 계상
- ㄷ. 자산의 과소 계상

- ① ㄱ-----② ㄴ-----③ ㄱ, ㄷ
- ④ ㄴ, ㄷ-----⑤ ㄱ, ㄴ, ㄷ

10. 다음은 개인회사인 ○○기업의 손익계정과 이월시산표의 일부이다. 이에 대한 설명으로 옳은 것을 <보기>에서 고른 것은? [3 점]

| 손 익              |                  | 이월시산표            |                  |
|------------------|------------------|------------------|------------------|
| 매 입 500,000      | 매 출 800,000      | 현 금 900,000      | 외상매입금 130,000    |
| 이자비용 200,000     |                  | 당 좌 예 금 300,000  | 지 급 어 음 170,000  |
| ⋮                | ⋮                | 이 월 상 품 100,000  | ⋮                |
| 자 본 금 100,000    |                  | ⋮                | 자 본 금 1,100,000  |
| <u>1,000,000</u> | <u>1,000,000</u> | <u>2,000,000</u> | <u>2,000,000</u> |

<보기>

- ㄱ. 당기총매입액은 ₩500,000 이다.
- ㄴ. 기말자본금은 ₩1,000,000 이다.
- ㄷ. 이월상품은 기말상품재고액을 의미한다.
- ㄹ. 손익계정의 자본금 금액은 당기순이익을 의미한다.

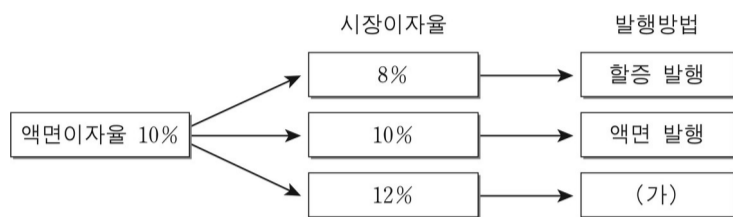
- ① ㄱ, ㄴ-----② ㄱ, ㄷ-----③ ㄴ, ㄷ
- ④ ㄴ, ㄹ-----⑤ ㄷ, ㄹ

11. 다음 대화에 나타난 거래를 마친 후 ○○마트(주)의 입장에서 회계처리한 결과로 옳은 것은? (단, 상품권은 ○○마트(주)가 발행한 것이다.)



- ① 당좌자산의 감소-----② 재고자산의 증가
- ③ 유동부채의 감소-----④ 유형자산의 증가
- ⑤ 투자자산의 감소

12. 그림은 주식회사의 사채발행방법을 나타낸 것이다. (가)와 관련된 내용으로 옳은 것을 <보기>에서 모두 고른 것은? [3 점]



<보기>

- ㄱ. 만기일에 사채할인발행차금 잔액은 전액 상각된다.
- ㄴ. 사채발행 제비용은 사채할인발행차금을 감소시킨다.
- ㄷ. 만기일에 상환하기로 약속하는 금액은 액면가액이다.

- ① ㄱ-----② ㄴ-----③ ㄱ, ㄷ
- ④ ㄴ, ㄷ-----⑤ ㄱ, ㄴ, ㄷ

13. 그림은 ○○기업의 증자에 관한 대화이다. 이 회계처리의 결과로 옳은 것을 <보기>에서 고른 것은? [3 점]



<보기>

- ㄱ. 자산의 증가-----ㄴ. 영업이익의 증가  
 ㄷ. 자본잉여금의 증가-----ㄹ. 이익잉여금의 증가

- ① ㄱ, ㄴ-----② ㄱ, ㄷ-----③ ㄱ, ㄹ  
 ④ ㄴ, ㄷ-----⑤ ㄴ, ㄹ

14. 다음은 개인회사인 ○○기업의 자금운용현황이다. (가)~(다)의 영향으로 옳은 것을 <보기>에서 모두 고른 것은? [3 점]

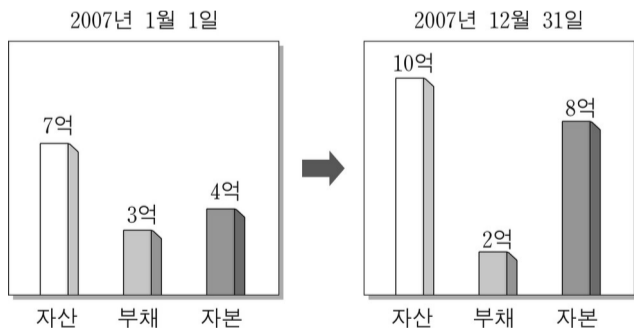
- (가) 시설경비부문을 위탁운영하고 절약된 비용으로 회계소프트웨어를 구입함.  
 (나) 단기매매증권을 취득한 후 시세가 계속 상승하여 결산일에 평가이익이 발생함.  
 (다) 내용연수가 남아 있는 영업용 건물을 처분하고, 매각대금 전액으로 부채를 상환함.

<보기>

- ㄱ. (가)에 의해 무형자산이 증가한다.  
 ㄴ. (나)에 의해 투자자산이 증가한다.  
 ㄷ. (다)에 의해 감가상각비가 감소한다.

- ① ㄱ-----② ㄴ-----③ ㄱ, ㄷ  
 ④ ㄴ, ㄷ-----⑤ ㄱ, ㄴ, ㄷ

15. 그래프는 ○○기업의 2007 년도 재무상태 변화를 나타낸 것이다. 이의 원인으로 옳은 것을 <보기>에서 모두 고른 것은?

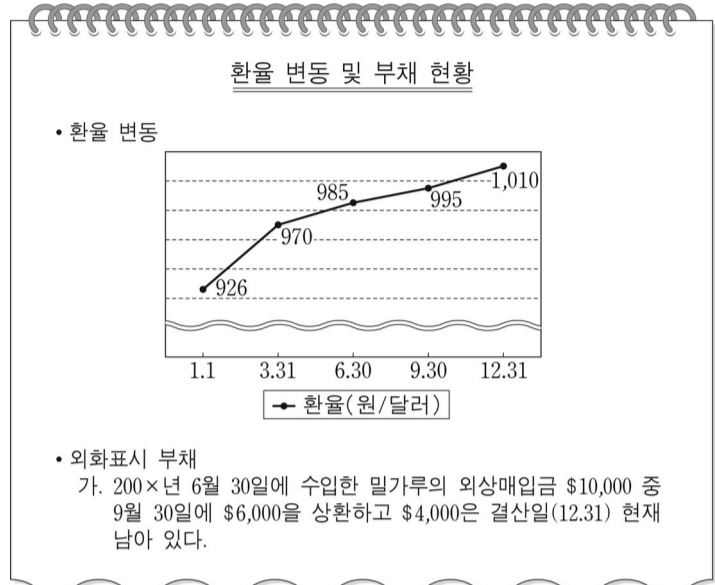


<보기>

- ㄱ. 당기순이익이 발생하였다.  
 ㄴ. 매입처가 제시한 환어음을 인수하였다.  
 ㄷ. 차량운반구를 전액 현금으로 취득하였다.

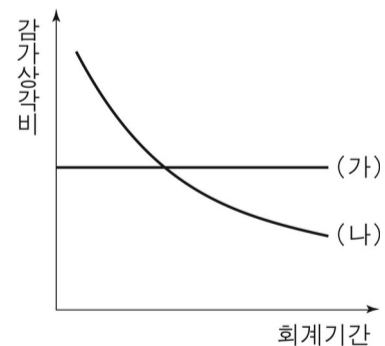
- ① ㄱ-----② ㄴ-----③ ㄱ, ㄷ  
 ④ ㄴ, ㄷ-----⑤ ㄱ, ㄴ, ㄷ

16. 다음은 환율 변동과 관련한 ○○기업 내부보고서의 일부이다. 외상매입금의 결산 정리분개가 재무제표에 미치는 영향으로 옳은 것은? [3 점]



- ① 부채의 감소, 외환차익의 발생  
 ② 부채의 감소, 외환차손의 발생  
 ③ 부채의 감소, 외화환산손실의 발생  
 ④ 부채의 증가, 외화환산이익의 발생  
 ⑤ 부채의 증가, 외화환산손실의 발생

17. 그림은 감가상각방법에 따른 감가상각비를 나타낸 것이다. (가), (나)와 관련된 설명으로 옳은 것을 <보기>에서 모두 고른 것은? [3 점]

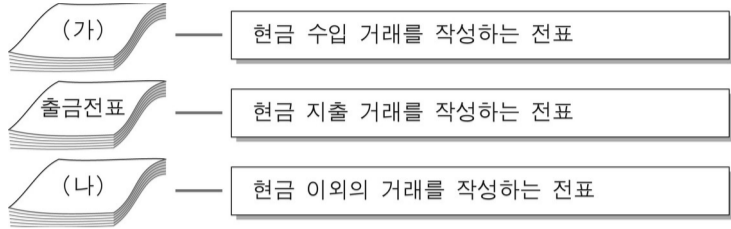


<보기>

- ㄱ. (가)의 매기 감가상각비는 감가상각누계액에 정률을 곱하여 계산한다.  
 ㄴ. (나)는 내용연수가 경과함에 따라 매기 인식할 감가상각비가 체감한다.  
 ㄷ. (나)의 매기 감가상각비는 취득원가에서 잔존가액을 차감한 금액에 정률을 곱하여 계산한다.

- ① ㄱ-----② ㄴ-----③ ㄱ, ㄷ  
 ④ ㄴ, ㄷ-----⑤ ㄱ, ㄴ, ㄷ

18. 다음은 3 전표 제도의 설명이다. (가), (나)에 해당하는 거래로 옳은 것을 <보기>에서 고른 것은?



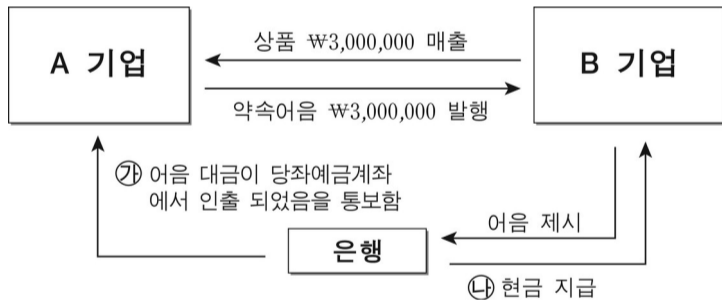
<보기>

- ㄱ. 상품 ₩200,000(원가 ₩180,000)을 외상매출하다.
- ㄴ. 금고에 보관 중이던 현금 ₩400,000 을 도난당하다.
- ㄷ. 외상매출금 ₩300,000 을 타인발행수표로 회수하다.
- ㄹ. 상품 ₩100,000 을 매입하고, 소유하고 있던 자기앞수표로 지급하다.

- (가) ----- (나)
- ① ㄱ ----- ㄴ
  - ② ㄴ ----- ㄷ
  - ③ ㄴ ----- ㄹ
  - ④ ㄷ ----- ㄱ
  - ⑤ ㄷ ----- ㄹ

19. 다음은 약속어음의 흐름도이다. 이에 대한 설명으로 옳은 것을 <보기>에서 고른 것은? (단, 상품계정은 3 분법으로 처리한다.)

[3 점]



<보기>

- ㄱ. A 기업은 수취인, B 기업은 발행인이다.
- ㄴ. A 기업은 매출채권이 증가하고, B 기업은 매입채무가 증가한다.
- ㄷ. A 기업이 ㉠을 분개할 경우 차변 계정과목은 지급어음이다.
- ㄹ. B 기업이 ㉡를 분개할 경우 대변 계정과목은 받을어음이다.

- ① ㄱ, ㄴ ----- ② ㄱ, ㄷ ----- ③ ㄴ, ㄷ
- ④ ㄴ, ㄹ ----- ⑤ ㄷ, ㄹ

\* 확인 사항

○ 답안지의 해당란에 필요한 내용을 정확히 기입(표기)했는지 확인하시오.