


제 4 교시



2009 학년도 대학수학능력시험


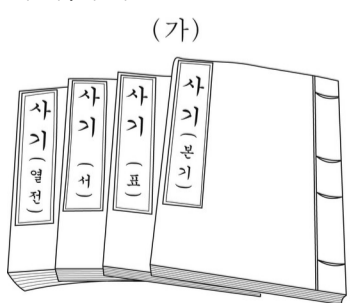
사회탐구 영역

0. 다음 자료와 관련된 나라에 대한 설명으로 가장 적절한 것은?



- ① 12 표법을 비롯한 법률을 만들었다.
- ② 호메로스, 헤로도토스 등의 문인을 배출하였다.
- ③ 라오콘, 밀로의 비너스 같은 조각상을 만들었다.
- ④ 수사와 변론을 가르치는 소피스트들이 활약하였다.
- ⑤ 신앙과 이성의 조화를 꾀한 스킨라 철학이 발달하였다.

1. (가), (나)에 대한 설명으로 옳은 것은?



- ① (가)는 한족을 회유하기 위해 편찬되었다.
- ② (가)는 기전체로 쓴 역사책으로 정사 서술의 모범이 되었다.
- ③ (나)는 한나라 때 반고가 저술하였다.
- ④ (나)는 성리학 경전으로 심성과 우주의 원리를 밝혔다.
- ⑤ (가), (나)는 서민 문화의 확산에 기여하였다.

2. 다음 자료와 관련된 옳은 설명을 <보기>에서 고른 것은?

(가) 수도 수사와 소아시아의 사르데스를 잇는 이 도로는 폭이 10~23m, 길이가 2,400km 나 되었다. 늘 준마가 대기하고 있기 때문에 이전에는 90 일이 걸리던 길을 불과 7 일 만에 달릴 수 있었다. 이를 바탕으로 전국을 20 여 개의 주로 분할하고 주마다 총독을 두었다. 또한 총독의 행동을 감시하고 중앙과 연락을 담당하는 '왕의 눈'과 '왕의 귀'를 두었다.

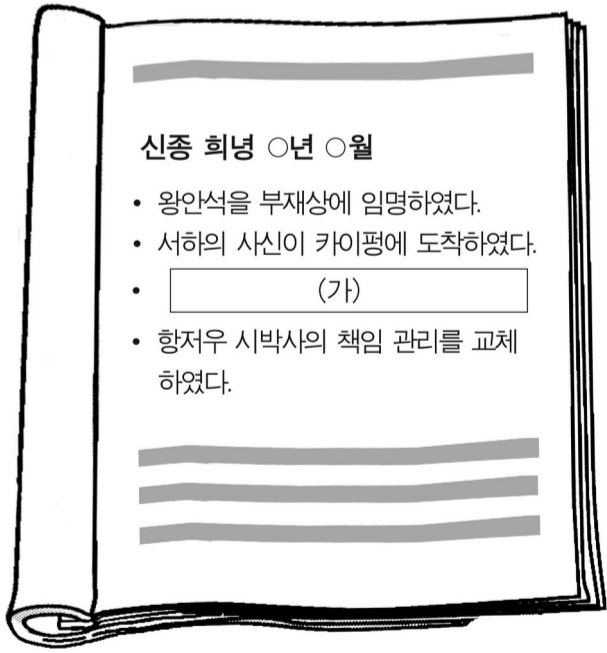
(나) 지방으로 통하는 주요 도로에는 40~50km 마다 역참이 배치되어 있었다. 각 역참에는 300~400 마리의 말이 준비되어 있었다. 칸이 다스리는 모든 지방에 역참이 갖추어져 있어서 칸의 사신들은 어디를 가더라도 불편하지 않았다.

<보기>

- ㄱ. (가)는 아시리아가 서아시아 세계를 통일한 기반이었다.
- ㄴ. (나)는 몽골이 제국을 관리하는 데 중요한 수단이었다.
- ㄷ. (가), (나)는 문화 교류와 상업 발달에 기여하였다.
- ㄹ. (가), (나)의 건설로 인해 민중 반란이 빈발하였다.

- ① ㄱ, ㄴ ----- ② ㄱ, ㄷ ----- ③ ㄴ, ㄷ
- ④ ㄴ, ㄹ ----- ⑤ ㄷ, ㄹ

3. 그림은 중국 어느 왕조 실록의 일부이다. (가)에 들어갈 내용으로 적절한 것은?



- ① 색목인과 관련된 제도를 정비하였다.
- ② 타이완의 지방관이 왜구의 침공을 보고하였다.
- ③ 옥수수·감자의 경작 규모 증가가 보고되었다.

- ④ 남부 지방의 관료가 균전제의 보완을 건의하였다.
- ⑤ 조정에서 교자 발행량을 둘러싼 논쟁이 벌어졌다.

4. (가), (나)에 대한 옳은 설명을 <보기>에서 고른 것은?

(가) (나)



앙코르 와트



보로부두르

<보기>

- ㄱ. (가)는 12세기 캄보디아 일대를 지배한 왕조가 건설하였다.
- ㄴ. (가)는 전형적인 이슬람 건축 양식을 보여준다.
- ㄷ. (나)는 인도네시아에 있는 불교 유적이다.
- ㄹ. (나)에는 카스트 제도의 신분 차별이 반영되어 있다.

- ① ㄱ, ㄴ ----- ② ㄱ, ㄷ ----- ③ ㄴ, ㄷ
- ④ ㄴ, ㄹ ----- ⑤ ㄷ, ㄹ

5. 다음은 어느 나라의 혁명에 관련된 자료이다. 이에 대한 사실로 옳지 않은 것은?

- 이 식민지 연합은 자유롭고 독립적인 주들의 모임이며, ... (중략) ... 식민지는 영국의 국왕에 대해서 더 이상 어떠한 복종의 의무도 없다. 식민지와 영국 사이의 모든 정치적 연결선은 단절되었으며 또 마땅히 그러해야 한다.
- 모든 인간은 평등하게 창조되었으며, 생명과 자유 및 행복을 추구할 권리를 포함하여 누구도 침범할 수 없는 권리를 신으로부터 받았다. 바로 이러한 권리를 확보하기 위해 정부가 조직되었다. 따라서 모든 정부의 정당한 권력은 통치를 받는 사람들의 동의에서 생겨난다.

- ① 13개 식민지의 독립이 승인되었다.
- ② 프랑스가 식민지 독립을 지원하였다.
- ③ 인지세법에 대한 반대 운동이 일어났다.
- ④ 영국 동인도 회사의 차 수송선이 습격당했다.
- ⑤ 권리 장전으로 의회 중심의 민주주의가 확립되었다.

6. 다음 자료에서 설명하고 있는 이념과 관련된 사실로 적절하지 않은 것은? [3점]

- 국민 국가 건설과 발전에 큰 영향을 주었다.
- 나폴레옹이 유럽 여러 나라를 침략하였을 때 각 국에서 부상하기 시작하였다.
- 공동체의 언어·역사·전통 등의 문화적 동질성을 강조하였다.

- ① 프로이센이 관세 동맹 체결을 주도하였다.

- ② 가리발디가 시칠리아와 나폴리를 통합하였다.
- ③ 비스마르크의 주도로 북독일 연방이 결성되었다.
- ④ 사르데냐가 오스트리아에 맞서 전쟁을 일으켰다.
- ⑤ 앙리 4세가 위그노에게 신앙의 자유를 허용하였다.

7. (가), (나) 나라에 관한 옳은 설명을 <보기>에서 고른 것은?

[3점]

- (가) 흑해와 지중해를 잇는 교역로로 번영하였다. 그리스 문화의 전통 위에 그리스 정교를 결합하여 독자적인 문화권을 성립시켰다. 성 소피아 성당은 대표적 건축물이다. 이 문화는 러시아를 비롯한 동유럽 지역에 큰 영향을 주었다.
- (나) 동서 교통의 중양을 차지하여 중계 무역으로 번영하였다. 종말과 최후의 심판을 믿는 조로아스터 교를 국교로 삼았다. 공예, 궁전 건축 등이 크게 발달하였고, 유리 그릇, 도자기는 동아시아에까지 전파되었다.

<보기>

- ㄱ. (가)에서는 정교 분리가 엄격히 지켜졌다.
- ㄴ. (가)는 군관구 제도와 둔전병 제도를 실시하였다.
- ㄷ. (나)는 그리스와 전쟁을 벌였다.
- ㄹ. (가), (나) 모두 이슬람 세력에게 멸망당했다.

- ① ㄱ, ㄴ ----- ② ㄱ, ㄷ ----- ③ ㄴ, ㄷ
- ④ ㄴ, ㄹ ----- ⑤ ㄷ, ㄹ

8. 다음 대화에서 설명하는 왕조가 시행한 것으로 옳은 것은?



가혹한 토목 공사와 빈번한 대외 원정으로 백성들의 원망을 샀어.

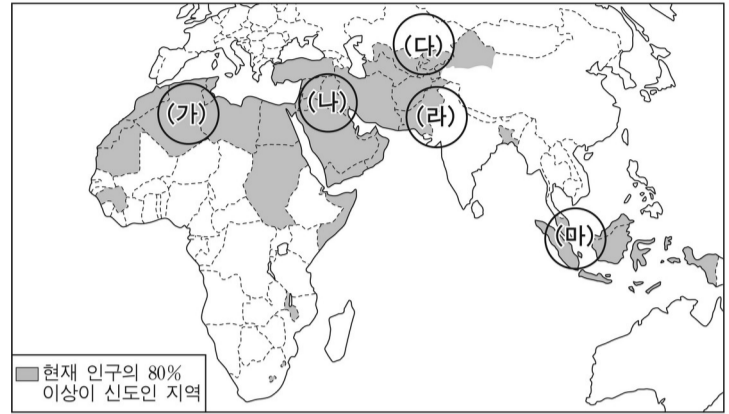
하지만 분열된 시대를 통일하고 국가 체제를 정비한 점은 인정할만 하다고 생각해.



특히, 귀족 세력을 누르기 위해 새로운 관리 선발 제도를 도입했지.

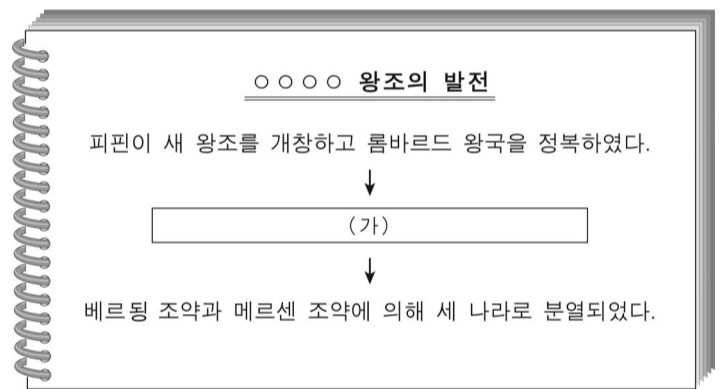
- ① 만리장성과 아방궁을 건설하였다.
- ② 화북과 강남을 잇는 대운하를 건설하였다.
- ③ 인도, 아프리카에 이르는 해외 원정을 단행하였다.
- ④ 5 대 10 국을 통일하고 문치주의 정책을 실시하였다.
- ⑤ 흉노를 정벌하고 소금과 철의 전매 제도를 실시하였다.

9. 지도는 어느 종교의 신도가 많은 지역을 표시한 것이다. 이 종교가 (가) ~ (마) 각 지역으로 확산된 계기로 옳지 않은 것은? [3 점]



- ① (가) - 옴미아드 왕조의 영토 확장
- ② (나) - 정통 칼리프 시대의 대외 팽창
- ③ (다) - 탈라스 전투의 승리
- ④ (라) - 아소카 왕의 정복 활동
- ⑤ (마) - 13 세기 바닷길을 통한 상인들의 왕래

10. (가)에 들어갈 내용으로 적절한 것은? [3 점]



- ① 오토 1 세가 왕으로 선출되었다.
- ② 클로비스가 크리스트 교로 개종하였다.
- ③ 왕국의 실권이 궁재의 수중으로 넘어갔다.
- ④ 카롤루스 마르텔이 이슬람 군을 격퇴하였다.
- ⑤ 로마 교황이 카롤루스 대제를 서로마 황제로 대관하였다.


11. (가)에 대한 설명으로 적절한 것은? [3 점]

왕망은 당시 토지 겸병 현상이 두드러지면서 각종 사회 문제가 발생하자, 모든 토지를 국가의 소유로 삼고 노비의 매매를 금지하였다. 그러나 정전제를 모델로 삼은 그의 개혁은 경제 생활에 큰 어려움을 가져왔다. 종족(宗族)이 긴밀하게 협력하여 생활하고 대토지를 소유한 (가) 는(은) 물론이고, 개혁을 통해 보호하려던 소농민도 불만을 드러냈다.

- ① 과거를 통해 중앙 정계로 진출하였다.
- ② 천자의 일족으로서 종법제를 매개로 제후에 임명되었다.
- ③ 변방의 최고 사령관으로 군사·재정·행정을 장악하였다.
- ④ 지역 사회를 지배하고 향거리선제를 통해 중앙 관료로 진출하였다.
- ⑤ 학생이나 전직 관료로서 특권을 부여받아 지방 정치에 영향력을

행사하였다.

12. (가), (나)에 대해 학생들이 나눈 대화로 적절하지 않은 것은? [3 점]



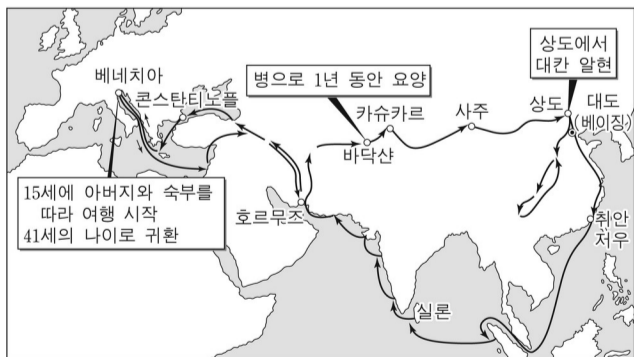
- ① 갑 - (가)는 스토아 철학의 이상을 구현하려고 했어.
- ② 을 - (가)는 고딕 건축의 중요한 특징 가운데 하나이지.
- ③ 병 - (나)는 주로 모스크 내부 장식에 사용되었어.
- ④ 정 - (나)는 신을 그리지 못하도록 하였기 때문에 발달하였어.
- ⑤ 무 - (가)와 (나)는 유일신 사상을 토대로 한 종교 예술 작품이야.

13. 밑줄 친 '이것'이 서유럽에 끼친 영향으로 옳은 것은?

14세기 중반 전 유럽에 창궐했던 이것은 1347년 크림반도에 최초로 나타나 흑해, 에게해를 거쳐 남이탈리아에 상륙했다. 이 경로는 당시의 무역로였기 때문에 상선이 이것을 옮겨온 것으로 보인다. 1347~1351년 사이에 유럽인의 약 1/3~1/5이 이것으로 죽었다.

- ① 십자군 전쟁이 종결되었다.
- ② 마자르족의 이동이 시작되었다.
- ③ 국왕권이 약해지고 지방 세력이 강해졌다.
- ④ 식량 부족을 타개하기 위해 삼포제가 도입되었다.
- ⑤ 노동력 부족으로 임금이 상승하면서 농민의 처지가 개선되었다.

14. 지도에 표시된 경로를 따라서 여행했던 사람이 견문하였을 내용으로 적절한 것은? [3 점]



- ① 쿠빌라이 시대 몽골의 일본 침공
- ② 티무르 제국의 화려한 이슬람 문화
- ③ 무굴 제국의 건국과 인도 남부 점령
- ④ 원나라 말기의 혼란과 주원장의 대두
- ⑤ 마테오 리치 등 예수회 선교사의 활약

15. 다음 주장이 영향을 끼친 사실로 옳은 것은?

교황은 예수의 바른 길을 밟지 않고 사탄의 잘못된 길을 걸어가고 있다. 예수께서 교황청이나 추기경 회의를 만드셨다는 말은 어디에도 없다. ... (중략) ... 설령 백 명의 교황이 있고 모든 수도사들이 추기경이 된다고 해도 신앙의 문제에서는 성서와 일치할 때에만 그들의 주장을 받아들여야 한다. ----- 위클리프 -

- ① 니케아 공의회가 소집되었다.
- ② 교황청이 아비뇽으로 옮겨졌다.
- ③ 루터가 면벌부 판매를 비판하였다.
- ④ 교황과 황제 간에 서임권 투쟁이 시작되었다.
- ⑤ 성상 숭배 금지령을 둘러싼 논쟁이 야기되었다.

16. 다음 자료와 관련된 설명으로 적절하지 않은 것은? [3 점]

(가) 천하가 평정된 지 오래되었으니 앞으로 인정세(人丁稅)는 영구히 폐지하고 그것을 토지세에 포함시켜 은으로 징수하라.  
 (나) 모든 지방의 부역을 하나로 합하고, 토지세로부터 공납으로 바치는 지방 특산물에 이르기까지 모두 합쳐 한 가지 조목으로 만든 다음 은으로 징수한다.  
 (다) 모든 백성은 현재 거주하는 지역의 호적에 등기한다. 소유 토지와 재산의 많고 적음에 따라 조세를 부과하되, 여름과 가을 두 차례로 나누어 징수한다.

- ① (가)의 실시는 이후 급격한 인구 증가의 요인으로 작용하였다.
- ② (나)의 시행을 전후하여 신사층이 사회의 지배 계층으로 성장하였다.
- ③ (다)는 조·용·조 제도를 대신하여 실시되었다.
- ④ (나)와 (다)가 시행되던 시기에 공행이 대외 무역을 독점하였다.
- ⑤ (다) - (나) - (가)의 순서로 시행되었다.

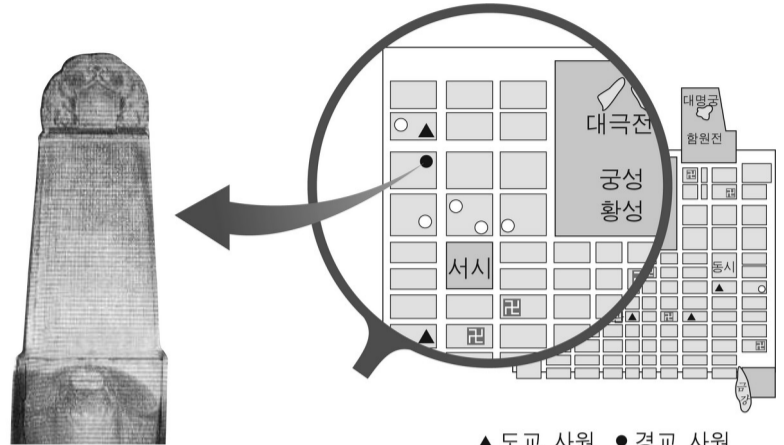
17. 그림이 보여주는 사건의 결과로 적절한 것은? [3 점]



- ① 노동자들이 파리 코뮌을 선언하였다.
- ② 시민들이 바스티유 감옥을 습격하였다.
- ③ 로베스피에르가 공포 정치를 실시하였다.
- ④ 입헌 군주제에 입각한 7월 왕정이 수립되었다.

⑤ 국민 투표로 나폴레옹 3 세가 황제로 즉위하였다.

18. 다음 자료와 관련된 왕조의 문화에 대한 옳은 설명을 <보기>에서 고른 것은? [3 점]



대진 경교 유행 중국비

▲도교 사원 ●경교 사원  
■불교 사원 ○배화교 사원

<보기>

- ㄱ. 자기 민족의 문화를 지키기 위해 문자를 새로 만들었다.
- ㄴ. 서역의 문화가 전래되고 국제적인 문화가 꽃을 피웠다.
- ㄷ. 개인의 자유로운 삶을 추구하는 청담 사상이 유행하였다.
- ㄹ. 승려들이 인도를 순례하고 가져온 불교 경전이 활발히 번역되었다.

- ① ㄱ, ㄴ ----- ② ㄱ, ㄷ ----- ③ ㄴ, ㄷ
- ④ ㄴ, ㄹ ----- ⑤ ㄷ, ㄹ

19. 다음은 일본 역사 관련 전시물이다. (가)에 들어갈 내용으로 적절한 것은?



▲ 에도로 향하는 가가(加賀) 번의 산킨고타이 행렬

고쿠 다카(石高, 영지의 미곡 생산량) 100만 석이 넘는 가가 번의 산킨고타이 행렬에는 수행원의 수가 모두 합하여 2,500 명이 넘었다고 한다. 당시 일본에서는, (가)

- ① 중앙 정부가 지방의 다이묘를 엄격하게 통제하였다.
- ② 국왕 중심의 효율적인 중앙 집권 통치가 행해졌다.
- ③ 수많은 번들이 서로 치열하게 전쟁을 벌이고 있었다.
- ④ 대규모 사절단인 견당사가 활발하게 파견되고 있었다.
- ⑤ 외침을 방어하기 위한 동원령이 전국에 내려진 상태였다.

\* 확인 사항

○ 답안지의 해당란에 필요한 내용을 정확히 기입(표기)했는지 확인하시오.