

제 4 교시



2009 학년도 대학수학능력시험

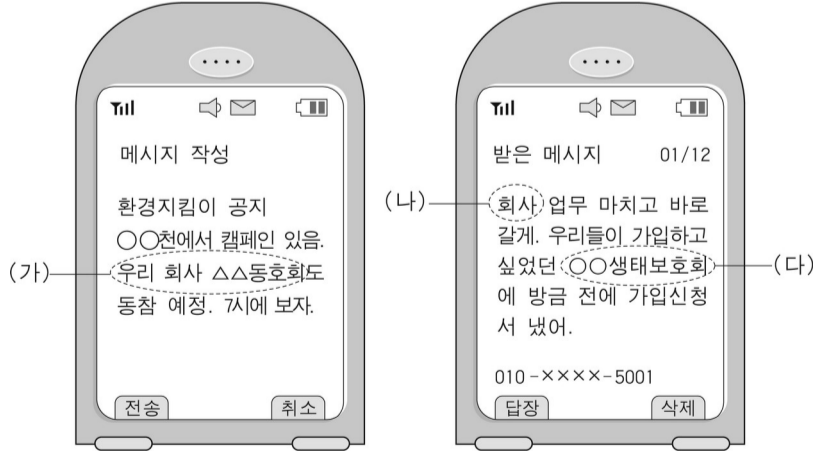
사회탐구 영역

0. 그림에 나타난 사회·문화 현상의 특징으로 가장 적절한 것은?



- ① 혼인 연령은 개인의 취향과 관련되는 문제이다.
- ② 시대 변화에 따라 사람들의 가치와 규범이 달라진다.
- ③ 확률 법칙이 존재하므로 규칙 발견과 예측이 용이하다.
- ④ 결혼 적령기에 대한 사회적 합의는 쉽게 바뀌지 않는다.
- ⑤ 결혼 연령을 물어보는 관행은 시대가 바뀌어도 유지된다.

1. (가)~(다)에 대한 설명으로 옳은 것은?



- ① (가)와 같은 조직은 규칙에 따른 구성원의 지위와 책임이 명확하다.
- ② (나)와 같은 조직은 도덕이나 관습 등 전통적인 규범으로 통제된다.
- ③ (다)의 경우 가입 순간부터 준거 집단이 되고 내집단이 된다.
- ④ (가), (나)와 같은 조직은 이익 사회에 해당되며, 현대 사회에서 증가하고 있다.


⑤ (나)와 같은 조직은 (다)와 같은 조직에 비하여 구성원의 가입과 탈퇴가 자유롭다.

번호 2. (가)~(마)에 대한 설명으로 옳은 것은? [3 점]

(가) →	연구 목적	흡연이 청소년 정서 발달에 미치는 영향
(나) →	연구 대상	○○ 금연 센터에서 금연 교육을 받고 있는 13세 이상 18세 미만 청소년 100명
(다) →	조사 방법	30문항으로 이루어진 설문지를 이용
(라) →	자료 처리 방법	컴퓨터에 입력하여 통계 처리함
(마) →	결론 도출	

- ① (가)에서는 연구자의 엄격한 가치 중립이 요구된다.
- ② (나)에서는 응답자와 교감이 필요하다.
- ③ (다)에서 각 문항의 답지는 상호 배타적이지 않아야 한다.
- ④ (마)에서 얻은 결과는 청소년에 대해 일반화할 수 없다.
- ⑤ (다)와 (라)의 과정은 흡연 동기와 의미를 파악하는데 적합하다.

3. 다음 두 기사에 나타난 현상의 공통점으로 가장 적절한 것은?



- ① 고부 간의 갈등이 증가하고 있다.
- ② 부계 중심 사회의 가치관이 강화되고 있다.
- ③ 가족 관계에서 개인주의적 성향이 나타나고 있다.
- ④ 사회의 전문화, 세분화로 가족의 범위가 확대되고 있다.
- ⑤ 사회가 다원화 되면서 가족의 정서적 기능이 강조되고 있다.

4. 가사 노동을 바라보는 갑, 을, 병의 관점에 대한 분석으로 옳은 것은?

갑: 누가 집안 일을 하는지 살펴보니 집집마다 다르더군. 그 누구의 전유물도 아니야.
 을: 남편과 아내가 사회적 능력에 따라 역할을 분담하는 것은 가족 제도의 유지와 발전을 위해서 바람직한 일이야.
 병: 가사 노동을 전적으로 여성의 책임이라고 보는 것은 부당해. 대대로 내려온 가부장제의 영향이 크다고 봐.

- ① 갑은 가족을 살아 있는 유기체에 비유하고 있다.
 - ② 병은 사회 구조적 맥락에서 분석하고 있다.
 - ③ 갑과 을은 미시적 관점에서 분석하고 있다.
 - ④ 을과 병은 조화와 균형을 중시하고 있다.
 - ⑤ 을은 병보다 현상을 심층적으로 분석하고 있다.
5. 사회·문화 현상 탐구의 윤리적 원칙에 비추어 다음 사례를 평가한 내용으로 가장 적절한 것은? [3 점]

○ 갑은 사회적 상황에 따라 인간의 도덕성이 어떻게 나타나는가를 연구하고자 한다. 이를 위하여 길가에 만 원을 떨어뜨려 놓고 지나가는 사람들의 행동을 몰래 관찰하였다. 관찰 이후에 대상자에게 연구 중이었음을 알려 주었다.

○ 을은 신약의 효능을 알아보기 위하여 상당한 대가를 약속하고 임상 실험 참가자들을 모집하였다. 연구 결과에 영향을 미칠 것을 염려하여 부작용에 대해서는 참가자들에게 알리지 않았다.

- ① 연구 결과가 이론의 발전에 기여한다면 갑의 연구 과정은 정당하다.
- ② 연구 대상자가 심한 불쾌감을 느끼더라도 갑의 절차는 윤리적 원칙에 어긋나지 않는다.
- ③ 갑의 연구에서 인간의 도덕성을 연구 주제로 선택한 것은 윤리적 원칙에 어긋나지 않는다.
- ④ 연구 결과가 불치병 치유에 도움이 된다면 을의 연구 과정은 정당하다.
- ⑤ 참가자를 자발적으로 모집하였으므로 을의 연구 과정에는 문제가 없다.

6. 탐구 과제의 (가)~(다)에 대한 분석으로 옳은 내용을 <보기>에서 고른 것은? [3 점]

탐구 과제

◆ 사회 계층 구조의 이해

과제 1. A계층이 다음과 같은 특성을 지닐 때 표의 (가)~(다)에 적합한 계층 구조를 생각해 보자.

이 계층은 산업사회에서 고등교육을 받았고 전문적 기술을 소유하고 있으며, 이 계층에 속한 사람의 수가 늘어날 때 사회가 안정되고 균형을 이룰 수 있다. 이 계층은 같은 계층에 속한다는 의식이 약하다.

사회 계층 구조	구성원의 비율
(가)	A>B, B<C, A<C
(나)	A>B, B<C, A>C
(다)	A<B, B<C, A<C

*단, 모든 사회 계층 구조에서 계층의 서열은 B가 C보다 상위

<보기>

- ㄱ. (가)는 다이아몬드형 계층 구조로 주로 산업화 시기에 나타난다.
- ㄴ. (다)는 수직 이동이 이루어지지 않는 폐쇄적인 형태로 고정되어 있다.
- ㄷ. (가)에서 (나)로의 변화는 사회 발전으로 인한 C 계층의 구조적 이동과 관련된 현상이다.
- ㄹ. (다)는 (나)에 비해 계층간 대립이 많고 사회 통합이 어렵다.

- ① ㄱ, ㄴ ----- ② ㄱ, ㄷ ----- ③ ㄴ, ㄷ ----- ④ ㄴ, ㄹ ----- ⑤ ㄷ, ㄹ

7. 개인과 사회의 관계를 바라보는 을의 관점에 부합하는 진술을 <보기>에서 고른 것은?

환경 보호를 위한 ○○토론회

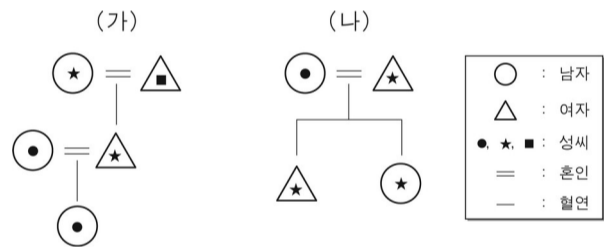


<보기>

- ㄱ. 개인이 발전해야 비로소 사회 전체가 발전한다.
- ㄴ. 사회 제도를 통해 사회 문제를 해결하고자 한다.
- ㄷ. 인간의 사고와 행위에서 주체성과 능동성을 강조한다.
- ㄹ. 개인의 의식과 행위로 포착할 수 없는 사회적 구조가 있다.

- ① ㄱ, ㄴ ----- ② ㄱ, ㄷ ----- ③ ㄴ, ㄷ ----- ④ ㄴ, ㄹ ----- ⑤ ㄷ, ㄹ

8. 그림은 최근 우리나라에서 나타나고 있는 가족의 모습이다. 이에 대한 설명으로 옳은 내용을 <보기>에서 고른 것은? [3 점]



<보기>

- ㄱ. (가)가 늘어나는 현상은 가부장제 약화와 관련이 있다.
- ㄴ. (나)가 늘어나는 현상은 가족 해체 현상을 반영한다.
- ㄷ. (나)가 늘어나는 현상은 여성의 지위 향상과 관련이 있다.
- ㄹ. (가)와 (나)가 늘어나면 법적으로 친족의 범위가 좁아질 것이다.

- ① ㄱ, ㄴ ----- ② ㄱ, ㄷ ----- ③ ㄴ, ㄷ ----- ④ ㄴ, ㄹ ----- ⑤ ㄷ, ㄹ

9. 다음 글에서 찾을 수 있는 자료 수집 방법의 일반적 특징으로 공통된 것은? [3 점]

해안 지방 풍어제의 실태를 조사하기 위하여 먼저 관련 연구자와 자치 단체의 담당 공무원을 면접하여 풍어제의 풍습과 의의를 알아보았다. ○○섬을 조사 대상 지역으로 선정하여 풍어제 기간 동안 마을에 머물면서 관찰하였다.

- ① 연구자의 편견이 개입될 가능성이 있다.
- ② 연구 대상자의 수가 많을 때 주로 이용된다.
- ③ 시간과 비용을 절약하고 정보 수집을 쉽게 할 수 있다.
- ④ 관찰하고자 하는 상황이 나타날 때까지 기다려야 한다.

⑤ 예상하지 못한 상황이 발생하면 변수를 통제하기가 힘들다.

10. 청소년 문제의 탐구 과정에서 아래 제시된 단계의 다음 단계에 해당하는 것은? [3 점]

● 다음과 같은 절차를 통해 탐구 문제를 해결한다.
 가설에 부합하는 분석 결과를 통하여 수용할 수 있는 가설은 무엇인가?
 — 가설에 부합하지 않는 분석 결과를 통하여 기각되는 가설은 무엇인가?
 — 분석 결과가 기준에 알고 있던 사실에 비추어 의미하는 것이 무엇인가?

- ① 설문지를 작성하고, 조사 대상이 될 청소년을 정한다.
- ② 청소년 문제와 관련 있는 자료들을 확인하고 수집한다.
- ③ 청소년 문제와 대중 문화에 대한 주요한 변수를 선정한다.
- ④ 연구 결과를 '대중 문화의 폭력성이 청소년 일탈을 조장한다'는 내용으로 일반화한다.
- ⑤ '온라인 게임을 많이 하는 청소년일수록 폭력적 행위의 빈도가 높다'라는 가설을 설정한다.

11. 다음에 사용된 사회·문화 현상에 대한 연구 방법의 일반적인 특징을 <보기>에서 고른 것은?

◆ 연구 자료 : ○○지역 50개 고등학교 도서관 이용 현황과 논술 경시 대회 실적
 ◆ 조사 결과 :
 1. 학교당 평균 장서는 17,000권이며 이의 80%에 미달하는 학교는 12개이다.
 2. 학생 1인당 월평균 도서관 이용 실적은 관내 열람 5.2권, 관외 대출 2.8권이다.
 3. 학교당 논술 경시 대회 연평균 참가 실적은 3.4회이며, 입상 실적은 1.1회이다.

<보기>

- ㄱ. 방법론적 일원론을 전제하고 있다.
- ㄴ. 계량화하기 어려운 문제의 연구에 적합하다.
- ㄷ. 사회·문화 현상의 인과 관계를 밝히고자 한다.
- ㄹ. 사회적 맥락을 중시하며 심층적인 이해를 가능하게 한다.

- ① ㄱ, ㄴ ----- ② ㄱ, ㄷ ---- ③ ㄴ, ㄷ ----- ④ ㄴ, ㄹ ----- ⑤ ㄷ, ㄹ

12. 밑줄 친 ㉠~㉣의 일반적인 특성에 대한 설명으로 옳은 것은? [3 점]

갑은 ㉠대기업인 ○○전자에 입사하여 6년 만에 과장으로 승진하였다. 회사는 글로벌 경쟁에서 뒤처지지 않기 위해 ㉡팀제로 조직을 개편하였다. 갑은 △△프로젝트 팀장을 맡게 되었다. 주말에는 ㉢사내 야구 동아리 활동에 참여하여 직원들과 친밀한 관계를 유지하고 있다. 한편 갑은 결혼하라는 ㉣부모님의 성화로 주말마다 맞선을 보느라 주말 동아리 활동에 자주 참석하지 못하여 가슴이 아프다.

- ① ㉠과 같은 조직은 산업 사회에서 나타난 과업 중심적인 조직이다.
- ② ㉡에 따라 업무가 표준화되고 조직의 유연성이 높아질 것이다.
- ③ ㉢과 같은 조직은 대면적 접촉과 비공식적 통제에 의해 운영된다.

④ ㉣과 같은 집단은 형식적이고 비인격적인 관계가 지배적이다.

⑤ ㉢의 사례는 재사회화 과정으로 성인기 이후에 가능하다.

13. 다음 대화 내용에 대한 설명으로 옳지 않은 것은?



- ① 갑이 제안하는 개발 방식은 한정된 지역에 집중 투자하여 개발의 효율성을 높일 수 있다.
- ② 을이 제안한 개발 방식은 주민들의 적극적인 의사 표명과 여론 수렴 절차가 필요하다.
- ③ 병은 지역간 균형 발전 못지않게 국가 발전을 중시한다.
- ④ 정이 제안한 방식에 따라 개발할 경우 국가 내에 여러 개의 권역이 형성될 수 있다.
- ⑤ 갑의 개발 방식보다 을의 개발 방식에서 지역 격차가 심화된다.

14. 표는 노인들의 거주 형태에 관한 것이다. 이에 대한 옳은 분석을 <보기>에서 고른 것은? [3 점]

(단위 : %)

연도	거주형태	연령						
		노인 전체	65-69세	70-74세	75-79세	80-84세	85-89세	90세 이상
1980년	자녀 없이 거주	19.5	22.8	20.7	15.7	10.7	8.9	5.3
	기혼 자녀와 거주	61.7	52.0	63.1	71.9	77.5	80.3	83.0
	미혼 자녀와 거주	18.8	25.1	16.2	12.4	11.8	10.7	11.7
2000년	자녀 없이 거주	50.9	56.0	54.7	47.8	37.1	25.6	18.8
	기혼 자녀와 거주	35.7	24.6	34.0	44.3	56.3	67.9	73.4
	미혼 자녀와 거주	13.4	19.4	11.3	7.9	6.6	6.5	7.9

<보기>

ㄱ. 연령대가 높을수록 독거 노인의 비율이 낮아진다.
 ㄴ. 2000 년에 65 ~ 69 세의 핵가족 비율은 19.4%이다.
 ㄷ. 연령대가 높을수록 기혼 자녀와 거주하는 비율이 높다.
 ㄹ. 1980 년 자녀 없이 거주하는 전체 노인 수는 미혼 자녀와 거주하는 전체 노인 수보다 많았다.

- ① ㄱ, ㄴ-----② ㄱ, ㄷ-----③ ㄴ, ㄷ-----④ ㄴ, ㄹ-----⑤ ㄷ, ㄹ

15. 다음 사례에 나타난 사회학적 개념을 <보기>에서 고른 것은?

결혼 이민자 여성들의 생활을 소개하는 방송에 출연한 갑은 결혼 이후 함께 살고 있는 시어머니와의 사이에서 발생한 일화를 소개하였다. “내 고향 하노이에서는 고개를 끄덕이는 행위가 상대방의 말을 수용한다는 뜻이 아니라 말을 이해했다는 뜻인데요. 시어머니 말씀에 고개를 끄덕였더니, 당신의 말씀을 수용하는 것으로 이해하셔서 당황스러운 때가 많았어요.”

<보기>

ㄱ. 외집단-----ㄴ. 사회화-----ㄷ. 확대 가족-----ㄹ. 역할 갈등

- ① ㄱ, ㄴ-----② ㄱ, ㄷ-----③ ㄴ, ㄷ-----④ ㄴ, ㄹ-----⑤ ㄷ, ㄹ

16. 농촌과 도시의 특성을 비교하는 수행 평가 과제에서 표의 빈칸에 들어갈 ‘+ 기호’의 개수가 바르게 연결된 것은?

<수행 평가 과제>

◎ 왼쪽 그림을 보고 두 지역의 일반적 특성에 맞도록 빈칸에 들어갈 내용을 기호로 표시하시오.

구 분	A지역	B지역
인구 밀도		
인구 이동		
노령화 지수		
서비스 산업 종사자 비율		
비공식적 규범의 통제 정도		

* A, B지역을 비교하여 +는 높음, 많음, 강함을 -는 낮음, 적음, 약함을 의미한다.

- A 지역-----B 지역-----A 지역-----B 지역
- ①----0 개-----5 개-----②----1 개-----4 개
- ③----2 개-----3 개-----④----3 개-----2 개
- ⑤----4 개-----1 개

17. 다음 자료는 지방 자치 단체의 농촌 관광 관련 인터넷 사이트 운영 현황이다. 이에 대한 분석과 추론으로 옳은 내용을 <보기>에서 고른 것은? [3 점]

지방 자치단체	구분	데이터베이스	검색	예약 및 상거래	링크	커뮤니케이션
A		민박 개요, 부대시설, 객실 및 요금, 교통, 기타로 구분, 사진 제공	숙소 유형별, 지역별 검색	일부 민박에 대해서는 전화 및 온라인 예약 가능	개별 홈페이지 링크	자유 게시판, Q&A, 여행기
B		휴양림 연락처, 교통	없음	없음	없음	여행 소감, 이메일
C		숙박 시설 개요, 부대시설, 교통, 요금, 사진 제공	숙소 유형별, 지역별 검색	없음	개별 홈페이지 링크	여행 소감, 이메일

<보기>

ㄱ. 데이터베이스 내용이 숙소와 문화재 위주로 구성되어 있다.
 ㄴ. 도농간의 상호 교류를 강화하기 위해서 B 의 인터넷 사이트 내용을 확충하여야 한다.
 ㄷ. A 와 C 는 지역의 특색에 맞는 관광 산업을 육성하고 있다.
 ㄹ. A 는 C 에 비하여 수요자가 편리하게 활용할 수 있도록 인터넷 사이트가 구성되어 있다.

- ① ㄱ, ㄴ-----② ㄱ, ㄷ-----③ ㄴ, ㄷ-----④ ㄴ, ㄹ-----⑤ ㄷ, ㄹ

18. 사회 계층 현상을 바라보는 두 학생의 관점을 옳게 분석한 것은?

<수행 평가 과제>

사회에서 최소 가치를 배분하는 데 영향을 미치는 요인이 무엇인지 각자의 의견을 쓰고, 그것을 뒷받침할 수 있는 사례를 제시해 보자.

<p style="text-align: center; font-size: small;">갑이 작성한 답안</p> <p>1. 의견 : 사회에서 ...중략... 2. 사례 : 며칠 전 TV에서 성공한 20대 퓨전 음악가의 이야기를 보았다. 유복하게 태어나 부모님의 경제적인 뒷받침이 있었기 때문에 성공이 가능했다.</p>	<p style="text-align: center; font-size: small;">을이 작성한 답안</p> <p>1. 의견 : 사회에서 ...중략... 2. 사례 : 어제 인터넷에서 성공한 20대 퓨전 음악가의 이야기를 보았다. 끊임없는 노력으로 능력을 계발했기 때문에 성공한 것 같다.</p>
--	--

- ① 갑은 차등적인 분배 체계를 통한 경쟁 효과의 극대화를 중시한다.
 ② 을은 사회 계층 제도가 사회 통합을 저해한다고 간주한다.
 ③ 갑은 을에 비해 사회적 분업이 생산성을 향상시킨다고 본다.
 ④ 갑은 을에 비해 역할 행동에 대한 보상 체계가 불평등하다고 본다.
 ⑤ 을은 갑에 비해 최소가치의 배분 과정에서 특정 집단의 합의가 중요하게 작용한다고 본다.

19. 다음은 농민 자녀의 계층 분화를 연구한 자료이다. 이에 대한 분석으로 적절한 것은? [3 점]

〈자녀의 계층〉 (단위 : 명)

• 1962년 ○○군 농민 가운데 상층 10가구, 중층 40가구, 하층 50가구 선정

• 30년 후 전국 각 지역으로 이주한 자녀들의 거주 지역과 계층 조사

구분		상층의 자녀	중층의 자녀	하층의 자녀	전체
농촌 거주	상층	1	5	4	10
	중층	3	15	12	30
	하층	1	10	14	25
도시 거주	상층	10	35	20	65
	중층	6	70	74	150
	하층	4	35	51	90
계		25	170	175	370

- ① 계층 구성원의 구조를 보면 도시보다 농촌이 안정적인 모습이다.
- ② 부모와 계층 지위가 일치하는 비율은 중층의 자녀가 가장 높다.
- ③ 세대 내 이동으로 계층 지위가 상승한 농민은 중층이 하층보다 많다.
- ④ 세대 간 이동으로 계층 지위가 상승한 비율은 중층의 자녀가 하층의 자녀보다 높다.
- ⑤ 중층의 자녀인 경우 세대 간 이동으로 계층 지위가 하강한 수는 도시 거주자보다 농촌 거주자가 많다.

* 확인 사항

- 답안지의 해당란에 필요한 내용을 정확히 기입(표기)했는지 확인하십시오.