

2006 학년도 대학수학능력시험 9 월 모의평가 문제지





직업탐구 영역 (인간 발달)

- 자신이 선택한 과목의 문제지인지 확인하십시오 .
- 문제지에 성명과 수험번호를 정확히 써넣으십시오 .
- 답안지에 성명과 수험번호를 써넣고 , 또 수험번호와 답을 정확히 표시하십시오 .
- 과목을 선택한 순서대로 풀고 , 답은 답안지의 ' 제 1 선택 ' 란에서부터 차례대로 표시하십시오 .
- 문항에 따라 배점이 다르니 , 각 물음의 끝에 표시된 배점을 참고하십시오 . 3 점 문항에만 점수가 표시되어 있습니다 . 점수 표시가 없는 문항은 모두 2 점입니다 .

유전·성숙 환경·학습
유전·학습 성장·성숙
성장·학습 환경·성숙
환경·성숙 성장·학습
환경·학습 유전·성숙

위 내용에 나타난 민지의 심리 사회적 발달 특성으로 적절하지 않은 것은? [3 점]

직업탐구 영역



그림에 나타난 철수가 획득한 사고의 특성으로 가장 적절한 것은? [3 점]

직업탐구 영역

(가)~(다)에 알맞은 내용을 <보기>에서 골라 바르게 짝지은 것은? [3 점]



- | (가) | (나) | (다) |
|-----|-----|-----|
| ㄱ | ㄴ | ㄷ |
| ㄱ | ㄷ | ㄴ |
| ㄴ | ㄱ | ㄷ |
| ㄴ | ㄷ | ㄱ |
| ㄷ | ㄱ | ㄴ |

- | (가) | (나) | (다) |
|---------|---------|-----|
| 교우관계 | 뇌와 감각기관 | |
| 신장과 체중 | 대인관계 | |
| 성격 | 언어기능 | |
| 상상적 사고 | 사회적 변화 | |
| 뇌와 감각기관 | 신장과 체중 | |



의미를 의미한다.)

위 그래프를 통해 알 수 있는 것을 <보기>에서 모두 고른 것은?



직업탐구 영역

㉠

- 인공론적 사고
- 직관적 사고
- 직관적 사고
- 인공론적 사고
- 상징적 사고

㉡

(가)

(나)

- 무통 분만
- 라마즈 분만
- 라마즈 분만
- 겸자 분만
- 수중 분만

? [3 점]

홀로 남으실 아버지에게도 마음의 준비를 하도록 말씀드린다.

* 확인 사항

- 답안지의 해당란에 필요한 내용을 정확히 기입 (표기) 했는지 확인하십시오 .