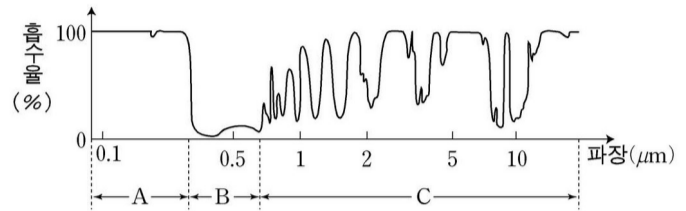


2006 학년도 대학수학능력시험 9 월 모의평가 문제지

# 과학탐구 영역 ( 지구 과학 I )

- 자신이 선택한 과목의 문제지인지 확인하십시오 .
- 문제지에 성명과 수험번호를 정확히 써넣으십시오 .
- 답안지에 성명과 수험번호를 써넣고 , 또 수험번호와 답을 정확히 표시하십시오 .
- 과목을 선택한 순서대로 풀고 , 답은 답안지의 ' 제 1 선택 ' 란에서부터 차례대로 표시하십시오 .
- 문항에 따라 배점이 다르니 , 각 물음의 끝에 표시된 배점을 참고하십시오 . 3 점 문항에만 점수가 표시되어 있습니다 . 점수 표시가 없는 문항은 모두 2 점입니다 .



천체에서 방출된 A, B, C 영역의 빛을 관측하는 방법에 대한 설명으로 옳은 것을 <보기>에서 모두 고른 것은? [3 점]

철수의 탐구 활동과 관련된 지구과학의 탐구 방법으로 가장 적절한 것은?

공간 규모가 매우 커서 원격 탐사를 위한 첨단 장비를 사용한다.

이에 대한 설명으로 옳지 않은 것은?

그림 (가)의 A, B, C 지역에서 나타나는 전형적인 구름을 그림 (나)에서 옳게 고른 것은? [3 점]

- | A   | B   | C   |
|-----|-----|-----|
| (ㄱ) | (ㄷ) | (ㄹ) |
| (ㄷ) | (ㄱ) | (ㄹ) |
| (ㄷ) | (ㄹ) | (ㄱ) |
| (ㄴ) | (ㄴ) | (ㄷ) |
| (ㄴ) | (ㄷ) | (ㄴ) |

이에 대한 해석으로 옳은 것을 <보기>에서 모두 고른 것은?

# 과학탐구 영역


이에 대한 설명으로 옳지 않은 것은? [3 점]

그림에서 추론한 내용으로 옳은 것을 <보기>에서 모두 고른 것은? [3 점]



두 산맥의 특징을 비교하여 나타낸 것으로 옳은 것을 표에서 모두 고른 것은?

	구분	히말라야 산맥	안데스 산맥
ㄱ	형성 과정	판의 충돌대에서 형성	판의 섭입대에서 형성
ㄴ	산맥 위치	대륙의 내부	대륙의 가장자리
ㄷ	맨틀 대류	상승부에 위치	하강부에 위치
ㄹ	지각 변동	화산 활동이 활발함	지진 활동이 활발함



이에 대한 설명으로 옳은 것을 <보기>에서 모두 고른 것은?

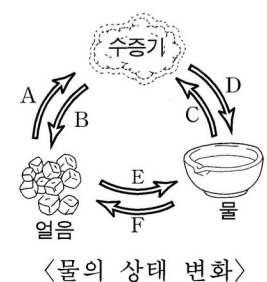
[3 점]



(가), (나), (다)와 물의 상태 변화 과정을 바르게 짝지은 것은?

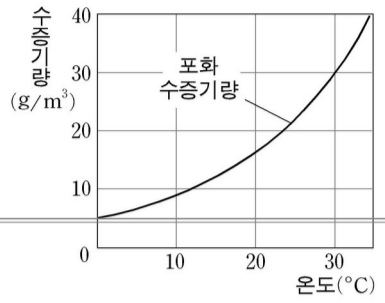
(가) (나) (다)

- A      C      F
- C      D      E
- C      F      B
- D      C      F
- D      F      E



# 과학탐구 영역

일정한 부피를 가진 공기의 변화에 대한 설명으로 옳은 것을 <보기>에서 모두 고른 것은? [3 점]



Blank area for answer to the first question.

Blank area for answer to the first question.

이에 대한 설명으로 옳은 것을 <보기>에서 모두 고른 것은? (단, A, B, C 지점은 지진 관측소라고 가정한다.) [3 점]

화석	특징	지리적 분포	화석의 수	생존 기간
A		넓은 지역	많다	짧다
B		넓은 지역	적다	길다
C		좁은 지역	많다	길다

이들 화석에 대한 추론으로 옳은 것을 <보기>에서 모두 고른 것은? [3 점]

Blank area for answer to the second question.

Blank area for answer to the second question.

이에 대한 설명으로 옳은 것을 <보기>에서 모두 고른 것은?

# 과학탐구 영역

- C 채층 코로나
- C 코로나 채층

[3 점]

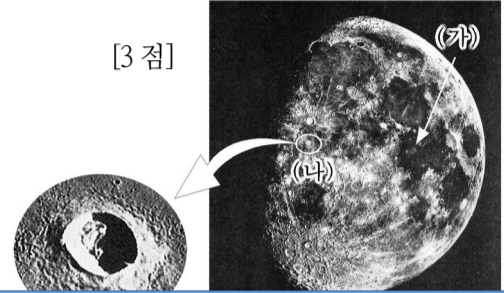
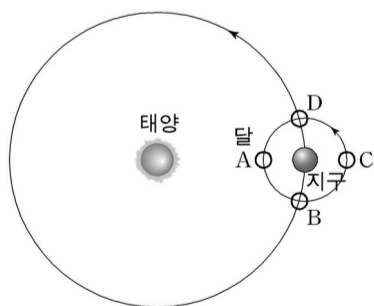


그림 (가)와 같은 진원 분포가 나타날 것으로 판단되는 지역을 그림 (나)에서 옳게 고른 것은?

이와 관련하여 나타날 수 있는 미래의 지구 환경 변화로 볼 수 없는 것은?

---

이 우주관에 대한 설명으로 옳은 것을 <보기>에서 모두 고른 것은?



- |       |     |     |
|-------|-----|-----|
| 달의 위치 | (가) | (나) |
| A     | 코로나 | 채층  |
| A     | 채층  | 코로나 |
| C     | 코로나 | 홍염  |

\* 확인 사항

- 답안지의 해당란에 필요한 내용을 정확히 기입 ( 표기 ) 했는지 확인하십시오 .

이에 대한 설명으로 옳은 것을 <보기>에서 모두 고른 것은? [3 점]

