


# 직업탐구영역

1

없는 문항은 모두 2 점씩입니다.



A 회사에서는 신상품을 개발하고, 상품 이름을 공모하기 위해 웹 문서를 작성하여 회사 홈페이지에 탑재하였다. 응모한 내용 중에서 상품 이름을 선정하고, 응모자들의 주소를 체계적으로 정리하여 감사의 편지를 발송하였다.



- 정적램 (SRAM) 을 주로 사용한다.
- 중앙 처리 장치와 주 기억 장치 사이에 위치하며, 두 장치간의 속도 차이를 보완하기 위해 사용한다.



# 직업탐구영역

2

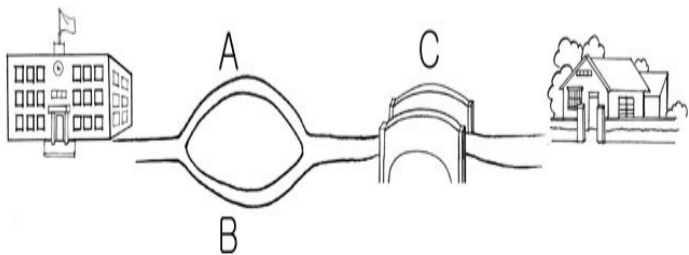
- (가) 단가와 수량을 입력하여 상품 가격을 구한다.
- (나) 1월부터 12월까지의 판매량의 합계를 구한다.
- (다) 전년도보다 판매량이 많은 사원에게 보너스를 지급한다.

사용된 워드프로세서의 기능을 <보기>에서 모두 고른 것은? [3 점]

[Blank area for answer]

- | (가) | (나) | (다) |
|-----|-----|-----|
| A   | B   | C   |
| A   | C   | B   |
| B   | A   | C   |
| B   | C   | A   |
| C   | B   | A   |

연극 동아리 홈페이지를 구축하고 있는 철수는 홈페이지에 텍스트로 된 정보의 업로드는 문제가 없었다. 그러나 그림이나 동영상 등 용량이 큰 파일의 업로드는 시간이 많이 걸리고 접속자가 많은 경우, 가끔 컴퓨터가 다운되는 현상이 발생하기도 하였다.



(B + C)

컴퓨터 구성의 필수적인 요소로, 하드웨어와 응용 소프트웨어를 연결시켜 이용할 수 있도록 도와주며 컴퓨터 시스템의 모든 자원을 관리하는 역할을 한다.

[Blank area for answer]

[Small blue box]

# 직업탐구영역

3

	A	B	C	
1				
2		월	1	
3		수	3	
4				
5		(가)	(나)	
6				

(가)      (나)

	A	B	C	D	E	F	G
2		사원별 컴퓨터 판매실적					
3			4월	5월	6월	합계	판매순위
4		최진영	50	40	45	(가)	(나)
5		고상봉	30	35	40	105	3
6		송수진	40	50	50	140	2
7		류나라	60	55	70	185	1
8		계	180	180	205	565	

(나)

C\$4 : E\$4

C\$4 : F\$7

F\$4 : F\$7

F\$4 : F\$7

C\$4 : E\$4


면? [3 점]



(가) 자연에서 존재하지 않는 환경을 컴퓨터에서 구현할 수 있는 기술로서 비행 시뮬레이션, 원격지 진료, 게임 등에 이용되고 있다.

(나) 사람이 갖는 우수한 정보 처리 기능과 지식의 축적·분석·판단 기능을 모방해 만든 것으로, 학습 기능을 가지며 병렬 연산 방식을 사용하며 인간의 두뇌를 모방하여 만든 컴퓨터이다.

(가), (나)에 관련된 사항을 바르게 짝지은 것은?



단계를

정보를

형태로

디렉터리 서버라고 불리기도 한다.

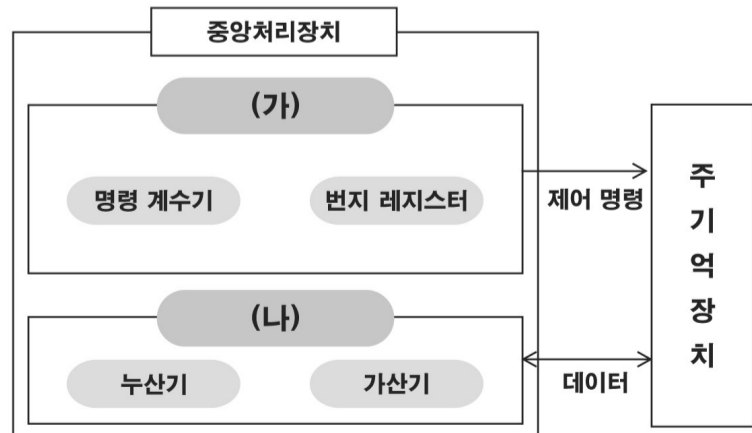


# 직업탐구영역

4



- |     |     |
|-----|-----|
| (가) | (나) |
|     | 1   |
| 3   | 3   |
| 1   | 2   |



# 직업탐구영역

5

