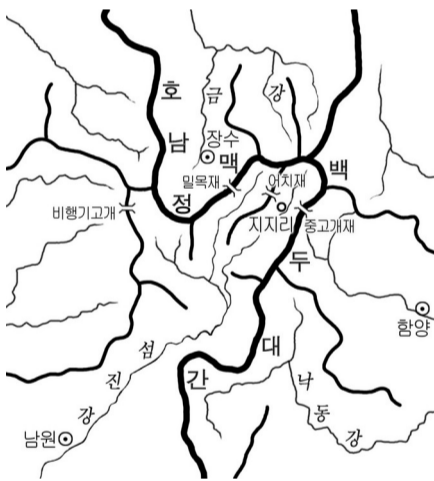



2004 하년도 사회탐구영역 (한국지리) 1  
제 4 교시

1

가 없는 문항은

모두 2 점씩입니다.



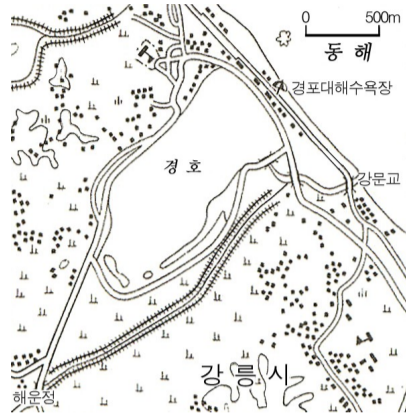
것으로 추정되는 요인으로 거리가 먼 것은? [3 점]



# 사회탐구영역

한국지리

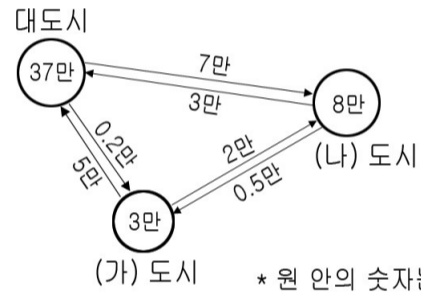

2



통적으로 영향을 준 지형 형성 작용은?

(가)

(나)


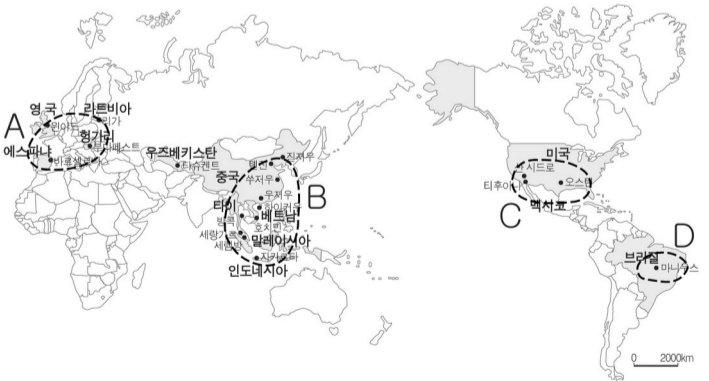



\* 원 안의 숫자는 도시 내 통근자 수  
→ 의 숫자는 도시 간 통근자 수



(가)

(나) 지도에 표시된 각 지역의 현지 공장 설립 배경을 바르게 연결한 것을 <보기>에서 모두 고른 것은?



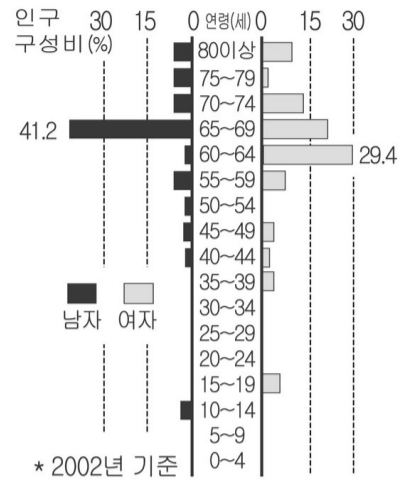
# 사회탐구영역

## 한국지리

3

가장 큰 근거로 보기 어려운 것은?

\*단위 : 석유 환산 톤 수(TOE)



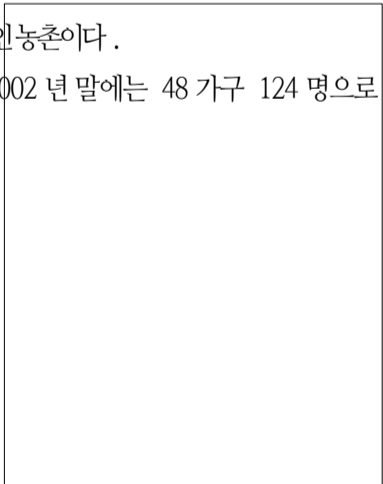
가 관계가 없는 사실은? [3 점]




른 것은?

천 사이에 위치한 전형적인 농촌이다.

의 주민이 있었으나, 2002년 말에는 48가구 124명으로 줄었다. 10년 동안 이 마을에서 태어난 아기는 단 한 명도 없다.



□ 알보 2002





# 사회탐구영역

## 한국지리

5

귀하의 직장은 어느 곳에  
위치하고 있습니까?



### 설문 결과

직장위치	비율
서울	77.8%
00시	11.1%
경기도 내 다른 도시	8.9%
기타	2.4%



되는 내용을 <보기>에서 모두 고른 것은? [3 점]

