

# 사회탐구영역


1

가 없는 문항은 모두 2 점씩입니다.


가르쳐 설명한 것은?

(가)

(나)



? [3 점]




이 지역은 하얀 색을 칠한 집이 많은데 그것은 햇빛을 반사시키기 위해서래. 시내 곳곳에는 아직도 올림픽의 열기가 남아있는 것 같아. 이 곳의 음식에는 신선한 야채와 과일, 생선, 올리브 기름이 빠지는 법이 거의 없어.

가르쳐 설명한 것은?



# 사회탐구영역

2



- 유럽 인의 이주로 원주민들은 토지를 빼앗기고 그 수도 줄어들어, 지금은 그 세력도 현저히 약화되었다.
- 최근 정부는 원주민의 고유한 전통 문화를 보호하고, 그들의 전통 문화를 관광 산업에 이용하고 있다.

점]

네모난 나무들 속에 진흙을 이겨 넣어 만든 흙벽돌을 햇볕에 건조하여 가옥의 건축 재료로 사용합니다. 이 지역의 가옥은 벽이 매우 두껍고, 창문이 거의 없습니다. 그 이유는 \_\_\_(가)\_\_\_ 때문입니다.

[10~11] 다음 지도를 보고 물음에 답하십시오.



# 사회탐구영역

3

선생님 : 지도는 중국의 지역 [?] 별 1인당 소득 분포를 나타낸 것입니다. 소득이 높은 곳은 어디입니까?

학생 : 남동부 해안 지역입니다.

선생님 : 네, 맞습니다. 그런데 이 지역은 최근에 소득 수준이 높아졌습니다. 그 이유는 뭘까요?  
를 보면서 생각해 봅시다.


(가) (나)




? [3 점]

A : 유목민의 후예인 우리의 대표 음식은 '케밥 (Kebab)' 이야. 얇게 저민 양고기를 쇠꼬챙이에 차곡차곡 쌓아 올려 구운 요리를 말하지. 네가 살고 있는 곳의 대표 음식은 뭐야?

B : 쌀국수야. 흔히들 '포 (Pho)' 라고 불러. 이곳은 기온이 높고 강수량이 많아 전통적으로 벼농사를 많이 하는 편이야.



기>에서 모두 고른 것은? [3 점]



# 사회탐구영역

4

- | <u>A</u> | <u>B</u> |
|----------|----------|
| (가)      | (나)      |
| (나)      | (다)      |
| (다)      | (라)      |
| (라)      | (마)      |
| (마)      | (가)      |

제는?



영국인이 19세기 초에 인도에서 발견한 이 작물은 아삼 지방과 실론에서 대량으로 재배되기 시작하였다. 이 작물의 어린 잎을 이용하여 만든 음료는 세계적인 기호 식품이 되었다.

이 곳 사람들은 하루 다섯 번씩 메카를 향해 기도를 드린다. 남자들은 발목까지 내려오는 흰색 천으로 만든 옷을 입고, ㉠여자들은 머리에서 발끝까지 완전히 가리는 옷을 입는다.

이 곳에는 전통적으로 유목을 해온 사람들이 있는데 이들은 계절에 따라 풀과 물을 찾아 이동해야 하기 때문에 이동이 간편한 ㉡천막에서 생활한다. 최근 이들은 ㉢정부의 유목민 정착 유도 정책에 힘입어 대규모로 소를 방목하여 여러 가지 육(?) 가공품을 생산·판매한다.

오아시스 주변의 주민들은 ㉣대추야자, 밀 등을 집약적으로 재배한다. 증발량이 많은 이 지역에서는 ㉤지하수를 통해 경지와 취락에 물을 공급하기도 한다.



# 사회탐구영역

5

거리가 먼 것은?

