

# 2004 한겨레 10월 고3 전국연합학력평가 문제지

## 사회탐구영역(사회·문화)

사회·문화  
제 4 교시

성명

수험번호

- 먼저 수험생이 선택한 과목의 문제지인지 확인하십시오.
- 문제지에 성명과 수험 번호를 정확히 기입하십시오.
- 답안지에 수험 번호, 선택 과목, 답을 표기할 때는 반드시 ‘수험생이 지켜야 할 일’에 따라 표기하십시오.
- 문항에 따라 배점이 다르니, 각 물음의 끝에 표시된 배점을 참고하십시오. 3 점 문항에만 점수가 표시되어 있습니다. 점수 표시가 없는 문항은 모두 2 점씩입니다.

0. 밑줄 친 부분의 생각을 가장 바르게 평가한 것은?

“오래 되고 뒤틀린 나무에 악령이 살고 있다.”고 하면서 접근을 금지하였던 부족과, “나무 속의 영혼은 거룩하고 은혜롭다.”는 생각을 가진 부족이 만나자 두 부족은 서로를 바보라고 생각하였다. 만약 문화 인류학자들이 이 상황을 본다면 “누구도 반드시 옳거나 그르지는 않다. 동일한 현상이라도 사람들에 따라 각기 서로 다른 생각을 가질 수 있다.” 라고 생각할 것이다.

- ① 사회 현상에 나타나는 보편성의 가치를 중요시하고 있다.
- ② 사회 현상에 나타나는 갈등 상황을 바람직한 것으로 보고 있다.
- ③ 개인의 이해 관계에 중점을 두어 사회 현상을 해석하고 있다.
- ④ 사회 현상을 상호 유기적 관련을 가지는 현상으로 파악하고 있다.
- ⑤ 사회 현상에는 여러 가능성이 공존할 수 있다는 개방적 사고를 하고 있다.

1. 다음 급훈에서 공통적으로 나타나는 개인과 사회의 관계를 보는 관점에 부합하는 주장을 <보기>에서 모두 고른 것은?



<보기>

- ㄱ. 개인은 사회 구조의 영향에서 자유로울 수 없다.
- ㄴ. 사회는 유기적 통일체로서 독자적인 특성을 가지고 있다.
- ㄷ. 국가는 시민이 스스로 동의한 계약에 의해 만들어진 것이다.
- ㄹ. 사회 현상은 구성원 개개인의 심리적 특성을 통해 이해할 수 있다.

- ① ㄱ, ㄴ-----② ㄱ, ㄹ-----③ ㄴ, ㄷ-----④ ㄴ, ㄹ-----⑤ ㄷ, ㄹ

2. 다음 연구에서 사용된 연구 방법에 대한 옳은 설명을 <보기>에서 모두 고른 것은? [3 점]

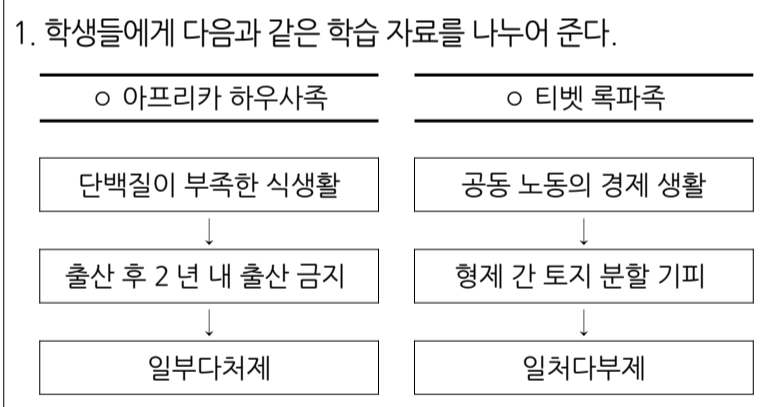
수업 중 교사의 판서가 가지는 의미를 연구하기 위해 고 3 사회·문화 교실을 참여 관찰해 보았다. 학생들은 교사가 말로 설명할 때보다는 판서할 때 더 열심히 수업에 임하는 모습을 보였다. 열심히 받아 적는 학생들에게 그 이유를 물었더니, 판서 내용은 시험에 출제될 가능성이 높기 때문이라고 대답하였다. 반면 교사는 판서할 때 학생들이 수업에 열중하는 경향이 있어 판서를 많이 한다고 대답하였다. 이를 토대로 ‘교사의 판서 행위’는 학생들에게는 ‘시험에 나올 중요한 내용’으로서의 의미를, 교사에게는 ‘학생들의 주의 집중을 위한 도구’로서의 의미를 가진다는 결론을 얻었다.

<보기>

- ㄱ. 연구 결과를 일반화하기 어렵다.
- ㄴ. 정확하고 정밀한 연구에 적합하다.
- ㄷ. 인간 행위의 사회적 맥락을 중시한다.
- ㄹ. 경험적 자료를 바탕으로 통계적 기법을 사용한다.

- ① ㄱ, ㄴ-----② ㄱ, ㄷ-----③ ㄴ, ㄷ-----④ ㄴ, ㄹ-----⑤ ㄷ, ㄹ

3. 다음은 한 교사의 사회·문화 수업 계획안이다. 교사가 가르치고자 하는 내용을 <보기>에서 모두 고른 것은? [3 점]



2. 모둠별로 자료의 내용에 대해 자유롭게 토의하게 한다.

<보기>

- ㄱ. 문화는 인간이 환경에 적응한 결과물이다.
- ㄴ. 극단적인 문화 상대주의적 태도는 바람직하지 않다.
- ㄷ. 한 문화 요소는 다른 문화 요소와 서로 연관되어 있다.

- ① ㄱ-----② ㄴ-----③ ㄷ-----④ ㄱ, ㄴ-----⑤ ㄱ, ㄷ

4. 다음은 한 여성의 신혼 일기의 일부이다. 밑줄 친 내용을 사회학적 개념으로 설명할 때 가장 적절한 것은?

나에게 있어 결혼은 집안 일을 함께 해 줄 사람, 속내를 털어놓을 말동무, 든든한 동반자를 얻었다는 것 외에 크게 달라진 것이 없다. 다만 신경이 쓰이는 부분은 양쪽 부모님들에게 ‘딸’과 ‘며느리’로서 도리를 다해야 한다는 점이다. 특히 친정 일과 시댁 일이 겹칠 때에는 상당히 고민하곤 한다.

# 사회탐구영역

## 사회.문화

2

- ① 역할 갈등-----② 목적 전치-----③ 준거 집단  
④ 지위 불일치-----⑤ 아노미 현상

5. 밑줄 친 ㉠~㉣에 대한 설명으로 옳지 않은 것은?

가정 주부인 이영희 씨는 다양한 모임에 참여하고 있다. 생일, 결혼, 환갑, 제사 등의 ㉠가족 모임이 한 달에 한 번 이상 있다. 그리고 영화를 좋아하는 고등학교 시절의 친구들과 모이는 ㉡친목회도 있다. 요즘은 환경과 건강을 위하여 농산물을 직거래하는 ㉢생활 협동 조합에서 활동하고 있다.

- ① ㉠은 구성원간의 의사 소통을 활성화한다.  
② ㉡은 1 차적 인간 관계가 강조된다.  
③ ㉢은 필요에 의해 의도적으로 형성된다.  
④ ㉠과 ㉡은 귀속 지위에 의해 소속이 결정된다.  
⑤ ㉡과 ㉢은 자발적 의사에 따라 가입이 이루어진다.

6. 그림에 대한 분석으로 옳은 것을 <보기>에서 모두 고른 것은? [3 점]



<보기>

- ㄱ. 우리 문화의 내세 지향적 측면을 알 수 있다.  
ㄴ. 문화가 내재적으로 변동하는 모습을 보여 준다.  
ㄷ. 문화는 학습을 통해 습득된다는 사실을 보여 준다.  
ㄹ. 문화는 사회 구성원이 공유하는 것임을 알 수 있다.

- ① ㄱ, ㄴ-----② ㄱ, ㄷ-----③ ㄴ, ㄷ  
④ ㄴ, ㄹ-----⑤ ㄷ, ㄹ

[8~9] 그림은 어느 신문에 실린 만평이다. 보고 물음에 답하십시오.



7. 위 그림의 학생과 같은 관점에서 사회 현상을 바라보고 있는 주장을 <보기>에서 모두 고른 것은? [3 점]

<보기>

- ㄱ. 학교 교육은 사회의 유지와 존속을 위해 필요하다.  
ㄴ. 희소 가치의 분배 기준은 사회적으로 합의된 것이다.  
ㄷ. 사회 계층화 현상은 사회가 최선의 기능을 하는 데 장애가 된다.  
ㄹ. 개인의 노력보다 사회 구조가 계층 형성에 더 큰 영향을 미친다.

- ① ㄱ, ㄴ-----② ㄱ, ㄹ-----③ ㄴ, ㄷ-----④ ㄴ, ㄹ-----⑤ ㄷ, ㄹ

8. 위 그림에 나타난 학력의 세습화 현상이 지속될 경우, 사회 계층 구조에 미칠 영향을 바르게 서술한 것은?

- ① 중산층의 비율이 확대될 것이다.  
② 세대 간 이동이 활발해질 것이다.  
③ 가정 배경의 영향력이 커질 것이다.  
④ 수평적 사회 이동이 제한될 것이다.  
⑤ 다이아몬드형 계층 구조가 실현될 것이다.

9. 그림이 대중 사회의 특징과 관련하여 시사하는 바로 가장 적절한 것은?



- ① 광고는 대중의 합리적 의사 결정을 유도한다.  
② 다품종 소량 생산은 소비자의 만족을 증진시킨다.  
③ 대중 사회의 소비자는 충동적인 소비 행태를 보인다.  
④ 현대 사회의 대중은 현실을 파악할 능력을 상실하였다.  
⑤ 근대화로 인해 사람들은 풍요로운 물질 문명을 누리게 되었다.

10. 자료에 나타난 현상에 대하여 잘못 이해한 사람은? [3 점]

**OO일보** 진정한 웰빙족의 선택 OO리조트

정치 경제 사회 국제 스포츠 문화/생활 IT/과학 오피니언

**웰빙(well-being)신드롬, 한국 강타**  
건강식과 운동 즐기는 웰빙족 늘어

선진국 중산층 생활 방식에서 유래 웰빙 상품 붐몰

유기농으로 웰빙하세요!  
(배달가능)

- ① 갑순 : 삶의 질에 대한 관심이 높아지고 있군.  
② 을식 : 웰빙을 상업적으로 이용하는 기업도 있군.  
③ 병국 : 웰빙 추구가 소비 지향적으로 흐를 가능성이 있어.  
④ 정아 : 계층 간 위화감을 해소시킬 수 있는 계기가 될 거야.

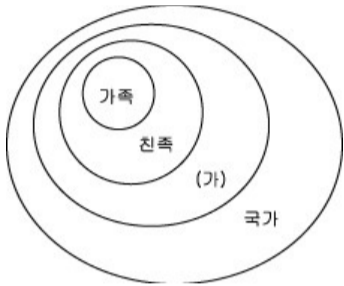
# 사회탐구영역

## 사회.문화

3

⑤ 무영 : 외국의 문화 요소가 우리나라에 전파된 결과라 볼 수 있어.

11. 그림은 영희가 자신이 속한 공동체를 그려본 것이다. (가)에 대한 설명으로 옳지 않은 것은?

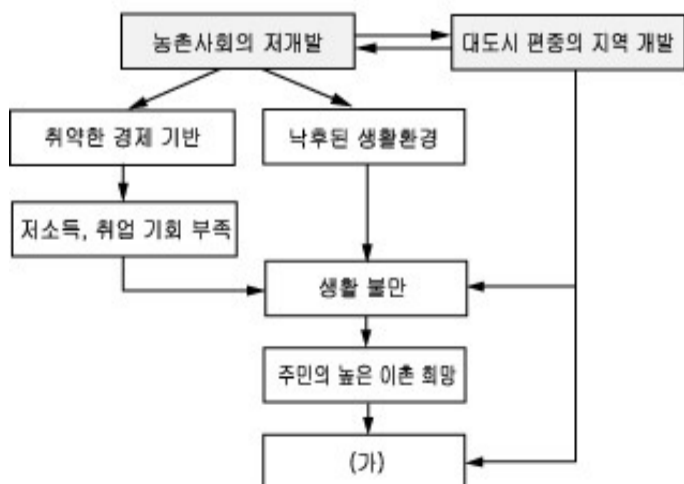


- ① 일반적으로 농촌과 도시로 분류된다.
- ② 지방 자치제의 실시로 하향식 개발이 확대되고 있다.
- ③ 경제적 이해 관계에 따라 집단 간의 갈등이 존재하기도 한다.
- ④ 일정한 지역에 살고 있는 사람들의 포괄적인 집단을 의미한다.
- ⑤ 교통 통신의 발달로 공동체 문화의 고유성이 약화되고 있다.

12. 밑줄 친 문제점을 해결하기 위한 방안으로 가장 적절한 것은? [3 점]

소득세 탈루를 감시하는 정부 기관 내에서 공무원들은 어떻게 처리해야 할지 모르는 문제에 부딪힐 때는 자기의 직속 상관과 의논하도록 되어 있었다. 그러나 대부분의 공무원들은 상사를 찾아가면 자신이 능력 없는 사람으로 비춰지거나 혹시라도 승진에 영향이 있을까봐 상사를 찾아가기 꺼려 했다. 이런 까닭으로 그들은 규칙을 어기고 동료들끼리 의논하곤 하였다.

- ① 공식적 관계를 중시한다.
  - ② 위계 서열을 명확히 한다.
  - ③ 업무 처리 절차를 간소화한다.
  - ④ 수평적 조직 문화를 도입한다.
  - ⑤ 중간 관리층의 권한을 강화한다.
13. 우리나라 농촌 사회에 대한 분석 자료이다. (가) 현상이 초래한 결과를 <보기>에서 모두 고른 것은? [3 점]

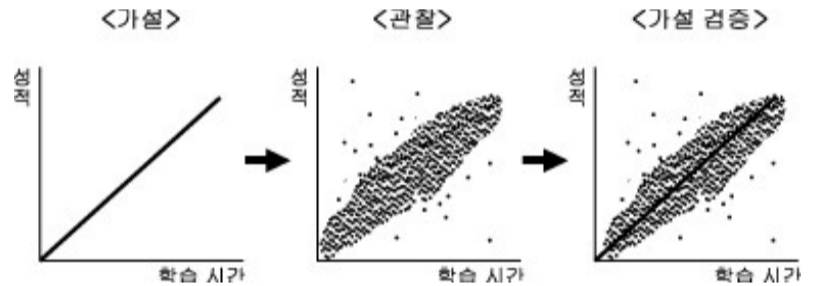


<보기>

- ㄱ. 농촌의 영농 기계화 촉진
- ㄴ. 도시 지역의 노동력 부족
- ㄷ. 도시 지역의 주택 부족 현상
- ㄹ. 농촌 지역의 가구당 경지 면적 감소

- ① ㄱ, ㄷ-----② ㄱ, ㄹ-----③ ㄴ, ㄷ-----④ ㄴ, ㄹ-----⑤ ㄷ, ㄹ

14. 다음은 과학적인 추론 과정을 나타낸 그림이다. 이에 대한 타당한 설명을 <보기>에서 모두 고른 것은? [3 점]




<보기>

- ㄱ. 실증적 연구에 주로 사용되는 연구 과정이다.
- ㄴ. 연구자는 연구 결과에 대한 예측을 하지 않고 연구를 시작한다.
- ㄷ. 사회적 행위의 의미나 동기를 파악하는 데 적합한 연구 과정이다.
- ㄹ. 변인 간의 관계에 관한 잠정적 결론을 경험적 자료를 통해 확인한다.

- ① ㄱ, ㄴ-----② ㄱ, ㄷ-----③ ㄱ, ㄹ-----④ ㄴ, ㄷ-----⑤ ㄷ, ㄹ

15. 다음 사례를 설명하는데 적합한 사회학적 개념은?



개죽이가 있는 땅은 한국땅입니다.

최근 일부 네티즌 사이에서는 합성 사진이 유행하고 있다. 실소를 자아내는 사진에서부터 정치 패러디에 이르기까지 합성 사진은 네티즌이 자신을 표현하는 중요한 수단으로 자리잡고 있다. 그러나 이러한 현상이 일상적인 의사 소통 방식으로 보편화된 것은 아니다.

▲ 대나무에 매달려 있는 개는 네티즌 사이에서 개죽이[개죽이]라 불리며 합성 사진에 자주 등장한다.

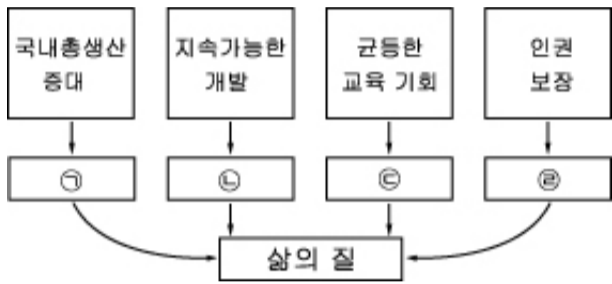
# 사회탐구영역

## 사회.문화

4

- ① 발견-----② 하위 문화-----③ 문화의 보편성  
 ④ 문화 사대주의-----⑤ 강제적 문화 접변

16. 그림은 삶의 질을 향상시키는 과정을 나타낸 것이다. ㉠~㉤에 해당되는 내용으로 적절하지 않은 것은? [3 점]



- ① ㉠ - 빈곤 탈피  
 ② ㉡ - 현(現) 세대의 만족 극대화  
 ③ ㉢ - 자아 실현  
 ④ ㉣ - 개인의 잠재적 역량 개발  
 ⑤ ㉤ - 인간의 존엄성 실현

17. 표는 네 사회에서 공통적으로 나타나는 현상에 대해 각 사회가 규정한 사회 문제의 범주이다. 이를 통해 추론한 사회 문제의 성격으로 가장 적절한 것은? [3 점]

사회 현상	사회	A 사회	B 사회	C 사회	D 사회
동성애			○		○
성차별			○	○	
환경 오염		○		○	
청소년 흡연		○			○

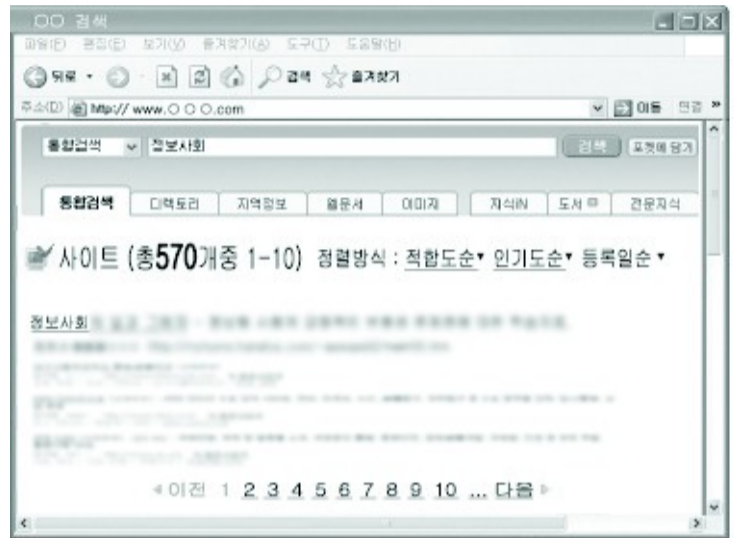
- ① 객관적이다.  
 ② 상대성을 지닌다.  
 ③ 가치 중립적이다.  
 ④ 상당 기간 지속된다.  
 ⑤ 인간의 노력으로 해결 가능하다.

18. 다음 글에 나타난 한국의 가족 문화에 대한 설명으로 타당하지 않은 것은?

우리 결혼 문화는 남녀에게 서로 다른 역할을 맡긴다. 집은 남자가 책임지고, 여자는 혼수를 맡는다. 여자는 남자 친족들에게 예단을 보내고 남자는 여자 집에 함을 보낸다. 따라서 누가 더 많이 했는지, 누가 손해를 봤는지 따지는 과정에서 집안 대 집안의 자존심 싸움으로 번지기 쉽다. 식장에서 신랑은 당당히 혼자 입장하지만, 신부는 친정 아버지의 도움으로 신랑에게 넘겨진다. 신랑 신부가 시가 쪽 어른에게만 인사를 드리는 폐백에서는 친정 부모가 소외된다.

- ① 가문의 위신을 중시한다.  
 ② 남녀 간에 차별이 존재한다.  
 ③ 가부장적 부계 혈통을 중시한다.  
 ④ 결혼을 개인 간의 결합으로 인식한다.  
 ⑤ 혼인 의식(儀式)은 가족 형성의 중요한 요소이다.

19. 다음은 '정보 사회'를 인터넷에서 검색한 결과이다. 이 결과로 볼 때, 검색자가 원하는 정보를 찾기 위해 가장 요구되는 것은?



- ① 컴퓨터를 작동시킬 수 있다.  
 ② 인간 중심의 가치관을 확립한다.  
 ③ 건전한 사이버 문화를 조성한다.  
 ④ 정보를 분석하고 선택할 수 있다.  
 ⑤ 정보 기술을 윤리적으로 이용한다.

**\* 확인 사항**

- 문제지와 답안지의 해당란을 정확히 기입(표기)했는지 확인하십시오.