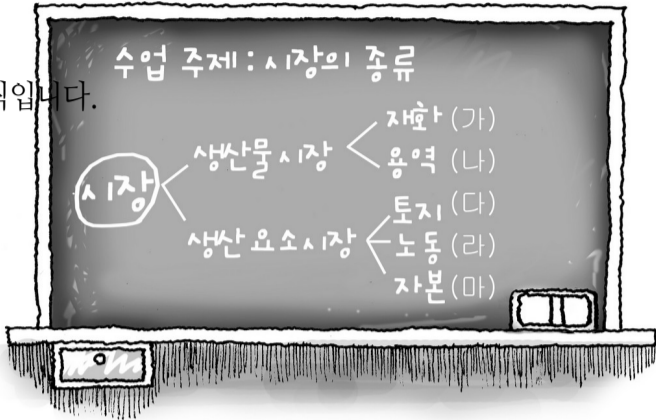


사회탐구영역

1



없는 문항은 모두 2 점씩입니다.

1 천만 원어치의 주식을 사놓은 길동은 어느 날부터 갑자기 주식 가격이 떨어지자 가슴을 졸이기 시작했다. 주식을 산 지 1 년이 되어서야 겨우 원래의 가격으로 돌아오자 길동은 재빨리 팔아치웠다. 그는 본전을 건졌다는 생각에 안도의 한숨을 내쉬며, 다시는 주식에 손을 대지 않기로 다짐했다.

그런데 그가 과연 본전을 찾은 것일까? 경제학적 측면에서 봤을 때 전혀 그렇지 않다.

(가) 디지털 카메라가 부착된 휴대 전화의 빠른 보급으로 인해 필름 카메라의 수요가 급격히 감소하였다. 이에 따라 카메라용 필름 제조업체들이 큰 타격을 입었다.

(나) 조류 독감의 확산으로 닭고기에 대한 소비가 크게 줄자, 폐업 위기에 처한 가게에서 닭고기 가격을 낮추었는데도 소비량은 늘지 않았다. 그런데 이 와중에 돼지고기에 대한 소비는 크게 늘어 가격이 올랐다.

[3~4] 다음 글을 읽고 물음에 답하시오.

전업 주부 성춘향 씨는 요즘 물가는 오르는데 남편의 수입이 줄어들자 좀 더 합리적인 소비를 하기로 결심하였다. 그녀는 이웃 주민과 광고지 등을 통해 주변에 있는 H, I, J, K 상가의 가격, 품질, 시간, 거리, 편의 시설 등을 종합적으로 고려한 다음 K 상가에서 구매하기로 결정하였다. 그녀는 그곳에서 필요한 상품을 신용 카드로 구매하였다.

사회탐구영역

2

2004년 7월 1일부터 1,000명 이상 사업장에서 주 5일 근무제가 시행되었다. 이로써 해당 근로자의 주당 근로 시간이 44시간에서 40시간으로 줄어들게 되었다. 이 제도는 2011년까지 사업장 규모에 따라 순차적으로 적용된다.

최근 사채(??) 시장에서 높은 이자율로 인한 피해 사례가 급증함에 따라 정부는 대출 이자율의 상한선을 연 66%로 정하고 이를 초과해서 받을 수 없도록 규제하였다.

* 사채 시장 : 금융 기관을 통하지 않고 사적으로 자금을 조달하는 시장

(가) 임업에 종사하는 사람들은 나무를 팔아서 얻을 수 있는 이익만을 생각하면서 나무를 심고 가꾸는 활동을 한다. 이들이 심고 가꾼 나무는 사회 구성원들에게 홍수 방지, 공기 정화 등 수많은 이익을 가져다 줘도 불구하고 충분히 공급되지 못한다.

(나) 염색 공장에서는 옷감을 염색하는 과정에서 많은 폐수가 발생한다. 공장에서는 폐수 정화 비용을 부담하지 않기 위해 폐수를 하천에 그냥 흘려보내곤 한다.

사회탐구영역

3

누구든지 마음대로 물고기를 잡을 수 있는 저수지를 생각해 보자. 낚시꾼은 어떻게 행동하겠는가? 공동으로 사용할 수 있는 목초지가 있다면, 가축을 기르는 사람들은 어떤 행동을 하게 될까? 공원의 화장실은 왜 항상 지저분한가? 공유 재산이나 공공 자원은 함부로 사용하게 되어 쉽게 더러워지고 고갈될 수밖에 없다. 개인의 사적 재산과 달리 소유 관계가 명확히 설정되지 않은 공유 재산은 불행히도 효율적으로 관리되지 못하는 속성을 지니고 있다.



사회탐구영역

주어진 조건 이외의 상황은 일정하다.)

기업은 직원의 생계와 투자자를 보호하기 위해 이익을 내야합니다. 많은 일자리를 만들기 위해서도 기업은 이익을 내야합니다. 그리고 그 이익으로 극빈자를 위한 무료 병원, 탁아소, 양로원, 고아원 건립에 지원할 수도 있습니다. 또한, 기업은 이익을 내는 과정에서 정직해야 합니다. 과정의 정직이란 노력한 대가만을 이익으로 거두며, 떳떳하게 세금을 내는 것을 말합니다.


- "가계 소비 지출 위축 심상치 않다"
- "주요 제조업 수출에 적신호 켜졌다"
- "대기업 신규 설비 투자 줄이기로 …… 취업난 가중"

일부 제조업 분야에서 구인난이 심화되는 가운데, 청년 실업 문제가 더욱 심각해지고 있는 것으로 나타났다. 2002년에 청년 실업률이 6.5% 였던 것이 지난 해에는 8.0%로 급증하여 같은 기간에 전체 실업률이 3.1%에서 3.4%로 소폭 상승한 것과는 큰 차이를 보였다.

* 청년 실업률 : 15~29세 인구의 실업률

에서 모두 고른 것은? [3점]

(단위 : 기업 수)



사회탐구영역

5



사회탐구영역

6

교사 : 일반적으로 예상된 인플레이션의 경우에는 이에 따른 사회적 비용이 비교적 작다고 알려져 있어요. 경제 주체들이 앞으로 일어날 인플레이션에 대해 나름대로 대비를 할 수 있기 때문이죠. 그러나 인플레이션의 강도가 워낙 심할 경우에는 엄청난 사회적 비용이 발생하게 됩니다. 예를 들어 한 해 동안 물가가 1천 % 나 오를 것이라고 확실하게 예상된다고 합시다. 어떤 현상이 일어날까요?


학생 : _____



* 가로축은 소득이 낮은 가구로부터의 인구 비율을 누적한 것이고, 세로축은 총소득에 대한 가구별 소득의

비율을 누적한 것임.

?(단, 두 나라가 투입한 생산 요소의 가격은 동일하다.) [3 점]



기)에서 모두 고른 것은?

