


직업탐구 영역 (인간 발달)

- 먼저 수험생이 선택한 과목의 문제지인지 확인하십시오 .
- 반드시 자신이 선택한 과목의 문제지를 풀어야 합니다 .
- 문제지에 성명과 수험 번호를 정확히 기입하십시오 .
- 답안지에 수험 번호 , 선택 과목 , 답을 표기할 때에는 반드시 ' 수험생이 지켜야 할 일 ' 에 따라 표기하십시오 .
- 문항에 따라 배점이 다르니 , 각 물음의 끝에 표시된 배점을 참고하십시오 . 3 점 문항에만 점수가 표시되어 있습니다 . 점수 표시가 없는 문항은 모두 2 점씩입니다 .



한 것은?

직업탐구 영역 (인간 발달)

[Redacted]

것은?

[Redacted]

w

[Redacted]

[Redacted]

직업탐구 영역 (인간 발달)

3



[3 점]

와 같은 경향을 나타내는 지능의 구성 요소는? [3 점]



(가)



직업탐구 영역 (인간 발달)



이 시기에 나타나는 사고의 특징을 <보기>에서 모두 고른 것은? [3 점]



직업탐구 영역 (인간 발달)

5

