

직업탐구 영역 (농업이해)

- 먼저 수험생이 선택한 과목의 문제지인지 확인하십시오.
- 반드시 자신이 선택한 과목의 문제지를 풀어야 합니다.
- 문제지에 성명과 수험 번호를 정확히 기입하십시오.
- 답안지에 수험 번호, 선택 과목, 답을 표기할 때에는 반드시 '수험생이 지켜야 할 일'에 따라 표기하십시오.
- 문항에 따라 배점이 다르니, 각 물음의 끝에 표시된 배점을 참고하십시오. 3 점 문항에만 점수가 표시되어 있습니다. 점수 표시가 없는 문항은 모두 2 점씩입니다.

[Blank blue box for answer]

[Blank blue box for answer]

[Blank blue box for answer]

[Blank blue box for answer]

5. 다음은 우리나라 농업 구조의 변화를 나타낸 표이다.

[Blank blue box for answer]

[Blank blue box for answer]

이 표에 나타난 경치 이용면적 감소의 원인을 <보기>에서 고르면?
[3 점]

[Blank blue box for answer]

직업탐구 영역 (농업이해)

이 그래프에 근거하여 우리나라 농업 현황과 전망을 설명한 것으로 적절한 것을 <보기>에서 모두 고르면? [3 점]


이 내용에 따라 우리나라 농업이 나아갈 방향을 설명한 것으로 적절한 것을 <보기>에서 고르면?

직업탐구 영역 (농업이해)

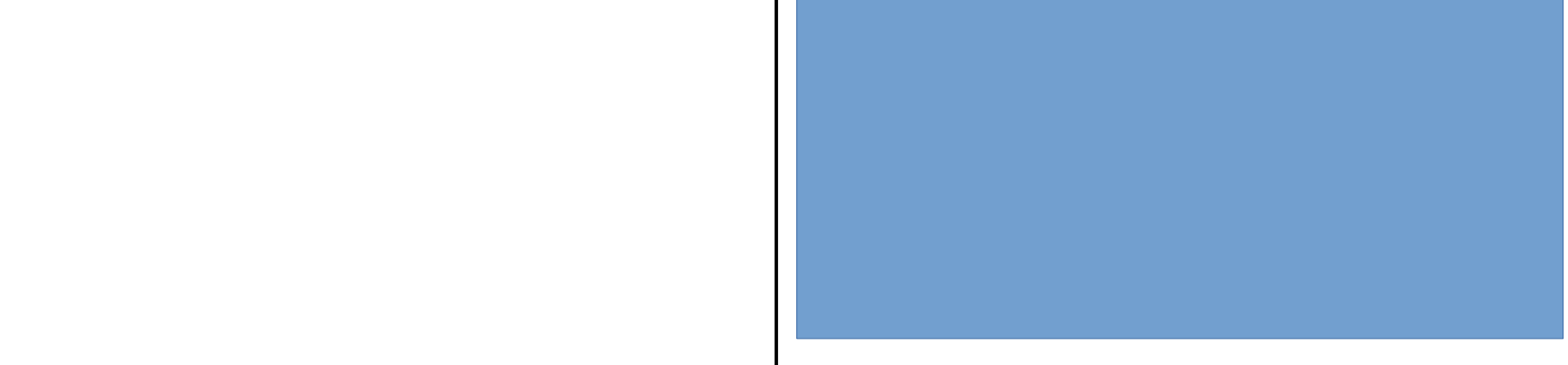
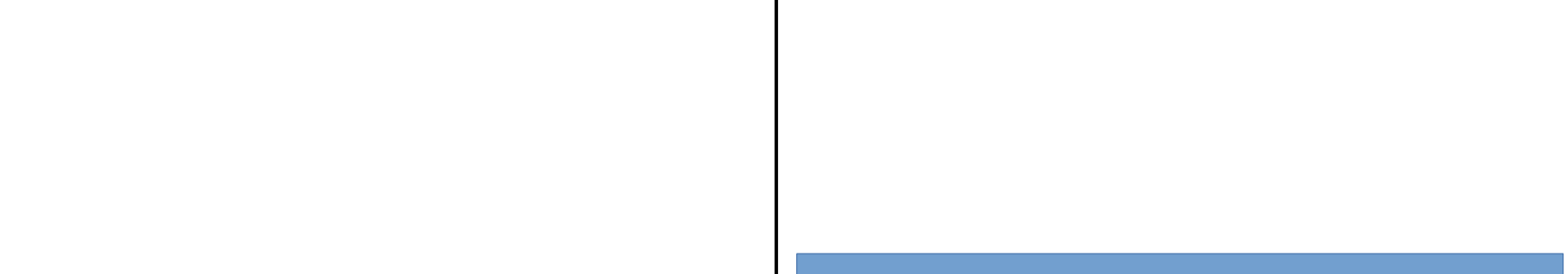




3



ㄴ
ㄹ



직업탐구 영역 (농업이해)



부모님 방식의 사양관리 문제점 분석

사양관리 개선

육질 검사
기존방식과 비교

관 리 사양관리 문제점 분석 및 사양개선

직업탐구 영역 (농업이해)

5

이 글에서 말하고 있는 내용에 부합되는 직업 태도를 가지고 있는 사람을 <보기>에서 모두 고르면? [3 점]

