

# 사회탐구영역 (경제지리)

성명  수험번호     3

- 먼저 수험생이 선택한 과목의 문제인지 확인하십시오.
- 문제지에 성명과 수험 번호를 정확히 기입하십시오.
- 답안지에 수험 번호, 선택과목, 답을 표기할 때에는 반드시 ‘수험생이 지켜야 할 일’에 따라 표기하십시오.
- 문항에 따라 배점이 다르니, 각 물음의 끝에 표시된 배점을 참고하십시오. 3 점 문항에만 점수가 표시되어 있습니다. 점수표시가 없는 문항은 모두 2 점입니다.

^N 다음 글을 통해 지역 주민들의 자원 이용 방식에 영향을 미친 공통적인 요인으로 가장 적절한 것을 고르면?

- 북아메리카의 중앙에는 대규모의 초원이 있다. 아메리카 원주민들은 이곳에서 오랫동안 사냥을 하면서 살아왔다. 그러나 유럽에서 건너온 백인 이주민들은 이곳에서 밀농사를 지었다.
- 열대 기후 지역인 말레이시아에는 말레이계, 중국계, 인도계 사람들이 함께 살고 있다. 말레이계 사람들은 돼지고기를 먹지 않으나, 중국계와 인도계 사람들은 돼지고기를 먹는다.

- ① 지형 특색-----② 기후 조건-----③ 경제 수준  
④ 인종의 차이-----⑤ 문화적 배경

^N 다음 태백산 지역의 두 사진을 통해 이 지역이 변화하게 된 이유로 옳은 것을 <보기>에서 모두 고른 것은? [3 점]



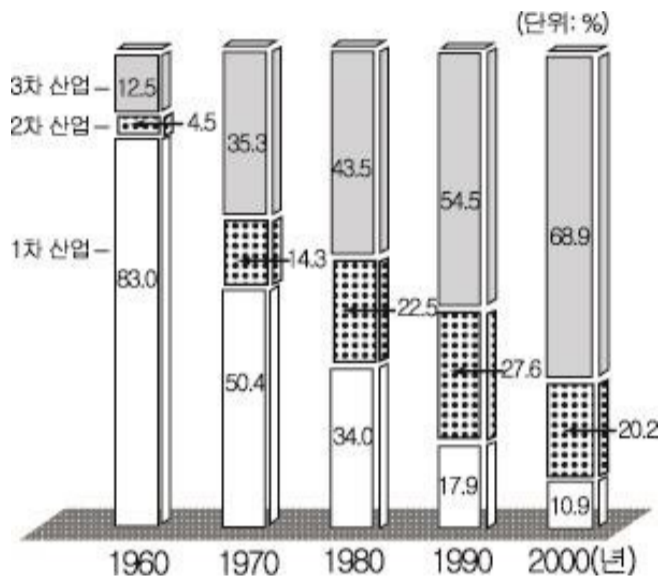
<사라져 버린 과거의 광산촌(1960년)> <석탄 박물관 옆 눈꽃 축제(2003년)>

<보기>

- ㄱ. 인구 증가                      ㄴ. 관광 산업의 육성  
ㄷ. 적설량의 변화              ㄹ. 에너지 소비 구조의 변화

- ① ㄱ, ㄴ-----② ㄱ, ㄷ-----③ ㄴ, ㄷ  
④ ㄴ, ㄹ-----⑤ ㄷ, ㄹ

^N 그림은 우리나라 산업별 종사자 비율의 변화를 나타낸 것이다. 이와 같은 변화와 관련되어 나타난 현상으로 옳지 않은 것은?



- ① 농경지와 자연 녹지가 감소하였다.  
② 지식 정보 산업의 비중이 증가하였다.  
③ 산업 구조가 선진국형으로 변화하였다.  
④ 교통이 발달하고 대도시권이 확대되었다.  
⑤ 서비스업보다 제조업의 비중이 높아졌다.

^N 다음 글을 통해 구로 산업 단지의 변화에 대해 바르게 추론한 것을 <보기>에서 모두 고른 것은? [3 점]

굴뚝 산업의 대명사였던 구로 산업 단지가 첨단 벤처 산업 기지로 변모하고 있다. 1970~1980년대 수출 산업 기지 역할을 하며 섬유, 봉제 업종 중심이었던 구로 산업 단지가 지금은 부가가치가 높은 전자, 컴퓨터 등 첨단 업종의 새로운 중심으로 자리 잡았다. 구로 산업 단지가 ‘서울 디지털 산업 단지’라는 이름으로 새롭게 태어난 것이다.

<보기>

ㄱ. 인구 증가                      ㄴ. 관광 산업의 육성  
ㄷ. 적설량의 변화              ㄹ. 에너지 소비 구조의 변화

# 사회탐구영역

## 경제지리

2

〈보기〉

- ㄱ. 공장의 규모가 대형화되고 있다.
- ㄴ. 아파트형 공장과 업무용 빌딩 등이 들어서고 있다.
- ㄷ. 첨단 업종에서는 주로 외국인 근로자를 고용하고 있다.
- ㄹ. 노동 집약적 산업에서 기술 집약적 산업으로 바뀌고 있다.

① ㄱ, ㄴ-----② ㄱ, ㄹ-----③ ㄴ, ㄷ-----④ ㄴ, ㄹ-----⑤ ㄷ, ㄹ

^N 다음 글은 CO2(이산화탄소) 배출량 규제에 대한 국제적인 논쟁을 정리한 것이다. 이에 대한 설명으로 옳지 않은 것은?

- 선진국 : 2010년까지 CO2 배출량을 2000년 수준으로 줄이자. 그러나 빠른 성장으로 에너지 소비가 급증하는 개발도상국도 감축 의무를 져야 한다.
- 개발도상국 : 지속적인 공업화로 예전부터 많은 양의 CO2를 배출해온 선진국들이 전적으로 책임을 져야 한다.
- 다국적 기업 : 산업 발달을 위해 화석 연료의 사용은 필수적이다. 따라서 CO2 배출량 규제를 반대한다.
- 남태평양의 섬나라들 : 2005년까지 CO2 배출량을 1990년 기준으로 20% 감축해야 한다.

- ① CO2 배출량 규제가 국가 경제에 미치는 영향이 크다.
- ② 지구 온난화에 대한 책임은 개발도상국이 선진국보다 더 크다.
- ③ 다국적 기업은 환경 보전보다 기업의 이윤을 더 중요하게 여긴다.
- ④ CO2 배출량 규제 방안을 놓고 선진국과 개발도상국의 관점 차이가 크다.
- ⑤ 섬나라들은 해수면 상승에 따른 피해 때문에 CO2 배출량 규제를 강력하게 주장하고 있다.

^N 다음 두 지도를 보고 경기도 안산시의 변화에 대해 바르게 추론한 것을 <보기>에서 모두 고른 것은?



〈보기〉

- ㄱ. 제조업 분야의 취업 인구 수가 증가하였다.
- ㄴ. 대기 오염과 소음 문제로 인해 땅값이 떨어졌다.
- ㄷ. 해안 지역의 오염으로 생물종 다양성이 감소했다.
- ㄹ. 인근 대도시와의 공간적 상호 작용이 약화되었다.

① ㄱ, ㄷ-----② ㄱ, ㄹ-----③ ㄴ, ㄷ-----④ ㄴ, ㄹ-----⑤ ㄷ, ㄹ  
[7~8] 지도를 보고 물음에 답하시오.



^N (가), (나) 지역에 대한 설명으로 바른 것을 <보기>에서 모두 고른 것은? [3 점]

〈보기〉

- ㄱ. (가) 지역의 자본과 문화가 (나) 지역으로 유입되고 있다.
- ㄴ. (가) 지역의 많은 국가들은 (나) 지역 국가들의 식민 지배를 받았다.
- ㄷ. (가) 지역과 (나) 지역 사이에는 경제적 격차로 인해 남북 문제가 발생한다.
- ㄹ. (가) 지역 내부에서 이루어지는 무역 규모는 (가)와 (나) 지역 사이의 무역 규모보다 작다.

① ㄱ, ㄴ-----② ㄱ, ㄷ-----③ ㄴ, ㄷ-----④ ㄴ, ㄹ-----⑤ ㄷ, ㄹ

# 사회탐구영역

## 경제지리

3

ㄴ (가) 지역이 (나) 지역에 비해 수치가 높을 것으로 추정되는 것을 <보기>에서 모두 고른 것은? [3 점]

<보기>

- ㄱ. 노동 생산성
- ㄴ. 1인당 에너지 소비량
- ㄷ. 유소년층 인구 비율
- ㄹ. 가계 지출 중 식료품비의 비율

① ㄱ, ㄴ-----② ㄱ, ㄹ-----③ ㄴ, ㄷ-----④ ㄴ, ㄹ-----⑤ ㄷ, ㄹ

ㄴ 다음 글에 제시된 녹색 GDP에 대한 설명으로 옳은 것을 <보기>에서 모두 고른 것은? [3 점]

GDP(국내 총생산)가 한 나라의 경제 수준을 완벽하게 반영하는 것은 아니다. GDP가 외형적 경제 규모만을 보여 주는 것이라면 녹색 GDP는 환경 보호에 들어간 환경 비용을 고려한 실제 경제 수준을 보여 주는 지표이다. 우리나라에서도 환경 요인을 반영해 국내 총생산을 산출하는 녹색 GDP가 단계적으로 도입되고 있다.

<보기>

- ㄱ. 녹색 GDP는 GDP보다 크다.
- ㄴ. 삼림이 훼손되면 녹색 GDP가 증가한다.
- ㄷ. 공기와 물이 오염되면 녹색 GDP가 낮아진다.
- ㄹ. 녹색 GDP의 도입은 국민의 복지나 삶의 질 향상에 도움이 된다.

① ㄱ, ㄴ-----② ㄱ, ㄷ-----③ ㄴ, ㄷ-----④ ㄴ, ㄹ-----⑤ ㄷ, ㄹ

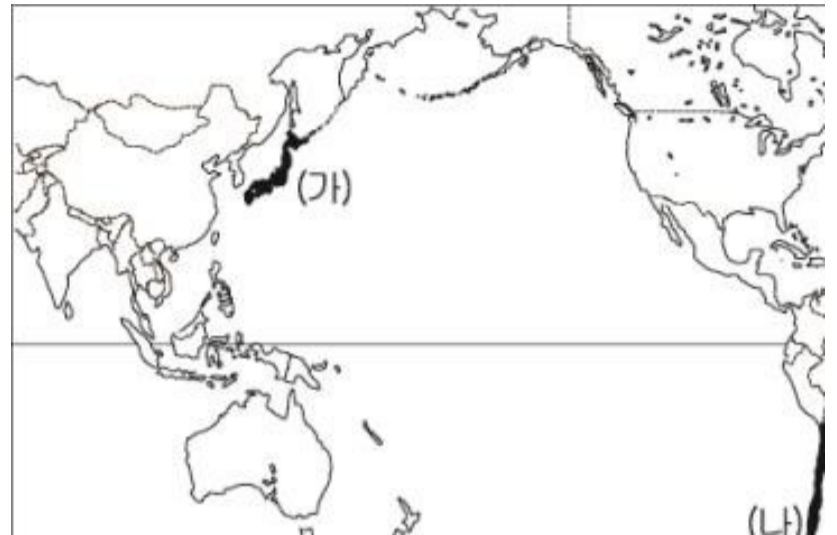
ㄴ 우리나라가 (가), (나) 국가와 자유 무역 협정(FTA)을 체결했을 때, 우리나라에서 나타날 수 있는 현상을 추론한 것으로 옳지 않은 것은? [3 점]

<보기>

- ㄱ. 지식, 정보의 생산과 통제 기능을 갖추고 있다.
- ㄴ. 서비스업보다 제조업이 큰 비중을 차지하고 있다.
- ㄷ. 런던은 상파울루보다 중심 기능의 종류가 다양하다.
- ㄹ. 서울은 도쿄보다 시드니와의 경제적 교류가 활발하다.

① ㄱ, ㄷ-----② ㄱ, ㄹ-----③ ㄴ, ㄷ

④ ㄴ, ㄹ-----⑤ ㄷ, ㄹ



- ① (가), (나) 국가와의 무역 규모가 확대될 것이다.
- ② (가) 국가로부터의 공산품 수입이 증가할 것이다.
- ③ (가) 국가로 상품을 수출하는 기업의 경쟁력이 약화될 것이다.
- ④ (나) 국가로부터 수입되는 농산물을 재배하는 농가는 경제적인 어려움을 겪을 것이다.
- ⑤ (가), (나) 국가와의 무역에서 타격을 입는 국내 산업에 대한 적극적인 대책이 요구된다.

ㄴ 지도는 세계 도시의 계층 구조와 경제적 의존 관계를 나타낸 것이다. 세계 도시와 관련된 설명으로 옳은 것을 <보기>에서 모두 고른 것은? [3 점]



<보기>

- ㄱ. 지식, 정보의 생산과 통제 기능을 갖추고 있다.
- ㄴ. 서비스업보다 제조업이 큰 비중을 차지하고 있다.
- ㄷ. 런던은 상파울루보다 중심 기능의 종류가 다양하다.
- ㄹ. 서울은 도쿄보다 시드니와의 경제적 교류가 활발하다.

① ㄱ, ㄷ-----② ㄱ, ㄹ-----③ ㄴ, ㄷ

④ ㄴ, ㄹ-----⑤ ㄷ, ㄹ

# 사회탐구영역

## 경제지리

ㄱN 다음 글을 통해 대구시의 섬유 산업 활성화 방안으로 적절한 것을 <보기>에서 모두 고른 것은?

6,000여 개의 섬유 관련 업체들이 밀집해 있는 대구 섬유 단지는 1990년대에 들어서면서 선진국의 수입 규제와 국내 임금 상승으로 인해 국제 경쟁력이 약화되어 수출 산업에서 차지하는 비중이 점차 낮아졌다. 이러한 문제를 해결하기 위해 최근 대구시는 다품종 소량 생산 체제로의 변화 노력과 함께, 패션 산업이 발달한 이탈리아의 밀라노를 발전 모델로 선택하였다.

<보기>

- ㄱ. 패션 산업을 적극 육성하여 경쟁력을 높인다.
- ㄴ. 중저가 상품 중심의 대량 생산 체제를 강화한다.
- ㄷ. 면화와 양모 등 원료의 자급화 방안을 적극 마련한다.
- ㄹ. 독창적 디자인과 소재 개발을 통한 고급화 전략을 추진한다.

- ① ㄱ, ㄴ-----② ㄱ, ㄷ-----③ ㄱ, ㄹ-----④ ㄴ, ㄹ-----⑤ ㄷ, ㄹ

ㄱN 그림은 자원 소비와 환경 문제의 관계를 나타낸 것이다. 이에 대한 설명으로 옳은 것을 <보기>에서 모두 고른 것은?

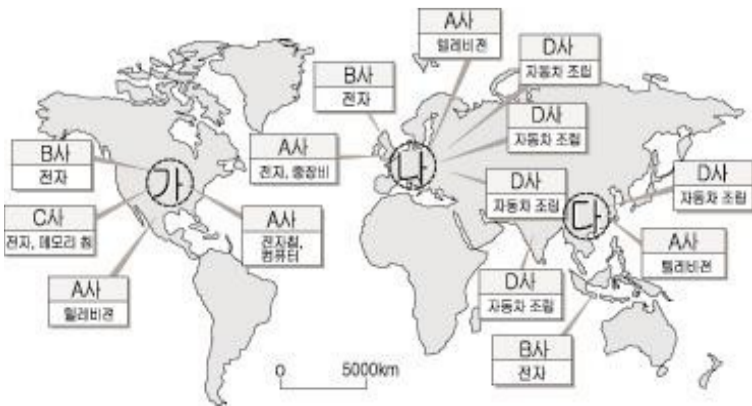


<보기>

- ㄱ. 인구 증가율이 높아질수록 환경 오염 문제는 커진다.
- ㄴ. 개발도상국은 선진국에 비해 1인당 자원 소비량이 많다.
- ㄷ. 주민의 소비 수준이 높아질수록 환경 오염 문제가 줄어든다.
- ㄹ. 친환경 산업을 육성하고 자원의 재활용도를 높이면 환경 오염 문제는 완화된다.

- ① ㄱ, ㄴ-----② ㄱ, ㄹ-----③ ㄴ, ㄷ  
④ ㄴ, ㄹ-----⑤ ㄷ, ㄹ

ㄱN 지도는 외국에 진출한 우리나라 다국적 기업의 현지 생산 공장을 표시한 것이다. 지도를 보고 설명한 내용으로 옳은 것을



<보기>에서 모두 고른 것은?

<보기>

- ㄱ. 현지 공장에서 주로 생산하는 품목은 전자 제품과 자동차이다.
- ㄴ. (가) 지역에 진출하는 주된 이유는 값싼 노동력 때문이다.
- ㄷ. (나) 지역에 공장을 건설하는 주된 이유는 관세 장벽을 극복하기 위해서이다.
- ㄹ. (다) 지역에 진출한 공장은 첨단 기술을 확보하기가 쉽다.

- ① ㄱ, ㄴ-----② ㄱ, ㄷ-----③ ㄴ, ㄷ  
④ ㄴ, ㄹ-----⑤ ㄷ, ㄹ

[15~16] 자원의 재생 가능성 정도에 따라 분류한 그림을 보고 물음에 답하십시오.



ㄱN 그림과 관련된 설명으로 옳은 것을 <보기>에서 모두 고른 것은? [3 점]

<보기>

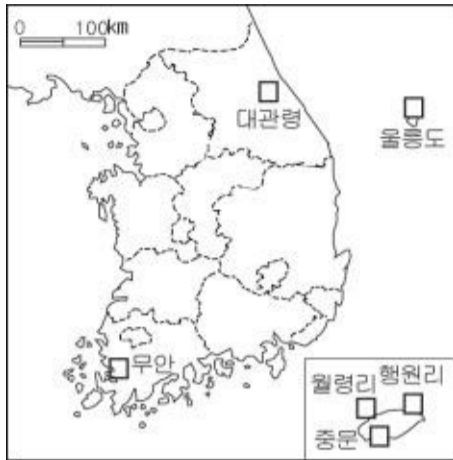
- ㄱ. 석탄, 석유는 재생 자원이므로 지속적인 공급이 가능하다.
- ㄴ. 식물과 토양은 공업화가 진행될수록 고갈 가능성이 작아진다.
- ㄷ. 철, 알루미늄은 사용량과 투자 정도에 따라 재생 수준이 달라진다.
- ㄹ. 환경 문제를 줄이기 위해 재생 가능성이 큰 순환 자원의 개발에 힘써야 한다.

- ① ㄱ, ㄴ-----② ㄱ, ㄷ-----③ ㄴ, ㄷ  
④ ㄴ, ㄹ-----⑤ ㄷ, ㄹ

ㄱN 지도에 표시된 지역은 위 그림의 A에 속하는 어느 자원의 개발지이다. 이 지역의 자원 개발 조건으로 적절한 것은?

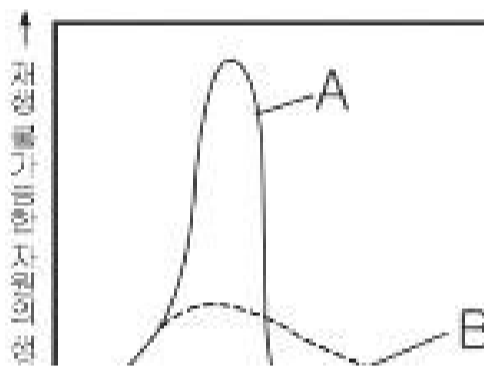
[3 점]

# 사회탐구영역



- ① 바람이 많이 분다.
- ② 일조 시간이 길다.
- ③ 유량이 많고 낙차가 크다.
- ④ 석탄이 많이 매장되어 있다.
- ⑤ 원료인 우라늄 수입에 유리하다.

^N 그래프는 자원의 생산량과 고갈 시기와의 관계를 나타낸 것이다. A에서 B로 변화시키기 위한 정책 중 적절한 것을 <보기>에서 모두 고른 것은?



<보기>

- ㄱ. 복지보다 경제 성장에 중점을 둔다.
- ㄴ. 대체 자원 개발에 보조금을 지급한다.
- ㄷ. 쓰레기 분리 수거와 재활용을 장려한다.
- ㄹ. 세금을 낮추어 자원의 가격을 인하한다.

- ① ㄱ, ㄴ ----- ② ㄱ, ㄷ ----- ③ ㄱ, ㄹ
- ④ ㄴ, ㄷ ----- ⑤ ㄷ, ㄹ

^N 다음은 '고속 철도 노선도'이다. 고속 철도 개통 이후의 변화에 대해 바르게 말한 학생을 <보기>에서 모두 고른 것은? [3 점]



<보기>

- 지우 : 시간 거리 측면에서 국토 공간이 축소될 겁니다.
- 연수 : 서울로 공장을 이전하는 기업이 늘어날 겁니다.
- 소영 : 지방 중소 도시의 성장으로 서울의 상권이 좁아질 거예요.
- 병지 : 고속 철도역 부근의 토지 이용이 더 집약적으로 될 거예요.
- 상우 : 고속 버스와 항공 업계는 고속 철도와 치열하게 경쟁할 거예요.

- ① 지우, 연수, 소영 ----- ② 지우, 소영, 상우
- ③ 지우, 병지, 상우 ----- ④ 연수, 소영, 병지
- ⑤ 연수, 병지, 상우

^N 다음 자료를 토대로 아랄 해가 변화된 가장 큰 원인을 고르면?

중앙 아시아의 건조한 분지에 있는 아랄 해는 한때 세계에서 네 번째로 큰 호수였다. 이 호수는 동쪽 높은 산지에서 눈 녹은 물이 하천을 따라 흘러 들어와 만들어진 것이다. 1960년대 이후 이 지역 사람들은 호수로 흘러드는 하천의 물을 이용하여 대규모 농업을 발달시켰다. 그러나 지금은 호수 물이 줄어들어 그림과 같이 바닥이 드러나게 되었다.



- ① 오랜 기간 인접 국가와 물 분쟁을 겪었다.
- ② 지형 변화로 인해 하천의 유로가 바뀌었다.
- ③ 호수로 들어가는 물을 끌어 들여 농사를 지었다.
- ④ 지구적인 기후 변화로 인해 강수량이 줄어들었다.
- ⑤ 하천 상류에 댐을 건설하여 농업용수로 이용하였다.

^N 다음 글의 내용과 관련하여 자원에 대한 설명으로 옳지 않은 것은?

'뉴욕 맨해튼의 청년 남녀들이 사랑을 약속하며 다이아몬드를 살 때마다 이들이 지불하는 돈은 아프리카 어린이들의 목숨을 앗아가는 무기로 변하고 있다.'며 뉴욕타임스는 앙골라, 콩고 등지에서 벌어지는 다이아몬드 전쟁에 대해 이렇게 탄식했다.

현재 전 세계에서 유통되고 있는 다이아몬드 원석의 15% 정도가 아프리카의 분쟁 지역에서 생산된다. 반군과 정부군은 군자금을 마련하기 위해 다이아몬드 갱탈전을 벌이고 있다.

- '고덕 고덕 세계 경제' 중에서 -

- ① 자원은 매장량이 한정되어 있다.

# 사회탐구영역

경제지리

6

- ② 자원은 분쟁의 원인이 되기도 한다.
- ③ 자원은 모든 지역에 골고루 분포하고 있다.
- ④ 수요에 비해 희소한 자원일수록 가치가 높다.
- ⑤ 생산지와 소비지의 불일치로 자원이 이동한다.

※ 확인사항

- 문제지와 답안지의 해당란을 정확히 기입(표기)했는지 확인하십시오.