


# 사회탐구 영역 (한국지리)

- 먼저 수험생이 선택한 과목의 문제지인지 확인하십시오.
- 반드시 자신이 선택한 과목의 문제지를 풀어야 합니다.
- 문제지에 성명과 수험 번호를 정확히 기입하십시오.
- 답안지에 수험 번호, 선택 과목, 답을 표기할 때에는 반드시 '수험생이 지켜야 할 일'에 따라 표기하십시오.
- 문항에 따라 배점이 다르니, 각 물음의 끝에 표시된 배점을 참고하십시오. 3 점 문항에만 점수가 표시되어 있습니다. 점수 표시가 없는 문항은 모두 2 점씩입니다.




※ ph 값이 낮을수록 오염도가 심함

보다 편리한 삶을 영위할 수 있다.



# 사회탐구 영역 (한국지리)




0000년 1월 13일 날씨 : 눈

<여행 5일 째>

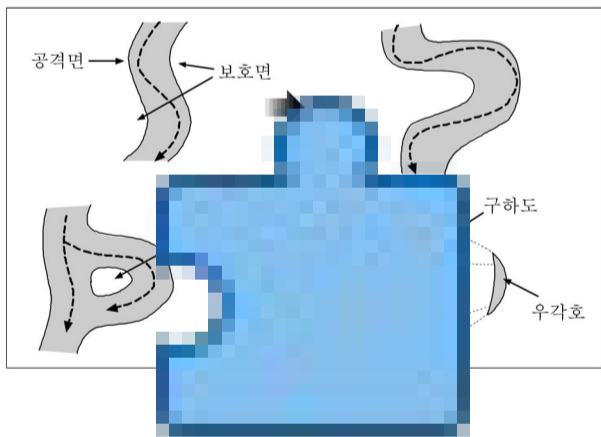
벌써 며칠 째 눈이 오고 있다. 그냥 흩날리는 싸락눈이 아니라 펑펑 쏟아지는 함박눈이다. 허리까지 쌓인 눈 때문에 우리는 방안에 갇힌 채 일정에 큰 차질을 빚고 있다.

신생대의 화산 폭발로 생긴 이 작은 섬은 그야말로 설국(雪國)이다. 이처럼 눈이 많이 오는 까닭은 무엇일까? 육지에서는 그토록 차갑고 매서운 북서풍이 여기서도 이렇게 많은 눈을 내리게 한다니, 날씨란 참 알다가도 모를 일이다.

항목으로 적절한 것을 <보기>에서 고르면? [3 점]



것은? [3 점]






집중호우로 저지대가 침수될 우려가 있으니 대비하시기 바랍니다.



# 사회탐구 영역 (한국지리)

3






(가)

(나)



# 사회탐구 영역 (한국지리)



# 사회탐구 영역 (한국지리)

5

