

사회 탐구 영역

1

○문제지에 수험번호와 성명을 정확하게 기입하십시오.




토지는 논·밭·촌주위담·내시령담 등 토지의 종류와 면적을 기록하고, 사람들은 인구·가호·노비의수와 3년동안의 사망·이동등 변동 내용을 기록하였다. 그밖에 소와 말의수, 뽕나무·잣나무·호도나무의 수까지 기록하였다. 특히 사람은 남녀별로 구분하고, 16세에서 60세의 남자의 연령를 기준으로 나이에 따라 6등급으로 구분하여 기록하였다. 호(?)는 사람의 많고 적음에 따라 상상호(???)에서 하하호(???)까지 9등급으로 나누어 파악하였다. 기록된 4개촌은 호구 43개에 총인구는 노비 25명을 포함하여 442명(남 194, 여 248)이며, 소 53마리, 말 61마리, 뽕나무 4,249그루 등의 재산을 소유하고 있었다.

사회 탐구 영역

2

1? [2 점]

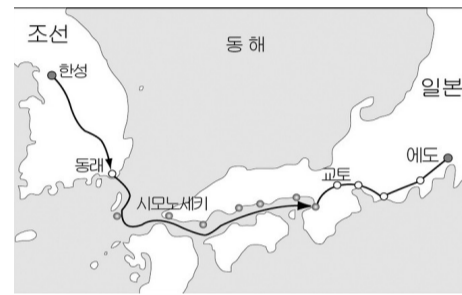


불교 사상을 체계화하기 위해 대장경을 조판하였다.



3


사회 탐구 영역



- 사간원·사헌부의 간관에게 서경권을 부여하였다.
- 3사는 정사(?)를 비판하는 언론 기능을 담당하였다.

사회 탐구 영역

4



5

사회 탐구 영역

