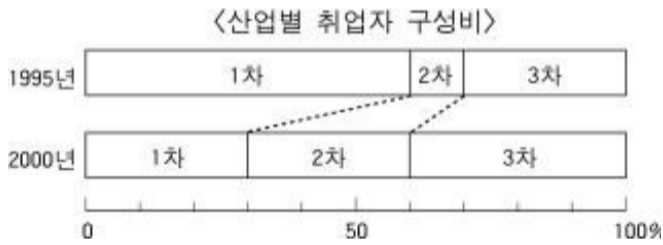


제 4 교시

- 먼저 수험생이 선택한 과목의 문제지인지 확인하시오.
- 선택 과목은 반드시 응시 원서 작성시 자신이 선택한 과목의 문제를 풀어야 합니다.
- 문제지에 성명과 수험 번호를 정확히 기입하시오.
- 답안지에 수험 번호, 선택 과목, 답을 표기할 때는 반드시 '수험생이 지켜야 할 일' 에 따라 표기하시오.
- 문항에 따라 배점이 다르니, 각 물음의 끝에 표시된 배점을 참고하시오. 3 점 문항에만 점수가 표시되어 있습니다. 점수 표시가 없는 문항은 모두 2 점입니다.

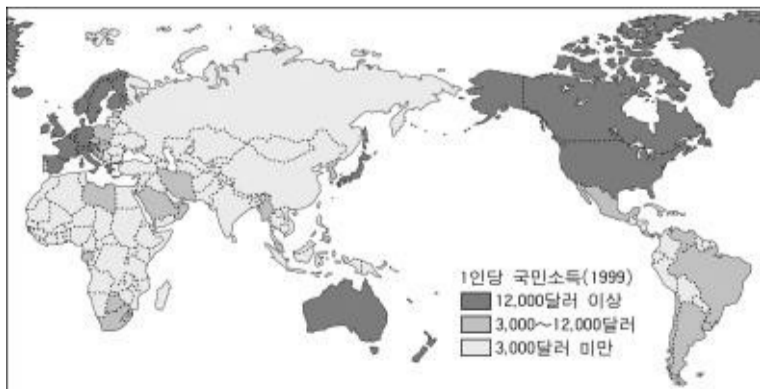
2005 학년도 대학수학능력시험 예비 평가 문제지
사회탐구영역

1. 1995년 취업자 수가 1,000명인 농촌 지역에 300명을 고용하는 공장이 건설되어 1996년부터 가동을 시작했다. 다음과 같은 산업 구조의 변화를 통해 추론할 수 있는 이 지역의 사회·경제적 변화가 아닌 것은? [3 점]



- ① 지가와 상가 임대료가 하락하였다.
- ② 농업 부문 취업자의 비율이 감소하였다.
- ③ 음식점 등 서비스 업체들이 증가하였다.
- ④ 외지의 인구가 유입되어 인구가 증가하였다.
- ⑤ 공장의 입지로 인하여 환경 문제가 발생하였다.

2. 다음은 1인당 국민 소득을 나타낸 지도이다. ■ 표시된 국가들의 공통적인 특색으로 옳은 것은?



- ① 문맹률이 높다.

- ② 도시 인구율이 낮다.
 - ③ 2, 3차 산업의 인구 비율이 낮다.
 - ④ 관광과 여가 활동에 대한 지출이 많다.
 - ⑤ 부가 가치가 높은 제품의 수출이 적다.
3. 농업의 변화에 대한 뉴스 보도이다. 이 보도에서 기자가 준비한

수험 화면으로 가장 타당한 것은? [3 점]

앵커 : 요즘 쌀 소비량이 줄어들고 있다면서요?

기자 : 예 그렇습니다. 요즘 사람들은 밥 대신 빵과 육류를 많이 먹고 있습니다. 이 때문에 쌀은 소비가 감소하여 남아도는 반면 밀은 소비가 증가하여 수입량이 늘어나고 있습니다. 또한 육류의 소비 증가와 함께 채소류의 생산량과 소비량도 크게 증가하고 있습니다. 이에 따라 우리 농업에도 많은 변화가 나타나고 있습니다.

기자 : 준비한 화면을 보면서 설명하도록 하겠습니다.

- ① 논에서 노인들만 일하는 모습
- ② 수입한 쌀을 선반에서 하역하는 장면
- ③ 농기계를 이용하여 벼를 수확하는 장면
- ④ 다수확 품종의 벼를 개발하는 연구원의 모습
- ⑤ 논에 대형 비닐 하우스를 짓고 있는 농부의 모습

4. 자료와 관련된 공업의 입지 조건을 잘못 이해한 학생은? [3 점]

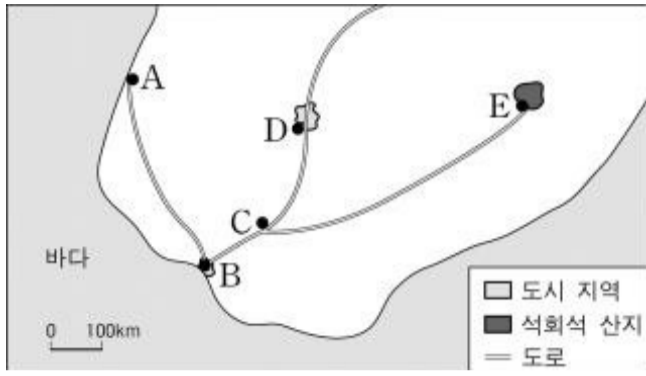
(가) 그녀는 평화시장 3층의 어둡침침한 복도를 지나 숨이 턱턱 막히는 먼지 구덩이의 작업장으로 빨려 들어갔다. 작업장은 약 8평 정도. ... (중략) ... 재단판과 열 너댓 대 되는 재봉대와 거기에 맞붙은 시다판들이 가뜩이나 비좁은 방안에 꽉 들어차고 그 틈서리 틈서리에 핏기 없는 창백한 얼굴의 종업원 32 명이 끼어 앉아 일한다.

----- - 조영래, 전태일 평전 -

(나) 이 공장은 연간 1억 달러 상당의 전자 정밀 기기를 생산하고 있다. 여기에는 1천 5백 명의 종업원이 고용되어 있는데, 그 중 40퍼센트가 기사, 프로그래머, 기술자, 사무직과 관리 요원이다.

- 앨빈 토플러, 제 3의 물결 -

- ① 갑 : (가) 유형의 공장은 저렴한 노동력이 중요해.
 - ② 을 : (가) 유형의 공장은 소비 시장과의 접근성이 중요해.
 - ③ 병 : (나) 유형의 공장은 연구 개발 부문이 중요해.
 - ④ 정 : (나) 유형의 공장은 쾌적한 주거 환경이 중요해.
 - ⑤ 무 : (나) 유형의 공장은 도심에 입지하는 것이 중요해.
- [5~6] 가상 국가의 지도를 보고 물음에 답하시오.

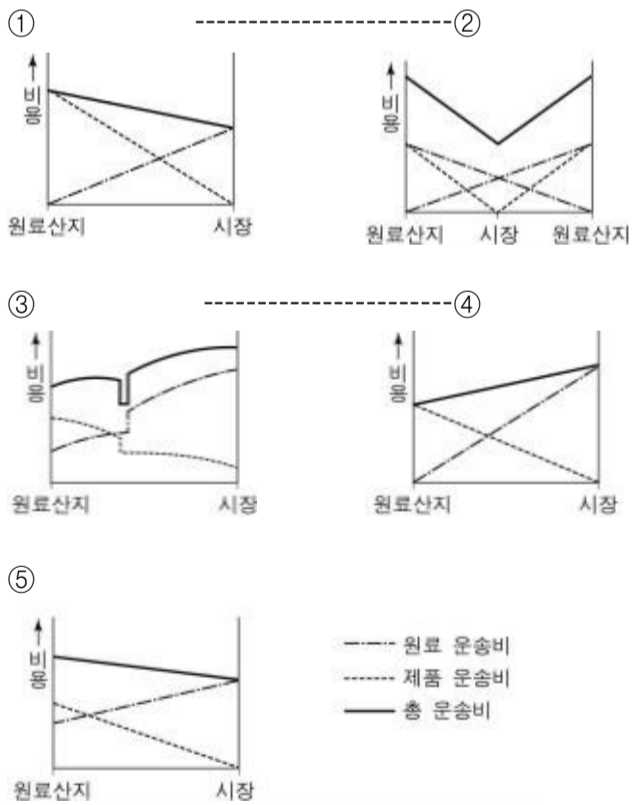


5. 다음 <조건>에 따를 때 시멘트 공장과 가구 공장의 최적 입지를 A~E 중에서 골라 바르게 연결한 것은?

- <보기>
- 공장의 최적 입지는 최소 운송비 지점으로 한다.
 - 도시 인구의 증가로 주택 건설에 필요한 시멘트 수요가 급증하였다.
 - 목재를 외국에서 선박으로 수입하고, 제작한 가구를 국내에 판매한다.

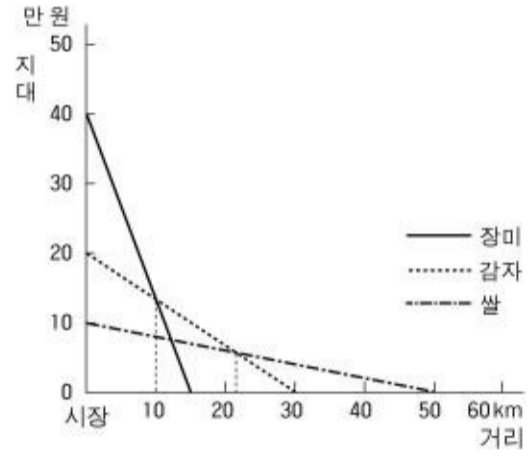
- | | |
|----------------|-------|
| 시멘트 공장 | 가구 공장 |
| ① -----A-----B | |
| ② -----B-----C | |
| ③ -----B-----D | |
| ④ -----E-----C | |
| ⑤ -----E-----D | |

6. 시멘트 공장의 최적 입지를 가장 잘 설명하는 운송비 그래프는? [3점]



7. 농업 입지를 수업하면서 교사와 학생이 나눈 대화이다. 입지 지대의 개념을 잘못 이해하고 있는 학생은? [3 점]

교사 : 지역에 따라 재배하는 농작물이 달라지는 이유를 다음 그림을 통해 알아봅시다.



교사 : 왜 시장으로부터 멀어질수록 지대가 감소할까요?

갑 : 운송비가 증가하기 때문입니다.

교사 : 지역마다 다른 농작물을 재배하는 이유는 무엇일까요?

을 : 소득이 가장 많은 농작물을 선택하기 때문입니다.

교사 : 시장으로부터 가장 가까운 지역에서 재배되는 농작물은 무엇일까요?

병 : 장미입니다.

교사 : 시장으로부터 30km 떨어진 지역에 사는 농부는 어떤 농작물을 재배하는 것이 유리할까요?

정 : 감자입니다.

교사 : 재배되는 구간이 가장 넓은 농작물은 무엇일까요?

무 : 쌀입니다.

- ① 갑-----② 을-----③ 병-----④ 정-----⑤ 무

8. 도심 지역에 입지한 인쇄 관련 공업을 조사하면서 인터뷰한 내용이다. 밑줄 친 부분에 들어갈 내용으로 적절하지 않은 것은?

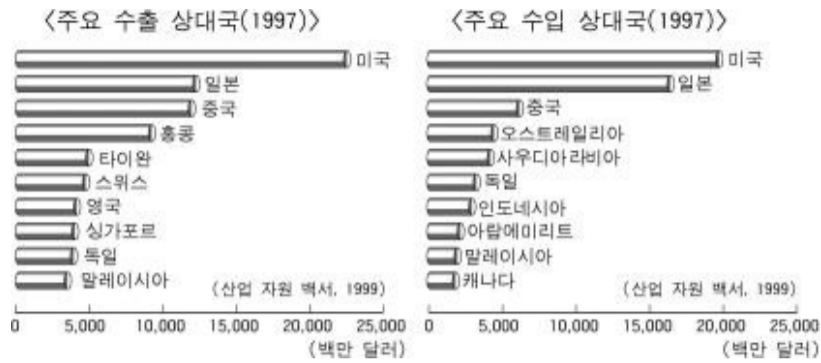
학생 : 이 곳에는 좁은 지역에 규모가 작은 인쇄소들이 많이 모여 있네요. 인쇄물을 디자인하는 업체, 인쇄하는 업체, 제본하는 업체들이 밀집되어 있어요.

그런데 도심과 가까운 이 곳은 지가가 비싸 인쇄소가 입지하는 데 적합하지 않을 것 같아요. 사장님께서 왜 이 곳에서 인쇄소를 운영하고 계시나요?

인쇄소 사장 :제가 이 곳에서 인쇄소를 운영하고 있는 이유는

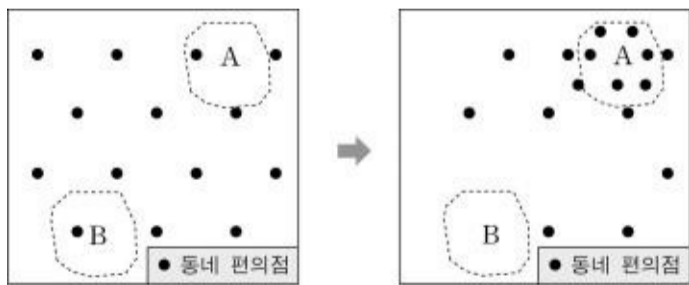
- ① 관공서나 회사가 많아 일감을 얻기 쉽기 때문입니다.
- ② 젊고 숙련된 노동력을 쉽게 구할 수 있기 때문입니다.
- ③ 교통이 편리하여 소비자와 접촉하기 쉽기 때문입니다.
- ④ 관련된 업종이 모여 있어 도움을 받을 수 있기 때문입니다.
- ⑤ 제지 공장과 가까워 종이를 값싸게 구할 수 있기 때문입니다.

9. 우리 나라의 무역과 관련된 자료를 분석한 내용으로 옳은 것은?



- ① 일본과의 무역액이 가장 많다.
- ② 서남 아시아 지역으로의 수출액이 많다.
- ③ 개발 도상 국가와의 무역액이 가장 많다.
- ④ 수입 상대국 대부분이 유럽 연합(EU) 국가이다.
- ⑤ 중국과는 무역 흑자이고 일본과는 무역 적자이다.

10. 그림은 가상 지역의 동네 편의점 분포 변화이다. 변화의 원인을 추론한 내용으로 가장 타당한 것은? [3 점]



- ① A 지역에 편의점으로 물품을 공급하는 물류 센터가 들어섰다.
- ② A 지역에 대규모의 아파트 단지가 조성되어 인구 밀도가 높아졌다.
- ③ A 지역 주민들이 자동차로 다른 지역의 편의점을 많이 이용하게 되었다.
- ④ B 지역에 지하철 역이 만들어져 주민 이동이 편리해졌다.
- ⑤ B 지역 주민의 소득이 A 지역보다 높아졌다.

11. 그림 (라)의 밑줄 친 부분에 적합한 내용을 <보기>에서 모두 고른 것은?

(가) 컴퓨터와 정보 통신이 발달하면서

(나) 산업 사회는 정보화 사회로 변천하게 된다.

(다) 정보와 사회는 농업, 산업 사회와 무엇이 다를까요?

(라) 정보화 사회에서는

- <보기>
- ㄱ. 직장 근처로 거주지를 이동하는 사례가 증가합니다.
 - ㄴ. 경제 활동에서 정보와 지식이 더욱 중요해집니다.
 - ㄷ. 세계 각 지역의 문화가 빠르게 전파됩니다.
 - ㄹ. 시간 거리보다 공간 거리가 중요해집니다.
 - ㅁ. 전자 상거래가 활발해집니다.

- ① ㄱ, ㄴ, ㄷ-----② ㄱ, ㄷ, ㄹ
- ③ ㄱ, ㄹ, ㅁ-----④ ㄴ, ㄷ, ㅁ
- ⑤ ㄴ, ㄹ, ㅁ

12. 지도에 표시된 경제 협력 기구가 결성된 공통적인 배경으로 가장 적합한 것은?



- ① 동일한 민족-----② 지리적 인접성
- ③ 단일 화폐 사용-----④ 동일한 산업 구조
- ⑤ 석유 자원의 공동 개발과 판매

[13~14] 다음 글을 읽고 물음에 답하시오.

오후 6 시가 되자 ○ ○동의 대형 할인 매장 1 층 계산대 앞에는 사람들이 길게 늘어선다. 지하 7 층으로 된 주차장은 지하 6 층까지 꽉 차 있고, 인접한 도로에는 많은 차들이 불법 주차되어 있다. 이 매장 주위에는 15 층 짜리 주상 복합 아파트가 지어지고 있으며, 조그마한 음식점들이 들어서 있던 건물은 고층 오피스텔로 변신 중이다. 곳곳엔 대형 음식점들이 자리잡고 있다.

이 대형 할인 매장 근처에 위치한 재래 시장은 인적이 드물다. 야채 가게 주인은 “하루에 하나도 못 팔 때가 있죠. 월 25 만원인 임대료를 내기도 빠듯해요”라고 하소연했다. 인근 다른 시장도 사정은 마찬가지다.-----

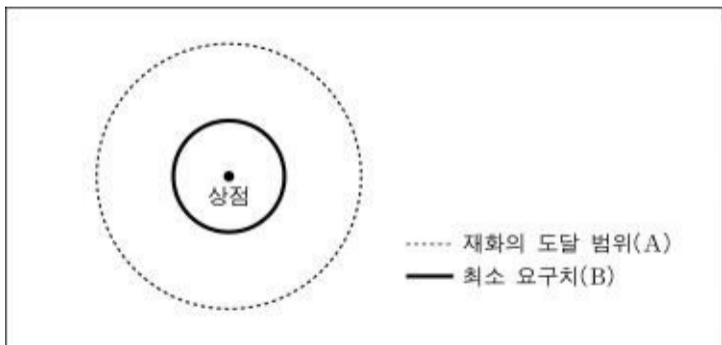
- ○ ○신문, 2003. 3. 6. -

13. 대형 할인 매장의 입지로 인한 지역 변화 내용으로 타당한 것을 <보기>에서 모두 고른 것은? [3 점]

- <보기>
- ㄱ. 주변 지역의 지가가 상승한다.
 - ㄴ. 인근 재래 시장의 수가 증가한다.
 - ㄷ. 주변 지역의 차량 소통이 원활해진다.
 - ㄹ. 매장 주위에서는 저층 건물을 고층 건물로 바꾸려는 재건축이 많아진다.

① ㄱ, ㄴ-----② ㄱ, ㄹ-----③ ㄴ, ㄷ-----④ ㄴ, ㄹ-----⑤ ㄷ, ㄹ

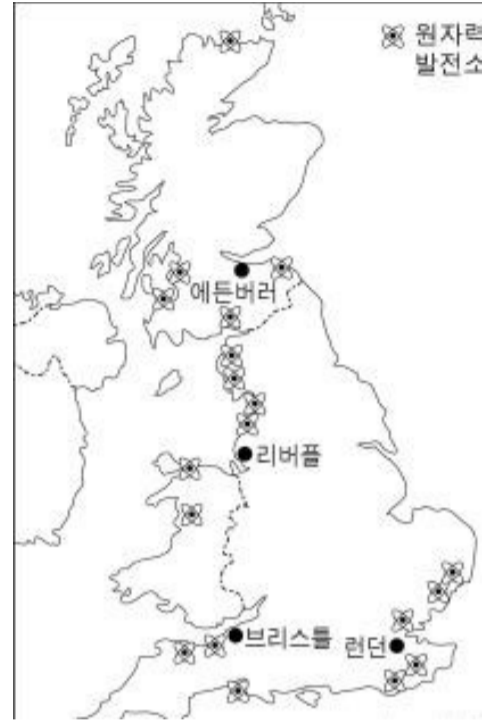
14. 그림은 어떤 상점의 최소 요구치와 재화의 도달 범위이다. 위 글의 대형 할인 매장과 야채 가게의 특징을 아래 그림을 이용하여 설명한 것으로 옳지 않은 것은? [3 점]



- ① A는 대형 할인 매장이 야채 가게보다 크다.
- ② B는 대형 할인 매장이 야채 가게보다 크다.
- ③ 야채 가게는 B가 A보다 더 커야 이윤을 남길 수 있다.
- ④ 대형 할인 매장은 A가 B보다 더 커야 이윤을 남길 수 있다.
- ⑤ 자동차의 보급이 증가하면서 대형 할인 매장의 A는 확대되고 있다.

15. 영국의 원자력 발전소 분포를 통해 파악할 수 있는 원자력

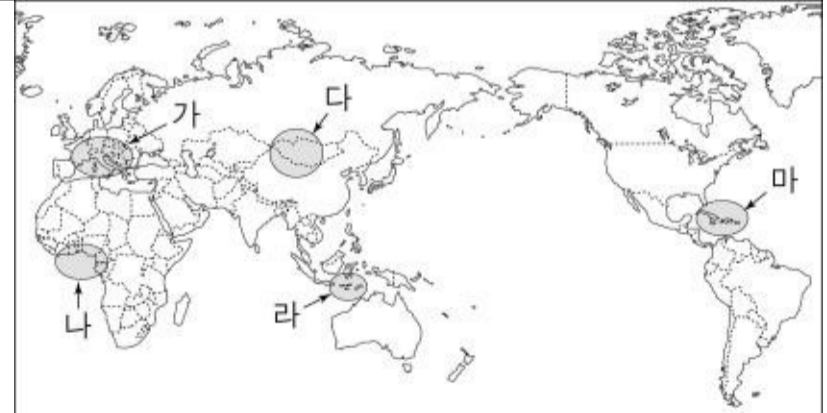
발전소의 입지 요인으로 가장 타당한 것은?



- ① 관광지와의 인접성-----② 대도시와의 인접성
- ③ 용수 이용의 편리성-----④ 도로 교통의 편리성
- ⑤ 철광석 산지와의 인접성

16. 글에 나타난 유형의 관광을 모두 즐기기에 가장 적합한 지역은?

여가 활동이 활발해지면서 전원에서 농촌 생활을 체험하는 녹색 관광(green tourism), 푸른 바다가 있는 해안에서 이루어지는 청색 관광(blue tourism), 눈 덮인 산악 지대에서 행해지는 백색 관광(white tourism) 등 다양한 형태의 관광에 대한 관심이 높아지고 있다.



- ① 가-----② 나-----③ 다
- ④ 라-----⑤ 마

17. 지속 가능한 개발의 개념을 설명한 글이다. <보기>에서 경제 활동과 지속 가능한 개발의 예를 바르게 연결한 것은? [3 점]

