

2005 학년도 대학수학능력시험 예비 평가 문제지

사회탐구영역(경제)

- 먼저 수험생이 선택한 과목의 문제지인지 확인하십시오.
- 선택 과목은 반드시 응시 원서 작성시 자신이 선택한 과목의 문제를 풀어야 합니다.
- 문제지에 성명과 수험 번호를 정확히 기입하십시오.
- 답안지에 수험 번호, 선택 과목, 답을 표기할 때는 반드시 '수험생이 지켜야 할 일' 에 따라 표기하십시오.
- 문항에 따라 배점이 다르니, 각 물음의 끝에 표시된 배점을 참고하십시오. 3 점 문항에만 점수가 표시되어 있습니다. 점수 표시가 없는 문항은 모두 2 점입니다.

1. 다음 글에서 추론할 수 있는 '전자 경제'의 특성을 <보기>에서 모두 고른 것은?

인터넷이 생겨나기 전에는 소비자들이 제품과 가격에 대한 정보를 찾는 것이 쉽지 않았다. 그러나 이제는 소비자가 제품에 대한 정보를 인터넷으로 손쉽게 찾을 수 있게 되어 기업이 소비자들의 구미를 맞추는 일이 더욱 어렵게 되었다. 이에 따라 '전자 경제'에서는 소비자의 욕구를 충족하기 위한 주문 생산이 활성화되고 있다.

<보기>

- ㄱ. 소비자의 영향력이 강화된다.
- ㄴ. 다품종 소량 생산이 확산된다.
- ㄷ. 기업의 재고 비용이 증가한다.
- ㄹ. 신용카드의 사용이 축소된다.

- ① ㄱ, ㄴ-----② ㄱ, ㄷ-----③ ㄱ, ㄹ-----④ ㄴ, ㄹ-----⑤ ㄷ, ㄹ

2. 다음은 길동이가 대학 진학을 위해 작성한 평가표이다. 바르게 추론한 것을 <보기>에서 모두 고른 것은?

대안	평가기준	학비	적성	취업 가능성	학교 평판	합계
A 대학교 a 학과		1	1	2	3	7
B 대학교 b 학과		2	3	1	2	8
C 대학교 c 학과		3	2	3	1	9

* 수치는 길동이가 느끼는 만족감의 크기를 나타낸다. 매우 만족은 3, 약간 만족은 2, 보통은 1 을 부여한 것이다.

<보기>

- ㄱ. 각 평가 기준의 중요도가 같다고 보고 있다.
- ㄴ. 학비와 적성에서 A 대학교 a 학과를 가장 높게 평가하고 있다.
- ㄷ. B 대학교 b 학과 졸업생에 대한 사회적 수요가 가장 많다고 평가하고 있다.
- ㄹ. A 대학교 a 학과를 선택할 것이다.
- ㅁ. C 대학교 c 학과를 선택할 것이다.

- ① ㄱ, ㄹ-----② ㄱ, ㅁ-----③ ㄴ, ㄹ-----④ ㄴ, ㅁ-----⑤ ㄷ, ㅁ

3. 다음의 상황을 경제적 의사 결정 과정에 따라 해결하고자 한다. 그 순서를 <보기>에서 찾아 바르게 연결한 것은?

○○마을에서는 육지와 섬을 잇는 새로운 다리가 개통되면서 많은 변화가 일어났다. 주말이 되면 관광객이 몰려 마을의 좁은 도로는 자동차로 아수라장이 되었다. 상점과 민박집의 수입은 나아졌지만 관광객을 경쟁적으로 유치하는 과정에서 상도덕(商道德)이 매우 문란해졌다. 술에 취한 관광객 중 일부는 도로상에서 싸우기도 하고 각종 범죄도 빈번하게 발생하였다.

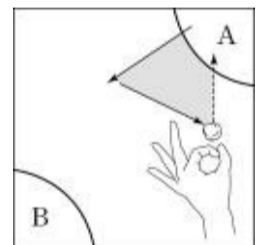
<보기>

- ㄱ. 대안들의 편익과 비용을 따져본다.
- ㄴ. 마을의 문제 해결을 위한 대안들을 찾아본다.
- ㄷ. 마을이 새롭게 직면한 문제가 무엇인지를 알아본다.
- ㄹ. 대안들의 결과를 비교하여 최선의 대안을 선택한다.
- ㅁ. 자동차는 몇 대나 오가며, 폭력 사건은 얼마나 발생하는지 등을 조사해 본다.

- ① ㄷ - ㄴ - ㄱ - ㄹ - ㅁ-----② ㄷ - ㅁ - ㄱ - ㄴ - ㄹ
- ③ ㄷ - ㅁ - ㄴ - ㄱ - ㄹ-----④ ㅁ - ㄴ - ㄱ - ㄷ - ㄹ
- ⑤ ㅁ - ㄷ - ㄴ - ㄹ - ㄱ

4. 다음은 경제 수업 시간에 학생들이 했던 어느 민속 놀이의 방법을 서술하고 있다.

- (가) 땅에 큰 사각형을 그린다.
- (나) (가)에서 만든 사각형 구석에 자기 손가락의 뺨을 재어 자기 집을 만든다.
- (다) 가위.바위.보로 순서를 정한다.
- (라) 자기 집을 시작으로 돌을 3 번 통겨서 자기 집으로 다시 돌아온다.



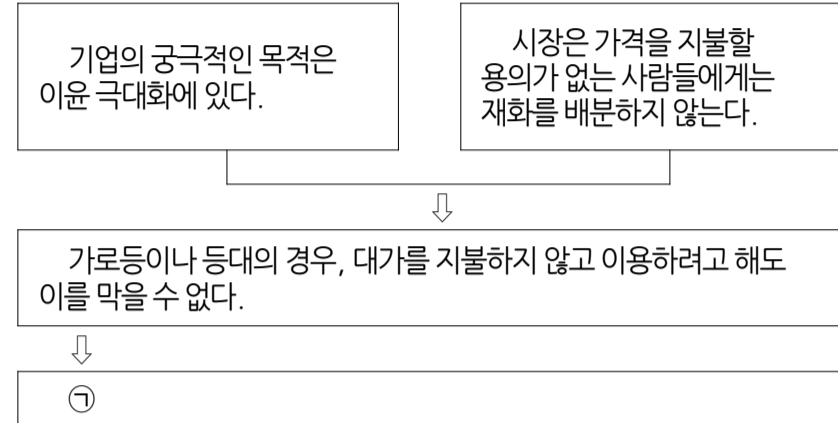
- (마) 3 번 이내에 자기 집으로 돌아오지 못하면 차례가 바뀐다.
- (바) 돌이 지나간 자리의 안쪽이 자기 집이 된다.
- (사) 남의 땅으로 들어간 돌이라도 통겨서 자기 집으로 돌아오면 남의 땅을 차지할 수 있다.
- (아) 차례가 10 번 바뀌면 놀이는 끝나고, 땅을 가장 많이 차지한 사람이 이긴다.

이 놀이를 한 후에 학생들이 깨달을 수 있는 경제 원리로 보기 어려운 것은? [3 점]

- ① 사람들은 경제적 이득에 반응한다.
- ② 교환은 거래 당사자에게 이익을 준다.
- ③ 인간의 욕망에 비해 자원은 유한하다.

- ④ 선택에는 기회 비용이 따르게 마련이다.
- ⑤ 사람들은 경제 활동 과정에서 경쟁에 직면하게 된다.

5. 다음 (가)에 들어갈 말로 가장 적절한 것은?



- ① 기업에게 공공성을 강제하기 어렵다.
- ② 시장은 자원의 효율적 배분에 기여한다.
- ③ 정부의 개입은 경제의 효율성을 떨어뜨린다.
- ④ 시장에서는 공공재가 충분히 공급되기 어렵다.
- ⑤ 경제의 효율성과 형평성은 동시에 달성되기 어렵다.

6. 다음은 '국제 수지와 환율'을 주제로 한 수업 시간에 교사가 학생들에게 던진 물음이다. 이에 대한 대답으로 가장 타당한 것은? [3 점]

일반적으로 경상 수지가 흑자이면 환율이 하락하고 적자이면 환율은 상승한다. 그러나 항상 그렇지만은 않다. 예를 들어 1994 년의 경우 경상 수지가 39 억 달러 정도 적자였음에도 불구하고 환율은 800 원대에서 700 원대로 하락했어. 왜 이러한 일이 일어났을까?

- ① 외국인들의 국내 관광이 늘어났기 때문이에요.
- ② 국내 기업들의 해외 진출이 활발해졌기 때문이에요.
- ③ 우리 나라 사람들의 해외 여행이 늘어났기 때문이에요.
- ④ 외국인들이 우리 나라의 주식을 더 많이 샀기 때문이에요.
- ⑤ 해외 근로자들이 국내에 돈을 더 많이 송금했기 때문이에요.

7. 다음 사례에서 바르게 추론한 것을 <보기>에서 모두 고른 것은?

장거리 전화를 무료로 하면 어떻게 될까? 어느 중동 산유국은 석유 수출로 오일 달러가 급증하여 한때 국민에 대한 서비스의 일환으로 장거리 전화를 무료로 한 적이 있었다. 그랬더니 전화를 안 해도 될 사람도 하고, 짧게 해도 될 것도 길게 하고, 통화를 하다가 볼 일이 생기면 끊지 않고 그냥 두었다가 볼 일을 마치고 계속하는 사람도 있었다. 그 결과, 장거리 전화는 항상 통화 중인 상태로 되어 급하게 전화를 해야 할 사람도 거의 사용할 수 없게 되었다.

- <보기>—
- ㄱ. 가격은 사람들의 행위에 영향을 미친다.
 - ㄴ. 재화나 서비스가 무료이면 그것은 낭비된다.
 - ㄷ. 가격은 자원이 필요한 사람에게 돌아가게 하는 기능을 한다.

- ① ㄱ-----② ㄱ, ㄴ-----③ ㄱ, ㄷ
- ④ ㄴ, ㄷ-----⑤ ㄱ, ㄴ, ㄷ

8. 다음 글을 읽고 바르게 추론한 것을 <보기>에서 모두 고른 것은? [3 점]

잉크젯 프린터는 잉크를 자주 교환해야 하는 번거로움이 있지만 다른 컴퓨터 관련 제품에 비해 상대적으로 값이 싸다. 그런데 프린터 잉크는 비싼 값에 판매된다. 한 회사 제품만이 아니라 대부분의 회사 제품들도 그러하다. 왜냐하면 프린터 잉크는 기술적으로 자사 제품만 사용할 수 있도록 만들어져 있어서, 일단 프린터를 구매한 고객은 가격이 비싸더라도 동일한 프린터 제조 회사에서 만든 잉크를 사용해야 하기 때문이다.

- <보기>—
- ㄱ. 프린터에 비해 프린터 잉크의 판매 경쟁이 치열하다.
 - ㄴ. 프린터 잉크의 판매는 프린터와 상호 연계되어 있다.
 - ㄷ. 프린터 잉크는 프린터에 비해 수요의 가격 탄력성이 크다.
 - ㄹ. 프린터 회사가 프린터를 싸게 파는 이유는 이윤 극대화에 있다.

- ① ㄱ, ㄴ-----② ㄱ, ㄹ-----③ ㄴ, ㄷ-----④ ㄴ, ㄹ-----⑤ ㄷ, ㄹ

9. 다음 자료를 바르게 분석한 것을 <보기>에서 모두 고른 것은? [3 점]

문서 작성과 경영 자문에 재능이 있는 김유식과 이상식은 동업을 계획하고 있다. 이 두 사람이 각각의 일에 종사했을 때 얻을 수 있는 월 수입은 다음과 같다.

성명	업무	문서작성	경영 자문
김유식		120 만원	400 만원
이상식		80 만원	40 만원

- <보기>—
- ㄱ. 김유식의 경영 자문의 기회 비용은 120 만 원이다.
 - ㄴ. 이상식의 문서 작성의 기회 비용은 120 만 원이다.
 - ㄷ. 김유식은 문서 작성과 경영 자문을 모두 담당하는 것이 효율적이다.
 - ㄹ. 김유식은 경영 자문, 이상식은 문서 작성을 담당하는 것이 효율적이다.

- ① ㄱ, ㄴ-----② ㄱ, ㄷ-----③ ㄱ, ㄹ-----④ ㄴ, ㄷ-----⑤ ㄴ, ㄹ

10. 표를 근거로 냉장고에 대한 특별 소비세율 인하가 가져온 결과를 <보기>에서 모두 고른 것은? [3 점]

	인하전	인하후
제조 원가	90 만 원/대	90 만 원/대
출고가	100 만 원/대	100 만 원/대
특별 소비세율	30%	27%
소비자 판매가	130 만 원/대	127 만 원/대
판매량	100 만대	115 만대

<보기>

ㄱ. 냉장고 구매자는 이익을 보았다.
 ㄴ. 냉장고 제조업체의 이윤은 감소하였다.
 ㄷ. 냉장고 제조업체로부터 정부가 징수하는 특별 소비세의 수입은 늘었다.

- ① ㄱ-----② ㄴ-----③ ㄱ, ㄴ-----④ ㄱ, ㄷ-----⑤ ㄴ, ㄷ

11. 다음의 두 상황이 난방 연료 시장에 미칠 영향을 바르게 설명하고 있지 않은 것은? [3 점]

<상황 1> : 올해 겨울은 유난히 춥다.
 <상황 2> : 석유 수출국 기구(OPEC)의 감산 결정에 따라 원유 가격이 올랐다.

- ① <상황 1>만 일어나면 공급 곡선은 이동하지 않는다.
 ② <상황 1>만 일어나면 균형 가격은 상승하고 거래량은 증가한다.
 ③ <상황 2>만 일어나면 공급 곡선은 왼쪽으로 이동한다.
 ④ <상황 2>만 일어나면 균형 가격은 상승하고 거래량은 감소한다.
 ⑤ <상황 1>과 <상황 2>가 동시에 일어나면 균형 가격은 상승하며 거래량은 증가한다.

12. 표는 주요국의 조세 부담률과 직.간접세의 비중을 보여주고 있다. 이를 바르게 분석한 것은? [3 점]

(단위%)

	A국	B국	C국	D국	E국	
조세 부담률	17.5	30.7	19.1	22.0	22.1	
직.간접세 비중	직접세	59.0	57.0	53.0	45.0	93.0
	간접세	41.0	43.0	47.0	55.0	7.0
	합계	1000	1000	1000	1000	1000

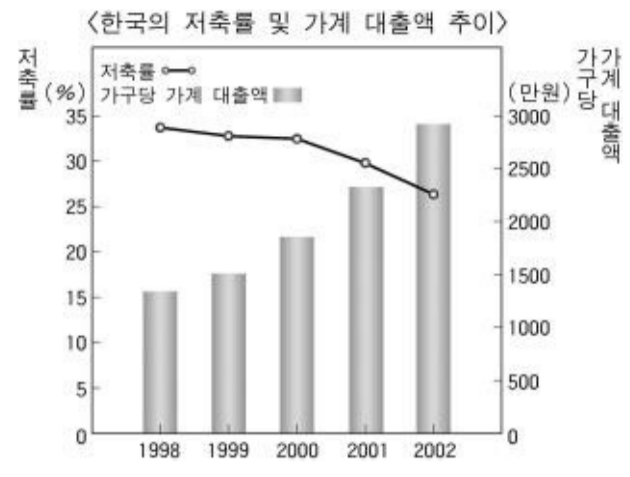
- ① 조세 부담률이 낮은 나라일수록 직접세의 비중이 높다.
 ② A국의 직접세 비중은 다른 나라들에 비해 낮은 편이다.
 ③ C국의 조세 부담률은 다른 나라들에 비해 높은 편이다.
 ④ D국은 조세 저항이 큰 세금의 비중이 다른 나라들에 비해 높은 편이다.
 ⑤ E국은 소득 분배의 공평성 실현에 기여하는 조세 구조를 갖고 있다.

13. 다음 민요가 기업인들에게 시사하는 것은?

장사 장사 나막신 장사 / 비가 오면 나막신 장사
 얼씨구 좋소 얼씨구 좋소 / 얼씨구 절씨구 지화자 좋소
 날이 좋으면 짚세기 장사 / 날이 좋으면 짚세기 장사
 얼씨구 절씨구 잘 팔아 좋소 / 얼씨구 절씨구 잘 팔아 좋네
 - 신안 신발 장수 타령 중에서 -

- ① 기업의 사회적 책임을 다하라.
 ② 소비자가 입은 피해를 보상하라.
 ③ 부가 가치가 높은 제품을 생산하라.
 ④ 경제 환경 변화에 능동적으로 대응하라.
 ⑤ 투명 경영을 통해 기업의 신뢰도를 높여라.

14. 그림에서 바르게 추론한 것을 <보기>에서 모두 고른 것은? [3 점]



<보기>

ㄱ. 가계의 소비 지출은 감소하였을 것이다.
 ㄴ. 이자율 상승이 이와 같은 변화를 초래하였을 것이다.
 ㄷ. 사람들은 미래 소비보다 현재 소비에 가치를 더 두었을 것이다.
 ㄹ. 자료에 나타난 추이는 단기적으로 경기에 긍정적인 영향을 미쳤을 것이다.

- ① ㄱ, ㄴ-----② ㄱ, ㄷ-----③ ㄴ, ㄷ-----④ ㄴ, ㄹ-----⑤ ㄷ, ㄹ

15. (가)와 같은 경제 상황이 주어졌을 때, (나)에서 국민 경제의 새로운 균형이 어디에서 이루어지겠는가? [3 점]

(가)

- 수출이 감소했다
- 정부의 지출이 감소했다.
- 주당 근로 시간이 줄었다.
- 해외 원자재의 가격이 올랐다.

(나)

- ① A-----② B-----③ C-----④ D-----⑤ E

16. 다음 내용과 관련된 진술로 옳은 것을 <보기>에서 모두 고른 것은?

화물 연대 파업으로 부산항과 광양항 등을 통한 수출 제품 선적과 수입 자재 반입이 차질을 빚으면서 국내 전자 업계도 공장 가동에 차질을 빚고 있다. A 전자의 광주 공장은 이번 화물 연대 파업으로 인해 출하량이 정상시에 비해 24% 줄었고, B 전자의 구미·창원 공장의 경우에는 더 많이 줄었다. 이에 따라 산업계 전체의 수출 피해액은 하루에 1 억 달러 이상 발생하고 있는 것으로 나타났다.

- <보기>
- ㄱ. 자급 자족 경제가 효율적이다.
 - ㄴ. 경제 주체간의 상호 의존성을 보여준다.
 - ㄷ. 공익의 지나친 강조는 사익을 침해할 수 있다.
 - ㄹ. 특화가 이루어진 경제에서 나타나는 현상이다.

- ① ㄱ, ㄷ-----② ㄱ, ㄹ-----③ ㄴ, ㄷ-----④ ㄴ, ㄹ-----⑤ ㄷ, ㄹ

17. 다음 신문에 나타난 경제 상황이 초래할 수 있는 경제 문제로 가장 적절한 것은?



- ① 불법 파업의 증가-----② 디플레이션의 발생
- ③ 절대 빈곤층의 증가-----④ 기업의 경쟁력 약화
- ⑤ 소득 불평등의 심화

18. 다음의 것들은 국내 총생산(GDP)에 포함되지 않는다. 그 근거를 아래의 국내 총생산의 정의에서 찾을 때 바르게 짝지어진 것은? [3 점]

- 가. 남편과 아이들의 옷을 세탁한 주부의 노동 가치 50 만 원
- 나. 김대리가 소유했던 (주)신라 통상 주식의 판매 대금 50 만 원
- 다. 시청에서 사용하던 노후화된 업무용 차량 매각 대금 100 만 원
- 라. 배를 원료로 제조한 술에 들어간 (주)전통 주조의 배 구입 대금 500 만 원
- 마. 한국 자동차(주)의 인도 현지 공장에서 조립한 승용차 판매 대금 1,500 달러

국내 총생산 : 일정한 기간 동안 우리 나라 안에서 생산된
 A----- B
 ----- 최종 생산물의 시장 가치의 합
 C----- D

- ① 가 - D-----② 나 - B-----③ 다 - C-----④ 라 - D-----⑤ 마 - A

19. 표를 바르게 분석한 것을 <보기>에서 모두 고른 것은? <우리 나라의 5 대 수출 품목 추이> (단위 : %)

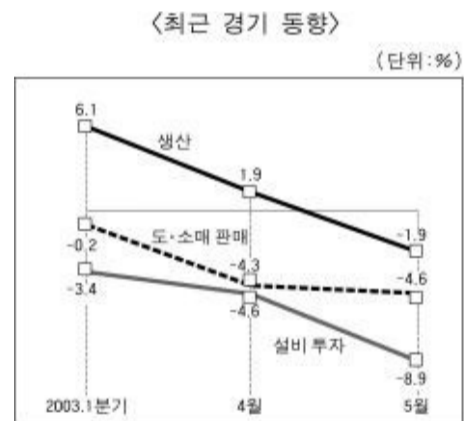
연도 순위	1970 년	1980 년	1990 년	2000 년
1	석유류----40.9	의류-----15.9	의류-----11.7	반도체-----15.1
2	합 판-----11.0	철강판-----4.1	반도체-----7.0	컴퓨터-----8.4
3	가 발-----10.8	선 박-----3.5	가죽신발---4.6	자동차-----7.7
4	철광석-----5.9	인조섬유---3.2	선 박-----4.3	석유화학-----5.5
5	전자제품---3.5	음향기기---2.8	영상기기---4.1	선 박-----4.8
소계	72.1	29.5	31.7	41.5

* 표 안의 수치는 총 수출에서 차지하는 비중을 말한다.

- <보기>
- ㄱ. 정보 관련 산업의 국제 경쟁력은 강화되었다.
 - ㄴ. 시간이 흐르면서 비교 우위 상품은 변화되었다.
 - ㄷ. 1980 년 이후 선박의 수출 비중은 낮아지고 있다.
 - ㄹ. 5 대 수출 품목이 총 수출에서 차지하는 비중은 줄고 있다.

- ① ㄱ, ㄴ-----② ㄱ, ㄷ-----③ ㄱ, ㄹ-----④ ㄴ, ㄷ-----⑤ ㄴ, ㄹ

20. 그림을 보고 바르게 진술하고 있는 학생을 <보기>에서 모두 고른 것은?



*수치는 전년 동기(월)대비 증가율을 말한다.

- <보기>
- 갑 : 사람들이 소비를 늘리고 있네.
 - 을 : 물가가 서민 생활을 압박하겠네.
 - 병 : 경기 침체의 골이 깊어지고 있어.
 - 정 : 정부는 법인세율을 인하할 필요가 있어.

- ① 갑, 을-----② 갑, 병-----③ 을, 병
 ④ 을, 정-----⑤ 병, 정