

사회탐구영역


경제

2

- ② 계획 경제는 공공 복리를 실현하는 데 효과적이다.
- ③ 지나친 경쟁은 개인의 경제 활동을 제약하게 된다.
- ④ 토지 생산성은 투여한 노동량에 비례하여 증가한다.
- ⑤ 경제 문제를 해결하는 방식은 어디에서나 동일하다.

【6~기다음 자료들을 보고 물음에 답하시오.

<자료 1> 경제 사상의 흐름



<자료 2> 경제 사상가의 주장

- (가) 자본주의는 발달할수록 그 속에 자본주의를 파멸시키는 씨를 키워가게 된다.
- (나) 실업 사태를 해결하기 위한 정부 기능의 확대는 시장 경제 체제의 붕괴를 막을 수 있는 유일한 수단이다.
- (다) 사람이 자신의 이익을 열심히 추구하다 보면 국익도 증진되는데, 이것이 의도적으로 하는 것보다 오히려 국익을 더 증진시킨다.

<자료 1>과 <자료 2>의 연결이 바른 것은?

- | | | | |
|---|-----|-----|-----|
| | A | B | C |
| ① | (가) | (나) | (다) |
| ② | (가) | (다) | (나) |
| ③ | (나) | (가) | (다) |
| ④ | (다) | (가) | (나) |
| ⑤ | (다) | (나) | (가) |

다음의 설명이 바르지 못한 것은? [3 점]

- ① A 를 바탕으로 하는 경제 체제는 사유 재산과 영리 추구를 인정한다.
- ② 독점 자본주의 아래에서 경제력 집중, 실업, 빈부 격차 등의 병폐가 심화되었다.
- ③ B 는 경제 문제의 원인이 사유 재산권의 인정에서 비롯된다고 보아 생산 수단의 공유(共有)만을 인정한다.
- ④ C 는 현실의 경제 문제를 해결하기 위한 방안으로 공기업의

민영화와 규제 완화 조치를 중시한다.

- ⑤ 신자유주의는 시장 경제의 원리를 보다 철저히 적용하고 정부의 역할을 축소할 것을 강조한다.

다음의 두 자료를 근거로 하여 정부가 가장 우선적으로 추진해야 할 사업을 고른 것은?

<자료 1> 정부 정책의 운영 방침

정부는 금년부터 인기에 영합하는 대규모의 국책 사업을 지양하고 생산성이 뛰어난 사업을 우선적으로 추진하기로 하였다.

<자료 2> 정부 계획 사업에 대한 분석

사업	비용(C)	편익(B)	편익-비용 비율(B/C)
가	100	125	1.25
나	120	150	1.25
다	150	200	1.33
라	200	220	1.10
마	250	280	1.12

- ① 가-----② 나-----③ 다
- ④ 라-----⑤ 마


다음은 암표 판매 행위에 대한 두 사람의 대화이다. 을의 견해가 전제하고 있는 것을 가장 잘 나타낸 것은?

갑 : 암표상 단속을 강화해야 해. 암표 판매 행위는 암표상들이 폭리를 취할 수 있는 비합리적인 경제 활동이기 때문이야.

을 : 꼭 그렇지만은 않아. 필요할 때 암표상을 통해 쉽게 표를 구할 수 있다면, 시간은 많은데 돈이 없는 사람들은 줄을 서서 입장권을 사고, 돈은 많은데 바쁜 사람들은 표를 구입하는데 쓸 시간을 보다 생산적인 일에 사용할 수 있잖아.

- ① 시간의 기회 비용은 사람에 따라 다르다.
- ② 정부의 개입은 시장의 효율성을 증가시킨다.
- ③ 시장이 모든 것을 해결해 주는 것은 아니다.
- ④ 형평성이라는 기준에 의해 자원이 배분되어야 한다.
- ⑤ 개인적으로는 옳더라도 사회적으로 해가 될 수 있다.

다음 그림으로부터 추론할 수 있는 내용으로서 적절하지 못한 것은? [3 점]



사회탐구영역

경제

3

- ① 물건의 가격은 희소성에 따라 달라진다.
- ② 독점 사업자는 가격을 조절할 수가 있다.
- ③ 시냇물과 생수는 재화의 성격이 서로 다르다.
- ④ 가격을 올리는 것은 가격 결정의 원리에 어긋난다.
- ⑤ 공급자 간의 경쟁은 소비자에게 유리하게 작용한다.

다음은 생산 활동에 투입된 여러 가지 생산 요소 중에서 노동의 비중을 나타낸 표이다. 이에 대한 분석으로 적절한 것을 <보기>에서 모두 고른 것은? [3 점]

----- (단위 : %) -----

구분	광업	제조업	건설업	통신업
1997년	69.1	52.1	70.7	38.1
1998년	67.7	45.7	75.8	37.0
1999년	61.4	41.7	72.3	39.9
2000년	65.0	47.4	84.9	18.9

<보기>

- ㄱ. 광업과 건설업은 노동의 비중이 상대적으로 크다.
- ㄴ. '어떻게 생산할 것인가' 라는 경제 문제와 관계 깊다.
- ㄷ. 제조업 분야에서는 노동보다 자본의 중요성이 커지고 있다.
- ㄹ. 통신업에 종사하는 근로자들의 소득은 최근에 대폭 감소하였다.

- ① ㄱ, ㄴ ----- ② ㄱ, ㄷ ----- ③ ㄴ, ㄷ
- ④ ㄴ, ㄹ ----- ⑤ ㄷ, ㄹ

제시된 사례들과 관련된 경제 활동의 종류가 바르게 연결된 것은?

- (가) 회사원 김○○ 씨는 주 5일 근무제 실시에 즈음하여 여가를 활용하기 위한 등산 용품을 홈쇼핑으로 구입하였다.
- (나) □□□ 산업은 산소캔, 산소 발생기와 함께 산소방을 만들어 국내 처음으로 여러 곳에 체인점을 개설하였다.

- | | | | | |
|------|-----|-------|------|-----|
| (가) | (나) | ----- | (가) | (나) |
| ① 생산 | 분배 | ----- | ② 소비 | 생산 |
| ③ 분배 | 소비 | ----- | ④ 분배 | 생산 |
| ⑤ 소비 | 분배 | | | |

다음의 대화에서 허풍선의 주장을 논리적으로 가장 잘 나타낸 것은?

구두쇠 : 저축은 미덕이야. 국민들의 저축을 많이 하면 경제 성장을 위한 투자 재원을 마련할 수 있어. 즉, 저축은 경제 성장의 원동력이 되는 거지.

허풍선 : 무슨 소리야, 돈이란 쓰라고 있는 거야. 모두가 저축만 하게 되면 소비가 위축되어 결국은 경기가 침체되고 말거야.

- ① 저축 증가 → 투자 증대 → 생산과 고용 증대
- ② 저축 증가 → 수요 감소 → 생산과 고용 감소

- ③ 저축 증가 → 투자 증대 → 생산과 고용 감소
- ④ 저축 증가 → 수요 감소 → 투자 증대 → 생산 감소
- ⑤ 저축 증가 → 투자 감소 → 수요 감소 → 고용 감소

다음 내용으로부터 도출한 결론으로 가장 타당한 것은? [3 점]

미국에서는 1920년 '미국 본토와 미국 재판권이 미치는 모든 지역에서 주류의 제조, 판매, 운반이 금지된다'는 내용의 금주법(禁酒法)이 시행되었는데, 다음과 같은 문제들이 발생하였다.

첫째, 술을 밀조·밀매하는 갱조식이 등장하였고, 외국으로부터 불법 반입되는 술들이 여전히 지하에서 거래되었다.

둘째, 술 공급 감소로 술값이 폭등하였으며, 소비자들은 술이나 술집에 대한 정보를 구하기가 어려워졌다.

셋째, 저질 술들이 많아져 술을 마시고 목숨을 잃거나 눈이 멀게 되는 사례도 종종 발생하였다.

- ① 시장의 경제 활동과 국가의 법과 제도는 상호 독립적이다.
- ② 공급자들 간의 자유 경쟁은 기술 발전에 불리하게 작용한다.
- ③ 정부의 적절하지 않은 개입은 자원 배분의 효율성을 저하시킨다.
- ④ 본능적인 욕구의 충족을 억제하는 모든 법률은 폐지되어야 한다.
- ⑤ 정부의 정책과 법률은 시장의 경쟁 질서를 유지하는 기능을 한다.

다음 자료에 나타나 있지 않은 경제적 의사 결정의 과정은? [3 점]

수신인	두껍@★★★.com	주소록	
제 목	머하냐?두껍아?		
<p>머하냐 두껍아?</p> <p>내가 얼마나 디카를 갖고 싶어했는지 알지? 근데 드려 디카를 샀단다 ㅎㅎㅎ...</p> <p>이걸 사려고 돈 모으느라 몇 달이나 고생한걸 생각하면.. 어휴 %\$#@! 근데 인터넷 뒤져보니 엄청 많은데 그 중에서 제일 좋은 게 △△의 RE512 더라구. 그래서 두말없이 지갑 다 털어 샀지. 널 보여주께. 그럼 학교에서 보자. Bye2...</p> <p style="text-align: right;">-----울챙이가</p>			
첨 부		삭 제	보 내 기

* 디카 : 디지털카메라

- ① 여러 대안들을 탐색한다.
- ② 대안을 결정하고 선택한다.
- ③ 문제와 관련된 정보를 수집한다.
- ④ 선택한 결과를 반성적으로 검토한다.

사회탐구영역

경제

4

⑤ 결정해야 할 문제가 무엇인지 분명히 한다.

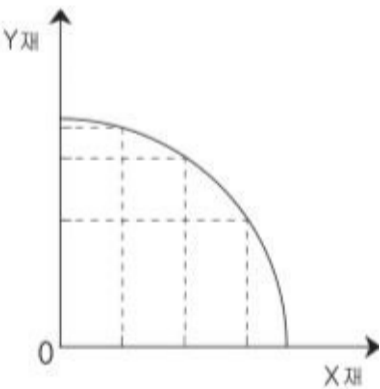
다음 내용을 참고하여 국내총생산(GDP)에 포함되는 것을 <보기>에서 모두 고른 것은?

국내총생산(GDP)은 한 나라의 영역 내에서 모든 경제 주체가 일정 기간에 새롭게 생산한 재화와 용역을 시장 가격으로 표시하여 집계한 것이다.

- <보기>
- ㄱ. 레저용으로 사들인 중고차 구입비
 - ㄴ. 밀수입한 총기를 몰래 팔아서 벌은 소득
 - ㄷ. 집 앞마당에서 가꾸어 시장에 내다 팔고 받은 채소값
 - ㄹ. 우리나라 프로 축구팀 소속의 브라질 선수가 받은 연봉
 - ㅁ. 우리나라 골프 선수가 외국의 여러 골프 경기에 참가하고 받은 상금


- ① ㄱ, ㄴ ----- ② ㄴ, ㄷ ----- ③ ㄷ, ㄹ
 ④ ㄱ, ㄴ, ㄹ ----- ⑤ ㄷ, ㄹ, ㅁ

그래프는 X재와 Y재의 두 가지 재화만을 생산하는 기업이 최대로 생산 가능한 산출물의 조합을 나타낸 곡선이다. X재의 생산을 증가시켜 갈 경우에 그에 대한 기회 비용은 어떻게 변화하는가? [3 점]



- ① 변화가 없다.
- ② 점점 증가한다.
- ③ 점점 감소한다.
- ④ 감소하다가 증가한다.
- ⑤ 증가하다가 감소한다.

다음 자료에 나타난 추세가 경제에 미치는 영향을 잘못 추론한 것은? [3 점]




- ① 해외 여행 경비 부담이 줄어들 것이다.
- ② 미국으로의 상품 수출이 감소할 것이다.

- ③ 우리 나라의 외채 상환 부담이 줄어들 것이다.
- ④ 경상 수지 악화로 외환 보유고가 감소할 것이다.
- ⑤ 한국에 유학 온 미국 학생의 학비 부담이 줄어들 것이다.

다음은 ○○ 공화국의 헌법 조항이다.

- 우리 ○○ 공화국은 정부와 국가 기관의 주도 하에 모든 경제 활동을 진행한다.
- 우리 ○○ 공화국에서의 모든 생산 수단은 국가와 사회협동 단체가 소유한다.

이를 토대로 ○○ 공화국의 경제 체제에 해당하는 것을 아래 그림에서 고른 것은?



- ① 가 ----- ② 나 ----- ③ 다
- ④ 라 ----- ⑤ 해당 사항 없음

다음 내용을 토대로 <보기>에서 'A의 증가(또는 상승) → B의 감소(또는 하락)'라는 관계가 성립하는 것을 모두 고른 것은? [3 점]

- 물가가 오르면 화폐의 구매력은 낮아진다.
- 명절이나 선거 때에 돈이 풀리게 되면 물가가 오르게 된다.
- 인플레이션이 발생하면 금융 자산의 가치는 떨어지고 실물 자산의 가치는 오르게 된다.

- <보기>
- ㄱ. 통화량 → 화폐 가치 ㄴ. 통화량 → 실물 자산 가치
 - ㄷ. 물가 지수 → 저축률 ㄹ. 통화량 → 물가 지수

- ① ㄱ, ㄴ ----- ② ㄱ, ㄷ ----- ③ ㄴ, ㄷ
 ④ ㄴ, ㄹ ----- ⑤ ㄷ, ㄹ

사회탐구영역

경제

5

※ 확인사항

○ 문제지와 답안지의 해당란을 정확히 기입(표기)했는지 확인하십시오.