

[10~13] 다음 글을 읽고 물음에 답하시오.

진주 장터 생어물전에는
바다 밑이 깔리는 해 다 진 어스름을,

울 엄마의 장사 끝에 남은 고기 몇 마리의
빛 발(發)하는 눈깔들이 속절없이
은전(銀錢)만큼 손 안 닿는 한(恨)이던가
울 엄마야 울 엄마.

별발은 또 그리 멀리
우리 오누이의 머리 맞댄 골방 안 되어
손 시리게 떨던가 손 시리게 떨던가.

진주 남강 맑다 해도
오명 가명
신새벽이나 밤빛에 보는 것을,
울 엄마의 마음은 어떠했을까,
달빛 받은 용기전의 용기들같이
말없이 글썽이고 반짝이던 것인가.

- 박재삼, 「추억에서」 -

10. 윗글의 표현상 특징으로 적절하지 않은 것은?

- ① 방언을 사용하고 있다.
- ② '-니가'를 반복하고 있다.
- ③ 시각적 이미지가 드러나고 있다.
- ④ 경어체의 어조가 나타나고 있다.

11. 윗글을 읽고 **울 엄마의 마음**을 가장 잘 이해한 것은?

- ① 유쾌하고 즐거운 마음
- ② 슬프고 한이 서린 마음
- ③ 놀랍고 대견스러운 마음
- ④ 가슴 뿌듯하고 기쁜 마음

12. 윗글에 대한 감상으로 가장 적절한 것은?

- ① 화자는 지난날을 되돌아보고 있군.
- ② 자연이 파괴되는 현실을 개탄하고 있군.
- ③ 인물 간의 첨예한 대립이 나타나고 있군.
- ④ 화자의 현실 극복 의지가 드러나고 있군.

13. 윗글의 내용을 바탕으로 연극을 준비할 때 적절하지 않은 것은?

- ① 등장인물은 어머니, 아들, 딸로 한다.
- ② 시간적 배경은 새벽부터 늦은 밤까지로 설정한다.
- ③ 공간적 배경은 공원, 큰 마루, 저수지를 설정한다.
- ④ 무대 소품으로는 좌판, 생선, 용기 등을 준비한다.

[14~16] 다음 글을 읽고 물음에 답하시오.

“웬걸요, 시원스리 말은 안 해 주나, 봉평이라는 것만은 들었죠.”
“봉평? 그래 그 아비 성은 무엇이구?”
“알 수 있나요? 도무지 듣지를 못했으니까.”
“그, 그렇겠지.”
하고 중얼거리며 흐려지는 눈을 까물까물하다가 허 생원은 경망하게도 발을 빗디디었다. 앞으로 고꾸라지기가 바쁘게 몸째 풍덩 빠져 버렸다. 허비적거릴수록 몸을 건잡을 수 없어, 동이가 소리를 치며 가까이 왔을 때에는 벌써 꺾으나 흘렀었다. 옷째 꼴짝 젖으니 물에 젖은 개보다도 참혹한 꼴이었다. 동이는 물속에서 어른을 해깝게 업을 수 있었다. 젖었다고는 하여도 여윈 몸이라 장정 등에는 오히려 가벼웠다.
“이렇게까지 해서 안됐네. 내 오늘은 정신이 빠진 모양이야.”
“염려하실 것 없어요.”
“그래, 모친은 아버지를 찾지는 않는 눈치지?”
“늘 한번 만나고 싶다고는 하는데요.”
“지금 어디 계신가?”
“의부와도 갈라져 제천에 있죠. 가을에는 봉평에 모셔 오려고 생각 중인데요. 이를 물고 벌면 이력저력 살아 갈 수 있겠죠.”
[A] “아무렴, 기특한 생각이야. 가을이랬다?”
동이의 탐탁한 등허리가 뼈에 사무쳐 따뜻하다. 물을 다 건넌을 때에는 도리어 서글픈 생각에 좀 더 업혔으면도 하였다.
“진종일 실수만 하니 웬일이오, 생원?”
조 선달은 바라보며 기어코 웃음이 터졌다.
“나귀야. 나귀 생각하다 실족을 했어. 말 안 했던가? 저 꼴에 제법 새끼를 얻었던 말이지. 읍내 강릉집 피마에게 말일세. 귀를 좃곳 세우고 달랑달랑 뛰는 것이 나귀 새끼 같이 귀여운 것이 있을까? 그것 보러 나는 일부러 읍내를 도는 때가 있다네.”
“사람을 물에 빠치울 쟈 탄은 대단한 나귀 새끼군.”
허 생원은 젖은 옷을 웬만큼 짜서 입었다. 이가 덜덜 갈리고 가슴이 떨리며 몹시도 추웠으나, 마음은 알 수 없이 둥실둥실 가벼웠다.

- 이효석, 「메밀꽃 필 무렵」 -

14. 윗글에 대한 설명으로 가장 적절한 것은?

- ① 배경이 빠르게 바뀌고 있다.
- ② 역사적 사실을 전달하고 있다.
- ③ 인물의 대화에 사회 풍자가 나타난다.
- ④ 서술자가 주인공의 심리를 말해주고 있다.

15. 윗글에 대한 감상으로 적절하지 않은 것은?

- ① 동이는 아버지의 성을 모르는군.
- ② 동이는 물에 빠진 허 생원을 외면했군.
- ③ 허 생원은 나귀 생각에 실족했다고 말했다.
- ④ 조 선달은 허 생원을 바라보며 웃음이 터졌군.

16. [A]를 시나리오로 옮길 때, ㉠에 들어갈 지문으로 가장 적절한 것은?

S# 72
동이: (어머니를 생각하며, 웃으며) 의부와도 갈라져 제천에 있죠. 가을에는 봉평에 모셔 오려고 생각 중인데요. 이를 물고 벌면 이력저력 살아갈 수 있겠죠.
허 생원: (자신을 업은 동이를 물끄러미 바라보며) 아무렴, 기특한 생각이야. 가을이랬다? (따뜻한 체온을 느끼며 동이의 어깨에 얼굴을 기대다.)
 물을 다 건넌 허 생원과 동이.
 허 생원은 동이의 등에서 내려온다.
허 생원: (㉠) 고맙네. 자네 동이 참 따뜻했네.

- ① 동이를 향해 돌맹이를 던지며
- ② 차가운 표정으로 동이를 노려보며
- ③ 화가 난 듯이 나귀 등짝을 때리며
- ④ 좀 더 업히고 싶은 표정을 지으며

[17~19] 다음 글을 읽고 물음에 답하십시오.

승상이 자세히 보니 과연 낮이 익은 듯하거늘 홀연 깨쳐 능과 낭자를 돌아보며 왈,
 “소유가 전일 토번을 정벌할 제 꿈에 동정 용궁에 가 잔치 하고 돌아오는 길에 남악에 가 놀았는데, 한 화상이 법좌에 앉아서 경을 강론하더니 노부가 그 화상이냐?”
 호승이 박장대소하고 가로되,
 “옳다, 옳다. 비록 옳으나 몽중에 잠깐 만나 본 일은 생각하고 십 년을 동처하던 일을 알지 못하니 뉘 양 장원을 총명타 하더뇨?”
 승상이 망연하여 가로되,
 “소유가 십오륙 세 전은 부모 좌하를 떠나지 않았고 십육 세에 급제하여 연하여 직명이 있었으니, 동으로 연국에 봉사하고 서로 토번을 정벌한 밝은 일찍 경사를 떠나지 않았으니 언제 사부로 더불어 십 년을 상종하였으리오?”
 호승이 웃어 왈,
 “상공이 오히려 춘몽을 깨지 못하였도소이다.”
 승상 왈,
 “사부가 어찌하면 소유로 하여금 ㉠ 춘몽을 깨게 하리오?”
 호승 왈,
 “이는 어렵지 아니하니이다.”
 하고, 손 가운데 석장을 들어 석난간을 두어 번 두드리니 홀연 네 녀 산골로부터 구름이 일어나 대 위에 끼이어 지척을 분변치 못하니, 승상이 정신이 아득하여 마치 취몽 중에 있는 듯하더니 오래되어서야 소리 질러 가로되,
 “사부가 어이 정도로 소유를 인도치 아니하고 환술로 서로 희롱하느뇨?”
 말을 떨구지 못하여서 구름이 걷히니 호승이 간 곳이 없고 좌우를 돌아보니 여덟 낭자가 또한 간 곳이 없는 지라. 정히 경황하여 하더니, 그런 높은 대와 많은 집이

[A]

일시에 없어지고 제 몸이 한 작은 암자 중의 한 포단 위에 앉았으며, 향로에 불이 이미 사라지고, 지는 달이 창에 이미 비치었더라.

스스로 제 몸을 보니 일백여덟 날 염주가 손목에 걸렸고 머리를 만지니 갓 깎은 머리털이 가칠가칠하였으니, 완전히 소화상의 몸이요 다시 대승상의 위의 아니니, 정신이 황홀하여 오랜 후에 비로소 제 몸이 연화 도량 성진 행자인 줄 알고 생각하니, 처음에 스승에게 수책하여 풍도*로 가고 인세에 환도*하여 양가의 아들 되어 장원 급제 한림학사 하고 출장입상*하여 공명신퇴*하고 두 공주와 여섯 낭자로 더불어 즐기던 것이 다 하룻밤 꿈이라. 마음에,
 ‘이 필연 사부가 나의 염려를 그릇함을 알고 나로 하여금 이 꿈을 꾸어 인간 부귀와 남녀 정욕이 다 허사인 줄 알게 함 이로다.’

* 풍도(豐都): 지옥.
 * 환도(還道): 중생이 윤회하는 여섯 가지 길을 ‘육도(六道)’라 하는데, 그 가운데 하나로 다시 태어남.
 * 출장입상(出將入相): 나가서는 장수가 되고 들어와서는 재상이 됨.
 * 공명신퇴(功名身退): 공명을 이루고 물러남.

- 김만중, 『구운몽(九雲夢)』 -

17. 윗글의 내용 중 의미하는 바가 다른 하나는?

- ① 장원 급제한 일
- ② 토번을 정벌한 일
- ③ 여덟 낭자와 함께 산 일
- ④ 연화 도량의 행자로 지낸 일

18. [A]에 나타난 고전 소설의 특징으로 적절한 것은?

- ① 사물을 의인화한다.
- ② 장면의 전환이 없다.
- ③ 갈등을 해학적으로 표현한다.
- ④ 비현실적으로 사건을 전개한다.

19. 다음의 ㉠에 주목할 때 ㉡에 대한 설명으로 가장 적절한 것은?

이 작품에서 ‘성진’은 세속적인 부귀공명을 누리는 삶에 미련을 가지고 있었다. 그러던 중 꿈속에서 ‘소유’로 태어나 세속적인 삶을 다양하게 경험하게 된다. 여기에서 꿈은 세속적인 가치가 헛되다는 ㉠ 작가의 의도를 드러내는 중요한 기능을 한다. 꿈에서 깬 ‘성진’은 ‘육관대사’의 가르침으로 불도를 깨닫고 팔선녀와 함께 극락세계로 가게 된다.

- ① 인생의 덧없음을 깨닫게 한다.
- ② 부귀공명의 중요성을 인식하게 한다.
- ③ 지조와 절개의 필요성을 느끼게 한다.
- ④ 형제간 우애의 소중함을 확인하게 한다.

[20~22] 다음 글을 읽고 물음에 답하시오.

신문 기사는 표제, 기사 내용, 사진을 '3원색'으로 삼아 현실을 그려 내는 그림이다. 그러나 신문 기사가 그림인 까닭은 단순히 지면의 미적 구성이라는 좁은 의미에 그치지 않는다. 모든 그림이 단순한 현실 복사가 아니듯 신문 기사라는 그림 또한 현실을 그대로 복사하는 것이 아니다. 신문 기사는 수많은 삶의 현실 가운데 어느 것을 기사화할지 선택하고 결정하는 과정을 거쳐 인쇄된다. 따라서 신문 기사는 모두 객관적이라는 **고정관념**부터 깰 필요가 있다. 기삿거리를 선택하고 결정하는 것은 가치 판단을 의미하며, 가치 판단에는 어쩔 수 없이 주관이 들어가기 때문이다.

신문에 실린 기사는 최소한 취재 기자, 취재부장, 편집 기자, 편집부장, 편집국장이라는 다섯 사람의 눈과 손을 거쳐 '선택 받은 사건'들이다. 이러한 공동 작업 과정을 통해 인쇄되기에, 독자가 받아 보는 신문의 각 기사에는 여러 단계에 걸쳐 각각 그들의 시각과 보도 관행, 심지어 현실을 인식하는 관점이 녹아들 수밖에 없다. 아무리 사실주의적 미술 작품이라 해도 그림에 화가의 관점이나 숨결이 담겨 현실과 꼭 같을 수 없는 이치와 같다. 신문 읽기를 넘어 신문 편집을 보아야 할 이유가 여기에 있다.

20. 윗글의 서술상 특징에 대한 설명으로 가장 적절한 것은?

- ① 시간 순서에 따라 자신의 여정을 기록했다.
- ② 중심 소재를 다른 대상에 비유하여 표현했다.
- ③ 정보를 제공하기 위해 연구 방법을 설명했다.
- ④ 신뢰성을 높이기 위해 설문 결과를 제시했다.

21. 윗글의 **고정관념**을 깬 것으로 볼 수 있는 사람은?

- ① 신문 기사의 가치중립성을 신뢰하는 사람
- ② 신문 기사에 실린 내용을 여과 없이 수용하는 사람
- ③ 신문 기사에서 중요하게 다루는 사실만 신뢰하는 사람
- ④ 신문 기사를 비판적으로 바라보고 주체적으로 수용하는 사람

22. 윗글을 참고하며 다음 기사를 읽었을 때 가장 적절한 반응은?

춤, 자존감 향상에 효과 탁월
 긍정적 경험 제공해 자립심에도 도움

건강 관리 연구진이 청소년 120명을 대상으로 연구한 결과, 춤 수업을 받은 청소년이 그렇지 않은 청소년에 비해 자존감이 크게 향상되었다. 춤 수업에 참여한 청소년들은 자신이 긍정적인 경험을 했다고 평가했으며, 덕분에 자립심도 커졌다고 말했다.

- ① 표제는 현실을 그대로 복사한 것이겠군.
- ② 부제는 취재 기자 한 명의 손만 거쳤겠군.
- ③ 이 기삿거리의 선택도 가치 판단의 결과이겠군.
- ④ 이 내용이 기사화 될 때 편집자의 의도는 배제되었겠군.

[23~25] 다음 글을 읽고 물음에 답하시오.

몇 년 전 미국의 주간지 『타임』에서는 올해 최고의 발명품 중 하나로 '스티키봇(Stickybot)'을 선정했다. 이 로봇 기술의 핵심은 한 방향으로 힘을 가하면 잘 ㉠ 붙어 떨어지지 않지만 다른 방향에서 잡아당기면 쉽게 떨어지는 방향성 접착성 화합물의 구조를 가진 미세한 섬유 조직으로, 도마뱀의 발바닥에서 ㉡ 착안한 것이다.

스티키봇처럼 살아 있는 생물의 행동이나 구조를 모방하거나 생물이 만들어내는 물질 등을 모방함으로써 새로운 기술을 만들어 내는 학문을 생체 모방 공학(biomimetics)이라고 한다. 이는 '생체(bio)'와 '모방(mimetics)'이란 단어의 합성어이다. 그 어원에서 알 수 있듯이 생체 모방 공학은 자연에 대한 체계적이고 조직적인 모방이다.

칼과 화살촉 같은 사냥 도구가 육식 동물의 날카로운 발톱을 모방해 만든 것이라고 한다면 생체 모방의 역사는 인류의 탄생과 함께 시작되었다고 ㉢ 하는 과언이 아니다. 이렇듯 인간의 모방은 인류 문명의 발전에 기여해 왔고, 이는 앞으로도 계속될 것이다. ㉣ 그러므로 우리는 일상 생활 속에서 '철조망이 장미의 가시를 모방한 것은 아닐까?', '(㉤)' 하는 의문을 가져 보기도 하고, 또 이를 통해 다른 생명체를 모방할 수 있는 방법을 생각해 보기도 하는 태도를 기를 필요가 있다.

23. 윗글을 통해 알 수 있는 것으로 적절하지 않은 것은?

- ① 스티키봇의 핵심 기술
- ② 생체 모방 공학의 개념
- ③ 육식 동물과 초식 동물의 차이
- ④ 도마뱀의 발바닥을 모방한 로봇

24. ㉤에 들어갈 수 있는 질문으로 가장 적절한 것은?

- ① 사다리는 의자의 다리를 모방한 것은 아닐까?
- ② 갑옷은 갑각류의 딱딱한 외피를 모방한 것은 아닐까?
- ③ 배의 모터는 자동차의 튼튼한 엔진을 모방한 것은 아닐까?
- ④ 아파트의 거실은 한옥의 넓은 마루를 모방한 것은 아닐까?

25. 윗글을 고쳐 쓰기 위한 방안으로 적절한 것은?

- ① ㉠은 잘못된 표기이므로 '붙혀'로 수정한다.
- ② ㉡은 부적절한 어휘이므로 '착각'으로 수정한다.
- ③ ㉢은 문장의 호응을 고려하여 '해도'로 수정한다.
- ④ ㉣은 이어질 내용을 고려하여 '그렇지만'으로 수정한다.

[1~3] 밑줄 친 부분의 뜻으로 가장 적절한 것을 고르시오.

1. Thank you for your contribution to the success of the project.

- ① 청중 ② 나이 ③ 여행 ④ 공헌

2. It is hard to pay attention to the lecture if you are tired.

- ① 배달하다 ② 수리하다
③ 집중하다 ④ 요청하다


3. A: Excuse me, how do I get to the Young Theater?
B: Take the subway line 5 and get off at Jupiter Station.

- ① 내리다 ② 미루다 ③ 기다리다 ④ 치료하다

4. 두 단어의 의미 관계가 나머지 셋과 다른 것은?

- ① safe – dangerous ② quiet – silent
③ soft – hard ④ old – new

5. 다음 광고문에서 언급되지 않은 것은?



Latin Dance

Do you enjoy dancing?
You can join an exciting Latin dance class.

- When : October 27th, 10:00 a.m.
- Where : School Auditorium
- How to join : Register at www.xxx.org

- ① 일시 ② 장소 ③ 수강료 ④ 신청 방법

[6~8] 빈칸에 공통으로 들어갈 말로 가장 적절한 것을 고르시오.

6. Her accent tells me _____ she is from.
This is the hotel _____ we stayed last summer.

- ① where ② which ③ when ④ who

7. I could hear the _____ of laughter.
That doesn't _____ good. I don't like that idea.

- ① see ② sleep ③ sound ④ speech

8. I have no idea how to deal _____ the problem.
We are asked to come up _____ some new ideas.

- ① with ② to ③ on ④ by

9. 밑줄 친 표현의 의미로 가장 적절한 것은?

A: Mom, I don't want to eat vegetables.
B: Eating vegetables is good for your health.
A: But vegetables are not delicious.
B: Come on, a good medicine tastes bitter.

- ① 시작이 반이다.
② 몸에 좋은 약은 입에 쓰다.
③ 돌다리도 두들겨 보고 건너라.
④ 낮말은 새가 듣고 밤말은 쥐가 듣는다.

10. 대화에서 알 수 있는 B의 심정으로 가장 적절한 것은?

A: You don't look well. What's wrong?
B: I don't feel good because I didn't win the prize at the drawing contest.
A: It's okay. You can win the prize next time.
B: Well, but I am still very disappointed.

- ① 기쁘다 ② 만족하다 ③ 실망하다 ④ 자랑스럽다

11. 대화가 이루어지는 장소로 가장 적절한 것은?

A: Can I take these two books home?
B: Okay, are you a student here?
A: Yes.
B: Then show me your student ID card.
A: Here it is.
B: There you go. Please return the books in one week.

- ① 도서관 ② 동물원 ③ 수영장 ④ 옷 가게

[12~13] 대화의 빈칸에 들어갈 말로 가장 적절한 것을 고르시오.

12. A: _____ ?
B: It takes 10 minutes by bus from here.

- ① What do you do for a living
② Who do you think is the smartest
③ How much do you pay for your cooking lessons
④ How long does it take to get to the art gallery

13. A: Where would you like to go for your vacation?
B: _____.

- ① I can go next week
② I usually take the train
③ I would like to go to Jeju Island
④ I ate some pizza for lunch

14. 밑줄 친 It(it)이 가리키는 것으로 가장 적절한 것은?

It is a traditional Korean board game. To play it, you need four sticks of about 15cm in length, marks called *mal*, and a board called *mal-pan*. You throw the four sticks to the specified area on the floor.

- ① 널뛰기 ② 율놀이 ③ 연날리기 ④ 제기차기

15. 주어진 말에 이어질 두 사람의 대화를 <보기>에서 찾아 순서대로 가장 적절하게 배열한 것은?

I'm interested in Korean history. Which place do you recommend?

<보기>

(A) No, it's closed every Monday.
 (B) I recommend Hanguk History Museum.
 (C) That's a good idea. Is it open on Mondays?

- ① (A) - (C) - (B) ② (B) - (C) - (A)
 ③ (C) - (A) - (B) ④ (C) - (B) - (A)

16. 다음 청소기에 관한 설명서에서 언급되지 않은 것은?

○ Read the manual carefully before using the machine.
 ○ Charge the machine before using it.
 ○ Do not let children use the machine.

- ① 사용 전에 설명서를 주의 깊게 읽을 것
 ② 사용 전에 충전할 것
 ③ 아이들이 사용하지 않도록 할 것
 ④ 물에 닿지 않도록 주의할 것

17. 다음 글을 쓴 목적으로 가장 적절한 것은?

Dear Son,
 I know you have worked so hard for the last three years. I am very proud of you. Congratulations on your graduation! I hope you have a wonderful day and enjoy the celebration of your graduation with your friends.
 Love,
 Dad

- ① 동의하기 ② 축하하기 ③ 위로하기 ④ 사과하기

18. Wangari Maathai에 관한 다음 글에서 언급되지 않은 것은?

Wangari Maathai was an environmentalist in Kenya. She also fought for women's rights, democracy, and peace. In 2004, she received the Nobel Peace Prize.

- ① 케냐의 환경 운동가였다.
 ② 여성의 권리, 민주주의, 평화를 위해 싸웠다.
 ③ 2004년에 노벨 평화상을 받았다.
 ④ 화장품 공장에서 일을 했다.

19. 다음 글의 주제로 가장 적절한 것은?

Here are some useful tips for people who easily forget what they have to do. First, write a list of what you have to do. Second, post it on your notice board. Third, follow the items on your list.

- ① 여가를 즐기는 방법
 ② 효과적인 독서 기술
 ③ 창의적인 글쓰기를 위한 전략
 ④ 할 일을 잊지 않기 위한 유용한 방법

[20~21] 다음 글의 빈칸에 들어갈 말로 가장 적절한 것을 고르시오.

20.

Mina was driving home yesterday. Suddenly, a police officer stopped the car. She got a ticket* from the police officer for not wearing her seat belt. To wear a seat belt is _____ by law, but she forgot to wear it.

* ticket: 교통 위반 딱지

- ① skipped ② ignored ③ required ④ discouraged

21.

Do you want to be a wise consumer? If so, before you _____ a new product, think one more time whether you really need it. In other words, you should think carefully before you purchase a new item.

- ① buy ② seem ③ cure ④ protect

22. 다음 글의 바로 뒤에 이어질 내용으로 가장 적절한 것은?

A recent study showed that humor is useful in relieving tension between people. That is because humor decreases anxiety. Here are some cases of how humor eased tension between people.

- ① 정기적인 건강 검진의 중요성
 ② 약물 오·남용으로 인한 부작용
 ③ 스트레스가 유발하는 질병의 사례
 ④ 유머가 사람들 간의 긴장을 완화시킨 사례

23. 다음 문장이 들어가기에 가장 적절한 곳은?

Second, in the afternoon, I cleaned the house.

Yesterday was my mother's birthday. (①) I did the following three things for my mother yesterday. (②) First, in the morning, I prepared breakfast for her. (③) Finally, I bought her a birthday cake in the evening. (④)

[24~25] 다음 글을 읽고 물음에 답하십시오.

Be a member of our soccer club, and you will get the following benefits. If you participate in the morning practice, your body will be healthier. _____, playing soccer can strengthen your concentration.

24. 윗글의 빈칸에 들어갈 말로 가장 적절한 것은?

- ① In addition ② Sadly
 ③ However ④ Unfortunately

25. 윗글의 주제로 가장 적절한 것은?

- ① 축구 경기 규칙 ② 축구 클럽 가입의 이점
 ③ 집중력 저하의 요인 ④ 규칙적인 식사의 중요성

1. 두 다항식 $A=4x^2+3$, $B=x^2+2$ 에 대하여 $A-B$ 는?

- ① $3x^2+1$ ② $3x^2+5$ ③ $5x^2+1$ ④ $5x^2+5$

2. 다항식 x^2-x+5 를 $x-2$ 로 나누었을 때, 나머지는?

- ① 3 ② 5 ③ 7 ④ 9

3. $2i(1+i) = -2+ai$ 일 때, 실수 a 의 값은?

(단, $i = \sqrt{-1}$)

- ① -1 ② 0 ③ 1 ④ 2

4. 두 집합 $A = \{2, 5, a+1\}$, $B = \{2, a-1, 7\}$ 에 대하여 $A=B$ 일 때, 상수 a 의 값은?

- ① 3 ② 4 ③ 5 ④ 6

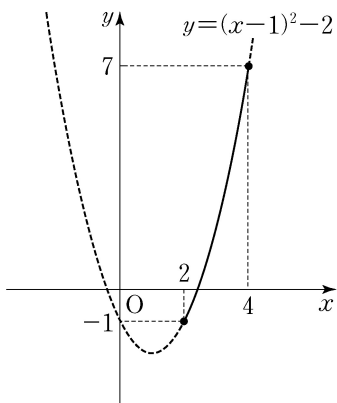
5. 다음 중 명제가 아닌 것은?

- ① $x-2 < 6$
 ② 8은 짝수이다.
 ③ 9는 3의 배수이다.
 ④ $x=1$ 이면 $x+3 > 2$ 이다.

6. 삼차방정식 $2x^3-5x+a=0$ 의 한 근이 1일 때, 상수 a 의 값은?

- ① 2 ② 3 ③ 4 ④ 5

7. $2 \leq x \leq 4$ 일 때, 이차함수 $y=(x-1)^2-2$ 의 최댓값과 최솟값의 합은?

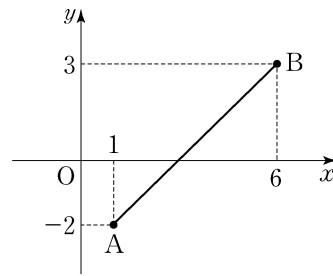


- ① 2
 ② 4
 ③ 6
 ④ 8

8. 직선 $2x-y=0$ 과 수직으로 만나는 직선의 방정식은?

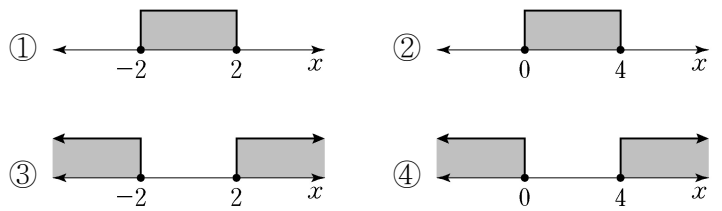
- ① $y = -2x$ ② $y = -\frac{1}{2}x$
 ③ $y = \frac{1}{2}x$ ④ $y = x$

9. 좌표평면 위의 두 점 $A(1, -2)$, $B(6, 3)$ 에 대하여 선분 AB 를 2:3으로 내분하는 점의 좌표는?

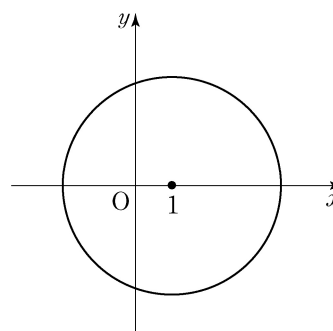


- ① (2, -1)
 ② (3, 0)
 ③ (4, 1)
 ④ (5, 2)

10. 부등식 $|x| \leq 2$ 의 해를 수직선 위에 나타낸 것은?



11. 원 $x^2+y^2-2x-8=0$ 의 반지름의 길이는?

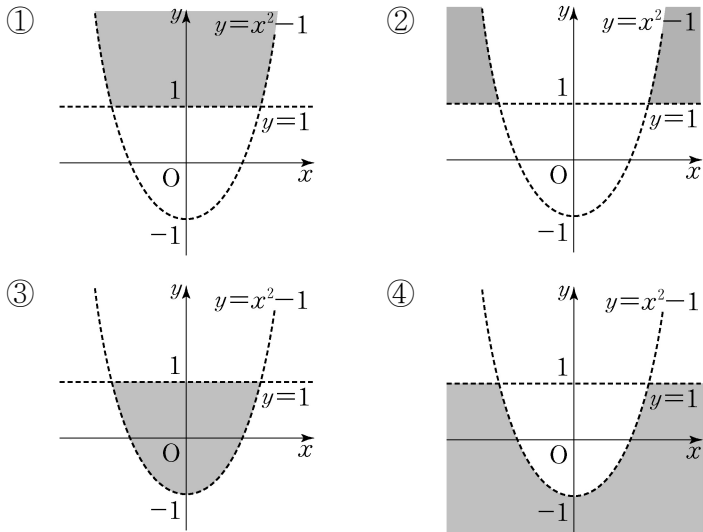


- ① 1
 ② 2
 ③ 3
 ④ 4

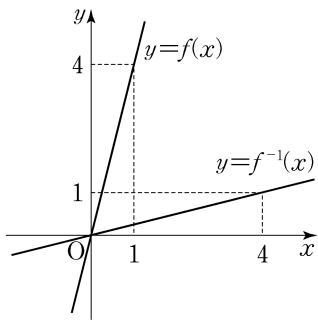
12. 좌표평면 위의 점 $(5, -4)$ 를 원점에 대하여 대칭이동한 점의 좌표는?

- ① (5, 4) ② (-4, 5)
 ③ (-5, -4) ④ (-5, 4)

13. 연립부등식 $\begin{cases} y > x^2 - 1 \\ y < 1 \end{cases}$ 의 영역을 좌표평면 위에 나타낸 것은? (단, 경계선은 제외)

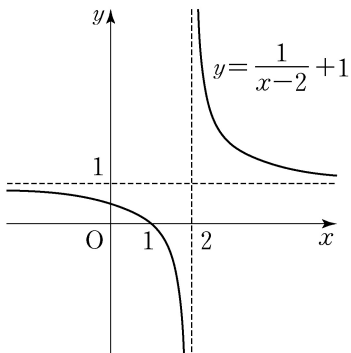


14. 함수 $y = f(x)$ 와 그 역함수 $y = f^{-1}(x)$ 의 그래프가 그림과 같을 때, $(f^{-1} \circ f)(1)$ 의 값은?



- ① 0
- ② 1
- ③ 2
- ④ 3

15. 유리함수 $y = \frac{1}{x}$ 의 그래프를 x 축의 방향으로 a 만큼, y 축의 방향으로 b 만큼 평행이동하면 $y = \frac{1}{x-2} + 1$ 의 그래프가 된다. $a+b$ 의 값은? (단, a, b 는 상수)



- ① -3
- ② -1
- ③ 1
- ④ 3

16. 다음은 첫째항이 2, 공차가 2인 등차수열이다.

$$2, 4, 6, \dots$$

이 수열의 제8 항은?

- ① 16
- ② 18
- ③ 20
- ④ 22

17. $\sum_{k=1}^5 (k+1)$ 의 값은?

- ① 5
- ② 10
- ③ 15
- ④ 20

18. $a_1 = 1, a_{n+1} = 3a_n (n = 1, 2, 3, \dots)$ 으로 정의된 수열 $\{a_n\}$ 에서 a_3 의 값은?

- ① 3
- ② 9
- ③ 27
- ④ 81

19. 다음 중 옳은 것은?

- ① $2^0 = 2$
- ② $(2^6)^{\frac{1}{2}} = 8$
- ③ $\left(\frac{1}{2}\right)^{-3} = -8$
- ④ $2^{\frac{1}{2}} \times 2^{\frac{3}{2}} = 2^{\frac{3}{4}}$

20. $\log_2 8 - \log_2 4$ 를 간단히 한 것은?

- ① -2
- ② -1
- ③ 1
- ④ 2

1. 갈등의 사례로 적절한 것은?

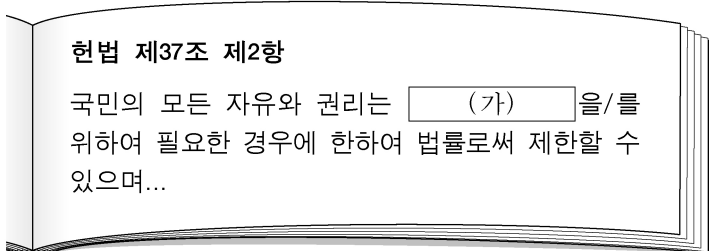
- ① 시험에서 1등 하기 위해 열심히 공부한다.
- ② 오케스트라 연주를 위해 팀원들과 연습 중이다.
- ③ 영토 소유권을 둘러싸고 두 나라가 분쟁 중이다.
- ④ 마을 가꾸기 운동으로 함께 벽화를 그리고 있다.

2. 다음과 같은 판단 유형에 해당하는 것은?

백두산은 지리산보다 해발고도가 높다.

- ① 유기견을 보호해야 한다.
- ② 워싱턴은 미국의 수도이다.
- ③ 세종대왕은 훌륭한 왕이다.
- ④ 불우 이웃을 돕는 것은 중요하다.

3. (가)에 들어갈 내용으로 적절하지 않은 것은?



- ① 공공복리
- ② 질서 유지
- ③ 국가 안전 보장
- ④ 사적 이익 추구

4. 다음 설명에 해당하는 사회 참여 방법은?

국민이 일정한 사항을 국가 기관에 문서로 작성하여 그 처리를 요구하는 것이다.

- ① 청원
- ② 공청회
- ③ 정당 가입
- ④ 집회 참여

5. 다음 정책의 공통적인 목적으로 적절한 것은?

○ 여성 고용 할당제 ○ 장애인 의무 고용제

- ① 지역 격차 해소
- ② 전통 문화 보존
- ③ 세대 갈등 해소
- ④ 사회적 약자 보호

6. 다음 설명에 공통적으로 해당하는 문화 이해 태도는?

○ 특정 문화를 기준으로 자기 문화를 평가한다.
○ 다른 문화가 자기 문화보다 우월하다고 본다.

- ① 문화 상대주의
- ② 문화 사대주의
- ③ 문화 제국주의
- ④ 자문화 중심주의

7. 밑줄 친 '이것'에 해당하는 것은?

이것은 보유하고 있는 자산을 얼마나 쉽게 현금으로 바꿀 수 있는가를 의미한다.

- ① 유동성
- ② 수익성
- ③ 안전성
- ④ 투기성

8. 다음 대화에 나타나 있는 권리는?

갑: 너희 회사에는 노동조합이 있니?
을: 아니. 이번에 회사 동료들과 노동조합을 만들 거야.

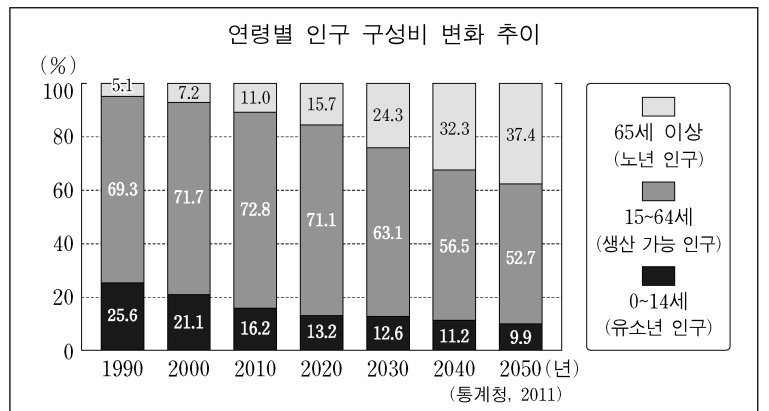
- ① 청구권
- ② 단결권
- ③ 환경권
- ④ 공무담임권

9. 다문화 사회의 갈등을 해결하기 위한 바람직한 방안으로 옳은 것을 <보기>에서 고른 것은?

<보기>
 가. 이주민이 자기 문화를 버리도록 강요한다.
 나. 학교와 지역 사회에서 다문화 교육을 강화한다.
 다. 서로 다른 문화 간의 소통과 관용의 자세를 가진다.
 리. 자기가 속한 문화 이외의 다른 문화는 배척한다.

- ① 가, 나
- ② 가, 리
- ③ 나, 다
- ④ 다, 리

10. 그래프에 대한 분석으로 적절하지 않은 것은?



- ① 유소년 인구 비율이 감소하고 있다.
- ② 2010년에 초고령 사회로 진입하였다.
- ③ 노년 인구 비율이 지속적으로 증가하고 있다.
- ④ 생산 가능 인구의 노인 부양 부담이 증가할 것이다.

11. 밑줄 친 '이것'으로 가장 적절한 것은?

이것은 유행에 따라 상품을 구매하는 현상으로 다른 사람의 소비 행동을 그대로 따라 하는 소비 행태이다.

- ① 베블렌 효과
- ② 스노브 효과
- ③ 하우스 푸어
- ④ 밴드왜건 효과

12. 다음 설명에 해당하는 것은?

상품이나 서비스를 먼저 받고 나중에 대금을 지불하는 수단으로, 충동구매와 과소비를 유발하여 채무 불이행자가 증가할 수 있다.

- ① 예금
- ② 현금
- ③ 주식
- ④ 신용카드

13. 환율(원/달러)이 상승할 경우 가장 유리한 사람은? (단, 다른 조건은 일정하다고 가정한다.)

- ① 미국으로 여행을 가려는 대학생
- ② 미국 유학 중인 자녀에게 송금하는 부모
- ③ 미국 시장에 상품을 수출하는 수출업자
- ④ 미국에서 원자재를 수입하여 상품을 생산하는 기업가

14. (가)에 들어갈 개념으로 적절한 것은?

(가)란 도시의 수가 증가하거나 도시 인구 비율이 높아지는 현상을 말한다.

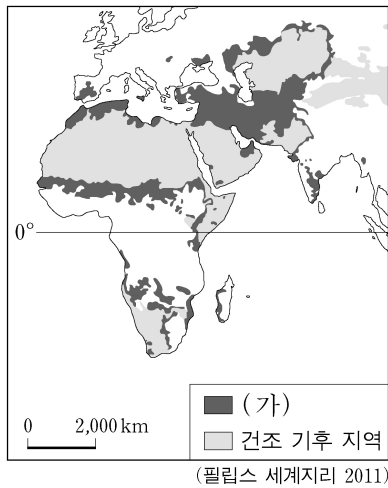
- ① 교외화
- ② 지역화
- ③ 도시화
- ④ 정보화

15. 밑줄 친 ㉠의 관점이 반영되어 나타난 사례로 가장 적절한 것은?

지나친 개발로 자연 환경이 파괴된 후 ㉠ “인간과 자연이 서로 공존해야 한다.”라는 관점으로 인간과 자연 사이의 관계를 재정립하였다.

- ① 자연을 신격화하여 숭배하였다.
- ② 공업단지 조성을 위해 갯벌을 간척하였다.
- ③ 용수 확보를 위해 다목적 댐을 건설하였다.
- ④ 도로 건설 시 야생 동물을 위한 생태 통로를 건설하였다.

16. 지도의 (가) 지역에서 발생하는 환경문제를 해결하기 위한 국제 협약은?



- ① 런던 협약
- ② 람사르 협약
- ③ 몬트리올 의정서
- ④ 사막화 방지 협약

17. 다음 설명에 해당하는 화석 에너지 자원은?

○ 연소 시 오염 물질 배출량이 적어 청정에너지로 주목 받고 있다.
○ 낮은 온도로 냉각시켜서 보관하는 기술이 개발되면서 활발하게 이용되었다.

- ① 석유
- ② 석탄
- ③ 원자력
- ④ 천연가스

18. 다음 대화 내용에 나타난 지역 개발 방식에 대한 설명으로 가장 적절한 것은?

올해 우리 시 지역 개발 예산을 어떻게 쓰는 게 좋을까요?



상대적으로 생활환경이 낙후된 OO동에 기반 시설을 확충하는 데 쓰도록 하지요.

- ① 성장 거점에 집중 투자한다.
- ② 형평성을 추구하는 개발 방식이다.
- ③ 님비 또는 핼피 현상이 나타나지 않는다.
- ④ 중앙 정부 주도의 하향식 개발 방식이다.

19. (가) 현상에 대한 설명으로 옳지 않은 것은?

국가 간의 상호 의존성이 높아지고 국제 사회가 국경을 초월하여 하나로 통합되어 가는 과정을 (가) 라고 한다.

- ① 보호 무역 주의로 확대되었다.
- ② 다국적 기업의 출현으로 가속화되었다.
- ③ 교통과 정보·통신의 발달로 가능해졌다.
- ④ 세계 무역 기구(WTO)의 출범으로 확산되었다.

20. 다음 설명에 해당하는 개념은?

인공위성에서 보내는 신호를 수신해 사용자의 현재 위치를 알려주는 시스템이다.

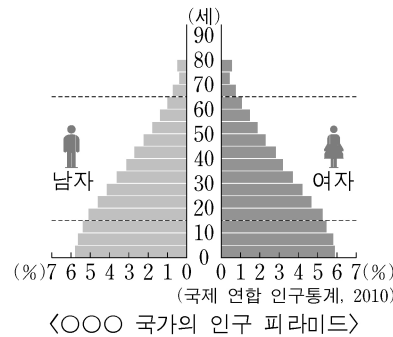
- ① 항공사진
- ② 지리 정보 시스템(GIS)
- ③ 위치 정보 시스템(GPS)
- ④ 유비쿼터스(Ubiquitous)

21. 다음 설명에 해당하는 작물은?

○ 세계 3대 식량 작물로 라틴 아메리카가 원산지이다.
○ 사료용 및 바이오에탄올의 원료로 수요가 증가하고 있다.

- ① 밀
- ② 쌀
- ③ 옥수수
- ④ 사탕수수

22. 자료에 나타난 ○○○ 국가의 인구 특성으로 적절한 것을 <보기>에서 고른 것은?



<보기>
㉠. 출생률이 높다.
㉡. 사망률이 높다.
㉢. 기대 수명이 높다.
㉣. 총인구가 감소한다.

- ① ㉠, ㉡
- ② ㉠, ㉢
- ③ ㉡, ㉣
- ④ ㉢, ㉣

23. 다음 설명에 공통으로 해당하는 지역 경제 협력체는?

○ 우리나라와 자유 무역 협정을 체결하였다.
○ 1967년에 결성되었으며, 현재 동남아시아 10개국이 회원국이다.

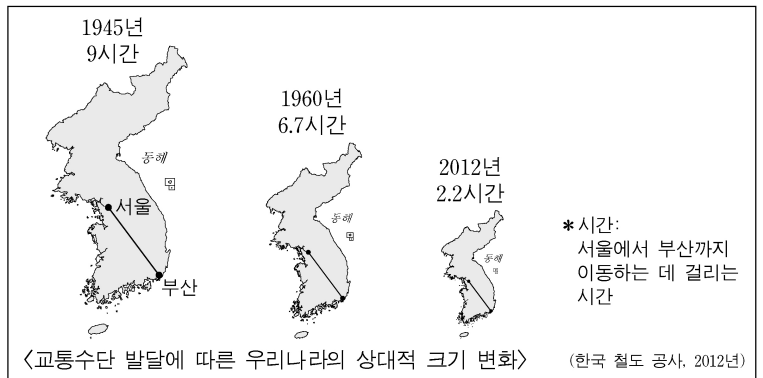
- ① APEC
- ② ASEAN
- ③ EU
- ④ NAFTA

24. 종교적 갈등에 의한 분쟁 지역으로 옳은 것을 <보기>에서 고른 것은?

<보기>
㉠. 카슈미르 분쟁
- ㉡. 카스피해 분쟁
- ㉢. 쿠릴 열도 분쟁
- ㉣. 북아일랜드 분쟁

- ① ㉠, ㉡
- ② ㉠, ㉢
- ③ ㉡, ㉣
- ④ ㉢, ㉣

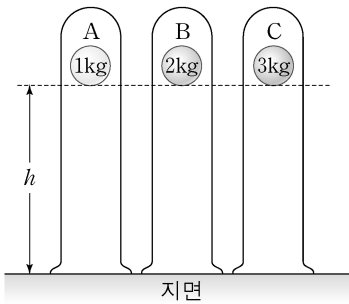
25. 지도는 교통수단의 발달에 따른 우리나라의 상대적 크기 변화를 나타낸 것이다. 이를 보고 추론한 내용으로 적절하지 않은 것은?



- ① 지역 간 접근도가 낮아졌을 것이다.
- ② 서울의 통근권이 확대되었을 것이다.
- ③ 교통로 건설로 환경 파괴 문제가 발생했을 것이다.
- ④ 공간적 제약의 감소로 인구 이동이 활발해졌을 것이다.

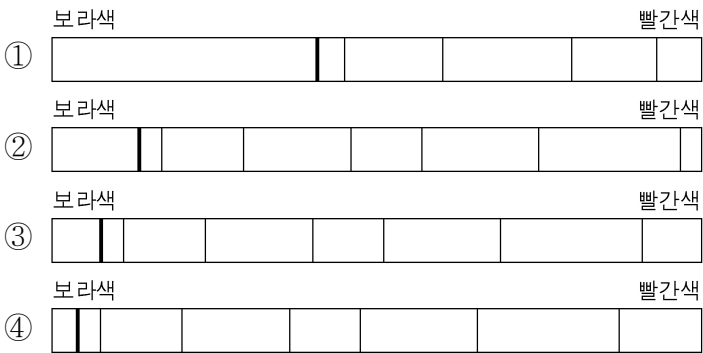
1. 다음 중 원자핵 내에서 (+)전하를 띠는 입자는?
 ① 광자 ② 전자 ③ 양성자 ④ 중성자

2. 그림과 같이 질량이 다른 물체 A, B, C를 진공 상태에서 가만히 놓았다. 높이가 h 로 같을 때, A~C가 지면에 도달하는 순간까지 걸리는 시간에 대한 설명으로 옳은 것은?



- ① A가 가장 짧다.
- ② B가 가장 짧다.
- ③ C가 가장 짧다.
- ④ 모두 같다.

3. 다음은 멀어지는 여러 은하로부터 관측된 동일한 원소의 선 스펙트럼이다. 적색편이 현상이 가장 크게 나타난 것은?



4. LCD(Liquid Crystal Display)에 대한 설명으로 옳지 않은 것은?

- ① 초전도 현상을 이용한다.
- ② 컴퓨터 모니터에 사용될 수 있다.
- ③ 액정을 이용한 영상 표현 장치이다.
- ④ 빛의 삼원색을 합성하여 여러 색을 만든다.

5. 원자력 발전에 대한 설명으로 옳은 것만을 <보기>에서 모두 고른 것은?

<보기>

ㄱ. 핵분열을 이용한다.
 ㄴ. 석탄을 연료로 사용한다.
 ㄷ. 방사성 폐기물이 발생한다.

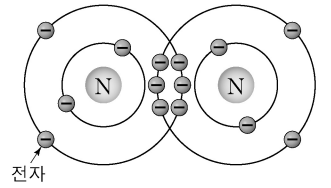
- ① ㄱ ② ㄴ ③ ㄱ, ㄷ ④ ㄴ, ㄷ

6. 다음 설명에 해당하는 것은?

- 우주에 가장 많이 존재하는 원소이다.
- 양성자 1개와 전자 1개로 구성되어 있다.

- ① 철 ② 수소 ③ 질소 ④ 탄소

7. 그림은 질소 분자의 전자 배치를 나타낸 것이다. 이에 대한 설명으로 옳은 것만을 <보기>에서 모두 고른 것은?



<보기>

- ㄱ. 극성 분자이다.
- ㄴ. 공유된 전자는 2쌍이다.
- ㄷ. 2개의 질소 원자가 결합하고 있다.

- ① ㄱ ② ㄷ ③ ㄱ, ㄴ ④ ㄴ, ㄷ

8. 완성된 화학 반응식으로 옳은 것은?

- ① $C + O_2 \rightarrow CO_2$ ② $H_2 + S \rightarrow H_2O$
- ③ $2C + O \rightarrow 2CO_2$ ④ $N_2 + H_2 \rightarrow 2NH_3$

9. 다음 중 자동차 타이어에 쓰이며 단위체 간의 중합 반응으로 만들어진 고분자 화합물이 포함된 것은?

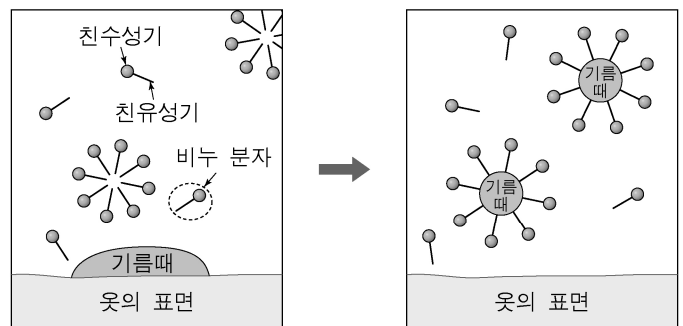
- ① 물 ② 아미노산 ③ 합성 고무 ④ 이산화 탄소

10. 다음 중 그림과 같은 에너지 전환을 주로 이용하는 장치는?



- ① 냉장고 ② 프리즘 ③ 전기 난로 ④ 태양 전지

11. 그림은 비누가 기름때를 분리하는 과정의 일부를 나타낸 것이다. 이에 대한 설명으로 옳지 않은 것은?



- ① 비누에는 계면 활성제가 들어 있다.
- ② 친수성기 부분이 기름때 쪽을 향한다.
- ③ 비누 분자는 친수성기와 친유성기를 가지고 있다.
- ④ 기름때가 작게 분리되어 옷의 표면에서 떨어진다.

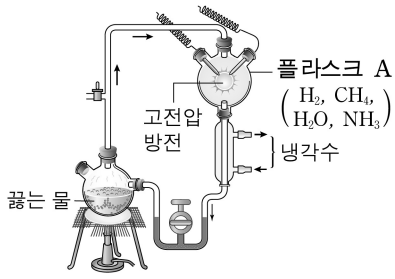
12. 염색체에 대한 설명으로 옳은 것만을 <보기>에서 모두 고른 것은? (단, 돌연변이는 없다.)

<보기>

- ㄱ. 남자의 성염색체는 XY이다.
- ㄴ. 모든 생물의 염색체 수는 같다.
- ㄷ. 사람의 체세포 1개당 염색체 수는 46개이다.

- ① ㄱ ② ㄴ ③ ㄱ, ㄷ ④ ㄴ, ㄷ

13. 그림은 무기물에서 유기물이 생성되는 밀러의 실험 장치이다. 플라스크 A에 넣어준 기체가 아닌 것은?

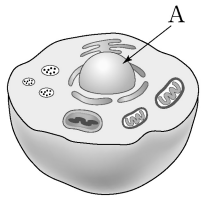


- ① 산소
- ② 수소
- ③ 메테인
- ④ 암모니아

14. 다음 중 우리 몸의 에너지원은 아니지만 체내 생리 기능 조절에 필요한 영양소는?

- ① 지방 ② 단백질 ③ 탄수화물 ④ 무기 염류

15. 그림은 동물 세포의 일부를 나타낸 것이다. 다음 설명에 해당하는 세포 소기관 A는?



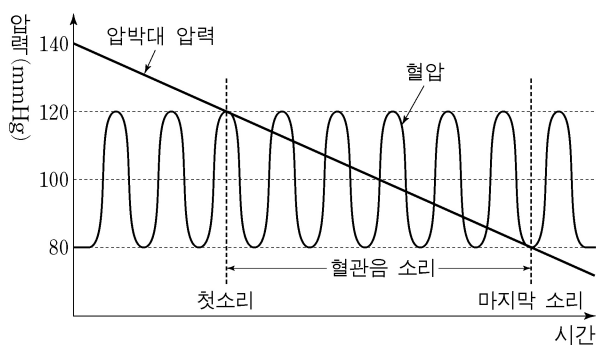
- DNA가 들어 있다.
- 2중막으로 되어 있다.

- ① 핵 ② 골지체 ③ 리보솜 ④ 소포체

16. 다음 중 공기 중의 이산화 탄소를 흡수하는 반응은?

- ① 낙엽의 부패 ② 동물의 호흡
- ③ 식물의 광합성 ④ 화석 연료의 연소

17. 그림은 어떤 사람의 혈압을 측정된 결과이다. 이에 대한 해석으로 옳은 것만을 <보기>에서 모두 고른 것은?



- <보기>
- ㄱ. 최고 혈압은 130 mmHg이다.
 - ㄴ. 최저 혈압은 80 mmHg이다.
 - ㄷ. 첫소리가 들릴 때의 압력이 최고 혈압이다.

- ① ㄱ ② ㄷ ③ ㄱ, ㄴ ④ ㄴ, ㄷ

18. 다음 중 인체를 X선으로 단층 촬영하고, 이를 컴퓨터로 분석하여 질병을 진단하는 데 쓰이는 기구는?

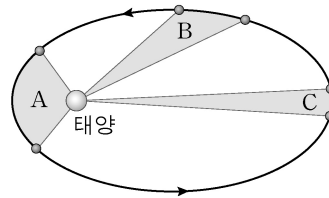
- ① 내시경 ② CT (컴퓨터 단층 촬영기)
- ③ 청진기 ④ 초음파 진단기

19. 다음 설명에 해당하는 별의 진화 단계는?

- 별의 바깥 부분은 팽창하여 지름이 커진다.
- 표면 온도가 낮아지고 붉은 색을 띤다.

- ① 주계열성 ② 적색 거성
- ③ 백색 왜성 ④ 블랙홀

20. 그림은 태양을 중심으로 공전하는 어느 행성이 같은 기간 동안 휩쓸고 지나간 면적을 나타낸 것이다. A~C의 면적에 대한 설명으로 옳은 것은?

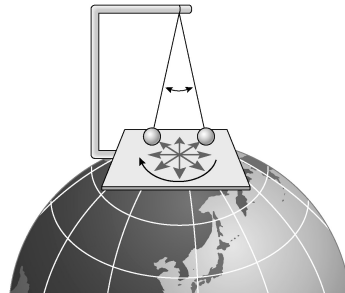


- ① A가 가장 크다.
- ② B가 가장 크다.
- ③ C가 가장 크다.
- ④ 모두 같다.

21. 우리나라 봄철에 나타나는 황사는 지구계의 지권과 어느 권역 사이의 상호 작용으로 발생하는가?

- ① 기권 ② 수권 ③ 외권 ④ 생물권

22. 그림은 푸코의 진자 실험을 나타낸 것이다. 진자의 진동면이 북반구에서 시계 방향으로 회전하는 것처럼 보이는 원인은?



- ① 외핵의 운동
- ② 지각의 이동
- ③ 지구의 공전
- ④ 지구의 자전

23. 다음 설명에 해당하는 것은?

- 지질 시대에 살았고 생존 기간이 짧으며 분포 면적이 넓은 생물의 유해이다.
- 지층이 생성된 시대를 알려주는 화석이다.
- 고생대의 삼엽충, 중생대의 공룡 등이 예이다.

- ① 건열 ② 사층리 ③ 시상 화석 ④ 표준 화석

24. 다음 설명에 해당하는 광물 자원은?

- 현재 인간이 가장 많이 사용하는 금속이다.
- 공기 중에서 습기에 의해 부식이 잘 일어난다.

- ① 금 ② 철 ③ 황 ④ 흑연

25. 다음 중 지구의 위도별 태양 복사 에너지와 지구 복사 에너지의 불균형으로 인해 생겨난 저위도의 과잉 에너지를 고위도로 보내는 현상은?

- ① 오로라 ② 맨틀 대류
- ③ 대기 대순환 ④ 지구 온난화

13. 공리주의의 입장에 대한 설명으로 옳은 것을 <보기>에서 고른 것은?

<보기>

- ㄱ. 행위의 옳고 그름은 그 결과에 따라 결정된다.
- ㄴ. '최대 다수 최대 행복'의 도덕 원리를 강조한다.
- ㄷ. 행위의 내면적 동기가 결과보다 더 중요하다.
- ㄹ. 인간은 오로지 의무 의식에 따라 행동해야 한다.

- ① ㄱ, ㄴ ② ㄱ, ㄷ ③ ㄴ, ㄹ ④ ㄷ, ㄹ

14. ()에 공통으로 들어갈 말은?

- ()은/는 어느 한쪽에 치우치지 않고 공정하게 각자의 몫을 분배하는 것이다.
- ()은/는 사회의 갈등을 조정하기 위해 사회제도가 갖추어야 할 기본적인 요소이다.

- ① 정의 ② 모방 ③ 소외 ④ 이탈

15. 다음과 같이 주장한 윤리 사상가는?

윤리 역시 생명 외경 이외에 아무것도 아니다. 생명을 유지하고 증진하며 고양시키는 것은 선이며, 생명을 파괴하고 해를 끼치는 것은 악이다.

- ① 베이컨 ② 슈바이처
③ 데카르트 ④ 아리스토텔레스

16. 니부어(Niebuhr, R.)의 사회 윤리적 관점을 모두 '✓' 표시한 학생은?

관점	학생	갑	을	병	정
○ 집단의 도덕성은 개인의 도덕성보다 높다.		✓	✓	✓	
○ 사회 문제를 해결하기 위해서는 제도의 개선이 필요하다.			✓		✓
○ 개인의 도덕성만으로는 사회 문제를 해결하기가 어렵다.				✓	✓

- ① 갑 ② 을 ③ 병 ④ 정

17. 사형 제도를 반대하는 주장의 논거로 적절한 것은?

- ① 사형은 범죄 억제 효과가 매우 크다.
- ② 흉악 범죄인의 생명을 박탈하는 것은 사회적 정의이다.
- ③ 사형은 근본적으로 인간의 존엄성을 훼손하는 것이다.
- ④ 사형에 의한 인과 응보적 처벌은 형벌의 목적에 부합한다.


18. 다음 내용을 주장한 사상가는?

- 모든 사람은 동등한 기본적 자유를 최대한으로 누려야 한다.
- 사회적·경제적 불평등은 최소 수혜자에게 최대의 이익이 되도록 조정되어야 한다.

- ① 레건 ② 롤스 ③ 소로 ④ 칸트

19. ㉠에 들어갈 용어로 적절한 것은?

예술에 대한 (㉠)의 특징은 무엇일까요?



예술이 덕성 함양에 기여해야 한다고 봅니다.



예술의 미적 가치보다 도덕적 가치를 강조합니다.



- ① 도덕주의 ② 쾌락주의 ③ 회의주의 ④ 상대주의

20. 오륜(五倫)의 덕목 중 친구 간의 믿음을 강조한 것은?

- ① 부자유친(父子有親) ② 봉우유신(朋友有信)
③ 군신유의(君臣有義) ④ 장유유서(長幼有序)

21. 양성평등의 실현을 위한 방안으로 적절하지 않은 것은?

- ① 잘못된 성차별 문화 개선
- ② 학교에서 양성평등 교육 강화
- ③ 남성 중심의 가부장적 문화 계승
- ④ 성차별 극복을 위한 법과 제도의 개선

22. 다음에서 설명하는 인권의 특성은?

인권은 인종, 성별, 종교, 사회적 신분과 관계없이 모든 인간이 누려야 하는 권리이다.

- ① 보편성 ② 차등성 ③ 강제성 ④ 폐쇄성

23. 바람직한 통일을 위한 노력으로 적절하지 않은 것은?

- ① 주변국과 긴밀하게 협력한다.
- ② 남북 간의 화해와 평화 정착에 힘쓴다.
- ③ 무력에 의한 급진적인 방법을 사용한다.
- ④ 국민의 이해와 합의의 과정을 이끌어낸다.

24. 판서 내용의 ㉠~㉤ 중 옳은 것을 고른 것은?

■ 주제: 이웃 간의 바람직한 갈등 해결 방법

- ㉠ 배려와 양보의 실천
- ㉡ 이웃에 대한 무관심
- ㉢ 대화와 타협의 노력
- ㉣ 자기 가족의 이익만 추구


- ① ㉠, ㉡ ② ㉠, ㉢ ③ ㉡, ㉣ ④ ㉢, ㉣

25. 다음 중 윤리적 소비에 해당하는 것은?

- ① 구매 계획 없는 충동적 소비
- ② 경제적 효율성만을 중시하는 소비
- ③ 타인에게 부를 과시하기 위한 소비
- ④ 환경적으로 건전한 지속 가능한 소비

1. 다음 유물이 처음 사용되었던 시기는?

역사 유물 카드



- 명칭: 빗살무늬 토기
- 발견 지역: 서울 암사동
- 용도: 곡식 저장, 음식 조리

- ① 구석기 시대 ② 신석기 시대
- ③ 청동기 시대 ④ 철기 시대

2. 다음 설명에 해당하는 신라의 귀족 회의 기구는?

부족 사회의 특징을 보여 주는 것으로, 귀족들이 모여 나라의 중대사를 의논하였던 회의 기구였다. 의장은 상대등이었으며, 만장일치제로 운영되었다.

- ① 의정부 ② 제가 회의 ③ 화백 회의 ④ 정사암 회의

3. (가)에 해당하는 것은?

통일 신라 원성왕 때 유교 경전의 이해 수준을 시험하여 상·중·하로 등급을 나누고 관리 등용에 참고하는 (가) 을/를 마련하였다. 그러나 골품제 때문에 그 기능을 제대로 발휘하지 못하였다.

- ① 음서제 ② 진대법 ③ 화랑도 ④ 독서삼품과

4. 조선 후기 경제 상황으로 적절하지 않은 것은?

- ① 모내기법이 전국적으로 보급되었다.
- ② 벽란도가 국제적인 무역항으로 번창하였다.
- ③ 관영 수공업이 쇠퇴하고 민영 수공업이 발달하였다.
- ④ 공인과 사상이 독점적 도매 상인인 도고로 성장해 갔다.

5. 지도는 5세기의 상황이다. 이 시기에 해당하는 사건으로 옳은 것은?



- ① 신문왕의 녹읍 폐지
- ② 고이왕의 울령 반포
- ③ 장수왕의 평양 천도
- ④ 공민왕의 쌍성총관부 탈환

6. 다음 내용에 공통적으로 해당하는 지역은?

- 고려 시대 때 몽골의 침입으로 수도를 옮긴 곳
- 신미양요 때 전투가 벌어진 곳
- 일본과 최초의 근대적 조약을 체결한 곳

- ① 완도 ② 강화도 ③ 거문도 ④ 제주도

7. 다음 설명에 해당하는 것은?

조선 세조 때 편찬을 시작하여 성종 때 완성된 조선의 기본 법전으로 이·호·예·병·형·공전의 6전으로 구성되었다. 이 법전의 완성으로 조선의 기본 통치 방향과 유교적 통치 체제를 확립하였다.

- ① 택리지 ② 경국대전 ③ 동사강목 ④ 삼강행실도

8. 조선 후기 세도 정치 시기의 상황으로 옳은 것은?

- ① 국가 재정의 근간인 삼정이 매우 문란해졌다.
- ② 권문세족이 대농장을 소유하고 농민을 핍박하였다.
- ③ 왕권이 약화되어 지방에서 호족 세력이 성장하였다.
- ④ 흥건적과 왜구의 침입으로 많은 농민이 몰락하였다.

9. 밑줄 친 '서민 문화'에 해당하지 않는 것은?

조선 후기 서민의 경제력이 향상되고 서당 교육이 확대되면서 서민층이 새로운 문화의 주체로 성장하였다. 이에 중인과 서민층이 널리 향유하는 서민 문화가 크게 발달하였다.

- ① 향가 ② 탈춤 ③ 판소리 ④ 한글 소설

10. 밑줄 친 '이 나라'의 문화유산에 해당하는 것은?

왕건이 건국한 이 나라는 송, 요(거란), 금(여진) 등과 힘을 겨루는 국제 정세 속에서도 활발하게 교류하며 다양한 문물을 받아들였다.

- ① 청자 ② 칠지도 ③ 다보탑 ④ 석굴암

11. 다음 내용에 해당하는 고려의 교육 기관은?

- 최고 교육 기관으로 유교적 소양을 갖춘 인재를 양성
- 유학 교육 이외에도 율·서·산학 등 기술 교육도 실시

- ① 서원 ② 서당 ③ 국자감 ④ 원산 학사

12. 다음 설명에 해당하는 것은?

고려는 안정적인 국가 운영을 위한 사회 정책을 시행하였는데, 흉년 등 어려운 때에 백성을 구제하기 위해 봄에 곡식을 빌려 주고 가을에 갚게 하였다.

- ① 의창 ② 향약 ③ 광혜원 ④ 집강소

13. (가)에 해당하는 사건은?

(가) 은 모든 계층이 참여한 우리 역사상 최대 규모의 민족 운동으로 대한민국 임시 정부가 수립되는 계기가 되었다.

- ① 3·1 운동 ② 브나로드 운동
- ③ 물산 장려 운동 ④ 6·10 만세 운동


14. 다음과 같은 결과를 가져온 전쟁은?

- 조선은 양안과 호적의 소실로 국가 재정이 궁핍해짐.
- 명은 국력이 약화되었고, 후금이 성장함.
- 일본은 조선에서 약탈한 문화재와 포로로 잡아간 학자 및 기술자를 통해 문화가 크게 발전함.

- ① 임진왜란 ② 병자호란
- ③ 귀주 대첩 ④ 안시성 전투

15. 다음 인물이 주도한 사건은?

역사 인물 카드



- 이름 - 전봉준
- 주요 활동 - 고부 군수 조병갑의 폭정에 항거
 - 전주성 점령
 - 공주 우금치 전투에서 패배

- ① 갑신정변 ② 을미사변
- ③ 정미의병 ④ 동학 농민 운동

16. 밑줄 친 '이 단체'에 해당하는 것은?

이 단체는 근대적 개혁 사상을 지닌 인사들과 서재필이 결성한 단체이다. 우리나라 최초의 민중 대회인 만민 공동회를 개최하여 국민을 계몽하고, 자주 독립과 자유 민권 사상을 전파하는 데 이바지 하였다.

- ① 보안회 ② 독립 협회
- ③ 대한 자강회 ④ 헌정 연구회

17. 1910년대 일제의 경제 수탈 정책에 해당하는 것은?

- ① 농촌 진흥 운동 ② 산미 증식 계획
- ③ 토지 조사 사업 ④ 미국 공출 제도

18. (가)에 해당하는 것은?

두 차례 양요에서 외세의 침략을 물리친 흥선 대원군은 전국 각지에 척화비를 세워 (가) 을/를 널리 알리고자 하였다. 그 결과 서양 세력의 침략을 일시적으로 저지시켰으나, 조선의 근대화를 지연시키기도 하였다.

- ① 사창제 ② 헌병 경찰제
- ③ 중립 외교 정책 ④ 통상 수교 거부 정책

19. (가)에 들어갈 인물은?

역사 신문

계○○호 ○○○○년 ○○월 ○○일

의열단이 결성되다!

1919년 만주 지린에서 (가) 의 주도로 의열단이 조직되었다. 의열단은 일제 고위 관리나 친일파 거두를 처단하고, 식민 통치 기관을 파괴하고자 하는 활동을 전개하였다.

- ① 김원봉 ② 최익현 ③ 박은식 ④ 홍범도

20. 다음 설명에 해당하는 것은?

1945년 12월에 제2차 세계 대전의 전후 처리 문제를 협의하기 위한 회의가 열렸다. 이 결과 한반도에 민주주의 임시 정부를 수립하고, 이를 지원할 미·소 공동 위원회를 설치하며, 최고 5년간 미·영·중·소의 신탁 통치를 실시한다는 결정안이 채택되었다.

- ① 을사조약 ② 텐진 조약
- ③ 국민 대표 회의 ④ 모스크바 3국 외상 회의

21. 신민회에 대한 설명으로 옳은 것을 <보기>에서 고른 것은?

<보기>



ㄱ. 형평 운동 실시 ㄴ. 105인 사건으로 해산
 ㄷ. 대성학교, 오산학교 설립 ㄹ. 화폐 정리 사업 추진

① ㄱ, ㄴ ② ㄱ, ㄹ ③ ㄴ, ㄷ ④ ㄷ, ㄹ

22. 두 사람의 대화를 통해 알 수 있는 역사적 사건은?

독립군이 일본군을 상대로 큰 승리를 거두었던 전투에 대해 알고 있나?

응. 김좌진의 북로 군정서를 비롯한 독립군 연합 부대가 일본군과 싸워서 큰 승리를 거두었지.

- ① 행주 대첩
- ③ 명량 대첩

- ② 살수 대첩
- ④ 청산리 대첩

23. (가)에 해당하는 것은?

탐구활동

○ 탐구 주제 - (가)

○ 탐구 내용 - 민주화 운동을 탄압한 신군부
- 광주 시민의 항쟁


- ① 4·19 혁명 ② 4·13 호헌 조치
- ③ 베트남 파병 ④ 5·18 민주화 운동

24. 김영삼 정부 시기에 해당하는 내용으로 옳은 것은?

- ① 새마을 운동 실시
- ② 금융 실명제 실시
- ③ 서울 올림픽 대회 개최
- ④ 제1차 경제 개발 5개년 계획 실시

25. (가)에 들어갈 내용으로 가장 적절한 것은?

<수행 평가 보고서>



○ 주제: (가) 에 대하여

○ 목차

1. 소녀상 건립의 목적과 의의
2. 일본 대사관 앞 수요 집회 조사

- ① 동북공정 ② 간도 문제
- ③ 남북 협상 ④ 일본군 '위안부'