

제 1 교시

국 어

수험번호 ()

성 명 ()

※ 다음 물음에 대한 가장 옳은 답을 하나만 골라, OMR 답안지에 정확히 표기하십시오.

1. 다음에 해당하는 말하기의 유형은?

공동의 관심사인 어떤 문제에 대하여 여러 사람들이 협력하여 다양한 의견을 모으고 최선의 해결책을 찾는 말하기


- ① 강연하기 ② 소개하기 ③ 토론하기 ④ 토의하기

2. 다음 설명에 해당하는 언어의 특성은?

언어는 대상을 가리키는 말소리와 대상 사이에 직접적인 연관이 없다. '하늘'이라는 대상을 우리말에서는 '하늘 [하늘]'로, 영어에서는 'sky[스카이]'로 표현하는 것처럼 각기 다른 말소리로 표현하는 것이 그 예이다.

- ① 규칙성 ② 자의성 ③ 정확성 ④ 중의성

3. 밑줄 친 단어 중 ㉠에 들어갈 수 있는 것은?



- ① 공원에 장미꽃이 활짝 피었다.
② 그는 현 운동화를 깨끗이 빨았다.
③ 운동을 하니 온갖 걱정이 사라졌다.
④ 옛날 어떤 마을에 효자가 살고 있었다.

4. <보기>의 밑줄 친 부분과 문장 성분이 같은 것은?

<보기>
언니가 꽃다발을 샀다.

- ① 동생이 식혜를 마신다.
② 소년은 어른이 되었다.
③ 우리는 식당으로 갔다.
④ 천둥 치는 소리가 들린다.

5. 다음 설명에 해당하는 단어는?

'밤나무'는 '밤+나무', '밤송이'는 '밤+송이'로 구성되었다. 이처럼 '어근+어근'으로 구성된 단어를 '합성어'라고 한다.

- ① 개살구 ② 봄바람 ③ 풋사랑 ④ 헛소문

6. 다음 규정이 적용되는 예가 아닌 것은?

표준 발음법 제5장

제18항 받침 'ㄱ(ㄱ, ㅋ, ㆁ), ㄷ(ㄷ, ㅌ, ㅍ), ㄴ(ㄴ, ㄹ, ㄿ, ㅂ)'은 'ㄴ, ㄹ' 앞에서 [ㅇ, ㄴ, ㄹ]으로 발음한다.

- ① 국물 ② 등불 ③ 앞마당 ④ 옷맵시

[7~8] 다음 글을 읽고 물음에 답하십시오.

Browser window showing a forum post. Title: 자유 게시판. Content: ㉠월을 저녁 장기 자랑 시간에 친한 친구들과 노래를 ㉡불렀다. 우리 노래가 끝나자 친구들이 박수를 많이 쳐 줘서 참 ㉢조웠다. 친구들과 장기 자랑했던 기념으로 사진도 찍었다. 이번 장기 자랑은 ㉣중말 좋은 추억이 될 것 같다. Comments: ㉤솜사탕 너희 정말 잘 부르더라. 최고였어! ㉥무지개 정말? 고마워! ㉦번개 와! 초대 가수가 나온 줄 알았어! ㉧떨기 네가 칭찬을 해 주니 정말 좋다!

7. 밑줄의 [] 안에 들어갈 제목으로 가장 적절한 것은?

- ① 사라진 기념사진
② 행복한 가족 여행
③ 장기 자랑의 추억
④ 싸움으로 끝난 노래자랑

8. ㉠~㉣을 맞춤법에 맞게 고쳐 쓴 것으로 알맞지 않은 것은?

- ① ㉠: 월요일
② ㉡: 불렀다
③ ㉢: 조웠다
④ ㉣: 정말

[9~11] 다음 글을 읽고 물음에 답하시오.

[A] 내 ㉠ 고장 칠월은
청포도가 익어 가는 시절.

[B] 이 마을 전설이 주저리주저리 열리고
먼 데 하늘이 꿈꾸며 알알이 들어와 박혀,

하늘 밑 푸른 바다가 가슴을 열고
흰 돛단배가 곱게 밀려서 오면,

[C] 내가 바라는 ㉡ 손님은 고달픈 몸으로
청포를 입고 찾아온다고 했으니,

[D] 내 그를 맞아, 이 포도를 따 먹으면
두 손을 흠뻑 적셔도 좋으련.

㉢ 아이야 우리 ㉣ 식탁엔 은쟁반에
하이얀 모시 수건을 마련해 두렴.

- 이육사, 「청포도」 -

9. [A]~[D]에 대한 설명으로 적절하지 않은 것은?

- ① [A]: 계절적 배경이 드러난다.
- ② [B]: 모양을 나타내는 말이 들어 있다.
- ③ [C]: 동일한 시어를 반복하고 있다.
- ④ [D]: 일어나지 않은 일을 가정하고 있다.

10. ㉠~㉣ 중 화자가 기다리는 것은?

- ① ㉠ ② ㉡ ③ ㉢ ④ ㉣

11. 흰 돛단배에 쓰인 감각적 심상이 나타나지 않는 것은?

- ① 사랑하던 그 사람이여
- ② 박꽃이 하얗게 필 동안
- ③ 붉은 파밭의 푸른 새싹
- ④ 입술이 꺼멓게 숯을 바르고

[12~14] 다음 글을 읽고 물음에 답하시오.

내 **벗**이 몇이고 하니 수석(水石)과 송죽(松竹)이라.
동산에 달 오르니 그 더욱 반갑구나.
두어라, 이 다섯밖에 또 더하여 무엇하리.

구름 빛이 깨끗타 하나 검기를 자주 한다.
바람 소리 맑다 하나 그칠 때가 많구나.
깨끗고 그칠 적 없기는 물뿐인가 하노라.

꽃은 무슨 일로 피면서 쉬이 지고
풀은 어찌하여 푸르는 듯 누렇게 되니
아마도 변치 아니하기는 ㉠ 바위뿐인가 하노라.

더우면 꽃 피고 추우면 잎 지거늘
㉡ 술아 너는 어찌 눈서리를 모르느냐.
땅 깊이 뿌리 곤은 줄을 그로 하여 아노라.

나무도 아닌 것이 풀도 아닌 것이
곧기는 누가 시켰으며 속은 어찌 비었는고.
저렇게 사철에 푸르니 ㉢ 그를 좋아하노라.

작은 것이 높이 떠서 만물을 다 비추니
밤중에 밝은 빛이 ㉣ 너만 한 게 또 있느냐.
보고도 말 아니하니 내 벗인가 하노라.

- 윤선도, 「오우가」 -

12. 위 시에서 운율을 형성하는 방법은?

- ① 한 행을 4음보로 구성한다.
- ② 후렴구를 각 연에 배치한다.
- ③ 의성어를 반복적으로 사용한다.
- ④ 각 연의 처음과 끝에 같은 구절을 배치한다.

13. 위 시에 드러난 ㉠~㉣의 성격으로 적절하지 않은 것은?

- ① ㉠: 변하지 않는다.
- ② ㉡: 쉽게 시든다.
- ③ ㉢: 사계절 내내 푸르다.
- ④ ㉣: 만물을 다 비춘다.

14. 위 시의 **벗**에 해당하지 않는 것은?

- ① 물 ② 바위 ③ 국화 ④ 소나무

[15~17] 다음 글을 읽고 물음에 답하시오.

〈앞부분 줄거리〉 원미동 23통 일대에 쌀과 연탄만 취급하던 김포 쌀 상회의 경호네 내외가 가게 상호를 ‘김포 슈퍼’로 바꾸었다. 그러자 채소와 과일을 팔던 형제 슈퍼의 김 반장도 쌀과 연탄을 가게 앞 공터에서 취급하게 되고 두 가게는 살벌한 가격 경쟁을 벌인다. 두 가게의 가격 경쟁이 치열해지고 동네 사람들이 고민에 빠질 무렵 갑작스럽게 싱싱 청과물이 개업을 한다. 며칠 후 경호네와 김 반장이 싱싱 청과물에 대해 휴전 협정을 맺었다는 소문이 동네 안에 짙 퍼졌다.

[A] 싱싱에서 물건을 흥정하는 손님이 있으면 김 반장은 어디서 구해 왔는지 뽀뽀거리는 핸드 마이크를 쳐들고 휘방을 놓았다.
“과일 바겐세일입니다. 조생 귤이 있습니다. 산지에서 금방 올라온 맛 좋은 부사 사과를 파격적인 가격으로 판매합니다. 자, 과일 바겐세일!”
어떤 때는 김포 슈퍼를 선전해 주기도 하였다.
“과일 세일합니다. 사과, 배, 귤 모두 세일합니다. 저쪽 김포 슈퍼로 가시든가 여기로 오시든가 마음대로 하세요. 몽땅 세일합니다요.”

싱싱 청과물 사내가 김 반장한테 쫓아간 것은 당연한 일이었다. 하지만, 싸움은 초반부터 싱싱 청과물 사내가 불리한 쪽에 있었다. 생각 없이 대뜸 내뱉은 첫말이 당장 김 반장의 공격망에 걸려 버린 것이다. 나이가 어리다 하여 만만히 여기고 다짜고짜 말을 놓은 게 실수였다. 싱싱 청과물 사내가 말꼬리를 붙잡혀서 정작 장사를 휘방한 것에 대해서는 따질 기회도 얻지 못한 채 전전공공하고 있을 때, 경호 아버지가 싸움에 끼어 들었다. 이때다 싶었던지, 물리고 있던 싱싱 청과물 사내가

머릿 소리를 질렀다.

“당신들 말야, 왜 어깃장을 놓아? 가격이야 뻔한데 본전 치기로 넘기면서 남의 장사 망쳐 놓는 속셈이 대관절 무엇이야? 영! 왜 못살게들 굴어?”

경호 아버지도 어름하게 물러서지는 않았다.

“짜게 사서 짜게 파는 것도 죄요? 원 별소릴 다 듣겠네.”
얼굴이 벌개진 싱싱 사내는 공연스레 목청만 돋운다.

“이 사람들, 이제 보니 심보가 새까맣군그래. 짜게 사서 짜게 파는 것도 죄냐구? 말해! 나하고 무슨 원수가 졌냐? 날 죽여 보겠다는 심보는 대체 뭐야!”

그러면 김 반장이 또 씩씩거리며 대들었다.

“이게 좁쌀밥만 먹고 살았나? 말마다 영 기분 나쁘게서리 반말로만 내뱉는군. 단단히 정신을 차릴 필요가 있는 작자라니까.”

마침내 싱싱 청과물 사내가 죽기 살기로 김 반장의 멱살을 잡고 바둥거리기 시작했다. 몸피가 유난히 왜소하여 애초 김 반장의 상대가 되지도 못하면서 기를 쓰고 덤벼드는 그를 김 반장은 여유 있게 메다꽃았다. 이 못된 놈이 사람 친다고 악을 쓰면서 덤벼드는 그를 향해 김 반장은 알게 모르게 주먹 숨씨를 발휘하였다.

“어디서 굴러먹던 뼈다귀인지 생전 보지도 못한 놈이 남의 장사 망치려고 덤벼든 것을 생각하면 내 속이 터진다구.”

① 김 반장의 목소리는 칼날처럼 서늘했다.

... (중략) ...

“김 반장도 끝을 보는 성격인데 심상찮아.”

많은 식구 거느리고 살다 보니 자연 악만 남았다는 김 반장의 처지를 가장 잘 이해하는 이웃인 지물포 여자의 근심 어린 걱정도 나왔다.

“왜들 이렇게 장삿길로만 빠지는지 몰라.”

우리 정육점 여자의 우문이였다.

“먹고살기가 힘드니까 그렇지요.”

새댁이 즉각 현명한 답을 내놓았다.

그러고는 잠시 말이 끊겼다. 매일매일을 살아 내야 한다는 점에서 원미동 여자들 모두는 각자 심란한 표정이였다.

- 양귀자, 「원미동 사람들」 -

15. 윗글에 대한 설명으로 적절하지 않은 것은?

- ① 구체적인 공간적 배경이 제시된다.
- ② 힘겹게 살아가는 소시민의 삶이 나타난다.
- ③ 인물 간의 대화를 활용하여 사건을 전개한다.
- ④ 이웃 간의 배려와 화합의 모습이 잘 드러난다.

16. [A]에서 김 반장의 행동에 담긴 의도로 가장 적절한 것은?

- ① 소문의 확산을 막기 위해서
- ② 가게 앞 공터를 차지하기 위해서
- ③ 지물포 여자와 동맹을 맺으려고
- ④ 싱싱 청과물의 장사를 방해하려고

17. ㉠에 쓰인 표현 방법을 사용한 것은?

- ① 아아, 누구던가
- ② 저것 봐, 저것 봐
- ③ 얼마나 아름다운가
- ④ 길은 구겨진 넥타이처럼

[18~20] 다음 글을 읽고 물음에 답하십시오.

인형은 길을 재촉하여 열흘 만에 경상 감영에 부임하였다. 고을마다 방을 붙이고 인형은 오직 길동이 나타나기만을 기다렸다. 며칠 후 한 소년이 감영 앞까지 나귀를 타고 와 감사 뵙기를 청한다고 하였다. 인형이 이상히 여겨 들여 보내라 하니, 소년이 마루에 올라 인사를 올렸다.

“제가 여기 온 것도 아버님과 형님을 위태로운 지경에서 구하고자 함입니다. 하오나 당초에 아버지를 아버지라 하고 형을 형이라 부를 수 있었던들 어찌 이 지경에 이르렀겠습니까? 이제 와서 지난 일을 말해 무엇하오리까? 이제 저를 묶어 한양으로 보내소서.”

그런 다음 입을 꼭 다물더니 묻는 말에 더 이상 대답하지 않았다. 경상 감사 인형은 이윽고 제 아우 길동의 목에 칼을 썬고 발에 차꼬¹⁾를 채웠다. 그리고 길동을 잡았다는 장계를 적어 서둘러 한양으로 보냈다.

... (중략) ...

“내가 여기까지 순순히 잡혀 오고 전하께서도 내가 끌려 오는 것을 이미 알고 계시므로 너희가 큰 벌을 받지 않으리라.”

그런 다음 길동이 몸을 흔드니 쇠사슬이 썩은 동아줄처럼 툭툭 끊어지고 함거²⁾가 우지끈 부서졌다. ㉠ 그리고 순식간에 공중으로 훌쩍 몸을 솟구쳐서 궁수들이 미처 손을 쓸 틈이 없었다. 궁수들은 그저 길동이 공중에서 까마득하게 멀어질 때까지 하늘만 멍하니 바라볼 뿐이었다.

- 허균, 「홍길동전」 -

1) 차꼬: 죄수를 가두어 둘 때 쓰던 기구.

2) 함거: 예전에, 죄인을 실어 나르던 수레.

18. 윗글에 대한 설명으로 적절하지 않은 것은?

- ① 과거 시제로 서술되고 있다.
- ② 당대 사회의 모습을 반영하고 있다.
- ③ 역사적 사실을 객관적으로 전달하고 있다.
- ④ 시간의 흐름에 따라 사건이 전개되고 있다.

19. 윗글의 내용과 다른 것은?

- ① 인형은 경상 감영에 부임했다.
- ② 길동은 관직을 얻은 형을 축하했다.
- ③ 길동은 아버지를 아버지라 부르지 못했다.
- ④ 인형은 길동을 잡았다는 소식을 한양으로 보냈다.

20. ㉠에서 길동이 위기를 극복하는 수단으로 활용한 것은?

- ① 부유한 재산
- ② 비범한 능력
- ③ 타고난 외모
- ④ 조력자의 도움

[21~23] 다음 글을 읽고 물음에 답하시오.

어진 **임금** 성종의 다스림 아래 안정을 찾아 가던 고려에 크나큰 위기가 닥쳤다. 993년(성종 12년)에 거란족이 쳐들어 온 것이다. 거란군 책임자 **소손녕**은 봉산군을 ㉠ **점령**한 다음 고려에 문서를 보내 무릎을 꿇으라고 요구했다.

…(중략)…

“고려는 신라 땅에서 일어났고 고구려 땅은 우리가 차지 했는데 당신네가 이를 조금씩 먹어 들어왔소. 또 우리나라와 땅이 이어져 있는데 바다 건너 송나라를 섬기기 때문에 오늘의 ㉡ **출병**이 있게 된 것이니, 만일 땅을 떼어서 바치고 황제에게 알현할¹⁾ **사신**을 보내면 무사할 것이오.”

항복하지 않으면 공격하겠다는 협박이었다. 이에 **서희**는 이렇게 대답했다.

“그렇지 않소 우리나라가 바로 고구려의 옛 땅이오. 그렇기 때문에 나라 이름을 고려라고 하였고, 평양에 도읍하였소. 만일 ㉢ **국경을** 따진다면 귀국의 동경도 모두 우리 국경 안에 있던 것인데 어찌 조금씩 먹어 들었다고 할 수 있겠소? 그리고 압록강 안팎도 우리 땅인데 지금 여진이 흠쳐 살고 있소이다. 교활하고 간사한 그들이 통로를 막아 바다를 건너는 것보다도 더 어렵기 때문에 황제를 알현 못 하고 사신을 보내지 못하고 있소. 만일 여진을 쫓아내고 우리의 옛 땅을 찾아 성보(城堡)²⁾를 쌓고 길이 통하면 어찌 사신을 보내지 않겠소. 장군이 만일 ㉣ **나**의 말을 전해 천자께서 들으신다면 어찌 가엾게 여겨 받아들이지 않으리오.”

거란의 실체를 인정하면서도 고려의 입장을 설명한 **현답**³⁾이었다. 한편으로는 거란에게 회군할 명분을 주는 말이기도 했다. 결국 소손녕은 거란 임금과 상의한 뒤 너그러운 척 고려 입장을 받아들이면서 ㉤ **철군**을 결정했고, 서희는 당당히 개선했다. 소손녕은 서희의 조리 있는 말과 당당한 태도에 감격하여 낙타와 말, 양 등 많은 가축과 비단을 선물하고 돌아갔다.

- 박영수, 「서희의 대답한 외교술」 -

- 1) 알현하다: 지체가 높고 귀한 사람을 찾아가 뵈다.
- 2) 성보(城堡): 적을 막으려고 성 밖에 임시로 만든 소규모의 요새.
- 3) 현답: 현명한 대답.

21. 윗글에서 서희의 협상 과정에 대한 설명으로 적절하지 않은 것은?

- ① 거란에게 회군할 명분을 주었다.
- ② 소손녕의 협박에 조리 있는 말로 대응하였다.
- ③ 거란의 실체를 인정하면서도 고려의 입장을 설명하였다.
- ④ 고려에 항복하지 않으면 거란을 공격하겠다고 위협하였다.

22. 중 ㉠과 동일한 인물은?

- ① 임금
- ② 소손녕
- ③ 사신
- ④ 서희

23. 문맥을 고려할 때 ㉠~㉤의 의미로 적절하지 않은 것은?

- ① ㉠: 남의 땅을 무력으로 빼앗아 차지하는 것.
- ② ㉡: 군대를 싸움터로 내보내는 일.
- ③ ㉢: 나라의 경사.
- ④ ㉣: 주둔하였던 군대를 철수함.

[24~25] 다음 글을 읽고 물음에 답하시오.

세계에서 가장 오래된 목판 인쇄물인 무구 정광 대다라니경 두루마리. 석가탑 사리함 안 비단보에 싸여 있던 그 두루마리는 닥나무 껍질을 원료로 한 한지로 만들어졌다.

…(중략)…

한지(韓紙)란 주로 닥나무 껍질에서 뽑아낸 섬유를 원료로 하여 우리나라 고유의 제조법으로 만든 종이를 이르는 말이다. 조히(종이), 조선종이, 창호지, 문종이, 참종이, 닥종이 등으로 불렸던 우리 종이 한지로 불리기 시작한 것은 20세기 초·중반, 서양 종이, 즉 양지(洋紙)가 들어와 많이 쓰이기 시작하면서부터였다.

…(중략)…

한지를 창호지로 쓰면 문을 닫아도 바람이 잘 통하고 습기를 잘 흡수해서 습도 조절의 역할까지 한다. 흔히 한지를 ‘살아 있는 종이’라고 하는 이유도 여기에 있다. 양지는 바람이 잘 통하지 않고 습기에 대한 친화력도 한지에 비해 약하다. 한지가 살아 숨 쉬는 종이라면, 양지는 뻣뻣하게 굳어 있는 종이라고 할 것이다.

- 김형자, 「천년을 가는 한지의 비밀」 -

24. 윗글의 내용과 일치하지 않은 것은?

- ① 한지는 양지에 비해 바람이 잘 통한다.
- ② 한지는 우리나라 고유의 제조법으로 만든 종이다.
- ③ 무구 정광 대다라니경 두루마리는 비단으로 만들어졌다.
- ④ 우리 종이를 한지라고 부른 것은 20세기 초·중반부터이다.

25. 에 들어갈 말로 가장 적절한 것은?

- ① 반면
- ② 비록
- ③ 그래서
- ④ 드디어

※ 확인 사항
답을 OMR 답안지의 해당란에 정확히 표기했는지 확인하시오.

제 3 교시

영어

수험번호 ()

성명 ()

※ 다음 물음에 대한 가장 옳은 답을 하나만 골라, OMR 답안지에 정확히 표기하시오.

1. 다음 단어들을 모두 포괄할 수 있는 것은?

pants skirts blouses T-shirts

- ① sports ② family ③ clothes ④ countries

2. 두 단어의 관계가 나머지 셋과 다른 것은?

- ① hand - foot ② dog - animal ③ rose - flower ④ summer - season

[3~4] 밑줄 친 부분의 뜻으로 가장 알맞은 것을 고르시오.

3.

He is a famous singer in Korea.

- ① 겸손한 ② 유명한 ③ 정직한 ④ 부지런한

4.

My brother is good at science.

- ① ~을/를 잘하다. ② ~을/를 나누다. ③ ~을/를 걱정하다. ④ ~와/과 화해하다.

[5~6] B의 응답으로 가장 알맞은 것을 고르시오.

5.

A: How are you doing? B: _____.

- ① Great ② Me, too ③ Three hours ④ You're welcome

6.

A: Does she like ice cream? B: _____.

- ① Yes, I can ② No, you don't ③ Yes, she does ④ No, they aren't

7. 영화표를 보고 알 수 없는 것은?

Film Title: Star Pilot
Seat Number: G15
Date: July 15th, 2016 Time: 18:00 ~ 20:00

- ① 영화 제목 ② 영화표 가격 ③ 극장 좌석 번호 ④ 영화 상영 날짜

8. 대화의 빈칸에 들어갈 말로 가장 알맞은 것은?

A: _____? B: I am fourteen years old.

- ① How old are you ② What is your hobby ③ Who is your best friend ④ Where is your hometown

9. 표의 내용으로 보아 빈칸에 들어갈 말로 가장 알맞은 것은?

Table with 2 columns: Drinks, Price. Rows: Coffee (\$3.00), Tea (\$5.00)

The coffee is _____ than the tea.

- ① cheap ② cheaper ③ expensive ④ more expensive

10. 빈칸에 들어갈 말로 가장 알맞은 것은?

A: _____ are you from? B: I'm from China.

- ① Who ② How ③ When ④ Where

11. 대화로 보아 A가 B를 위해 할 일로 가장 알맞은 것은?

A: Mom, is there anything I can help you with? B: Can you wash the dishes? A: Sure. I'll wash the dishes now.

- ① 꽃 물주기 ② 사진 찍기 ③ 설거지하기 ④ 음식 주문하기

12. 주어진 말에 이어질 두 사람의 대화 순서로 가장 알맞은 것은?

What did you do yesterday?

(A) Yes, I did. It was great. (B) I went to see a movie. (C) Did you enjoy it?

- ① (A)-(C)-(B) ② (B)-(A)-(C) ③ (B)-(C)-(A) ④ (C)-(B)-(A)

13. 빈칸에 공통으로 들어갈 말로 가장 알맞은 것은?

o I am interested _____ math. o There is a computer _____ my room.

- ① in ② of ③ to ④ with

14. 대화에서 알 수 있는 서울의 현재 날씨는?

A: What's the weather like in Busan?
 B: It's cloudy. How's the weather in Seoul?
 A: It's sunny now.



15. 대화의 주제로 가장 알맞은 것은?

A: What are you planning to do this weekend?
 B: I'm going to go fishing. How about you?
 A: I'm going to play basketball with my friends.

- ① 주말 계획 ② 장래 희망
- ③ 오늘의 날씨 ④ 좋아하는 음식

[16~17] 대화의 빈칸에 들어갈 말로 가장 알맞은 것을 고르시오.

16.

A: This looks delicious. What is it?
 B: It's a banana cake. Would you like some?
 A: _____.

- ① Yes, I am ② Yes, please
- ③ I like tennis ④ I have some books

17.

A: I'm looking for a necktie.
 B: How about this one?
 A: I like it. How much is it?
 B: _____.

- ① Not at all ② I'm a cook
- ③ It's too long ④ It's twenty dollars

18. 글의 흐름으로 보아 어울리지 않는 문장은?

I went to Jeju Island with my family. ① We went there by airplane. ② We saw a beautiful beach. ③ My teacher is very kind. ④ I swam there. I want to go there again someday.

19. 다음 규칙에 제시되지 않은 것은?



- ① 달리기 금지
- ② 다이빙 금지
- ③ 수영모 착용
- ④ 음식물 반입 금지

20. 다음 글의 주제로 가장 알맞은 것은?

What habits are good for our health? We should exercise regularly and get enough sleep. We should also wash our hands often.

- ① 친구의 중요성 ② 올바른 전화 예절
- ③ 에너지를 아끼는 방법 ④ 건강을 위한 생활 습관

21. 대화에서 밑줄 친 말의 의도로 알맞은 것은?

A: How was your English test?
 B: It was really hard. I don't think I did very well.
 A: Don't worry. You'll do better next time.

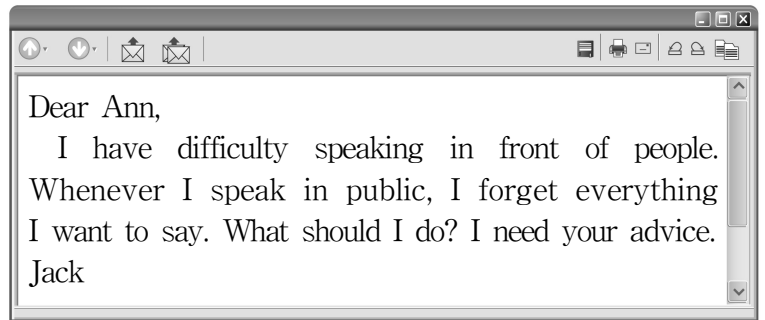
- ① 거절하기 ② 격려하기 ③ 초대하기 ④ 허락하기

22. 다음 글에서 Insu의 가족이 한 일이 아닌 것은?

Insu's family went camping. They set up a tent and cooked together. They talked a lot while they looked at the night sky.

- ① 텐트 치기 ② 요리하기 ③ 음악 듣기 ④ 밤하늘 보기

23. 다음 글을 쓴 목적으로 가장 알맞은 것은?



- ① 규칙을 안내하기 위해 ② 대회를 홍보하기 위해
- ③ 친구를 소개하기 위해 ④ 조언을 요청하기 위해

24. 다음 글에서 Coco에 대해 언급된 것으로 알맞지 않은 것은?

Coco is my pet dog. She has beautiful eyes. She likes to go for walks with me. Coco is my good friend.

- ① Coco는 눈이 아름답다.
- ② Coco는 목욕하는 것을 좋아한다.
- ③ Coco는 나와 함께 산책하는 것을 좋아한다.
- ④ Coco는 나의 좋은 친구다.

25. 다음 글 바로 뒤에 이어질 내용으로 알맞은 것은?

What is your dream job? There are many interesting jobs in the world. I'll tell you about some of them.

- ① 적성 검사의 중요성 ② 흥미로운 직업의 예
- ③ 컴퓨터실 사용 방법 ④ 매력적인 여행지 소개

※ 확인 사항
 답을 OMR 답안지의 해당란에 정확히 표기했는지 확인하시오.

제 ② 교시

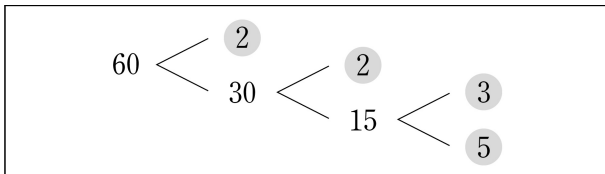
수 학

수험번호 ()

성 명 ()

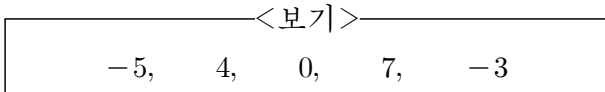
※ 다음 물음에 대한 가장 옳은 답을 하나만 골라, OMR 답안지에 정확히 표기하십시오.

1. 그림은 60을 소인수분해하는 과정이다. 소인수분해한 결과로 옳은 것은?



- ① 2×30
- ② $2^2 \times 15$
- ③ $2 \times 3 \times 10$
- ④ $2^2 \times 3 \times 5$

2. <보기>에서 가장 큰 수와 가장 작은 수의 합은?



- ① -4
- ② -1
- ③ 2
- ④ 3

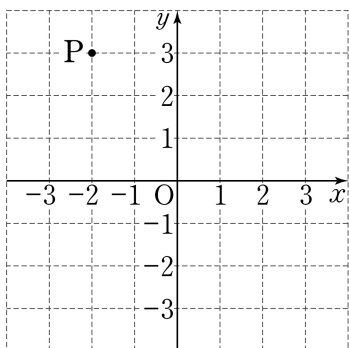
3. $x = 5$ 일 때, $3x - 4$ 의 값은?

- ① 10
- ② 11
- ③ 12
- ④ 13

4. 일차방정식 $2x - 7 = 3$ 의 해는?

- ① 3
- ② 4
- ③ 5
- ④ 6

5. 좌표평면 위에 있는 점 P의 좌표는?



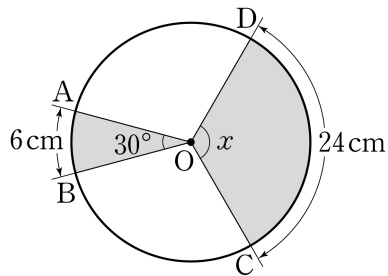
- ① P(-3, 2)
- ② P(-2, 3)
- ③ P(2, -3)
- ④ P(3, -2)

6. 민지네 반 학생 30명이 1학기 동안 읽은 책 수를 나타낸 도수분포표이다. 책을 6권 이상 읽은 학생 수는?

읽은 책 수(권)	학생 수(명)
0 이상 ~ 2 미만	1
2 ~ 4	5
4 ~ 6	6
6 ~ 8	11
8 ~ 10	7
합계	30

- ① 12명
- ② 14명
- ③ 16명
- ④ 18명

7. 원 O에서 $\angle AOB = 30^\circ$, $\widehat{AB} = 6\text{cm}$, $\widehat{CD} = 24\text{cm}$ 일 때, $\angle x$ 의 크기는?

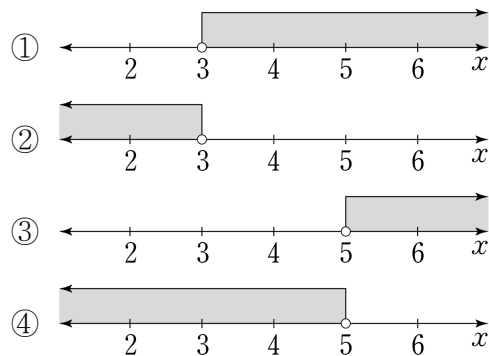


- ① 120°
- ② 130°
- ③ 140°
- ④ 150°

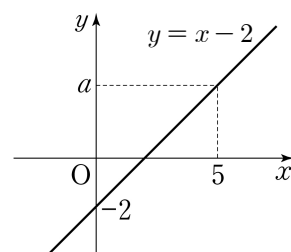
8. $a^2 \times b^3 \times a^4 \times b^5$ 을 간단히 하면?

- ① $a^3 b^5$
- ② $a^4 b^6$
- ③ $a^5 b^7$
- ④ $a^6 b^8$

9. 일차부등식 $2x > 6$ 의 해를 수직선 위에 나타내면?

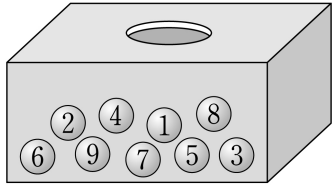


10. 그림은 일차함수 $y = x - 2$ 의 그래프이다. 이 그래프가 점 $(5, a)$ 를 지날 때, a 의 값은?



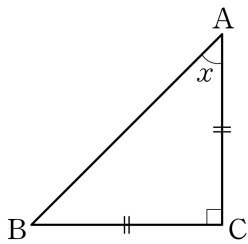
- ① 2
- ② 3
- ③ 4
- ④ 5

11. 상자 안에 1에서 9까지의 자연수가 각각 적힌 아홉 개의 크기가 같은 구슬이 들어 있다. 이 중에서 임의로 한 개의 구슬을 꺼낼 때, 4의 배수가 나올 확률은?



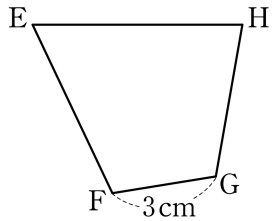
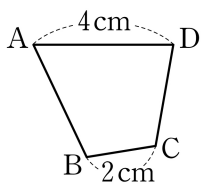
- ① $\frac{1}{9}$ ② $\frac{2}{9}$ ③ $\frac{4}{9}$ ④ $\frac{5}{9}$

12. 그림과 같이 $\angle C=90^\circ$ 인 직각삼각형 ABC에서 $\overline{AC}=\overline{BC}$ 이다. $\angle x$ 의 크기는?



- ① 35°
② 40°
③ 45°
④ 50°

13. 그림에서 $\square ABCD \sim \square EFGH$ 이고 $\overline{BC}=2\text{cm}$, $\overline{FG}=3\text{cm}$ 이다. $\overline{AD}=4\text{cm}$ 일 때, \overline{EH} 의 길이는?

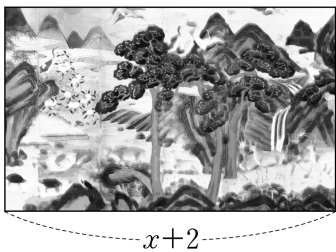


- ① 3cm ② 4cm ③ 5cm ④ 6cm

14. 10의 제곱근은?

- ① ± 2 ② $\pm \sqrt{5}$ ③ $\pm \sqrt{10}$ ④ ± 4

15. 넓이가 x^2+3x+2 인 직사각형 모양의 그림이 있다. 가로 길이가 $x+2$ 일 때, 세로의 길이는?

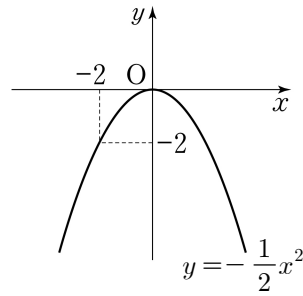


- ① $x+1$
② $x+2$
③ $x+3$
④ $x+4$

16. 이차방정식 $(x-2)(x+1)=0$ 의 두 근을 a, b 라 할 때, $a+b$ 의 값은?

- ① 1 ② 2 ③ 3 ④ 4

17. 이차함수 $y=-\frac{1}{2}x^2$ 의 그래프에 대한 설명으로 옳은 것은?



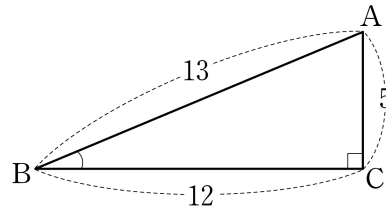
- ① 아래로 볼록하다.
② 제2사분면을 지난다.
③ 점 $(-2, 2)$ 를 지난다.
④ 꼭짓점의 좌표는 $(0, 0)$ 이다.

18. <보기>는 수학 동아리 회원 10명의 수학 성적을 조사한 자료이다. 수학 성적의 최빈값은?

<보기>				
65	70	50	95	70
70	65	70	100	80

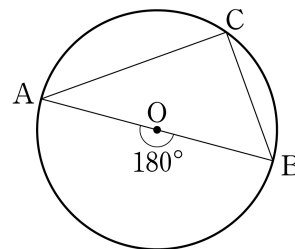
- ① 65 ② 70 ③ 80 ④ 95

19. 그림과 같이 $\angle C=90^\circ$ 인 직각삼각형 ABC에서 $\tan B$ 의 값은?



- ① $\frac{5}{12}$
② $\frac{13}{12}$
③ $\frac{12}{5}$
④ $\frac{13}{5}$

20. 그림과 같이 현 AB는 원 O의 지름이다. 호 AB에 대한 원주각 $\angle ACB$ 의 크기는?



- ① 80°
② 90°
③ 100°
④ 110°

※ 확인 사항
답을 OMR 답안지의 해당란에 정확히 표기했는지 확인하십시오.

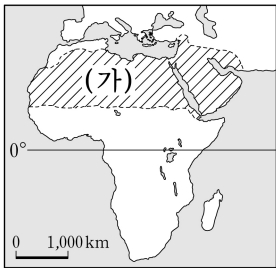
제 ④ 교시 사회

수험번호 () 성명 ()

※ 다음 물음에 대한 가장 옳은 답을 하나만 골라, OMR 답안지에 정확히 표기하십시오.

1. 위도의 영향으로 볼 수 없는 것은?
- ① 기후대별 기온이 다르게 나타난다.
 - ② 북반구와 남반구는 계절이 반대이다.
 - ③ 우리나라와 영국은 표준시가 다르다.
 - ④ 우리나라는 계절의 변화가 나타난다.

2. (가) 지역의 기후는?



- ① 열대 기후
- ② 건조 기후
- ③ 온대 기후
- ④ 고산 기후

(필립스 세계지도, 2009)

3. 다음 자연경관을 볼 수 있는 국가는?

- 빙하의 침식 작용으로 형성된 골짜기
- U자곡에 바닷물이 들어와 형성된 피오르 지형

- ① 그리스 ② 이집트 ③ 노르웨이 ④ 인도네시아

4. 다음 설명에 해당하는 자연재해는?

- 지각판이 충돌하는 경계 지역에서 주로 발생한다.
- 건물 붕괴, 산사태, 화재 등의 피해가 발생할 수 있다.

- ① 지진 ② 가뭄 ③ 홍수 ④ 황사

5. 대화 내용에 해당하는 인구 이동의 유형을 <보기>에서 고른 것은?



<보기>

- ㉠. 국제적 이동 ㉡. 경제적 이동
- ㉢. 강제적 이동 ㉣. 종교적 이동

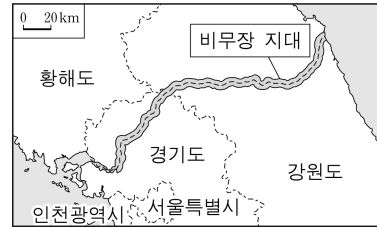
- ① ㉠, ㉡ ② ㉠, ㉢ ③ ㉡, ㉣ ④ ㉢, ㉣

6. 다음에서 설명하는 식량 자원은?

- 최근 사료 작물이나 바이오 에너지의 원료로 이용되어 소비량이 증가하고 있다.
- 미국, 아르헨티나 등이 주요 수출국이다.

- ① 밀 ② 쌀 ③ 보리 ④ 옥수수

7. 비무장 지대(DMZ)에 대한 설명으로 옳지 않은 것은?



(DMZ 비무장 지대, 2012)

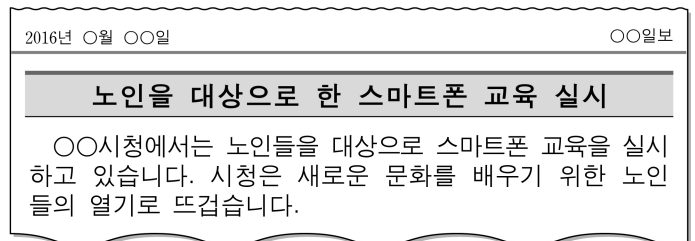
- ① 한반도 남북 분단의 상징이다.
- ② 민간인의 출입이 자유롭지 않다.
- ③ 오랫동안 방치되어 생태계가 많이 파괴되었다.
- ④ 군대나 무기의 배치를 금지하도록 약속한 지역이다.

8. (가)에 들어갈 용어로 가장 적절한 것은?

(가)은 불평등한 무역구조를 해결하기 위해 개발도상국의 생산자에게 적당한 가격을 주고 상품을 구매하는 윤리적 무역이다. 주요 대상 상품으로 커피, 초콜릿, 의류 등이 있다.

- ① 공정 무역 ② 보호 무역 ③ 자유 무역 ④ 중계 무역

9. 다음에 해당하는 개념은?



- ① 재사회화 ② 청소년기 ③ 성취 지위 ④ 역할 갈등

10. 밑줄 친 (가)에 대한 설명으로 옳지 않은 것은?

다수의 사람들에게 많은 정보를 동시에 전달하여 대중 문화 형성에 기여하는 매체를 대중매체라고 한다. 대중 매체는 일방향 매체에서 (가) 쌍방향 매체로 변화하고 있다.

- ① 인터넷, 스마트폰이 대표적이다.
- ② 정보를 일방적으로 수요자에게 전달한다.
- ③ 대중은 문화의 소비자인 동시에 생산자 역할을 한다.
- ④ 정보 통신 기술 발달에 따라 등장한 '뉴 미디어'이다.

11. 다음을 통해 변화된 사회의 모습은?

- 외국인 노동자의 국내 유입 증가
- 국제결혼을 통한 이주자의 국내 유입 증가

- ① 고령화 사회 ② 정보화 사회
- ③ 산업화 사회 ④ 다문화 사회

12. 다음 내용이 설명하는 것은?

지역 주민들 스스로 또는 주민의 대표자를 통해 정치와 행정을 자율적으로 처리해 나가도록 한 제도이다.

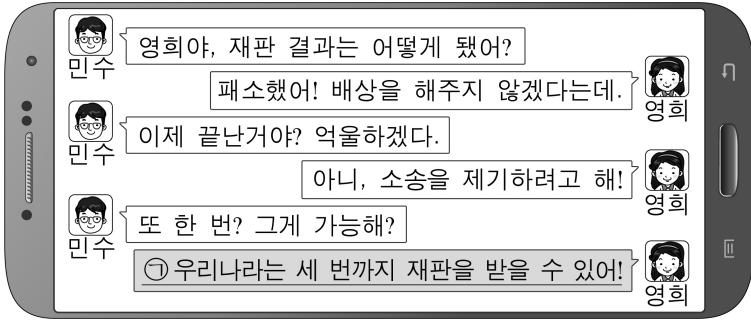
- ① 입헌 군주제 ② 의원 내각제
- ③ 절대 군주제 ④ 지방 자치제

13. 소비 활동에 해당하는 것은?

○○씨는 오늘 신이 났다. ㉠디자인 회사에서 일을 한 지 한 달이 지나 월급을 받았기 때문이다. 월급 통장을 확인하니 ㉡월급과 함께 추석 보너스도 입금되어 있었다. 부모님 선물로 ㉢등산복을 사고 집으로 돌아와 ㉣가족들과 담소를 나누고 하루를 마무리하였다.

- ① ㉠ ② ㉡ ③ ㉢ ④ ㉣

14. 우리나라에서 ㉠을 시행하는 목적은?



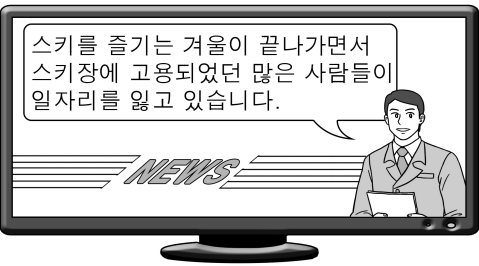
- ① 공정한 재판을 위해서 ② 국회를 보호하기 위해서
③ 사법부의 독립을 위해서 ④ 올바른 법률 제정을 위해서

15. 다음에 해당하는 국가 기관의 구성원은?

법질서에 대한 침해가 있거나 법적 분쟁이 발생했을 때 법을 적용하는 국가 기관이다.

- ① 대통령 ② 국무총리
③ 대법원장 ④ 행정 각부 장관

16. 뉴스에서 말하고 있는 실업의 종류는?



- ① 경기적 실업 ② 계절적 실업
③ 구조적 실업 ④ 마찰적 실업

17. 다음 유물들을 처음 제작한 시기는?



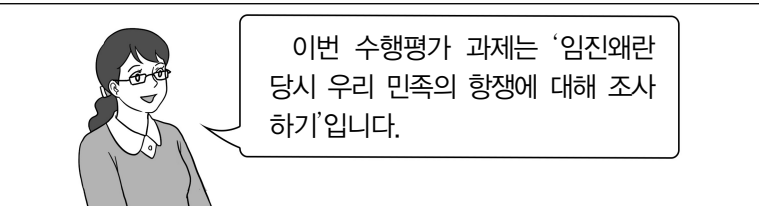
- ① 구석기 시대 ② 신석기 시대
③ 청동기 시대 ④ 철기 시대

18. 다음 설명에 해당하는 국가는?

- 청동기 문화를 배경으로 단군이 건국하였다.
- 8개 조항의 법이 있었다.

- ① 가야 ② 발해 ③ 고구려 ④ 고조선

19. 학생들의 수행평가 과제의 주제로 가장 적절한 것은?



- ① 만주에서 일본군을 무찌르는 김좌진
② 한산도에서 왜군을 격퇴하는 이순신
③ 안시성에서 적과 싸우는 성주와 백성들
④ 살수에서 우중문 부대를 물리치는 을지문덕

20. 백제 성왕이 실시한 정책을 <보기>에서 고른 것은?

<보기>

ㄱ. 사비 천도 ㄴ. 화랑도 개편
ㄷ. 청해진 설치 ㄹ. 국호를 '남부여'로 바꿈.

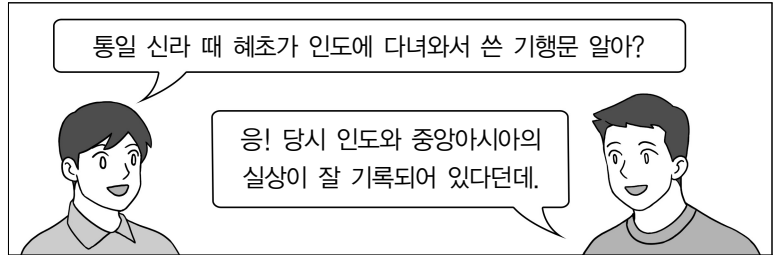
- ① ㄱ, ㄴ ② ㄱ, ㄹ ③ ㄴ, ㄷ ④ ㄷ, ㄹ

21. 다음 설명에 해당하는 단체는?

대한민국 임시 정부 활동에 활기를 불어 넣을 목적으로 조직된 단체이다. 대표적인 활동으로 이봉창의 일왕 폭살 기도, 윤봉길의 상하이 홍커우 공원 의거 등이 있다.

- ① 독립 협회 ② 조선어 학회
③ 한인 애국단 ④ 조선 물산 장려회

22. 다음 대화의 내용에 해당하는 책은?



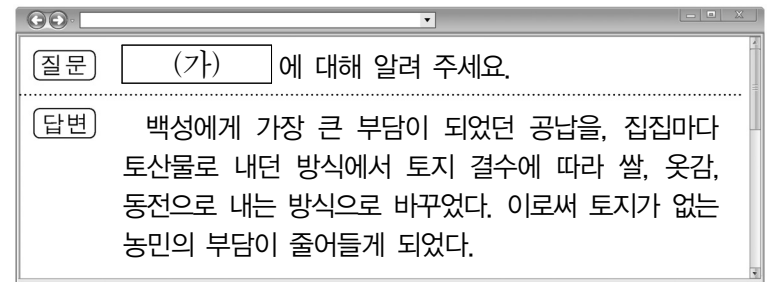
- ① 동의보감 ② 조선왕조실록
③ 삼국사기 ④ 왕오천축국전

23. 다음 주장을 한 인물이 일으킨 사건은?

○ 금(金)나라를 정벌하자!
○ 고려를 황제국으로 칭하고, 서경으로 수도를 옮기자!

- ① 묘청의 난 ② 이자겸의 난
③ 만적의 난 ④ 홍경래의 난

24. (가)에 해당하는 것은?



- ① 공음전 ② 과전법 ③ 관료전 ④ 대동법

25. (가)에 해당하는 내용은?

〈강화도 조약 체결과 개항〉

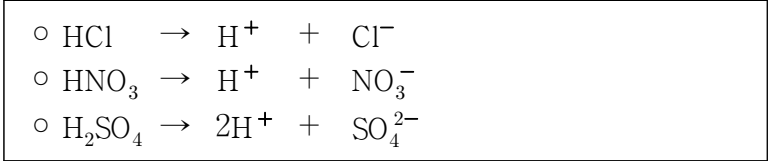
○ 배경: 운요호 사건
○ 내용: 부산 외 2개 항구 개항, 치외 법권, 해안 측량권 허용
○ 성격: (가)

- ① 서양 세력과 처음으로 맺은 조약이다.
② 최초의 근대적 조약이자 불평등 조약이다.
③ 청 상인의 내륙 시장 진출을 허용한 조약이다.
④ 청·일 양국군의 동시 파병을 규정한 조약이다.

※ 확인 사항

답을 OMR 답안지의 해당란에 정확히 표기했는지 확인하십시오.

12. 다음은 세 종류의 산이 물에 녹아 이온화될 때의 반응식이다. 이들 산성 수용액에 공통으로 들어 있는 이온은?



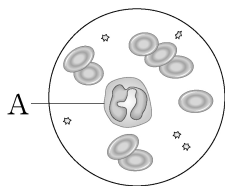
- ① H^+ ② Cl^- ③ NO_3^- ④ SO_4^{2-}

13. 다음 설명에 해당하는 물질은?

식물의 광합성에 필요한 물질이다.
 식물의 뿌리에서 흡수되어 물관을 통해 이동한다.

- ① 물 ② 지방 ③ 메테인 ④ 글리코젠

14. 그림은 혈액의 구성 성분을 나타낸 것이다. 식균 작용을 하는 A의 명칭은?



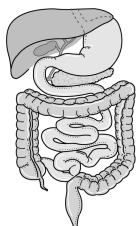
- ① 혈장
 ② 백혈구
 ③ 적혈구
 ④ 혈소판

15. 다음 설명에 해당하는 주영양소는?

대부분 에너지원으로 쓰인다.
 쌀밥, 빵, 국수 등에 많이 들어 있다.

- ① 물 ② 무기 염류 ③ 바이타민 ④ 탄수화물

16. 그림에 해당하는 사람의 기관계는?



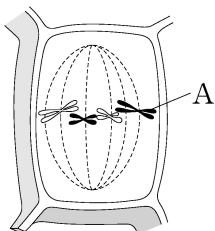
- ① 소화계
 ② 순환계
 ③ 신경계
 ④ 호흡계

17. 다음 설명에 해당하는 것은?

좌우 두 개의 반구로 이루어져 있다.
 기억, 추리, 분석 등 고등 정신 활동을 담당한다.

- ① 간뇌 ② 대뇌 ③ 연수 ④ 중간뇌

18. 그림은 식물의 체세포 분열 과정 중 한 단계를 나타낸 것이다. 염색사가 뭉쳐서 된 A의 명칭은?

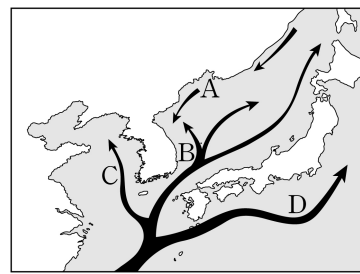


- ① 액포
 ② 세포판
 ③ 염색체
 ④ 미토콘드리아

19. 순종의 둥근 완두(RR)와 주름진 완두(rr)를 교배하여 잡종 1대에서 모두 둥근 완두를 얻었다. 잡종 1대의 유전자형은? (단, 돌연변이는 고려하지 않는다.)

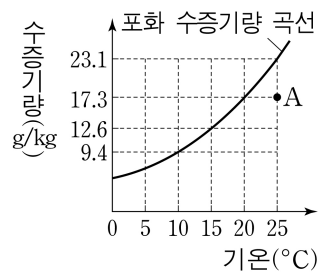
- ① R ② r ③ Rr ④ rr

20. 그림은 우리나라 주변의 해류를 나타낸 것이다. 해류 A~D 중 고위도에서 저위도로 흐르는 한류에 해당하는 것은?



- ① A
 ② B
 ③ C
 ④ D

21. 그래프는 기온에 따른 포화 수증기량의 변화를 나타낸 것이다. A 공기의 이슬점은?



- ① 10°C
 ② 15°C
 ③ 20°C
 ④ 25°C

22. 그림에서 우리나라 여름철 날씨에 주로 영향을 주는 고온 다습한 기단은?

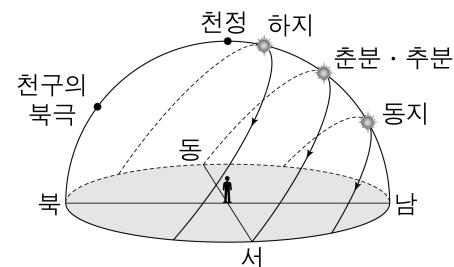


- ① 양쯔 강 기단
 ② 북태평양 기단
 ③ 시베리아 기단
 ④ 오크츠크 해 기단

23. 다음 중 표면 온도가 가장 높은 별은?

- ① 흰색 별 ② 노란색 별 ③ 붉은색 별 ④ 파란색 별

24. 그림은 우리나라 계절별 태양의 일주 운동을 나타낸 것이다. 1년 중 낮이 가장 긴 것은?



- ① 춘분
 ② 하지
 ③ 추분
 ④ 동지

25. 다음 설명에 해당하는 암석은?

퇴적물이 다져지고 굳어져서 만들어진다.
 화석이 발견되기도 한다.

- ① 셰일 ② 편마암 ③ 현무암 ④ 화강암

※ 확인 사항
답을 OMR 답안지의 해당란에 정확히 표기했는지 확인하십시오.

제 6 교시

도 덕

수험번호 ()

성 명 ()

※ 다음 물음에 대한 가장 옳은 답을 하나만 골라, OMR 답안지에 정확히 표기하시오.

1. 다음 설명에 해당하는 것은?

늘 곁에 두고 보면서 자기 생활을 반성할 수 있는 명언이나 격언

- ① 명상 ② 수련 ③ 참선 ④ 좌우명

2. 도덕적 자율성을 갖춘 학생의 대답으로 ㉠에 들어갈 가장 적절한 것은?



- ① 선생님이 걸어 다니라고 시켜서요. ② 뛰다 걸리면 벌점을 받을 수 있잖아요. ③ 걸어 다니면 선생님의 칭찬을 들을 수 있어요. ④ 다른 사람에게 피해를 주는 것은 옳지 않기 때문입니다.

3. 다음 설명과 관련이 있는 것은?

도덕적 실천 의지를 불러일으켜 도덕적 행동을 실천하게 해주는 것으로 공감, 사랑, 선한 의지 등이 있다.

- ① 도덕적 문제 ② 도덕적 토론 ③ 도덕적 실천 동기 ④ 도덕적 원리 검사

4. 공정한 사회 제도의 필요성을 <보기>에서 고른 것은?

<보기>
ㄱ. 사회 정의 실현 ㄴ. 인간다운 삶 보장
ㄷ. 국민 기본권 축소 ㄹ. 물질 만능주의 사회 조성

- ① ㄱ, ㄴ ② ㄱ, ㄷ ③ ㄴ, ㄹ ④ ㄷ, ㄹ

5. 다음 격언이 강조하고 있는 의미는?

한 마리 제비가 왔다고 봄이 온 것은 아니며 한 번의 도덕적 행동으로 도덕적인 사람이 되는 것은 아니다.
- 아리스토텔레스 -

- ① 도덕적 무관심이 필요하다. ② 도덕적 지식을 가져야 한다. ③ 도덕적 사고는 중요하지 않다. ④ 도덕적 행동을 습관화해야 한다.

6. 밑줄 친 말에 대한 설명으로 적절하지 않은 것은?

‘나는 누구인가?’라는 질문을 하고 그 대답을 찾으려는 노력을 통해 자아 정체성을 형성할 수 있다.

- ① 자존감을 갖게 해 준다. ② 태어날 때부터 정해진다. ③ 삶의 방향을 결정짓는 바탕이 된다. ④ 삶을 반성하는 과정에서 형성되기도 한다.

7. 다음에서 설명하고 있는 개념은?

정보 통신망을 통해 대량의 정보가 교환·공유되는 가상의 공간으로 자율성, 익명성, 다양성 등의 특성이 있다.

- ① 현실 공간 ② 지역 사회 ③ 사이버 공간 ④ 녹색 안전지대

8. 일기에서 알 수 있는 가정 생활 도덕 문제의 원인은?

어머니와 아버지께서는 말다툼을 하셨다. 말벌이로 바쁜 어머니께서는 아버지께서 집안일을 도와주기를 바라시지만 아버지께서는 집안일은 여자의 일이라고 생각하신다.

- ① 역할 갈등 ② 출산율 감소 ③ 세대 갈등 ④ 경제적 어려움

9. 이성 교제의 장점을 <보기>에서 고른 것은?

<보기>
ㄱ. 바람직한 성역할을 이해할 수 있다.
ㄴ. 자신이 해야 할 일을 소홀히 할 수 있다.
ㄷ. 각자의 성이 갖는 특성과 차이를 이해할 수 있다.
ㄹ. 성적 유혹에 빠져 그릇된 성적 행동을 할 우려가 있다.

- ① ㄱ, ㄴ ② ㄱ, ㄷ ③ ㄴ, ㄹ ④ ㄷ, ㄹ

10. 평화적 갈등 해결의 자세로 적절하지 않은 것은?

- ① 대화와 소통 ② 양보와 타협 ③ 공감과 경청 ④ 편견과 고정관념

11. 다음 설명에 해당하는 것은?

○ 자신을 있는 그대로 받아들이고 소중히 여기는 것
○ 스스로 자신감을 가지고 적극적으로 인생을 살게 하는 것

- ① 자기 존중 ② 타인 존중 ③ 가족 사랑 ④ 이웃 사랑

12. ㉠에 들어갈 내용으로 적절한 것은?

불교에서는 고통에서 벗어나기 위해서 모든 것이 변한다는 사실을 깨닫고 (㉠)을/를 버려야 한다고 주장했다.

- ① 용기 ② 지혜 ③ 집착 ④ 학식

13. 다음에서 알 수 있는 북한 사회의 특징은?

북한 주민은 나이와 직업에 따라 의무적으로 조직에 가입하여 활동해야 한다. 이와 같은 조직 생활을 통해 당의 지시를 받거나 정치 교육을 받는다.

- ① 자유주의 ② 집단주의 ③ 자본주의 ④ 민주주의

14. 의미 있는 삶을 살아가기 위한 자세를 <보기>에서 고른 것은?

<보기>

- ㄱ. 정신적 가치와 이상을 추구한다.
- ㄴ. 나에게 주어진 삶의 과제를 등한시한다.
- ㄷ. 도덕적인 행동을 통해 다른 사람에게 감동을 준다.
- ㄹ. 순간적인 쾌락과 향락에만 관심을 갖고 살아간다.

- ① ㄱ, ㄴ ② ㄱ, ㄷ ③ ㄴ, ㄹ ④ ㄷ, ㄹ

15. 생명과학 기술을 바람직한 방향으로 발전시키기 위한 노력으로 적절한 것은?

- ① 다른 생명체 및 생태계를 존중한다.
- ② 생화학 무기를 생산하는 데 활용한다.
- ③ 동물에게 고통을 주는 연구를 확대한다.
- ④ 상품화를 목적으로 유전자 연구 결과를 악용한다.

16. 다음에 해당하는 국가의 기원에 관한 이론은?

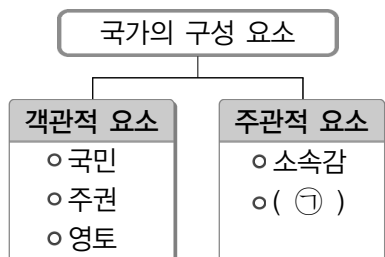
인간은 본성적으로 다른 사람들과 어울려 살기를 원하고, 이에 따라 국가는 자연스럽게 만들어졌다.

- ① 국가정복설 ② 자연발생설
③ 왕권신수설 ④ 직업소명설

17. 진정한 우정을 쌓기 위한 태도로 적절하지 않은 것은?

- ① 비난 ② 믿음 ③ 배려 ④ 협력

18. ㉠에 들어갈 내용으로 적절한 것은?



- ① 성취감 ② 자신감
③ 경쟁 의식 ④ 공동체 의식

19. 세계화 시대의 바람직한 시민의 자세로 적절한 것은?

- ① 국민의 역할과 의무를 소홀히 한다.
- ② 지구가 처한 어려움에 대해서는 외면한다.
- ③ 다른 나라 사람들을 괴롭히고 힘들게 한다.
- ④ 나라의 발전과 인류의 평화를 위해 노력한다.

20. ㉠에 들어갈 내용으로 적절한 것은?

플라톤은 이상적 인간을 (㉠)에 따라 합리적으로 사고하고 행동하여 정의를 추구하는 사람이라고 보았다.

- ① 욕망 ② 감정 ③ 이성 ④ 관습

21. 다음과 같은 남북한 간의 교류·협력이 필요한 이유는?

- 남북한 가수의 합동 콘서트
- 남북한 역사학자 협의회 공동 실태 조사

- ① 불신을 조장하기 위해서
- ② 친밀감을 줄이기 위해서
- ③ 동질성을 회복하기 위해서
- ④ 서로 간의 오해를 키우기 위해서

22. 동·서양의 사상과 이상적 인간상을 바르게 연결한 것은?

- ① 도교 - 군자(君子) ② 유교 - 철인(哲人)
③ 불교 - 보살(菩薩) ④ 기독교 - 지인(至人)

23. 다음에 해당하는 인간 본성에 대한 이론은?

모든 사람은 다른 사람을 불쌍히 여기고 자기의 잘못을 부끄러워하며 상대방에게 양보하고 옳고 그름을 분별할 수 있는 착한 마음을 가지고 태어난다.

- ① 백지설 ② 성선설 ③ 성악설 ④ 성무선악설

24. 다음 중 가치 판단에 해당하는 것은?

- ① 장미 향기가 정말 좋다.
- ② 올림픽은 4년마다 열린다.
- ③ 독도는 대한민국의 영토이다.
- ④ 삼각형 내각의 합은 180°이다.

25. 다음에서 알 수 있는 문화의 특성은?

식사할 때 숟가락이나 젓가락을 사용하는 나라가 있고, 포크와 나이프를 사용하는 나라가 있는가 하면 아무런 도구 없이 손을 사용하는 나라도 있다.

- ① 다양성 ② 보편성 ③ 객관성 ④ 절대성

※ 확인 사항
답을 OMR 답안지의 해당란에 정확히 표기했는지 확인하십시오.