

제 1 교시

국 어

수험번호 ( )

성 명 ( )

※ 다음 물음에 대한 가장 옳은 답을 하나만 골라, OMR 답안지에 정확히 표기하십시오.

1. 표준 발음으로 옳은 것은?

- ① 국물[국물]                      ② 물약[무약]
- ③ 백로[백노]                      ④ 혼례[홀네]

2. 다음 규정에 해당하지 않는 것은?

한글 맞춤법

제27항 둘 이상의 단어가 어울리거나 접두사가 붙어서 이루어진 말은 각각 그 원형을 밝히어 적는다.

- ① 물난리                              ② 바느질
- ③ 부엌일                              ④ 헛웃음

3. 어법에 맞고 자연스러운 문장은?

- ① 그는 군인으로서 할 일을 하였다.
- ② 말과 행동은 결코 일치해야 한다.
- ③ 오늘은 운동과 그림을 그리기로 하자.
- ④ 고객님의 주문하신 상품은 품질되었습니다.

[4~5] 다음 글을 읽고 물음에 답하십시오.

나.랏.말.쓰.미 中.동.國.국.에 ㉠.달.아 文.문.字.종.와.로 서르  
 ㉡.스.못.디 아.니.홀.씨 .이.런 전.초.로 어.린 百.백.姓.성.이  
 니르.고.져 .흙 .배 이.셔.도 ㅁ.춤.내 제 .ㅁ.들 시.러  
 꺾.디 :물.흙 .노.미 하.니.라 .내 .이.를 爲.왕.하.야 :어.엿.비  
 너.겨 .새.로 .스.물.여.들 字.종.를 ㉢.땡.ㄱ.노.니 :사.름.마.다  
 :히.여 :수.비 ㉣.니.겨 .날.로 .부.매 便.便.安.안.의 ㅎ.고.져  
 흥 쓰르.미니.라

- 훈민정음 언해본 어제 서문 -

4. ㉠~㉣의 문맥상 의미를 현대 국어로 바르게 활용한 것은?

- ① ㉠: 이곳의 기후가 우리나라와 달라 비가 많이 온다.
- ② ㉡: 진정한 충신은 두 임금을 섬기지 않아.
- ③ ㉢: 산속 공기가 맑으니 상쾌한 기분이 들어.
- ④ ㉣: 우리 편이 상대방을 이겨 기분이 좋아.

5. 윗글에 나타난 표기의 특징으로 적절하지 않은 것은?

- ① 어두 자음군이 사용되었다.
- ② 한글과 한자가 혼용되었다.
- ③ 주격 조사인 '가'가 쓰였다.
- ④ 방점으로 성조를 나타내었다.

[6~8] 다음 글을 읽고 물음에 답하십시오.

폭포는 곧은 절벽을 무서운 기색도 없이 떨어진다.

규정할 수 없는 물결이  
무엇을 향하여 떨어진다는 의미도 없이  
계절과 주야를 가리지 않고  
고매한 정신처럼 쉼 사이 없이 떨어진다.

금잔화도 인가도 보이지 않는 밤이 되면  
폭포는 곧은 소리를 내며 떨어진다.

곧은 소리는 소리이다.  
곧은 소리는 곧은  
소리를 부른다.

번개와 같이 떨어지는 물방울은  
취할 순간조차 마음에 주지 않고  
나타<sup>1)</sup>와 안정을 뒤집어 놓은 듯이  
높이도 폭도 없이  
떨어진다.

- 김수영, 「폭포」 -

1) 나타(懶惰): 나태. 행동, 성격 따위가 느리고 게으름.

6. 윗글의 표현상 특징으로 적절하지 않은 것은?

- ① 비유법이 나타난다.
- ② 특정 시어가 반복된다.
- ③ 현재형 종결 어미가 나타난다.
- ④ 계절의 변화에 따라 시상이 전개된다.

7. 다음 설명의 밑줄 친 부분과 성격이 다른 것은?

이 작품은 폭포를 통해 부정한 현실에 타협하지 않으려는 화자의 의지와 정신을 표현하고 있다.

- ① 곧은 소리
- ② 나타와 안정
- ③ 규정할 수 없는 물결
- ④ 번개와 같이 떨어지는 물방울

8. 윗글에 대한 감상으로 가장 적절한 것은?

- ① 1연에서는 '폭포'에 대한 화자의 원망이 드러나는군.
- ② 3연에서는 명령적 어조를 사용하여 긴장감을 유발하는군.
- ③ 4연에서는 '폭포'의 선구자적인 모습이 드러나는군.
- ④ 5연에서는 '떨어진다'는 시어를 통해 폭포의 정적(靜的)인 모습이 드러나는군.

[9~12] 다음 글을 읽고 물음에 답하시오.

(가) 가시리 가시리잇고 나는

㉠ 브리고 가시리잇고 나는

위 증즐가 太平盛代(대평성대)

㉡ 날러는 엇디 살라 호고

브리고 가시리잇고 나는

위 증즐가 太平盛代(대평성대)

잡스와 두어리마는

㉢ 선호면 아니 올세라.

위 증즐가 太平盛代(대평성대)

설은 님 보내옵노니 나는

가시는 듯 도서 오쇼셔 나는

㉣ 위 증즐가 太平盛代(대평성대)

- 작자 미상, 「가시리」 -

(나) 출하리 물ᄃ의 가 비 길히나 보자 하니

브람이야 물결이야 어둥정<sup>1)</sup> 된더이고.

샤공은 어디 가고 빈 비만 걸렸느니.

강턴(江天)의 혼자 서서 디는<sup>2)</sup> 희를 구버보니

넘다히 소식(消息)이 더욱 아득흔더이고.

모침(茅簷)<sup>3)</sup> 촌 자리의 밤둥만 도라오니

반벽청등(半壁靑燈)<sup>4)</sup> 은 늘 위호야 불났느고.

오르며 느리며 헤쓰며<sup>5)</sup> 바니니<sup>6)</sup>

저근덧 역진(力盡)호야 풋좁을 잠간 드니

정성(精誠)이 지극호야 꿈의 님을 보니

옥(玉) ᄃ튼 얼굴이 반(半)이나마 늘거세라.

므옴의 머근 말슴 슬크장<sup>7)</sup> 숲자<sup>8)</sup> 하니

눈물이 바라 나니 말인들 어이호며

정(情)을 못다호야 목이조차 떼여하니

오던된<sup>9)</sup> 계성(鷄聲)의 잠은 엇디 씨뚫던고.

어와, 허스(虛事)로다. 이 님이 어디 간고.

결의 니러 안자 창(窓)을 열고 바라보니

어엿븐 그림재 날 조출 썬이로다.

출하리 식여디여<sup>10)</sup> 낙월(落月)이나 되야이셔

님 겨신 창(窓) 안히 번드시 비최리라.

각시님 돌이야크니와 구즌 비나 되쇼셔.

- 정철, 「속미인곡」 -

1) 어둥정: 어리둥절. 어수선하게.

2) 디는: 지는.

3) 모침(茅簷): 띠로 지붕을 이은 초가.

4) 반벽청등(半壁靑燈): 벽 가운데 달린 등불.

5) 헤쓰며: 마음이 초조하여 허둥거리며.

6) 바니니: 부질없이 왔다갔다 하니.

7) 슬크장: 실컷.

8) 숲자: 사퇴려고, 아뢰려고.

9) 오던된: 방정맞은.

10) 식여디여: 죽어서.

9. (가)에 대한 설명으로 가장 적절한 것은?

- ① 화자는 임과의 재회를 바라고 있다.
- ② 의인화를 통해 시상을 전개하고 있다.
- ③ 4음보의 규칙적인 율격을 활용하고 있다.
- ④ 자연경관을 제시한 후 감정을 노래하고 있다.

10. (가)에서 화자가 입을 보내 주려는 이유가 드러난 부분은?

- ① ㉠                      ② ㉡                      ③ ㉢                      ④ ㉣

11. (나)의 화자에 대한 설명으로 적절하지 않은 것은?

- ① ‘꿈’ 속에서 입을 보았다.
- ② ‘물ᄃ’에서 사공을 만났다.
- ③ ‘강턴(江天)’에서 지는 해를 바라보고 있다.
- ④ ‘낙월(落月)’이라도 되어 입 계신 곳을 비추고 싶어 한다.

12. (가)와 (나)의 공통점으로 가장 적절한 것은?

- ① 구체적인 장소가 드러난다.
- ② 일정한 후렴구가 반복된다.
- ③ 과거에 대한 회상이 나타난다.
- ④ 화자의 안타까운 심정이 드러난다.

[13~14] 다음 글을 읽고 물음에 답하시오.

가짜 명품을 지칭하는 ‘짜퉁’이라는 말은 일부 사전에도 ㉠ 등재되어 있다. ㉡ 비록 분명한 사실은 표준어가 아니라는 점이다. 최근에는 뉴스 진행자가 ‘짜퉁’이라는 단어를 버젓이 사용하고 있는 것을 보고 깜짝 놀랐다. ㉢ 굳이 뉴스에서까지 연예인 소식을 다룰 필요가 있을까? 물론 뉴스 진행자는 ㉣ 쓰여진 뉴스 대본대로 읽었겠지만, 아쉬운 마음이 드는 것은 어쩔 수 없다. 우리 한국어의 어휘에는 ‘짜퉁’이라는 속어를 굳이 쓰지 않아도 모조품, 유사품, 복제품 등 ‘짜퉁’이라는 속어를 대신할 표준어가 많다.

13. 윗글을 고쳐 쓰기 위한 방안으로 적절하지 않은 것은?

- ① ㉠은 부적절한 어휘이므로 ‘등기’로 고친다.
- ② ㉡은 앞 문장과 연결을 고려하여 ‘그런데’로 고친다.
- ③ ㉢은 글의 통일성을 떨어뜨리므로 삭제한다.
- ④ ㉣은 피동 표현이 불필요하게 반복되었으므로 ‘쓰인’으로 고친다.

14. 윗글에 이어질 내용을 <조건>에 맞게 쓴 것으로 가장 적절한 것은?

<조건>

- 글의 주제를 드러낼 것
- 대구법을 활용할 것

- ① 바른 언어생활은 표준어 사용에서 시작된다.
- ② 속어 사용을 지양하고 표준어 사용을 지향하자.
- ③ 일상에서 속어 사용을 늘리면 친근감이 형성된다.
- ④ 친구끼리 사용하는 속어는 우리말을 풍부하게 한다.

[15~17] 다음 글을 읽고 물음에 답하시오.

정선(旌善) 고을에 한 양반이 있었는데 어질고 글 읽기를 좋아하였으므로, 군수(郡守)가 새로 도임(到任)하게 되면 반드시 몸소 그의 오두막집에 가서 인사를 차렸다. 그러나 집이 가난하여 해마다 관청의 환곡을 빌려 먹다 보니, 해마다 쌓여서 그 빛이 일천 섬에 이르렀다. 관찰사가 고을을 순행하면서 환곡 출납을 조사해 보고 크게 노하여,

“어떤 놈의 양반이 군량미를 축냈단 말인가?”

하고서 그 양반을 잡아 가두라고 명했다. 군수는 그 양반이 가난하여 보상을 할 길이 없음을 ㉠ 내심 안타깝게 여겨 차마 가두지는 못하였으나, 그 역시도 어찌할 수 없는 일이었다. 양반이 어떻게 해야 할 줄을 모르고 밤낮으로 울기만 하고 있으니, 그의 아내가 몰아세우며,

┌ “당신은 평소에 그렇게도 글 읽기를 좋아하더니만  
[A] 현관(縣官)<sup>1)</sup>에게 환곡을 갚는 데에는 아무 소용이 없구려.  
└ 쫓쫓, 양반이라니, 한 푼짜리도 못 되는 그놈의 양반.”  
이라 했다.

그때 그 마을에 사는 부자가 식구들과 상의하기를,  
“양반은 아무리 가난해도 늘 높고 귀하며, 우리는 아무리 잘 살아도 늘 낮고 천하여 감히 말도 타지 못한다. 또한 양반을 보면 움츠러들어 숨도 제대로 못 쉬고 뜰아래 엎드려 절해야 하며 코를 땅에 박고 무릎으로 기어가야 하니, 우리는 이와 같이 욕을 보는 신세다. 지금 저 양반이 환곡을 갚을 길이 없어 이만저만 곤욕(窘辱)<sup>2)</sup>을 보고 있지 않으니 진실로 양반의 신분을 보존하지 못할 형편이다. 그러니 우리가 그 양반을 사서 가져 보자.”

하고서 그 집 문에 나아가 그 환곡을 갚아 주겠다고 청하니, 양반이 반색하며 그렇게 하라고 했다. 그래서 부자는 당장에 그 환곡을 관에 바쳤다. 군수가 크게 놀라 웬일인가 하며 그 양반을 위로도 할 겸 어떻게 해서 환곡을 갚게 되었는지 묻기 위해 찾아갔다. 그런데 그 양반이 병거지를 쓰고 잠방이를 입고 길에 엎드려 ‘소인’이라 아뢰며 감히 쳐다보지도 못하는 것이 아닌가? 군수가 깜짝 놀라 내려가 붙들며,  
“그대는 왜 이렇게 자신을 낮추어 욕되게 하시오?”

- 박지원, 『양반전』 -

1) 현관(縣官): 현(縣)의 우두머리인 현령과 현감을 통틀어 이르는 말. 여기에서는 정선 군수를 가리킨다.  
2) 곤욕(窘辱): 곤욕(困辱). 심한 모욕, 또는 매우 참기 힘든 일.

15. 윗글을 통해 알 수 있는 것으로 적절하지 않은 것은?

- ① 경제적으로 어려운 양반이 있었다.
- ② 양반 신분을 사고파는 일이 있었다.
- ③ 나라에서 가난한 사람에게 곡식을 빌려 주었다.
- ④ 양반이 아니라도 돈이 많으면 귀한 대접을 받았다.

16. [A]에서 ‘아내’가 말하고자 하는 핵심 내용으로 가장 적절한 것은?

- ① 양반은 글 읽기를 잘해야 체면이 서는 법이다.
- ② 벼슬길에 나아갈 생각하지 말고 학문에 정진해야 한다.
- ③ 양반의 가치가 한 푼이 안 된다니 세상인심이 야박해졌다.
- ④ 가족의 생계도 책임지지 못하고 공부만 하는 양반은 쓸모가 없다.

17. ㉠에 드러난 ‘군수’의 심리와 가장 가까운 것은?

- ① 분기탱천(憤氣撐天)                      ② 수구초심(首丘初心)
- ③ 측은지심(惻隱之心)                    ④ 풍수지탄(風樹之嘆)

[18~20] 다음 글을 읽고 물음에 답하시오.

지구의 자전축이 23.5° 기울어져 있기 때문에 북반구에서 해는 여름에 높이 뜨고 겨울에 낮게 뜬다. 땅 위에 서 있는 집을 기준으로 얘기하면 여름에는 햇빛이 수직에 가깝게 내리꽂히고 겨울에는 낮은 각도로 완만하게 비춘다. 한옥은 햇빛을 다스리기 위해 여름과 겨울의 햇빛이 처마와 만나 이루는 각도의 중간 지점에 창을 낸다. 여름에 귀찮은 햇빛을 물리치고 겨울에는 고마운 햇빛을 끌어들이기 위해서다.

햇빛을 조절하는 방법은 두 가지다. 하나는 지붕 처마를 적절히 돌출시키는 것이다. 이렇게 하면 여름에는 처마가 햇빛을 막아 튕겨 내고 겨울에는 햇빛을 통과시킨다. 다른 하나는 방의 깊이를 조절하는 방법이다. 특히 추운 겨울, 처마를 통과해 방 안으로 들어오는 햇빛의 양을 조절하기 위해 방을 깊지 않게 짓는다. 덕분에 햇빛이 방 끝까지 기분 좋게 들어오고, 난방과 소독에도 일조한다.

<중략>

한옥은 바람의 집이기도 하다. 한반도 여름에는 남동풍이, 겨울에는 북서풍이 분다. 우리 조상들은 바람이 절실히 필요한 여름을 위해 한옥에 남동 방향으로 바람길을 만들었다. 바람길은 시원하고 ‘통(通)’ 크게 나 있다. 약간의 인색함도, 머뭇거림도 없이 집의 끝에서 끝까지 일직선으로 뚫려 있다. 바람보고 돌아가라거나 쉬어 가라거나 꺾어 가라거나 하는 따위의 실례를 범하는 법이 절대 없다.

또한 바람길은 하나가 아니다. 이쪽에서 바람길, 저쪽에서 바람길이다. x축과 y축이 이루는 십(十)자 구도를 기본으로 여러 개의 사선이 교차한다. 한옥의 바람길을 열어 주는 것은 창과 문이다. 한옥의 창문은 아무렇게나 난 것 같지만 사실 그렇지 않다. 창문만 선으로 연결하면 꼬치에 낀 산적 처럼 한 줄로 늘어선다. 창 위치가 모두 일직선으로 놓여 있기 때문이다.

- 임석재, 『지혜가 담긴 집 한옥』 -

18. 윗글에 언급된 한옥에 대한 설명으로 적절하지 않은 것은?

- ① 햇빛이 대청과 만나는 지점에 창을 낸다.
- ② 겨울철 햇빛은 한옥의 난방과 소독에 일조한다.
- ③ 지붕 처마를 적절히 돌출시켜 햇빛을 조절한다.
- ④ 추운 겨울, 방 안으로 들어오는 햇빛의 양을 조절하기 위해 방을 깊지 않게 짓는다.

19. 윗글의 내용 전개 방식으로 가장 적절한 것은?

- ① 한옥과 양옥의 장단점을 비교하고 있다.
- ② 한옥의 발전 과정을 시간 순으로 나열하고 있다.
- ③ 지역에 따른 한옥의 크기를 예를 들어 제시하고 있다.
- ④ 햇빛과 바람을 고려한 한옥 구조의 원리를 분석하고 있다.

20. 다음 물음에 대한 답으로 가장 적절한 것은?

한옥을 지을 때 여름에 바람이 잘 통하게 하기 위해서는 어떻게 하는 것이 좋을까?

- ① 바람길을 이리저리 꺾는다.
- ② 창과 문의 개수를 일치시킨다.
- ③ 남서쪽으로만 바람길을 만든다.
- ④ 바람길이 생기도록 창과 문을 낸다.

[21~25] 다음 글을 읽고 물음에 답하시오.

〈앞부분 줄거리〉 의사가 된 아들은 병원을 확장하기 위해 시골에 있는 농토를 팔려는 생각으로 고향에 내려온다. 아버지는 나무다리가 새로 놓인 뒤 동네 사람들에게 잊혀가던 돌다리를 고치기 위해 애를 쓰고 있다.

아들은, 의사인 아들은, 마치 환자에게 치료 방법을 이르듯이, 냉정히 차근차근히 이야기를 시작하였다. 외아들인 자기가 부모님을 진작 모시지 못한 것이 잘못된 것, 한집에 모여려면 자기가 병원을 버리기보다는 부모님이 농토를 버리고 서울로 오시는 것이 순리인 것, 병원은 낱알이 환자가 늘어 가나 입원실이 부족되어 오는 환자의 삼분지 일밖에 수용 못 하는 것, 지금 시국에 큰 건물을 새로 짓기란 거의 불가능의 일인 것, 마침 교통 편한 자리에 삼층 양옥이 하나 난 것, 인쇄소였던 집인데 전체가 콘크리트여서 방화 방공으로 가치가 충분한 것, 삼층은 살림집과 직공들의 합숙실로 꾸미었던 것이라 입원실로 변장하기에 용이한 것, 각층에 수도·가스가 다 들어온 것, 그러면서도 가격은 얍한<sup>1)</sup> 것, 염하기는 하나 삼만 이천 원이라, 지금의 병원을 팔면 일만 오천 원쯤은 받겠지만 그것은 새집을 고치는 데와, 수술실의 기계를 완비하는 데 다 들어갈 것이니 집값 삼만 이천 원은 따로 있어야 할 것, 시골에 땅을 둔대야 일 년에 고작 삼천 원의 실리가 떨어질지 말지 하지만 땅을 팔아 다 병원만 확장해 놓으면, 적어도 일 년에 만 원 하나씩은 이익을 뽑을 자신이 있는 것, 돈만 있으면 땅은 이담에라도, 서울 가까이라도 얼마든지 좋은 것으로 살 수 있는 것……. 아버지는 아들의 의견을 끝까지 잠잠히 들었다. 그리고

“점심이나 먹어라. 나두 좀 생각해 봐야 대답허겠다.”

하고는 다시 개울로 나갔고, 떨어졌던 다릿돌을 올려놓고야 들어와 그도 점심상을 받았다.

점심을 자시면서였다.

“원, 요즘 사람들은 힘두 줄었나 봐! ㉠그 다리 첩 놀 제 내가 어려서 봤는데 불과 여남은이서 거들던 돌인데 장정 수십 명이 한나잘을 씨름을 허다니!”

“㉡나무다리가 있는데 건 왜 고치시나요?”

[A] “너두 그런 소릴 허는구나. 나무가 돌만 허다든? 넌 그 다리서 고기 잡던 생각두 안 나니? 서울루 공부 갈 때 그 다리 건너서 떠나던 생각 안 나니? 시쳇 사람들은 모두 인정이란 게 사람한테만 쓰는 건 줄 알드라! 내 할아버니 산소에 상돌을 그 다리루 건네다 모셨구, 내가 천잘<sup>2)</sup> 끼구 그 다리루 글 읽으러 댕겼다. 네 어미두 그 다리루 가말 타구 내 집에 왔어. 나 죽건 그 다리루 건네다 물어라……. 난 서울 갈 생각 없다.”

- 이태준, 「돌다리」 -

1) 얍하다(廉--): 값이 싸다.  
2) 천잘: 천자문을.

21. 윗글에서 아들이 아버지를 설득하기 위해 제시한 근거가 아닌 것은?

- ① 병원에 오는 환자가 줄고 있다.
- ② 나중이라도 좋은 땅을 다시 살 수 있다.
- ③ 마침 병원으로 쓰기에 적당한 건물이 나왔다.
- ④ 땅보다 병원에서 더 큰 이익을 얻을 자신이 있다.

22. ㉠과 ㉡에 대한 설명으로 가장 적절한 것은?

- ① ㉠은 아버지가 어릴 적부터 봐 왔다.
- ② ㉠을 고치는 것에 대해 아들과 아버지의 생각이 같다.
- ③ ㉡에는 아버지의 애정이 깃들어 있다.
- ④ ㉡으로 인해 마을 장정들과 아들이 갈등하고 있다.

23. 다음을 참조하여 윗글을 감상할 때 가장 적절한 것은?

이 작품은 서구 자본주의 문화의 영향으로 근대적 가치관이 확산된 시기를 배경으로 한다. 당시 근대적 가치관을 받아들인 젊은 세대와 기존의 전통적 가치관을 지닌 기성 세대 간의 갈등을 다루고 있다.

- ① 장정 수십 명이 다리를 고침으로써 서구 자본주의 문화를 확산시켰다.
- ② 의사가 된 아들이 아버지를 만나게 되면서 전통적 가치관을 옹호하게 되었다.
- ③ 아버지가 그 다리를 고치는 이유는 근대적 가치관을 받아들이기 위해서이다.
- ④ 땅을 팔기를 원하는 아들과 서울로 갈 생각이 없는 아버지의 모습에서 세대 간 갈등이 드러난다.

24. [A]에서 드러나는 ‘아버지’의 생각으로 적절하지 않은 것은?

- ① ‘나 죽거든 그 다리루 건너서 물어 줘.’
- ② ‘그 다리가 좋긴 해도 나무다리만 못해.’
- ③ ‘그 다리에 내 지나 온 삶의 추억이 담겨 있어.’
- ④ ‘요즘 사람들은 사물에도 인정이 깃들어 있다는 걸 몰라.’

25. [A]의 밑줄 친 부분과 어울리는 속담으로 가장 적절한 것은?

- ① 가는 날이 장날이다.
- ② 발 없는 말이 천 리 간다.
- ③ 낮말은 새가 듣고 밤말은 쥐가 듣는다.
- ④ 새 도랑 내지 말고 옛 도랑 메우지 말라.

※ 확인 사항  
답을 OMR 답안지의 해당란에 정확히 표기했는지 확인하시오.

제 3 교시

영 어

수험번호 ( )

성 명 ( )

※ 다음 물음에 대한 가장 옳은 답을 하나만 골라, OMR 답안지에 정확히 표기하십시오.

[1~3] 밑줄 친 부분의 뜻으로 가장 알맞은 것을 고르시오.

1. My hobby is reading novels.  
① 사전 ② 소설 ③ 영화 ④ 잡지

2. I look forward to meeting my new friend.  
① 기대하다 ② 주저하다 ③ 연기하다 ④ 후회하다

3. I am aware of the importance of regular exercise.  
① 겨루다 ② 알고 있다 ③ 수여하다 ④ 두려워하다

4. 두 단어의 의미 관계가 나머지 셋과 다른 것은?  
① far - near                      ② huge - large  
③ weak - strong                ④ same - different

5. 게시판에서 알 수 없는 것은?

**Bulletin Board**

**The 2016 English Writing Contest  
by Ace Herald**

- When : April 10th, 2016
- Where : Conference room in the Ace Herald Building
- How to Apply : Sign up at [www.aceherald.co.kr](http://www.aceherald.co.kr)

① 대회 날짜 ② 대회 장소 ③ 신청 방법 ④ 참여 인원

[6~8] 빈칸에 공통으로 들어갈 말로 가장 알맞은 것을 고르시오.

6. I think we are \_\_\_\_\_ friends.  
○ Could you \_\_\_\_\_ the door, please?  
① run            ② sit            ③ pull            ④ close

7. \_\_\_\_\_ do you want for dinner?  
○ \_\_\_\_\_ I want is health, not money.  
① Who            ② That            ③ What            ④ While

8. It has been a long time \_\_\_\_\_ I saw you.  
○ You should wear a coat \_\_\_\_\_ it is cold.  
① to            ② by            ③ then            ④ since

9. 밑줄 친 격언의 의미로 가장 알맞은 것은?  
A: You never left me alone whenever I needed your help.  
B: A friend in need is a friend indeed.

- ① 기회가 왔을 때 잡아야 한다.
- ② 어릴 적 습관은 고치기 힘들다.
- ③ 오해 받을 행동은 하지 말아야 한다.
- ④ 어려울 때 도와주는 친구가 진정한 친구다.

10. 대화에서 알 수 있는 A의 심경으로 가장 알맞은 것은?  
A: Mom, I feel really down today.  
B: I'm sorry to hear that. What's the matter?  
A: I'm really concerned about the result of my exam yesterday.

- ① bored            ② happy            ③ excited            ④ worried

11. 대화가 이루어지는 장소로 가장 알맞은 것은?  
A: Hi. I'd like to check in.  
B: Can I see your passport?  
A: Sure. Here you are. Can I choose a window seat?  
B: No problem. Here is your ticket. Have a nice flight!

- ① 공항            ② 병원            ③ 소방서            ④ 옷 가게

[12~13] 대화의 빈칸에 들어갈 말로 가장 알맞은 것을 고르시오.

12. A: \_\_\_\_\_?  
B: Yes, I'll have a ham sandwich.  
① May I take your order  
② Where is the bathroom  
③ When did you have lunch  
④ Will you eat here or take out

13. A: How about playing tennis with me?  
B: \_\_\_\_\_.  
① It's my book                      ② That sounds nice  
③ This is my mom                    ④ The movie was interesting

14. 주어진 말에 이어질 두 사람의 대화 순서로 가장 알맞은 것은?

What kind of music do you like?

- (A) Great! I'd love to go.  
 (B) I like jazz.  
 (C) So do I. Let's go to a jazz concert together.

- ① (A) - (B) - (C)                      ② (B) - (C) - (A)  
 ③ (C) - (A) - (B)                      ④ (C) - (B) - (A)

15. 밑줄 친 some rules에 언급되지 않는 것은?

Welcome to Central Museum! The museum has some rules which you should keep. Taking photographs is not allowed. Also, remember to turn off your cellphone. Eating food is not allowed, either.

- ① 사진 촬영 금지                      ② 실내 낙서 금지  
 ③ 휴대 전화 전원 끄기                ④ 음식 섭취 금지

16. 다음 글을 쓴 목적으로 가장 알맞은 것은?

Hi, Mike. How have you been? Thank you very much for your kindness while I stayed at your home. I will never forget everything I experienced with you and your family.

- ① 감사                      ② 제안                      ③ 충고                      ④ 항의

17. 밑줄 친 It(it)이 가리키는 것은?

It usually appears on your face. If you squeeze it with your dirty fingers, this may leave some marks on your skin. So, don't touch it.

\* squeeze: ~을(를) 짜다

- ① 주름                      ② 하품                      ③ 여드름                      ④ 재채기

18. 다음 문장이 들어가기에 가장 알맞은 곳은?

Instead, I decided to make them with paper myself.

On the way home, I wanted to buy carnations for my parents. ( ① ) I went to a flower shop. ( ② ) However, I gave up buying them because of their high price. ( ③ ) Fortunately, my parents really loved my carnations. ( ④ )

19. 다음 글의 제목으로 가장 알맞은 것은?

Pizza came from various countries such as Greece, Egypt and Turkey. People there baked flat breads on hot stones. They put many kinds of toppings on these breads. This was the beginning of pizza.

- ① The Origin of Pizza  
 ② The Location of Greece  
 ③ The Benefits of Traveling  
 ④ The Kinds of Food in Korea

[20~21] 다음 글의 빈칸에 들어갈 말로 가장 알맞은 것을 고르시오.

20.

\_\_\_\_\_ are a way of delivering your opinion with your hands, arms or head. For example, you can make a fist to show a strong feeling, or you can point to your debate partner to speak against his or her opinion.

\* fist: 주먹

- ① Books                                      ② Letters  
 ③ Gestures                                 ④ Watches

21.

Astronauts need special clothes in space. Their suits, which include gloves, a helmet and boots, \_\_\_\_\_ them from the changes in pressure and temperature.

- ① dig                                      ② harm                                      ③ shoot                                      ④ protect

22. 다음 글에서 알 수 없는 것은?

Hello. I'm the captain of JTC, the drama club. Do you want to be a Romeo or a Juliet? Then, join us! You can learn how to act, and you may perform at the school festival. Visit us at 4 p.m. on Mondays.

- ① 동아리 이름                                ② 활동 내용  
 ③ 동아리 역사                                ④ 방문 시간

23. 다음 글의 내용에서 새 친구를 사귀기 위한 태도가 아닌 것은?

In order to make new friends, you have to give a good impression of yourself. Firstly, listen to others. Secondly, make sure you have a smile on your face. Lastly, try to help people.

- ① 다른 사람 말에 귀를 기울인다.  
 ② 얼굴에 미소를 띤다.  
 ③ 항상 자신의 의견을 주장한다.  
 ④ 사람들을 도와주려고 노력한다.

[24~25] 다음 글을 읽고 물음에 답하시오.

Advertisements usually give useful information to consumers and help them know quickly and easily about new products. \_\_\_\_\_, they may cause problems by encouraging people to buy more products than they need.

24. 위 글의 빈칸에 들어갈 말로 가장 알맞은 것은?

- ① However                                      ② Fortunately  
 ③ For example                                ④ In conclusion

25. 위 글의 주제로 가장 알맞은 것은?

- ① 광고 모델                                      ② 광고 비용  
 ③ 광고의 종류                                 ④ 광고의 양면성

※ 확인 사항

답을 OMR 답안지의 해당란에 정확히 표기했는지 확인하시오.

제 ② 교시

수 학

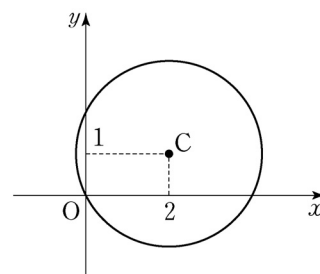
수험번호 ( )

성 명 ( )

※ 다음 물음에 대한 가장 옳은 답을 하나만 골라, OMR 답안지에 정확히 표기하시오.

- 두 집합  $A, B$ 에 대하여  $A \cap B = \emptyset$ 인 것은?
  - $A = \{1, 3\}, B = \{2, 4, 6\}$
  - $A = \{a, b, c\}, B = \{c, d, e\}$
  - $A = \{1, 2, 4\}, B = \{x \mid x \text{는 } 6 \text{의 약수}\}$
  - $A = \{x \mid x \text{는 } 5 \text{ 이하의 짝수}\}, B = \{1, 2, 3\}$
- 다음 중 참인 명제는?
  - $1+2 > 5$ 이다.
  - $x+3=5$ 이다.
  - $x=2$ 이면  $2x=4$ 이다.
  - 2의 배수는 4의 배수이다.
- 두 실수  $x, y$ 에 대하여  $(x-3)+(y+2)i=0$ 이 성립할 때,  $x+y$ 의 값은? (단,  $i = \sqrt{-1}$ )
  - 5
  - 1
  - 1
  - 5
- 두 다항식  $A = x^2 + 1, B = -x - 1$ 에 대하여  $A+B$ 는?
  - $x$
  - $x+2$
  - $x^2 - 2$
  - $x^2 - x$
- 다음 중  $x$ 에 대한 항등식은?
  - $x=1$
  - $2x^2 - x = 0$
  - $(x+2)^2 = 2x+5$
  - $x(x+2) = x^2 + 2x$
- $x + \frac{1}{x} = 2$ 일 때,  $x^2 + \frac{1}{x^2}$ 의 값은?
  - 1
  - 2
  - 3
  - 4

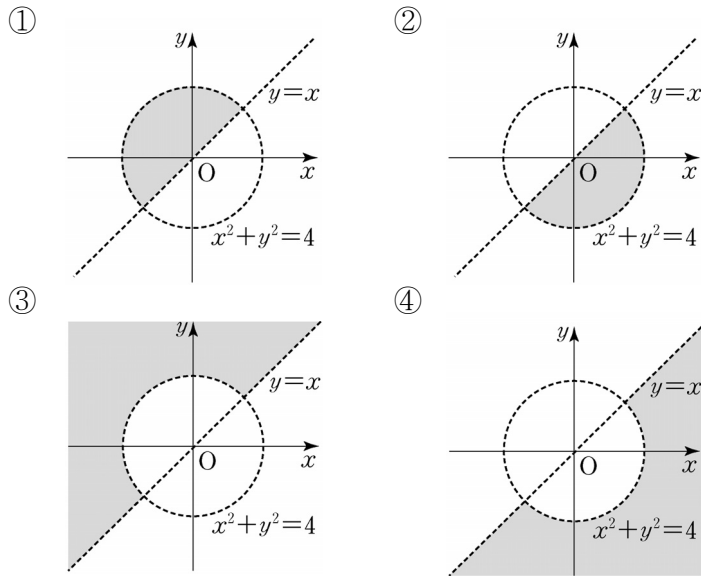
- 이차방정식  $x^2 + 2x + m - 3 = 0$ 이 중근을 가질 때, 실수  $m$ 의 값은?
  - 0
  - 2
  - 4
  - 6
- 연립방정식  $\begin{cases} x+y=6 \\ y+z=3 \\ z+x=5 \end{cases}$ 의 해가  $x=a, y=b, z=1$ 일 때,  $a-b$ 의 값은?
  - 2
  - 4
  - 6
  - 8
- 이차부등식  $x^2 - 5x + 4 \leq 0$ 를 만족하는 자연수  $x$ 의 개수는?
  - 1
  - 2
  - 3
  - 4
- 좌표평면 위의 두 점  $A(-2, 0), B(4, 6)$ 에 대하여 선분  $AB$ 의 중점의 좌표는?
  - $(-1, 1)$
  - $(0, 2)$
  - $(1, 3)$
  - $(2, 4)$
- 직선  $2x - y - 1 = 0$ 과 평행이고, 점  $(0, 5)$ 를 지나는 직선의 방정식은?
  - $y = -2x - 5$
  - $y = -\frac{1}{2}x + 1$
  - $y = \frac{1}{2}x + 1$
  - $y = 2x + 5$
- 그림과 같이 중심이  $C(2, 1)$ 이고, 원점을 지나는 원의 방정식은?
  - $(x-2)^2 + (y-1)^2 = \sqrt{5}$
  - $(x-2)^2 + (y-1)^2 = 5$
  - $(x-1)^2 + (y-2)^2 = \sqrt{5}$
  - $(x-1)^2 + (y-2)^2 = 5$



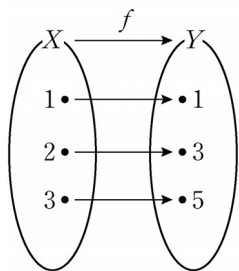
13. 좌표평면 위의 점  $(-1, 0)$ 을  $x$  축의 방향으로 5만큼,  $y$  축의 방향으로 2만큼 평행이동한 점의 좌표는?

- ①  $(-6, -2)$                       ②  $(1, 5)$   
 ③  $(2, 6)$                           ④  $(4, 2)$

14. 연립부등식  $\begin{cases} x^2+y^2 < 4 \\ y > x \end{cases}$ 의 영역을 좌표평면 위에 나타낸 것은? (단, 경계선은 제외)

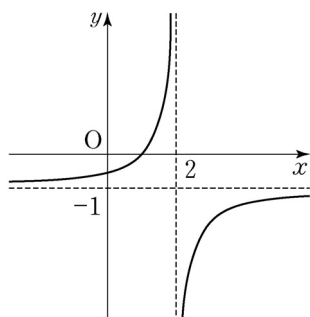


15. 그림과 같은 함수  $f: X \rightarrow Y$ 에 대하여  $f^{-1}(a) = 2$ 를 만족하는  $a$ 의 값은? (단,  $f^{-1}$ 는  $f$ 의 역함수)



- ① 1  
 ② 2  
 ③ 3  
 ④ 5

16. 분수함수  $y = -\frac{1}{x-2} + a$ 의 그래프가 그림과 같을 때, 상수  $a$ 의 값은?

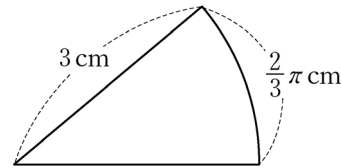


- ① -2  
 ② -1  
 ③ 1  
 ④ 2

17. 이차함수  $y = x^2 - 2x + 5$ 는  $x = a$ 에서 최솟값 4를 갖는다.  $a$ 의 값은?

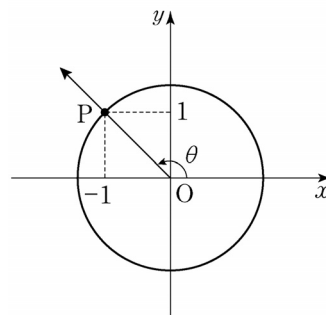
- ① 1                      ② 2                      ③ 4                      ④ 6

18. 그림과 같이 반지름의 길이가 3cm, 호의 길이가  $\frac{2}{3}\pi$ cm인 부채꼴의 넓이는?



- ①  $\frac{1}{4}\pi \text{ cm}^2$   
 ②  $\frac{1}{2}\pi \text{ cm}^2$   
 ③  $\pi \text{ cm}^2$   
 ④  $2\pi \text{ cm}^2$

19. 그림과 같이 원점 O와 점  $P(-1, 1)$ 을 지나는 동경 OP가 나타내는 각을  $\theta$ 라 할 때,  $\tan \theta$ 의 값은?



- ①  $-\sqrt{2}$   
 ② -1  
 ③ 1  
 ④  $\sqrt{2}$

20. 그림과 같이 세 종류의 과일과 두 종류의 채소가 있다. 정민이가 한 종류의 과일과 한 종류의 채소를 섞어 주스를 만들려고 한다. 과일과 채소에서 각각 한 종류씩 선택할 수 있는 경우의 수는?



- ① 4                      ② 6                      ③ 8                      ④ 10

※ 확인 사항  
 답을 OMR 답안지의 해당란에 정확히 표기했는지 확인하십시오.



13. 다음 내용에 해당하는 경제 용어는?

○ 경제 규모가 크고 국제적인 유동성이 충분하며, 가치가 안정되어 있는 국가의 통화이다.  
○ 미국의 달러화 등이 대표적으로 사용되고 있다.

- ① 기회비용                      ② 기축 통화  
③ 절대 우위                      ④ 비교 우위

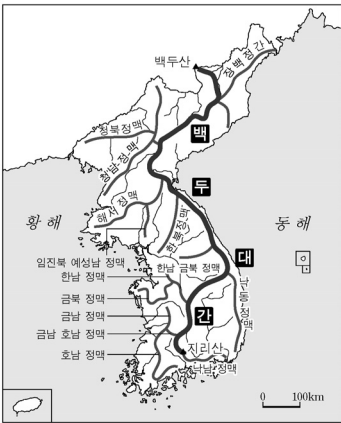
14. 산촌(散村)이 분포하는 지역의 사례로 옳은 것을 <보기>에서 고른 것은?

<보기>

ㄱ. 집단 노동력이 필요한 농촌  
ㄴ. 같은 성씨끼리 모여 사는 동족촌  
ㄷ. 외부에 대한 방어의 필요성이 적은 지역의 촌락  
ㄹ. 식수를 얻기 쉬운 산간 지대 밭농사 지역의 촌락

- ① ㄱ, ㄴ                      ② ㄱ, ㄹ                      ③ ㄴ, ㄷ                      ④ ㄷ, ㄹ

15. 지도를 통해 알 수 있는 것은?



[산경도]

- ① 기후가 반영되어 있다.  
② 암석의 분포가 그려져 있다.  
③ 산줄기와 물줄기가 그려져 있다.  
④ 산의 정확한 높이가 표시되어 있다.

16. 다음 내용의 실천 방법으로 가장 거리가 먼 것은?

자연 환경의 보존과 지역 사회의 지속 가능한 발전을 추구한다.

- ① 쓰레기 분리 배출                      ② 친환경 에너지 개발  
③ 대중교통 이용 권장                      ④ 화석 연료 사용 확대

17. 다음 설명에 공통으로 해당되는 자연재해는?

○ 진행 속도가 다른 재해에 비해 느리다.  
○ 장기간 지속되면 사막화에 영향을 준다.

- ① 가뭄                      ② 폭설                      ③ 해일                      ④ 산사태

18. 다음과 같은 기후가 나타나는 지역의 경관으로 가장 적절한 것은?

○ 최한월 평균 기온이  $-3^{\circ}\text{C}$  미만이다.  
○ 겨울이 길고 추운 반면, 여름은 짧고 더운 대륙성 기후로 기온의 연교차가 크다.

- ① 울창한 침엽수림                      ② 오렌지 재배 농장  
③ 개방적인 전통 가옥                      ④ 사막을 걷어가는 낙타

19. 해안의 퇴적 지형을 <보기>에서 고른 것은?

<보기>

ㄱ. 사빈                      ㄴ. 갯벌                      ㄷ. 해식애                      ㄹ. 시 스택

- ① ㄱ, ㄴ                      ② ㄱ, ㄹ                      ③ ㄴ, ㄷ                      ④ ㄷ, ㄹ

20. 다음 내용이 설명하는 위치의 종류는?

○ 유라시아 대륙의 동쪽 해안에 위치  
○ 삼면이 바다로 둘러싸인 반도국

- ① 수리적 위치                      ② 지리적 위치  
③ 가변적 위치                      ④ 관계적 위치

21. 다음 현상을 뜻하는 용어는?

도심 지역에 있던 주택들이 외곽 지역으로 이전하면서 낮에는 도심에 인구가 많았다가, 밤이 되면 줄어드는 현상

- ① 산업화                      ② 집심 현상  
③ 중주 도시화                      ④ 인구 공동화

22. 밑줄 친 (가)의 사례로 적절하지 않은 것은?

개인의 공간적 이동은 이동 기간에 따라 (가) 일시적 이동과 반영구적 또는 영구적 이동으로 구분된다.

- ① 해외로 이민                      ② 직장으로 통근  
③ 상품 구매를 위한 이동                      ④ 체험활동을 위한 국내 여행

23. 생산자 서비스업에 대한 설명으로 옳은 것은?

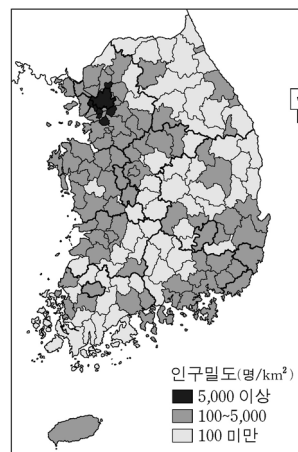
- ① 개인의 소비생활을 돕는 서비스이다.  
② 소도시의 주택가에 많이 형성되어 있다.  
③ 연구 개발, 회계, 광고 서비스 등이 해당된다.  
④ 산업 구조가 고도화되면서 중요도가 낮아지고 있다.

24. 다음과 같은 강수 현상에 공통적으로 영향을 준 것은?

○ 영동지방은 북동풍이 불 때 비나 눈이 내리는 경우가 많다.  
○ 히말라야 산맥 남쪽에 위치한 인도의 아삼지방은 남서풍이 불 때 비가 많이 내린다.

- ① 한류                      ② 무역풍                      ③ 한대 전선                      ④ 상승 기류

25. 다음과 같은 방식의 통계지도는?



[인구 주택 총조사, 2010]

- ① 점지도                      ② 유선도  
③ 등치선도                      ④ 단계구분도

※ 확인 사항

답을 OMR 답안지의 해당란에 정확히 표기했는지 확인하십시오.

제 5 교시

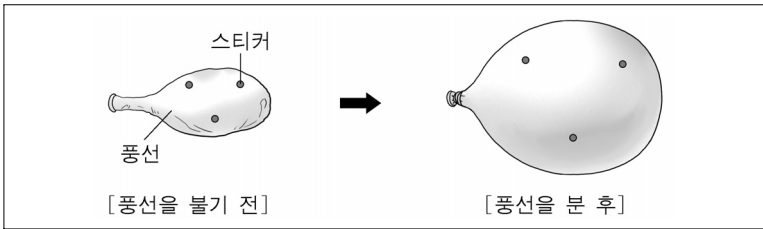
과 학

수험번호 ( )

성 명 ( )

※ 다음 물음에 대한 가장 옳은 답을 하나만 골라, OMR 답안지에 정확히 표기하시오.

1. 그림은 우주의 진화를 알아보기 위한 모형이다. 이 모형으로 설명할 수 있는 것은?



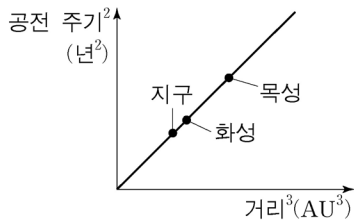
- ① 우주 팽창 ② 백색 왜성 ③ 수소 생성 ④ 블랙홀

2. 다음 설명에 해당하는 것은?

- 전류에 의한 자기장을 이용한다.
○ 전기 에너지를 소리 에너지로 전환시킨다.

- ① 다리미 ② 배터리 ③ 백열등 ④ 스피커

3. 그림은 태양에서 행성까지 거리와 행성의 공전 주기의 관계를 나타낸 것이다. 세 행성의 공전 주기를 옳게 비교한 것은?



- ① 화성 < 목성 < 지구
② 지구 < 화성 < 목성
③ 목성 < 지구 < 화성
④ 목성 < 화성 < 지구

4. 질량 2 kg인 물체를 마찰이 없는 수평면 위에 놓고, 수평 방향으로 일정한 힘을 작용하였다. 이 물체의 가속도가 2m/s² 일 때, 작용한 힘의 크기는?

- ① 3 N ② 4 N ③ 5 N ④ 6 N

5. 다음 설명에 해당하는 것은?

- 사람이 볼 수 있는 전자기파의 한 종류이다.
○ 텔레비전 영상은 이 빛을 통해 보는 것이다.
○ 연속 스펙트럼의 무지개색 빛이다.

- ① X선 ② 자외선 ③ 적외선 ④ 가시광선

6. 다음 설명에 해당하는 의료 장비는?

- 빛의 전반사 원리를 이용한 것이다.
○ 광섬유와 렌즈 등으로 이루어진 관을 체내에 삽입하여 위나 대장 등을 검진한다.

- ① 내시경 ② 청진기 ③ 체온계 ④ 혈압계

7. 열기관에 대한 설명으로 옳은 것만을 <보기>에서 모두 고른 것은?

<보기>
ㄱ. 열에너지를 일로 전환하는 장치이다.
ㄴ. 열은 저열원에서 고열원으로 이동한다.
ㄷ. 열효율(%) = (열기관이 한 일 / 열기관에 공급한 열에너지) x 100 이다.

- ① ㄴ ② ㄷ ③ ㄱ, ㄴ ④ ㄱ, ㄷ

8. 풍력 발전 과정에서 일어나는 에너지 전환으로 옳은 것은?



- ① 열에너지 → 빛에너지
② 열에너지 → 전기 에너지
③ 운동 에너지 → 전기 에너지
④ 화학 에너지 → 운동 에너지

9. 다음 설명에 해당하는 것은?

- 우주에서 가장 풍부한 물질이다.
○ 물을 구성하는 원소 중 하나이다.

- ① 수소 ② 염소 ③ 탄소 ④ 헬륨

10. 표는 1기압에서 각 물질의 끓는점을 나타낸 것이다. 25℃, 1기압에서 물질의 상태가 나머지 셋과 다른 것은?

Table with 2 columns: 물질, 끓는점(°C). Rows: 헬륨 (-269), 질소 (-196), 산소 (-183), 물 (100).

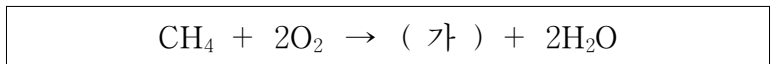
- ① 헬륨
② 질소
③ 산소
④ 물

11. 다음 설명에 해당하는 것은?

- 물질이 산소와 결합하는 것이다.
○ 나무가 타는 것, 철이 녹스는 것이 이에 해당한다.

- ① 산화 ② 환원 ③ 핵분열 ④ 핵융합

12. 다음은 메테인(CH4)이 연소하는 화학 반응식이다. (가)에 해당하는 것은?



- ① N2 ② He ③ CO2 ④ NH3



제 7 교시

도 덕

수험번호 ( )

성 명 ( )

※ 다음 물음에 대한 가장 옳은 답을 하나만 골라, OMR 답안지에 정확히 표기하시오.

1. 밑줄 친 '이것'에 해당하는 도덕적 개념은?

이것은 외부의 제약이나 구속을 받지 않고 어떤 목적을 스스로 세우고 실행하여 도덕적 행위를 가능하게 한다.

- 1. 결정론 2. 인과관계 3. 자유 의지 4. 도덕적 무지

2. 도덕적 자율성을 신장시키기 위해 필요한 능력에 해당하지 않는 것은?

- 1. 자기 결정 능력 2. 합리적 사고 능력 3. 역지사지의 공감 능력 4. 외부의 명령에 순응하는 능력

3. 다음 사례에서 발생한 지식 정보사회의 윤리적 문제는?

최근 사람들이 정식으로 음반을 구입하지 않고 불법으로 노래 파일을 내려 받기 때문에 이 노래의 작곡가가 경제적 으로 손해를 보았다.

- 1. 익명성 2. 악성 댓글 3. 정보 격차 4. 저작권 침해

4. 토론자가 갖추어야 할 자세에 대해 잘못 이해한 사람은?

- 1. 갑: 소수의 의견도 존중한다. 2. 을: 감정적으로 대응하는 발언을 하지 않는다. 3. 병: 열린 마음으로 상대방의 비판을 수용하려고 한다. 4. 정: 다수의 의견이 항상 전체의 의사를 대변한다고 여긴다.

5. 판서 내용 중 ( )에 공통으로 들어갈 말은?

주제: 도덕 문제의 해결 자세
( )의 의미: 다른 사람의 처지에서 생각하고 그 입장을 이해·공감하는 사고의 과정
( )의 기능: 올바른 도덕적 판단 가능, 타인과 사회와의 조화

- 1. 감정적 사고 2. 경제적 사고 3. 배려적 사고 4. 타율적 사고

6. 정의로운 사회 제도 구현을 위한 조건에 해당하지 않는 것은?

- 1. 기본권 보장 2. 공권력의 남용 3. 공정한 분배 실현 4. 사회적 약자에 대한 배려

7. 민주 시민으로서 지녀야 할 기본적인 책무에 해당하지 않는 것은?

- 1. 투표 하는 일 2. 법을 지키는 일 3. 부정과 불의를 묵인하는 일 4. 세금을 성실하게 납부하는 일

8. 롤스(Rawls, J.)의 정의론에 대한 설명으로 옳은 것만을 <보기>에서 모두 고른 것은?

<보기>
ㄱ. 공동 생산과 공동 분배의 원리를 강조한다.
ㄴ. 합의의 공정성을 바탕으로 절차적 정의를 주장한다.
ㄷ. 모든 사람이 기본적인 자유를 평등하게 누려야 한다고 주장한다.
ㄹ. 사회의 최소 수혜자에게 최대의 이익을 보장하는 '차등의 원칙'을 주장한다.

- 1. ㄱ, ㄹ 2. ㄴ, ㄷ 3. ㄱ, ㄴ, ㄷ 4. ㄴ, ㄷ, ㄹ

9. ( )에 공통으로 들어갈 덕목은?

아리스토텔레스는 과도하거나 부족하지도 않고, 어느 한쪽으로 치우치지 않는 ( )을/를 강조하였다. 예를 들어, 긍지는 오만과 비굴의 ( )이다.

- 1. 중용 2. 협력 3. 친절 4. 배려

10. 스토아학파에 대한 설명으로 옳은 것은?

- 1. 최대 다수의 최대 행복을 주장한다. 2. 국가가 없는 자연 상태를 주장한다. 3. 정념이 없는 마음의 상태를 추구한다. 4. 철인정치를 이상적인 정치 형태로 본다.

11. 다음 설명에 해당하는 국가관은?

국가의 간섭 없이도 '보이지 않는 손'이 국가 전체의 이익을 증대시키기 때문에 국가는 국방이나 치안, 사유 재산의 보호 등과 같은 최소한의 역할만을 수행해야 한다.

- 1. 공산 국가 2. 야경 국가 3. 복지 국가 4. 적극적 국가

12. 다음 설명에 해당하는 것은?

○ 보편적인 행위의 도덕 법칙
○ 남에게 대접받고자 하는 대로 대접하라는 도덕 원리

- 1. 황금률 2. 변증법 3. 기계론 4. 가언명법

13. 사회적 갈등을 해결하기 위한 자세로 가장 적절한 것은?

- ① 서로의 차이를 부정한다.
- ② 상대방의 입장을 존중한다.
- ③ 고정관념과 선입견을 갖는다.
- ④ 흑백 논리적 사고를 추구한다.

14. ㉠, ㉡에 들어갈 말로 옳은 것은?

대표 사상가	칸트	벤담
행위의 옳고 그름의 기준	행위의 ( ㉠ )	행위의 ( ㉡ )
㉠	㉠	㉡
① 동기	② 욕망	동기
③ 원인	④ 결과	절차

15. 다문화 사회의 시민으로서 필요한 자세로 적절하지 않은 것은?

- ① 다른 민족과 문화를 배척
- ② 편견을 없애는 사회 분위기 조성
- ③ 다문화 가정을 열린 마음으로 포용
- ④ 국내 이주 여성을 위한 교육 재능 기부

16. 다음 설명에 해당하는 것은?

- “이것이 있으므로 저것이 있고, 이것이 생기므로 저것이 생긴다.”
- 모든 현상은 무수한 원인과 조건들로 서로 연결된다.

- ① 성악설      ② 연기설      ③ 국부론      ④ 사회계약론

17. ( )에 공통으로 들어갈 유교의 핵심 사상은?

- ( ) : 인간다움으로 다른 사람을 사랑하는 마음
- ( )의 실천 방법: 남의 입장을 이해[恕], 극기복례

- ① 인(仁)                      ② 자비(慈悲)
- ③ 팔정도(八正道)          ④ 무위자연(無爲自然)

18. ( )에 들어갈 내용으로 적절하지 않은 것은?

주제: 시민 불복종  
 (가) 의미: 정의롭지 못한 법이나 정부 정책을 변혁시키려는 목적으로 행해지는 의도적인 위법 행위  
 (나) 정당화 요건: ( )

- ① 공동선을 추구해야 한다.
- ② 최후의 수단이어야 한다.
- ③ 항상 폭력적이어야 한다.
- ④ 행위의 목적이 정당해야 한다.

19. ( )에 들어갈 말로 적절한 것은?

( )는 자기 나라와 민족뿐만 아니라 세계와 인류 모두를 사랑하고 더불어 살아가는 것을 지향하는 민족주의이다.

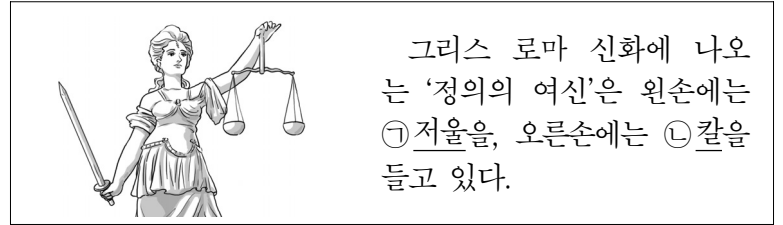
- ① 중화주의                      ② 열린 민족주의
- ③ 배타적 민족주의              ④ 극단적 세계주의

20. 다음 내용을 주장한 사상가는?

- 인간의 본성이 근본적으로 선하다는 성선설(性善說)을 주장한다.
- 타고난 본성을 깨닫고 연마하여 하늘의 뜻을 알고 섬기는 사람이 성인이 된다고 본다.

- ① 헤겔      ② 흄스      ③ 순자      ④ 맹자

21. 밑줄 친 ㉠, ㉡의 의미로 알맞은 것은?



- ㉠      ㉡      ㉠      ㉡
- ① 공정      합법      ② 욕망      권력
- ③ 경쟁      무력      ④ 지혜      사랑

22. 다음 내용을 주장한 사상가는?

“과학자의 목적은 자연의 비밀을 파헤치는 데 있다.”고 하면서 “자연을 이용해서 노예로 만들어 인간에게 봉사하도록 해야 한다.”고 주장하였다.

- ① 흄      ② 밀      ③ 루소      ④ 베이컨

23. 국가 권력의 남용을 방지하기 위한 방법으로 가장 적절한 것은?

- ① 시민들의 수동적 참여
- ② 국가 정책에 대한 무관심
- ③ 부당한 국가 권력에 대한 감시
- ④ 국가의 시민에 대한 권리 침해

24. 다음 동양의 사상과 이상적 인간상을 바르게 연결한 것은?

- 최고의 선은 물과 같다. [上善若水]
- 소국과민(小國寡民)을 이상사회로 봄.
- 겸허와 겸손의 덕, 부쟁(不爭)의 덕 실천 강조

- ① 불교 - 보살                      ② 도교 - 지인
- ③ 유교 - 군자                      ④ 동학 - 천주

25. 다음 설명에 해당하는 것은?

- 민족의 단합과 생명력을 유지하는 데 필수적인 조건
- 같은 언어, 역사, 문화 속에서 살아가는 운명 공동체임을 자각

- ① 사회 집단성                      ② 자아 정체성
- ③ 민족 정체성                      ④ 세계 시민성

※ 확인 사항  
 답을 OMR 답안지의 해당란에 정확히 표기했는지 확인하십시오.



