

제 1 교시

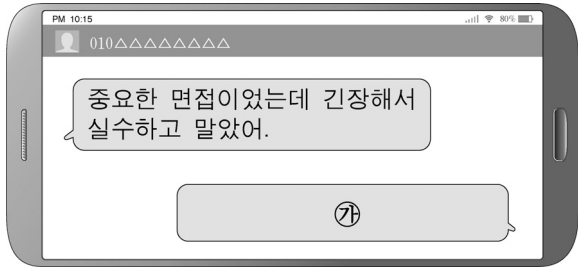
국 어

수험번호 ()

성 명 ()

※ 다음 물음에 대한 가장 옳은 답을 하나만 골라, OMR 답안지에 정확히 표기하십시오.

1. ㉠에 들어갈 공감하며 말하기로 가장 적절한 것은?



- ① 그런 변명 하지 마.
- ② 그건 실수가 아니라 실력이야.
- ③ 넌 정말 제대로 하는 게 하나도 없구나.
- ④ 중요한 면접인데 실수해서 속상하겠구나.

2. 다음은 훈민정음의 모음 제자 원리를 설명한 것이다. 밑줄 친 ㉠에 해당하는 것은?

모음 자모(字母)는 성리학에서 우주의 기본 요소라 말하는 삼재(三才), 즉 천(天)·지(地)·인(人)을 본떠 ㉠ 기본자를 만들고, 여기에 초출(初出)·재출(再出)·합용(合用)의 원리를 적용하여 만들었다.

- ① . , - , | ② ㅏ , ㅓ , ㅕ
- ③ ㅑ , ㅓ , ㅕ ④ ㅏ , ㅓ , ㅕ

3. 다음에서 설명하는 음운 변동이 일어나지 않는 것은?

표준 발음법

제29항 합성어 및 파생어에서, 앞 단어나 접두사의 끝이 자음이고 뒤 단어나 접미사의 첫음절이 ‘이, 야, 여, 요, 유’인 경우에는, ‘ㄴ’ 음을 첨가하여 [니, 냐, 녀, 뇨, 뉴]로 발음한다.

- ① 눈요기[눈 뇨기] ② 숨이불[숨:니불]
- ③ 신바람[신빠람] ④ 한여름[한너름]

4. ㉠, ㉡에 대한 설명으로 옳은 것은?

㉠ 너, 어제 왜 안 왔어?
㉡ 몸이 아파서 못 갔어.

- ① ㉠은 주체의 능력을 부정하는 의미를 담고 있다.
- ② ㉡은 주체의 의지로 부정하는 의미를 담고 있다.
- ③ ㉠은 시제를 표현하는 선어말 어미가 사용되었다.
- ④ ㉡은 시간을 표현하는 부사어가 사용되었다.

5. 다음 문장에 대한 설명으로 옳지 않은 것은?

㉠ 경찰이 범인을 잡았다. → ㉡ 범인이 경찰에게 잡히었다.

- ① ㉠과 ㉡은 주어가 다르다.
- ② ㉡은 ㉠을 능동문으로 바꾼 것이다.
- ③ ㉡에는 ㉠에 없는 문장 성분이 있다.
- ④ ㉡은 ㉠과 달리 접미사 ‘-히-’가 쓰였다.

[6~8] 다음 글을 읽고 물음에 답하십시오.

산수간(山水間) 바회 아래 ㉠ 뛰질을 짓노라 하니 그 모른 늑들은 운는다 혼다마는 ㉡ 어리고 하얗¹⁾의 뜻의는 내 분(分)인가 흐노라.

보리밥 찢는물을 ㉢ 알마초 머근 후(後)에 바회긋 몫²⁾의 ㉣ 슬크지 노니노라. 그나믄 너나믄 일이야 부를 줄이 이시라.

- 윤선도, 「만흥(漫興)」 -

1) 하얗: 향암(鄕闇). 시골에서 지내 온갖 사리에 어둡고 어리석음. 또는 그런 사람.

6. 위 시를 감상하는 독자의 태도로 적절한 것을 고르면?

- ㄱ. 자연 친화 사상을 찾을 수 있다.
- ㄴ. 임과의 이별로 인한 슬픔을 느낄 수 있다.
- ㄷ. 3음보의 규칙적인 운율로 낭독할 수 있다.
- ㄹ. 초장, 중장, 종장으로 구성됨을 파악할 수 있다.

- ① ㄱ, ㄷ ② ㄱ, ㄹ
- ③ ㄴ, ㄷ ④ ㄴ, ㄹ

7. 위 시의 밑줄 친 ㉠~㉣의 뜻으로 적절하지 않은 것은?

- ① ㉠: 띠로 지붕을 이은 집
- ② ㉡: 몸이 건강하고
- ③ ㉢: 알맞게
- ④ ㉣: 실컷

8. 위 시의 주제와 관련하여 화자가 할 수 있는 말로 가장 적절한 것은?

- ① 은혜는 잊지 않고 갚아야 해.
- ② 다른 사람을 속이지 말아야 해.
- ③ 분수에 만족하는 삶을 살아야 해.
- ④ 어려운 처지에 있는 사람을 이해해야 해.

[9~11] 다음 글을 읽고 물음에 답하시오.

돌에
그늘이 차고,
따로 물리는
소소리바람¹⁾.
앞섰거니 하여
꼬리 치날리어 세우고,
종종 다리 까칠한
산(山)새 걸음걸이.
여울 지어
㉠ 수척한 흰 물살,
갈갈이
손가락 펴고.
멧은 듯
새삼 돋는 빗날²⁾
붉은 잎 잎
소란히 밟고 간다.

- 정지용, 「비」 -

- 1) 소소리바람: 차갑고 으스스한 느낌을 주는 '회오리바람'의 방언.
2) 빗날: 빗방울.

9. 위 시에 대한 감상으로 적절하지 않은 것은?

- ① 말을 주고받는 형식으로 친근감을 준다.
- ② 간결한 시어로 감정을 절제하여 표현한다.
- ③ 시각적 이미지를 사용하여 선명한 느낌을 전달한다.
- ④ 모든 연을 2행으로 하여 형식적인 규칙성이 느껴진다.

10. ㉠과 동일한 표현 방법이 사용된 것으로 가장 적절한 것은?

- ① 풀은 눕고 / 드디어 울었다
- ② 기다리는 일이 더 행복하였습니다
- ③ 그림다 / 말을 할까 / 하니 그리워
- ④ 가난하다고 해서 사랑을 모르겠는가

11. 위 시의 시상 전개에 따라 (가)~(라)를 바르게 나열한 것은?

(가) 잠시 멧은 듯했던 비가 다시 내리는 모습
(나) 빗물이 모여 흘러가는 모습
(다) 비가 내리기 시작하는 모습
(라) 비가 내리기 직전의 모습

- ① (가) → (나) → (다) → (라)
- ② (나) → (가) → (라) → (다)
- ③ (다) → (라) → (가) → (나)
- ④ (라) → (다) → (나) → (가)

[12~15] 다음 글을 읽고 물음에 답하시오.

각설(却說). 이때 충렬은 모친을 잃고 물에 빠져 살 길이 없었다. 그러다가 문득 두 발이 닿아 자세히 살펴보니 물속의 큰 바위였다. 그 위에 올라앉아 하늘을 우러러 어미를 찾았으나 간데없고, 사방을 돌아보니 푸른 산이 은은하고 다만 물새

소리만 들릴 뿐이었다. 강가에서 수많은 원숭이들이 밤늦도록 슬피 우니, ㉠ 충렬이 통곡하며 바위 위에 서 있더라.

이때 남경의 장사꾼들이 재물을 많이 싣고 북경으로 가면서 ㉡ 회수에 배를 띄워 놓고 두둥실 중류로 내려가는데, 처량한 울음소리가 바람을 타고 들려오는지라. 뱃사람들이 이상하게 생각하여 배를 바삐 저어 우는 곳을 찾아가니, 과연 ㉢ 한 동자 물에 서서 슬피 울고 있었다. 급히 건져 배 안에 올려놓고 사연을 물으니,

“해상에서 수적을 만나 어미를 잃고 읍니다.”

하는지라. 뱃사람들이 슬픔에 젖어서 충렬을 물가에 내려놓고 가고 싶은 대로 가라고 한 후 배를 띄워 북경으로 향하더라.

중략 줄거리: 정처 없이 떠돌던 충렬은 회사정에서 죽음을 암시하는 부친의 글을 발견하고 대성통곡하는데, 강 승상이 충렬을 발견하고 자신의 집에 함께 갈 것을 권한다.

충렬이 어쩔 수 없어 강 승상을 따라가니, 그곳은 ㉣ 영릉 땅 월계촌이었다. 인가가 즐비(櫛比)하고 지위 높은 사람들이 오가면서 ㉤ 행인을 통제하는 소리가 요란하였으며, 문과 창을 아름답게 꾸민 높은 누각과 큰 집들이 하늘 높이 솟아 있고, 화려하게 장식한 수레가 빼어난 인물들을 태운 채 오가고 있었다.

승상이 충렬을 외당에 두고 안으로 들어가 부인 소씨에게 충렬의 이야기를 낱낱이 말하니, 소씨가 이 말을 듣고 충렬을 오라 하여 손을 잡고 눈물을 흘리며 말하기를,

“네가 동성문 안에 사는 장 부인의 아들이냐? 부인이 나이가 늦도록 자식이 없어 나와 함께 매일 한탄하곤 했단다. 그런데 장 부인이 어찌하여 ㉥ 저런 아들을 두었다가 영화를 다 못 보고 황천객(黃泉客)이 되었단 말인가. 세상의 일이 참으로 허망하구나. 간신의 모함을 받아 충신이 다 죽으니 나라인들 무사할 수 있겠느냐. 다른 데 가지 말고 내 집에 있거라.” 하시니, 충렬이 감사의 절을 올리고 외당으로 나오더라.

- 작자 미상, 「유충렬전(劉忠烈傳)」 -

12. 윗글에 대한 설명으로 가장 적절한 것은?

- ① 사건의 우연성이 나타난다.
- ② 적서 차별의 시대상이 드러난다.
- ③ 새를 의인화하여 대상을 비판한다.
- ④ 현재와 과거의 빈번한 교차가 일어난다.

13. ㉡와 ㉢에 대한 설명으로 적절하지 않은 것은?

- ① ㉡와 ㉢은 공간적 배경이다.
- ② ㉡에서 ‘충렬’은 ‘뱃사람들’에게 구조된다.
- ③ ㉢에서 ‘소씨’는 ‘충렬’을 도우려고 한다.
- ④ ㉢에서 ‘충렬’은 헤어졌던 부모와 재회한다.

14. ㉠~㉤ 중 지칭하는 바가 다른 하나는?

- ① ㉠ ② ㉢ ③ ㉤ ④ ㉡

15. 등장인물에 대한 설명으로 적절하지 않은 것은?

- ① ‘뱃사람들’은 ‘충렬’을 가엾게 생각한다.
- ② ‘충렬’은 ‘장 부인’이 늦게 얻은 자식이다.
- ③ ‘소씨’와 ‘장 부인’은 서로 모르는 사이이다.
- ④ ‘강 승상’은 ‘충렬’의 이야기를 부인에게 말한다.

[16~18] 다음 글을 읽고 물음에 답하시오.

남자: 잠깐만요, 덤…….
 여자: (멈칫 선다. 그러나 얼굴은 남자를 외면한다.)
 남자: 가시는 겁니까, 나를 두고서?
 여자: (침묵)
 남자: 덤으로 내 말을 조금 더 들어 봐요.
 여자: 당신은…… 사기꾼이에요.
 남자: 그래요, 난 사기꾼입니다. 이 세상 것을 잠시 빌렸었죠. 그리고 시간이 되니까 하나 둘씩 되돌려 줘야 했습니다. 이제 난 본색이 드러나 이렇게 빈털터리입니다. 그러나 덤, 여기 있는 사람들에게 물어봐요. 누구 하나 자신 있게 이진 내 것이다, 말할 수 있는가를. 아무도 없을 겁니다. 없다니까요. 모두들 덤으로 빌렸지요. (관객석으로 가서 관객들이 갖고 있는 물건을 가리키며) 이게 당신 겁니까? 정해진 시간이 얼마지요? 잘 아꼈다가 그 시간이 되면 꼭 돌려주십시오. 덤, 이제 알겠어요?

(여자, 얼굴을 외면한 채 걸어 나간다. 하인, 서서히 남자에게 다가온다. 남자는 뒷걸음질을 친다. 그는 마지막으로 절규하듯이 여자에게 말한다.)

남자: 덤, 난 가진 것 하나 없습니다. 모두 빌렸던 겁니다. 그런데 덤, 당신은 어떻습니까? 당신이 가진 건 뭡니까? 무엇이 정말 당신 것입니까? (㉠ 벡타이를 빌렸었던 남성 관객에게) 내 말을 들어 보시오. 그럼 당신은 나를 이해할 겁니다. 내가 당신에게서 벡타이를 빌렸을 때, 내가 당신 물건을 어떻게 다루던가요? 마구 험하게 했습니까? 어딜 망가뜨렸습니까? 아닙니다. 오히려 빌렸던 것이니까 소중하게 아꼈다가 되돌려 드렸지요. 덤, 당신은 내 말을 듣고 있어요? 여기, 증인이 있습니다. 이 증인 앞에서 약속하지만, 내가 이 세상에서 덤 당신을 빌리는 동안에, 아끼고, 사랑하고, 그랬다가 언젠가 끝나는 그 시간이 되면 공손하게 되돌려 줄 테요. 덤! 내 인생에서 당신은 나의 소중한 ㉡ 덤입니다. 덤! 덤! 덤!

(남자, 하인의 구둣발에 걸어차인다. 여자, 더 이상 참을 수 없다는 듯 다급하게 되돌아와서 남자를 포옹한다.)

여자: 그만해요!
 남자: 이제야 날 사랑합니까?
 여자: 그래요! 당신 아니고 또 누굴 사랑하겠어요!
 남자: 어서 결혼하러 갑시다. 구둣발에 차이기 전에!
 여자: 이래서요. 어머니도 말썽한 사기꾼과 결혼했었다던데…….
 남자: 자아, 빨리 갑시다!
 여자: 네, 어서 가요!

- 이강백, 「결혼」 -

16. 윗글을 연극으로 공연할 때, 연출자가 지시할 수 있는 사항으로 가장 적절한 것은?

- ① 분장 담당은 여자의 일인이역 역할에 대비해 주세요.
- ② 하인 역을 맡은 배우는 대사가 없으니 유의해 주세요.
- ③ 무대 담당은 배경이 자주 바뀌니 철저히 준비해 주세요.
- ④ 여자 역을 맡은 배우는 방백 위주로 대사를 처리해 주세요.

17. 밑줄 친 ㉠에 대한 설명으로 가장 적절한 것은?

- ① 여자가 사기꾼임을 나타낸다.
- ② 남자와 하인 간의 화해 수단이다.
- ③ 하인의 순종적인 성격을 드러낸다.
- ④ 관객의 참여를 유도하는 매개체이다.

18. 윗글에서 ㉡가 갖는 함축적 의미는?

- ① 값어치 없는 것
- ② 영원히 소유할 수 있는 것
- ③ 내 것이기에 함부로 할 수 있는 것
- ④ 자신이 지닌 동안 아끼고 소중히 다루어야 하는 것

[19~21] 다음 글을 읽고 물음에 답하시오.

체력 단련장 약관

제1조(이용 신청 철회)

이용 신청을 본인이 직접 방문하여 한 경우에는 7일 이내에, 인터넷을 통하여 한 경우에는 14일 이내에 철회할 수 있습니다.

제2조(이용 연기)

이용자는 체력 단련장 이용 전 또는 이용 중 연기가 필요한 경우 사업자와 협의하여 이용 시기를 연기할 수 있습니다.

제3조(계약의 해제·해지)

이용자는 계약 내용 또는 광고 내용이 사실과 다르거나, 기기·시설 고장, 정원 초과인 경우 계약을 해제하거나 해지할 수 있습니다.

〈계약 해제·해지 조건〉

사 유	이용 개시일 이전	이용 개시일 이후
사업자 귀책	총 이용 금액 전액에다 총 이용 금액의 10퍼센트를 더하여 환불함.	총 이용 금액에서 해지일까지 이용 일수를 계산하여 빼고 난 후의 금액과 총 이용 금액의 10퍼센트를 더하여 환불함.
이용자 귀책	총 이용 금액에서 10퍼센트에 해당하는 금액을 뺀 후 환불함.	총 이용 금액에서 해지일까지 이용 일수에 해당하는 금액과 총 이용 금액의 10퍼센트를 뺀 후 환불함.

* 총 이용 금액: 매 이용 계약 때 이용료로 납입한 금액

제4조(손해 ㉠)

체력 단련장의 시설물에 의하여 이용자 신체에 피해가 발생한 경우, 사업자는 이용자의 고의·과실이 없는 한 손해를 ㉠ 합니다.

제5조(소지품의 보관)

사업자는 이용자의 소지품을 안전하게 보관하여야 하며, 보관을 의뢰하지 않은 소지품도 사업자의 책임 있는 사유로 없어지거나 훼손된 경우 그 손해를 ㉡ 합니다.

위의 내용에 동의합니다.

2015년 8월 5일

체력 단련장 대표 △△△ (서명)
 체력 단련장 회원 □□□ (서명)

19. 윗글을 쓴 목적으로 가장 적절한 것은?

- ① 사업자가 본인의 업체를 홍보하기 위해서
- ② 이용자가 자기 자신의 취미를 소개하기 위해서
- ③ 사업자와 이용자 사이에 약속을 정하기 위해서
- ④ 사업자와 이용자 사이에 친목을 도모하기 위해서

20. 윗글을 읽고 난 후, 이용자의 판단으로 옳은 것은?

- ① 이용자의 귀책일 때, 이용자는 항상 금전적 손실을 피할 수 있다.
- ② 사업자와 이용자가 서로 합의한다면, 이용 시기를 늦출 수 있다.
- ③ 인터넷을 통하여 이용 신청한 경우, 보름 이후에 철회할 수 있다.
- ④ 허위 광고에 속았으면, 총 이용 금액의 두 배를 환불받을 수 있다.

21. ㉠에 공통으로 들어갈 단어로 가장 적절한 것은?

- ① 보충(補充) ② 보완(補完) ③ 배제(排除) ④ 배상(賠償)

[22~23] 다음 글을 읽고 물음에 답하시오.

독자의 대부분이 인기 도서 위주의 독서를 한다는 점도 우리를 구속하는 요인의 하나이다. 친구들이 옆구리에 끼고 있는 책도, 차 안의 사람들이 읽고 있는 책도 선풍적인 인기를 끌고 있는 인기 도서이다. 대화의 중심에도 그것이 딱하니 도사리고 앉아 나를 굽어보는 듯하다. 그 책을 읽지 않는다면 뭔가 뒤쳐지는 듯한 느낌을 갖게 만든다. 이 같은 인기 도서 열풍이 인기 도서 순위표 못지않게 강력한 힘으로 우리를 구속하여 우리의 발길을 서점으로, 인터넷 서점으로 이끈다.

현대인은 너나없이 이 같은 상황에 처해 있다. 마치 빈틈 없이 쳐 놓은 그물 속에 갇혀 있는 듯하다. 누구나 자신이 판단하여 필요한 책, 좋은 책을 골라 읽는 좋은 독자이고자 하지만 쉽지 않다. 인기 도서 순위표가, 광고가, 인기 도서 위주의 독서 경향이 우리에게 책을 사게끔 강제한다. 현대의 독자를 가두고 있는 이 같은 상황을 만들어 낸 가장 큰 요인은 시장 경제 사회를 지배하는 상품성의 논리이다.

... (중략) ...

인기 도서는 상업성의 논리가 만들어 낸 책이고, 많은 경우 저렴한 책이다. 다른 한편 인기 도서는 오랜 시간 공을 들여 만들어 낸 책이고, 드물긴 하지만 수준 높은 양서이다. 그러므로 인기 도서는 무조건 나쁜 책이라는 생각도, 인기 도서는 무조건 좋은 책이라는 생각도 바람직하지 않다. 인기 도서라고 하면 무조건 좋은 책이라며 신뢰하는 태도 또는 무조건 나쁜 책이라며 불신하는 태도 모두 바람직하지 않다는 것은 새삼 말할 필요도 없다.

그렇다면 인기 도서를 대하는 바람직한 태도는 무엇일까?

인기 도서를 대하는 바람직한 태도는 비판적인 태도이다. 책의 선정에서부터 독서에 이르기까지 비판적 태도를 견지하는 것이야말로 인기 도서의 생산, 유통, 소비의 과정을 지배하는 상품성의 논리에 휘둘리지 않게 하고, 독자 대중의 이성을 마비시킬 정도로 강력한 인기 도서의 흡인력으로부터 자신을 지키게 한다. 이런 태도를 견지할 때 우리는 자신의 주체적 판단으로 책을 택하고 구매하며, 책의 내용과 거리를 두고 성찰의 독서를 할 수 있는 주체적 독서인이 될 수 있다.

인기 도서가 된 책 속에는 많은 사람들을 사로잡을 만한

요소가 반드시 들어 있다. 주체적 독서인은 무턱대고 그런 요소에 휩쓸려 들지 않는다. 이것이 뜻하는 바는 무엇인가, 이것은 나에게 어떤 의미를 갖는 것인가 등의 질문을 계속 해서 던지며 답을 찾고자 노력한다. 끊임없이 질문을 던지고 답하며 책을 읽는, [주체적 독서인]의 비판적 독서야말로 우리를 가두고 있는 인기 도서 생산, 유통, 소비의 그물망으로부터 우리를 자유롭게 한다.

- 서경석, 「인기 도서와 비판적 독서」 -

22. 윗글의 내용과 거리가 먼 것은?

- ① 인기 도서는 대부분 수준 높은 책이다.
- ② 인기 도서를 대할 때는 비판적 태도가 바람직하다.
- ③ 인기 도서에는 다수의 관심을 끌 만한 요소가 있다.
- ④ 인기 도서 위주의 독서 경향이 책을 사도록 강요한다.

23. 윗글에서 말하는 [주체적 독서인]의 독서 방법은?

- ① 출판사가 추천하는 책을 항상 신뢰하며 읽는다.
- ② 나에게 어떤 의미가 있는지 질문하며 읽는다.
- ③ 디자인이 좋은 책이면 무턱대고 읽는다.
- ④ 많은 사람이 읽는 책이면 따라 읽는다.

24. 다음 <조건>을 모두 반영한 문장은?

<조건>

- 직유법을 사용할 것
- 문장의 종결을 청유형으로 할 것

- ① 바람처럼 빨리 달리자.
- ② 잠자리는 무엇을 먹고 살까?
- ③ 하늘이 슬퍼하며 울고 있다.
- ④ 아아, 너는 산새처럼 날아갔구나!

25. 다음은 '우리나라의 수출 경쟁력 향상을 위한 방안'에 대한 글쓰기 개요이다. ㉠에 들어갈 내용으로 가장 적절한 것은?

I. 서론: 우리나라의 최근 수출 현황
 II. 본론
 1. _____ ㉠
 가. 가격 경쟁력 요인 분석: 금리, 환율 등
 나. 비가격 경쟁력 요인 분석: 특허, 디자인 등
 2. 우리나라 수출 부진에 대한 해결책
 가. 가격 경쟁력을 활용한 해결책
 나. 비가격 경쟁력을 활용한 해결책
 III. 결론: 우리나라의 수출 경쟁력 향상 방안

- ① 우리나라의 행정 구역 체제
- ② 우리나라의 환경 오염 실태
- ③ 우리나라의 특허 출원 현황
- ④ 우리나라의 수출 부진 원인

※ 확인 사항
 답을 OMR 답안지의 해당란에 정확히 표기했는지 확인하시오.

제 3 교시

영 어

수험번호 ()

성 명 ()

※ 다음 물음에 대한 가장 옳은 답을 하나만 골라, OMR 답안지에 정확히 표기하십시오.

[1~2] 밑줄 친 부분의 뜻으로 알맞은 것을 고르시오.

1.

This dish doesn't taste good.

- 1 가구 2 경험 3 음식 4 기회

2.

A: Have you ever seen snow in winter?
B: Yes, I am familiar with it.

- 1 실망하다 2 기대하다 3 싫어하다 4 익숙하다

3. 두 단어의 의미 관계가 나머지 셋과 다른 하나는?

- 1 wet - dry 2 tiny - small 3 lazy - diligent 4 easy - difficult

4. 축제 포스터의 내용으로 볼 때, 알 수 없는 것은?

Seoul Traditional Folk Festival
· Where: City Park
· When: May 1 ~ May 9, 2015
· What: Korean folk dance performances

- 1 장소 2 기간 3 입장료 4 공연 내용

5. 빈칸에 공통으로 들어갈 말로 알맞은 것은?

- o Jenny will _____ on the TV.
o Please _____ down the volume.

- 1 have 2 turn 3 make 4 take

6. 빈칸에 들어갈 말로 알맞은 것은?

A: You're wearing a new watch.
B: Yeah, I _____ it last week.

- 1 buy 2 bought 3 will buy 4 am buying

7. 밑줄 친 말의 의도로 가장 알맞은 것은?

A: The math exam was very hard.
B: Yes, I agree with you.

- 1 동의하기 2 요청하기 3 소개하기 4 반대하기

8. 밑줄 친 격언이 주는 교훈으로 가장 알맞은 것은?

A: "No pain, no gain." What does that mean?
B: It means you should work hard to achieve your goal.

- 1 행운 2 노력 3 우정 4 협력

9. 대화에서 알 수 있는 A의 심정으로 가장 알맞은 것은?

A: I am finally going to New Zealand.
B: Great! It's a very beautiful country.
A: Yes, I'm really glad to go there!

- 1 sad 2 upset 3 happy 4 gloomy

10. 대화가 이루어지는 장소로 가장 알맞은 것은?

A: Welcome to Kim's Steak House. Please have a seat.
B: Thanks. What's today's special?
A: Beef steak, sir. It comes with potatoes and a salad.
B: Sounds good. I'll have it.

- 1 식당 2 세탁소 3 주차장 4 미용실

[11~12] 대화의 빈칸에 들어갈 말로 알맞은 것을 고르시오.

11.

A: May I use your phone?
B: _____. Go ahead.

- 1 Sure 2 No, thanks 3 No, you can't 4 I can't stand it

12.

A: I went fishing in the East Sea.
B: Really? _____?
A: It was so much fun!

- 1 How was it 2 Where was it 3 When did you go 4 Who went with you

13. 주어진 말에 이어질 대화의 순서로 알맞은 것은?

Amy, our train will be delayed because of an accident.

- (A) Good idea. Let's meet at the bus stop at ten a.m.
(B) Oh, no! Why don't we take a bus instead?
(C) Okay. See you then.

- 1 (A) - (B) - (C) 2 (B) - (A) - (C) 3 (B) - (C) - (A) 4 (C) - (B) - (A)

14. 대화의 빈칸에 들어갈 말로 가장 알맞은 것은?

A: Excuse me, can you show me a sweater?
 B: Okay. How about this red one?
 A: It's pretty. Is it on sale?
 B: _____. The sale is only for pants.

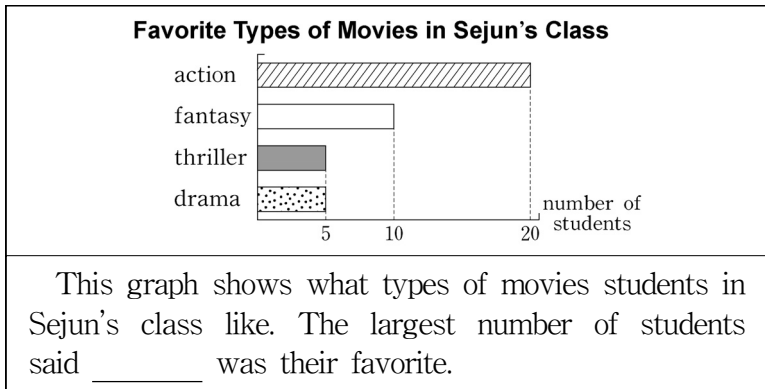
- ① Of course ② Yes, please
- ③ I don't mind ④ I'm afraid not

15. 글을 쓴 목적으로 알맞은 것은?

To the Park Manager:
 I'm writing to tell you about serious problems in Lake Park. There are no places to get fresh drinking water and not enough benches. Please solve these problems as soon as possible.

- ① to praise ② to complain
- ③ to accept ④ to congratulate

16. 도표의 내용으로 보아 빈칸에 알맞은 것은?



- ① action ② fantasy ③ thriller ④ drama

17. 밑줄 친 It(it)이 가리키는 것은?

It is yellow dust from the deserts of northern China. When it comes to Korea, the air becomes dirty. It makes people wear masks outside.

- ① 안개 ② 황사 ③ 가뭄 ④ 폭우

18. 다음 문장이 들어가기에 가장 알맞은 곳은?

But one woman changed this idea.

Today, anyone can learn to fly airplanes. (①) But this was not true in 1903. (②) At that time, people thought that only men could be pilots. (③) Her name was Amelia Earhart. (④)

19. 다음 글의 제목으로 가장 알맞은 것은?

You can get hurt while playing sports. So warm up before you play. Wear safety equipment. Also, stop playing when you feel tired.

- ① Types of Sports
- ② The Importance of Sports
- ③ Reasons for Playing Sports
- ④ Safety Tips for Playing Sports

[20~21] 다음 글의 빈칸에 들어갈 말로 가장 알맞은 것을 고르시오.

20.

Adults do not usually think much about the things around them. But most children are naturally _____ about everything. They ask questions like, "Why is the sky blue?" or "Why is snow cold?"

- ① lazy ② quiet ③ curious ④ thankful

21.

It is a mistake to think that hippos are safe and friendly. Actually, hippos are very _____. They kill more people than lions or tigers do.

- ① clean ② lovely ③ common ④ dangerous

22. 다음 글 바로 뒤에 이어질 내용으로 가장 알맞은 것은?

Today, people feel stressed for many reasons. Stress has a bad effect on them. Here are some ways to control stress.

- ① 스트레스의 어원 ② 스트레스의 기능
- ③ 스트레스 조절 방법 ④ 스트레스와 환경 보호

23. 다음 글의 요지로 가장 알맞은 것은?

Animals can predict weather changes. Birds fly much lower right before it rains. Also, black bears stay in deeper caves when they expect a very cold winter.

- ① 인간은 자연재해를 극복할 수 있다.
- ② 많은 동물이 멸종 위기에 처해 있다.
- ③ 동물은 인간의 도움 없이 살 수 없다.
- ④ 동물은 날씨의 변화를 예측할 수 있다.

[24~25] 다음 글을 읽고, 물음에 답하시오.

If an oil spill happens in the sea, it can hurt many living things. _____, many fish and seabirds were killed when there was an oil spill near my town last year.

* spill : 유출

24. 밑줄의 흐름으로 보아 빈칸에 가장 알맞은 것은?

- ① Instead ② However
- ③ For example ④ In contrast

25. 밑줄의 주제로 가장 알맞은 것은?

- ① 기름이 유출될 가능성
- ② 기름이 유출되는 원인
- ③ 기름 유출을 예방하는 방법
- ④ 기름 유출이 끼치는 악영향

※ 확인 사항

답을 OMR 답안지의 해당란에 정확히 표기했는지 확인하시오.

제 2 교시

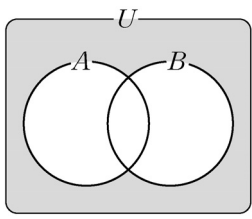
수 학

수험번호 ()

성 명 ()

※ 다음 물음에 대한 가장 옳은 답을 하나만 골라, OMR 답안지에 정확히 표기하시오.

1. 전체집합 $U = \{x | x \text{는 } 8 \text{ 이하의 자연수}\}$ 의 두 부분집합 $A = \{2, 4, 6, 8\}$, $B = \{x | x \text{는 } 8 \text{ 이하의 소수}\}$ 에 대하여 그림과 같이 벤 다이어그램의 색칠한 부분에 속하는 원소는?



- ① 1
② 4
③ 5
④ 8

2. 명제 $p \rightarrow q$ 가 참일 때, 다음 중 항상 참인 것은? (단, $\sim p$ 는 명제 p 의 부정, $\sim q$ 는 명제 q 의 부정)

- ① $p \rightarrow \sim q$
② $q \rightarrow \sim p$
③ $\sim p \rightarrow \sim q$
④ $\sim q \rightarrow \sim p$

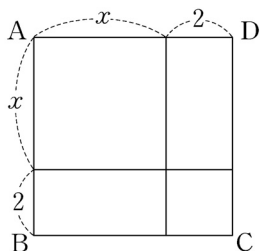
3. 실수의 집합에서 임의의 두 원소 a, b 에 대하여 연산 \odot 을 $a \odot b = a - b + \sqrt{2}$ 로 정의할 때, $\sqrt{3} \odot \sqrt{2}$ 의 값은?

- ① $\sqrt{2}$
② $\sqrt{3}$
③ $2\sqrt{2}$
④ $2\sqrt{3}$

4. 복소수 $a - 2i$ 의 켈레복소수를 $3 + bi$ 라고 할 때, $a + b$ 의 값은? (단, a, b 는 실수, $i = \sqrt{-1}$)

- ① 1
② 3
③ 5
④ 7

5. 그림은 네 개의 작은 직사각형을 붙여서 정사각형 ABCD를 만든 것이다. 정사각형 ABCD의 넓이를 식으로 나타낸 것은? (단, $x > 0$)



- ① $x^2 - 4x + 4$
② $x^2 + 4x + 4$
③ $x^2 - 4x + 5$
④ $x^2 + 4x + 5$

6. 다항식 $2x^2 + x + a$ 가 $x - 1$ 로 나누어떨어질 때, 상수 a 의 값은?

- ① -3
② -1
③ 1
④ 3

7. $x = \sqrt{4 + 2\sqrt{3}}$, $y = \sqrt{4 - 2\sqrt{3}}$ 일 때, $x + y$ 의 값은?

- ① 0
② $\sqrt{3}$
③ $2\sqrt{3}$
④ $3\sqrt{3}$

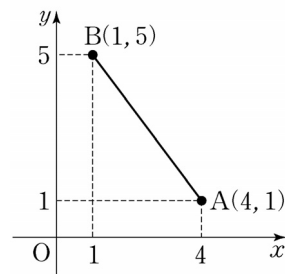
8. 이차방정식 $x^2 - 3x + 4 = 0$ 의 두 근을 α, β 라고 할 때, $\alpha\beta(\alpha + \beta)$ 의 값은?

- ① -12
② -3
③ 4
④ 12

9. 연립방정식 $\begin{cases} x + y = a \\ xy = 6 \end{cases}$ 의 해가 $x = 2, y = b$ 라고 할 때, $a + b$ 의 값은?

- ① 7
② 8
③ 9
④ 10

10. 좌표평면 위에 두 점 $A(4, 1), B(1, 5)$ 가 있다. 선분 AB의 길이는?

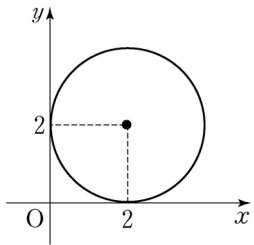


- ① 3
② 4
③ 5
④ 6

11. 두 직선 $x + 3y - 6 = 0, y = mx - 1$ 이 서로 수직으로 만날 때, 상수 m 의 값은?

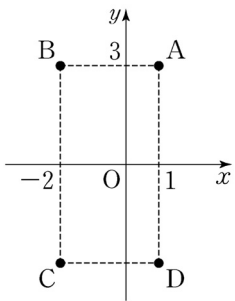
- ① -3
② $-\frac{1}{3}$
③ 2
④ 3

12. 그림과 같이 중심이 (2, 2)이고, x 축과 y 축에 동시에 접하는 원의 방정식은 $(x-a)^2+(y-b)^2=r^2$ 이다. $a+b+r$ 의 값은?



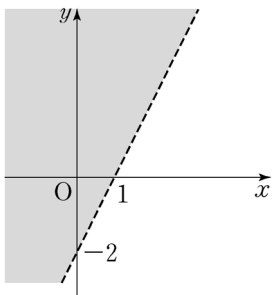
- ① 2
- ② 4
- ③ 6
- ④ 8

13. 좌표평면 위에 두 점 A(1, 3), B(-2, 3)이 있다. 점 A와 점 B를 x 축에 대하여 대칭이동한 점을 각각 D와 C라고 할 때, 사각형 ABCD의 넓이는?



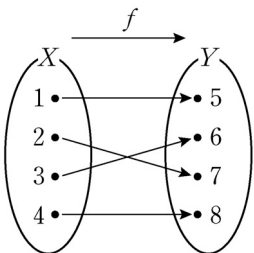
- ① 6
- ② 9
- ③ 15
- ④ 18

14. 그림에서 색칠한 부분의 영역을 부등식으로 나타내면?
(단, 경계선은 제외)



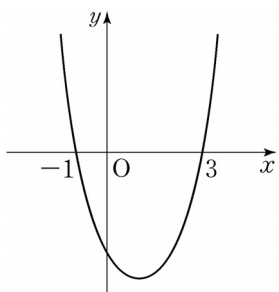
- ① $y > 2x - 2$
- ② $y < 2x - 2$
- ③ $y > -2x + 2$
- ④ $y < -2x + 2$

15. 그림의 함수 $f: X \rightarrow Y$ 와 그 역함수 $f^{-1}: Y \rightarrow X$ 에 대하여 $(f^{-1} \circ f)(4)$ 의 값은?



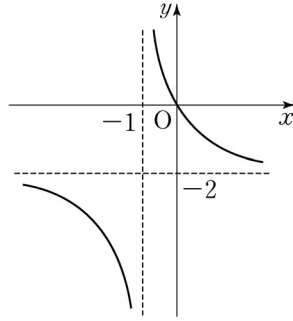
- ① 1
- ② 2
- ③ 3
- ④ 4

16. 그림은 이차함수 $y=(x-a)(x-3)$ 의 그래프이다. 이 함수의 최솟값을 b 라고 할 때, $a+b$ 의 값은?



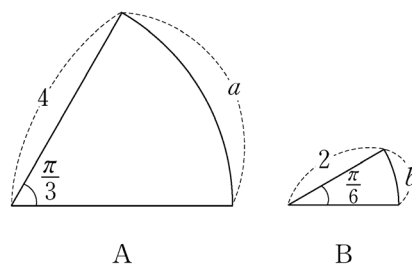
- ① -5
- ② -3
- ③ -1
- ④ 1

17. 그림은 분수함수 $y = \frac{a}{x+1} + b$ 의 그래프이다. $a-b$ 의 값은?
(단, a, b 는 상수)



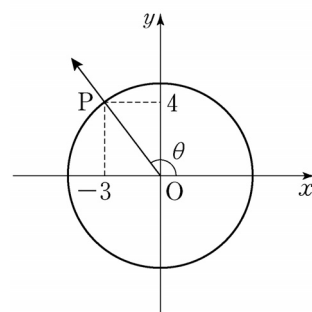
- ① 0
- ② 2
- ③ 4
- ④ 6

18. 그림과 같이 부채꼴 A, B가 있다. 부채꼴 A의 호의 길이를 a , 부채꼴 B의 호의 길이를 b 라고 할 때, $a-b$ 의 값은?



- ① $\frac{2}{3}\pi$
- ② π
- ③ $\frac{4}{3}\pi$
- ④ $\frac{5}{3}\pi$

19. 그림에서 원점 O와 점 P(-3, 4)를 지나는 동경 OP가 나타내는 각을 θ 라고 할 때, $\sin\theta + \cos\theta$ 의 값은?



- ① $\frac{1}{5}$
- ② $\frac{2}{5}$
- ③ $\frac{3}{5}$
- ④ $\frac{4}{5}$

20. A, B 두 개의 주사위를 동시에 던질 때, 주사위 A의 눈의 수는 짝수, 주사위 B의 눈의 수는 3의 배수가 나오는 경우의 수는?

- ① 3
- ② 4
- ③ 5
- ④ 6

※ 확인 사항
답을 OMR 답안지의 해당란에 정확히 표기했는지 확인하십시오.

제 4 교시 사회

수험번호 () 성명 ()

※ 다음 물음에 대한 가장 옳은 답을 하나만 골라, OMR 답안지에 정확히 표기하시오.

1. 다음 사례를 설명하는 개념으로 가장 적절한 것은?

우리나라 사찰에서 흔히 볼 수 있는 칠성각은 칠성신을 모시는 민간 신앙과 불교가 결합하여 나타난 새로운 문화 요소이다.

- ① 문화 지체 ② 문화 발명 ③ 문화 융합 ④ 문화 갈등

2. 우리나라 현대 사회의 변동 모습으로 적절하지 않은 것은?

- ① 평균 수명이 점점 연장되고 있다.
- ② 외국과의 상호 의존성이 높아지고 있다.
- ③ 정보 통신 등 과학 기술이 발달하고 있다.
- ④ 산업의 중심이 서비스업에서 제조업으로 옮겨 가고 있다.

3. 다음 현상으로 인해 나타나는 인구 문제에 해당하는 것은?

- 결혼 연령 상승 ○ 육아 지원 제도 부족
- 자녀 양육비 부담 증가

- ① 출산율의 저하 ② 총인구의 증가
- ③ 고령 인구의 감소 ④ 유소년 인구 비율의 증가

4. 우리나라 헌법상 기본권 보장 및 제한에 대한 설명으로 옳지 않은 것은?

- ① 모든 국민은 인간으로서의 존엄과 가치를 갖는다.
- ② 국민의 기본권은 국가가 필요할 때 언제나 제한될 수 있다.
- ③ 국가는 개인이 가지는 불가침의 기본적 인권을 보장할 의무를 진다.
- ④ 국가는 국민의 자유와 권리를 제한할 때 본질적인 내용을 침해할 수 없다.

5. 우리나라 헌법상 입법부가 행정부를 견제하는 제도로 옳은 것은?

- ① 대통령은 대법원장 임명권을 갖는다.
- ② 대법원은 위헌 법률 심판권을 갖는다.
- ③ 국회는 대통령에 대한 탄핵 소추권을 갖는다.
- ④ 사법부는 명령·규칙·처분 심사권을 갖는다.

6. 사례에서 갑이 을을 상대로 하여 취할 수 있는 적절한 권리 구제 방법을 <보기>에서 고른 것은?

누리꾼 을은 연예인 갑을 근거 없이 비방하여 명예를 훼손하였다.

<보기>

- ㄱ. 형사상 고소 ㄴ. 행정 소송 청구
- ㄷ. 헌법 재판 청구 ㄹ. 손해 배상 청구 소송 제기

- ① ㄱ, ㄴ ② ㄱ, ㄹ
- ③ ㄴ, ㄷ ④ ㄷ, ㄹ

7. 정치 발전을 위한 방안으로 적절하지 않은 것은?

- ① 참여형 정치 문화를 지향한다.
- ② 시민의 의사가 정치 과정에 반영되도록 한다.
- ③ 의사 결정을 할 때 대화와 토론 없이 다수결의 원칙에 따른다.
- ④ 국민의 지지와 동의를 바탕으로 정치 권력이 행사되도록 한다.

8. 다음에서 설명하는 경제 지표에 해당하는 것은?

일정 기간 동안 한 나라 안에서 생산된 최종 재화와 서비스의 시장 가치를 모두 더한 것이다.

- ① 실업률 ② 국내 총생산
- ③ 물가 상승률 ④ 경제 성장률

9. 인플레이션에 대한 설명으로 옳은 것은?

- ① 석유 가격의 하락이 주요 원인이 된다.
- ② 물가가 상승하고 화폐 가치가 하락한다.
- ③ 가계의 저축과 기업의 투자가 늘어난다.
- ④ 고정 소득 생활자는 실질 소득이 늘어난다.

10. 다음 사례에 해당되는 실업의 유형으로 옳은 것은?

컴퓨터 보급이 확산되면서 수작업으로 일하던 사무 보조원들이 컴퓨터를 배우지 못하여 일자리를 잃게 되었다.

- ① 경기적 실업 ② 마찰적 실업
- ③ 구조적 실업 ④ 계절적 실업

11. 경기 침체를 극복하기 위한 경제 정책으로 적절한 것은?

- ① 정부의 지출을 줄인다.
- ② 민간의 소비를 억제한다.
- ③ 시중에 유통되는 통화량을 줄인다.
- ④ 가계와 기업에 부과하는 세금을 내린다.

12. 다음 주장을 설명하기에 적절한 경제 용어는?

각국은 생산비가 상대적으로 더 저렴한 상품의 생산을 늘려 서로 수출하면, 모두 이익을 볼 수 있다.

- ① 경상 수지 ② 비교 우위 ③ 인적 자본 ④ 경기 변동

13. (가)에 들어갈 말로 가장 적절한 것은?



- ① 환율이 하락하겠지. ② 통화량이 감소하겠지.
- ③ 국제 수지 적자가 되겠지. ④ 외환 보유량이 감소하겠지.

14. 우리나라의 수리적 위치에 해당하는 것은?

- ① 대륙의 동안에 위치한다.
- ② 대륙과 해양에 모두 접해 있다.
- ③ 경도상으로 동경 124°~132° 사이에 위치한다.
- ④ 계절마다 바람의 방향이 바뀌는 계절풍 지대이다.

15. 지도에 대한 설명으로 옳은 것은?



[혼일강리역대국도지도]

- ① 상상만으로 세계를 그린 지도이다.
- ② 중국이 지도의 중심부에 그려져 있다.
- ③ 경선과 위선이 정확하게 표시된 실측도이다.
- ④ 실학사상의 영향을 받아 조선 후기에 제작된 지도이다.

16. (가)에 들어갈 내용으로 가장 적절한 것은?

기능 지역은 중심지의 기능이 주변 지역에 미치는 범위를 말한다. 교통이 발달할 경우 그 범위가 더욱 확대된다. 그 예로 상권, 도시권, (가) 등이 있다.

- ① 발농사 지역 ② 통근·통학권
- ③ 침엽수림 지대 ④ 온대 기후 지역

17. 다음에 공통적으로 영향을 준 요소는?

○ 포도, 올리브 등의 수목 농업 발달
○ 태양광·태양열 발전 등의 신·재생 에너지 산업 발달

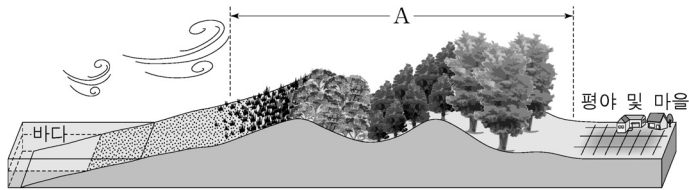
- ① 높은 습도 ② 강한 바람
- ③ 큰 연교차 ④ 풍부한 일조량

18. 다음 지형들의 공통된 형성 요인은?

○ 선상지 ① 삼각주

- ① 바람에 의한 침식
- ② 연안류에 의한 퇴적
- ③ 해수면 하강에 의한 침식
- ④ 하천의 유속 감소에 의한 퇴적

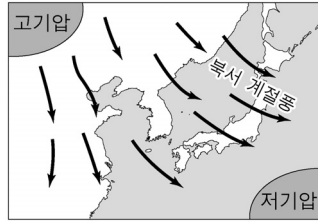
19. A와 관련된 내용으로 적절한 것은?



[해안 지역 모식도]

- ① 주로 염전으로 이용한다.
- ② 간척 사업을 통하여 농경지로 이용한다.
- ③ 해풍으로부터 마을을 보호하는 역할을 한다.
- ④ 바지락, 굴과 같은 수산물 양식장으로 활용한다.

20. 다음 계절풍과 관계 깊은 우리나라 전통 생활양식은?



- ① 온돌
- ② 부채
- ③ 모시 옷
- ④ 대청마루

21. 다음 현상에 의해 나타나는 도시 문제로 보기 어려운 것은?

도시 인구가 짧은 기간 안에 급격히 증가하는 현상

- ① 집값 하락 ② 대기 오염
- ③ 교통 혼잡 ④ 쓰레기 배출 문제

22. 다음 현상을 설명하는 용어는?

도시의 낡은 시설을 정비하고, 도시 기능을 재활성화하는 것

- ① 교외화 ② 집심 현상
- ③ 중주 도시화 ④ 도시 재개발

23. 다음 지역의 산업 변화의 결과로 나타난 특징으로 가장 적절한 것은?

이 지역은 1960년대 섬유, 봉제 산업 등이 주로 입지하였는데, 2000년에 '디지털 산업 단지'로 변경되면서 반도체, 정보 통신, 패션 디자인 관련 산업들이 들어서고 첨단 산업 중심지로 탈바꿈되었다.

- ① 노동 집약적인 산업이 증가하였다.
- ② 원료를 많이 사용하는 산업이 증가하였다.
- ③ 제품의 운송비 부담이 큰 산업이 증가하였다.
- ④ 부가 가치가 높은 기술 집약적인 산업이 증가하였다.

24. 다음 내용에 해당하는 사례로 보기 어려운 것은?

'지속 가능한 발전'은 환경 파괴와 천연자원의 고갈을 유발하지 않고, 인류가 지향해야 할 사회적 가치를 실현시키는 개발이라 할 수 있다.

- ① 자연 녹지에 골프장을 건설하는 기업체 사장
- ② 작은 하천에서 얻은 수력 에너지로 빵을 굽는 주민
- ③ 농약이나 화학 비료를 사용하지 않고 포도를 재배하는 농민
- ④ 가축 분뇨를 발효시켜 메탄가스 발전기를 돌리는 축산업자

25. 다음 현상의 원인은?

○ 제주도에서 주로 재배하던 감귤 농사가 북쪽으로 확대됨.
○ 우리나라 연근해 해수면 온도가 점차 상승하여 아열대성 어족의 개체 수가 늘어남.

- ① 황사 ② 사막화
- ③ 산성비 ④ 지구 온난화

※ 확인 사항

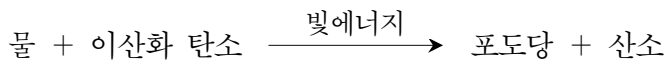
답을 OMR 답안지의 해당란에 정확히 표기했는지 확인하시오.

12. 다음 설명의 A, B에 해당하는 물질은?

단백질을 구성하는 기본 단위는 (A)이고, 녹말을 구성하는 기본 단위는 (B)이다.

- | | | | |
|--------|------|--------|------|
| A | B | A | B |
| ① 아미노산 | 지방 | ② 아미노산 | 포도당 |
| ③ 지방 | 아미노산 | ④ 포도당 | 아미노산 |

13. 다음은 식물의 광합성 반응을 나타낸 것이다. 이에 대한 설명으로 <보기>에서 옳은 것만을 모두 고른 것은?



<보기>

- ㄱ. 포도당이 생성된다.
- ㄴ. 미토콘드리아에서 일어난다.
- ㄷ. 빛에너지를 흡수하여 일어난다.

- ① ㄱ ② ㄴ ③ ㄱ, ㄷ ④ ㄴ, ㄷ

14. 사람의 염색체에 대한 설명으로 옳은 것은? (단, 돌연변이는 없다.)

- ① Y 염색체는 여자만 갖는다.
- ② 염색체에는 유전자가 존재한다.
- ③ 체세포 1개당 염색체 수는 12개이다.
- ④ 체세포 1개당 염색체 수는 남자가 여자보다 많다.

15. 다음은 세포 호흡과 연소 반응의 예를 나타낸 것이다. ()에 공통으로 들어갈 물질은?

- 세포 호흡: 포도당 + () → 이산화 탄소 + 물
- 연소: 에탄올 + () → 이산화 탄소 + 물

- ① 산소 ② 수소 ③ 염소 ④ 질소

16. 다음 설명에 해당하는 현상은?

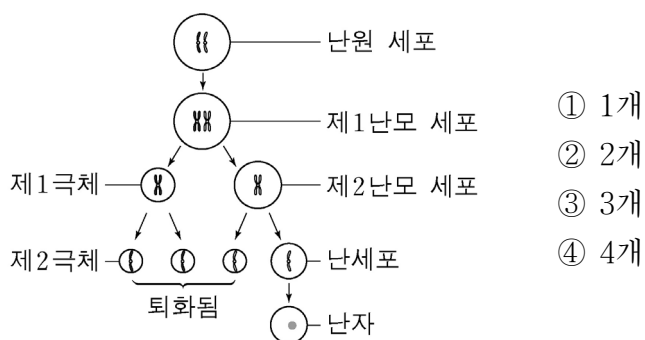
- 백혈구가 식균 작용을 하였다.
- 항원이 침입하여 항체가 만들어졌다.

- ① 면역 ② 발생 ③ 생식 ④ 성장

17. 화석 연료를 대체하기 위한 재생 에너지원이 아닌 것은?

- ① 바람 ② 석탄 ③ 지열 ④ 파도

18. 그림은 사람의 난자 형성 과정을 나타낸 것이다. 1개의 난원 세포로부터 만들어지는 난자의 수는?



19. 다음 설명에 해당하는 물질은?

물질대사에 관여하는 촉매이며, 주성분이 단백질이다.

- ① 지방 ② 효소 ③ ATP ④ DNA

20. 지구계에서 수권에 해당하는 것은?

- ① 강물 ② 식물 ③ 암석 ④ 질소

21. 다음 설명에 해당하는 에너지는?

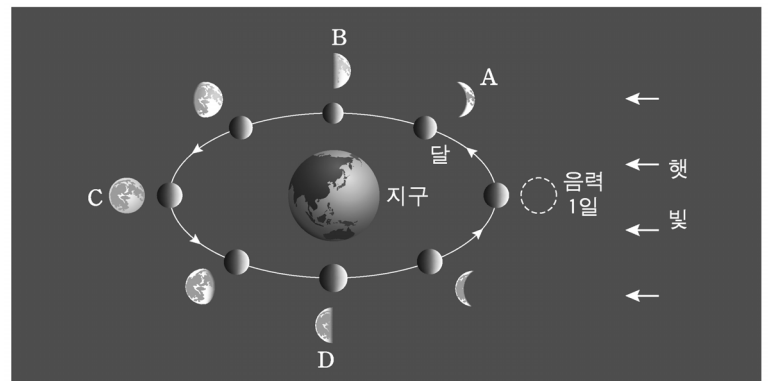
- 태양의 표면에서 방출된다.
- 생명 활동에 이용되는 에너지의 근원이 된다.

- ① 위치 에너지 ② 탄성 에너지
③ 지구 복사 에너지 ④ 태양 복사 에너지

22. 지구형 행성의 특징으로 옳은 것은?

- ① 고리가 존재한다.
- ② 목성형 행성보다 크기가 작다.
- ③ 목성형 행성보다 밀도가 작다.
- ④ 주로 수소나 헬륨으로 이루어져 있다.

23. 그림은 한 달 동안 관측한 달의 위상 변화를 나타낸 것이다. 달의 위상 A~D 중 음력 15일(보름)에 관측한 것은?



- ① A ② B ③ C ④ D

24. 다음 중 지구 자전에 의한 현상은?

- ① 낮과 밤이 생긴다.
- ② 연주 시차가 발생한다.
- ③ 계절의 변화가 생긴다.
- ④ 계절에 따라 별자리가 다르게 관측된다.

25. 다음 설명에 해당하는 지질 시대는?

- 공룡과 암모나이트의 화석이 표준 화석이다.
- 트라이아스기, 쥐라기, 백악기로 나뉜다.

- ① 선캄브리아대 ② 고생대
③ 중생대 ④ 신생대

※ 확인 사항
답을 OMR 답안지의 해당란에 정확히 표기했는지 확인하십시오.

제 7 교시

도 덕

수험번호 ()

성 명 ()

※ 다음 물음에 대한 가장 옳은 답을 하나만 골라, OMR 답안지에 정확히 표기하시오.

1. 다음 설명에 해당하는 개념은?

- 인간 존엄성의 근거
- 외부의 억압이나 강제에서 벗어나 자기 스스로 판단하고 결정하여 실천하는 것

- ① 자율 ② 봉사 ③ 평등 ④ 참여

2. 도덕적 갈등 상황으로 볼 수 없는 것은?

- ① 친구와의 약속을 지킬 것인가?
- ② 어머니를 속이고 PC방에 갈 것인가?
- ③ 햄버거와 팔빙수 중 무엇을 먹을 것인가?
- ④ 버스에서 할머니께 자리를 양보할 것인가?

3. 다음과 같은 입장에서 사회 문제를 해결하려고 할 때 가장 적절한 방법은?

현대 사회의 도덕 문제는 개인의 선한 의지만으로 사회 정의를 실현하기가 어렵다. 사회 정책과 제도의 개선을 통해서 사회 문제를 해결할 수 있는 측면이 강하다.

- ① 자율성과 책임감을 강화한다.
- ② 개인의 양심과 도덕성에 호소한다.
- ③ 도덕적 가치 판단 능력을 함양한다.
- ④ 잘못된 사회 관행을 고치며 법적 체제를 보완한다.

4. 다음 내용이 공통적으로 강조하는 가장 적절한 덕목은?

- 옳고 그름에 대한 기준
- 사회적 재화의 정당한 분배 기준
- 사회 제도가 갖추어야 할 가장 기본적인 덕목

- ① 절제 ② 정의 ③ 책임 ④ 협력

5. 다음 서술형 모범 답안의 문항 제목으로 가장 적절한 것은?

_____ 반 _____ 번 이름: _____

[서술형 1] _____

정의로운 사회를 위해 사회적·경제적 불평등은 최소 수혜자에게 최대의 이익을 보장하도록 해야 한다. 즉 사회적 약자에 대한 배려가 우선해야 한다는 것이다. 예를 들어 저소득자에게 생활비 보조금 지급, 공공시설에 장애인 전용 엘리베이터 설치, 빈곤 무주택자에게 임대 아파트 우선적 공급 등이 이에 해당된다.

- ① 칸트의 평등한 자유의 원칙에 대해 서술하시오.
- ② 흄스의 사회적 계약의 원칙에 대해 서술하시오.
- ③ 롤스의 정의론 중 차등의 원칙에 대해 서술하시오.
- ④ 아리스토텔레스의 정의와 우애의 원칙에 대해 서술하시오.

6. 배려적 사고의 중요 요소에 해당되지 않는 것은?

- ① 다른 사람의 생각을 공감하는 능력
- ② 타인의 감정을 고려할 줄 아는 능력
- ③ 정보의 사실과 의견을 판별하는 능력
- ④ 상대방의 처지와 입장을 이해하는 능력

7. 시민 불복종의 정당화 조건에 대한 설명으로 옳지 않은 것은?

- ① 비폭력적이어야 한다.
- ② 최후의 수단이어야 한다.
- ③ 행위 목적이 정당해야 한다.
- ④ 자신에게 불리한 정책에 무조건 저항해야 한다.

8. <보기>에서 이상적 인간상을 바르게 연결한 것은?

<보기>

(가) 조선 시대에 추구했던 학식과 인품을 갖춘 이상적인 인간

(나) 플라톤이 주장한 지혜, 용기, 절제의 덕을 조화롭게 갖춘 이상적인 인간

- | | | | |
|-----------|-----------|-----------|-----------|
| (가) | (나) | (가) | (나) |
| ① 선비 - 철인 | ② 진인 - 신사 | ③ 군자 - 초인 | ④ 철인 - 신선 |

9. 다음의 사회적 갈등 문제를 해결하기 위한 태도는?



- ① 인신공격 ② 역지사지
- ③ 아집과 독선 ④ 물리적 폭력

10. 도덕적 판단 과정에서 비판적 사고의 순기능만을 <보기>에서 모두 고른 것은?

<보기>

ㄱ. 성급한 결론의 예방

ㄴ. 주관적 감정의 강조

ㄷ. 합리적 사고를 통한 객관적 판단에 기여

ㄹ. 자신의 주장이나 선택에 대한 오류의 검토

- ① ㄱ, ㄴ ② ㄴ, ㄹ
- ③ ㄱ, ㄷ, ㄹ ④ ㄴ, ㄷ, ㄹ

11. 시민 참여의 올바른 자세로 적절하지 않은 것은?

- ① 공동체 이익에 기여해야 한다.
- ② 물질적 이해관계에만 적극 개입한다.
- ③ 주체적이고 자율적인 태도가 필요하다.
- ④ 사회적 약자에 대한 배려를 해야 한다.

12. 도덕적 자율성의 저해 요인이 아닌 것은?

- ① 자유 의지와 선의지 ② 무지와 무관심의 태도
- ③ 이기적 욕망에 따른 선택 ④ 다른 사람의 강제와 통제

13. 다음의 국가 기원설을 주장한 사상가는?

○ 인간은 본성적으로 사회적·정치적 존재이므로 국가의 발생도 자연스러운 것이다.
○ 국가는 시민적 유대감과 행복한 삶을 위해 존재하는 것이다.

- ① 칸트 ② 니체
- ③ 마르크스 ④ 아리스토텔레스

14. 다음과 같은 입장과 거리가 먼 것은?

국가는 외부의 침입이나 내부의 위협으로부터 개인을 보호하는 데 주력하고, 그 외의 일에 대해서는 간섭하지 않음으로써 개인이 자신의 자유를 추구할 수 있도록 해야 한다.

- ① 야경국가관 ② 적극적인 국가관
- ③ 작은 정부 추구 ④ 자유방임주의 표방

15. 다음 내용에서 설명하는 민족주의의 모습은?

국내에 거주하는 외국인 이주자, 북한 이탈 주민 등 새로운 사회 구성원들이 늘어나고 있다. 따라서 이들을 한민족 구성원으로서 포용하여 공동 번영을 추구해 나가야 한다.

- ① 열린 민족주의 ② 국수적 민족주의
- ③ 배타적 민족주의 ④ 폐쇄적 민족주의

16. 정의로운 사회 제도가 필요한 근본적인 이유로 적절하지 않은 것은?

- ① 사회 질서 유지 ② 인간다운 삶의 보장
- ③ 구성원 간의 갈등 조정 ④ 특정 계층의 이익 극대화

17. 다음에서 설명하고 있는 사상은?

○ ‘로고스’를 우주와 자연, 인간을 관통하는 하나의 원리로 봄.
○ ‘정념이 없는 마음의 상태’ 또는 ‘부동심’ 유지로 마음의 평화와 자연 및 우주와의 조화 추구

- ① 유교 사상 ② 도교 사상
- ③ 스토아 사상 ④ 에피쿠로스 사상

18. 한민족 공동체가 지향해야 할 과제로 적절하지 않은 것은?

- ① 남북한의 문화적 이질화 현상 유지
- ② 민족의 분단 극복과 한민족 공동체의 형성
- ③ 민족의 번영과 조화롭고 평화로운 세계 건설
- ④ 민족 정체성 확립과 세계의 보편적 가치 추구

19. 민주 시민으로서 권리와 의무에 대한 가장 바람직한 자세는?

- ① 처벌이 따르는 의무만 이행한다.
- ② 나에게 이익이 되는 의무만 이행한다.
- ③ 의무보다 권리만 우선적으로 중시한다.
- ④ 의무를 성실히 이행하면서 권리를 주장한다.

20. 다음 사례에서 나타난 갈등의 유형은?

우리나라에서는 유교적 전통에 따라 웃어른에 대한 존경심을 중시하는 어른들과, 개인의 자유와 권리에 대한 가치를 중시하는 젊은 사람들 사이에 갈등이 나타나고 있다.

- ① 노사 갈등 ② 빈부 갈등 ③ 세대 갈등 ④ 지역 갈등

21. 세계화 시대에 요구되는 바람직한 모습으로 거리가 먼 것은?

- ① 세계 시민 의식 확대
- ② 이데올로기의 대립 심화
- ③ 다른 민족 간의 문화 공존
- ④ 국가 간의 상호 협력 증진

22. 다음에서 강조하는 도덕적 자세는?

어떤 문제에 대해 타인과 의견이 대립되는 상황에서는 의견 차이를 좁히고 서로에게 도움이 되는 방향으로 노력해야 한다. 이런 과정에서 서로 상대방의 의견을 존중하는 마음가짐이 우선시되어야 한다.

- ① 관용 ② 비판 ③ 복종 ④ 강요

23. 다음의 이상 사회를 주장한 사상가는?

○ 모든 사람은 누구나 예외 없이 노동에 종사하는 공유제 사회
○ 하루 6시간 정도 일을 하고 그 외의 시간은 개인의 발전을 위해 노력하는 유토피아 사회

- ① 공자 ② 노자 ③ 베이컨 ④ 토머스 모어

24. 다음에서 강조하는 불교의 기본 정신은?

○ 모든 중생을 불쌍히 여기는 마음
○ 남이 기뻐하면 함께 기뻐하고, 슬퍼하면 함께 슬퍼한다.

- ① 인의(仁義) ② 무위(無爲) ③ 자비(慈悲) ④ 청렴(清廉)

25. 다음 판서 내용 중 잘못된 부분을 고른 것은?

주제: 정보화의 긍정적·부정적 영향

긍정적 영향	부정적 영향
ㄱ. 쌍방향 의사소통 가능	ㄴ. 정보 유출로 사생활 침해
ㄴ. 정보의 무분별한 남용	ㄷ. 정보 격차로 경제적 평등 확대
ㄷ. 상호 간 정보 전달 용이	ㄹ. 익명성을 이용한 악성 댓글 팽배

- ① ㄱ, ㄴ ② ㄴ, ㄷ ③ ㄷ, ㄹ ④ ㄷ, ㄹ

※ 확인 사항
답을 OMR 답안지의 해당란에 정확히 표기했는지 확인하십시오.

제 6 교시

한국사

수험번호 ()

성명 ()

※ 다음 물음에 대한 가장 옳은 답을 하나만 골라, OMR 답안지에 정확히 표기하시오.

1. 청동기 시대의 대표적인 유물·유적을 <보기>에서 고른 것은?

<보기>

㉠. 고인돌	㉡. 비파형 동검
㉢. 주먹도끼	㉣. 철제 농기구

- ① ㉠, ㉡ ② ㉠, ㉢ ③ ㉡, ㉣ ④ ㉢, ㉣

2. (가)에 들어갈 인물은?

삼국유사의 기록에 따르면, 환웅이 웅녀와 혼인하여 낳은 (가) 이/가 고조선을 세웠다. 고조선은 정치적 지배자가 제사장을 겸하는 사회였다.

- ① 온조 ② 주몽
③ 단군왕검 ④ 박혁거세

3. 다음 설명에 해당하는 백제의 왕은?

○ 지방의 22담로에 왕족을 파견함.
○ 중국 남조와 교류하여 친선 관계를 유지함.
○ 사후에 벽돌무덤 양식의 능에 안장됨.

- ① 고이왕 ② 무령왕 ③ 법흥왕 ④ 신문왕

4. (가)에 들어갈 제목으로 알맞은 것은?

제목: (가)

제정 분리 사회

- 정치 지배자: 신지, 음차
- 제사장: 천군
- 신성 구역: 소도

① 동예의 정치

② 부여의 발전

③ 삼한의 특징

④ 옥저의 성립

5. 다음 설명에 해당하는 나라는?

○ 고구려 계승 의식을 표방함.
○ '신라도'를 통해 신라와 교역함.
○ 중국인들로부터 해동성국이라 불림.

- ① 가야 ② 고려 ③ 발해 ④ 백제

6. (가)에 들어갈 종교는?

삼국은 중앙 집권 국가로 성장하는 과정에서 전쟁으로 영토를 확장하는 한편, (가) 를 수용하여 사상을 통일하였고, 율령을 반포하여 통치 체제를 정비하였다.

- ① 도교 ② 불교 ③ 대종교 ④ 천도교

7. (가)에 들어갈 나라는?

(가) 은/는 진한의 소국인 사로국에서 출발하였다. 초기에는 박·석·김의 세 성씨가 번갈아 왕이 되어 국가를 운영하였으나, 왕권 강화와 더불어 김씨가 왕위를 독차지하게 되었다.

- ① 신라 ② 태봉 ③ 고구려 ④ 후백제

8. 통일 신라 말의 상황으로 옳지 않은 것은?

- ① 국호가 남부여로 바뀌었다.
② 진골 귀족들 사이에 왕위 쟁탈전이 일어났다.
③ 지방에서 성주, 장군을 칭하는 세력이 성장하였다.
④ 6두품 세력들이 골품제의 모순을 비판하며 개혁을 주장하였다.

9. (가)에 들어갈 왕은?

(가) 은 만주 지역으로 영토를 확장하였고, 남으로는 백제를 압박하고 신라를 도와 왜구를 격퇴하였다. 아들인 장수왕은 지금의 지린 성 지안에 그를 기리는 비석을 세웠다.

- ① 태조왕 ② 고국천왕
③ 소수림왕 ④ 광개토 대왕

10. 다음 활동을 펼친 인물은?

○ 당나라에서 귀국한 뒤 완도에 청해진을 설치함.
○ 신라·당·일본을 잇는 해상 무역을 주도함.

- ① 견훤 ② 장보고
③ 최승로 ④ 연개소문

11. 다음에서 설명하고 있는 고려의 제도는?

○ 광종 때 처음으로 시행함.
○ 제술과와 명경과로 나누어 문과를 실시함.

- ① 골품 제도 ② 과거 제도
③ 음서 제도 ④ 전시과 제도

12. 팔만대장경에 대한 설명으로 옳은 것은?

- ① 사림들의 문화적 취향이 반영되어 제작되었다.
② 유교 보급을 위한 국가적 사업으로 간행되었다.
③ 현재 전해지는 금속 활자본 중 가장 오래되었다.
④ 몽골의 침입을 물리치려는 염원에서 만들어졌다.

13. 다음 설명에 해당하는 정치 세력은?

- 고려 말 권문세족의 횡포를 비판함.
- 지방 향리 출신으로 성리학을 수용함.
- 공민왕의 반원 자주 정책과 함께 성장함.

- ① 노론 ② 호족
③ 문벌 귀족 ④ 신진 사대부

14. 세종이 실시한 정책을 <보기>에서 고른 것은?

<보기>

ㄱ. 화성 건설	ㄴ. 4군 6진 설치
ㄷ. 훈민정음 반포	ㄹ. 대동여지도 제작

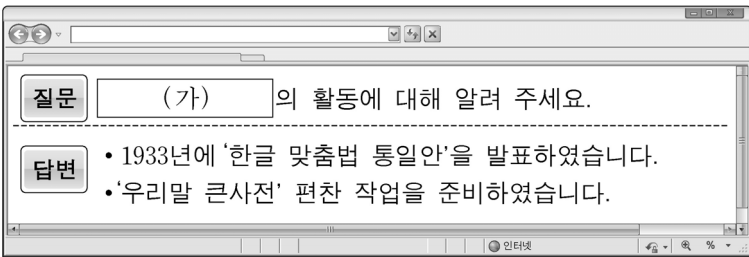
- ① ㄱ, ㄴ ② ㄱ, ㄹ ③ ㄴ, ㄷ ④ ㄴ, ㄹ

15. 다음 설명에 해당하는 조선의 신분은?

역관, 의관 같은 기술관이나 중앙 관청의 서리, 지방의 향리 등이 포함된다. 주로 전문 기술이나 행정 실무를 담당하였다.

- ① 상민 ② 양반 ③ 중인 ④ 천민

16. (가)에 해당하는 단체는?



- ① 근우회 ② 진단 학회
③ 조선어 학회 ④ 조선사 편수회

17. (가)에 들어갈 인물은?

임진왜란 당시 (가)이 이끄는 조선 수군이 옥포, 한산도 등의 해전에서 승리를 거둬 남해의 제해권을 장악하였다.

- ① 윤관 ② 최영 ③ 강감찬 ④ 이순신

18. 조선 후기 실학에 대한 설명으로 옳은 것을 <보기>에서 고른 것은?

<보기>

ㄱ. '인내천(人乃天)' 사상을 내세웠다.
ㄴ. 대표적인 학자로 정약용, 박지원 등이 있다.
ㄷ. 토지 제도 개혁, 상공업 발달 등을 주장하였다.
ㄹ. 『삼강행실도』와 『국조오례의』가 대표적인 서적이다.

- ① ㄱ, ㄴ ② ㄱ, ㄹ ③ ㄴ, ㄷ ④ ㄷ, ㄹ

19. 다음 설명에 해당하는 단체는?

- 안창호, 양기탁 등이 비밀리에 조직하였다.
- 대성 학교, 오산 학교를 설립하여 인재를 양성하였다.
- 공화정을 추구하고, 만주에 독립군 기지를 건설하였다.

- ① 보안회 ② 신민회 ③ 일진회 ④ 황국 협회

20. 다음에서 설명하고 있는 사건은?

홍선 대원군이 실권을 잡고 있을 당시 미국은 제너럴 셔먼호 사건을 구실로 강화도를 침략하였다. 그러나 미군은 조선 측의 강력한 저항에 부딪혀 퇴각하였다.

- ① 갑신정변 ② 신미양요 ③ 아관파천 ④ 임오군란

21. (가)에 해당하는 조약은?

탐구 활동

탐구 주제: (가)

<조사 내용>

- 일본이 대한 제국에 강요하여 체결함.
- 일본이 우리의 외교권을 빼앗고, 통감부를 설치함.
- 고종은 이 조약의 부당함을 알리기 위해 헤이그에 특사를 파견함.

- ① 을사 조약 ② 한성 조약
③ 강화도 조약 ④ 제물포 조약

22. 다음에서 설명하는 사회 운동은?

갑오개혁으로 법적인 신분제는 없어졌지만, 사회적 차별은 여전히 남아 있었다. 이에 백정들이 1923년에 진주에서 단체를 조직하여 백정에 대한 차별 철폐 등을 주장하며 활동하였다.

- ① 형평 운동 ② 브나로드 운동
③ 국채 보상 운동 ④ 물산 장려 운동

23. 다음 내용에 해당하는 독립군 단체는?

- 대한민국 임시 정부가 충칭에서 창설하였다.
- 미국군과 연합하여 국내 진공 작전을 계획하였다.
- 인도·미얀마 전선에서 영국군과 공동 작전을 전개하였다.

- ① 의열단 ② 조선 혁명군
③ 한국 광복군 ④ 한인 애국단

24. <보기>의 내용을 시대 순으로 배열한 것은?

<보기>

ㄱ. 장면 내각	ㄴ. 박정희 정부	ㄷ. 이승만 정부
----------	-----------	-----------

- ① ㄱ-ㄴ-ㄷ ② ㄱ-ㄷ-ㄴ
③ ㄴ-ㄱ-ㄷ ④ ㄷ-ㄱ-ㄴ

25. (가)에 들어갈 주제는?

주제: (가)

<주요 내용>

- 관련 법령 공포 - 1949년 6월
- 토지 분배 방식 - 유상 매수, 유상 분배
- 1가구당 토지 소유 한도 - 3정보
- 의의 - 지주 중심의 토지 소유가 폐지되었고, 농민들은 자기 소유의 토지를 갖게 됨.

- ① 농지 개혁 ② 금융 실명제
③ 새마을 운동 ④ 경제 개발 5개년 계획

※ 확인 사항
답을 OMR 답안지의 해당란에 정확히 표기했는지 확인하십시오.