

10. ㉠에 들어갈 알맞은 속담은?

우리 반은 학급 회의를 통해 교실 뒤의 게시판을 꾸미기로 하였어요. 선생님께서는 “여러분, 게시판을 꾸미는 일은 개인의 일이 아니라 우리 모두의 일이에요. 속담에 ‘_____ ㉠_____’라는 말이 있어요. 우리 모두 힘을 모아 게시판을 꾸며 보는 것은 어떨까요?”라고 말씀하셨습니다.

- ① 백지장도 맞들면 낫다.
- ② 소 잃고 외양간 고친다.
- ③ 가는 말이 고와야 오는 말이 곱다.
- ④ 낮말은 새가 듣고 밤말은 쥐가 듣는다.

[11~12] 다음 글을 읽고 물음에 답하십시오.

테레사 수녀는 1910년 알바니아의 노동자 가정에서 태어나 인도의 불쌍한 사람들을 위하여 평생을 바쳤습니다. 1948년, 의료 기술을 익힌 서른여덟 살의 테레사 수녀는 콜카타로 돌아와 가난한 사람들을 위한 학교를 세웠습니다. 1950년, 테레사 수녀는 열두 명의 지원자와 ‘사랑의 선교회’를 설립하였습니다. 이들은 콜카타 빈민가를 돌며 음식을 나누어 주었고 아픈 사람들을 보살피 주었습니다.

11. 윗글에서 테레사 수녀가 한 일이 아닌 것은?

- ① 아픈 사람들을 보살피 주었다.
- ② 시각 장애인을 위해 점자를 만들었다.
- ③ 빈민가를 돌며 음식을 나누어 주었다.
- ④ 가난한 사람들을 위한 학교를 세웠다.

12. 위와 같은 전기문의 특징이 아닌 것은?

- ① 인물의 업적이 드러난다.
- ② 시간적 배경은 미래이다.
- ③ 실제 인물을 주인공으로 한다.
- ④ 인물이 살았던 시대적 상황이 나타난다.

13. 다음 상황에서 활용하는 사전으로 가장 알맞은 것은?



- ① 식물도감
- ② 인명사전
- ③ 어류도감
- ④ 우리말 유래 사전

14. 다음 문장에서 밑줄 친 부분의 호응 관계가 바르지 않은 것은?

- ① 아버지께 선물을 드렸다.
- ② 물고기가 어부에게 잡았다.
- ③ 오늘 날씨는 마치고 가을 날씨 같다.
- ④ 만약 비가 온다면 운동회는 연기될 것이다.

[15~16] 다음 글을 읽고 물음에 답하십시오.

내가 채송화꽃처럼 조그마했을 때
 꽃밭이 내 집이었지.
 내가 강아지처럼 가양가양 돌아다니기 시작했을 때
 마당이 내 집이었지.
 내가 송아지처럼 경중경중 뛰어다녔을 때
 푸른 들판이 내 집이었지.
 내가 잠자리처럼 은빛 날개를 가졌을 때
 파란 하늘이 내 집이었지.
 내가 내가
 아주 어렸을 때
 내 집은 많았지.
 나를 키워 준 집은 차암 많았지.

- 이준관, 「내가 채송화꽃처럼 조그마했을 때」 -

15. 위 시의 글감이 아닌 것은?

- ① 송아지 ② 강아지 ③ 용달쌈 ④ 채송화꽃

16. 위 시에서 ‘내 집’으로 비유되지 않은 것은?

- ① 꽃밭 ② 잠자리 ③ 푸른 들판 ④ 파란 하늘

[17~18] 다음 글을 읽고 물음에 답하십시오.

쌀 소비량은 계속 줄어들고 있는 추세이다. 쌀 ㉠ 소비량이 줄어들면서 논도 급격히 줄어들고 있다. 벼농사는 ㉡ 국토를 지켜 주고 환경을 ㉢ 정확하며 전통문화를 보존하게 하는 문화 지킴이이다. 그러므로 우리는 벼농사를 지켜야 한다. 우리가 먹는 밥 한 ㉣ 그릇이 벼농사를 지키는 힘이 될 것이다.

17. 윗글에서 글쓴이의 주장으로 알맞은 것은?

- ① 벼농사를 지키자. ② 나무를 많이 심자.
- ③ 식생활을 서구화하자. ④ 쌀 소비량을 줄이자.

18. ㉠~㉣ 중 고유어는?

- ① ㉠ ② ㉡ ③ ㉢ ④ ㉣

[19~20] 다음 글을 읽고 물음에 답하십시오.

선생님과 아이들이 노래를 부르며 무대에서 나가고, 토마스
 스와 아니카만 무대에 남는다. 불안간 아니카가 말을 발견
 하고 토마스의 팔을 잡는다.

아니카: (_____ ㉠ _____) 저것 좀 봐!
 토마스: (마찬가지로 깜짝 놀라며) 저게 뭐지?
 아니카: (문패를 가리키며) ㉡ 저런 문패가 없었는데!

19. ㉠에 들어갈 알맞은 것은?

- ① 우울하게 ② 머뭇거리며
- ③ 깜짝 놀라며 ④ 슬픈 목소리로

20. 희곡의 요소 중 ㉡에 해당되는 것은?

- ① 해설 ② 지문 ③ 대사 ④ 관객

제 3 교시

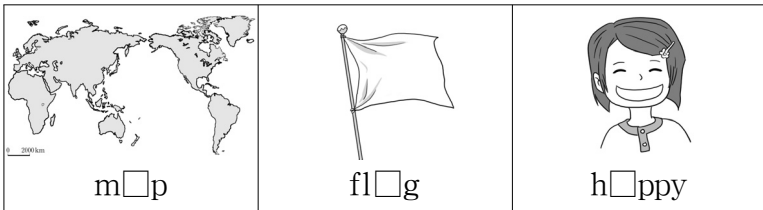
영어

수험번호 ()

성명 ()


※ 다음 물음에 대한 가장 옳은 답을 하나만 골라 정확히 표기하시오.

1. □에 공통으로 들어갈 알파벳은?



- ① a ② e ③ i ④ u

2. 그림에 해당하는 낱말이 바른 것은?



3. 다음 그림을 바르게 묘사한 것은?



- ① She has short hair.
- ② She is wearing a tie.
- ③ She is wearing a hat.
- ④ She is wearing glasses.

4. 대화에서 B가 하고 있는 일은?

A: Mom, what are you doing?
B: I'm washing the dishes in the kitchen.

- ① 독서 ② 요리
- ③ 빨래 ④ 설거지

5. 대화에서 B가 학교에 도착한 시각은?

A: What time did you come to school?
B: I came to school at seven thirty.


- ① 7시 30분 ② 8시
- ③ 8시 30분 ④ 9시

6. 대화에서 빈칸에 들어갈 말로 가장 알맞은 것은?

A: What did you do yesterday?
B: I _____ soccer.

- ① play ② plays
- ③ played ④ will play

7. 그림을 보고 빈칸에 들어갈 낱말로 가장 알맞은 것은?



A: Where is the dog?
B: It is _____ the desk.

- ① of ② on ③ under ④ behind

8. 대화의 상황으로 가장 알맞은 것은?

Tim: Hello, this is Tim speaking.
May I speak to Jina?
Jina: Speaking.

- ① 연설 ② 전화
- ③ 쇼핑 ④ 편지 쓰기

9. 대화에서 빈칸에 들어갈 낱말로 알맞지 않은 것은?

A: I'm thirsty. Do you have some _____?
B: Here you are.

- ① milk ② juice ③ water ④ chicken

10. 대화에서 A가 산 모자의 가격은?

A: I want a cap. How much is that red cap?
B: It's twenty dollars.
A: OK. I'll take it.

- ① \$2 ② \$12 ③ \$20 ④ \$22

11. 표의 내용과 일치하는 것은?

구분	Tom	Jun
나이(살)	10	11
키(cm)	140	145
몸무게(kg)	45	40

- ① Tom is older than Jun.
- ② Jun is taller than Tom.
- ③ Jun is heavier than Tom.
- ④ Jun is younger than Tom.

12. 다음 문장을 바르게 고쳐 쓴 것은?

his Birthday is may 28th.

- ① his birthday Is may 28th.
- ② His Birthday Is may 28th.
- ③ His birthday is May 28th.
- ④ his Birthday is May 28th.

13. 대화에서 B가 내일 할 일로 알맞은 것은?

A: I will go to a movie tomorrow. What about you?
B: Me, too.

- ① 책을 볼 것이다.
- ② 영화를 볼 것이다.
- ③ 숙제를 할 것이다.
- ④ 야구를 할 것이다.

14. 그림이 나타내는 의미를 바르게 표현한 것은?



- ① Don't run.
- ② Don't talk.
- ③ Don't laugh.
- ④ Don't eat here.

15. 대화에서 빈칸에 들어갈 표현으로 알맞은 것은?

A: What a nice doll! Whose doll is this?
B: _____.

- ① It's mine
- ② No problem
- ③ It's 6 o'clock
- ④ I'm 11 years old

16. 대화 내용으로 알맞은 것은?

A: What do you want to be?
B: I want to be a doctor.

- ① 점심 메뉴를 고르고 있다.
- ② 부모님 직업을 조사하고 있다.
- ③ 장래 희망을 이야기하고 있다.
- ④ 병원 진료 시간을 예약하고 있다.

17. 대화에서 B의 교실이 있는 곳은?

A: Where is your classroom?
B: It's on the fifth floor.

- ① 2층
- ② 3층
- ③ 4층
- ④ 5층

18. 대화에서 빈칸에 들어갈 낱말로 알맞은 것은?

A: _____ are you from?
B: I am from Canada.

- ① How
- ② Who
- ③ Why
- ④ Where

19. 글을 쓴 이유로 알맞은 것은?

To David,

I will have a pizza party this Saturday. We will have some pizza and play games. Would you like to come to my party?

From Jane

- ① 불평하려고
- ② 사과하려고
- ③ 초대하려고
- ④ 항의하려고

20. 대화에서 B가 제안을 거절한 이유는?

A: Let's go swimming.
B: Sorry, I can't.
A: Why?
B: Because I have a cold.

- ① 감기에 걸려서
- ② 날씨가 추워서
- ③ 다리를 다쳐서
- ④ 수영을 못해서

제 ② 교시

수 학

수험번호 ()

성 명 ()

※ 다음 물음에 대한 가장 옳은 답을 하나만 골라 정확히 표기하시오.

1. 다음 중 가분수는?

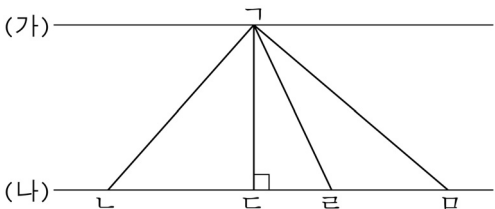
- ① $\frac{1}{2}$ ② $\frac{3}{4}$ ③ $\frac{5}{3}$ ④ $1\frac{2}{5}$

2. 125×12 를 계산하는 과정이다. ㉠과 ㉡에 들어갈 알맞은 수는?

$$\begin{array}{r} 125 \\ \times 12 \\ \hline 250 \\ 1\text{㉠}5 \\ \hline 1\text{㉡}00 \end{array}$$

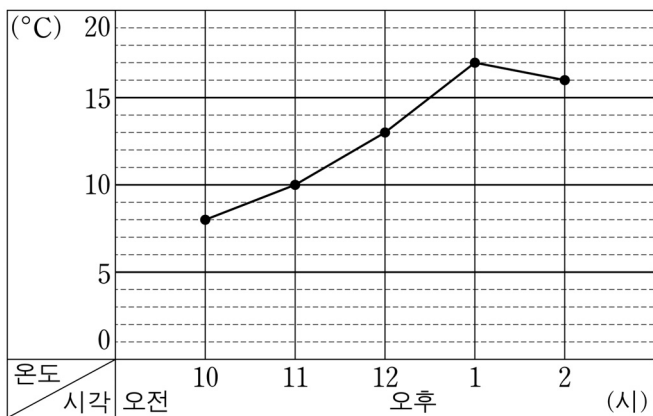
- ㉠ ㉡
- ① 1 3
- ② 2 5
- ③ 3 3
- ④ 4 5

3. 직선 (가)와 (나)가 서로 평행일 때, 평행선 사이의 거리는?



- ① 선분 가나
- ② 선분 가다
- ③ 선분 가리
- ④ 선분 가라

4. 그래프는 어느 교실의 온도를 측정하여 나타낸 것이다. 설명이 옳지 않은 것은?



- ① 막대그래프이다.
- ② 가로 눈금은 시각을 나타낸다.
- ③ 세로 눈금은 온도를 나타낸다.
- ④ 온도가 가장 높은 시각은 오후 1시이다.

5. □ 안에 들어갈 말로 알맞은 것은?

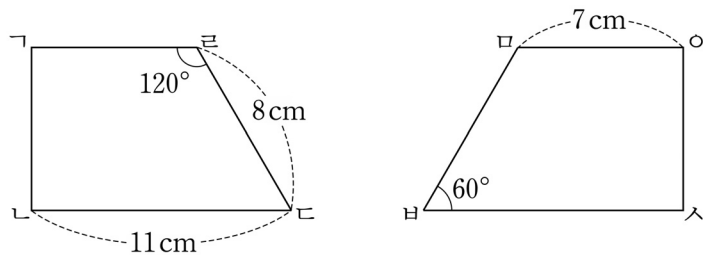
$8 = 2 \times 4$
2와 4는 8의 약수이다.
8은 2와 4의 □이다.

- ① 배수
- ② 약분
- ③ 통분
- ④ 공약수

6. $52 \times 7 = 364$ 일 때, 52×0.7 의 값은?

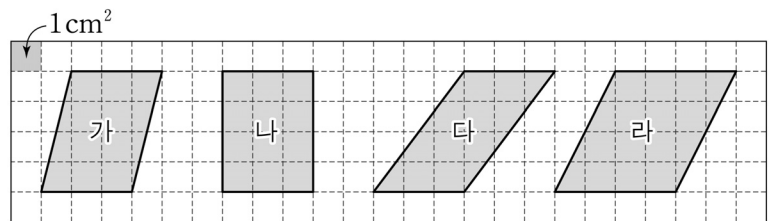
- ① 0.364 ② 3.64 ③ 36.4 ④ 364

7. 두 도형이 합동일 때, 설명이 옳지 않은 것은?



- ① 각 나다르온 60° 이다.
- ② 각 바다오은 120° 이다.
- ③ 변 가리의 길이는 7cm이다.
- ④ 변 바바의 길이는 11cm이다.

8. 그림에서 도형의 넓이가 다른 하나는?



- ① 가 ② 나 ③ 다 ④ 라

9. 표는 1주일 동안 어느 식당의 이용자 수를 조사하여 나타낸 것이다. 이 식당의 하루 평균 이용자 수는?

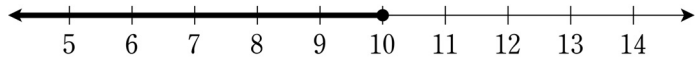
요일	월	화	수	목	금	토	일	합계
이용자 수(명)	40	45	36	46	64	68	51	350

- ① 40명 ② 50명 ③ 60명 ④ 70명

10. 주머니에 10원짜리 동전 2개, 50원짜리 동전 2개, 100원짜리 동전 2개가 들어 있다. 동전 4개를 꺼냈을 때 210원이 되는 경우는?

	10원	50원	100원
①	0개	2개	2개
②	1개	1개	2개
③	1개	2개	1개
④	2개	1개	1개

11. 수직선에서 굵은 선으로 나타낸 수의 범위는?



- ① 10 이하인 수 ② 10 미만인 수
 ③ 10 이상인 수 ④ 10 초과인 수

12. □ 안에 알맞은 수를 순서대로 나열한 것은?

$$7\frac{1}{2} \div \frac{3}{4} = \frac{\square}{2} \times \frac{4}{3} = \square$$

- ① 8, 10 ② 10, 15
 ③ 15, 8 ④ 15, 10

13. 나눗셈의 몫이 가장 작은 것은?

- ① $100 \div 5$ ② $100 \div 0.5$
 ③ $100 \div 0.05$ ④ $100 \div 0.005$

14. □ 안에 들어갈 알맞은 수는?

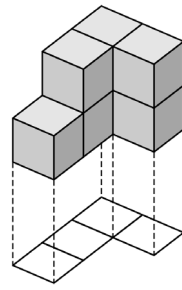
주사위 한 개를 던질 때, 5의 배수가 나오는 경우의 수는 □이다.

- ① 1 ② 2 ③ 3 ④ 4

15. 삼각뿔의 꼭짓점과 면의 수로 옳은 것은?

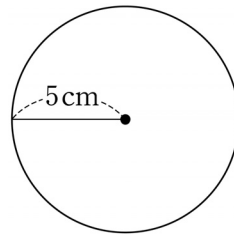
	꼭짓점의 수	면의 수
①	4	4
②	5	5
③	6	6
④	7	7

16. 그림과 같은 모양을 만들기 위해서 사용한 쌓기나무의 개수는?



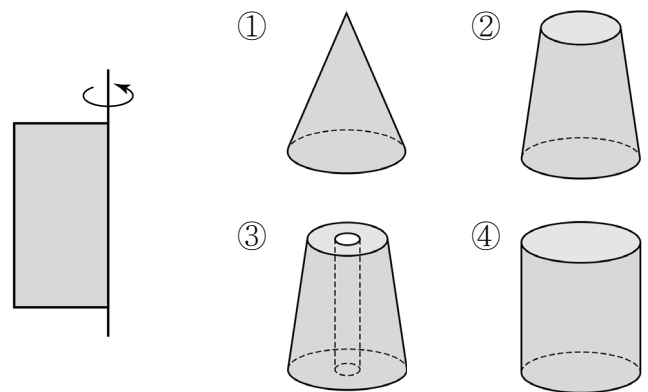
- ① 3개
 ② 5개
 ③ 7개
 ④ 9개

17. 반지름이 5cm인 원의 넓이를 구하는 식으로 옳은 것은?
 (단, 원주율은 3.14로 한다.)



- ① $2\text{cm} \times 5\text{cm} \times 3.14$
 ② $3\text{cm} \times 5\text{cm} \times 3.14$
 ③ $4\text{cm} \times 5\text{cm} \times 3.14$
 ④ $5\text{cm} \times 5\text{cm} \times 3.14$

18. 그림의 평면도형을 직선을 축으로 하여 1회전 시켰을 때, 얻어지는 입체도형은?



19. □ 안에 들어갈 알맞은 수는?

$$1:5 = 3:\square$$

- ① 5 ② 10 ③ 15 ④ 20

20. 공책 5권을 형과 동생이 3:2로 나누어 가지려 한다. 형이 가질 공책의 권수는?

- ① 1권 ② 3권 ③ 5권 ④ 7권

제 ② 교시

과 학

수험번호 ()

성 명 ()

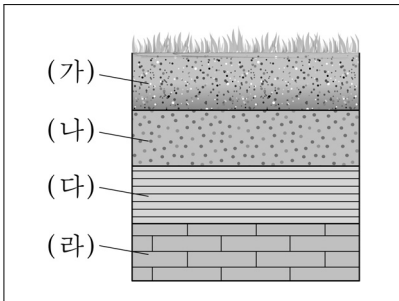
※ 다음 물음에 대한 가장 옳은 답을 하나만 골라 정확히 표기하시오.

1. 표는 용수철에 추를 매달았을 때 용수철이 늘어난 길이를 나타낸 것이다. ㉠에 들어갈 숫자로 알맞은 것은? (단, 추의 무게는 모두 동일하다.)

추의 수 (개)	용수철이 늘어난 길이 (cm)
1	2
2	4
㉠	6

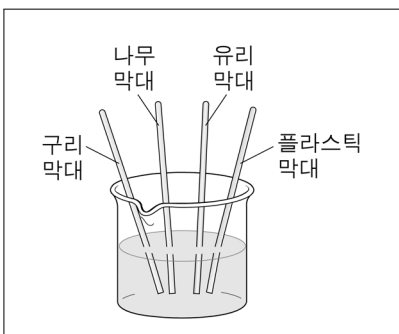
- ① 3 ② 4 ③ 5 ④ 6

2. 그림의 지층에서 가장 먼저 쌓인 부분은? (단, 지각 변동은 없었다.)



- ① (가)
- ② (나)
- ③ (다)
- ④ (라)

3. 그림은 뜨거운 물이 담긴 비커에 여러 가지 물질의 막대를 넣은 것이다. 열이 가장 빨리 전달되는 막대는?

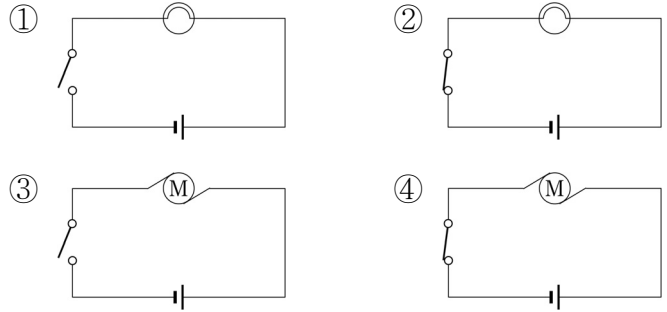


- ① 구리 막대
- ② 나무 막대
- ③ 유리 막대
- ④ 플라스틱 막대

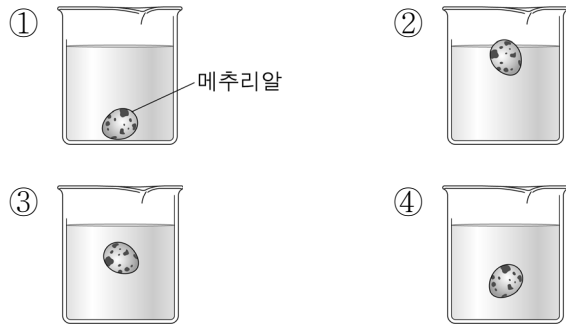
4. 씨앗이 싹트는 데 물이 주는 영향을 알아보려고 한다. 다음 중 다르게 해야 할 조건으로 가장 적절한 것은?

- ① 실험 장소 ② 물의 유무
- ③ 씨앗의 종류 ④ 씨앗의 크기

5. 그림에서 전구에 불이 켜지는 전기 회로도는?



6. 그림은 진하기가 다른 소금물에 동일한 메추리알을 넣은 것이다. 가장 진한 소금물은? (단, 비커의 크기와 소금물의 양은 모두 동일하다.)



7. 다음 설명에 해당하는 생물은?

○ 무리를 지어 산다.
○ 주로 땅 위나 땅 속에 집을 짓고 생활한다.

- ① 개미 ② 물방개
- ③ 소금쟁이 ④ 장구벌레

8. 다음은 태양에서 가까운 거리에 놓인 행성을 순서대로 나열한 것이다. ㉠에 알맞은 행성은?

수성 → 금성 → (㉠) → 화성

- ① 목성 ② 지구 ③ 토성 ④ 천왕성

9. 뿌리에서 흡수된 물이 식물의 잎을 통해 빠져나가는 작용은?

- ① 번식 작용 ② 저장 작용
- ③ 증산 작용 ④ 지지 작용

제 ③ 교시

도 덕

수험번호 ()

성 명 ()

※ 다음 물음에 대한 가장 옳은 답을 하나만 골라 정확히 표기하시오.

1. 다음에서 나타내고 있는 덕목은?



한 방울, 한 방울 떨어지는 먹물이 맑은 물을 흐리듯 한 번, 두 번 반복되는 거짓말이 자신의 인격을 해치게 됩니다.

- ① 정직 ② 친절 ③ 협동 ④ 효도

2. 이웃과 사이좋게 지내기 위한 행동으로 거리가 먼 것은?

- ① 이웃끼리 서로 양보한다. ② 이웃을 존중하고 배려한다. ③ 이웃에게 항상 무관심하게 대한다. ④ 이웃과 바르고 고운 말로 대화한다.

3. 우리나라의 전통 문화유산은?

- ① 불국사 ② 타지 마할 ③ 파르테논 신전 ④ 앙코르 와트 사원

4. 통일을 통해 얻을 수 있는 이로운 점이 아닌 것은?

- ① 떨어져 살던 이산가족이 만날 수 있다. ② 남북 문화의 차이로 어려움을 겪게 된다. ③ 남한과 북한의 사람들이 자유롭게 오갈 수 있다. ④ 남북의 기술력과 자원이 합쳐져 경제가 발전할 수 있다.

5. 사이버 공간에서 지켜야 할 예절은?

- ① 악성 댓글을 단다. ② 상처 주는 말을 함부로 사용하지 않는다. ③ 다른 사람의 정보를 나쁜 목적으로 사용한다. ④ 다른 사람의 글과 그림 등을 불법 다운로드한다.

6. 서로 다른 주장을 민주적으로 해결하는 자세로 바람직하지 않은 것은?

- ① 민주적인 절차를 거쳐 의사 결정한다. ② 다른 사람의 인격을 무시하는 말을 사용한다. ③ 사람마다 의견이 다를 수 있다는 것을 인정한다. ④ 내 의견을 주장할 때에는 이유와 근거를 들어 설명한다.

7. 공중도덕을 잘 지키는 행동은?

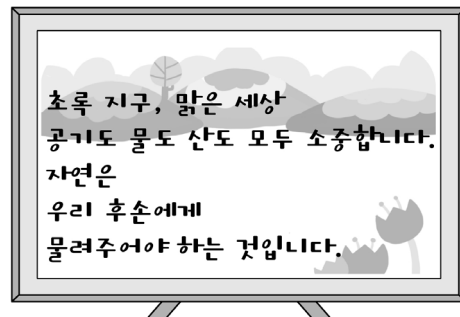
- ① 길에 쓰레기를 버린다. ② 공원 바닥에 껌을 뱉는다. ③ 공중 화장실 바닥에 침을 뱉는다. ④ 공공 도서관의 책을 깨끗이 이용한다.

8. 다음에서 설명하는 것은?

○ 서로의 마음과 힘을 합친다는 뜻을 가지고 있다. ○ 생활 속에서 계, 품앗이, 두레의 형태로 나타난다.

- ① 경쟁 ② 교만 ③ 방종 ④ 협동

9. 다음 내용을 위해 노력해야 할 점은?




- ① 도로 건설 ② 자연 사랑 ③ 운동경기 응원 ④ 합성세제 남용

10. 재외 동포를 대하는 태도로 바람직하지 않은 것은?

- ① 재외 동포들의 고국 방문을 환영한다. ② 재외 동포를 돕는 활동에 적극 참여한다. ③ 좋은 일이 있을 때 함께 나누고 축하해 준다. ④ 재외 동포가 우리와 다른 민족이라고 생각한다.

11. 다음 광고 문구와 관련 있는 것은?



- ① 검소 ② 배려 ③ 애향 ④ 통일

12. 다음 중 교통 규칙을 지킨 행동은?

- ① 횡단보도를 이용해 길을 건넌다.
 ② 교통 신호를 무시하고 좌회전을 한다.
 ③ 규정 속도를 위반하여 앞차를 추월한다.
 ④ 육교는 위험하므로 차도를 무단 횡단한다.

13. 다양한 문화의 공존을 위해 필요한 자세는?

- ① 다른 문화를 이해하고 존중한다.
 ② 우리 민족 고유의 생활 방식을 강요한다.
 ③ 익숙하지 않은 관습에 대해 편견을 갖는다.
 ④ 피부색이나 출신 국가에 따라 차별하여 대우한다.

14. 공정한 생활에 어울리지 않는 태도는?

- ① 자신의 입장과 다른 사람의 권익을 함께 존중한다.
 ② 모든 사람이 자신의 몫을 받을 수 있도록 배려한다.
 ③ 개인의 이익을 주장하기 위해 발언 기회를 독점한다.
 ④ 부당한 대우를 받는 사람이나 약자, 소수자를 보호한다.

15. 평화 통일을 위해 해야 할 일 중 옳은 것만을 <보기>에서 모두 고른 것은?

<보기>

ㄱ. 다른 나라의 도움을 받아 무력으로 통일하기	ㄴ. 전쟁의 무서움을 알고 화합을 위해 노력하기
ㄷ. 남북한의 다양한 문화 교류로 이해의 폭 넓히기	

- ① ㄱ, ㄴ ② ㄴ, ㄷ ③ ㄱ, ㄷ ④ ㄱ, ㄴ, ㄷ

16. 성실한 사람의 특징은?

- ① 남에게 책임을 떠넘긴다.
 ② 남이 노력하여 이룬 것을 가로챈다.
 ③ 어려운 일은 중간에 쉽게 포기한다.
 ④ 목표를 세우고 맡은 일에 최선을 다한다.

17. 봉사할 때의 올바른 마음가짐은?

- ① 금전적인 대가를 요구한다.
 ② 질서와 규칙은 지키지 않는다.
 ③ 남을 존중하고 애쓰는 마음을 가진다.
 ④ 도움을 받는 사람의 자존심을 상하게 한다.

18. 다음에서 설명하는 봉사 단체는?

	○ 국제 연합 아동 기금 ○ 세계의 불행한 어린이들을 돕는 단체
--	--

- ① 유니세프 ② 유럽 연합
 ③ 국제 통화 기금 ④ 국경 없는 의사회

19. 이웃을 위해 사랑을 실천하는 방법 중 옳은 것만을 <보기>에서 모두 고른 것은?

<보기>

ㄱ. 급식 봉사	ㄴ. 의료 봉사
ㄷ. 재능 기부	ㄹ. 인종 차별

- ① ㄱ, ㄴ ② ㄴ, ㄷ
 ③ ㄱ, ㄴ, ㄷ ④ ㄴ, ㄷ, ㄹ

20. 평화로운 세상을 위한 노력으로 가장 바람직한 것은?

- ① 전쟁이 일어난 곳에 무기를 수출한다.
 ② 군사력을 앞세워 힘없는 나라를 침략한다.
 ③ 기아, 환경 파괴 등에는 신경 쓰지 않는다.
 ④ 지진이 일어난 나라에 식량과 의약품을 보낸다.