

제 1 교시

국 어

수험번호 ()

성 명 ()

※ 다음 물음에 대한 가장 옳은 답을 하나만 골라 정확히 표기하시오.

1. 다음의 형식과 같은 문장은?

무엇이 무엇을 어찌하다.

- ① 개미는 곤충이다. ② 민수가 과일을 먹는다.
- ③ 날씨가 매우 따뜻하다. ④ 내 동생은 초등학교이다.

2. 높임말을 바르게 사용한 것은?

- ① 선생님, 많이 편찮으세요?
- ② 할아버지, 건강하게 잘 있지요?
- ③ 동생은 장난감을 열심히 고치신다.
- ④ 나는 친구의 말씀을 귀 기울여 들었다.

3. 온라인에서 지켜야 할 언어 예절이 아닌 것은?

- ① 올바른 언어를 사용한다.
- ② 다른 사람의 글은 출처를 밝혀 쓴다.
- ③ 맞춤법과 띄어쓰기는 모두 무시한다.
- ④ 상대방을 존중하며 예의를 갖춰 글을 쓴다.

4. ‘고치다’가 ‘병을 낫게 하다’의 뜻으로 쓰인 것은?

- ① 한 번 생긴 버릇은 고치기가 쉽지 않다.
- ② 이 병원은 감기를 잘 고치기로 유명하다.
- ③ 아버지께서 고장 난 시계를 고쳐 주셨다.
- ④ 잘못 쓴 글자를 고칠 때 지우개가 필요하다.

5. 광고에서 전하려는 내용은?

인국장애인고용공단

들을 수 없었던 베토벤! 세상을 즐겁게 만들었습니다.

능력은 장애와는 아무런 상관이 없습니다.

편견 없는 세상, 제2의 베토벤을 만듭니다.

- ① 클래식 음악을 듣자.
- ② 인생을 즐겁게 살자.
- ③ 음악은 삶을 풍요롭게 만든다.
- ④ 장애인에 대한 편견을 버리자.

[6~7] 다음 글을 읽고 물음에 답하시오.

개미귀신은 작은 머리통에 사슴벌레의 집게처럼 생긴 단단하고 날카로운 턱이 나와 있다. 몸통에 있는 여섯 개의 ㉠다리로 모래밭을 빠르게 파고 들어갈 수 있다. 그래서 마치 긴 창으로 무장을 하고 튼튼한 ㉡군화를 신은 용감한 ㉢군인처럼 보인다. 또 온몸이 털로 덮여 있고, 몸의 색깔이 황갈색이어서 ㉣모래에 숨으면 잘 보이지 않는다.

6. ㉠~㉣ 중 국어사전에서 가장 먼저 나오는 낱말은?

- ① ㉠ ② ㉡ ③ ㉢ ④ ㉣

7. 밑글이 설명하고 있는 것은?

- ① 개미귀신의 이름 ② 개미귀신의 모습
- ③ 개미귀신의 먹이 ④ 개미귀신이 사는 곳

8. 다음 ㉠에 알맞은 속담은?

엄마: 주형아, 피아노 대회 준비는 잘 되고 있지?
 주형: 이제 겨우 시작해서 걱정이예요.
 엄마: 괜찮아. 너무 걱정하지 마.
 ‘(㉠)’라고 하지 않니?
 처음부터 차근차근 준비하렴.

- ① 천릿길도 한 걸음부터.
- ② 발 없는 말이 천리 간다.
- ③ 개구리 울창이 적 생각 못한다.
- ④ 가는 말이 고와야 오는 말이 곱다.

9. 문장의 호응 관계가 어색한 것은?

- ① 동생이 어머니께 선물을 드렸다.
- ② 아버지는 내일 나들이를 가셨어.
- ③ 우리 앞으로 더욱 친하게 지내자.
- ④ 나는 어제 동화책을 재미있게 읽었다.

10. 다음 밑줄 친 ㉠과 같은 뜻의 낱말은?

㉠이튿날 새벽, 서울에 도착한 아저씨께서는 날이 밝기를 기다리셨습니다. 처음으로 꿀 장사를 나온 아저씨께서는 어디서, 어떻게 꿀을 팔아야 할지 몰랐습니다.

- ① 어제 ② 오늘 ③ 다음날 ④ 요즈음

11. 토의할 때 지켜야 할 태도로 바르지 않은 것은?

- ① 근거를 대며 의견을 말한다.
- ② 토의 주제에 어울리는 말을 한다.
- ③ 상대방의 이야기를 끝까지 듣는다.
- ④ 상대방의 이야기는 무조건 반대한다.

[12~14] 다음 글을 읽고 물음에 답하시오.

(가) 나는 풀잎이 좋아, ㉠ 풀잎 같은 친구 좋아
바람하고 영켰다가 풀 줄 아는 풀잎처럼
헤질 때 또 만나자고 손 흔드는 친구 좋아.
- 정완영, 「풀잎과 바람」 -

(나) 하루 종일 내리는 비, 창가를 맴돈다
친구는 지금쯤 무얼 하고 있을까
지웠다 다시 그려 보는 친구 얼굴 내 얼굴.
- 권갑하, 「비 오는 날」 -

12. (가)와 (나)의 공통된 글감은?

- ① 비 ② 얼굴 ③ 풀잎 ④ 친구

13. ㉠과 같은 비유적 표현은?

- ① 내 마음은 호수 ② 달빛 같은 마음
- ③ 바다는 엄마의 마음 ④ 하늘은 마음의 놀이터

14. (나)에서 떠올릴 수 있는 장면은?

- ① 맑고 화창한 날씨
- ② 손을 잡고 소풍가는 아이들
- ③ 운동장에서 즐겁게 노는 아이들
- ④ 비오는 날 친구를 그리워하는 아이

[15~16] 다음 글을 읽고 물음에 답하시오.

㉠ 웃음은 우리를 건강하게 해 준다. 웃음은 혈압을 낮추고 혈액순환에도 도움을 주어 ㉡ 면역 체계와 소화 기관을 안정시킨다. 또, 산소 공급을 두 배로 증가시켜 몸이 일시에 시원해지는 기분을 느끼게 해 준다. 웃으면서 분비되는 호르몬은 육체적 피로와 ㉢ 통증을 잊게 해 주고, 여러 가지 ㉣ 스트레스를 이겨 낼 수 있게 해 준다.

15. 윗글의 중심생각은?

- ① 웃음은 혈압을 낮춘다.
- ② 웃음은 혈액순환에 도움을 준다.
- ③ 웃음은 우리를 건강하게 해 준다.
- ④ 웃음은 산소 공급을 두 배로 증가시킨다.

16. ㉠~㉣ 중 고유어는?

- ① ㉠ ② ㉡ ③ ㉢ ④ ㉣

[17~18] 다음 글을 읽고 물음에 답하시오.

육지에 도착하자, 자라의 등에서 훌쩍 뛰어내린 토끼는 신나게 노래를 부르며 이리 뛰고 저리 뛴다.

자라: (토끼를 이상하다는 듯이 쳐다보며) 이보게, 토 선생! 우리의 갈 길이 멀고 용왕님의 병환이 가볍지 않으니, 어서 간을 가지고 와서 용궁으로 돌아가세.

토끼: (㉠) 이 미련한 자라야, 몸 안에 붙어 있는 간을 어찌 마음대로 꺼낼 수 있겠느냐? 내가 너의 꾀에 빠져 죽을 뻔한 것을 생각하면 내 친구들을 불러 혼을 내 주고 싶지만, 나를 업고 오가느라 수고한 걸 생각하여 목숨은 살려 준다.

17. 윗글은 무엇을 하기 위한 글인가?

- ① 면담 ② 연극 ③ 연설 ④ 시낭송

18. ㉠에 들어갈 가장 알맞은 말은?

- ① 깔깔깔 웃으며 ② 슬픈 목소리로
- ③ 힘없는 목소리로 ④ 고분고분한 표정으로

[19~20] 다음 글을 읽고 물음에 답하시오.

광개토 대왕은 고구려 제18대 왕인 고국양왕의 아들로 374년에 태어났다. 광개토 대왕은 어린 시절 ‘담덕’이라고 불렸다. 담덕은 고국양왕 3년인 386년에 태자가 되었다. 그는 고구려의 영토를 가장 넓게 확장하였던 왕이다.

광개토 대왕이 고구려를 부강한 나라로 만들기 전까지, 고구려의 역사는 시련의 연속이었다. 고구려는 남과 북을 둘러싸고 있던 여러 나라와 충돌하면서 끊임없이 전쟁을 치렀고, 이로 인하여 나라 안팎은 어수선했다.

19. 광개토 대왕에 대한 설명이 아닌 것은?

- ① 어린 시절의 이름은 ‘담덕’이다.
- ② 광개토 대왕은 374년에 태어났다.
- ③ 제18대 왕인 근초고왕의 아들이다.
- ④ 고국양왕 3년인 386년에 태자가 되었다.

20. 위와 같은 글의 특징으로 알맞은 것은?

- ① 글의 시간적 배경은 미래이다.
- ② 주장에 대한 근거가 나타나 있다.
- ③ 주인공과 주변 인물은 상상의 인물이다.
- ④ 인물의 삶을 사실에 바탕을 두고 쓴 글이다.

제 ③ 교시

영 어


수험번호 ()

성 명 ()

※ 다음 물음에 대한 가장 옳은 답을 하나만 골라 정확히 표기하시오.


1. 알파벳 대문자와 소문자를 바르게 연결한 것은?
 ① A - e ② D - d ③ H - f ④ Q - p

2. 그림이 나타내는 날씨로 알맞은 것은?



- ① sunny
 ② cloudy
 ③ raining
 ④ snowing

3. 그림이 나타내는 운동으로 알맞은 것은?



- ① soccer
 ② baseball
 ③ basketball
 ④ badminton

4. 그림과 낱말의 연결이 바르지 않은 것은?

① bag	② bike	③ watch	④ pencil

5. 그림으로 보아 빈칸에 들어갈 말로 알맞은 것은?



A: Where is the cat?
 B: It is _____ the box.

- ① in ② on ③ under ④ between

6. 빈칸에 들어갈 문장 부호를 ①, ②, ③ 순으로 배열한 것은?

<보기>

① This is a book	□
② What a nice day	□
③ What's your name	□

- ① . ! ?
 ② . ? !
 ③ ! ? .
 ④ ! . ?

7. 그림을 설명하는 표현으로 알맞은 것은?




- ① get up
 ② have lunch
 ③ go to school
 ④ wash my face

8. <보기>가 설명하는 그림으로 알맞은 것은?

<보기>

She has long hair.
 She is wearing glasses.



9. A에 대한 B의 대답으로 알맞은 것은?

A: What did you do yesterday?
 B: _____.


- ① I like apples ② I played soccer
 ③ I go to the zoo ④ I will go camping

10. 빈칸에 들어갈 말로 알맞은 것은?

A: _____ book is this?
 B: It's mine.

- ① Who ② What ③ Whose ④ Where

11. 다음은 장난감의 가격표이다. 빈칸에 들어갈 말로 알맞은 것은?



A: How much is the toy car?

B: _____.

- ① It's five dollars ② It's six dollars
③ It's eight dollars ④ It's ten dollars

12. 빈칸에 들어갈 말로 알맞은 것은?

A: What will you do this winter?

B: I _____ visit my uncle in London.

- ① is ② are ③ have ④ will

13. 준(Joon)이 학교에 가지 못하는 이유로 알맞은 것은?



Joon : I can't go to school today.
Nami : Why?
Joon : Because I have a cold.
Nami : That's too bad.

- ① 배가 아파서 ② 늦잠을 자서
③ 다리가 아파서 ④ 감기에 걸려서

14. 빈칸에 들어갈 말로 알맞은 것은?

A: May I help you?

B: _____.

- ① Yes, I do ② No, I don't
③ Yes, please ④ No, it isn't

15. 빈칸에 들어갈 말로 알맞은 것은?

What does your mother do?



She is a _____.



- ① nurse
② singer
③ driver
④ pianist

16. 대화에서 진호(Jincho)의 생일은?

Andy : When is your birthday?

Jincho : It's May 5th.

- ① 3월 5일 ② 4월 5일
③ 5월 5일 ④ 6월 5일

17. 빈칸에 들어갈 말로 알맞은 것은?


A: I'm thirsty.

Can I have some _____?

B: Sure. Here you are.

- ① water ② pizza
③ chicken ④ hamburgers

18. 그림으로 보아 빈칸에 들어갈 말로 알맞은 것은?



The mouse is _____ than the lion.

- ① taller ② bigger ③ smaller ④ longer

19. 대화에서 A가 찾고 있는 장소는?

A: Excuse me. Where is the bank?

B: Go straight this way.

- ① 병원 ② 은행 ③ 서점 ④ 학교

20. 글의 내용과 일치하는 것은?

Dear Andy,

Hello, my name is Lee, Nami. I'm thirteen years old. I have one brother. I like playing computer games. I want to know about you. Good-bye.



Nami

- ① Nami는 13살이다.
② Andy가 Nami에게 보내는 편지이다.
③ Nami에게는 여자 형제가 한 명 있다.
④ Nami는 컴퓨터 게임을 좋아하지 않는다.

제 ② 교시

수 학

수험번호 ()

성 명 ()

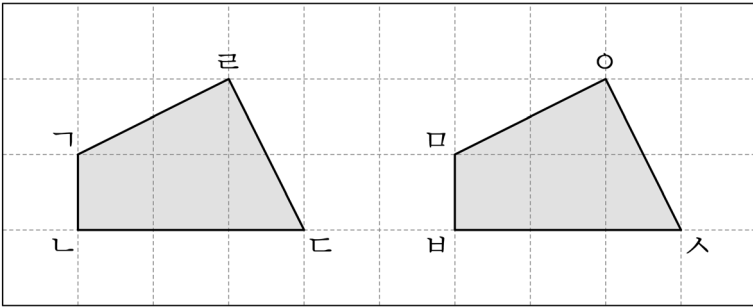
※ 다음 물음에 대한 가장 옳은 답을 하나만 골라 정확히 표기하시오.

1. □에 알맞은 수는?

$$50836 = 50000 + \square + 30 + 6$$

- ① 8 ② 80 ③ 800 ④ 8000

2. 두 도형이 합동일 때, 변 ㄱ의 대응변은?



- ① 변 DE ② 변 EF
③ 변 DF ④ 변 FD

3. 소수 0.47에 대한 설명으로 옳은 것은?

- ① 1보다 큰 수이다.
② 0.1이 47개인 수이다.
③ ‘영점 사십칠’이라고 읽는다.
④ 분수로 나타내면 $\frac{47}{100}$ 이다.

4. 다음은 한국초등학교 5학년의 전체 학생 수를 조사한 표이다. 반별 학생 수의 평균은?

< 5학년 전체 학생 수 >

반	1	2	3	4	5	합계
학생 수(명)	18	22	21	19	20	100

- ① 18명 ② 19명 ③ 20명 ④ 21명

5. <보기>에서 진분수의 개수는?

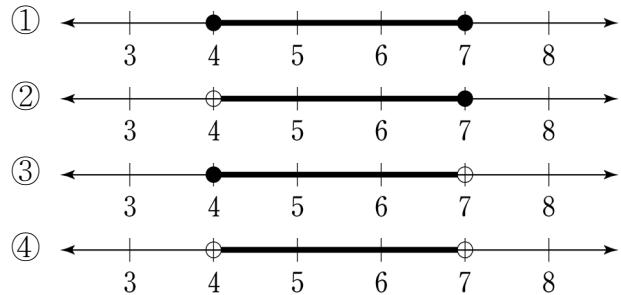
<보기>

$$\frac{1}{2}, 2\frac{1}{3}, \frac{9}{5}, \frac{7}{8}$$

- ① 1개 ② 2개 ③ 3개 ④ 4개

6. 수의 범위를 수직선에 옳게 나타낸 것은?

4 초과 7 이하인 수



7. □에 알맞은 분수는?

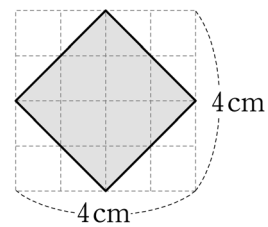
$$\frac{1}{3} \times \frac{1}{4} = \square$$

- ① $\frac{1}{7}$ ② $\frac{2}{7}$ ③ $\frac{1}{12}$ ④ $\frac{2}{12}$

8. 정육면체에 대한 설명 중 옳지 않은 것은?

- ① 면의 개수는 모두 6개이다.
② 모서리의 길이가 모두 같다.
③ 꼭짓점의 개수는 모두 4개이다.
④ 면의 모양이 모두 정사각형이다.

9. 다음 마름모의 넓이는?



- ① 5cm^2 ② 6cm^2 ③ 7cm^2 ④ 8cm^2

10. 다음과 같은 모양으로 규칙에 따라 바둑돌을 순서대로 늘어놓으려 한다. 3번째에 놓일 수 있는 바둑돌의 개수는?

바둑돌 모양			?	
순서(번째)	1	2	3	4

- ① 6개 ② 7개 ③ 8개 ④ 9개

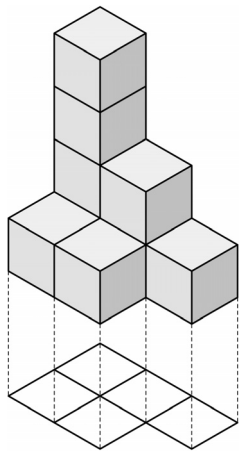
11. 길이가 $\frac{4}{5}$ m인 색 테이프를 $\frac{1}{5}$ m씩 자르면 몇 도막인가?

- ① 2도막 ② 3도막 ③ 4도막 ④ 5도막

12. 나눗셈의 몫이 가장 큰 것은?

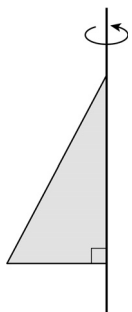
- ① $2.5 \div 0.5$ ② $2.5 \div 5$
 ③ $2.5 \div 50$ ④ $2.5 \div 500$

13. 그림과 같은 모양을 만들 때, 필요한 쌓기나무의 개수는?



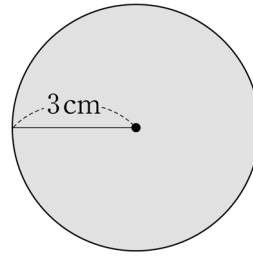
- ① 6개
 ② 7개
 ③ 8개
 ④ 9개

14. 다음 평면도형을 직선을 축으로 하여 1회전 시켰을 때, 얻어지는 입체도형은?



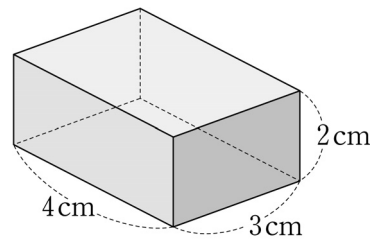
- ① 각뿔
 ② 원뿔
 ③ 각기둥
 ④ 원기둥

15. 다음 원의 넓이를 구하는 식으로 옳은 것은? (단, 반지름은 3cm이고, 원주율은 3.14로 한다.)



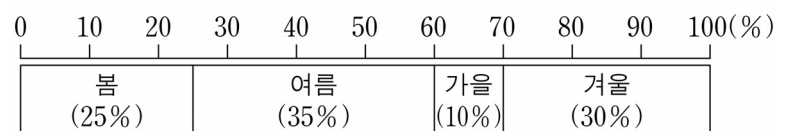
- ① $2 \times 3 \times 3.14$
 ② $3 \times 3 \times 3.14$
 ③ $2 \times 6 \times 3.14$
 ④ $6 \times 6 \times 3.14$

16. 다음 직육면체의 부피는?



- ① 6 cm^3
 ② 8 cm^3
 ③ 12 cm^3
 ④ 24 cm^3

17. 대한초등학교 학생들이 좋아하는 계절을 나타낸 그래프이다. 가장 많은 학생들이 좋아하는 계절은?



- ① 봄 ② 여름 ③ 가을 ④ 겨울

18. 한 개의 정육면체 주사위를 던질 때, 2이하의 눈이 나올 확률은?

- ① $\frac{1}{3}$ ② $\frac{1}{4}$ ③ $\frac{1}{5}$ ④ $\frac{1}{6}$

19. 다음 비례식에서 □에 알맞은 수는?

$$5 : 10 = 10 : \square$$

- ① 5 ② 10 ③ 15 ④ 20

20. 혜련이는 문구점에서 300원짜리 공책 2권과 150원짜리 지우개 1개를 고른 후 1000원을 냈다. 혜련이가 받아야 하는 거스름돈은 얼마인가?

- ① 100원 ② 250원 ③ 400원 ④ 550원

