

제 1 교시

국 어

수험번호 ( )

성 명 ( )

※ 다음 물음에 대한 가장 옳은 답을 하나만 골라, OMR 답안지에 정확히 표기하시오.

1. 의미의 상하 관계로 짝지은 것은?

- ① 남자 - 여자                      ② 영화 - 연극
- ③ 생물 - 식물                      ④ 책상 - 의자

2. 다음 표준발음법 규정을 적용한 것으로 옳지 않은 것은?

제10항 겹받침 ‘ㄱ’, ‘ㄴ’, ‘ㄹ’, ‘ㄷ’, ‘ㅂ’은 어말 또는 자음 앞에서 각각 [ㄱ, ㄴ, ㄹ, ㅂ]으로 발음한다. 다만, ‘뱃-’은 자음 앞에서 [ㅃ]으로 발음한다.

- ① 앓다[안따]    ② 뱃다[발따]    ③ 넓다[널따]    ④ 없다[업따]

3. 밑줄 친 낱말이 바르게 사용된 문장은?

- ① 약을 다린다.
- ② 수출량을 더 늘인다.
- ③ 김장 배추를 절인다.
- ④ 편지 봉투에 우표를 부친다.

4. 어법에 맞는 문장은?

- ① 너, 선생님이 빨리 오래.
- ② 선생님의 말씀이 계시겠습니다.
- ③ 내가 친구 한 명 소개시켜 줄게.
- ④ 아버지, 올해도 건강하게 지내세요.

[5~7] 다음 글을 읽고 물음에 답하시오.

(가) 용소는 장연읍에서 한 이십 리 되는 거리에 있는데, 장연읍에서 그 서도 민요로 유명한 몽금포타령이 있는데 거든. 그 몽금포 가는 길 옆에 그 인지 바로 길 옆에 그 용소라는 것이 있는데, 그 전설이 어떻게 됐냐 할 거 같으면, 그렇게 옛날 옛적 얘기지.

(나) 첨지 영감은 아주 구두쇠 같은 사람이었지. ㉠ 하루는 영감의 소문을 듣고 근처 불타산에 있는 스님이 시주를 받으러 왔어. 그랬더니 영감은 시주를 받으러 온 스님에게 큰 소리를 지르며 쇠뿔을 퍼 주었지. 그 때 우물가에서

그 모습을 지켜보던 며느리가 씻고 있던 쌀을 스님에게 주었지. 그러자 스님은 며느리에게 이 집에 큰 재앙이 닥칠 테니 빨리 몸을 피하라고 얘기해 주었지. 그 말을 들은 며느리는 아기를 업고 머리에는 베 짜는 틀을 이고 옆에 개를 불러 산으로 달아났지. 그런데 그 때 갑자기 큰 벼락 치는 소리가 들리지 뭐야. 그 소리에 놀라 뒤를 돌아보는 순간 며느리는 화석이 되고 말았지. 왜냐하면 스님이 절대 뒤를 돌아보아서는 안 된다고 했거든.

(다) 그 지금두 불타산 아래서 인지 얼마 내려오다가서 그 비속하니 인지 거기 사람들은 이것이 인지 으 며느리가 화석된 게라고 인지 하는 바위가 있는데, 역시 인지 사람 모양하구, 인지 뭐 머리에 뭐 인 거 같은 거 하구, 그 아래 개 모양 걸은, 그런 화석이 상계두 있단 말야. 한데 그 때 그 이 벼락을 치면서 장애 침지네 그 집이 전부 없어지면서 그만 거기에 멧백 길이 되는지 모르는, 이제 큰 소가 됐단 말야.

- 김용규 구술, 조희웅 채록, 「용소(龍沼)와 며느리바위」 -

5. 위 글에 대한 설명으로 적절한 것은?

- ① 이야기의 증거물이 있다.
- ② 주인공은 신적인 인물이다.
- ③ 구체적 시간과 장소가 없다.
- ④ 영웅의 일대기가 그려져 있다.

6. 다음 글과 (나)의 공통적인 내용 조직 방법은?

나도 벌써 일어나서 장인님의 수염을 잡아챘다마는, 꼴이 난 것이 아니라 정말은 아까부터 부엌 뒤 울타리 구멍으로 점순이가 우리들의 꼴을 몰래 엿보고 있었기 때문이다.

- ① 인과적 조직 방법                      ② 주제별 조직 방법
- ③ 공간적 조직 방법                      ④ 문제 해결식 조직 방법

7. ㉠에 들어갈 말로 적절한 것은?

- ① 또는                                      ② 그런데
- ③ 그러면                                  ④ 왜냐하면

[8~10] 다음 글을 읽고 물음에 답하시오.

말뚝이: 쉬이. (반주 그친다.) 여보, 구경하지는 양반들, 말씀 좀 들어 보시오. 짙따란 곰방대로 잡숫지 말고 저 연주진(煙竹塵)으로 가서 돈이 없으면 내게 기별이라도 해서 양칠간죽(洋漆竿竹), 자문죽(自紋竹)을 한 발가웃씩 되는 것을 사다가 육모각지 회자죽(喜子竹), 오동수복(烏銅壽福) 연변죽을 이리저리 맞추어 가지고 저 재령(載寧) 나무리 거이 낚시 걸듯 죽 걸어 놓고 잡수시오.

양반들: 뭐야아!

말뚝이: 아, 이 양반들, 어찌 듣소. 양반 나오시는데 담배와 흰화(暄譁)를 금하라 그리 하였소.

양반들: (합창) 흰화를 금하였다네. (긋거리장단으로 모두 춤을 춘다.)

말뚝이: 쉬이. (춤과 반주 그친다.) 여보, 악공들 말씀 들으시오. 오음 육률(五音六律) 다 버리고 저 버드나무 흘뚜기 뽑아다 붙고 바가지장단 좀 쳐 주오.

양반들: ( □ ㉠ ) 야아, 이놈, 뭐야!

말뚝이: 아, 이 양반들, 어찌 듣소. 용두 해금(奚琴), 북, 장고, 피리, 젓대 한 가락도 뽑지 말고 건건드러지게 치라고 그리 하였소.

양반들: (합창) 건건드러지게 치라네. (긋거리장단으로 춤을 춘다.)

생 원: 쉬이. (춤과 장단 그친다.) 말뚝아.

말뚝이: 예예.

생 원: 이놈, 너도 양반을 모시지 않고 어디로 그리 다니느냐?

말뚝이: 예예. 양반을 찾으려고 찬밥 국 말어 일조식(日朝食) 하고, 마구간에 들어가 노새 원님을 끌어다가 등에 솔질을 살살 하여 말뚝이님 내가 타고 서양(西洋) 영미(英美), 법덕(法德), 동양 삼국 무른 메주 밭듯 하고, 동은 여울이요, 서는 구월이라, 동여울 서구월 남드리 북향산 방방곡곡(坊坊曲曲) 면면촌촌(面面村村)이, 바위 툼툼이, 모래 째째이, 참나무 걸걸이 다 찾아다녀도 쟈님 비뚝한 놈도 없습디다.

- 작자 미상, 「봉산탈춤」 -

8. 위와 같은 전통 가면극의 특성으로 적절하지 않은 것은?

- ① 풍자적인 성격이 드러난다.
- ② 종합 예술적 성격을 지닌다.
- ③ 익살스러운 표현이 사용된다.
- ④ 전문적인 무대장치가 필요하다.

9. 등장인물의 관계에 대한 설명으로 적절한 것은?

- ① 말뚝이는 생원에게 조롱의 대상이다.
- ② 양반들은 말뚝이를 두려워하고 있다.
- ③ 생원과 말뚝이는 수평적 신분 관계이다.
- ④ 말뚝이는 양반들을 이중적 태도로 대한다.

10. □ ㉠ 에 들어갈 내용으로 적절하지 않은 것은?

- ① 목소리를 높여
- ② 먹살을 잡으며
- ③ 힘없는 표정으로
- ④ 샷대질을 하면서

[11~14] 다음 글을 읽고 물음에 답하시오.

(가) 나 보기가 역겨워  
가실 때에는  
말없이 고이 보내 드리우리다.

영변(寧邊)에 약산(藥山)  
진달래꽃  
아름 따다 가실 길에 뿌리우리다.

가시는 걸음 걸음  
놓인 그 꽃을  
사뿐히 즈려 밟고 가시옵소서.

나 보기가 역겨워  
가실 때에는  
죽어도 아니 눈물 흘리우리다.

- 김소월, 「진달래꽃」 -

(나) 형님 온다 형님 온다 분고개로 형님 온다.  
형님 마중 누가 갈까 형님 동생 내가 가지.  
형님 형님 사촌 형님 시집살이 어땀땀까?  
이애 이애 그 말 마라 시집살이 개집살이.  
앞발에는 당추 심고 뒷발에는 고추 심어,  
고추 당추 맵다 해도 시집살이 더 맵더라.  
둥글둥글 수박 식기 밥 담기도 어렵더라.  
도리도리 도리 소반 수저 놓기 더 어렵더라.  
오 리 물을 길어다가 십 리 방아 찼어다가,  
아홉 술에 불을 때고 열두 방에 자리 견고,  
외나무다리 어렵대야 시아버니같이 어려우랴?  
나뭇잎이 푸르대야 시어머니보다 더 푸르랴?  
시아버니 호랑새요 시어머니 꾸중새요,  
동세 하나 할림새요 시누 하나 뽕죽새요,  
시아지비 뽕죽새요 남편 하나 미련새요,  
자식 하난 우는 새요 나 하나만 썩는 썩새.

\* 뽕죽새, 뽕중새: '뽕죽, 뽕중'거리는 새의 모양을 빗대어 비꾼 모양  
- 작자 미상, 「시집살이 노래」 -

11. (가)와 (나)에 대한 설명으로 적절하지 않은 것은?

- ① (가)는 여성적 어조가 드러난다.
- ② (가)는 이별의 정한을 노래하고 있다.
- ③ (나)는 결혼 생활의 어려움이 나타나 있다.
- ④ (나)는 시택 식구를 긍정적으로 표현하고 있다.

12. (가)의 형식적 특징으로 적절하지 않은 것은?

- ① 각운의 사용
- ② 수미상관의 구조
- ③ 선경 후정의 구성
- ④ 민요조 3음보 사용

13. (가)의 정서를 가장 잘 드러낼 수 있는 낭송 방법은?

- ① 유쾌하고 친진난만하게 읽는다.
- ② 슬픔을 참고 견뎌내듯 애절하게 읽는다.
- ③ 밝은 분위기를 살려 다정다감하게 읽는다.
- ④ 청자가 삶의 의욕을 느끼도록 힘차게 읽는다.



혼자서 나를 기다리고 있었다는 것이었다. 언젠가 내가 다녀갈 때까지는 내게 하룻밤만이라도 옛 집의 모습과 옛날의 분위기 속에 자고 가게 해 주고 싶어서였는지 모른다. 하지만, 문간을 들어설 때부터 집안 분위기는 ㉠이사를 나간 빈 집이 분명했다. 한테도 노인은 그 때까지 매일같이 그 빈 집을 드나들며 먼지를 털고 걸레질을 해 온 것이었다. 그리고 그 때 노인은 아직 집을 지켜 온 흔적으로 안방 한쪽에다 이불 한 채와 ㉡옷궤 하나를 예대로 그냥 남겨 두고 있었다.

이튿날 새벽 K시로 다시 길을 나설 때서야 비로소 집이 팔린 사실을 시인해 온 노인의 심정으로는 그 날 밤 그 옷궤 한 가지나마 옛 집 살림살이의 흔적으로 남겨서 나의 괴로운 잠자리를 위로하고 싶었음이 분명한 것이다. 그러한 내력이 숨겨져 온 옷궤였다.

-이청준, 「눈길」-

19. 위 글에 대한 설명으로 적절한 것은?

- ① 시점이 교차되어 사건이 전개되고 있다.
- ② 역순행적 방식으로 사건이 진행되고 있다.
- ③ 배경 묘사에 의해 새로운 사건이 예고되고 있다.
- ④ 요약적 진술로 긴박하게 위기감이 조성되고 있다.

20. 위 글에서 알 수 있는 사실로 적절하지 않은 것은?

- ① '나'는 고등학교 때 집을 떠나 있었다.
- ② 형 때문에 집안의 경제적 상황이 안 좋아졌다.
- ③ 아내와 노인 사이의 극적인 화해가 이루어졌다.
- ④ 노인은 집이 팔린 사실을 처음엔 아들에게 숨기려 했다.

21. ㉠에 담긴 노인의 심정으로 적절한 것은?

- ① 집 안에 아들을 들이기 꺼려한다.
- ② 밤늦게 집을 찾아온 아들이 성가시다.
- ③ 친척 누님을 먼저 찾아간 아들이 한심하다.
- ④ 집 앞을 서성이는 아들의 모습에 가슴이 아프다.

22. ㉠~㉢이 담고 있는 의미로 적절한 것은?

- ① ㉠ - 아내와 어머니 간의 갈등 요인
- ② ㉡ - 친척 누님에 대한 어머니의 원망
- ③ ㉢ - 아들을 잇기 위한 어머니의 노력
- ④ ㉣ - 아들에 대한 어머니의 사랑

[23~25] 다음 글을 읽고 물음에 답하시오.

간디의 관점에서 볼 때, 무엇보다 ㉠큰 폭력은 인간의 근원적인 영혼의 요구에 대해서는 조금도 고려하지 않고, 물질적 이득의 끊임없는 확대를 위해 착취와 억압의 구조를 제도화한 서양의 산업 문명이었다.

근대 산업 문명은 사람들의 정신을 병들게 하고, 끊임없이 이기심을 자극하며, 금전과 물질의 노예로 타락시킬 뿐만 아니라, 내면적인 평화와 명상의 생활을 불가능하게 만든다. 그로 인하여 유럽의 노동 계급과 빈민에게 사회는 지옥이

되고, 비서구 지역의 수많은 민중은 제국주의의 침탈 밑에서 허덕이게 되었다. 여기에서, 간디 사상에서 물레가 가지는 상징적 의미가 드러난다. 간디는 모든 인도 사람들이 매일 한두 시간만이라도 물레질을 할 것을 권유하였다. 물레질의 가치는 경제적 필요 이상의 것이라고 생각한 것이다.

물레는 무엇보다 인간의 노역에 도움을 주면서 결코 인간을 소외시키지 않는 인간적 규모의 기계의 전형이다. 간디는 [A] 기계 자체에 대해 반대한 적은 없지만, 거대 기계에는 필연적으로 복잡하고 위계적인 사회 조직, 지배와 피지배의 구조, 도시화, 낭비적 소비가 수반된다는 것을 주목했다. 생산 수단이 민중 자신의 손에 있을 때 비로소 착취 구조가 종식된다고 할 때, 복잡하고 거대한 기계는 그 자체로 비인간화와 억압의 구조를 강화하기 쉬운 것이다.

간디는 산업화의 확대, 또는 경제 성장이 인간의 참다운 행복에 기여한다고는 결코 생각할 수 없었다. 간디가 구상했던 이상적인 사회는 자기 충족적인 소농촌 공동체를 기본 단위로 하면서 궁극적으로는 중앙 집권적인 국가 기구의 소멸과 더불어 마을 민주주의에 의한 자치가 실현되는 공간이다. 거기에서는 인간을 도외시한 이윤을 위한 이윤 추구도, 물질과 권력에 대한 맹목적인 탐욕도 있을 수가 없다. 이것은 비폭력과 사랑과 유대 속에 어울려 살 때에 사람은 가장 행복하고 자기 완성이 가능하다고 믿는 사상에 매우 적합한 정치 공동체라 할 수 있다.

물레는 간디에게 그러한 공동체의 건설에 필요한 인간 심성의 교육에 알맞은 수단이기도 하였다. 물레질과 같은 단순하지만 생산적인 작업의 경험은 정신 노동과 육체 노동의 분리 위에 기초하는 모든 불평등 사상의 문화적·심리적 토대의 소멸에 기여할 것이다. 뿐만 아니라, '자기 먹을 빵을 손수 마련해 먹는 창조적 노동'에의 참여와 거기서 얻는 기쁨은 소박한 삶의 가치를 진정으로 긍정할 수 있게 하는 토대를 제공해 줄 것이라고 간디는 생각하였다.

-김종철, 「간디의 물레」-

23. 위 글에서 간디가 추구하는 가치는?

- ① 물레질을 이용한 산업화
- ② 거대 기계를 통한 도시화
- ③ 인간의 참다운 행복 실현
- ④ 제국주의에 의한 식민지의 확대

24. 문맥상 ㉠의 의미와 가장 거리가 먼 것은?

- ① 착취와 억압의 사회
- ② 복잡하고 위계적인 사회
- ③ 지배와 피지배 구조의 사회
- ④ 생산 수단이 인간의 손에 있는 사회

25. [A]에 사용된 내용 설명 방법은?

- ① 대조      ② 묘사      ③ 예시      ④ 서사

※ 확인사항

답을 OMR 카드의 해당란에 정확히 표기하였는가?

제 3 교시

영어

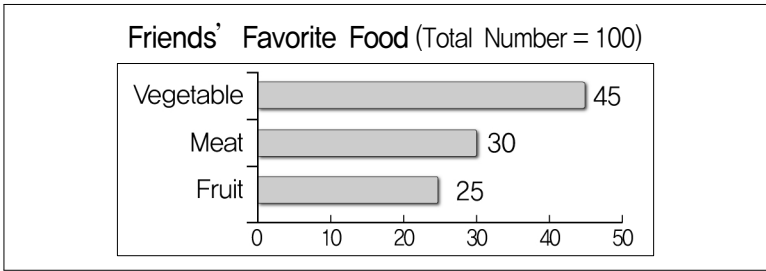
수험번호 ( )

성명 ( )

※ 다음 물음에 대한 가장 옳은 답을 하나만 골라, OMR 답안지에 정확히 표기하시오.

[1~2] 밑줄 친 부분의 뜻으로 알맞은 것을 고르시오.

- Sometimes this machine doesn't work. I have to fix it.  
 ① 설계하다 ② 수리하다 ③ 운반하다 ④ 발표하다
- I'm proud that my sister is good at speaking English.  
 ① 잘한다 ② 돌본다 ③ 싫어한다 ④ 무시한다
- 두 단어의 의미 관계가 나머지 셋과 다른 것은?  
 ① win - lose                      ② open - close  
 ③ begin - start                    ④ succeed - fail
- 도표의 내용으로 보아 빈칸에 들어갈 말로 알맞은 것은?



We asked one hundred friends about their favorite food. It shows that just \_\_\_\_\_ of them like fruit.

- a half      ② a third      ③ a quarter      ④ a fifth
- 다음 격언이 주는 교훈으로 가장 알맞은 것은?  
 Honesty is the best policy.  
 ① 정직      ② 인내      ③ 협동      ④ 효도
- 대화에서 알 수 있는 A의 심정으로 가장 알맞은 것은?  
 A: Look at this! I got opera tickets for free.  
 B: Really? How is that possible?  
 A: I won them at the quiz. I'm so happy.  
 ① sad      ② upset      ③ bored      ④ excited

- 밑줄 친 말의 의도로 알맞은 것은?  
 A: Will you do me a favor?  
 B: Sure. What can I do for you?  
 ① 부탁하기      ② 사과하기      ③ 불평하기      ④ 칭찬하기

8. 대화가 이루어지는 장소로 가장 알맞은 것은?

A: Can I borrow a book now?  
 B: Of course. Which one do you want to read this time?  
 A: I'd like to try a science novel today.  
 B: Let's see. Oh, here's a good one.

- 사진관      ② 도서관      ③ 운동장      ④ 동물원

9. 다음 글에 이어질 대화의 순서로 알맞은 것은?

What are you interested in?  
 (A) Then how about joining the movie club?  
 (B) That's a good idea.  
 (C) I'm interested in movies.

- (A) - (B) - (C)                      ② (B) - (A) - (C)  
 ③ (B) - (C) - (A)                    ④ (C) - (A) - (B)

10. 대화에서 두 사람의 관계로 가장 알맞은 것은?

A: I'd like to buy a cap.  
 B: What size do you want?  
 A: Small, please. How much is it?  
 B: It is 10 dollars.

- 손님 - 판매원                      ② 의사 - 환자  
 ③ 은행원 - 고객                      ④ 건축가 - 기술자

[11~12] 대화에서 빈칸에 들어갈 말로 알맞은 것을 고르시오.

11.  
 A: I hurt my fingers in the kitchen.  
 B: \_\_\_\_\_. Is it serious?

- You're welcome                      ② Sorry to hear that  
 ③ Maybe next time                    ④ Have a good time

12.  
 A: Let's go see a movie together tomorrow.  
 B: Sounds great! What time shall we make it?  
 A: \_\_\_\_\_.

- Three times a day  
 ② It opened yesterday  
 ③ Let's meet at nine o'clock  
 ④ I've seen the movie two times

13. 다음 축제 포스터에서 알 수 없는 것은?



- ① 기간      ② 입장료      ③ 장소      ④ 상금

[14~16] 빈칸에 공통으로 들어갈 말로 알맞은 것을 고르시오.

14.

- Stop \_\_\_\_\_ when the bell rings.  
○ Did he finish \_\_\_\_\_ his essay?

- ① wrote      ② writes      ③ writing      ④ to write

15.

- I can't \_\_\_\_\_ up with his impolite behavior.  
○ Don't \_\_\_\_\_ off till tomorrow what you can do today.

- ① do      ② put      ③ make      ④ take

16.

- What's the \_\_\_\_\_ with you?  
○ It doesn't \_\_\_\_\_ whether you like it or not.

- ① face      ② hand      ③ sound      ④ matter

17. 글을 쓴 목적으로 가장 알맞은 것은?

Dear Sumi,  
Thank you for your letter. Here is my advice. When you learn English, do not worry about making mistakes. Making mistakes is also a part of English learning.

- ① 초대      ② 항의      ③ 조언      ④ 거절

18. 밑줄 친 It (it)이 가리키는 것으로 알맞은 것은?

It was created in the 15th century by King Sejong. It is very easy to learn. People say that it is the simplest and most wonderful set of letters in the world. We Koreans are very proud of it.

- ① 한글      ② 거북선      ③ 컴퓨터      ④ 자동차

19. 글의 제목으로 가장 알맞은 것은?

It helps to talk to someone about your problem. Perhaps friends, family members, or teachers can help you see your problem in a different way. By sharing your problem, it can be solved easily.

- ① Read a Good Book      ② Share Your Problem  
③ Make a Lot of Money      ④ Keep Your Room Clean

[20~21] 글의 빈칸에 들어갈 말로 가장 알맞은 것을 고르시오.

20.

Computers are very \_\_\_\_\_. For example, they can work with information much more quickly than a person. They can also keep information for a long time.

- ① slow      ② heavy      ③ noisy      ④ helpful

21.

Do you want to make good habits? Write down your bad habits. Then write down the good habits you want to get. Make plans to \_\_\_\_\_ your bad habits. By replacing a bad habit with a good one, you can live a happier life.

- ① use      ② keep      ③ take      ④ change

22. 글의 주제로 가장 알맞은 것은?

Too much sugar and fat are bad for you. They are often linked to several illnesses of the heart, stomach, and blood. So be careful about having a lot of sugar and fat.

- ① 정기적인 건강 검진의 중요성  
② 진로 설정을 위한 다양한 방법  
③ 지나친 설탕과 지방 섭취의 해로움  
④ 건강을 위한 규칙적인 운동의 필요성

23. 글의 전체 흐름과 관계가 없는 문장은?

① Ants become the main food of frogs. ② You can enjoy walking along the beach. ③ Frogs are eaten by snakes, which are in turn eaten by big birds. ④ It is the food chain in nature.

\* food chain: 먹이 사슬

[24~25] 다음 글을 읽고 물음에 답하십시오.

Each culture has its own customs. They are not "right" or "wrong," but just different. \_\_\_\_\_, when we meet foreigners, we should be careful not to judge their actions in our own way. Rather, we should learn to understand other cultures with an open mind.

24. 위 글의 흐름으로 보아 빈칸에 알맞은 것은?

- ① Therefore      ② However  
③ In contrast      ④ On the other hand

25. 위 글의 요지로 가장 알맞은 것은?

- ① 우리 문화의 우수성을 알리자.  
② 문화 예술에 대한 투자를 늘리자.  
③ 문화 차이를 이해하고 받아들이자.  
④ 후손을 위해 우리 문화재를 잘 보존하자.

※ 확인사항

답을 OMR 카드의 해당란에 정확히 표기하였는가?



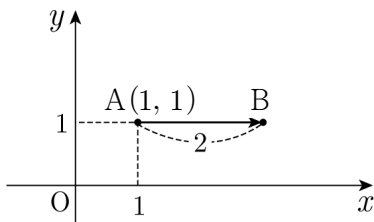
12. 기울기가 3이고 점 (1, 5)를 지나는 직선의 방정식은?

- ①  $y=2x+1$                       ②  $y=2x+2$
- ③  $y=3x+1$                       ④  $y=3x+2$

13. 중심이 (-1, 2)이고 반지름의 길이가 4인 원의 방정식은?

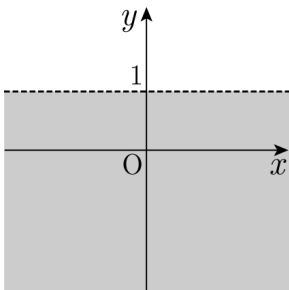
- ①  $(x+1)^2+(y-2)^2=16$       ②  $(x+1)^2+(y+2)^2=16$
- ③  $(x+1)^2+(y-4)^2=25$       ④  $(x+1)^2+(y+4)^2=25$

14. 좌표평면 위의 점 A(1, 1)을 x축의 방향으로 2만큼 평행 이동한 점 B의 좌표는?



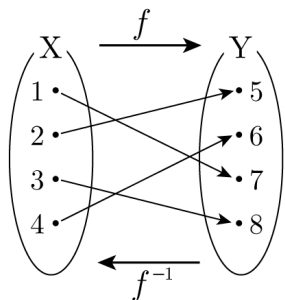
- ① (2, 1)
- ② (3, 1)
- ③ (4, 1)
- ④ (5, 1)

15. 그림에서 어두운 부분의 영역을 부등식으로 나타낸 것은?  
(단, 경계선은 제외)



- ①  $y < 1$
- ②  $y > 1$
- ③  $y < 2$
- ④  $y > 2$

16. 그림에서 함수  $f: X \rightarrow Y$ 와 그 역함수  $f^{-1}: Y \rightarrow X$ 에 대하여,  $f(2)+f^{-1}(8)$ 의 값은?



- ① 6
- ② 7
- ③ 8
- ④ 9

17. 이차함수  $y=(x-2)^2+1$ 의 최솟값은?

- ① -3                      ② -1                      ③ 1                      ④ 3

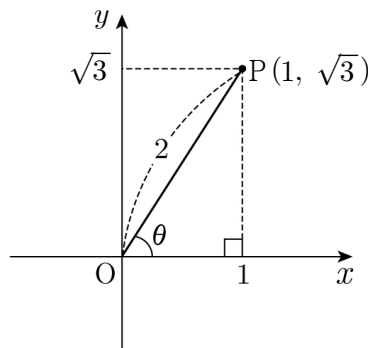
18. 무리함수  $y=\sqrt{x+3}$ 의 그래프가 점 (1, a)를 지날 때, 실수 a의 값은?

- ① -2                      ② -1                      ③ 1                      ④ 2

19. 제 2 사분면의 각은?

- ①  $\frac{\pi}{3}$  (라디안)                      ②  $120^\circ$
- ③  $\frac{5}{4}\pi$ (라디안)                      ④  $300^\circ$

20. 그림에서  $\cos\theta$ 의 값은? (단,  $0 < \theta < \frac{\pi}{2}$ )



- ①  $\frac{1}{5}$
- ②  $\frac{1}{4}$
- ③  $\frac{1}{3}$
- ④  $\frac{1}{2}$

※ 확인사항  
답을 OMR 카드의 해당란에 정확히 표기하였는가?

제 4 교시

사 회

수험번호 ( )

성 명 ( )

※ 다음 물음에 대한 가장 옳은 답을 하나만 골라, OMR 답안지에 정확히 표기하시오.

1. 다음 내용과 관련 있는 문화권은?

- 대표적인 사상가는 공자, 맹자
- 인(仁)과 예(禮)를 중심으로 한 도덕 정치 주장

- ① 유교 문화권                      ② 불교 문화권
- ③ 이슬람 문화권                    ④ 크리스티교 문화권

2. 다음 내용과 공통적으로 관련 있는 것은?

- 영국의 권리 장전                      ○ 프랑스 인권 선언문
- 미국의 독립 선언문

- ① 산업 혁명                              ② 세계화 실현
- ③ 시민의 권리 신장                      ④ 권위주의적 정부 수립

3. 다음 내용과 관련 있는 것은?

- 국제 무역과 관련된 규범의 제정과 운영
- 회원들 간에 발생하는 무역 마찰 문제 해결
- 1995년에 출범하여 전 세계의 자유무역 실현

- ① 유럽연합(EU)
- ② 세계무역기구(WTO)
- ③ 북미자유무역협정(NAFTA)
- ④ 동남아시아국가연합(ASEAN)

4. 다음 내용과 관련 있는 선거 원칙은?

- 일정한 연령에 도달하면 누구에게나 선거권이 주어진다.
- 우리나라는 만 19세에 선거권이 주어진다.

- ① 보통선거    ② 간접선거    ③ 평등선거    ④ 직접선거

5. 사회적 쟁점을 해결하는 바람직한 방법이 아닌 것은?

- ① 다수결로 해결
- ② 권위주의적으로 해결
- ③ 정부의 중재 및 조정으로 해결
- ④ 당사자 간 대화와 타협으로 해결

6. 시민의 정치 참여 방법이 아닌 것은?

- ① 여론 형성                              ② 선거 및 투표
- ③ 국가 공권력 행사                      ④ 공청회 및 집회 참가

7. 다음과 같은 사회화를 담당하는 곳은?

- 인성 형성의 토대가 된다.
- 비공식적이며 1차적인 사회화가 이루어진다.

- ① 학교            ② 정당            ③ 가정            ④ 직장

8. 다음 내용과 관련 있는 문화의 개념은?

사회의 과학기술은 급격히 변화해 가는데 사람들의 의식이나 가치관 등은 이에 따르지 못하는 현상을 말한다.

- ① 문화지체    ② 문화융합    ③ 문화동화    ④ 문화충격

9. <보기>에서 문화의 보편성에 대한 설명으로 옳은 것은?

<보기>

- ㄱ. 인간은 대부분 집을 짓고 산다.
- ㄴ. 각국의 문화에는 공통의 성향이 있다.
- ㄷ. 자기문화가 가장 우수하다고 판단한다.
- ㄹ. 문화를 그 사회의 환경과 맥락에서 이해한다.

- ① ㄱ, ㄴ            ② ㄱ, ㄹ            ③ ㄴ, ㄷ            ④ ㄷ, ㄹ

10. 다음 내용과 관련 있는 경제 주체는?

- 민간 부문에서 이윤 극대화를 목적으로 한다.
- 생산요소를 구입하여 재화와 용역을 생산한다.

- ① 가계            ② 기업            ③ 정부            ④ 국제청

11. 국내 총생산(GDP)에 대한 설명으로 옳은 것은?

- ① 학생들의 봉사활동도 포함된다.
- ② 가정주부의 가사노동도 포함된다.
- ③ 국적이 같은 사람들이 생산한 값의 합이다.
- ④ 국내 최종 생산물의 가치를 모두 합한 것이다.

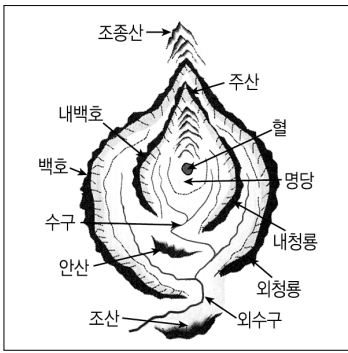
12. 물가 상승의 원인이 아닌 것은?

- ① 통화량이 증가하였다.            ② 초과공급이 발생하였다.
- ③ 총수요가 증가하였다.            ④ 국제수지 흑자가 지속되었다.

13. 시장의 가격 기능에 대한 설명으로 옳은 것은?

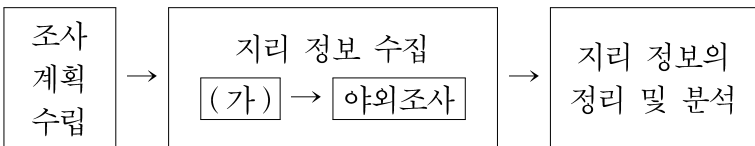
- ① 생산량이 많을수록 가격이 높다.
- ② 초과수요가 발생하면 가격이 하락한다.
- ③ 국내 가격이 상승하면 수출에 유리하다.
- ④ 수요량과 공급량이 만나는 점에서 균형가격이 형성된다.

14. 다음은 풍수지리설의 명당 체계도이다. 우리 조상들이 명당(배산임수)에 집터를 잡은 이유로 옳지 않은 것은?



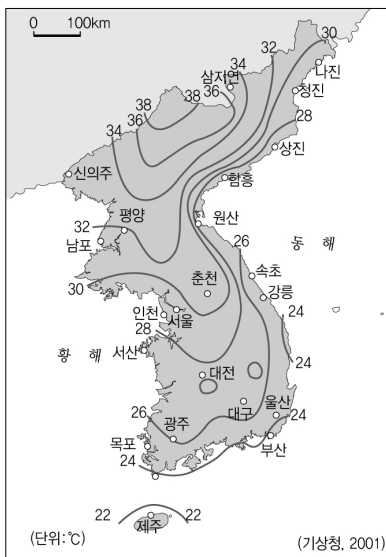
- ① 일조량 풍부
- ② 지하 자원 풍부
- ③ 한랭한 북서풍 차단
- ④ 농업 용수 확보 유리

15. 다음은 지리 조사 과정을 나타낸 것이다. (가)에 들어갈 활동으로 옳은 것은?



- ① 측량, 견학
- ② 조사 보고서 작성
- ③ 표, 그래프 작성
- ④ 문헌, 통계 자료 수집

16. 다음과 같은 통계 지도의 명칭은?



- ① 점 지도
- ② 등치선도
- ③ 단계 구분도
- ④ 도형 표현도

17. 다음 내용과 관련 있는 하천의 퇴적 지형은?

- 하천의 하구에 발달
- 낙동강 유역의 김해 평야
- 서해안은 큰 조차로 발달이 미약

- ① 삼각주
- ② 선상지
- ③ 범람원
- ④ 하안단구

18. 서해안과 비교할 때, 동해안의 두드러진 특징은?

- ① 다도해
- ② 갯벌 발달
- ③ 석호 발달
- ④ 리아스식 해안

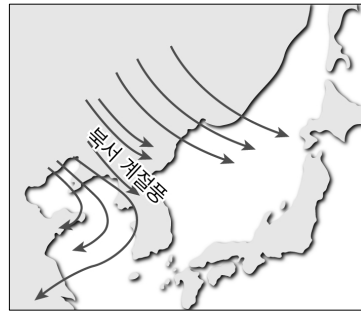
19. 다음 중 연 강수량이 가장 적은 곳은?

- ① 제주도
- ② 개마고원
- ③ 남해안 지방
- ④ 한강 중·상류

20. 우리나라의 기후 특색이 아닌 것은?

- ① 기온의 연교차가 크다.
- ② 해[年]에 따라 강수량의 변동이 크다.
- ③ 연 강수량의 50~60%가 여름에 집중된다.
- ④ 동 위도에서는 서해안의 1월 평균 기온이 동해안보다 높다.

21. 다음과 같은 계절풍이 나타나는 시기의 우리나라 전통 생활 양식으로 옳지 않은 것은?

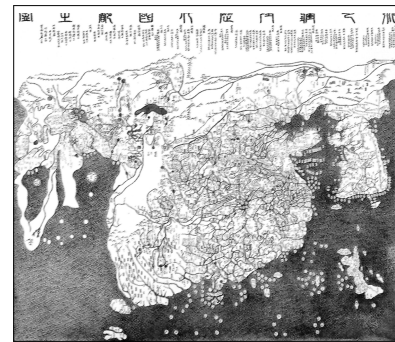


- ① 설피
- ② 온돌
- ③ 죽부인
- ④ 우데기

22. 기후적인 요인에 의해 발생하는 자연 재해가 아닌 것은?

- ① 홍수
- ② 가뭄
- ③ 지진
- ④ 태풍

23. 다음 지도의 특징으로 옳은 것은?



<혼일강리역대국도지도>

- ① 조선 초기에 제작된 세계지도이다.
- ② 김정호가 청구도를 보완하여 제작하였다.
- ③ 목판으로 제작되어 대량 인쇄가 가능하다.
- ④ 실학의 영향으로 실용적인 관점에서 제작되었다.

24. 도심 지역의 특징으로 옳지 않은 것은?

- ① 땅값이 비싸다.
- ② 접근성이 좋다.
- ③ 중심 업무 지구를 이룬다.
- ④ 인구 밀도는 주간보다 야간이 높다.

25. 지구 온난화가 환경에 영향을 준 사례로 옳지 않은 것은?

- ① 북반구에서는 작물 재배의 북한계선이 북상하고 있다.
- ② 대관령 일대의 고랭지 채소 재배 면적이 감소하고 있다.
- ③ 해수면 상승으로 해안 저지대의 침수 피해가 나타나고 있다.
- ④ 우리나라 근해에서는 한류성 어종의 어획량이 증가하고 있다.

※ 확인사항  
답을 OMR 카드의 해당란에 정확히 표기하였는가?

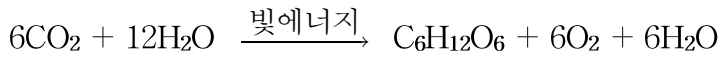


13. 다음 설명에 해당하는 것은?

- 기질 특이성이 있다.
- 온도와 pH의 영향을 받는다.
- 생물체 내 화학반응이 잘 일어나도록 촉매 역할을 한다.

- ① 핵산      ② 효소      ③ 뉴런      ④ ATP

14. 다음 물질대사 과정에 대한 설명으로 옳지 않은 것은?

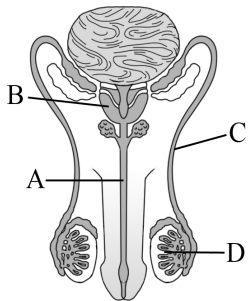


- ① 호흡 과정이다.  
 ② 엽록체에서 일어난다.  
 ③ 빛에너지가 화학에너지로 전환된다.  
 ④ 빛의 세기와 온도 등의 영향을 받는다.

15. 눈의 구조에서 시세포가 분포되어 있는 곳은?

- ① 각막      ② 홍채      ③ 망막      ④ 수정체

16. 그림의 남성 생식기관에서 정자가 생성되는 곳은?



- ① A  
 ② B  
 ③ C  
 ④ D

17. 다음은 뜨거운 주전자에 손이 닿았을 때 깜짝 놀라 손을 떼는 반응 경로를 나타낸 것이다. A에 해당하는 것은?

감각기 → 감각 신경 → ( A ) → 운동 신경 → 반응

- ① 대뇌      ② 소뇌      ③ 척수      ④ 간뇌

18. 정상적인 임신 후 일어나는 변화로 옳지 않은 것은?

- ① 월경이 일어나지 않는다.  
 ② 자궁벽이 두껍게 유지된다.  
 ③ 생식 주기가 일단 중단된다.  
 ④ 프로게스테론의 분비가 중단된다.

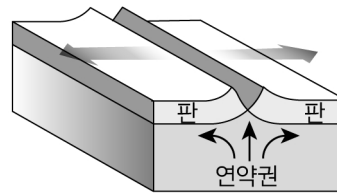
19. 생물체 내에서 생물 농축을 일으키는 물질이 아닌 것은?

- ① 칼륨(K)                      ② 납(Pb)  
 ③ 수은(Hg)                      ④ 카드뮴(Cd)

20. 지구 암석권을 구성하는 여러 개의 판들을 이동시키는 주된 원인은?

- ① 해류                              ② 맨틀 대류  
 ③ 달의 인력                      ④ 태양 인력

21. 그림에서 나타내는 판의 경계는?

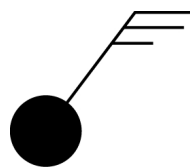


- ① 섭입형 경계  
 ② 발산형 경계  
 ③ 보존형 경계  
 ④ 수렴형 경계

22. 저기압에 대한 설명으로 옳은 것은?

- ① 주위보다 기압이 높다.  
 ② 일기도에 H로 표시한다.  
 ③ 날씨가 흐리거나 비가 온다.  
 ④ 중심부에서 하강기류가 나타난다.

23. 다음 일기 기호에서 풍속은?



- ① 10 m/s  
 ② 12 m/s  
 ③ 20 m/s  
 ④ 24 m/s

24. 다음 설명에 해당하는 행성은?

- 내행성이며 태양계에서 크기가 가장 작은 행성이다.
- 새벽 동쪽 하늘이나 초저녁 서쪽 하늘에서 관측된다.

- ① 수성      ② 화성      ③ 목성      ④ 토성

25. 태양의 흑점에 대한 설명으로 옳은 것은?

- ① 태양 내부 핵에 위치한다.  
 ② 크기와 수는 변하지 않는다.  
 ③ 약 50년을 주기로 증감을 반복한다.  
 ④ 주위보다 온도가 낮아 어둡게 보이는 부분이다.

※ 확인사항

답을 OMR 카드의 해당란에 정확히 표기하였는가?

제 6 교시

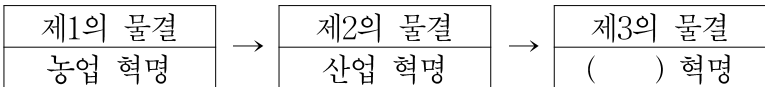
도 덕

수험번호 ( )

성 명 ( )

※ 다음 물음에 대한 가장 옳은 답을 하나만 골라, OMR 답안지에 정확히 표기하시오.

1. 다음은 토플러(Toffler, A.)의 견해를 도식화한 것이다. 빈칸에 들어갈 말은?



- ① 정보      ② 정신      ③ 복지      ④ 시민

2. 다음에서 설명하는 사회 현상으로 가장 적절한 것은?

- 서로 '다름'을 인정하고 존중
- 사회가 다양한 모습으로 분화
- 프로슈머(Prosumer)의 등장

- ① 형식화      ② 동질화      ③ 다원화      ④ 획일화

3. 다음과 같이 주장한 니부어(Niebuhr, R.)가 사회 문제 해결을 위해 강조하는 것은?

- 개인적으로 도덕적인 사람도 자기 집단의 이익을 위해서는 이기적으로 행동하기 쉽다.
- 문제의 원인을 개인에게로 돌리는 기존의 입장은 사회 문제 해결에 한계가 있다.

- ① 배려심                      ② 동정심
- ③ 종교적 믿음              ④ 사회 제도의 개선

4. 다음 대화에서 '을'의 자아 정체성 형성 유형으로 적절한 것은?

갑: 너는 대학의 희망 학과를 정했니?  
 을: 응. 경제학 쪽으로 정했어. 내 적성에 가장 맞는 것 같아.  
 갑: 그래! 드디어 네게 맞는 목표와 진로를 찾았구나.

- ① 성공한 유형              ② 흥미한 유형
- ③ 좌절된 유형              ④ 상실한 유형

5. 다음 글과 관련하여 환경 문제를 초래한 근본 원인으로 비판 받는 자연관은?

이성을 가진 인간만이 내재적 가치를 지니며, 인간을 제외한 모든 자연은 인간을 위한 도구이다.

- ① 생명 중심적 자연관      ② 생태 중심적 자연관
- ③ 인간 중심적 자연관      ④ 동물 중심적 자연관

6. 현대 사회에서 정신적 가치보다 물질적 가치를 우선시하는 현상과 거리가 먼 것은?

- ① 민족주의                      ② 감각주의
- ③ 물신주의                      ④ 황금 만능주의

7. 밑줄 친 '이것'이 의미하는 것은?

이것은 모든 과학의 산물, 과학적 인식과 사고방식을 지나치게 높이 평가하고, 그 외의 모든 사고방식을 무시하는 입장을 의미한다.

- ① 개인주의                      ② 다원주의
- ③ 엘리트주의                      ④ 과학 지상주의

8. 정보화의 긍정적인 측면으로 가장 거리가 먼 것은?

- ① 수평적 인간관계가 증대된다.
- ② 인간 소외 문제를 완전히 해결할 수 있다.
- ③ 다수 대 다수의 커뮤니케이션이 가능하다.
- ④ 새롭고 다양한 인간관계를 형성할 수 있다.

9. 빈칸에 들어갈 내용으로 적절하지 않은 것은?

<네티즌 윤리 강령>

- 우리는 타인의 인권과 사생활을 존중하고 보호한다.
- 우리는 불건전한 정보를 배격하고 유포하지 않는다.
- \_\_\_\_\_

- ① 우리는 비·속어를 자제하고, 바른 언어를 사용한다.
- ② 우리는 유용한 정보라면 타인의 지적(지식)재산권은 무시한다.
- ③ 우리는 바이러스 유포나 해킹 등 불법적인 행동을 하지 않는다.
- ④ 우리는 사이버 공간에 대한 자율적 감시와 비판에 적극 참여한다.

10. 다음에서 설명하는 가상 공간의 특성은?

가상 공간에서는 개인 간의 직접적인 접촉보다는 간접적인 접촉이 중심을 이루기 때문에, 각자의 신분(정체)이 드러나지 않는다.

- ① 사회성      ② 객관성      ③ 익명성      ④ 동질성

11. 동양의 유가 사상에서 추구하는 이상 사회는?

- ① 유토피아      ② 민주 사회      ③ 대동 사회      ④ 소국 과민

12. 다음 빈칸에 들어갈 적절한 용어는?

개인주의는 개인의 자유와 권리를 천부 인권으로 강조하는 입장인 데 비해, ( )는 그러한 개인의 자유와 권리를 타인과의 관계를 고려하지 않고 자신만을 위하여 행사하는 입장이다.

- ① 국수주의    ② 집단주의    ③ 이기주의    ④ 연고주의

13. 밑줄 친 '이것'이 가리키는 것은?

이것은 농사를 위한 공동 노동 조직이다. 놀이 공동체로서 농약 등을 함께 즐기는 기능도 담당하였다.

- ① 계            ② 두레            ③ 향약            ④ 동신제

14. 다음 질문과 관련 있는 청소년기의 가장 우선적인 과제는?

- '나는 누구인가?'
- '나는 어디에서 왔을까?'
- '나는 무엇이 되고 싶은가?'

- ① 경제적 독립                      ② 지역 감정의 해소  
③ 사회 갈등의 해결                ④ 자아 정체성의 형성

15. 다음에 해당하는 롤스(Rawls, J.)의 정의의 원칙은?

사회적·경제적 불평등은 최소 수혜자에게 최대의 이익을 보장하도록 해야 한다.

- ① 자유의 원칙                      ② 차등의 원칙  
③ 책임의 원칙                      ④ 다수결의 원칙

16. 밑줄 친 부분과 관련이 가장 먼 것은?

21세기 국제 사회의 변화 추세를 정확히 예측하고, 통일 한국이 감당해야 할 국가의 역할을 설정해야 한다.

- ① 초국적 기업의 확대  
② 정보화 현상의 가속화  
③ 국제 사회의 교류 증가  
④ 동서 냉전 시대의 고착화

17. 남북한 통일을 저해하는 요인을 <보기>에서 고른 것은?

<보기>

- ㄱ. 단일민족으로서 공유하는 전통
- ㄴ. 민족문화의 단절로 인한 상호 간의 불신
- ㄷ. 구성원들의 확고한 통일 의지와 긍정적인 관심
- ㄹ. 통일이 자국에 불이익이 될 것이라는 주변국들의 우려

- ① ㄱ, ㄴ            ② ㄱ, ㄷ            ③ ㄴ, ㄹ            ④ ㄷ, ㄹ

18. 민족 공동체를 형성하는 객관적 요소가 아닌 것은?

- ① 단일한 언어                      ② 유구한 역사  
③ 전통적인 문화                    ④ 같은 민족이라는 느낌

19. 밑줄 친 '이것'이 가리키는 것은?

이것은 1972년 발표된 최초의 남북한 합의문서로 '자주·평화·민족 대단결'이라는 통일의 원칙에 합의한 내용이다.

- ① 6·15 남북 공동 선언            ② 7·4 남북 공동 성명  
③ 10·4 남북 정상 선언            ④ 한반도 비핵화 공동 선언

20. 남북한 언어의 이질화가 초래할 수 있는 문제점으로 거리가 먼 것은?

- ① 의사소통에서 서로 간에 오해가 많아질 것이다.  
② 우리 민족의 동질성 회복에 장애물이 될 것이다.  
③ 사람들을 하나로 결속시키는 힘이 약화될 것이다.  
④ 많은 어휘를 사용할 수 있어 표현력이 풍부해질 것이다.

21. 통일에 대한 바람직한 관점을 <보기>에서 고른 것은?

<보기>

- ㄱ. 어느 정도의 불편함과 어려움은 감수해야 한다.
- ㄴ. 감상적·추상적 동경의 대상만으로 삼아야 한다.
- ㄷ. 장기적인 안목을 가지고 인내심 있게 추진해야 한다.
- ㄹ. 통일 이후에 발생할 수 있는 문제는 고려하지 않는다.

- ① ㄱ, ㄴ            ② ㄱ, ㄷ            ③ ㄴ, ㄹ            ④ ㄷ, ㄹ

22. 다음에서 설명하는 국가는?

실용주의에 바탕을 둔 실리외교를 추진한다. 북한의 전통적인 우방국이면서 한국과도 경제적으로 매우 긴밀한 협력 관계를 유지하고 있다.

- ① 중국            ② 미국            ③ 일본            ④ 프랑스

23. 해방 후 남북 분단의 원인으로 가장 거리가 먼 것은?

- ① 남북 경제 협력의 강화  
② 강대국들의 이해관계 대립  
③ 한반도의 지정학적 위치의 중요성  
④ 민족주의 세력과 공산주의 세력 간의 이념적 갈등

24. 통일의 필요성 중 다음 내용과 가장 관련이 깊은 것은?

분단 상황으로 인하여 남북한은 엄청난 군사비를 지출하고 있으며, 국제무대에서 소모적인 경쟁을 벌이고 있다.

- ① 인도주의적 차원  
② 민족의 전통 계승  
③ 남북한 간의 이질화 현상 극복  
④ 불필요한 민족적 역량 낭비 해소

25. 세계화 시대에 통일 한국이 지향해야 할 민족주의의 모습은?

- ① 열린 민족주의                      ② 자민족 중심주의  
③ 배타적 민족주의                    ④ 국수주의적 민족주의

※ 확인사항

답을 OMR 카드의 해당란에 정확히 표기하였는가?

제 8 교시

국사

수험번호 ( )

성명 ( )

※ 다음 물음에 대한 가장 옳은 답을 하나만 골라, OMR 답안지에 정확히 표기하시오.

1. 다음 안내문에서 설명하는 대표적 유물은?

‘신석기 유물관’을 찾아주셔서 감사합니다. 이 전시관에는 신석기 사람들이 만들어 사용한 여러 가지 도구들이 전시되어 있습니다.



2. 다음에서 설명하는 국가는?

- 홍익인간의 건국이념
○ 비파형 동검과 탁자식 고인돌 분포
○ 당시의 사회상을 알려주는 8조의 법 마련

- ① 백제 ② 신라 ③ 고조선 ④ 고구려

3. 다음에서 설명하는 국가는?

- 김해·마산 지역 중심
○ 철은 교역에서 화폐처럼 사용되기도 함
○ 철을 많이 생산하여 마한, 낙랑, 왜 등으로 수출

- ① 옥저 ② 동예 ③ 부여 ④ 변한

4. 다음 삼국의 정치제도를 통해 알 수 있는 것은?

- 제가 회의 ○ 화백 회의 ○ 정사암 회의

- ① 성리학 수용 ② 귀족 회의 구성
③ 강력한 왕권의 성립 ④ 피지배층의 정치 참여 확대

5. 다음에서 설명하는 국가는?

- 중국인들이 ‘해동성국’이라 부름
○ 신라와 함께 남북국 형세를 이룸
○ 지방 행정 조직은 5경 15부 62주로 조직
○ 지배층은 고구려인, 피지배층은 다수가 말갈인으로 구성

- ① 부여 ② 발해 ③ 백제 ④ 마한

6. 다음에서 설명하는 신라 정책의 목적은?

신문왕은 문무 관리에게 조세만 받을 권리인 관료전을 지급하였고, 기존에 귀족들에게 지급하였던 조세 및 노동력을 받을 권리인 녹읍을 폐지하였다.

- ① 왕권 강화 ② 삼국 통일 달성
③ 당과의 교류 확대 ④ 고구려·백제의 문화 수용

7. 농경문화가 발달하였고 중국으로부터 선진 문물을 받아들이기 좋은 곳으로, 백제가 건국 당시 자리 잡았던 지역은?

- ① 한강 유역 ② 대동강 유역
③ 낙동강 유역 ④ 압록강 유역

8. 다음 정책을 추진한 인물은?

- 유력한 호족과 혼인 관계를 맺음
○ 평양을 서경으로 삼고 북진 정책을 추진함
○ 후대 왕들에게 정책 방향을 제시한 훈요 10조를 남김

- ① 견훤 ② 궁예 ③ 왕건 ④ 이성계

9. 다음 고려 시대 역사적 사건들의 공통적인 특징은?

- 만적의 봉기 ○ 망이·망소이의 봉기

- ① 서경 천도 운동 ② 하층민의 저항 운동
③ 발해의 부흥 운동 ④ 교종과 선종의 통합 운동

10. 다음에서 설명하는 고려 시대 역사서는?

- 인종 때 김부식 등이 왕명을 받아 편찬
○ 현존하는 우리나라 최고(最古)의 역사서
○ 유교적 합리주의 사관에 입각하여 기전체로 편찬

- ① 삼국사기 ② 제왕운기 ③ 동명왕편 ④ 해동고승전

11. 다음과 같이 수차례 침입하였으나 고려가 격퇴하였던 북방 민족은?

- 1차 - 서희의 외교 담판으로 강동 6주 획득
○ 2차 - 강조의 정변을 구실로 침입하였으나 양규가 격퇴
○ 3차 - 강감찬의 귀주 대첩

- ① 여진(금) ② 만주(청) ③ 거란(요) ④ 몽골(원)

12. 원·명 교체기에 다음 개혁 정책을 추진한 고려왕은?

- 몽골풍 금지                      ○ 정동행성 폐지
- 전민변정도감 설치              ○ 기철 등 친원세력 숙청

- ① 충렬왕    ② 충목왕    ③ 충정왕    ④ 공민왕

13. 다음에서 설명하는 조선 시대 궁궐은?

- 태조가 건설한 정궁              ○ 임진왜란 때 소실
- 흥선 대원군에 의하여 중건

- ① 경복궁    ② 창덕궁    ③ 창경궁    ④ 덕수궁

14. 다음에서 설명하는 조선의 정치 집단은?

- 대부분 지방 중소지주 출신
- 왕도 정치, 향촌 자치 강조
- 정몽주, 길재 등 고려 말 온건파 사대부 계승

- ① 훈구    ② 사림    ③ 무신    ④ 호족

15. 다음에서 설명하는 지역은?

- 대한해협에 위치한 섬
- 고려 말에서 조선 초 왜구의 소굴
- 세종 때 이종무가 토벌

- ① 완도    ② 독도    ③ 울릉도    ④ 쓰시마 섬

16. 조선의 중인 신분을 <보기>에서 바르게 고른 것은?

<보기>

- ㄱ. 수령    ㄴ. 향리    ㄷ. 역관    ㄹ. 백정

- ① ㄱ, ㄴ    ② ㄱ, ㄹ    ③ ㄴ, ㄷ    ④ ㄷ, ㄹ

17. 다음에서 설명하는 서적은?

- 조선 시대 춘추관에서 편찬
- 한 왕대의 역사를 후대에 전함
- 유네스코 세계기록유산으로 지정

- ① 일성록                              ② 고려사절요  
③ 국조오례의                        ④ 조선왕조실록

18. 조선 시대 비변사에 대한 설명으로 옳지 않은 것은?

- ① 서울에 위치한 최고 교육 기관  
② 임진왜란을 거치며 기능 확대  
③ 흥선 대원군의 개혁 정치로 폐지  
④ 중종 때 임시 국방 회의 기구로 설치

19. 일당 전제화 현상을 바로 잡기 위하여 조선 영·정조 시기에 시행된 정치는?

- ① 도학 정치    ② 붕당 정치    ③ 탕평 정치    ④ 민주 정치

20. 다음 현상을 통해 알 수 있는 조선 후기 사회상은?

- 족보 매매                          ○ 납속책 실시
- 공명첩 발행                        ○ 일부 양반의 몰락

- ① 향약이 보급되었다.  
② 신분 변동이 활발하였다.  
③ 예언 사상이 유행하였다.  
④ 지방 장시가 발달하였다.

21. 다음에서 설명하는 사상은?

- 경주 출신 몰락 양반인 최제우가 창도
- 시천주(侍天主), 인내천(人乃天) 사상 강조
- 전통 지배 체제에 저항하는 농민들의 사상적 기반

- ① 실학    ② 동학    ③ 서학    ④ 양명학

22. (가)와 (나)에 들어갈 말을 바르게 짝지은 것은?

명성 황후가 러시아와 연결하여 일본을 견제하려 하자 일본은 명성 황후를 시해한 (가)을 일으켰다. 이후 개화파 정부는 (나)을 포함한 을미개혁을 추진하였는데 이에 항거하여 전국의 유생들이 대대적으로 의병을 일으켰다.

(가)                      (나)                      (가)                      (나)

- ① 갑신정변 - 단발령                      ② 갑신정변 - 아관파천  
③ 을미사변 - 아관파천                      ④ 을미사변 - 단발령

23. 1920년대에 다음 정책을 시행한 원인은?

- 벼 품종 교체                          ○ 수리 시설 확대
- 화학 비료 사용                        ○ 쌀 수출량 증대

- ① 물산 장려 운동                          ② 임야 조사 사업  
③ 산미 증식 계획                        ④ 민립 대학 설립 운동

24. 1948년 '반민족 행위 처벌법'이 제정된 목적은?

- ① 친일파 처벌                              ② 경제 활성화  
③ 남북 단일 정부 수립                      ④ 전근대적 신분제 철폐

25. 다음 정책을 실시한 정부는?

- 베트남 파병                          ○ 한·일 국교 정상화
- 외국 차관 도입                        ○ 경제 개발 5개년 계획 실시

- ① 이승만 정부                              ② 박정희 정부  
③ 김대중 정부                              ④ 노무현 정부

※ 확인사항  
답을 OMR 카드의 해당란에 정확히 표기하였는가?