

제 1 교시

국 어

수험번호 ()

성 명 ()

※ 다음 물음에 대한 가장 옳은 답을 하나만 골라 정확히 표기하시오.

1. 국어사전에서 가장 먼저 나오는 낱말은?
 ① 돌고래 ② 강아지 ③ 올빼미 ④ 종달새

[2~3] 다음 글을 읽고 물음에 답하시오.

(가) 바람은 흐르르 휘파람 불며
 담을 넘어 저만큼
 미루나무 꼭대기에
 앉아 있다.

(나) 마루에 앉아 있는데 ㉠바람이 아주 시원하게 불었다.
 바람은 흐르르 소리를 내며 종이를 날리고 엄마가 개어
 놓은 빨래도 흩뜨려 놓았다.

2. (가)와 (나)의 공통된 글감은?
 ① 바람 ② 빨래 ③ 마루 ④ 엄마

3. 밑줄 친 ㉠ 문장의 서술어는?
 ① 바람이 ② 아주 ③ 시원하게 ④ 불었다

4. 다음 상황에 어울리는 사과어는?

책상에 있는 친구의 연필을 실수로 떨어뜨렸을 때

- ① “어머, 웬일이니?”
 ② “이 연필 누구 거니?”
 ③ “미안해. 조심하지 않아 연필을 떨어뜨렸어.”
 ④ “네가 연필을 잘못 두어서 다니는 데 불편하잖아.”

5. 다음 상황에 어울리는 속담은?



- ① 아는 것이 힘이다.
 ② 천 리 길도 한 걸음부터
 ③ 사공이 많으면 배가 산으로 간다.
 ④ 낮말은 새가 듣고 밤말은 쥐가 듣는다.

6. 다음 문장의 종류는?

창문을 닫아라.

- ① 묻는 문장 ② 시키는 문장
 ③ 풀이하는 문장 ④ 감탄을 나타내는 문장

7. 다음에서 설명하고 있는 말은?

○ 우리말에 본디부터 있던 말, 순 우리말, 토박이말
 ○ 예: 아버지, 하늘, 땅, 아름답다 등

- ① 고유어 ② 외래어
 ③ 한자어 ④ 외국어

[8~9] 다음 글을 읽고 물음에 답하시오.

땅뺨기를 하다가
 쳐다본 하늘.
 파란색 도화지 한 장.
 금그을 수 없는
 하늘 속으로
 야아
 선생님 찬 공이
 쏘옥 들어간다.
 아이들도
 선생님도
 뛰어들어가는
 푸른 하늘.

- 전원범, 「푸른 하늘 속으로」 -

8. 위와 같은 글에 대한 설명으로 알맞은 것은?

- ① 연극을 하기 위해 쓴 글
 ② 주장하기 위해 근거를 들어 쓴 글
 ③ 운율을 살려 생각이나 느낌을 함축적으로 쓴 글
 ④ 새로운 내용을 알려 주기 위해 자세히 설명하여 쓴 글

9. 위의 글에서 ‘하늘’을 무엇에 비유했나?

- ① 파란색 도화지 ② 운동장
 ③ 아이들 ④ 선생님

10. 다음에서 설명하고 있는 말하기 방식은?

어떤 문제에 대하여 여러 사람들의 의견을 듣고 가장 적절한 해결 방안을 찾는 방법

- ① 강의 ② 토의 ③ 연설 ④ 축하

[11~12] 다음 글을 읽고 물음에 답하시오.

개미귀신은 작은 머리통에 사슴벌레의 집게처럼 생긴 단단하고 날카로운 턱이 나와 있다. 몸통에 있는 여섯 개의 다리로는 모래밭을 빠르게 파고 들어갈 수 있다. 그래서 마치 긴 창으로 무장을 하고 튼튼한 군화를 신은 용감한 군인처럼 보인다. 또 온몸이 털로 덮여 있고, 몸의 색깔이 황갈색이어서 모래에 숨으면 잘 보이지 않는다.

11. 위 글이 설명하고 있는 것은?

- ① 개미귀신의 턱이 ② 개미귀신의 이름
- ③ 개미귀신의 모습 ④ 개미귀신이 사는 곳

12. 다음에서 의견을 표현한 것은?

- ① 온몸이 털로 덮여 있다.
- ② 몸의 색깔이 황갈색이다.
- ③ 몸통에는 여섯 개의 다리가 있다.
- ④ 군화를 신은 용감한 군인처럼 보인다.

[13~14] 다음 글을 읽고 물음에 답하시오.

어린이가 당하기 쉬운 교통사고 유형을 살펴보면 ㉠ 사고의 70퍼센트 정도는 보행을 하는 도중에 발생한다. 위험한 놀이를 하거나 자전거나 차를 탈 때 안전에 유의하지 않는 경우에도 ㉡ 발생한다. 그러므로 어린이 교통사고를 막기 위해서는, 어린이 교통사고의 원인을 정확하게 파악하여 그 대책을 마련해야 하고, 어린이도 평소에 조심하도록 주의해야 한다.


13. 밑줄 친 ㉠의 문제를 해결하기 위한 방법이 아닌 것은?

- ① 차도를 무단으로 횡단하지 않는다.
- ② 차가 다니는 골목길에서 장난하며 건지 않는다.
- ③ 횡단보도에서 녹색 신호가 켜지면 재빨리 뛰어간다.
- ④ 밤길을 다닐 때에는 가능하면 밝은 색 옷을 입는다.

14. 밑줄 친 ㉡과 바꾸어 쓸 수 있는 말은?

- ① 연결한다 ② 준비한다 ③ 통과한다 ④ 일어난다

15. 광고에서 전하려는 내용은?



- ① 가공 식품은 건강을 해친다.
- ② 일회용품 사용이 환경파괴의 원인이다.
- ③ 산에는 간편한 음식을 가지고 가야 한다.
- ④ 하루 세 끼의 식사를 규칙적으로 해야 한다.

[16~17] 다음 글을 읽고 물음에 답하시오.

㉠ 이튿날 새벽, 서울에 도착한 아저씨께서는 날이 밝기를 기다리셨습니다. 처음으로 꿀 장사를 나온 아저씨께서는 어디서, 어떻게 꿀을 팔아야 할지 몰랐습니다. 어찌다 용기를 내어 지나가는 사람들에게 꿀을 사라고 말하여 보았지만, 사람들은 ㉡ 눈길 한 번 주지 않고 지나쳤습니다.

16. 밑줄 친 ㉠과 같은 뜻의 낱말은?

- ① 어제 ② 오늘 ③ 다음날 ④ 요즈음

17. 밑줄 친 ㉡과 같은 방법으로 말소리가 바뀌어 발음되지 않는 것은?

- ① 국물 ② 숨결 ③ 등불 ④ 손등

[18~20] 다음 글을 읽고 물음에 답하시오.

장끼는 제 눈을 의심하고 놀란 가슴을 진정하며 “여보, 까투리. 저것을 봐요. 저기 맛있는 콩이 있질 않소? 어화, 그 콩, 소담도 하다. 하늘이 주신 복이로세.”
 까투리는 그 말을 듣고 달려가, 그 콩과 주위를 자세히 살펴보다가 머리를 가우뚱하며
 “여보, 장끼. 아무래도 이상하군요. 그 콩을 먹어서는 안 될 것 같아요. 그 콩 주위는 분명히 입으로 훌훌 불고, 비로 싹싹 쓸었으며, 일부러 던져 놓은 자취가 엿보여요. 분명히 이것은 사람의 손이 닿아 있는 것 같아요.”
 장끼는 천만 뜻밖이라는 듯이 고개를 좌우로 저으며 “참 미련한 말. 지금이 어느 텐데 이 추위 속, 깊은 골짜기에 길조차 막혔거늘 사람이 무슨 수로 이 산밭까지 온단 말어요? 이는 필시 지난 추수 때 사람이 흘린 콩이 분명하오!”

18. 위 글의 공간적 배경은?

- ① 산밭 ② 추수 때
- ③ 추운 겨울 ④ 집 앞 마당

19. 까투리가 주장을 뒷받침하기 위해 제시한 근거가 아닌 것은?

- ① 콩 주위를 비로 싹싹 쓸었다.
- ② 길이 막혀 사람이 오지 않는다.
- ③ 콩 주위를 입으로 훌훌 불었다.
- ④ 일부러 던져 놓은 자취가 엿보인다.

20. 장끼에 대한 설명으로 알맞은 것은?

- ① 소심하고 두려움이 많다.
- ② 자비롭고 양보를 잘한다.
- ③ 마음이 여리고 동정심이 많다.
- ④ 남의 말을 잘 듣지 않고 고집이 세다.

제 ③ 교시

영어

수험번호 ()

성명 ()

※ 다음 물음에 대한 가장 옳은 답을 하나만 골라 정확히 표기하시오.

1. 알파벳 대문자와 소문자가 바르게 연결된 것은?
① D - b ② E - a ③ G - g ④ H - f

2. 빈칸에 들어갈 낱말로 알맞은 것은?



A: Where is the cat?
B: It is _____ the box.

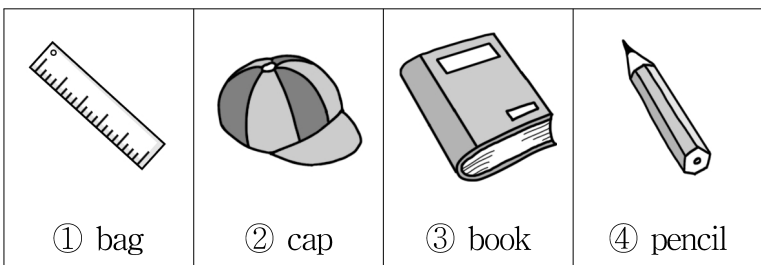
- ① on ② in ③ under ④ between

3. 알파벳을 순서대로 배열할 때 □에 알맞은 것은?

L - M - □ - O - □ - Q

- ① F, G ② H, I
③ J, K ④ N, P

4. 그림과 아래의 낱말이 잘못 연결된 것은?




- ① bag ② cap ③ book ④ pencil

5. 대화에서 알 수 있는 미나(Mina)의 생일은?

Namsu : When is your birthday?
Mina : It's April second.

- ① 3월 2일 ② 4월 2일
③ 4월 5일 ④ 5월 4일

6. 그림이 나타내는 운동으로 알맞은 것은?



- ① soccer
② baseball
③ basketball
④ badminton

7. 뜻이 반대되는 낱말끼리 연결된 것은?

- ① tall - hair ② long - eyes
③ big - small ④ short - ears

8. 그림이 나타내는 직업으로 알맞은 것은?



- ① cook
② nurse
③ singer
④ pianist

9. 그림으로 보아 빈칸에 들어갈 표현으로 알맞은 것은?



A: What did you do yesterday?
B: _____.

- ① I went shopping
② I went to the zoo
③ I played the piano
④ I did my homework

10. 대화에서 민수(Minsu)가 제안하는 것은?

Minsu : Let's go swimming.
Jenny : OK. Sounds great.

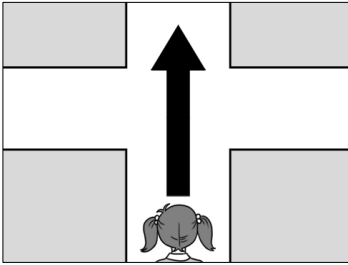
- ① 캠핑하기 ② 등산하기
③ 수영하기 ④ 낚시하기

11. 그림을 설명하는 문장으로 가장 알맞은 것은?




- ① I'm tired.
- ② I'm sleepy.
- ③ I'm thirsty.
- ④ I'm hungry.

12. 그림을 설명하는 문장으로 알맞은 것은?



- ① Go back.
- ② Go straight.
- ③ Turn right.
- ④ Turn left.

13. 다음은 장난감의 가격표이다. 빈칸에 들어갈 표현으로 알맞은 것은?



A: How much is the toy car?
B: _____.

- ① It's five dollars
- ② It's six dollars
- ③ It's eight dollars
- ④ It's ten dollars

14. 대화가 이루어지는 상황으로 알맞은 것은?

Ann : Hello. This is Ann speaking.
Mary: Hello, Ann. This is Mary.

- ① 전화할 때
- ② 제안할 때
- ③ 비교할 때
- ④ 축하할 때

15. 진호(Jinho)가 여름 방학에 하고자 하는 것은?

Jinho: I have summer vacation in July.
I will read books.

- ① 책읽기
- ② 음악듣기
- ③ 농구하기
- ④ 자전거 타기

16. 밑줄 친 곳에 공통으로 들어갈 알파벳으로 알맞은 것은?

- mo__er (어머니)
- fa__er (아버지)
- bro__er (남자형제)

- ① ch
- ② gh
- ③ sh
- ④ th

17. 우리말을 영어로 바르게 표현한 것은?



나는 매일 6시 30분에 일어난다.

- ① I go to school at 6:30.
- ② I go back home at 6:30.
- ③ I get up at 6:30 every day.
- ④ I play computer games at 6:30.

18. 요일을 순서대로 배열할 때, □에 알맞은 것은?

Thursday — □ — Saturday — Sunday

- ① Monday
- ② Tuesday
- ③ Wednesday
- ④ Friday

19. 준(Joon)이 학교를 가지 못하는 이유로 알맞은 것은?



Joon : I can't go to school today.
Nami : Why?
Joon : Because I have a cold.
Nami : That's too bad.

- ① 배가 아파서
- ② 늦잠을 자서
- ③ 다리가 아파서
- ④ 감기에 걸려서

20. 빈칸에 들어갈 말로 알맞지 않은 것은?

A: This Saturday is my birthday.
Would you like to come to my house?

B: _____.

- ① Sure
- ② Yes, it is
- ③ Sorry, I can't
- ④ Yes, I'd love to

제 ② 교시

수 학

수험번호 ()

성 명 ()

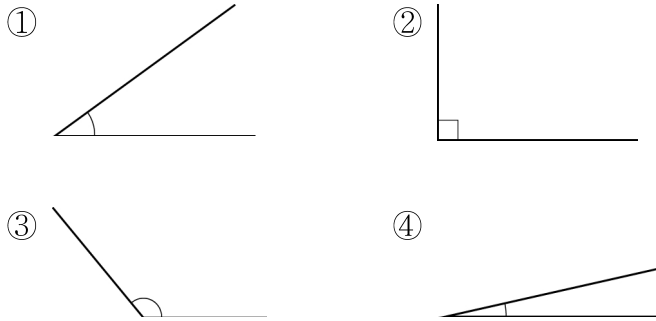
※ 다음 물음에 대한 가장 옳은 답을 하나만 골라 정확히 표기하시오.

1. □ 안에 알맞은 수는?

9000보다 1000 큰 수는 □입니다.

- ① 10000 ② 90000 ③ 100000 ④ 900000

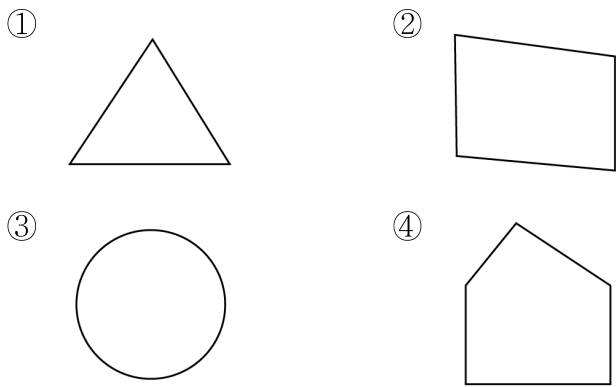
2. 각의 크기가 가장 큰 것은?



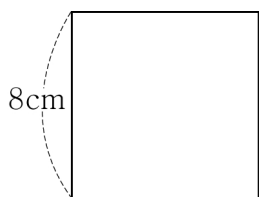
3. 1과 크기가 같은 분수는?

- ① $\frac{3}{8}$ ② $\frac{2}{3}$ ③ $\frac{8}{9}$ ④ $\frac{4}{4}$

4. 5개의 선분으로 둘러싸인 도형은?

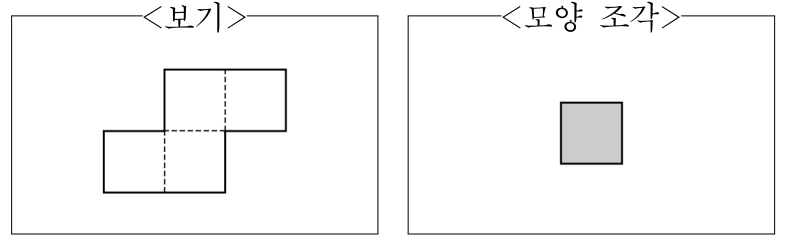


5. 한 변의 길이가 8cm인 정사각형의 둘레는?



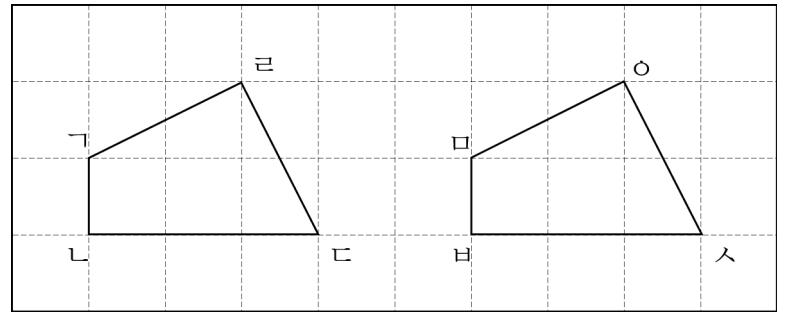
- ① 16 cm ② 24 cm
- ③ 32 cm ④ 40 cm

6. <보기>의 평면도형을 빈틈없이 덮기 위해 필요한 <모양 조각>의 개수는?



- ① 1개 ② 2개 ③ 3개 ④ 4개

7. 두 도형이 합동일 때, 변 ∟의 대응변은?



- ① 변 □∢ ② 변 ∢∣
- ③ 변 ∣∢ ④ 변 ∢□

8. 창수는 미정보다 4살 많다. 미정이 14살이면 창수의 나이는?

- ① 16살 ② 17살 ③ 18살 ④ 19살

9. 두 수의 곱은?

$$\begin{array}{r} 0.4 \\ \times 3 \\ \hline \end{array}$$

- ① 1.2 ② 1.4
- ③ 1.6 ④ 1.8

10. <기말고사 성적표>에서 수학 점수는?

<기말고사 성적표>

과목	국어	사회	수학	과학	총점
점수(점)	100	80		90	360

- ① 70 ② 80 ③ 90 ④ 100

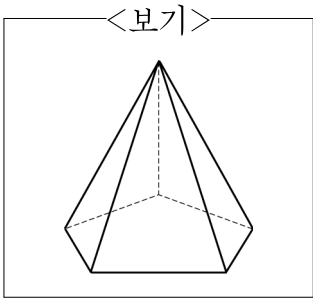
11. $1\frac{1}{4}$ 을 소수로 나타내면?

- ① 1.15 ② 1.25
- ③ 1.35 ④ 1.45

12. 1.5L의 주스를 한 사람당 0.3L씩 마실 때, 모두 몇 명이 마실 수 있는가?

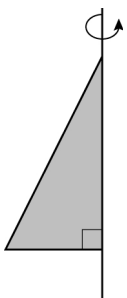
- ① 2명 ② 3명 ③ 4명 ④ 5명

13. <보기>의 도형에 대한 설명으로 옳은 것은?



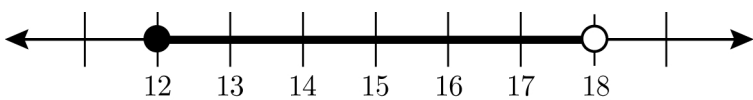
- ① 오각뿔이다.
- ② 면이 7개이다.
- ③ 꼭짓점은 8개이다.
- ④ 밑면은 육각형이다.

14. 직각삼각형을 그림과 같이 회전축을 중심으로 1회전하여 얻는 입체도형은?



- ① 원
- ② 원뿔
- ③ 삼각기둥
- ④ 사각기둥

15. 수직선에 나타난 수의 범위는?



- ① 12 이상 18 미만 ② 12 이상 18 이하
- ③ 12 초과 18 미만 ④ 12 초과 18 이하

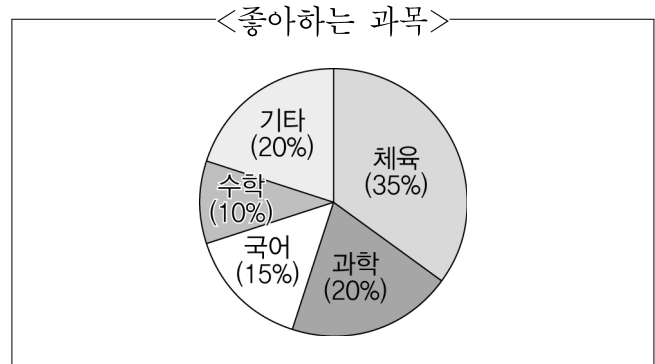
16. 한 모서리의 길이가 3cm인 정육면체의 부피는?

- ① 3cm^3 ② 6cm^3 ③ 9cm^3 ④ 27cm^3

17. 명희와 성은이가 가위바위보를 한 번 할 때, 성은이가 낼 수 있는 경우의 수는?

- ① 2 ② 3 ③ 4 ④ 5

18. 가장 많은 학생들이 좋아하는 과목은?



- ① 국어 ② 수학
- ③ 과학 ④ 체육

19. 지호는 1000원을 내고 400원짜리 공책 2권과 지우개 1개를 샀다. 지우개의 값은?

- ① 200원 ② 300원 ③ 400원 ④ 500원

20. □ 안에 알맞은 수는?

$$2 : 3 = 6 : \square$$

- ① 4 ② 7 ③ 9 ④ 18

10. 다음 내용과 관계있는 인물은?

- 거북선
- 임진왜란
- 한산도 대첩

- ① 김유신 ② 강감찬
- ③ 이순신 ④ 이종무

11. 우리나라의 겨울에 가장 많이 발생하는 자연재해는?

- ① 황사 ② 태풍
- ③ 폭설 ④ 지진

12. 안에 들어갈 알맞은 말은?

은(는) 나라와 나라가 서로의 필요에 의하여
물자나 기술 등을 사거나 파는 것을 말한다.

- ① 무역 ② 생산
- ③ 자원 ④ 경제

13. 다음 내용과 관계있는 기관은?

- 국민을 위한 법을 만든다.
- 국가의 예산을 심의하고 확정한다.

- ① 법원 ② 국회
- ③ 감사원 ④ 국세청

14. 평화 통일을 위한 우리의 노력과 관계있는 것은?

- ① 핵실험
- ② 무력 도발
- ③ 연평도 포격 사건
- ④ 남북 이산가족 상봉

15. 개인이 이사할 수 있는 권리는 어떤 기본권에 해당되는가?

- ① 자유권 ② 참정권
- ③ 청구권 ④ 사회권

16. 6·25 전쟁의 결과가 아닌 것은?

- ① 남북통일 ② 이산가족
- ③ 인명 피해 ④ 재산 피해

17. 다음 내용과 관계있는 나라는?

- 수도는 파리이다.
- 서부 유럽에 속한 나라이다.
- 베르사유 궁전과 에펠탑이 있다.

- ① 미국 ② 중국
- ③ 멕시코 ④ 프랑스

18. 다음 내용과 관계 깊은 인물은?

- 실학 연구를 집대성하였다.
- 수원 화성을 쌓을 때 거중기를 사용하였다.

- ① 이황 ② 김정호
- ③ 정약용 ④ 장영실

19. 우리 민족이 일제의 침략으로부터 나라를 되찾기 위해 한 일은?

- ① 한글 창제
- ② 3·1 운동
- ③ 새마을 운동
- ④ 5·18 민주화 운동

20. 인권을 보호하기 위한 노력과 거리가 먼 것은?

- ① 노숙인 쉼터를 만든다.
- ② 외국인 근로자를 차별 대우한다.
- ③ 장애인을 위한 시설물을 설치한다.
- ④ 홀로 사는 노인들을 위해 생활비를 지원한다.

제 ② 교시

과 학

수험번호 ()

성 명 ()

※ 다음 물음에 대한 가장 옳은 답을 하나만 골라 정확히 표기하시오.

1. 전기가 통하는 물질을 도체라고 한다. 도체가 아닌 것은?

- ① 철사 ② 고무줄 ③ 은수저 ④ 구리선

2. 동일한 용수철에 물체를 매달았을 때, 용수철이 늘어난 길이를 각각 나타낸 것이다. 가장 무거운 것은?

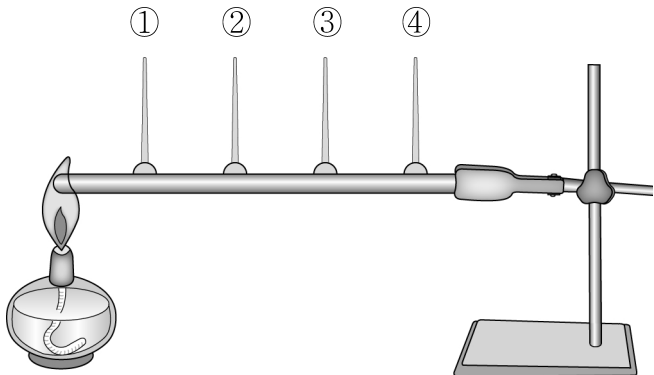
물체	연필	필통	지우개	색연필
용수철이 늘어난 길이(cm)	13	20	10	15

- ① 연필 ② 필통
- ③ 지우개 ④ 색연필

3. 식물의 뿌리가 하는 일이 아닌 것은?

- ① 광합성을 한다.
- ② 물과 양분을 흡수한다.
- ③ 양분을 저장하기도 한다.
- ④ 식물이 쓰러지지 않도록 한다.

4. 그림과 같이 쇠막대에 촛농을 한 방울씩 떨어뜨려 이쭉시개를 고정시킨 후, 한 쪽 끝을 가열할 때 가장 먼저 떨어지는 이쭉시개는? (단, 촛농의 양과 모양은 같다.)



5. 그림에서 평면거울에 보이는 글자 모양은?



- ① 가 ② ㅏ
- ③ ㅑ ④ ㅓ

6. 다음 중 물에 사는 작은 생물은?

- ① 해캄 ② 개미
- ③ 메뚜기 ④ 땅강아지

7. 화산 활동에 의해 생긴 암석은?

- ① 이암 ② 사암
- ③ 역암 ④ 현무암

8. 태양계 행성들 중 태양에서 가장 가까운 행성은?

- ① 수성 ② 금성
- ③ 목성 ④ 천왕성

9. 꼬투리가 터져서 씨앗이 퍼지는 식물은?

- ① 봉숭아 ② 민들레
- ③ 단풍나무 ④ 도깨비바늘

10. 물 60g에 설탕 20g을 녹여 만든 설탕물의 무게는?

- ① 50g ② 60g
- ③ 70g ④ 80g

