

제 4 교시 사회

1. 다음 중 ㉠에 들어갈 내용으로 옳은 것은?

○ ㉠은/는 사막 가운데에 샘이 솟고 풀과 나무가 자라는 곳이다.
 ○ 사막에서는 관개 수로를 이용하거나 물을 구하기 쉬운 ㉠ 주변에서 대추야자, 밀을 재배한다.

- ① 스킨 ② 오로라 ③ 타이가 ④ 오아시스

2. 다음에서 설명하는 것은?

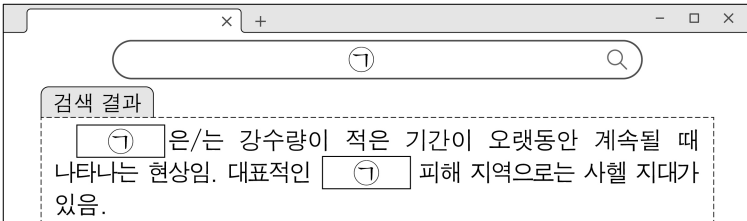
○ 인터넷, TV 등을 통해 상품을 사고파는 행위를 말한다.
 ○ 기존 유통과 달리 시간과 공간에 대한 제약이 적다.

- ① 위성 도시 ② 인플레이션
- ③ 전자 상거래 ④ 지리적 표시제

3. 다음 중 독도에 대한 설명으로 옳지 않은 것은?

- ① 천연 보호 구역으로 지정되었다.
- ② 우리나라의 가장 동쪽에 위치한다.
- ③ 중앙에 한라산, 성산 일출봉이 있다.
- ④ 주변 바다에 메탄하이드레이트가 매장되어 있다.

4. 다음 중 ㉠에 들어갈 내용으로 가장 적절한 것은?



- ① 가뭄 ② 지진 ③ 태풍 ④ 홍수

5. 다음에서 설명하는 것은?

65세 이상 인구가 전체 인구에서 차지하는 비율이 높아지는 현상

- ① 고령화 ② 출생률
- ③ 공정 무역 ④ 인구 공동화

6. 다음 설명에 해당하는 문화 지역은?



우리 문화 지역은 주로 사하라 사막 이남 지역에 분포하고, 원시 종교와 부족 중심의 문화가 남아 있어.

- ① 북극 문화 지역 ② 동아시아 문화 지역
- ③ 아프리카 문화 지역 ④ 앵글로아메리카 문화 지역

7. 다음에서 설명하는 기본권으로 가장 적절한 것은?

○ 국가에 인간다운 생활의 보장을 요구할 수 있는 권리이다.
 ○ 우리나라 헌법에서는 교육받을 권리, 근로의 권리, 쾌적한 환경에서 살 권리 등을 규정하고 있다.

- ① 사회권 ② 선거권 ③ 자유권 ④ 참정권

8. 다음에서 설명하는 것은?

도시의 중심부에 위치하여 기업의 본사, 중앙 관청, 주요 금융 기관, 백화점 등과 같이 중추 관리 기능과 고급 서비스 기능이 밀집해 있는 지역

- ① 슬럼 ② 비무장 지대
- ③ 개발 제한 구역 ④ 중심 업무 지구

9. 다음 중 ㉠에 들어갈 내용으로 옳은 것은?

지구촌 환경 문제 : ㉠

- 북극해의 빙하 면적이 줄어들고 있다.
- 투발루는 해수면 상승으로 국토 침수 문제를 겪고 있다.
- 오스트레일리아의 산호초는 바닷물의 수온 상승으로 죽어가고 있다.

- ① 로컬 푸드 ② 이촌 향도
- ③ 지구 온난화 ④ 세계 문화 유산

10. 다음 중 ㉠에 들어갈 용어로 옳은 것은?

㉠(이)란 개인이 어떤 행동이나 판단을 할 때 기준으로 삼는 집단을 말한다. ㉠와/과 자신이 속한 집단이 일치하면 개인은 만족감과 자부심을 느끼지만, 일치하지 않으면 불만을 가지거나 갈등을 겪을 수 있다.

- ① 외집단 ② 랜드마크 ③ 재사회화 ④ 준거 집단

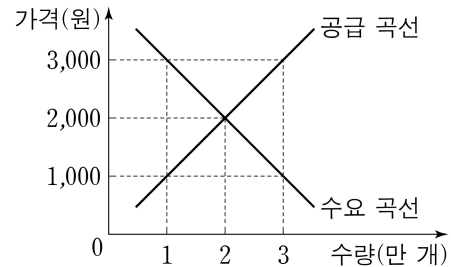
11. 다음 중 ㉠에 들어갈 내용으로 가장 적절한 것은?

“사람 사는 곳은 다 똑같다.”라는 말이 있듯이 모든 사회에는 공통적으로 나타나는 생활 양식이 있는데, 이러한 특징을 문화의 ㉠이라고 합니다. 어느 사회나 가족, 종교, 장례 등의 문화가 존재하는 것처럼요.



- ① 구체성 ② 보편성 ③ 차별성 ④ 특수성

12. 그래프는 빵 시장의 수요·공급 곡선을 나타낸다. 이에 대한 설명으로 옳은 것은?



- ① 균형 가격은 2,000원이다.
- ② 균형 거래량은 1만 개이다.
- ③ 가격이 1,000원일 때 초과 공급이 발생한다.
- ④ 가격이 3,000원일 때 초과 수요가 발생한다.

13. 다음 중 A, B에 들어갈 민주 선거 원칙을 옳게 짝지은 것은?

- **A** 는 유권자가 행사하는 투표권의 개수와 가치가 같아야 한다는 원칙으로 차등 선거와 반대된다.
- **B** 는 유권자가 대리인을 거치지 않고 직접 투표소에 나가 투표해야 한다는 원칙으로 대리 선거와 반대된다.

- | | | | |
|----------|----------|----------|----------|
| <u>A</u> | <u>B</u> | <u>A</u> | <u>B</u> |
| ① 보통 선거 | 비밀 선거 | ② 보통 선거 | 직접 선거 |
| ③ 평등 선거 | 비밀 선거 | ④ 평등 선거 | 직접 선거 |

14. 다음 중 ㉠에 들어갈 법으로 옳은 것은?

학습 주제: **㉠**

○ 사법(私法)의 한 종류이다.
○ 개인 간의 가족 관계, 재산 관계를 규율하며 재산권과 계약, 혼인과 이혼, 상속, 유언 등을 다룬다.

- ① 공법 ② 민법 ③ 형법 ④ 행정법

15. 다음 중 시장 경제 체제에 대한 일반적인 특징으로 적절하지 않은 것은?


- ① 사유 재산 제도를 인정한다.
- ② 국가가 모든 생산 수단을 소유한다.
- ③ 시장 가격을 통해 경제 문제를 해결한다.
- ④ 개인은 자유로운 경제 활동을 할 수 있다.

16. 다음에서 설명하는 국제 사회의 행위 주체로 적절한 것은?

- 국제 사회에서 가장 기본적인 행위 주체이다.
- 국제법상 독립적인 주권을 가지고 외교 활동을 한다.

- ① 국가 ② 다국적 기업
③ 국제 비정부 기구 ④ 영향력 있는 개인

17. 밑줄 친 '이 시대'로 옳은 것은?



고인돌은 이 시대를 대표하는 유물이다. 규모가 큰 것은 덮개돌의 무게가 수십 톤에 달해 이를 조성하는 데 많은 노동력이 필요하였다.

〈탁자식 고인돌〉

- ① 구석기 시대 ② 신석기 시대
③ 청동기 시대 ④ 고려 시대

18. 다음 중 ㉠에 들어갈 나라로 옳은 것은?

〈4~5세기 **㉠**의 역사〉

소수림왕
울령 반포 →
 광개토 대왕
'영락' 연호 사용 →
 장수왕
평양 천도

- ① 동예 ② 부여 ③ 조선 ④ 고구려

19. 다음 중 ㉠에 들어갈 내용으로 옳은 것은?

〈 **㉠**의 전개 과정〉

도요토미 히데요시의 조선 침략 → 선조의 의주 피란
 → 이순신 장군의 한산도 대첩 → 일본군의 철수 결정


- ① 임진왜란 ② 나당 전쟁
③ 강화도 조약 ④ 안시성 전투

20. 다음 설명에 해당하는 고려의 왕은?

- 노비안검법을 시행하였다.
- 관리 선발 제도로 과거제를 실시하였다.

- ① 광종 ② 세조 ③ 광해군 ④ 연산군

21. 밑줄 친 '이들'에 해당하는 것은?



이들은 고려 후기 원 간섭기에 등장한 친원적 성향의 지배 세력입니다. 음서 등을 통해 권력을 세습하였으며, 불법적으로 대규모 농장을 운영하였습니다.


- ① 별기군 ② 화랑도 ③ 권문세족 ④ 급진 개혁파

22. 다음 중 ㉠에 들어갈 지역으로 옳은 것은?

3·1 운동 이후 무장 독립 투쟁이 더욱 활발해졌다. 특히 1920년 10월, 김좌진과 홍범도 등이 이끄는 독립군 연합 부대는 **㉠** 일대에서 일본군에 승리하였다.

- ① 경주 ② 평양 ③ 상하이 ④ 청산리

23. 다음 중 ㉠에 들어갈 내용으로 옳은 것은?



자료는 김홍도가 씨름판의 모습을 묘사한 것이다. 조선 후기에는 이처럼 서민의 일상 생활을 생동감 있게 표현한 **㉠**이 널리 유행하였다.

- ① 금관 ② 풍속화 ③ 상감 청자 ④ 비파형 동검

24. 다음 제시어와 공통으로 관련 있는 단체는?

〈제시어〉

1896년 서재필 만민 공동회
관민 공동회 현의 6조

- ① 삼별초 ② 통신사 ③ 독립 협회 ④ 삼청 교육대

25. 다음 사건이 일어난 시기는?

- 경제 개발 5개년 계획 추진
 - 7·4 남북 공동 성명 발표
 - 유신 헌법 제정
- ① 김대중 정부 ② 김영삼 정부
③ 노태우 정부 ④ 박정희 정부