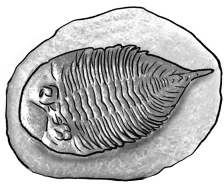


제 ② 교시 과학

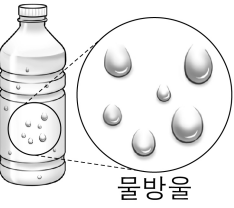
1. 다음 설명에서 ㉠에 공통으로 들어갈 말은?



- (㉠)은 옛날에 살았던 생물의 몸체나 생물이 생활한 흔적이 암석이나 지층 속에 남아 있는 것이다.
- 대표적인 예로 삼엽충 (㉠)이 있다.

- ① 진흙 ② 화석 ③ 현무암 ④ 화강암


2. 다음 설명에 해당하는 것은?



- 기체인 수증기가 액체인 물로 상태가 변하는 것이다.
- 냉장실에서 꺼내 놓은 차가운 물병의 바깥쪽에 물방울이 맺히는 현상과 관련이 있다.

- ① 얼음 ② 용해 ③ 응결 ④ 황사

3. 다음 설명에 해당하는 달은?




- 음력 15일 무렵에 우리나라에서 볼 수 있다.
- 둥근 모양이다.

- ① 초승달 ② 상현달 ③ 보름달 ④ 하현달

4. 다음 중 연소의 조건에 해당하는 것은?

- ① 물 ② 산소 ③ 얼음 ④ 소화기

5. 다음 설명에 해당하는 기체는?



- 탄산음료에 녹아 있다.
- 색깔과 냄새가 없고, 물질이 타는 것을 막는다.

- ① 네온 ② 질소
③ 헬륨 ④ 이산화 탄소

6. 다음 설명에서 ㉠에 공통으로 들어갈 말은?

- (㉠)은/는 숨을 들이마시고 내쉬는 활동이다.
- (㉠) 기관에는 코, 기관지, 폐 등이 있다.

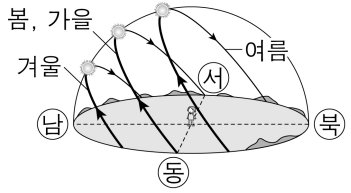
- ① 배설 ② 소화 ③ 호흡 ④ 노폐물

7. 그림에서 설명하는 것은?



- ① 물의 순환
- ② 빛의 굴절
- ③ 열의 이동
- ④ 에너지 전환

8. 그림은 우리나라의 계절에 따른 태양의 남중 고도를 나타낸 것이다. 다음 설명에 해당하는 우리나라의 계절은?



- 태양의 남중 고도가 가장 낮다.
- 낮의 길이가 가장 짧고, 기온이 낮다.

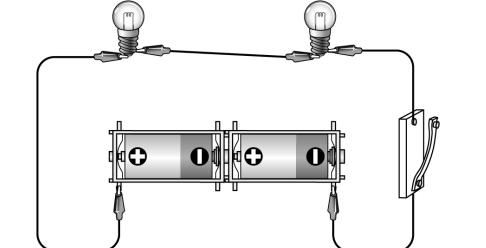
- ① 봄 ② 여름 ③ 가을 ④ 겨울

9. 다음 설명에서 ㉠에 공통으로 들어갈 말은?

- 광합성은 주로 식물의 (㉠)에서 일어난다.
- (㉠)에 도달한 물이 기공을 통해 식물 밖으로 빠져나간다.

- ① 씨 ② 잎 ③ 뿌리 ④ 열매

10. 그림의 전기 회로에서 전지의 연결 방법은?



- ① 전구
- ② 전자석
- ③ 병렬연결
- ④ 직렬연결

11. 다음 설명에서 ㉠에 공통으로 들어갈 말은?

○ (㉠)은/는 두 물질 사이에서 열의 이동을 막는 것이다.
 ○ 벽 사이에 스티로폼을 넣거나 이중창을 설치하여 실내 온도를 유지하는 것은 (㉠)을/를 이용한 예이다.

- ① 단열 ② 소리 ③ 자극 ④ 전기

12. 그림에서 ㉠에 해당하는 것은?



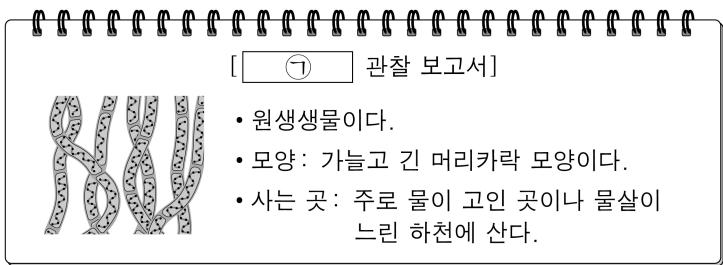
- ① 구름 ② 안개 ③ 북극성 ④ 태양계

13. 다음에서 설명하는 것은?

○ 용액의 성질에 따라 색깔이 변하는 물질이다.
 ○ 리트머스 종이, 페놀프탈레인 용액, 붉은 양배추 용액 등이 있다.

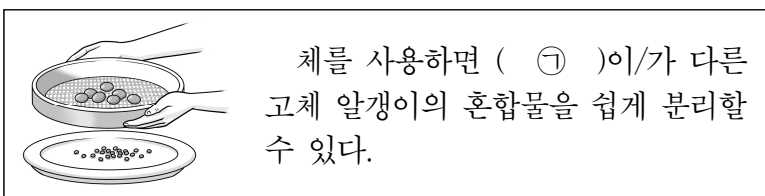
- ① 식초 ② 지시약
 ③ 빨랫비누 물 ④ 유리 세정제

14. 다음 관찰 보고서에서 ㉠에 해당하는 것은?



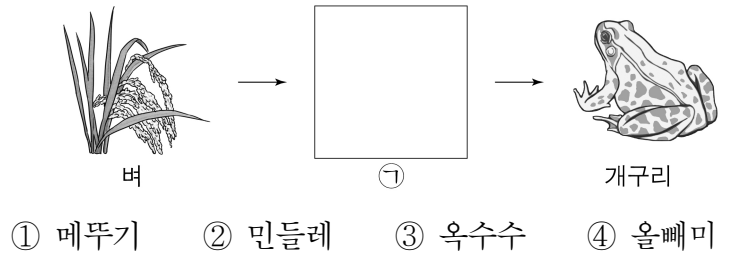
- ① 버섯 ② 해캄 ③ 선인장 ④ 은행나무

15. 다음 설명에서 ㉠에 해당하는 것은?



- ① 맛 ② 냄새 ③ 색깔 ④ 크기

16. 그림의 먹이 사슬에서 ㉠에 해당하는 것은?



- ① 메뚜기 ② 민들레 ③ 옥수수 ④ 올빼미

17. 표를 이용해서 구할 수 있는 것은?

(단위 : %)

건구 온도 (°C)	건구 온도와 습구 온도의 차(°C)			
	0	1	㉡	3
14	100	90	79	70
㉡	100	90	80	71
16	100	90	81	71

- ① 길이 ② 무게 ③ 습도 ④ 시간

18. 그림은 학생 (가)~(라)가 같은 시간 동안 각각 이동한 거리를 나타낸 것이다. 가장 빠르게 이동한 학생은?

학생	이동한 거리
(가)	80m
(나)	60m
(다)	40m
(라)	20m

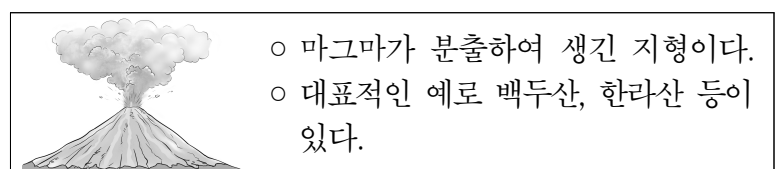
- ① (가)
 ② (나)
 ③ (다)
 ④ (라)

19. 표는 방울토마토를 띄워 설탕물의 진하기를 비교한 실험 결과이다. ㉠에 들어가는 각설탕의 개수로 가장 적절한 것은? (단, 설탕의 양을 제외한 다른 조건은 모두 같다.)

용해된 각설탕의 개수	(㉠)	10개	15개
실험 결과			

- ① 5개 ② 12개 ③ 15개 ④ 20개

20. 다음 설명에 해당하는 것은?



- ① 바다 ② 사막 ③ 지진 ④ 화산