

제 ③ 교시

실과

1. 다음 중 아동기의 정서적 발달 특징으로 가장 적절한 것은?

- ① 운동 능력이 발달한다.
- ② 남녀의 신체적 차이가 뚜렷해진다.
- ③ 키가 자라고 몸무게가 빠르게 늘어난다.
- ④ 다양한 감정을 이해할 수 있고, 표현할 수 있다.

2. 다음 중 남성에게만 나타나는 성적 발달은?


- ① 가슴이 커진다.
- ② 골반이 넓어진다.
- ③ 몽정을 경험한다.
- ④ 월경을 시작한다.

3. 다음 설명에 모두 해당하는 것은?

○ 경제 동물에 해당한다.  
○ 고기와 우유를 얻을 수 있다.

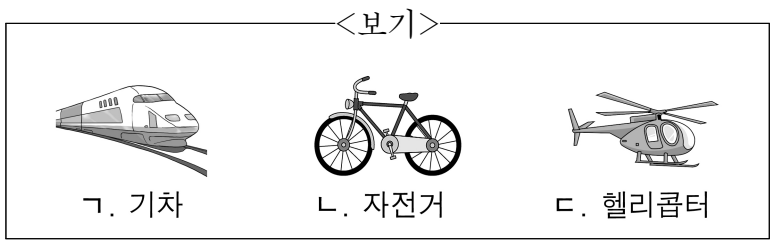
- ① 벌            ② 소            ③ 누에            ④ 장수풍뎅이

4. 그림에서 설명하는 것은?



- ① 미각            ② 청각            ③ 촉각            ④ 후각

5. 육상 수송 수단에 해당하는 것만을 <보기>에서 모두 고른 것은?



- ① ㄷ                                    ② ㄱ, ㄴ
- ③ ㄱ, ㄷ                                ④ ㄱ, ㄴ, ㄷ

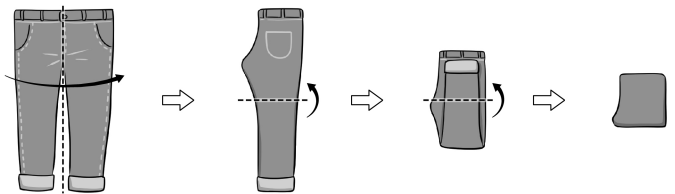
6. 표의 용돈 사용 내역에서 지출 금액의 합계는?

<3일 동안의 용돈 사용 내역>

날짜	내용	수입	지출	남은 돈
4월 1일	용돈	8,000원		8,000원
4월 2일	지우개 구입		2,000원	6,000원
4월 3일	친구 선물 구입		3,000원	3,000원

- ① 1,000원    ② 4,000원    ③ 5,000원    ④ 7,000원

7. 그림에 해당하는 옷 관리 방법은?



- ① 옷 개기                                ② 건조하기
- ③ 분류하기                               ④ 수선하기

8. 다음 설명에 모두 해당하는 생활 자원은?

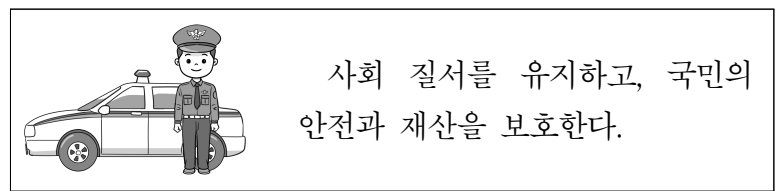
○ 다른 사람에게 빌려줄 수 없다.  
○ 한번 지나가면 되돌릴 수 없다.  
○ 모든 사람에게 매일 똑같이 주어진다.

- ① 옷            ② 시간            ③ 용돈            ④ 음식

9. 다음 중 식물 가꾸기의 도구와 용도를 바르게 연결하지 않은 것은?

- ① 물뿌리개 - 잡초를 뽑는다.
- ② 가위 - 잎이나 줄기를 자른다.
- ③ 모종삽 - 어린 식물을 옮겨 심을 때 사용한다.
- ④ 거름망 - 화분의 흙이 밑으로 빠지는 것을 방지한다.

10. 다음 설명에 해당하는 직업은?



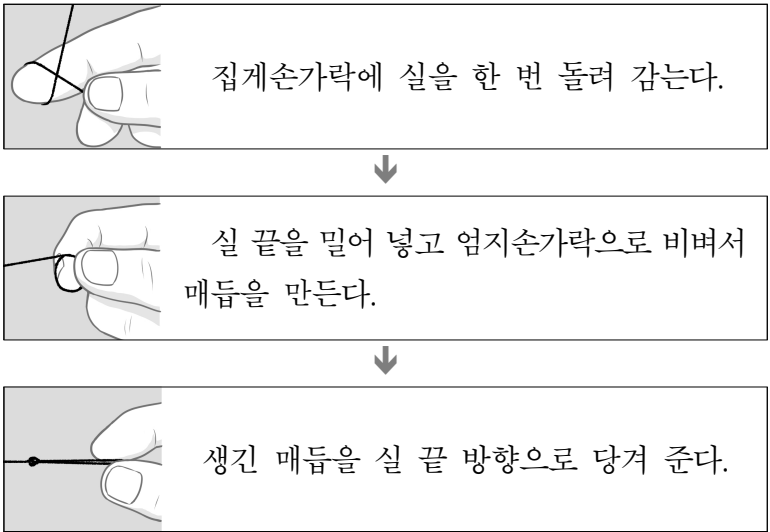
- ① 경찰관    ② 만화가    ③ 연예인    ④ 요리사

11. 다음 설명에 모두 해당하는 것은?

- 혈연, 결혼, 입양 등으로 맺어진 사람들이다.
- 조부모 손자녀 관계, 부모 자녀 관계, 형제자매 관계 등이 있다.

- ① 가족    ② 개인    ③ 이웃    ④ 친구

12. 다음 설명에 해당하는 것은?



- ① 홈질                                  ② 박음질  
③ 시침질                                ④ 시작매듭 짓기

13. 다음 설명에 모두 해당하는 것은?

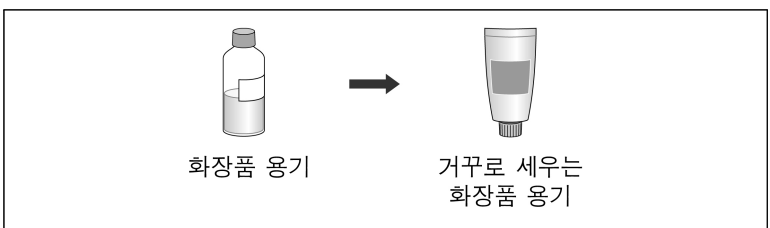
- 밥 위에 채소, 고기, 달걀 등을 얹어 만든 음식이다.
- 지역에 따라 넣어 먹는 음식 종류가 다양하다.

- ① 피자    ② 달걀국    ③ 비빔밥    ④ 자장면

14. 다음 중 식생활과 관련된 일이 아닌 것은?

- ① 요리하기                              ② 상 차리기  
③ 설거지하기                            ④ 옷장 정리하기

15. 다음 설명에 해당하는 발명 기법은?



- ① 빼기 기법                              ② 더하기 기법  
③ 반대로 하기 기법                    ④ 자연물 본뜨기 기법

16. 다음 설명에 모두 해당하는 것은?

- 소프트웨어가 우리 생활에 활용된 사례이다.
- 교통 정보를 확인하여 빠른 길을 안내해 준다.

- ① 접시    ② 젓가락    ③ 청소기    ④ 내비게이션

17. 그림에 해당하는 옷 만들기 과정은?



- ① 구상하기                              ② 치수 재기  
③ 마름질하기                            ④ 바느질하기

18. 다음 중 식품 품질과 관련된 표시가 아닌 것은?

① 유기농 (ORGANIC) 농림축산식품부

② 무항생제 (NON ANTIBIOTIC) 농림축산식품부

③ 종이팩

④ 안전관리인증 HACCP 식품의약품안전처

19. 다음 친환경 농업에 대한 설명에서 ㉠에 공통으로 들어갈 동물은?

- 논에 농약을 뿌리는 대신 ( ㉠ )를 풀어놓아 잡초와 해충을 먹게 할 수 있다.
- ( ㉠ )가 논바닥을 헤집고 다니면 물이 혼탁해져서 잡초들이 자라지 못한다.

- ① 모기    ② 오리    ③ 파리    ④ 호랑이

20. 다음 중 ㉠에 공통으로 들어갈 말은?

- ( ㉠ )은/는 습관적으로 정보 기기나 인터넷을 지나치게 사용하여 일상생활에 지장을 받는 상태이다.
- ( ㉠ )을/를 예방하기 위해서는 컴퓨터나 스마트폰을 꼭 필요한 경우에만 사용한다.

- ① 하드웨어                              ② 제동 장치  
③ 조향 장치                                ④ 사이버 중독