

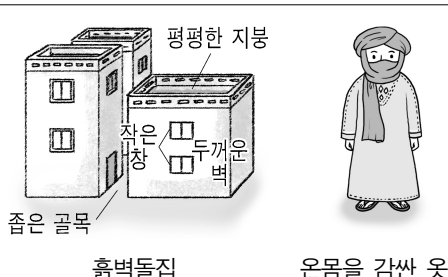
제 4 교시 사회

1. 다음에서 설명하는 인간, 사회, 환경을 바라보는 관점으로 가장 적절한 것은?

- 시대적 배경과 맥락을 토대로 살펴보는 것
- 과거, 현재, 미래의 상호 연관성을 바탕으로 살펴보는 것

- ① 공간적 관점 ② 생태적 관점
 ③ 시간적 관점 ④ 윤리적 관점

2. 다음과 같은 지역의 기후로 가장 적절한 것은?

특징	생활 양식
<ul style="list-style-type: none"> ○ 기온의 일교차가 큼. ○ 강수량이 매우 적음. ○ 햇볕과 모래바람이 강함. ○ 주로 초원과 사막이 분포함. 	

- ① 열대 기후 ② 건조 기후
 ③ 온대 기후 ④ 냉대 기후

3. 다음 사례에 나타난 자연관으로 옳은 것은?

- 황폐화된 숲을 복원하려는 사업
- 자연을 있는 그대로 보전하려는 국립 공원 정책
- 태양열 주택을 만들어 자연과 어울리는 주거 환경 조성

- ① 개인주의 ② 생태 중심주의
 ③ 인간 중심주의 ④ 자원 민족주의

4. 다음 ㉠에 들어갈 내용으로 적절하지 않은 것은?

환경 문제 해결을 위한 노력

- 정부: 다양한 환경 정책 수립
- 기업: ㉠
- 시민 사회: 정부와 기업 활동에 대한 감시

- ① 친환경 기술 개발 ② 오염 정화 시설 운영
 ③ 환경 관련 법률 준수 ④ 화석에너지 사용 확대

5. 산업화·도시화에 따른 변화로 옳은 것을 <보기>에서 고른 것은?

<보기>

- ㄱ. 녹지 면적이 감소하였다.
- ㄴ. 공동체적 가치관이 확산되었다.
- ㄷ. 직업이 다양해지고 전문화되었다.
- ㄹ. 거주 공간이 촌락 중심으로 바뀌었다.

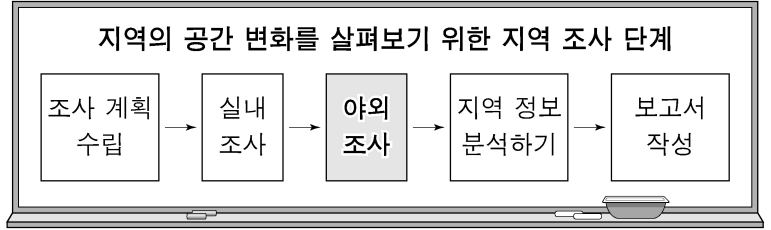
- ① ㄱ, ㄴ ② ㄱ, ㄷ ③ ㄴ, ㄹ ④ ㄷ, ㄹ

6. 다음에서 설명하는 경제 주체는?

- 이윤 극대화를 목적으로 한다.
- 재화와 서비스의 공급자이자, 생산 요소의 수요자이다.

- ① 기업 ② 정부 ③ 소비자 ④ 국제기구

7. 다음 야외조사 단계에 해당하는 활동으로 가장 적절한 것은?



- ① 조사 주제와 지역을 선정한다.
 ② 지역 주민을 직접 만나 설문 조사 및 면담을 실시한다.
 ③ 지리 정보를 목적에 따라 그래프와 통계표로 표현한다.
 ④ 수집한 자료를 종합하여 지역의 발전 방안을 제시한다.

8. 헌법이 보장하는 기본권 중 자유권에 대한 설명으로 옳은 것은?

- ① 국가 권력으로부터 간섭받지 않을 권리이다.
 ② 국가의 의사 결정 과정에 참여할 수 있는 권리이다.
 ③ 침해당한 기본권의 구제를 청구할 수 있는 권리이다.
 ④ 국가에 인간다운 생활의 보장을 요구할 수 있는 권리이다.

9. 청소년의 노동권에 대한 설명으로 옳은 것을 <보기>에서 고른 것은?

<보기>

- ㄱ. 근로 계약서를 작성해야 한다.
- ㄴ. 최저 임금의 적용을 받을 수 없다.
- ㄷ. 위험한 일이나 유해 업종의 일을 할 수 없다.
- ㄹ. 임금은 부모 또는 법정 대리인에게 지급해야만 한다.

- ① ㄱ, ㄴ ② ㄱ, ㄷ ③ ㄴ, ㄹ ④ ㄷ, ㄹ

10. 다음 ㉠에 들어갈 용어는?

인간의 무한한 욕구에 비해 자원이 상대적으로 부족한 상태를 자원의 (㉠)이라고 한다.

- ① 다양성 ② 효율성 ③ 획일성 ④ 희소성

11. 정보화로 인한 생활의 변화로 옳은 것을 <보기>에서 고른 것은?

<보기>

- ㄱ. 가상 공간을 통한 정보 교류의 감소
- ㄴ. 온라인 상점을 통한 물건 구매 증가
- ㄷ. 원격 교육과 전자 행정 서비스의 축소
- ㄹ. 재택근무와 화상 회의를 통한 업무 활성화

- ① ㄱ, ㄴ ② ㄱ, ㄷ ③ ㄴ, ㄹ ④ ㄷ, ㄹ

12. 다음 상황을 배경으로 하여 등장한 경제 체제는?

- 1970년대 석유 파동으로 인한 스태그플레이션 발생
- 20세기 후반 정부의 과도한 시장 개입으로 정부 실패 및 재정 악화 발생

- ① 중상주의 ② 자유방임주의
 ③ 수정 자본주의 ④ 신자유주의

13. 다음 ㉠에 들어갈 용어는?

(㉠)은/는 한 나라가 다른 나라보다 더 적은 기회 비용으로 상품을 생산할 수 있는 능력이다.

- ① 담합 ② 비교 우위 ③ 외부 효과 ④ 인플레이션

14. 다음 중 금융 자산의 일반적인 특징으로 가장 적절한 것은?

- ① 채권은 정부나 공공 기관에서는 발행할 수 없다.
 ② 예금은 원금 손실의 위험성이 가장 높은 상품이다.
 ③ 적금은 자금 조달을 목적으로 회사가 발행하는 증권이다.
 ④ 주식은 투자자가 배당 수익, 시세 차익을 얻을 수 있는 자산이다.

15. 다음 ㉠에 들어갈 내용으로 옳은 것은?

국가가 생활 유지 능력이 없거나 생활이 어려운 국민의 최저 생활을 보장하고 자립을 지원하는 제도인 공공 부조의 종류에는 (㉠)이/가 있다.

- ① 국민연금 ② 고용 보험
 ③ 국민 건강 보험 ④ 국민 기초 생활 보장 제도

16. 다음에서 설명하는 문화권으로 옳은 것은?

- 오스트레일리아, 뉴질랜드, 태평양의 여러 섬을 포함한 지역임.
- 영국 중심의 유럽 문화가 전파된 곳으로 주로 영어를 사용함.
- 지리적으로 다른 대륙들과 떨어져 있으며 인구가 적은 편임.

- ① 북극 문화권 ② 아메리카 문화권
 ③ 아프리카 문화권 ④ 오세아니아 문화권

17. 다음 중 힌두교의 일반적인 특징으로 옳은 것은?

- ① 유일신을 믿는다.
 ② 메카를 성지로 한다.
 ③ 소를 신성시하여 소고기를 먹지 않는다.
 ④ 대표적인 종교 경관으로는 십자가를 세운 예배당이 있다.

18. 다음 ㉠, ㉡에 들어갈 문화 변동의 양상은?

- (㉠)의 사례로는 전통적인 한옥 구조물에 서양의 건축 양식을 결합한 새로운 모습의 성당을 들 수 있다.
- (㉡)의 사례로는 라틴 아메리카 지역 원주민들이 자신들의 언어 대신에 그들을 식민 지배한 에스파냐나 포르투갈의 언어를 사용하는 것을 들 수 있다.

- ㉠ ㉡ ㉠ ㉡
- ① 문화 동화 문화 병존 ② 문화 병존 문화 융합
 ③ 문화 융합 문화 동화 ④ 문화 융합 문화 병존

19. 대화 속 '을'의 입장에 해당하는 문화 이해 태도는?

외국에 갔더니 손으로 음식을 먹더라. 젓가락이나 포크를 쓰지 않다니, 참 비위생적이야.

그 나라에서는 손으로 먹는 것이 오랜 전통이고, 위생적으로 먹을 수 있는 방법도 갖춰져 있어. 그 사회의 맥락과 환경을 고려하여 문화를 이해해야 해.



- ① 문화 상대주의 ② 문화 상대주의
 ③ 문화 제국주의 ④ 자문화 중심주의

20. 다음 중 다문화 사회의 갈등 해결을 위한 노력으로 적절하지 않은 것은?

- ① 소수 문화를 배척한다.
 ② 다문화 교육을 강화한다.
 ③ 법과 제도적 지원을 확대한다.
 ④ 다양한 문화를 이해하고 존중하는 태도를 기른다.

21. 다음 ㉠에 들어갈 용어로 가장 적절한 것은?

브랜드 개발을 통한 (㉠) 전략

- 지역이 가진 특성을 상징물이나 디자인으로 만들어 지역의 이미지 강화
- 지리적 특성을 반영한 상품이 해당 지역에서 생산·가공되었음을 표시하여 우수성 인증

- ① 도시화 ② 산업화 ③ 정보화 ④ 지역화

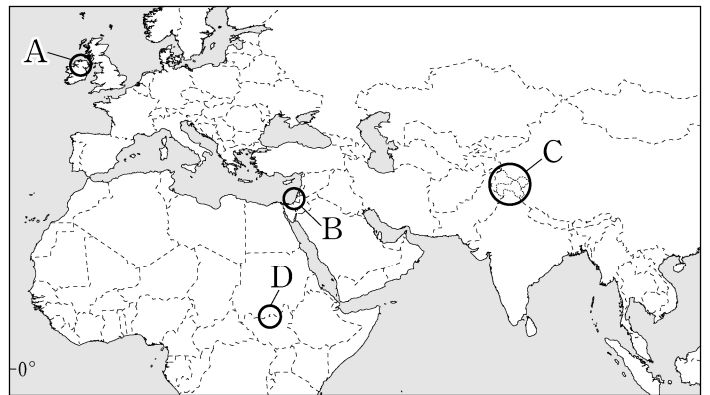
22. 다음에서 설명하는 국제 사회의 행위 주체는?

- 국제 사회를 구성하는 가장 기본적인 행위 주체
- 일정한 영역과 국민을 바탕으로 주권을 가진 집단

- ① 국가 ② 국제 연합
 ③ 다국적 기업 ④ 비정부 기구

23. 다음 설명에 해당하는 분쟁 지역을 지도의 A~D에서 고른 것은?

이스라엘-팔레스타인 지역에서 발생한 종교 및 민족 간 갈등으로, 지금도 분쟁 중이다.



- ① A ② B ③ C ④ D

24. 다음 ㉠에 들어갈 용어로 가장 적절한 것은?

갑국은 사망률이 낮아졌지만 출생률은 여전히 높게 나타나며, 인구가 급격하게 증가하면서 식량 및 자원의 부족과 빈곤의 확산 등 (㉠) 현상이 나타나고 있다.

- ① 고령화 ② 저출산
 ③ 인구 과잉 ④ 초고령 사회

25. 다음에서 설명하는 자원으로 옳은 것은?

- 냉동 액화 기술의 발달과 수송선의 개발로 소비량이 증가함.
- 가정용 및 산업용 연료로 사용되는 비율이 높으며, 다른 화석 연료에 비해 연소 시 대기 오염 물질의 배출량이 적은 편임.

- ① 석유 ② 석탄 ③ 원자력 ④ 천연가스