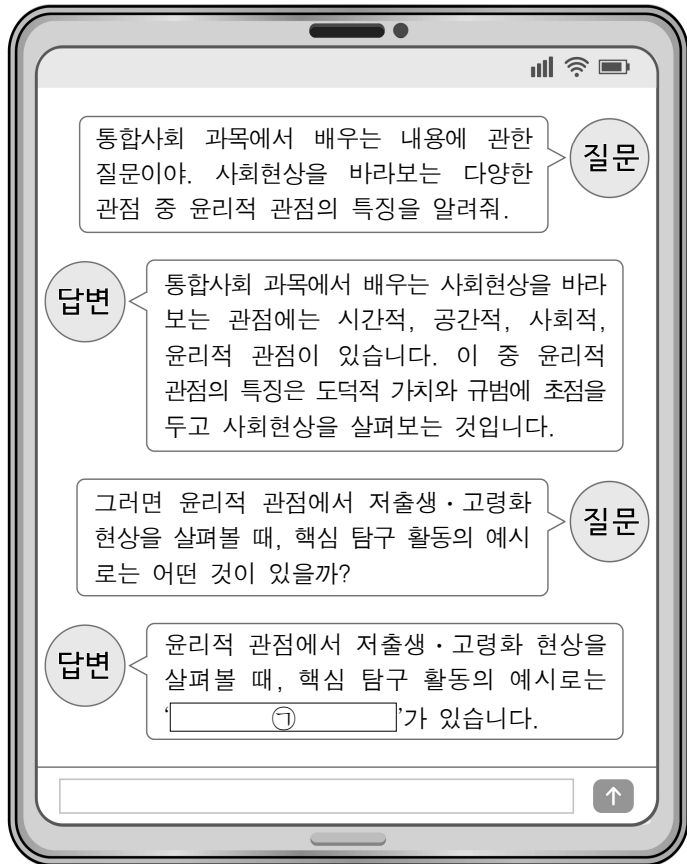


사회탐구 영역 (통합사회)

제 4 교시

1. 다음은 학생의 질문과 이에 대한 생성형 인공 지능의 답변이다. ㉠에 들어갈 내용으로 가장 적절한 것은? (단, 생성형 인공 지능의 답변은 모두 옳은 내용임.) [1.5점]



- ① 시간의 흐름에 따른 출생률의 감소 추이 비교하기
- ② 도시와 농촌 지역 간 고령 인구 비율의 차이 조사하기
- ③ 평균 수명 증가로 인한 노인 복지 제도의 변화 살펴보기
- ④ 아동 돌봄을 지원하는 정책이 출생률에 미치는 영향 분석하기
- ⑤ 고령화 사회의 세대 갈등 해결을 위한 바람직한 태도 탐색하기

2. 다음 글의 ㉠에 들어갈 내용으로 가장 적절한 것은? [1.5점]

조선 시대의 선비들은 학문을 닦고 관직에 나아가 사회에 기여하는 삶을 중시하였다. 그들에게는 사회적 책임을 이행하는 것이 삶의 보람이자 행복이었다. 이는 단순히 개인의 이익을 추구하기보다 공동체적 가치 추구를 중시하던 당시 사회의 가치관이 반영된 것으로 볼 수 있다. 반면에 현대 한국 사회의 대중들 사이에서는 공동체에 대한 헌신에서 오는 보람을 추구하기보다 개인의 일상생활에서 소소하지만 확실한 행복을 찾으려는 모습이 나타나고 있다. 이러한 경향은 공동체적 가치보다 개인의 만족과 일상의 즐거움을 중시하는 오늘날 대중들의 가치 인식과 맞닿아 있다. 이와 같이 과거와 현재의 사례를 종합해 볼 때, 사람들이 행복을 이해하는 방식은 ㉠을 알 수 있다.

- ① 물질적 조건의 충족 여부로 결정됨
- ② 기후와 지형 등 자연환경에 따라 형성됨
- ③ 시대적 상황에 따라 다르게 나타날 수 있음
- ④ 타고난 개인적 성향으로부터 벗어날 수 없음
- ⑤ 우연한 사건이나 일시적인 경험에 의해 좌우됨

3. 갑 사상가의 관점에서 <사례> 속 A에게 제시할 조언으로 가장 적절한 것은? [1.5점]

갑: 아테네의 시민인 그대들은 돈과 명예, 평판을 얻는 일에는 큰 관심을 기울이면서도, 지혜와 진리, 그리고 영혼을 가장 좋은 상태로 만드는 일에는 아무런 관심을 두지 않는다. 만일 누군가가 자신의 삶을 살피지도 검토하지도 않은 채 살아간다면, 그러한 삶은 인간에게 결코 살 만한 가치가 있는 삶이라 할 수 없다.

<사례>

사업에 성공해 막대한 부를 가지게 된 A는 자신의 부를 과시하는 방식으로 매일 밤 호화로운 연회를 열었다. 그러나 시간이 지날수록 A는 이러한 행동으로 자신이 더 외로워지고, 내면의 공허함이 커지는 것 같아 힘들어 하고 있다.

- ① 더 많은 부를 쌓아 내면의 공허함을 해소하는 데 주력하세요.
- ② 진리 탐구보다 사회적 성공과 명예를 추구하는 데 집중하세요.
- ③ 외로움을 달래기 위해 사교 활동에 더 많은 시간을 투자하세요.
- ④ 타인의 비난을 피하고 호평을 얻는 데 유리한 행동을 선택하세요.
- ⑤ 화려한 생활에 치중하기보다 자신의 삶을 지속적으로 성찰하세요.

4. 다음 자료의 (가), (나) 종교에 대한 옳은 설명만을 <보기>에서 고른 것은? (단, (가), (나)는 각각 크리스트교, 힌두교 중 하나임.) [2.5점]

<p>팔레스타인 지역에서 기원한 (가)는 유럽 문화권의 생활 양식과 사회 제도 전반에 큰 영향을 미친 종교이다.</p> <p>신자들의 예배 장소 명칭이나 예배 건물의 모습은 종파별로 다양하게 나타난다.</p>	<p>인도에서 기원한 (나)는 인도 사람들이 가장 많이 믿는 종교이다.</p> <p>신자들은 육체뿐만 아니라 내면을 정화하는 종교적 의식의 일부로서 갠지스강에서 목욕을 하기도 한다.</p>

<보 기>

- ㄱ. (가)의 신자들은 대부분 소를 신성시하여 소고기를 먹지 않는다.
- ㄴ. (나)의 기원지인 인도는 남부 아시아 문화권에 속한다.
- ㄷ. 라틴 아메리카 문화권에서는 (가)가 (나)보다 신자 수가 많다.
- ㄹ. (가), (나)는 모두 다양한 신을 믿는 다신교이다.

- ① ㄱ, ㄴ ② ㄱ, ㄷ ③ ㄴ, ㄷ ④ ㄴ, ㄹ ⑤ ㄷ, ㄹ

5. 다음 자료의 (가) 지형이 발달한 곳을 지도의 A~D에서 고른 것은? [2점]

영화 속 지형: (가)

영화 '겨울'에서 (가)은/는 주인공의 왕국이 자리 잡은 곳으로, 이곳에 있는 가파른 절벽은 왕국을 외부로부터 보호하는 천연 요새의 역할을 한다.

또한, 영화 '반지'의 △△에서 (가)은/는 주인공 일행이 절벽 사이를 지나는 장면들의 배경이 된 곳으로, 해수면에서 수직으로 솟구친 절벽과 안개에 싸인 폭포는 주인공 일행이 겪는 고난과 함께 자연에 대한 경외심을 시각화하는 역할을 한다.

(가)은/는 빙하의 침식으로 형성된 골짜기(U자곡)가 해수면 상승으로 침수되어 생긴 좁고 긴 만으로, 폭포를 보며 아름다운 경관을 즐기는 크루즈 관광으로 관심이 높아지고 있다.



- ① A, B ② A, C ③ B, C ④ B, D ⑤ C, D

6. 다음 글의 ㉠에 들어갈 내용으로 가장 적절한 것은? [1.5점]

갑국은 항구 발달에 유리한 천혜의 자연환경을 바탕으로 국제적인 무역 중심지로 성장하였다. 국민 소득 또한 주변국에 비해 월등히 높은 수준을 유지하며 국민들은 경제적으로 안정된 생활을 해 왔다. 그러나 최근 정권 교체 이후 정치 제도의 변화로 선거 참여가 제한되고 자유로운 정치적 의사 표현이 억압되는 등 국민들의 정치적 권리가 침해되었다. 이러한 정치적 불안으로 인해 높은 소득 수준에도 불구하고 삶의 질이 떨어지자 국민들의 불만이 날로 커지고 있다. 이에 갑국의 국민들은 정부에 ㉠을/를 요구하고 있다.

- ① 민주적인 정치 참여 보장
- ② 경제 성장을 위한 지원 확대
- ③ 구성원 간 경제적 불평등 해소
- ④ 선거권 행사를 위한 자격 요건 강화
- ⑤ 쾌적한 자연환경 조성을 통한 정주 환경 개선

7. A~C에 대한 옳은 설명만을 <보기>에서 고른 것은? (단, A~C는 각각 정부, 시민사회, 기업 중 하나임.) [2점]

오늘날 환경 문제를 해결하기 위해 다양한 주체가 노력하고 있다. A는 탄소 중립을 국가 전략으로 수립하고 환경 오염 물질 배출 규제 등 구체적인 제도를 마련하여 시행하고 있다. B는 친환경, 사회적 책임, 투명한 지배 구조로 지속 가능한 발전을 추구하는 경영 방식을 채택하고 있다. C는 세계 자연 기금(WWF)이나 그린피스(Green Peace)와 같은 국제적인 민간 환경 단체들을 통해 환경 문제에 대응하고 있다.

- <보 기>
- ㄱ. A는 다양한 국제 협약의 주체로서 국제 사회와 협력할 수 있다.
 - ㄴ. B는 환경 관련 법을 제정하며 법적 제재를 가할 수 있다.
 - ㄷ. C는 A의 활동이 환경에 부정적인 영향을 미치지 않도록 감시할 수 있다.
 - ㄹ. B와 달리 C는 친환경 제품을 개발하여 생산함으로써 탄소 배출을 줄이고자 노력한다.

- ① ㄱ, ㄴ ② ㄱ, ㄷ ③ ㄴ, ㄷ ④ ㄴ, ㄹ ⑤ ㄷ, ㄹ

8. 다음 자료에 대한 옳은 설명만을 <보기>에서 있는 대로 고른 것은? [2.5점]

유네스코 세계 자연 유산 사례로 본 지형 비교 보고서

지형	A	B
특성	<ul style="list-style-type: none"> • 빗물이나 지하수에 의한 석회암의 용식 작용으로 생긴 동굴 • 습윤한 기후 환경에서 잘 발달함 	<ul style="list-style-type: none"> • 밀물 때는 바닷물에 잠기고 썰물 때는 드러나는 넓고 평평한 땅 • 오염 물질을 정화하는 기능을 함
활용	<p>독특한 경관 관광 (예: 수직 동굴 하이킹)</p>	<p>생태 관광 (예: 바다표범 관찰·갈대밭 투어)</p>
사 례	명칭	플리트비체 호수 국립공원
	국가	크로아티아
	등재 연도	1979년
	선정 기준*	I, II, III에 해당함
		바덴해
		네덜란드, 덴마크, 독일
		2009년
		㉠ II, III, IV에 해당함

* 선정 기준(4가지)
 I. 탁월한 자연미와 독특한 경관 II. 지질학적·지형학적 가치
 III. 생태학적·생물학적 가치 IV. 생물의 다양성 보존과 멸종 위기종의 서식지

- <보 기>
- ㄱ. A는 주로 화산 활동이 활발한 지역에 분포한다.
 - ㄴ. A의 내부에서는 종유석, 석순 등을 볼 수 있다.
 - ㄷ. B는 주로 조류에 의한 퇴적 작용으로 형성된다.
 - ㄹ. ㉠을 통해, B는 다양한 생물들이 서식하는 생태계의 보고로서 가치가 높음을 알 수 있다.

- ① ㄱ, ㄴ ② ㄱ, ㄷ ③ ㄴ, ㄹ
- ④ ㄱ, ㄷ, ㄹ ⑤ ㄴ, ㄷ, ㄹ

9. 다음 사례에 나타난 문화 변동에 대한 설명으로 옳은 것은? [2.5점]

갑국 국민들은 콩을 발효시켜 만든 독특한 양념인 A를 세계 최초로 만들어 먹기 시작했다. 갑국과의 교역을 통해 A를 접한 을국 국민들은 자국에서만 재배되는 작물에 A의 제조 방식을 적용하여 새로운 양념인 B를 만들었다. 이후 을국에서는 A와 B가 대표적인 주요 양념으로 자리 잡아 다양한 요리에 활용되고 있다. 한편 최근 발효 식품의 유행이 알려지면서 병국에서는 전통 양념과 함께 A와 B도 많이 사용하고 있다.

- ① 갑국에서는 문화의 외재적 변동이 나타났다.
- ② 을국에서는 강제적 문화 접변이 나타났다.
- ③ 을국과 달리 갑국에서는 문화 융합이 나타났다.
- ④ 을국, 병국에서는 모두 자기 문화의 정체성이 상실되었다.
- ⑤ 갑국, 을국, 병국에서는 모두 문화의 다양성이 증가하였다.

10. A에 대한 강연자의 입장으로 가장 적절한 것은? [1.5점]

A는 여성의 발을 어릴 때부터 인위적으로 묶어 성장을 멈추게 한, 갑국의 옛 풍습입니다. 이는 개인의 자발적인 선택이 사실상 불가능했던 사회 구조 속에서 여성에게 극심한 신체적 고통과 평생 지속되는 장애를 초래하였습니다. A는 갑국의 왜곡된 여성관에서 비롯된 대표적인 악습으로, 여성을 독립된 인격체로 존중했다면 이를 강요하지 않았을 것입니다.



- ① 문화의 다양성 보존에 기여한다.
- ② 사회의 질서 유지를 위해 필요하다.
- ③ 도덕적 평가의 대상이 되어서는 안 된다.
- ④ 인간 존엄성이라는 인류의 보편적 가치를 훼손한다.
- ⑤ 사회적 맥락 속에서 형성된 것이므로 존중되어야 한다.

11. 다음 글의 ㉠에 들어갈 적절한 내용만을 <보기>에서 고른 것은? [1.5점]

코끼리를 모르는 사람에게 눈을 가린 후 코끼리를 만지고, 그 생김새에 대해 말하게 하는 상황을 생각해 보자. 아마 코를 만진 사람은 “구부러진 막대 같아.”라고 하고, 다리를 만진 사람은 “나무 같아.”라고 하는 등 코끼리의 일부만을 만지고서 그것이 코끼리의 전부인 양 판단할 것이다. 이는 오늘날의 다양하고 복잡한 사회현상을 파악하는 데에도 중요한 시사점을 준다. 우리가 인간과 사회 그리고 환경을 올바르게 이해하기 위해서는 ㉠가 필요하다.

<보 기>

- ㄱ. 다양한 관점을 통합적으로 고려하여 주의 깊게 살펴보는 자세
- ㄴ. 개별 학문의 경계를 넘어 여러 학문을 종합적으로 탐구하는 자세
- ㄷ. 개인의 선택과 책임을 중심으로 문제의 원인을 설명하는 자세
- ㄹ. 전체가 아닌 부분적인 특징에만 주목하여 문제를 파악하는 자세

- ① ㄱ, ㄴ ② ㄱ, ㄷ ③ ㄴ, ㄷ ④ ㄴ, ㄹ ⑤ ㄷ, ㄹ

12. 다음은 다큐멘터리 대본의 일부이다. (가) ~ (다) 지역을 지도의 A ~ C에서 고른 것은? [2점]

제목 : 기후에 적응한 인간의 삶

(가) 지역 계절풍의 영향으로 여름철에 덥고 비가 많이 내려 벼농사에 유리합니다. 주민들은 쌀국수, 볶음밥 등 쌀을 이용한 음식을 즐겨 먹습니다.

(나) 지역 연중 기온이 매우 낮아 농업에 불리합니다. 주민들은 얼음낚시나 순록 썰매 체험 등의 여행 상품을 제공하는 관광업에 종사하기도 합니다.

(다) 지역 비슷한 위도의 덥고 습한 지역들보다 해발고도가 높아, 연중 월평균 기온이 15°C 정도로 나타납니다. 이로 인해 주민들은 고산 도시를 중심으로 모여 살아갑니다.



- | | | | | | | | |
|---|-----|-----|-----|---|-----|-----|-----|
| | (가) | (나) | (다) | | (가) | (나) | (다) |
| ① | A | B | C | ② | A | C | B |
| ③ | B | A | C | ④ | B | C | A |
| ⑤ | C | B | A | | | | |

13. 다음은 자연재해 (가) ~ (다)에 관한 고문헌의 기록이다. 이에 대한 옳은 설명만을 <보기>에서 있는 대로 고른 것은? (단, (가) ~ (다)는 각각 가뭄, 지진, 폭설 중 하나임.) [2점]

(가)	(나)	(다)
함경도 이남에 큰 눈이 내려 길이 통하지 않았다. 강원도에 큰 눈이 내려 놀러 죽은 자가 있었다. - 『효종실록』 -	이제 또 크게 가뭄어 땅이 갈라지고, 샘이 거의 말라 곡식이 타는 듯하고, 농부는 호미를 버리니 ... - 『성종실록』 -	지상의 물건 중 흔들리지 않은 것이 없었다. ... (중략) ... 진동하는 힘이 시간이 갈수록 더욱 대단하였다. - 『선조실록』 -

<보 기>

- ㄱ. (가)는 빙판길 교통 혼잡과 농업 시설물 붕괴를 유발할 수 있다.
- ㄴ. (나)는 열대 저기압에 의해 발생한다.
- ㄷ. (다)는 지각판의 경계에서 주로 발생한다.
- ㄹ. (가)와 (다)는 기후적 요인, (나)는 지형적 요인에 의한 자연재해이다.

- ① ㄱ, ㄴ ② ㄱ, ㄷ ③ ㄴ, ㄹ
- ④ ㄱ, ㄷ, ㄹ ⑤ ㄴ, ㄷ, ㄹ

14. 다음 신문 칼럼의 밑줄 친 값, 을의 입장에 대한 적절한 설명만을 <보기>에서 있는 대로 고른 것은? [1.5점]

00신문 0000년 00월 00일

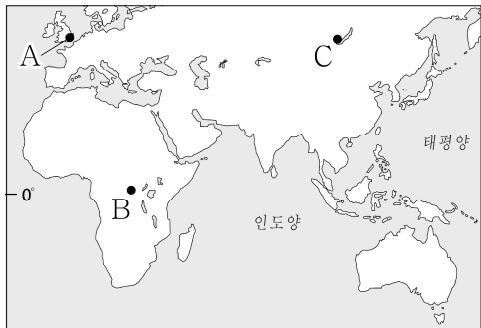
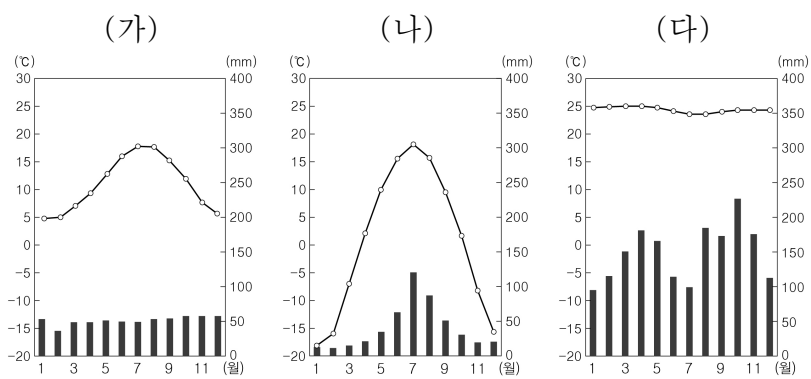
칼럼

기본적인 의식주를 해결하지 못하면 삶의 질이 떨어지기 때문에 인간은 행복감을 느끼기 어렵다. 고대 동양 사상이 값은 “일반 백성은 고정적인 생업[恒産]이 없으면 흔들림 없는 도덕적인 마음[恒心]도 없어진다.”라고 말하였다. 이는 인간다운 삶을 위해 경제적 안정이 필요하다는 뜻이다. 그러나 경제적 안정만으로 행복한 삶이 완성된다고 볼 수 없다. 현대 경제학자 을은 단기적으로는 소득과 행복이 같은 방향으로 상승하거나 하락하는 관계를 보이지만 장기적으로는 그렇지 않다고 보았다. 왜냐하면 행복에 영향을 미치는 요소는 경제 상황뿐 아니라 남들과의 비교, 건강, 가정생활 등 다양하기 때문이다. 그러므로 행복한 삶을 위해서는 기본적인 욕구의 충족은 물론 사회·문화적 욕구의 충족 등을 통해 삶의 질을 유지할 수 있어야 한다.

- <보 기>
- ㄱ. 값은 일반 백성의 도덕성 유지를 위해 생계의 안정이 필요하다고 본다.
 - ㄴ. 을은 비경제적 요인이 행복한 삶에 영향을 줄 수 없다고 본다.
 - ㄷ. 을은 소득 증대에 정비례하여 행복감도 계속 증가한다고 본다.
 - ㄹ. 값, 을은 모두 기본적인 욕구의 충족이 행복한 삶의 실현에 기여할 수 있다고 본다.

- ① ㄱ, ㄴ ② ㄱ, ㄷ ③ ㄴ, ㄷ
- ④ ㄱ, ㄷ, ㄹ ⑤ ㄴ, ㄷ, ㄹ

15. 그래프는 (가)~(다) 지역의 월평균 기온과 월 강수량을 나타낸 것이다. 이에 대한 설명으로 옳은 것은? (단, (가)~(다)는 각각 지도의 A~C 중 하나임.) [2.5점]



- ① (나)에서는 이동식 화전 농업을 통해 양, 카사바 등을 재배한다.
- ② (다)에는 주로 침엽수림이 분포한다.
- ③ (가)는 (다)보다 편서풍의 영향을 많이 받는다.
- ④ A는 C보다 6~8월의 강수 집중률이 높다.
- ⑤ B는 A보다 기온의 연교차가 크다.

16. 다음 자료에 대한 적절한 설명만을 <보기>에서 있는 대로 고른 것은? [2점]

- □(가)은/는 인간의 무분별한 자연 개발과 화석 연료 사용 등으로 온실가스가 증가하면서 지구의 평균 기온이 높아지는 현상이다. 이러한 현상의 영향으로 극지방의 빙하가 녹아 해수면이 상승하면서 해안의 저지대나 섬 지역의 침수 위험이 증가하고 있다. 또한 열대성 질병과 관련된 피해가 늘어나는 등 지구 생태계가 생존을 위협받고 있다.
- 동양에서는 전통적으로 인간과 자연을 유기적으로 연결되어 있는 공존의 관계로 보았다. 불교의 ㉠연기설(緣起說)에서는 “이것이 있기 때문에 저것이 있고, 이것이 생기기 때문에 저것이 생긴다. 이것이 없기 때문에 저것이 없고, 이것이 사라지기 때문에 저것이 사라진다.”라는 말로 만물의 인과 관계와 상호 의존성을 강조하였다.

- <보 기>
- ㄱ. (가)가 지속되면 이상 기후 현상으로 인한 자연재해의 발생 빈도가 증가할 수 있다.
 - ㄴ. (가)로 인한 기온 상승의 영향으로 우리나라에서 봄꽃의 개화 시기가 빨라질 수 있다.
 - ㄷ. ㉠에 따르면 어떠한 원인 없이도 만물이 존재할 수 있다.
 - ㄹ. 만물의 상호 의존성을 강조하는 ㉠은 (가)의 해결을 위한 실천적 방안 모색에 시사점을 줄 수 있다.


- ① ㄱ, ㄴ ② ㄱ, ㄷ ③ ㄷ, ㄹ
- ④ ㄱ, ㄴ, ㄹ ⑤ ㄴ, ㄷ, ㄹ

17. 다음 자료의 A, B에 대한 설명으로 옳은 것은? (단, A, B는 각각 자문화 중심주의, 문화 상대주의 중 하나임.) [2점]

구분	사례
A	아메리카 대륙으로 넘어온 정복자들은 원주민들을 열등한 민족으로 바라보며 자신들의 종교와 생활 방식을 가르치고 강요하였다.
B	청소년들 사이에서 우리말보다 외국어를 사용하는 것이 더 세련되어 보인다는 인식이 확산되면서 우리말로 쓸 수 있는 단어나 문장조차도 외국어로 표현하는 사례가 늘어나고 있다.

- ① A는 선진 문물을 수용하는 데 적극적이다.
- ② B는 다른 문화를 숭상하여 자기 문화를 낮게 평가한다.
- ③ A와 달리 B는 다른 문화와 마찰을 일으킬 수 있다는 비판을 받는다.
- ④ B와 달리 A는 절대적 기준에 따라 문화의 우열을 가린다는 비판을 받는다.
- ⑤ A, B는 모두 다른 사회의 문화를 편견이나 선입견 없이 이해한다.

18. 다음은 행복의 의미를 탐구하기 위한 학습 카드이다. 갑 사상가의 입장으로 옳은 것은? [2점]




<앞면>

- 사상가: 갑
- 시대: 헬레니즘
- 핵심 주장
 - 쾌락은 행복한 삶의 시작이자 끝이다.
 - 진정한 쾌락은 방탕한 자들의 쾌락이 아니라, 몸에 고통이 없고 마음에 불안이 없는 상태이다.

- ① 욕구의 절제를 통해 고통이 사라지면 행복할 수 있다.
- ② 유일신의 은총을 받아야만 완전한 행복을 누릴 수 있다.
- ③ 이성만을 최고의 선으로 삼아야 참된 행복에 이를 수 있다.
- ④ 감각적 쾌락을 적극적으로 추구해야만 행복이 실현될 수 있다.
- ⑤ 모든 감정을 제거하고 검소하게 살 때 행복에 도달할 수 있다.

19. 다음 자료의 (가), (나) 지역에 대한 옳은 설명만을 <보기>에서 고른 것은? (단, (가), (나)는 각각 지도에 표시된 두 지역 중 하나임.) [2.5점]

- (가)에서는 여름 기후를 이용한 수목 농업이 활발하게 이루어지며, 이곳에서 재배한 포도를 가공하여 와인을 생산한다. 넓은 포도밭과 고유 품종, 독자적인 제조 기법을 보유하고 있는 이 지역의 와인은 풍미가 깊어 세계적으로 명성이 높다.
- (나)에서는 주로 오아시스 농업을 통해 대추야자를 재배해 왔으며, 최근 대규모 관개 농업으로 생산량이 크게 증가하였다. 이 지역의 대추야자는 유기농 재배법의 도입과 함께 고급 간식으로 큰 인기를 끌고 있다.



<보 기>


- ㄱ. (가)는 겨울 강수량보다 여름 강수량이 많다.
- ㄴ. (나)는 연 강수량보다 연 증발량이 많다.
- ㄷ. (나)는 (가)보다 적도와의 최단 거리가 가깝다.
- ㄹ. (가), (나)는 모두 온대 기후 지역에 속한다.

- ① ㄱ, ㄴ ② ㄱ, ㄷ ③ ㄴ, ㄷ ④ ㄴ, ㄹ ⑤ ㄷ, ㄹ

20. 다음은 통합사회 수업의 한 장면이다. 교사의 질문에 옳은 답변을 한 학생만을 있는 대로 고른 것은? [2점]


자료는 지난 시간에 학습한 인간, 사회, 환경을 바라보는 4가지 관점 중 A 관점으로 사회현상을 분석한 사례입니다. A 관점에 대하여 설명해 볼까요?

최근 산업재해에 대한 국민적 우려가 커지면서, 정부는 산업 현장의 안전을 강화하기 위한 다양한 정책을 추진하고 있다. 「중대재해처벌법」 시행과 「산업안전보건법」 개정을 통해 사업주와 경영책임자의 역할을 명확히 하고, 중소기업에 대한 지원 확대와 위험성 평가 의무화, 건설 현장 특별 점검 등 예방 중심의 관리 방안을 도입하였다.




갑

사회 구조가 사회 구성원에 미치는 영향을 파악할 수 있는 관점입니다.



을

서로 다른 공간 사이에서 일어나는 상호작용에 중점을 두고 바라보는 관점입니다.



병

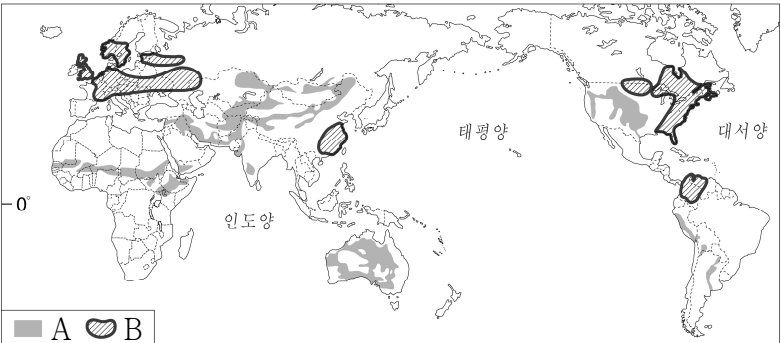
사회문제와 관련된 제도의 개선 방안을 제안할 수 있는 관점입니다.

- ① 갑 ② 을 ③ 갑, 병 ④ 을, 병 ⑤ 갑, 을, 병

21. 다음 자료에 대한 옳은 설명만을 <보기>에서 고른 것은? (단, A, B는 각각 사막화, 산성비 중 하나임.) [2점]

A, B 환경 문제와 해결을 위한 노력

◎ 발생 및 피해 지역



◎ 문제 해결을 위한 협력 사례

- 아프리카 연합의 ㉠그레이트 그린 월(Great Green Wall) 프로젝트
 - : 2007년부터 2030년까지 사헬 지대를 중심으로 숲을 조성하여 황폐화된 1억 헥타르의 토지를 복원하는 것을 목표로 한다.
- 동아시아의 ㉡산성 강수 모니터링 네트워크
 - : 강수의 산성 물질 농도를 추적·관찰하여 대기 질 정보를 공유하고 이를 기반으로 각국의 정책 수립에 활용하고 있다.

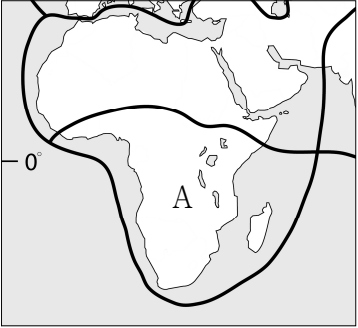
<보 기>

- ㄱ. A는 연중 고온 다습한 지역에서 주로 나타난다.
- ㄴ. B는 주로 공장 매연 등의 대기 오염 물질로 인해 발생한다.
- ㄷ. B를 해결하기 위해 사막화 방지 협약이 체결되었다.
- ㄹ. ㉠은 A, ㉡은 B를 해결하기 위한 노력이다.

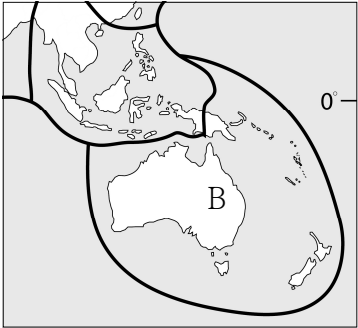
- ① ㄱ, ㄴ ② ㄱ, ㄷ ③ ㄴ, ㄷ ④ ㄴ, ㄹ ⑤ ㄷ, ㄹ

22. 다음은 학생이 작성한 문화권 탐구 보고서의 일부이다. A, B 문화권에 대한 설명으로 옳은 것은? [2.5점]

숨겨진 잠재력, A와 B 문화권의 미래를 주목하라



원주민·부족 중심의 공동체 생활이 이루어지는 곳이 많아 언어와 문화가 매우 다양하다. 민족, 종교, 국경을 둘러싼 분쟁으로 지역 발전에 어려움이 있으나, 풍부한 화석 에너지와 광물 자원을 바탕으로 뛰어난 성장 가능성을 지니고 있다.



지리적으로 다른 대륙들과 떨어져 있어 훼손되지 않은 고유의 생태계가 유지되고 있다. 원주민의 전통문화 보존에 어려움을 겪고 있으나, 청정한 자연환경은 물론 독특한 원주민 문화를 내세워 그 발전 가능성을 인정받고 있다.

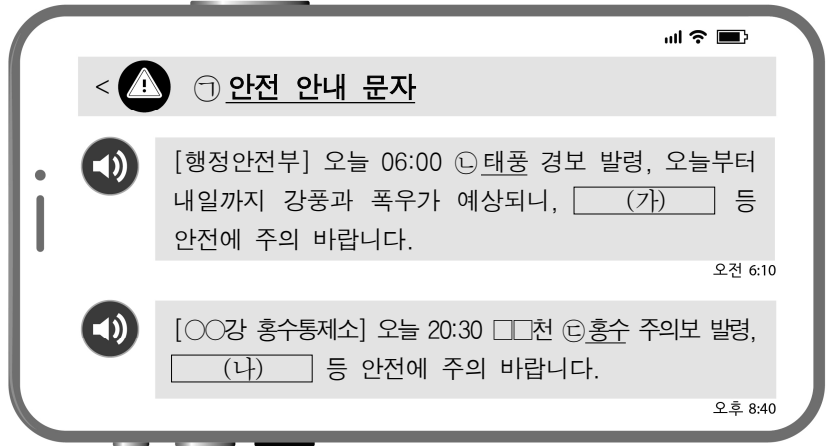
- ① A에서는 주로 불교를 믿는다.
- ② A의 원주민으로는 애버리지니와 마오리족이 있다.
- ③ B는 18세기 산업 혁명의 발상지이다.
- ④ B에서는 과거 식민 지배의 영향으로 주로 영어를 사용한다.
- ⑤ A는 오세아니아 문화권, B는 아프리카 문화권이다.

23. 다음 자료는 서술형 평가의 학생 답안에 대한 교사의 채점 결과이다. 이에 대한 설명으로 옳은 것은? [2.5점]

통합사회 서술형 평가		
○ 문화 변동 요인의 사례를 서술하시오.		
(○: 맞음, ×: 틀림)		
변동 요인	답안	채점 결과
A	조선 세종 대에 훈민정음을 창제한 것	○
발견	㉠	○
B	고려 말 문익점이 원나라에 가서 목화씨를 가져온 것	○
간접 전파	㉡	×
자극 전파	㉢	○

- ① A는 이미 존재하지만 알려지지 않은 문화 요소를 찾아내는 것이다.
- ② B는 매개체를 통해 문화 요소가 전파되는 것이다.
- ③ ㉠에는 '바퀴의 원리를 이용하여 수레를 만든 것'이 들어갈 수 있다.
- ④ ㉡에는 'K-POP이 온라인 동영상 플랫폼을 통해 해외로 널리 알려진 것'이 들어갈 수 있다.
- ⑤ ㉢에는 '체로키족이 알파벳에서 아이디어를 얻어 독자적으로 체로키 문자를 만든 것'이 들어갈 수 있다.

24. 다음 자료에 대한 설명으로 옳지 않은 것은? [1.5점]



- ① ㉠은 자연재해에 대한 정보를 신속하게 전달하는 기능을 한다.
- ② 국가는 ㉠을 통해 시민이 안전하고 쾌적한 환경에서 살 권리를 보장하고자 노력한다.
- ③ ㉡으로 인해 피해를 입은 시민은 정부에 보상과 복구를 요청할 수 있다.
- ④ 인간과 자연이 공존하는 생태도시 구축은 ㉡으로 인한 피해를 줄이는 데 도움을 줄 수 있다.
- ⑤ (가)와 달리 (나)에는 '야외활동 자제'와 같은 행동 요령이 들어갈 수 있다.

25. 갑 사상가는 부정, 을 사상가는 긍정의 대답을 할 질문으로 가장 적절한 것은? [2.5점]

갑: 인간의 지식이 곧 인간의 힘이다. 인간의 지식은 인간이 자연을 의도에 맞게 변형하여 자연에 대한 지배력을 강화하는 데 유용하다. 인간은 자연의 질서에 대해 관찰하고 고찰한 것만큼만 무엇인가를 할 수 있다.

을: 대지 윤리는 인류의 역할을 대지 공동체의 정복자에서 그것의 평범한 구성원이자 시민으로 변화시킨다. 대지 윤리는 인류의 동료 구성원에 대한 존중, 그리고 공동체 자체에 대한 존중을 필연적으로 수반한다.

- ① 인간을 자연으로부터 독립된 개별적 실체로 보아야 하는가?
- ② 인간은 윤리적 의무와 책임을 지닌 존재를 존중해야 하는가?
- ③ 인간을 본질적으로 동식물보다 우월한 존재로 보아야 하는가?
- ④ 인간은 생태계 자체를 도덕적 고려의 대상으로 삼아야 하는가?
- ⑤ 인간은 자연이 지닌 내재적 가치를 토대로 자연을 정복해야 하는가?

* 확인 사항

○ 답안지의 해당란에 필요한 내용을 정확히 기입(표기)했는지 확인하시오.