

# 사회탐구 영역(세계지리)

제 4 교시

성명

수험 번호 2

제 [ ] 선택

1

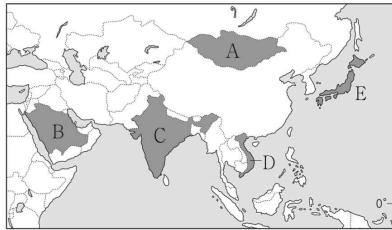
1. 다음은 세계지리 학습 블로그 화면의 일부이다. (가) 국가를 지도의 A~E에서 고른 것은?

블로그 | 한국지리 | 세계지리 | 여행지리 | 답사 자료

(가)의 주민 생활 2019.00.00

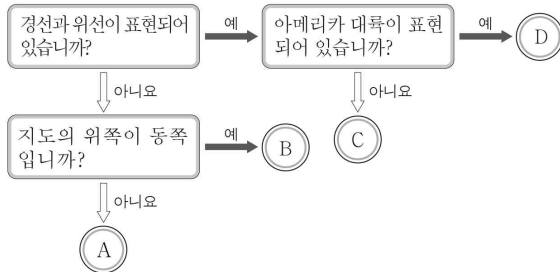
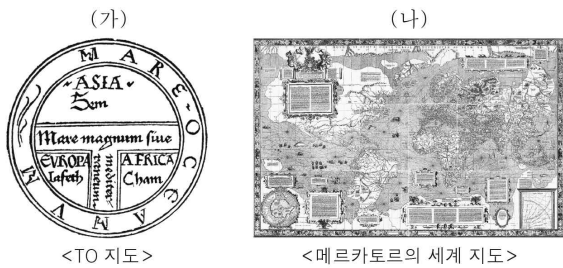
- 한낮의 뜨거운 햇빛과 자주 내리는 비를 막기 위해 '농'이라고 불리는 전통 모자를 씀.
- 여성들은 기온이 높은 환경의 영향으로 얇은 비단으로 만든 전통 의상인 '아오자이'를 입음.

- 소나 닭의 뼈로 우려낸 육수에 쌀로 만든 국수를 넣고 고기와 고수 등을 첨가한 '퍼'를 즐겨 먹음.
- '퍼'의 주재료인 쌀은 높은 기온과 풍부한 강수량을 이용해 일 년에 두세 번 생산됨.



- ① A
- ② B
- ③ C
- ④ D
- ⑤ E

2. (가), (나) 지도의 특징을 그림의 A~D에서 고른 것은?



- |   |     |     |   |     |     |   |     |     |
|---|-----|-----|---|-----|-----|---|-----|-----|
|   | (가) | (나) |   | (가) | (나) |   | (가) | (나) |
| ① | A   | B   | ② | A   | C   | ③ | B   | C   |
| ④ | B   | D   | ⑤ | C   | D   |   |     |     |

3. 다음 자료의 (가) 기후 지역에 대한 설명으로 옳은 것은? [3점]

<투르크메니스탄의 국기>

<다양한 문양의 양탄자>

투르크메니스탄은 기온의 일교차가 크고, 연 강수량이 500mm 미만인 (가) 기후 지역이 대부분이다. 이 지역 사람들은 흙먼지가 바람에 날리는 것을 줄이고, 기온이 낮아지는 밤에 보온을 위해 양탄자를 널리 사용한다. 이러한 생활 모습이 반영되어 투르크메니스탄의 국기에는 양탄자 문양이 표현되어 있다.

- ① 상륙 활엽수가 넓게 분포한다.
- ② 최난월 평균 기온이 0℃ 미만이다.
- ③ 연중 적도 수렴대의 영향을 강하게 받는다.
- ④ 여름철에 낮이 길게 지속되는 백야 현상이 나타난다.
- ⑤ 화학적 풍화 작용보다 물리적 풍화 작용이 활발하다.

세계지리

4. 다음은 세계화와 지역화 단원에 대한 수행 평가 보고서의 일부이다. (가)에 들어갈 내용으로 가장 적절한 것은?

수행 평가 보고서 2학년 □반 이름: □□□

○ 주제: (가)의 사례 탐구

○ 내용

△△ 스마트폰은 본사가 있는 미국에서 핵심 기술 개발과 디자인이 이루어진다. 하지만 이를 구성하는 부품은 세계 30여 개 국가로부터 공급 받아 중국에서 조립된 후 하나의 스마트폰으로 완성된다. 이렇게 완성된 스마트폰은 미국으로 운반되어 전 세계로 유통된다.

<△△ 스마트폰 부품 생산 업체의 국가별 분포>

중국	349	일본	139	미국	60	타이완	42
대한민국	32	말레이시아	29	필리핀	24	타이	21
싱가포르	17	독일	13	베트남	11	그 외 국가들	52

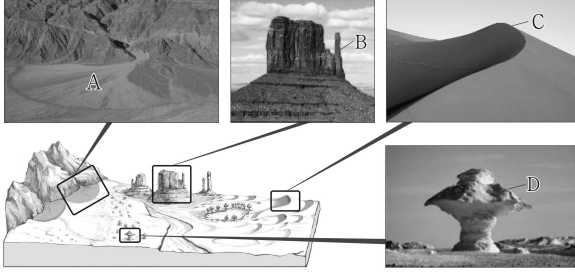
\* 숫자는 생산 업체수 (2014)

- ① 경제 블록
- ② 국제적 분업
- ③ 장소 마케팅
- ④ 지역 브랜드화
- ⑤ 지리적 표시제

## 2 (세계지리)

## 사회탐구 영역

5. 다음 자료는 건조 지형의 모식도와 사진을 나타낸 것이다. A~D 지형에 대한 옳은 설명만을 <보기>에서 고른 것은? [3점]

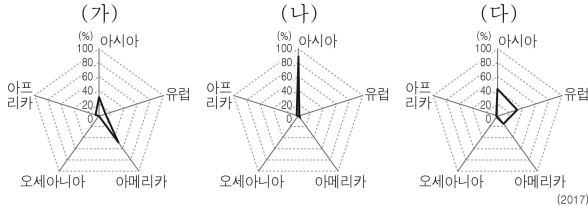


<보기>

- ㄱ. A는 급경사의 산지와 평지가 만나는 곳에 주로 발달한다.
- ㄴ. B는 시간이 지날수록 점차 크기가 커진다.
- ㄷ. C는 주로 바람에 날린 모래가 퇴적되어 형성된다.
- ㄹ. D가 연속적으로 이어진 지형을 바하다라고 한다.

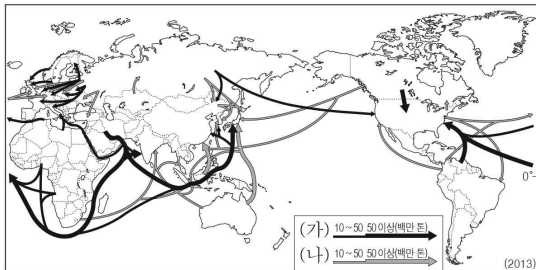
- ① ㄱ, ㄴ    ② ㄱ, ㄷ    ③ ㄴ, ㄷ    ④ ㄴ, ㄹ    ⑤ ㄷ, ㄹ

6. 그래프는 세계 주요 식량 작물의 대륙별 생산 비중을 나타낸 것이다. (가)~(다) 작물에 대한 설명으로 옳은 것은? (단, (가)~(다)는 밀, 쌀, 옥수수 중 하나임.)



- ① (가)의 기원지는 아시아에 위치한다.
- ② (가)는 (나)보다 가축의 사료로 이용되는 비중이 높다.
- ③ (나)는 (다)보다 내한성 및 내건성이 강하다.
- ④ (다)는 (나)보다 단위 면적당 생산량이 많다.
- ⑤ (다)는 (나)보다 국제 이동량이 적다.

7. 지도는 두 화석 에너지 자원의 이동을 나타낸 것이다. (가), (나) 자원에 대한 설명으로 옳은 것은? (단, (가), (나)는 석유, 석탄 중 하나임.)



- ① (가)는 냉동 액화 기술의 발달로 사용량이 급증하였다.
- ② (나)는 주로 신생대 제3기층 배사 구조에 매장되어 있다.
- ③ (가)는 (나)보다 수송용으로 소비되는 비율이 낮다.
- ④ (나)는 (가)보다 상용화된 시기가 이른다.
- ⑤ (나)는 (가)보다 세계 1차 에너지 소비 구조에서 차지하는 비율이 높다.

8. 다음은 세계지리 수업 장면이다. 교사의 질문에 옳게 대답한 학생만을 고른 것은? [3점]

학습 주제: 세계의 분쟁 및 갈등

지도의 A~D 지역에서 일어나고 있는 분쟁 및 갈등에 대해서 말해 볼까요?

갑: A에서는 힌두교와 크리스티교 간의 갈등이 분쟁의 주요 원인이예요.

을: B에서는 독립을 주장하는 티베트족과 중국 정부 간의 갈등이 있어요.

병: C에서는 크리스티교와 이슬람교 간의 갈등이 있어요.

정: D에서는 원주민인 마요리족과 유럽계 이주민 간의 갈등이 있어요.

- ① 갑, 을    ② 갑, 병    ③ 을, 병    ④ 을, 정    ⑤ 병, 정

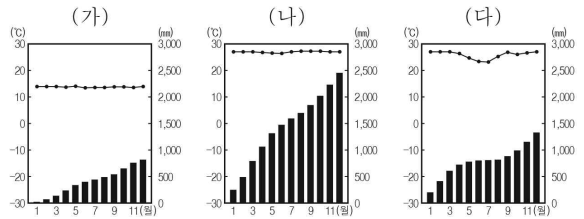
9. 다음 글의 (가) 종교에 대한 설명으로 옳은 것은?

[가] 신자들은 5대 의무가 있다. 첫째, 라마단\* 기간에는 낮 시간에 음식을 해야 한다. 여행자, 병자, 임산부 등은 면제되지만 이후에 별도로 음식 기간을 채워야 한다. 둘째, 라마단 기간이 끝난 후 신자들은 자카트를 수행해야 한다. 자카트는 수입의 일정 비율을 가난한 사람들에게 나눠 주는 자선 활동이다. 이외에도 신앙 고백, 하루 다섯 번의 기도, 성지 순례의 의무가 있다.

\* (가)의 창시자인 무함마드가 쿠란을 계시받은 달.

- ① 여러 신을 믿는 다신교이다.
- ② 발상지는 남부 아시아에 위치한다.
- ③ 주로 유대인들이 믿는 민족 종교이다.
- ④ 세계에서 신자 수가 가장 많은 보편 종교이다.
- ⑤ 대표적 종교 경관은 첨탑과 둥근 지붕이 있는 모스크이다.

10. 그래프는 지도에 표시된 세 지역의 기온과 누적 강수량을 나타낸 것이다. (가)~(다)에 해당하는 지역을 지도의 A~C에서 고른 것은? [3점]



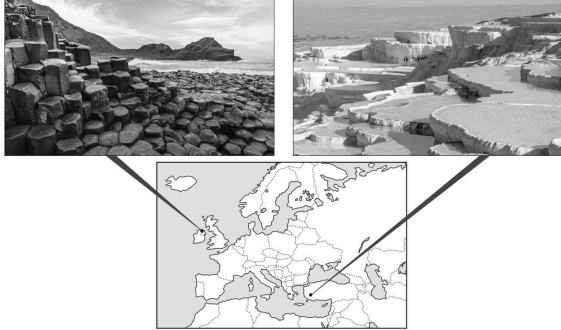
\* 누적 강수량은 1월부터 해당 월까지의 월 강수량을 합한 값임.



- |   | (가) | (나) | (다) |
|---|-----|-----|-----|
| ① | A   | B   | C   |
| ② | A   | C   | B   |
| ③ | B   | A   | C   |
| ④ | B   | C   | A   |
| ⑤ | C   | B   | A   |

11. (가), (나) 지형에 대한 옳은 설명만을 <보기>에서 고른 것은? [3점]

(가) 주상 절리(자이언츠 코즈웨이)      (나) 석회화 단구(파묵칼레)

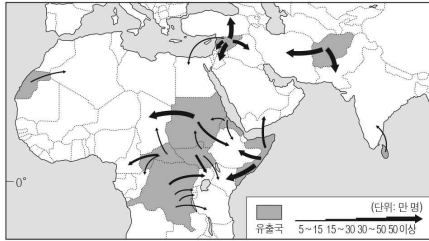


< 보 기 >

- ㄱ. (가)는 용식에 강한 부분이 탑 모양으로 남아 형성되었다.
- ㄴ. (가)는 분출한 용암이 빠르게 냉각되는 과정에서 형성되었다.
- ㄷ. (나)는 화구가 함몰된 후 물이 고여 형성되었다.
- ㄹ. (나)는 물에 용해된 탄산칼슘이 침전되어 형성되었다.

- ① ㄱ, ㄴ    ② ㄱ, ㄷ    ③ ㄴ, ㄷ    ④ ㄴ, ㄹ    ⑤ ㄷ, ㄹ

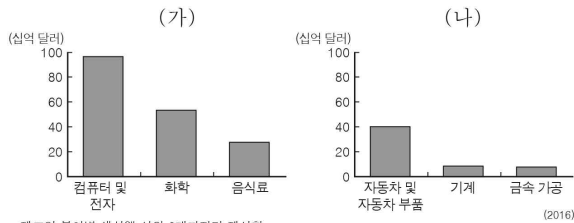
12. 지도에 제시된 인구 이동에 대한 설명으로 옳은 것은?



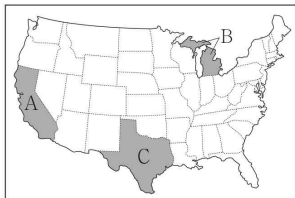
- ① 학업을 위한 일시적 이동이다.
- ② 정치적 원인에 의한 난민의 이동이다.
- ③ 여가를 즐기기 위한 관광객의 이동이다.
- ④ 종교의 성지를 방문하기 위한 이동이다.
- ⑤ 소득 향상을 위한 고급 전문 인력의 이동이다.

13. 그래프는 미국 두 주(州)의 제조업 분야별 생산액을 나타낸 것이다.

(가), (나)에 해당하는 지역을 지도의 A~C에서 고른 것은? [3점]

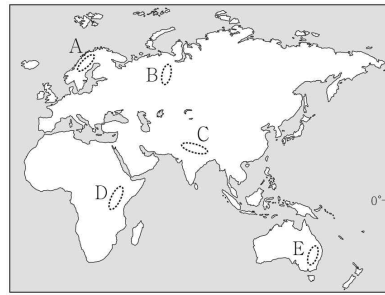
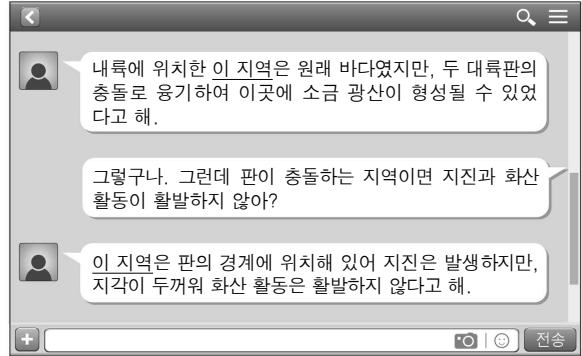


\* 제조업 분야별 생산액 상위 3개까지만 제시함.



- |   |     |     |
|---|-----|-----|
|   | (가) | (나) |
| ① | A   | B   |
| ② | A   | C   |
| ③ | B   | A   |
| ④ | B   | C   |
| ⑤ | C   | B   |

14. 다음 자료는 두 학생의 대화 내용 중 일부이다. 밑줄 친 '이 지역'을 지도의 A~E에서 고른 것은? [3점]

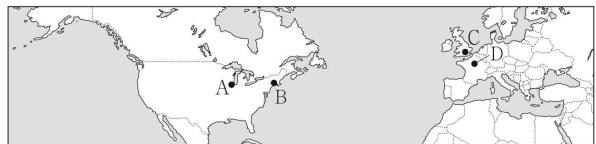


- ① A
- ② B
- ③ C
- ④ D
- ⑤ E

15. 다음 글에서 설명하는 (가), (나) 도시를 지도의 A~D에서 고른 것은?

(가) 대서양 연안에 위치한 항구 도시로, 세계적인 경제 및 문화의 중심지이다. 금융의 중심지인 월가(Wall Street), 공연 예술의 중심지인 브로드웨이가 있으며, 국제 연합 본부가 위치하여 정치적 영향력도 크다.

(나) 고풍스러운 건물과 현대식 건물이 템스강을 따라 조화를 이루고 있으며, 금융의 중심지인 카나리 워프가 있다. 근대 산업 발전에 핵심적인 역할을 했으며, 경도의 기준선이 통과한다.



- |   |     |     |     |     |     |     |   |   |
|---|-----|-----|-----|-----|-----|-----|---|---|
|   | (가) | (나) | (가) | (나) | (가) | (나) |   |   |
| ① | A   | C   | ②   | A   | D   | ③   | B | C |
| ④ | B   | D   | ⑤   | C   | D   |     |   |   |

# 4 (세계지리)

# 사회탐구 영역

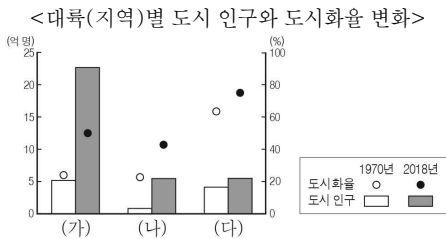
16. 다음 자료의 (가) 지역의 자연환경에 대한 설명으로 옳은 것은?

☐(가) 지역은 최난월 평균 기온이 10°C 미만이다. 이곳에 사는 소수 민족들은 농경이 어려워 순록을 유목하며 생계를 이어간다. 이들은 유목 생활을 위해 전통적인 이동식 천막인 '츄'를 주로 이용해왔다. 하지만 근래에는 이러한 천막을 짓고 철거하는 수고를 덜기 위해 썰매 위에 작은 집을 올린 '발로크'와 같은 현대식 이동 가옥을 사용하는 사람들이 늘고 있다.

- ① 강수량보다 증발량이 많다.
- ② 기온의 일교차가 연교차보다 크다.
- ③ 거의 매일 대류성 강수가 나타난다.
- ④ 아열대 고압대의 영향으로 여름이 건조하다.
- ⑤ 여름에 일시적으로 녹는 활동층이 분포한다.

17. 그래프의 (가)~(다) 대륙(지역)에 대한 설명으로 옳은 것은?

(단, (가)~(다)는 유럽, 아시아, 아프리카 중 하나임.) [3점]



- ① (가)는 (다)보다 1970년의 총 인구가 적다.
- ② (나)는 (가)보다 2018년의 총 인구가 많다.
- ③ (나)는 (다)보다 3차 산업 종사자 비율이 높다.
- ④ (다)는 (나)보다 도시화의 가속화 단계에 진입한 시기가 늦다.
- ⑤ (가)와 (다)에는 최상위 세계 도시가 위치한다.

18. 다음 자료는 지리 용어 낱말 맞추기의 일부이다. (가)에 들어갈

내용으로 가장 적절한 것은? [3점]

<가로 열쇠>

- ① 해안의 산지나 구릉이 파랑의 침식을 받아 형성된 해안 절벽
- ② 파랑과 연안류의 퇴적 작용으로 형성된 모래밭, 주로 해수욕장으로 이용
- ③ 지반의 융기나 해수면 변동으로 높은 곳에 위치하게 된 계단 모양의 지형

<해안에서 볼 수 있는 지형>

<세로 열쇠>

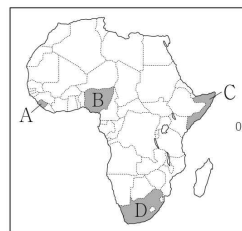
㉠ \_\_\_\_\_ (가)

- ① 파랑의 침식을 받아 해안 절벽에 형성된 동굴
- ② 사주가 발달하면서 만(灣)의 입구를 막아 형성된 호수
- ③ 조류에 의해 운반된 미립 물질이 퇴적되어 형성된 지형
- ④ 해안의 모래가 바람에 날려 육지 쪽으로 쌓인 모래 언덕
- ⑤ 해안 절벽이 파랑의 침식으로 후퇴하는 과정에서 형성된 평탄면

19. 다음 글의 (가), (나)에 해당하는 국가를 지도의 A~D에서 고른 것은?

(가) 아프리카 최대의 석유 생산국으로, 북부의 이슬람교를 믿는 민족과 남부의 크리스티교를 믿는 민족 간 분쟁이 지속되고 있다. 이러한 분쟁은 정치적 상황과 자원 분포에 따른 지역 간 경제적 격차까지 얽히면서 점차 심화되고 있다.

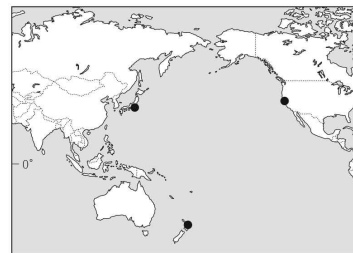
(나) 다른 아프리카 국가들보다 유럽계의 비중이 높은 국가로, 과거 아프리카계에 대한 차별 정책인 '아파르트헤이트'를 시행하였다. 이 정책은 1990년대에 공식적으로 폐지되었지만, 여전히 인종(민족)별 주거지 분리 현상은 계속되고 있다.



- |   |     |     |
|---|-----|-----|
|   | (가) | (나) |
| ① | A   | B   |
| ② | A   | C   |
| ③ | B   | C   |
| ④ | B   | D   |
| ⑤ | C   | D   |

20. 표는 지도에 표시된 세 지역의 기후 특성을 나타낸 것이다. (가)~(다) 지역에 대한 설명으로 옳은 것은? [3점]

지역	기온(°C)			강수량(mm)		
	1월 평균	7월 평균	연평균 기온	1월	7월	연 강수량
(가)	10.1	17.5	14.5	100.7	0.1	517.1
(나)	6.1	25.8	16.3	52.3	153.5	1,528.8
(다)	19.5	10.8	15.3	71.8	119.2	1,076.9



- ① (가)는 대륙 동안에 위치한다.
- ② (나)에서는 수목 농업이 주로 이루어진다.
- ③ (나)는 (다)보다 계절풍의 영향을 크게 받는다.
- ④ (다)는 (나)보다 기온의 연교차가 크다.
- ⑤ (가)는 북반구, (나)는 남반구에 위치한다.

**\* 확인 사항**

답안지의 해당란에 필요한 내용을 정확히 기입(표기)했는지 확인하시오.