

사회탐구 영역(사회·문화)

제 4 교시

성명

수험 번호 2

제 [] 선택

1

1. 밑줄 친 ㉠ ~ ㉣과 같은 현상의 일반적인 특징에 대한 설명으로 옳은 것은?

호르몬은 ㉠ 인체 내에서 자연적으로 분비되어 몸의 각 기능을 정상적인 상태로 유지시켜 준다. 반면, 인간의 산업 활동을 통해서 생성된 환경 호르몬은 우리 몸에 들어오면 ㉡ 신체 내 여러 기관의 기능을 방해한다. 환경 호르몬은 생식 기능 장애, 성장 장애뿐만 아니라 각종 암까지도 유발할 수 있어 일상생활에서 ㉢ 환경 호르몬의 영향을 받지 않도록 주의가 필요하다.


- ① ㉠과 같은 현상은 보편성과 특수성이 공존한다.
- ② ㉠과 같은 현상은 가치 함축적이다.
- ③ ㉡과 같은 현상은 개인성의 원리가 적용된다.
- ④ ㉠과 같은 현상은 ㉢과 같은 현상과 달리 존재 범칙의 지배를 받는다.
- ⑤ ㉠과 같은 현상은 ㉡과 같은 현상과 달리 경험적 자료로 연구가 가능하다.

2. 사회·문화 현상을 바라보는 갑 ~ 병의 관점에 대한 설명으로 옳은 것은? [3점]

사회자: 우리 사회에서 이주민 부적응 문제가 나타나는 원인은 무엇일까요?
 갑: 권력과 경제력을 독점하고 있는 기득권층에 의해 이주민들이 사회적 최소가치를 획득할 수 있는 기회에서 배제되기 때문에 나타나는 현상입니다.
 을: 이주민들이 우리 사회가 요구하는 지식과 규범을 습득하지 못하여 사회 일원으로서의 역할을 제대로 수행하지 못하기 때문에 나타나는 문제입니다.
 병: 사회 구성원들이 이주민을 이방인으로 바라보고, 이에 대해 이주민 역시 스스로를 우리 사회에 속하지 못하는 사람으로 인식하기 때문에 나타나는 것입니다.

- ① 갑의 관점은 개인의 행동이 상황에 대한 주관적 해석에 기초하여 이루어짐을 강조한다.
- ② 을의 관점은 기득권층의 이해관계를 대변하는 논리로 이용되는데 비판을 받는다.
- ③ 병의 관점은 집단 간 갈등을 사회 구조의 필연적 속성으로 본다.
- ④ 병의 관점은 을의 관점과 달리 사회가 스스로 균형을 유지하려는 속성을 지닌다고 본다.
- ⑤ 갑 ~ 병의 관점은 모두 사회 구조적 측면에 초점을 두고 사회·문화 현상을 바라본다.

3. 그림에 나타난 갑, 을의 문화 이해 태도에 대한 설명으로 가장 적절한 것은?



이 나라 전통 건물의 지붕 모양이 너무 우스꽝스럽지 않아요? 우리나라의 아름다운 지붕 양식에 비하면 수준이 한참 떨어지는군.

각 지역의 지붕 모양은 그 사회의 자연환경 및 사회적 맥락에 따라 형성된 것이기 때문에 나름의 고유한 특성과 가치를 인정해야 해.

- ① 갑의 태도는 자기 문화의 주체성을 상실할 우려가 있다.
- ② 갑의 태도는 맹목적으로 타문화를 추종한다는 비판을 받는다.
- ③ 을의 태도는 국수주의적 태도를 초래할 수 있다.
- ④ 갑의 태도는 을의 태도에 비해 문화의 다양성 보존에 유리하다.
- ⑤ 을의 태도는 갑의 태도와 달리 문화를 평가가 아닌 이해의 대상으로 본다.

4. 사회 조직의 형태 A, B의 일반적인 특징에 대한 옳은 설명만을 <보기>에서 고른 것은? (단, A와 B는 각각 관료제와 탈관료제 중 하나이다.) [3점]

산업 사회에서 일반적인 사회 조직 형태로 자리 잡은 A는 시간이 갈수록 '합리성의 비합리성'이라는 한계를 드러내게 되었다. 합리적이라고 간주되던 표준화된 업무 방식이 지나치게 강조되면서 자발성이나 창의성을 발휘하기 힘들어졌고, 조직의 상위에 있는 소수에게 권한이 집중되자 이러한 권한을 악용하는 경우도 생겼다. 이에 대한 대안으로 등장한 B는 소수에게 집중되었던 권한을 분산시키고, 표준화된 업무 방식을 강조하기보다 구성원들에게 재량권을 부여하여 창의성을 발휘할 수 있게 해 주었다.

< 보기 >

- ㄱ. A는 B에 비해 중간 관리층의 비중이 높다.
- ㄴ. A는 B에 비해 상향식 의사 결정을 중시한다.
- ㄷ. B는 A에 비해 업무 성과에 따른 보상을 중시한다.
- ㄹ. B는 A와 달리 조직 운영의 효율성을 중시한다.

- ① ㄱ, ㄴ ② ㄱ, ㄷ ③ ㄴ, ㄷ ④ ㄴ, ㄹ ⑤ ㄷ, ㄹ

2 (사회·문화)

사회탐구 영역

5. 표는 문화 변동의 양상 A ~ C의 사례를 나타낸 것이다. 이에 대한 설명으로 옳은 것은? (단, A ~ C는 각각 문화 동화, 문화 병존, 문화 융합 중 하나이다.) [3점]

구분	사례
A	영국인들은 인도에서 들여온 카레를 자신들이 즐겨 먹던 스투와 접목시켜서 매운맛을 줄이고 밀가루를 넣은 스투 형태의 새로운 카레 요리를 만들.
B	(가)
C	한국 사회 내부에 전통 민간 신앙과 불교, 천주교, 개신교 등의 다양한 종교가 함께 존재함.

- ① A는 문화 병존, B는 문화 융합이다.
 ② B는 강제적 문화 접변에 의해서만 나타난다.
 ③ C는 기존 문화 요소가 외래문화 요소로 대체된 결과이다.
 ④ A, C는 B와 달리 자문화의 정체성이 유지된다.
 ⑤ (가)에 '미국의 지배를 받은 필리핀에서는 영어와 필리핀 전통 언어인 타갈로그어를 같이 사용함.'이 들어갈 수 있다.

6. 다음 글에 나타난 개인과 사회의 관계를 바라보는 관점에 대한 옳은 설명만을 <보기>에서 고른 것은?

우리는 일정 연령이 되면 취학을 하고, 정해진 교통 규범을 따라 운전을 하며, 선거 제도를 통해 대표자를 뽑고, 국가가 정한 대로 세금을 낸다. 이와 같이 사적인 일상을 영위하는 것부터 사회적 권리와 의무를 수행하는 것에 이르기까지 인간의 모든 행동은 이 사회가 만든 틀에 따라 강제된 결과이다.

— < 보기 —

- ㄱ. 사회가 개인의 총합 이상이라고 본다.
 ㄴ. 개인의 속성에 의해 사회의 속성이 결정된다고 본다.
 ㄷ. 사회가 개인의 외부에 독자적 실체로 존재한다고 본다.
 ㄹ. 사회 문제의 해결책으로 제도 개선보다 개인의 의식 개선을 강조한다.

- ① ㄱ, ㄴ ② ㄱ, ㄷ ③ ㄴ, ㄷ ④ ㄴ, ㄹ ⑤ ㄷ, ㄹ

7. 자료 수집 방법 A ~ C의 일반적인 특징에 대한 설명으로 옳은 것은? (단, A ~ C는 각각 실험법, 질문지법, 참여 관찰법 중 하나이다.)

자료 수집 방법의 특징	비교 결과
시간과 비용 측면에서의 효율성	A > B
자료 수집 상황의 조작 및 통제 정도	C > B
언어적 자료 수집 도구를 통한 응답예의 의존도	A > C

- ① A는 B에 비해 수집된 자료의 통계 처리가 용이하다.
 ② B는 C와 달리 조사 대상자의 주관적 인식을 파악할 수 없다.
 ③ C는 B에 비해 조사 대상자의 일상생활을 심층적으로 파악하기에 용이하다.
 ④ A는 B, C와 달리 질적 연구에서 주로 활용된다.
 ⑤ B는 A, C와 달리 구조화·표준화된 도구를 사용하여 자료를 수집한다.

8. 다음 글에 나타난 사회 계층화 현상을 설명하는 이론에 대한 옳은 설명만을 <보기>에서 고른 것은? [3점]

생산 수단 소유 여부에 따른 자본가와 노동자의 서로 다른 역할은 자본주의 사회의 경제적 불평등을 만들어 낸다. 자본가들은 그들이 소유한 공장이나 기계 등을 제공하여 생산 활동에 참여하고 대부분의 부를 독점한다. 반면 노동자들은 생존을 위해 자본가에게 고용되어 기계 등을 다루지만 착취 구조를 벗어날 수는 없다. 그런데 이러한 역할의 차이는 단순히 경제적 불평등으로 끝나지 않는다. 자본가들은 경제적 우위를 이용하여 자신들에게 유리한 법, 관념 등을 만들어내며 이를 통해 정치적·사회적 영역에서도 지배적인 위치를 차지한다.

— < 보기 —

- ㄱ. 사회 계층화 현상을 이분법적으로 이해한다.
 ㄴ. 현대 사회의 지위 불일치 현상을 설명하기 용이하다.
 ㄷ. 동일한 경제적 위치에 속한 구성원 간 연대 의식을 강조한다.
 ㄹ. 경제적 불평등이 정치적·사회적 불평등에 종속된다고 본다.

- ① ㄱ, ㄴ ② ㄱ, ㄷ ③ ㄴ, ㄷ ④ ㄴ, ㄹ ⑤ ㄷ, ㄹ

9. 밑줄 친 ㉠ ~ ㉢에 대한 옳은 설명만을 <보기>에서 있는 대로 고른 것은?

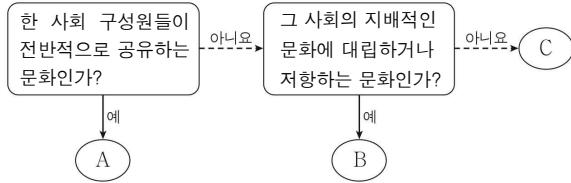
㉠ 우리는 흔히 회식이나 외식 메뉴로 삼겹살 구이를 생각한다. 그런데 언제부터 삼겹살을 즐겨 먹게 된 것일까? 1970년대 들어 일본으로 안심, 등심을 수출하고 남은 삼겹살 부위의 공급이 증가하고, ㉡ 가스 설비가 보급되면서 고기를 구워먹는 ㉢ 음식 문화가 발달했다. 또한 1990년대 후반 외환 위기로 인해 실직자들의 고깃집 창업이 증가하고, 저렴한 외식 메뉴에 대한 수요가 늘어나 삼겹살 구이를 선호하게 되었다. 이와 같은 ㉣ 조리법의 변화 및 경제적 변화가 외식 문화에 영향을 주어 삼겹살 구이는 우리나라 사람들이 즐겨 먹는 음식이 되었다.

— < 보기 —

- ㄱ. ㉠을 통해 문화의 공유성을 파악할 수 있다.
 ㄴ. ㉡은 문화 요소 중 물질문화에 해당한다.
 ㄷ. ㉢은 '문화인'에서의 문화와 같은 좁은 의미로 사용되었다.
 ㄹ. ㉣은 문화의 각 부분이 유기적으로 연관되어 있음을 보여준다.

- ① ㄱ, ㄴ ② ㄱ, ㄷ ③ ㄷ, ㄹ
 ④ ㄱ, ㄴ, ㄹ ⑤ ㄴ, ㄷ, ㄹ

10. A ~ C의 일반적인 특징에 대한 설명으로 옳은 것은? (단, A ~ C는 각각 주류 문화, 반문화 성격이 없는 하위문화, 반문화 중 하나이다.)



- ① A는 사회 구성원 대다수의 문화적 일체감을 형성하는 데 방해한다.
- ② C는 한 사회에 문화적 다양성과 역동성을 제공할 수 있다.
- ③ B는 C와 달리 사회에 따라 상대적으로 규정된다.
- ④ C는 B와 달리 집단 간 갈등을 초래하여 사회 통합을 저해한다.
- ⑤ A는 B와 C의 총합으로 설명할 수 있다.

11. 다음 사례에서 갑이 활용한 연구 방법의 일반적인 특징에 대한 옳은 설명만을 <보기>에서 고른 것은? [3점]

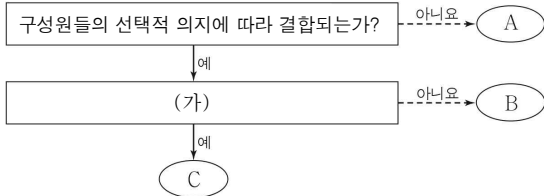
연구자 갑은 게임 중독 상태에 있는 청소년들을 연구하고자 하였다. 이를 위해 갑은 게임에 중독된 청소년들과 심층 면담을 하여 그들이 게임을 하는 자신의 행동을 어떻게 설명하며, 게임을 할 때 어떠한 감정을 느끼는지 등을 조사하였다. 또한 그들의 여러 생활 장면을 관찰하면서 게임을 할 때와 그 전후 상황에서의 언어적, 비언어적 상호 작용을 분석하였다. 이를 통해 갑은 게임 중독 청소년들의 경험을 이해하고, 그들의 현재 삶 속에서 게임이 어떠한 의미를 갖는지에 대해 파악하였다.

< 보기 >

ㄱ. 변인 간 관계에 대한 법적 발견을 목적으로 한다.
 ㄴ. 연구 과정에서 연구자의 직관적 통찰을 중시한다.
 ㄷ. 방법론적 이원론을 전제로 사회·문화 현상을 탐구한다.
 ㄹ. 연구 대상이 되는 현상을 행위자의 동기나 가치와 엄격히 분리할 수 있다고 본다.

- ① ㄱ, ㄴ ② ㄱ, ㄷ ③ ㄴ, ㄷ ④ ㄴ, ㄹ ⑤ ㄷ, ㄹ

12. 사회 집단 A ~ C의 일반적인 특징에 대한 설명으로 옳은 것은? (단, A ~ C는 각각 가족, 회사, 회사 내 동호회 중 하나이다.) [3점]



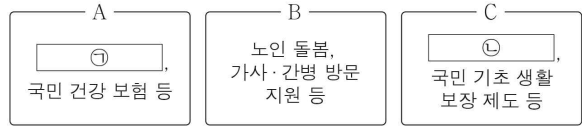
- ① A는 2차 집단에 해당한다.
- ② B와 C는 모두 전인격적 인간관계를 바탕으로 한다.
- ③ C가 회사라면, A와 B는 모두 비공식 조직이다.
- ④ B가 회사 내 동호회라면, (가)에는 '특정한 목적을 달성하기 위해 조직되는가?'가 들어갈 수 없다.
- ⑤ (가)에 '조직 운영을 위한 공식적 목표와 과업 수행을 위한 절차와 규칙을 강조하는가?'가 들어간다면, B는 회사이다.

13. 밑줄 친 ㉠ ~ ㉥에 대한 설명으로 옳은 것은? [3점]

같은 작업 집단의 규모와 개인의 작업 태도의 관계를 연구하기 위해 집단 구성원 수가 많아질수록 구성원 개인의 노력은 감소한다는 ㉠ 가설을 설정하였다. 이를 검증하기 위해 연구 대상을 선정한 갑은 이들에게 벽에 고정된 맞줄을 혼자 힘껏 잡아당기게 하여 ㉡ 각 개인이 내는 힘의 크기를 측정하였다. 이후 이들을 두 명, 세 명, 여덟 명의 집단으로 만들어 다시 맞줄을 힘껏 당기게 하고 ㉢ 각 집단에서 개인이 내는 힘의 크기를 ㉣ 측정하였다. ㉤ 그 결과 각 개인이 내는 힘의 크기는 혼자 잡아당길 경우를 100이라고 할 때, 두 명인 경우는 93, 세 명인 경우는 85, 여덟 명인 경우는 49로, 통계적으로 유의미한 차이를 보였다.

- ① ㉠ 단계에서 갑의 주관적 가치는 배제된다.
- ② ㉡은 종속 변수를 조작적으로 정의한 것이다.
- ③ ㉢은 통제 집단이다.
- ④ ㉣을 통해 갑이 얻은 자료는 2차 자료이다.
- ⑤ ㉤을 통해 갑의 가설은 기각되었음을 알 수 있다.

14. 그림은 우리나라 사회 보장 제도 A ~ C의 사례를 나타낸 것이다. 이에 대한 설명으로 옳은 것은? (단, A ~ C는 각각 공공 부조, 사회 보험, 사회 서비스 중 하나이다.)



- ① A는 비금전적 지원을 원칙으로 한다.
- ② B는 강제 가입을 원칙으로 한다.
- ③ C는 가입자 간 상호 부조의 원리가 적용된다.
- ④ ㉠에는 '국민연금'이 들어갈 수 있다.
- ⑤ ㉡에는 '노인 장기 요양 보험'이 들어갈 수 있다.

15. 표는 갑국 전체 인구 및 장애 인구의 성별 학력 수준을 나타낸 것이다. 이에 대한 옳은 분석만을 <보기>에서 고른 것은? [3점]

(단위: %)

구분		무학	초졸	중졸	고졸	대학 이상
전체	전체 인구	3.5	13.6	10.6	30.7	41.6
	장애 인구	11.6	28.8	16.2	28.1	15.3
남성	전체 인구	1.7	11.2	10.0	30.9	46.2
	장애 인구	4.8	23.4	17.2	34.5	20.1
여성	전체 인구	5.3	16.0	11.2	30.5	37.0
	장애 인구	21.8	36.9	14.7	18.5	8.1

* 무학은 초등교육을 받지 않았거나 중퇴한 경우 또는 미취학을 의미함.

< 보기 >

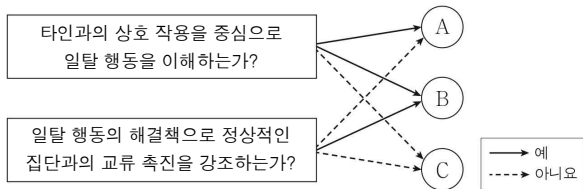
ㄱ. 남성 장애 인구는 여성 장애 인구보다 적다.
 ㄴ. 전체 여성 중졸자 수는 전체 남성 초졸자 수와 같다.
 ㄷ. 남성 장애 인구에서 고졸 이상이 차지하는 비율이 여성 장애 인구에서 고졸 이상이 차지하는 비율보다 높다.
 ㄹ. 남성 전체 인구에서 중졸 이하가 차지하는 비율이 여성 전체 인구에서 중졸 이하가 차지하는 비율보다 높다.

- ① ㄱ, ㄴ ② ㄱ, ㄷ ③ ㄴ, ㄷ ④ ㄴ, ㄹ ⑤ ㄷ, ㄹ

4 (사회·문화)

사회탐구 영역

16. 일탈 행동 이론 A~C에 대한 설명으로 옳은 것은? (단, A~C는 각각 낙인 이론, 머튼의 아노미 이론, 차별적 교체 이론 중 하나이다.) [3점]



- ① A는 급격한 사회 변동을 일탈 행동의 원인으로 강조한다.
- ② B는 차별적인 제재를 일탈 행동의 원인이라고 본다.
- ③ C는 문화적 목표와 제도적 수단의 불일치를 일탈 행동의 원인이라고 본다.
- ④ A, B는 C와 달리 일탈 행동을 규정하는 객관적인 기준이 존재한다고 본다.
- ⑤ B, C는 A와 달리 일탈 행동 자체보다 그에 대한 사회적 반응을 중시한다.

17. 다음 글에 부각되어 있는 대중문화의 문제점으로 가장 적절한 것은?

단기간에 천만 관객을 돌파하는 영화 소식이 종종 들린다. 다수의 관객들이 완성도 높은 인기 작품의 관람을 원한 결과이기도 하지만 그 이면에는 초대형 영화가 개봉될 때마다 반복되는 거대 자본 영화사들의 상영관 독점 문제가 있다. 이로 인해 관객들은 작품을 선택할 수 있는 여지가 좁아져 '보고 싶은' 영화를 보는 것이 아니라 '볼 수 있는' 영화를 보게 된다. 이와 같이 천만 관객 영화의 증가는 문화의 양적 성장에 기여한 측면도 있지만, 자본력이 약한 영화사들이 독창성을 지닌 영화들을 대중에게 선보일 기회를 제한하는 측면이 있다.

- ① 대중의 정치적 무관심을 조장한다.
- ② 문화의 질적 저하를 초래할 우려가 있다.
- ③ 지배층의 대중 조작 수단으로 악용될 수 있다.
- ④ 외래문화를 확산시켜 전통문화의 정체성이 약화된다.
- ⑤ 상업주의 영향으로 대중의 다양한 문화 향유 기회가 감소된다.

18. 밑줄 친 ㉠~㉤에 대한 설명으로 옳은 것은?

평범한 ㉠가정의 ㉡장남으로 태어난 갑은 초등학교 때 한 힙합 가수의 음악을 들은 후 가수를 꿈꾸게 되었다. 이후 꾸준히 작사 및 작곡 공부를 하던 갑은 한 ㉢연예 기획사로부터 발탁되었고 ㉣가수로 데뷔하여 활동하게 되었다. 그러나 국내외 공연 일정을 무리하게 소화하던 갑은 건강이 악화되자 가수 생활을 계속할지 ㉤고민하였다. 이러한 상황 속에서도 갑은 음악에 대한 열정을 포기하지 않았고, 마침내 ㉥해외 음악 시상식에서 큰 상을 수상하게 되었다.

- ① ㉠은 공식적 사회화 기관이다.
- ② ㉡과 ㉢은 모두 성취 지위이다.
- ③ ㉣은 1차적 사회화 기관이다.
- ④ ㉤은 갑의 역할 갈등이다.
- ⑤ ㉥은 갑의 역할 행동에 대한 보상이다.

19. 다음 글에 나타난 사회 불평등 현상을 바라보는 관점에 대한 옳은 설명만을 <보기>에서 고른 것은?

분업화된 사회가 유지되기 위해서는 차별적인 보상 제도가 필요하다. 성과에 따른 차별적 보상은 능력 있는 사람들이 더 중요하거나 어려운 일을 수행하기 위해 노력하도록 만들기 때문이다. 그 결과 사회 구성원이 각자의 능력에 적합한 직업에 배치되어 우리 사회의 효율성이 높아진다.

< 보기 >

- ㄱ. 사회 불평등 현상을 불가피한 것으로 본다.
- ㄴ. 사회적 기여도에 따라 직업을 위계화할 수 있다고 본다.
- ㄷ. 사회적 최소가치의 분배 기준은 지배 집단에 의해 결정된다고 본다.
- ㄹ. 가정 배경이 개인의 능력보다 사회적 최소가치의 분배에 미치는 영향이 크다고 본다.

- ① ㄱ, ㄴ ② ㄱ, ㄷ ③ ㄴ, ㄷ ④ ㄴ, ㄹ ⑤ ㄷ, ㄹ

20. 다음 자료에 대한 옳은 분석만을 <보기>에서 고른 것은? [3점]

<자료 1>과 <자료 2>는 갑국의 계층 구성 및 세대 간 계층 이동 현황을 나타낸 것이다. 갑국의 계층은 상층, 중층, 하층으로만 구분하며, 모든 부모의 자녀는 1명씩이다. 단, 부모 세대 상층에서 자녀 세대 상층으로 대물림된 인구와 부모 세대 상층에서 자녀 세대 하층으로 세대 간 이동한 인구는 같다.

<자료 1> 세대별 계층 간 상대적 비

구분	부모 세대	자녀 세대
상층	$\frac{1}{9}$	$\frac{1}{3}$
중층 + 하층	$\frac{1}{2}$	2

<자료 2> 부모 세대 계층 대비 부모와 자녀의 계층 일치 비율

(단위: %)		
상층	중층	하층
40	60	30

< 보기 >

- ㄱ. 자녀 세대의 계층 구조는 피라미드형이다.
- ㄴ. 부모와 계층이 일치하는 자녀가 불일치하는 자녀보다 적다.
- ㄷ. 세대 간 상승 이동 비율이 세대 간 하강 이동 비율의 5배 이상이다.
- ㄹ. 자녀 세대 계층 대비 부모와 자녀의 계층 일치 비율은 상층이 가장 높다.

- ① ㄱ, ㄴ ② ㄱ, ㄷ ③ ㄴ, ㄷ ④ ㄴ, ㄹ ⑤ ㄷ, ㄹ

※ 확인 사항

답안지의 해당란에 필요한 내용을 정확히 기입(표기)했는지 확인하시오.