

사회탐구 영역(한국지리)

제 4 교시

성명

수험 번호

제 [] 선택

1

1. 다음 자료의 (가), (나)에 대한 설명으로 옳은 것은?

등대로 여행 가자! 스탬프 투어


(가), (나)의 등대 방문 후 스탬프를 찍으면 기념 선물을 드려요.

(가) 코스

1. 제주도에서 배를 타고 약 30분 이동
2. 우리나라 최남단 섬인 (가)에 도착
3. 남북으로 긴 섬을 탐방하고 등대 스탬프 찍기

(나) 코스


1. 울릉도에서 배를 타고 약 1시간 30분 이동
2. 우리나라 최동단 섬인 (나)에 도착
3. 동도와 서도의 풍경을 감상하고 등대 스탬프 찍기



- ① (가)에는 종합 해양 과학 기지가 있다.
- ② (나)는 화산 활동으로 형성되었다.
- ③ (가)는 (나)보다 일출 시각이 이른다.
- ④ (가), (나)는 영해 설정 시 직선 기선이 적용된다.
- ⑤ (가), (나)는 섬 전체가 세계 자연 유산으로 지정되었다.

2. 다음 자료는 두 산을 배경으로 한 문학 작품의 일부이다. (가), (나) 산에 대한 옳은 설명만을 <보기>에서 고른 것은? (단, (가), (나)는 금강산, 지리산 중 하나임.) [3점]


(가)



망군대에서 사방을 바라보면 마치 두루 늘어선 창칼을 보는 듯합니다. 30리 평방이 온통 뾰족뾰족 봉우리로 찻습니다. 그 봉우리 머리의 암석은 백금색의 돌웃에 덮여 모두 백옥과 같습니다.

- 『◇◇산유기』 -

(나)



그들은 천왕봉 쪽으로 뻗은 능선을 타기 시작했다. 길은 거의 평지에 가깝도록 평탄했다. 진달래와 철쭉나무들이 많았고 한쪽으로 는 끝없이 접을 이루고 있는 산의 물결을 볼 수 있었다.

- 『○○산맥』 -

< 보 기 >

ㄱ. (가)의 주요 기반암은 시멘트 공업의 주원료로 이용된다.
 ㄴ. (나)의 주요 기반암은 변성암에 속한다.
 ㄷ. (가)는 (나)보다 주요 기반암의 형성 시기가 이른다.
 ㄹ. (나)는 (가)보다 산 정상부의 식생 밀도가 높다.

- ① ㄱ, ㄴ ② ㄱ, ㄷ ③ ㄴ, ㄷ ④ ㄴ, ㄹ ⑤ ㄷ, ㄹ

3. 그림의 (가) 지도에 대한 설명으로 옳지 않은 것은?

- ① 조선 전기에 국가 주도로 제작되었다.
- ② 10리마다 방점을 찍어 거리를 표현하였다.
- ③ 분첩 절첩식 형태로 휴대와 열람이 간편하다.
- ④ 지도표를 통해 다양한 지리 정보를 표현하였다.
- ⑤ 목판본으로 제작되어 지도의 대량 생산이 가능하다.

4. 다음 글의 밑줄 친 ㉠ ~ ㉣에 대한 옳은 설명만을 <보기>에서 고른 것은?

커뮤니티 매핑(Community Mapping)이란 지역 사회의 구성원들이 특정 주제를 선정하고 이를 지도로 제작하여 공유하는 활동을 뜻한다. 최근 ㉠ 인터넷 지도와 ㉡ 위성 위치 확인 시스템(GPS)이 장착된 스마트폰의 보편화로 커뮤니티 매핑이 활발해지면서 ㉢ 공중 화장실 분포 지도, 장애인 편의 시설 지도와 같이 실생활에 유용한 지도가 제작되었다. 일부 지방 자치 단체에서는 이러한 활동을 통해 수집된 정보를 ㉣ 지리 정보 시스템(GIS)으로 분석하여 주민들이 활용할 수 있도록 공개하기도 한다.

< 보 기 >

ㄱ. ㉠은 지도의 확대와 축소가 어렵다.
 ㄴ. ㉡은 내비게이션, 버스 도착 안내 시스템 등에 활용된다.
 ㄷ. ㉢은 주로 유선도로 표현된다.
 ㄹ. ㉣은 지리 정보의 수정 및 보완이 용이하다.

- ① ㄱ, ㄴ ② ㄱ, ㄷ ③ ㄴ, ㄷ ④ ㄴ, ㄹ ⑤ ㄷ, ㄹ

한국지리

2 (한국지리)

사회탐구 영역

5. 사진의 A ~ C 지형에 대한 옳은 설명만을 <보기>에서 고른 것은?



<보기>
 가. A는 시간이 지날수록 바다 쪽으로 성장한다.
 나. B는 주로 파랑의 퇴적 작용으로 형성된다.
 다. C는 점토보다 모래의 비율이 높다.
 라. A는 곳(串), C는 만(灣)에 잘 발달한다.

- ① 가, 나 ② 가, 다 ③ 나, 다 ④ 나, 라 ⑤ 다, 라

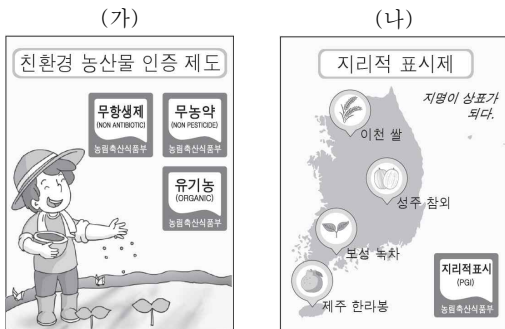
6. 다음 자료의 ㉠, ㉡에 들어갈 내용으로 가장 적절한 것은? [3점]

<기후 요인에 따른 기온 분포의 지역적 차이>

기온 분포의 지역적 차이는 위도, 수륙 분포, 해발 고도 등 여러 기후 요인의 영향을 받는다. 예를 들면, ㉠의 영향으로 목포는 인천보다 연평균 기온이 높고, ㉡의 영향으로 대관령은 강릉보다 최한월 평균 기온과 최난월 평균 기온이 모두 낮게 나타난다.

- ① ㉠ 위도 수륙 분포 ② ㉠ 위도 해발 고도
 ③ 수륙 분포 위도 ④ 수륙 분포 해발 고도
 ⑤ 해발 고도 위도

7. 그림은 농업 경쟁력 강화를 위한 두 제도를 나타낸 것이다. (가), (나) 제도에 대한 옳은 설명만을 <보기>에서 고른 것은?



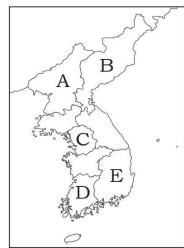
<보기>
 가. (가)는 농산물의 부가가치를 높일 수 있다.
 나. (나)는 지역 홍보 및 지역 경제 활성화에 기여할 수 있다.
 다. (가)는 (나)에 등록된 농산물만을 대상으로 한다.
 라. (가), (나)를 통해 우리나라 전체 농가 인구가 증가하였다.

- ① 가, 나 ② 가, 다 ③ 나, 다 ④ 나, 라 ⑤ 다, 라

8. 다음 자료는 지리 용어 낱말 맞추기의 일부이다. (가)에 해당하는 지역을 지도의 A ~ E에서 고른 것은?

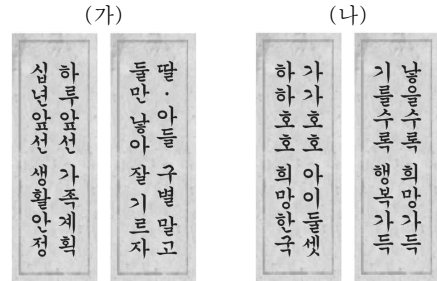
<가로 열쇠>
 ① 중위도 지역에 일 년 내내 서쪽에서 동쪽으로 부는 항상풍
 ② _____ (가)

<세로 열쇠>
 ㉠ 사자가 만의 입구를 막아 형성된 호수
 ㉡ 남성 인구가 여성 인구보다 많은 ○○ 현상
 ㉢ 관동 지방에서 대관령을 기준으로 서쪽 지역을 일컫는 말



- ① A
 ② B
 ③ C
 ④ D
 ⑤ E

9. 다음 자료는 두 시기의 인구 정책을 나타낸 표어이다. (가) 시기에 대한 (나) 시기의 상대적 특징으로 옳은 것은?



- ① 중위 연령이 낮다. ② 초혼 연령이 낮다.
 ③ 합계 출산율이 낮다. ④ 유소년 부양비가 높다.
 ⑤ 노년층 인구 비율이 낮다.

10. 다음은 한국지리 수업 시간에 작성한 학습 노트이다. (가) ~ (다)에 들어갈 내용으로 옳지 않은 것은? [3점]

<지역 격차와 공간 불평등>

현황	배경	문제점	개선 방안
수도권과 비수도권의 격차	(가)	비수도권의 지역 경제 침체	(나)
도시와 농촌의 격차	급속한 산업화와 도시화	(다)	농촌의 주거·보건·생활 기반 시설 지원

- ① (가) - 수도권을 중심으로 한 성장 위주의 국토 개발 정책
 ② (나) - 혁신 도시 건설을 통한 공공 기관의 지방 이전
 ③ (나) - 경제적 효율성 추구를 위한 수도권 규제 완화
 ④ (다) - 농촌의 경제 기반 약화로 사회 기반 시설 부족
 ⑤ (다) - 농촌의 청장년층 인구 감소로 인한 노동력 부족

4 (한국지리)

사회탐구 영역

16. 다음 글의 (가) ~ (다) 소매 업체에 대한 설명으로 옳은 것은?
(단, (가) ~ (다)는 백화점, 편의점, 무점포 소매업 중 하나임.) [3점]



(가) 대도시의 도심이나 부도심에 주로 입지한다. 의류 및 액세서리를 비롯한 고가 제품을 주로 판매하며, 다른 소매 업체에 비해 경기 변동의 영향을 크게 받는다.
(나) 2014년 이후 상업 지역뿐만 아니라 주거 지역에서의 점포 수도 크게 증가하였다. 이러한 점포 수의 성장은 1인 가구의 확산, 소량 및 근거리 구매 경향에 따른 것이다.
(다) 제품의 전시 공간이 필요 없다는 점 때문에 창업을 위한 진입 장벽이 낮은 편이다. 최근에는 개인용 컴퓨터보다 모바일 시장을 기반으로 한 소매 활동이 크게 증가하고 있다.

- ① (가)는 (나)보다 소비자의 평균 이용 횟수가 많다.
- ② (가)는 (다)보다 전체 사업체 수가 많다.
- ③ (나)는 (가)보다 사업체당 매출액 규모가 크다.
- ④ (다)는 (가)보다 소비 활동의 시·공간적 제약이 크다.
- ⑤ (다)는 (나)보다 택배 산업 발달에 미친 영향이 크다.

17. 다음 자료는 온라인 학습 장면의 일부이다. 답글 ㉠ ~ ㉣에서 옳은 내용만을 고른 것은?

지리 공부방

지리샘(geo****) | 사진에 나타난 지형의 특징을 답글로 적어 주세요.

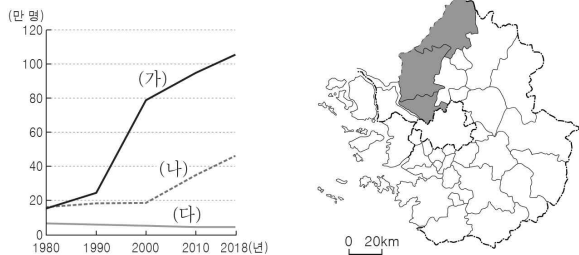
<충북 단양의 고수 동굴> <강원 영월의 고새 동굴>

답글(4)

- ㉠ 종유석과 석순, 석주가 발달되어 있습니다. ----- ㉠
- ㉡ 동굴의 기반암은 주로 신생대 제3기층에 분포합니다. ----- ㉡
- ㉢ 빗물과 지하수에 의한 용식 작용으로 형성된 동굴입니다. ----- ㉢
- ㉣ 용암이 급격히 식으면서 만들어진 주상 절리가 나타납니다. ----- ㉣

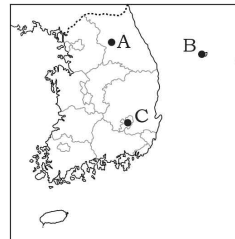
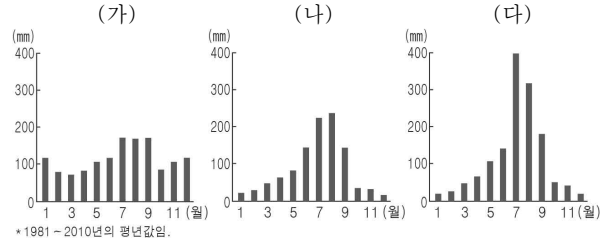
- ① ㉠, ㉡ ② ㉠, ㉢ ③ ㉡, ㉣ ④ ㉢, ㉣ ⑤ ㉢, ㉣

18. 그래프는 지도에 표시된 세 지역의 인구 변화를 나타낸 것이다.
(가) ~ (다) 지역에 대한 설명으로 옳은 것은? [3점]



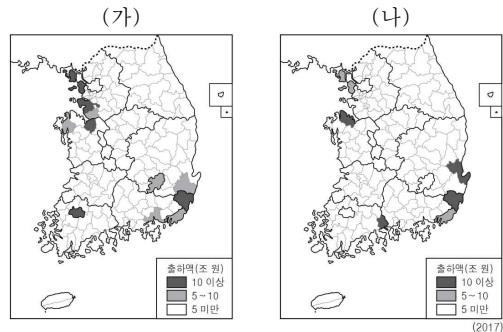
- ① (가)는 (다)보다 서울로의 통근자 비율이 낮다.
- ② (나)는 (가)보다 상업지의 평균 지가가 높다.
- ③ (나)는 (다)보다 인구 밀도가 높다.
- ④ (다)는 (가)보다 아파트 거주 비율이 높다.
- ⑤ (다)는 (나)보다 3차 산업 종사자 비율이 높다.

19. 그래프는 지도에 표시된 세 지역의 월별 강수량을 나타낸 것이다.
(가) ~ (다) 지역을 지도의 A ~ C에서 고른 것은?



- | | (가) | (나) | (다) |
|---|-----|-----|-----|
| ① | A | B | C |
| ② | A | C | B |
| ③ | B | A | C |
| ④ | B | C | A |
| ⑤ | C | B | A |

20. 지도는 두 제조업의 지역별 출하액을 나타낸 것이다. (가), (나)에 해당하는 제조업으로 옳은 것은? [3점]



- | | (가) | (나) |
|---|--------------|--------------|
| ① | 1차 금속 | 자동차 및 트레일러 |
| ② | 1차 금속 | 섬유 제품(의복 제외) |
| ③ | 자동차 및 트레일러 | 1차 금속 |
| ④ | 자동차 및 트레일러 | 섬유 제품(의복 제외) |
| ⑤ | 섬유 제품(의복 제외) | 1차 금속 |

※ 확인 사항

답안지의 해당란에 필요한 내용을 정확히 기입(표기)했는지 확인하십시오.