

제 4 교시


사회탐구 영역 (사회·문화)

성명	수험번호	2	제 [ ] 선택
----	------	---	----------

1. 밑줄 친 ㉠~㉢과 같은 현상의 일반적인 특징에 대한 설명으로 옳은 것은?

㉠ 대기가 정체되면서 미세 먼지가 전국을 뒤덮고 있는 가운데, 당국은 ㉡ 미세 먼지 주의보를 발령하였습니다. 오늘은 미세 먼지 관리 및 저감 대책에 대해 알아보겠습니다.

㉡ 미세 먼지는 사람의 폐포까지 침투해 호흡기, 뇌혈관 및 심혈관 등에 각종 질병을 유발할 수 있습니다. 따라서 미세 먼지 주의보 발령 시 외출할 때는 마스크를 착용하고, ㉢ 노후 경유차의 운행을 자제하며 가급적 대중교통을 이용하는 등의 노력이 필요합니다.



- ① ㉠과 같은 현상은 ㉡과 같은 현상과 달리 불가치적이다.
- ② ㉡과 같은 현상은 ㉢과 같은 현상에 비해 인과 관계가 분명하다.
- ③ ㉢과 같은 현상은 ㉡과 같은 현상과 달리 개연성의 원리가 적용된다.
- ④ ㉡과 같은 현상은 ㉠과 같은 현상과 달리 존재 법칙을 따른다.
- ⑤ ㉡, ㉢과 같은 현상은 ㉠, ㉢과 같은 현상에 비해 보편성이 강하게 나타난다.

2. 다음은 청소년을 대상으로 음악 콘서트 관람 실태를 조사하기 위한 질문지의 일부이다. 이에 대한 평가로 옳지 않은 것은?

[3점]

1. 당신은 최근에 음악 콘서트를 관람한 적이 있습니까?  
 ① 예                      ② 아니요  
 ☞ ‘아니요’에 응답한 경우, 4번 질문부터 응답하십시오.

2. 당신이 음악 콘서트를 관람할 때 가장 선호하는 분야는 무엇입니까?  
 ① 재즈                      ② 힙합                      ③ 발라드

3. 당신이 연간 지출하는 음악 콘서트 관람 비용은 얼마입니까?  
 ① 10만 원 이하                      ② 10만 원 이상 20만 원 이하  
 ③ 20만 원 이상 30만 원 이하                      ④ 30만 원 이상

4. 당신은 음악 콘서트 관람이 스트레스 해소에 도움이 된다고 생각합니까?  
 ① 예                      ② 아니요                      ③ 모름

5. 공연자들의 선정적인 의상이 청소년에게 악영향을 끼치고 있습니다. 당신은 공연 의상을 규제하는 것이 필요하다고 생각합니까?  
 ① 예                      ② 아니요                      ③ 모름

- ① 모호한 용어가 사용된 질문이 있다.
- ② 응답 항목의 포괄성이 결여된 질문이 있다.
- ③ 두 가지 내용을 한꺼번에 묻는 질문이 있다.
- ④ 응답 항목 간의 배타성이 결여된 질문이 있다.
- ⑤ 특정한 방향으로 응답을 유도하는 질문이 있다.

3. 대중 매체 A~C의 일반적인 특징에 대한 설명으로 옳은 것은? (단, A~C는 각각 종이 신문, SNS, TV 중 하나이다.)

일반적인 특징	대중 매체
시청각 정보 제공이 가능함	A, B
정보 생산자와 소비자 간의 경계가 뚜렷함	A, C

- ① A는 C에 비해 생동감 있는 정보 전달이 어렵다.
- ② B는 C에 비해 정보 확산의 시·공간적 제약이 크다.
- ③ C는 B에 비해 쌍방향 정보 전달에 유리하다.
- ④ B는 A, C에 비해 정보의 복제와 재가공이 용이하다.
- ⑤ C는 A, B에 비해 정보 전달의 신속성이 높다.

4. 밑줄 친 ㉠~㉢에 대한 옳은 설명만을 <보기>에서 고른 것은?

청소년은 새로운 문화 요소를 빠르게 수용하면서 현대 사회의 문화 변동을 이끄는 역할을 하는 한편, ㉠ 대중문화나 ㉡ 대중 매체의 영향을 받아 충동적인 소비 성향을 띠기도 한다. 또한 ㉢ 청소년 문화는 또래 집단의 영향이 강하며 기존의 틀에 얽매이지 않고 새로운 것을 추구하는 미래 지향적인 경향이 있다는 점에서 ㉣ 기성세대 문화와는 차이를 보인다.

— <보 기> —

㉠. ㉠은 ㉡을 통해 형성되고 확산되는 경향이 있다.  
 ㉡. ㉠과 ㉢의 ‘문화’는 모두 넓은 의미로 사용되었다.  
 ㉢. ㉢은 ㉣과 달리 주류 문화에 해당한다.  
 ㉣. ㉣은 ㉣과 달리 하위문화에 해당한다.

- ① ㉠, ㉡                      ② ㉠, ㉢                      ③ ㉡, ㉢                      ④ ㉡, ㉣                      ⑤ ㉢, ㉣

5. 표는 일탈 이론 A~C를 비교한 것이다. 이에 대한 설명으로 옳은 것은? (단, A~C는 각각 낙인 이론, 뒤르케임의 아노미 이론, 차별적 교제 이론 중 하나이다.) [3점]

질문	이론	A	B	C
일탈 행동을 판단하는 객관적인 기준이 존재한다고 보는가?		예	㉠	아니요
일탈자와의 접촉 차단을 일탈 행동에 대한 대책으로 보는가?		아니요	예	㉡
(가)		예	아니요	아니요

- ① A는 일탈 행동에 대한 규정을 신중하게 할 필요가 있음을 강조한다.
- ② B는 급격한 사회 변동으로 인한 무규범 상태를 일탈 행동의 원인으로 본다.
- ③ C는 부정적 자아가 형성되어 일탈 행동이 반복된다고 본다.
- ④ ㉠에는 ‘아니요’, ㉡에는 ‘예’가 적절하다.
- ⑤ (가)에는 ‘타인과의 상호 작용이 일탈 행동에 미치는 영향을 중시하는가?’가 적절하다.

6. 다음 연구에 대한 분석 및 추론으로 옳은 것은? [3점]

연구자 갑은 고등학생의 ㉠방과 후 체육 활동이 ㉡리더십에 미치는 영향을 연구하기로 하였다. 이를 검증하기 위해 가설을 세운 후, A 지역 고등학교 2학년 ㉢남학생 500명, ㉣여학생 500명을 무작위로 선정한 후, 방과 후 체육 활동 참여 시간, ㉤학생 자치회 및 학급 임원 경험 횟수, 갈등 중재 및 의사소통 능력 지수 등을 측정하기 위한 설문 조사를 실시하였다. 수집된 자료를 통계적으로 ㉥분석한 결과, 방과 후 체육 활동에 많이 참여한 학생일수록 리더십이 높다는 유의미한 결과를 얻었다.

- ① ㉠은 종속 변수, ㉡은 독립 변수이다.
- ② ㉢과 ㉣은 모두 실험 집단이다.
- ③ ㉤은 ㉡을 조작적으로 정의한 것이다.
- ④ ㉥으로 보아 가설은 기각되었을 것이다.
- ⑤ 위 연구 결과는 모집단을 대상으로 일반화할 수 있다.

7. 밑줄 친 ‘어떤 학자들’이 주장하는 개인과 사회의 관계를 바라보는 관점에 대한 옳은 설명만을 <보기>에서 고른 것은?

사회는 개인들이 뭉쳐 있는 집합체로서의 총합이 아니라 그것을 초월하는 것으로, 사회 현상을 연구할 때는 인간 개인 밖에 존재하는 사회 구조나 제도에 주목해야 한다. 따라서 어떤 학자들이 주장하는 것처럼 사회는 단순히 개인들이 모여 이루어진 덩어리이자 개인들 간의 상호 작용이 축적된 곳일 뿐이므로 사회 현상을 연구할 때는 자유의지를 갖고 행동하는 사회 구성원인 개인들의 본성이나 그들 간의 상호 작용에 주목해야 한다는 것에 동의할 수 없다.

<보 기>

ㄱ. 사회는 개인의 속성으로 환원될 수 없다고 본다.  
 ㄴ. 개인은 사회에 의해 구조화된 행동을 한다고 본다.  
 ㄷ. 개인의 자율성이 사회 규범의 구속성보다 우선한다고 본다.  
 ㄹ. 사회 문제의 해결책으로 제도 개선보다 개인의 의식 개혁을 강조한다.

- ① ㄱ, ㄴ    ② ㄱ, ㄷ    ③ ㄴ, ㄷ    ④ ㄴ, ㄹ    ⑤ ㄷ, ㄹ

8. 밑줄 친 ㉠~㉣에 대한 설명으로 옳은 것은? [3점]

갑은 ㉠○○지역아동센터에서 정기적으로 교육기부 봉사를 하며 교사의 꿈을 키워 왔으나, ㉡병원에서 헌신적으로 일하는 ㉢간호사의 모습에 감명을 받아 진로 선택에 ㉣고민을 하고 있다. 최근 갑은 ㉤어머니가 입원한 병원에서 환자의 심리적 안정을 돕기 위해 ㉥교내 음악사랑 동아리 부원들과 수차례 연주를 하여 친구들과 교사들로부터 많은 ㉦칭찬을 받았다.

- ① ㉠과 ㉡은 모두 갑의 내집단이다.
- ② ㉢과 ㉤은 모두 성취 지위이다.
- ③ ㉥은 갑의 역할 갈등이다.
- ④ ㉥은 자녀로서의 갑의 역할이다.
- ⑤ ㉦은 갑의 역할에 대한 보상이다.

9. 사회·문화 현상을 바라보는 관점 A~C에 대한 설명으로 옳은 것은? (단, A~C는 각각 기능론, 갈등론, 상징적 상호 작용론 중 하나이며, 질문에 대해 ‘예’ 또는 ‘아니요’로만 답할 수 있다.) [3점]

○ ‘개개인의 행위를 초월한 사회 구조나 제도와 같은 사회 체계에 초점을 맞추는가?’는 A와 B를 구분할 수 없는 질문이다.  
 ○ ‘사회는 유기체와 매우 유사한 특성을 가지고 있다고 보는가?’는 A와 C를 구분할 수 있는 질문이다.

- ① A는 상황에 대해 개인이 부여하는 의미를 중시한다.
- ② B는 사회가 본질적으로 조화와 균형을 이루고 있다고 본다.
- ③ C는 계급 간 갈등이 필연적이라고 본다.
- ④ A는 B와 달리 사회 규범이 사회 구성원 전체의 합의에 근거한다고 본다.
- ⑤ B는 C와 달리 개별 행위 주체의 동기와 행위의 과정에 대한 이해를 중시한다.

10. 문화 이해의 태도에 대한 옳은 설명만을 <보기>에서 고른 것은? (단, A~C는 각각 문화 상대주의, 문화 상대주의, 자문화 중심주의 중 하나이다.)

문화 이해의 태도 A, B, C의 특징을 말해볼까요?  
 교사  
 → **갑** 서로 다른 문화 간 우열이 존재한다고 보는 A와 B, 그렇지 않다고 보는 C로 나눌 수 있습니다.  
 → **을** C는 각 문화가 해당 사회의 맥락에서 갖는 고유한 의미를 존중하려는 태도입니다.  
 → **병** B는 A에 비해 국수주의로 빠질 우려가 높습니다.  
 교사  
 갑, 을 학생은 바르게 이해하고 있네요. 병 학생은 A, B를 서로 바꾸어 생각하고 있습니다.

<보 기>

ㄱ. A는 다른 사회의 문화를 수용하는 데 적극적이다.  
 ㄴ. B는 자기 문화의 정체성을 유지하는 데 유리하다.  
 ㄷ. C는 문화의 다양성 보존에 기여할 수 있다.  
 ㄹ. A와 B는 모두 특정 사회의 문화를 기준으로 타 문화를 평가할 수 있다고 본다.

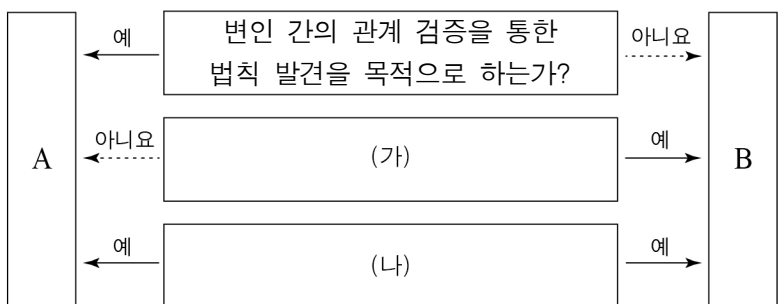
- ① ㄱ, ㄴ    ② ㄱ, ㄷ    ③ ㄴ, ㄷ    ④ ㄴ, ㄹ    ⑤ ㄷ, ㄹ

11. 다음 밑줄 친 부분에서 강조하는 사회·문화 현상의 탐구 태도에 대한 진술로 가장 적절한 것은?

과학은 설명하기 어려운 현상을 체계화한다. 이를 통해 과학적 이해는 발전하고 우리가 세상을 인식하는 방식도 풍부해진다. 그러나 과학이 절대적 진리라고 단정할 수는 없다. 왜냐하면 세상은 인간의 인식 범주보다 훨씬 더 넓고 모든 것이 과학으로만 설명되지 않으며, 어느 특정 시기에 보면 잘못된 과학적 추론도 많기 때문이다. 따라서 과학적 주장이라도 실제적으로 검증될 때까지는 이를 가설로만 받아들이는 태도를 지녀야 한다.

- ① 엄격한 가치 중립적 태도를 가져야 한다.
- ② 경험적 자료에 의한 반증 가능성을 인정하는 태도를 가져야 한다.
- ③ 주관적 가치나 편견을 배제하고 현상을 이해하는 태도를 가져야 한다.
- ④ 현상에 담긴 모든 요인들의 관계를 종합적으로 고려하는 태도를 가져야 한다.
- ⑤ 해당 사회의 문화적 맥락과 배경을 고려하여 현상을 이해하는 태도를 가져야 한다.

12. 사회·문화 현상의 연구 방법 A, B의 일반적인 특징에 대한 설명으로 옳은 것은? [3점]



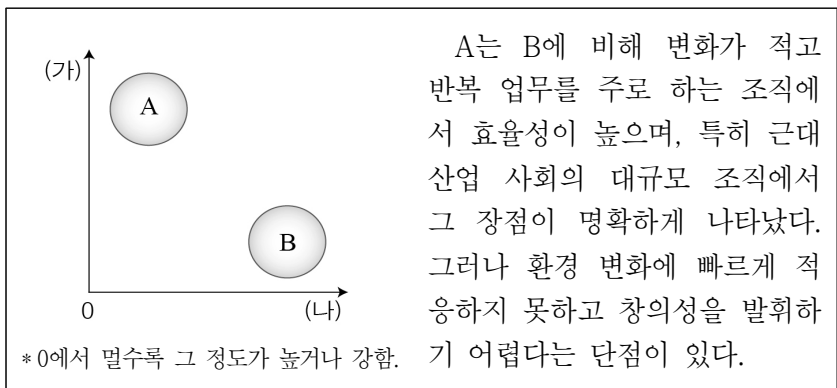
- ① A는 상황 맥락 속에서 사회·문화 현상이 지닌 의미에 대한 해석을 추구한다.
- ② B는 인간 행위의 동기보다는 행위 자체를 주된 분석 대상으로 한다.
- ③ A는 B와 달리 감정 이입과 직관적 통찰을 통한 이해를 중시한다.
- ④ (가)에는 '사회·문화 현상과 자연 현상이 본질적으로 같다고 전제하는가?'가 적절하다.
- ⑤ (나)에는 '경험적 자료를 통해 사회·문화 현상의 연구가 가능하다고 보는가?'가 적절하다.

13. 밑줄 친 ㉠ ~ ㉤에 대한 설명으로 옳은 것은? [3점]

탐댄스는 산업 혁명 초기 영국 랭커셔에서 추운 날씨에 발을 구르던 노동자들의 스텝에서 비롯되었다는 주장이 있다. 이러한 스텝으로부터 영국의 민속춤인 ㉠클록댄스가 처음 생겨났고, 이것이 ㉡영국인 무용수들에 의해 미국에 전해진 후, 영국 민속춤의 스텝과 흑인의 전통적 리듬이 함께 녹아 있는 ㉢탐댄스로 만들어졌다는 것이다. 탐댄스는 ㉣1940년대 미국으로부터 한국에 유입되기 시작하였다. 이후 탐댄스는 TV 프로그램을 통해 소개되었고, 이와 관련된 동호회가 활성화되면서 ㉤대중의 관심과 인기를 얻게 되었다.

- ① ㉠은 발견에 의해 나타난 것이다.
- ② ㉡은 서로 다른 사회 간에 간접적 접촉이 이루어진 경우이다.
- ③ ㉢은 문화 융합의 사례에 해당한다.
- ④ ㉣은 내재적 요인에 의한 문화 변동이다.
- ⑤ ㉤은 강제적 문화 접변의 결과이다.

14. 그림은 사회 조직의 유형 A, B를 비교한 것이다. 이에 대한 설명으로 옳은 것은? (단, A, B는 각각 관료제 조직과 탈관료제 조직 중 하나이다.)



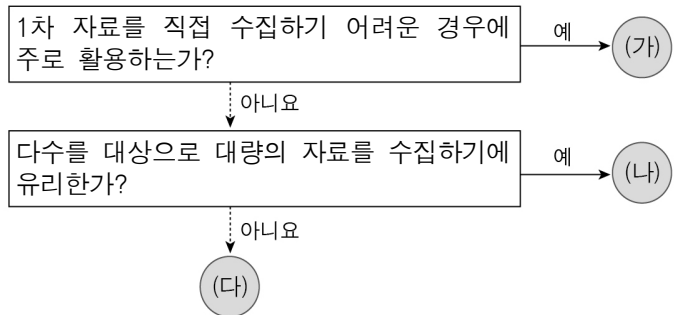
- ① A는 B에 비해 연공서열에 따른 보상을 강조한다.
- ② A는 B에 비해 조직 운영의 유연성 정도가 높다.
- ③ B는 A에 비해 수직적 위계질서가 강하게 나타난다.
- ④ (가)에는 '업무 담당자의 재량권 보장 정도'가 적절하다.
- ⑤ (나)에는 '표준화된 규약에 따른 과업 수행 정도'가 적절하다.

15. 다음 글에서 공통적으로 부각되는 문화의 속성에 대한 진술로 옳은 것은?

○ 한국의 결혼식에서는 폐백을 할 때 신부에게 밤과 대추를 던져 준다. 한국인이란 누구나 밤과 대추를 자손들의 행복과 번영을 의미한다는 것을 알고 있다.  
○ 스페인에서는 아기를 눕혀 놓고 사람들이 뛰어 넘는 축제를 한다. 스페인 사람들은 이 축제를 나쁜 기운으로부터 아이들을 보호하고 건강을 기원하는 의식이라고 인식하고 있다.

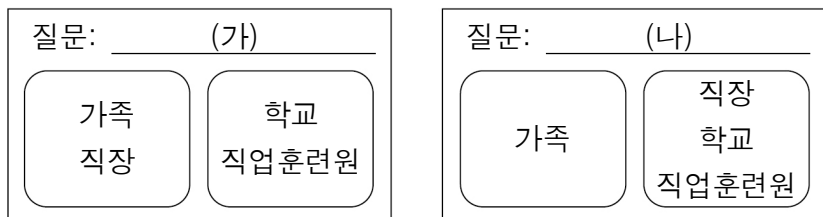
- ① 세대를 거치면서 복잡하고 다양해진다.
- ② 부분의 변화는 다른 영역에도 영향을 미친다.
- ③ 시간의 흐름에 따라 창조 또는 소멸하게 된다.
- ④ 사회 구성원 간에 원활한 상호 작용의 토대가 된다.
- ⑤ 기존의 문화에 새로운 요소가 더해져 더욱 풍부해진다.

16. 자료 수집 방법 (가)~(다)의 일반적인 특징에 대한 설명으로 옳은 것은? (단, (가)~(다)는 각각 면접법, 문헌 연구법, 질문지법 중 하나이다.)



- ① (가)는 기존 연구 동향을 파악하기에 유리하다.
- ② (나)는 면대면 대화를 통해 깊이 있는 정보를 수집한다.
- ③ (다)는 주로 양적 자료의 수집을 위해 활용된다.
- ④ (가)는 (다)에 비해 시간과 공간의 제약을 많이 받는다.
- ⑤ (다)는 (나)와 달리 언어적 상호 작용이 필수적이다.

17. 그림은 사회화 기관을 질문에 따라 분류한 것이다. (가), (나)에 적절한 질문만을 <보기>에서 고른 것은? (단, 질문에 대해 '예'와 '아니요' 중 같은 답을 할 수 있는 것끼리 한 묶음으로 처리한다.) [3점]



<보 기>

㉠. (가) - 1차적 사회화 기관에 해당하는가?  
 ㉡. (가) - 사회화를 목적으로 설립된 기관인가?  
 ㉢. (나) - 비공식적 사회화 기관에 해당하는가?  
 ㉣. (나) - 전문적인 지식과 기능의 사회화를 담당하는가?

- ① ㉠, ㉡    ② ㉠, ㉢    ③ ㉡, ㉣    ④ ㉢, ㉣    ⑤ ㉣, ㉣

18. 다음은 문화를 바라보는 관점에 대한 것이다. (가)에 들어갈 내용으로 가장 적절한 것은?

인간의 문화는 다양한 요소로 구성되어 있으며 각 요소들은 독립적으로 존재하는 것이 아니라 상호관계 속에서 유기적으로 얽혀 하나의 체계를 구성하고 있다. 그래서 각 문화 요소를 다른 요소들과 관련지어 생각하지 않으면 이해하기 어려운 경우가 많다. 따라서 어떤 문화 요소를 제대로 이해하기 위해서는 \_\_\_\_\_ (가)

- ① 특정한 기준을 바탕으로 타 문화를 파악해야 한다.
- ② 전체 문화와의 맥락 속에서 그 의미를 파악해야 한다.
- ③ 문화 간 비교를 통해 자기 문화를 객관적으로 바라보아야 한다.
- ④ 모든 문화를 각 부분으로 분리시켜 개별적으로 바라보아야 한다.
- ⑤ 서로 다른 문화 요소 간의 보편성과 특수성을 찾는 것에 초점을 두어야 한다.

19. 밑줄 친 ㉠~㉣을 표와 같이 구분할 때, (가), (나)에 들어갈 질문으로 옳은 것은? [3점]

㉠ ○○○ 회사에 다니는 갑은 건강과 친목 도모를 위해 가입한 ○○○ 회사 내 산악회 회원들과 주말에 자주 산행을 한다. 또한 ㉡ 대학교 재학 중 가입한 환경 보호 관련 ㉢ 시민단체에서 계속 활동하며 보람된 날들을 보내고 있다.

질문 \ 구분	예	아니요
(가)	㉠, ㉡, ㉢	㉣
(나)	㉣, ㉢	㉠, ㉡

- |            |            |
|------------|------------|
| (가)        | (나)        |
| ① 공동 사회인가? | 2차 집단인가?   |
| ② 공식 조직인가? | 2차 집단인가?   |
| ③ 이익 사회인가? | 비공식 조직인가?  |
| ④ 공식 조직인가? | 자발적 결사체인가? |
| ⑤ 이익 사회인가? | 자발적 결사체인가? |

20. 다음 자료에 대한 분석으로 옳은 것은? [3점]

○ 설문 내용: '귀하가 신청하고 싶은 상담 분야를 하나만 고르시오.'

○ 응답 결과 (단위: %)

구분	대인 관계	성격	게임 중독	직업	성적	용돈 부족	기타
성별	남자	15.6	3.7	6.5	25.6	37.8	4.7
	여자	16.8	3.6	3.5	25.2	38.4	5.8
연령별	15~18세	21.4	3.5	5.9	15.6	39.8	5.7
	19~24세	18.3	4.8	3.5	50.6	16.2	1.5

\* 15~24세 청소년을 대상으로 함.  
 \*\* 기타에는 이성 교제, 외모, 흡연이 포함됨.

- ① 외모에 응답한 비율은 15~18세가 19~24세보다 높다.
- ② 게임 중독에 응답한 비율의 성별 격차는 연령별 격차보다 작다.
- ③ 직업에 응답한 여자의 수는 대인 관계에 응답한 남자의 수보다 많다.
- ④ 용돈 부족에 응답한 사람이 전체 응답한 사람에서 차지하는 비율은 5.8%를 초과한다.
- ⑤ 남자와 여자 모두 성적에 응답한 사람의 수는 성격에 응답한 사람의 수의 10배 이상이다.

\* 확인 사항  
 ○ 답안지의 해당란에 필요한 내용을 정확히 기입(표기)했는지 확인하시오.