

제 4 교시

사회탐구 영역 (동아시아사)


성명	수험번호	2	제 [] 선택
----	------	---	----------

1. (가)에 들어갈 유물로 가장 적절한 것은?

○○○ 문화 유적 발굴 보고서

- 대상 지역: 중국 저장성 위야오시
- 발굴 결과
 - 간석기, 토기, 법씨 등이 출토되었으며 이를 통해 창장강 하류 지역에서 벼농사에 기반을 둔 선사 문화가 발달했다는 것을 알 수 있다.
 - 벼 이삭이나 동물을 그려 넣은 토기가 출토된 점이 특징적이다.
- 대표 유물

(가)



2. (가) 황제에 대한 설명으로 옳은 것은?

역사 드라마 황제의 꿈

(가), ○의 전성기를 이끈 황제

남다른 카리스마를 바탕으로 흉노를 정벌하고 남비엣을 멸망시키는 등 영토를 크게 확장하였다. 또한 유교를 통치 이념으로 삼아 황제권 강화에 힘썼고 군현제를 확대 실시하여 중앙 집권 체제를 확립하였다.

- ① 천계령을 선포하였다.
- ② 분서갱유를 단행하였다.
- ③ 장건을 서역에 파견하였다.
- ④ 다이호 율령을 반포하였다.
- ⑤ 베이징에 자금성을 건설하였다.

3. 밑줄 친 '이 시대'에 있었던 사실로 옳은 것은? [3점]

이 시대는 주가 낙읍(궤양)으로 천도한 때부터 진(秦)이 통일한 때까지로, 제후들 사이에 치열한 경쟁이 벌어졌다.

맞아. 각국의 제후들은 철제 무기를 사용하는 등 부국강병을 위해서 노력하였지.

- ① 경극이 유행하였다.
- ② 과거제가 실시되었다.
- ③ 양명학이 성립하였다.
- ④ 제자백가가 등장하였다.
- ⑤ 천주실의가 저술되었다.

4. 다음 자료를 활용한 탐구 활동으로 가장 적절한 것은? [3점]

동아시아사 학습 자료

왕인 묘

일본 히라카타시에 있는 왕인의 묘이다. 백제 출신의 왕인은 일본에 한자와 유학을 전하였다.

호류사

호류사는 일본 나라현에 있는 아스카 시대의 대표적인 사찰로, 백제의 영향을 받은 것으로 알려져 있다.

- ① 도왜인의 활동 내용을 찾아본다.
- ② 통신사 파견의 결과를 파악한다.
- ③ 다루가치가 수행한 업무를 살펴본다.
- ④ 정화의 함대가 이동한 경로를 알아본다.
- ⑤ 5호가 남하하여 세운 국가들을 조사한다.

동아시아사

5. (가) 국가에 대한 설명으로 옳은 것은?

고사성어 사전

효시(嘯矢)

소리를 내며 날아가 공격의 시작을 알리는 화살을 말한다. 어떤 현상이 맨 처음 시작된 것을 비유적으로 일컫는 말로도 쓰인다. 역사서 『사기』에 의하면 동아시아 최초의 유목 국가인 (가)의 목척 선우가 효시를 만들어 사용하였다고 한다.

- ① 산킨코타이 제도를 시행하였다.
- ② 좌현왕, 우현왕을 두어 통치하였다.
- ③ 주몽 집단이 졸본 지역에서 건국하였다.
- ④ 화북과 강남을 잇는 대운하를 건설하였다.
- ⑤ 히미코에게 친위왜왕의 칭호를 하사하였다.

6. (가), (나) 시기 사이에 동아시아에서 있었던 사실로 옳은 것은? [3점]

(가) 오닌 원년, 쇼군 아시카가 요시마사의 후계자 선정 문제로 갈등하던 유력 다이묘들 사이에서 다툼이 벌어져 교토가 크게 파괴되었다.

(나) 도요토미 히데요시는 농민의 무기 소유를 금지해 농민이 무사 신분으로 이동하는 것을 제한하고, 농민과 무사의 거주지를 분리하는 정책을 시행하였다.

- ① 한국 - 대동법이 실시되었다.
- ② 중국 - 안사의 난이 일어났다.
- ③ 중국 - 대의각미록이 편찬되었다.
- ④ 일본 - 덴메이 대기근이 발생하였다.
- ⑤ 일본 - 포르투갈로부터 조총이 전래되었다.

7. (가) 국가에 대한 설명으로 옳은 것은? [3점]

동아시아사 신문

전연의 맹약이 체결되다

전연 지방에서 군사적으로 대치하던 송과 (가)은/는 맹약을 체결하여 형제 관계를 맺기로 하였다. 그동안 송은 연운 16주를 되찾기 위해 (가)와/과 여러 차례 전쟁을 벌였다. 이 맹약으로 양국 사이에 평화와 유지될 수 있을지 관심이 집중된다.

- ① 다이카 개신을 추진하였다.
- ② 완도에 청해진을 설치하였다.
- ③ 남면관·북면관제를 시행하였다.
- ④ 임안(항저우)을 수도로 정하였다.
- ⑤ 티베트 계통의 탕구트족이 건국하였다.

8. (가) 인물에 대한 설명으로 옳은 것은?

남송의 유학자인 (가)이/가 편찬한 사서집주를 읽어보았는가?

물론이네. 덕분에 성리학에 대한 이해가 깊어졌다네.

- ① 북학의를 저술하였다.
- ② 사고전서를 편찬하였다.
- ③ 후지와라 세이카와 교류하였다.
- ④ 심즉리와 치양지, 지행합일을 강조하였다.
- ⑤ 거경궁리와 격물치지의 수양 방법을 중시하였다.

9. (가)에 들어갈 내용으로 옳은 것은?

중국의 왕조들은 많은 사람과 넓은 영토를 효율적으로 다스리기 위해 통일적인 통치 기준을 마련하고자 하였고, 이 과정에서 율령이 정비되었다. 수·당 대를 거치며 완성된 율령 체제는 동아시아 각국에 전파되었고, 각국은 이를 수용하여 통치 체제를 정비하였다. 그 예로 발해는 (가)

- ① 국자감을 설립하였다.
- ② 천호제를 운영하였다.
- ③ 3성 6부제를 실시하였다.
- ④ 독서삼품과를 시행하였다.
- ⑤ 태정관과 신기관을 설치하였다.

10. 다음 편지를 쓴 인물에 대한 설명으로 옳은 것은? [3점]

저는 다행히도 장보고 대사의 인자한 덕을 만나 지금 적산 법화원에 평온하게 머물고 있습니다. 높고 깊은 돌보심을 무엇으로도 보답하기 어렵습니다. 송구하고 감사한 마음은 사물에 비유할 수 없습니다. 그런데 세월이 변하여 몸 햇살이 따사로워졌으므로 지금 이곳을 떠나 당의 여러 곳을 순례하고 부처의 가르침을 찾고자 합니다.

840년 1월 19일
일본국 구법승 ○○ 올림


- ① 쇼토쿠 태자의 스승이 되었다.
- ② 입당구법순례행기를 저술하였다.
- ③ 참선을 중시하는 선종을 창시하였다.
- ④ 인도를 순례하고 대당서역기를 남겼다.
- ⑤ 당에서 유학한 후 신라 화엄종을 열었다.

11. 밑줄 친 ‘이 전쟁’에 대한 설명으로 옳은 것만을 <보기>에서 고른 것은?



- <보 기> —
- ㄱ. 명이 참전하면서 국제전으로 확대되었다.
 - ㄴ. 일본의 성리학이 발전하는 계기가 되었다.
 - ㄷ. 조선의 친명배금 정책이 빌미가 되어 일어났다.
 - ㄹ. 조선과 명의 외교 관계가 단절되는 결과를 가져왔다.
- ① ㄱ, ㄴ ② ㄱ, ㄷ ③ ㄴ, ㄷ ④ ㄴ, ㄹ ⑤ ㄷ, ㄹ

12. 밑줄 친 ‘이 왕조’에 대한 설명으로 옳은 것은? [3점]



- ① 별무반을 조직하였다.
- ② 팔기제를 운영하였다.
- ③ 대월사기를 편찬하였다.
- ④ 일조편법을 실시하였다.
- ⑤ 헤이조쿄를 건설하였다.

13. (가)에 대한 설명으로 옳은 것만을 <보기>에서 고른 것은?

필리핀 마닐라는 갈레온 무역의 중심지였다. 에스파냐 상인들은 아메리카에서 채굴한 (가) 을/를 가지고 마닐라로 와서 중국의 비단, 도자기 등으로 바꾼 뒤 유럽으로 가져갔다. 이 과정을 통해 아메리카와 아시아, 유럽을 잇는 무역이 이루어졌고, 막대한 양의 (가) 이/가 중국으로 흘러 들어갔다.

- <보 기> —
- ㄱ. 징더전에서 생산된 대표적인 품목이었다.
 - ㄴ. 이와미 광산 개발로 생산량이 증가하였다.
 - ㄷ. 청에서 세금을 납부하는 용도로 사용되었다.
 - ㄹ. 일본이 송에서 대량 수입하여 화폐로 유통시켰다.
- ① ㄱ, ㄴ ② ㄱ, ㄷ ③ ㄴ, ㄷ ④ ㄴ, ㄹ ⑤ ㄷ, ㄹ

14. (가) 왕조에 대한 설명으로 옳은 것은? [3점]

유네스코 세계유산



원강 석굴
[Yungang Grottoes]


- 국 가 중국(China)
- 위 치 산시성 다통시
- 등 재 2001년

제20굴 대불

원강 석굴은 선비족이 세운 (가) 이/가 화북을 통일한 이후 국가의 안위를 기원하며 조성하기 시작한 것이다. 가장 대표적인 제20굴의 대불은 (가) 의 황제를 본떠 만든 것으로 알려져 있다.

- ① 보초를 발행하였다.
- ② 남송을 멸망시켰다.
- ③ 시박사를 설치하였다.
- ④ 한화 정책을 추진하였다.
- ⑤ 맹안·모극제를 시행하였다.

15. (가) 왕조 시기 동아시아의 경제 상황으로 옳지 않은 것은?



이 그림은 영국의 매카트니 사절단이 (가) 의 황제를 알현하는 모습을 그린 것이다. 당시 (가) 은/는 유럽 상인에게 광저우에 설치된 공행을 통한 무역만 허락하였다. 이에 영국은 매카트니를 파견하여 무역 확대를 요청하였으나, 황제는 이를 거절하였다.


- ① 한국 - 송상, 경강상인 등이 활약하였다.
- ② 중국 - 강남 지역 시진의 수가 증가하였다.
- ③ 중국 - 교초가 발행되어 전국적으로 유통되었다.
- ④ 일본 - 네덜란드 상인이 데지마에서 교역하였다.
- ⑤ 일본 - 조카마치를 중심으로 상공업이 발달하였다.

16. (가) 왕조 시기의 동아시아 상황으로 옳은 것은? [3점]

동아시아사 인물 카드

문성 공주

(가)의 황족으로 토번의 왕 송첸캄포에게 화번공주로 보내졌다. 그녀는 농사 기술, 종이와 먹 제조술, 불상과 불경 등 여러 문물이 토번에 전해지는 데 기여하였다.



문성 공주 상

- ① 한국 - 서희의 외교로 강동 6주를 얻었다.
- ② 한국 - 초량 왜관에서 일본과 교역하였다.
- ③ 중국 - 타이완의 정성공 세력을 정벌하였다.
- ④ 일본 - 신패를 발급하여 무역을 통제하였다.
- ⑤ 일본 - 견당사를 파견하여 문물을 수용하였다.

17. 다음 상황이 발생한 시기를 연표에서 옳게 고른 것은? [3점]

사르후 전투에서 패색이 짙어지자 도원수 강홍립은 군대를 이끌고 누르하치에게 투항하였다. 그는 조선군이 자발적으로 전투에 참전한 것이 아니라 명에게 은혜를 갚기 위해 할 수 없이 온 것이라고 말하였다. 그의 행동은 형세를 보아 항배를 정하라는 광해군의 밀명에 따른 것이었다.

(가)	(나)	(다)	(라)	(마)
센고쿠 시대 통일	에도 막부 수립	후금 건국	인조 반정	병자호란 발발
				이자성의 베이징 점령

- ① (가) ② (나) ③ (다) ④ (라) ⑤ (마)


18. (가)에 들어갈 내용으로 가장 적절한 것은?

학습 주제: 몽골 제국 시기의 동서 교류

몽골 제국 시기에는 동서 교역망이 통합되면서 교류가 활발해졌다. 그 사례로는 뭐가 있을까?

서아시아 천문학의 영향으로 수시력이 만들어졌다.

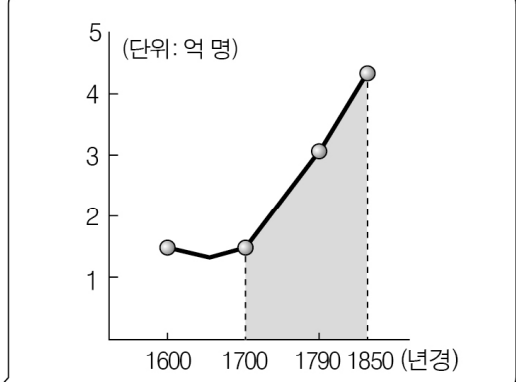
그리고 (가)



- ① 마테오 리치가 곤여만국전도를 제작하였다.
- ② 중국의 인쇄술이 서아시아와 유럽에 전해졌다.
- ③ 서양의 의학서를 번역한 해체신서가 발간되었다.
- ④ 벨테브레이가 훈련도감에서 무기 제조에 참여하였다.
- ⑤ 카스틸리오네가 원명원을 설계하는 일에 도움을 주었다.

19. (가)에 들어갈 내용으로 가장 적절한 것은? [3점]

선생님, 이 그래프의 색칠된 시기에 중국의 인구가 크게 증가한 이유가 궁금해요.




여러 이유가 있는데 그 중 하나는 (가) 때문이야.

- ① 균전제가 실시되어 자영농이 늘어났기
- ② 우경이 시작되면서 농업 생산력이 증가하였기
- ③ 5대 10국의 분열이 수습되어 사회가 안정되었기
- ④ 옥수수, 고구마 등 신대륙의 작물이 널리 보급되었기
- ⑤ 왕안석이 재정 수입을 늘리기 위해 개혁을 추진하였기

20. 밑줄 친 '이 막부' 시기의 동아시아에서 볼 수 있는 모습으로 옳지 않은 것은?

· 초 대 장 ·

히로시게는 우키요에가 유행한 이 막부 시기의 대표적인 화가입니다. 그는 쇼군이 있는 에도를 출발하여 교토까지 여행하며 경험한 것을 많은 우키요에 작품으로 남겼습니다. 당시 일본의 모습을 생생하게 느낄 수 있는 이 작품들을 이번 전시회에서 소개합니다.



- ① 한국 - 연행사로 선발된 역관
- ② 한국 - 춘향전을 읽고 있는 궁녀
- ③ 중국 - 홍루몽을 집필하는 소설가
- ④ 중국 - 대안탑 건설을 명령하는 황제
- ⑤ 일본 - 가부키 공연을 관람하는 조닌

* 확인 사항

○ 답안지의 해당란에 필요한 내용을 정확히 기입(표기)했는지 확인 하시오.