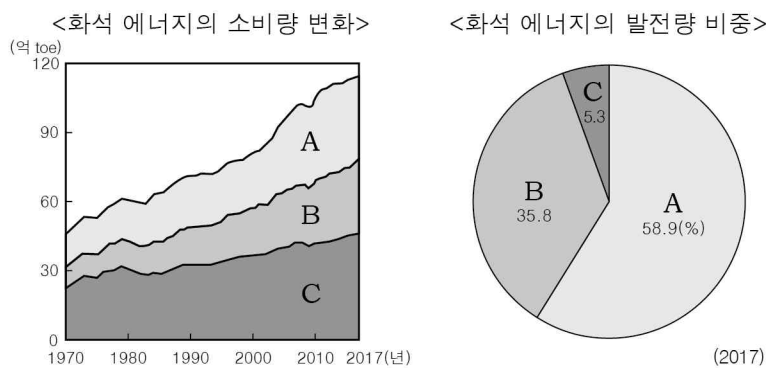


5. 다음 글의 밑줄 친 ㉠ ~ ㉣에 대한 설명으로 옳지 않은 것은?

㉠ 세계 도시는 세계 자본과 정보 흐름의 중심지로서 세계 경제 시스템과 밀접한 관련이 있다. 세계 도시에는 주로 대기업의 본사가 입지해 있으며, ㉡ 법률, 회계, 광고 등 기업의 생산 활동에 도움을 주는 서비스업이 집적되어 있다. 세계 도시는 각 도시의 경제적·정치적·문화적 영향력에 따라 ㉢ 최상위 세계 도시, ㉣ 상위 세계 도시, ㉤ 하위 세계 도시로 구분된다.

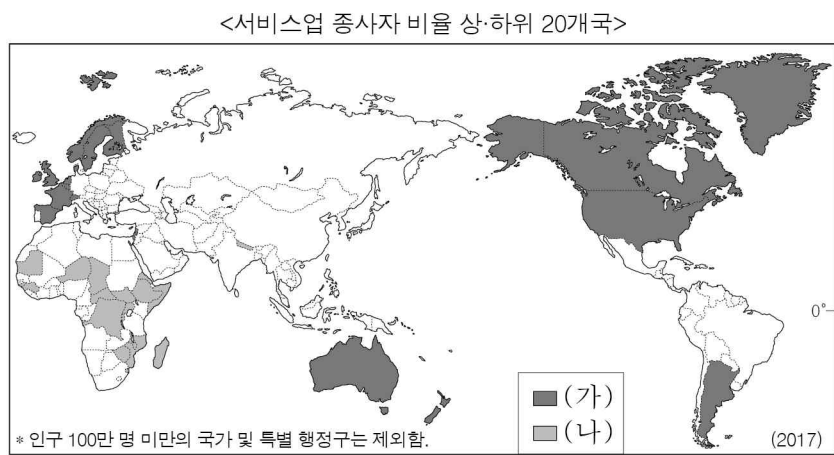
- ① ㉠은 교통·통신이 발달할수록 영향력이 확대된다.
- ② ㉡은 생산자 서비스업에 해당한다.
- ③ ㉢의 사례로는 뉴욕, 런던, 도쿄를 들 수 있다.
- ④ ㉣은 ㉢보다 도시의 개수가 많다.
- ⑤ ㉤은 ㉢보다 다국적 기업의 본사 수가 많다.

6. 그래프는 세 화석 에너지의 세계 소비량 변화와 발전량 비중을 나타낸 것이다. A~C 화석 에너지에 대한 설명으로 옳은 것은? (단, A~C는 석유, 석탄, 천연가스 중 하나임.)



- ① A는 신생대 제3기층의 배사 구조에 주로 매장되어 있다.
- ② B는 냉동 액화 기술의 발달로 사용량이 급증하였다.
- ③ C는 산업 혁명 당시 주요 에너지 자원이었다.
- ④ B는 A보다 발전 시 대기 오염 물질의 배출량이 많다.
- ⑤ B는 C보다 운송용 연료로 사용되는 비중이 높다.

7. 지도에 표시된 (나) 국가군과 비교한 (가) 국가군의 상대적 특징을 그림의 A~E에서 고른 것은?



- ① A
- ② B
- ③ C
- ④ D
- ⑤ E

8. 다음은 형성 평가지의 일부이다. (가), (나)에 들어갈 옳은 질문을 <보기>에서 고른 것은?

형성 평가 단원명 세계 인식의 시·공간적 차이

지도에 대한 질문에 '예', '아니요'로 답을 쓰시오. (각 문항당 5점)

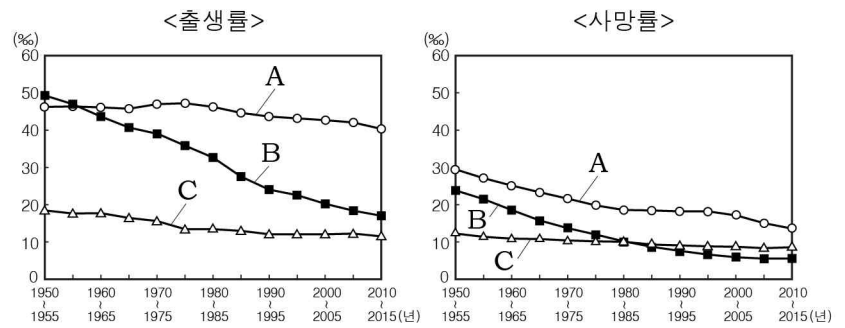
번호	질문	학생답란	점수
1	(가)	예	5
2	(나)	아니요	5
⋮			

< 보기 >

ㄱ. (가): 지도의 중앙이 아라비아 반도입니까?
 ㄴ. (가): 크리스티교의 세계관이 반영되어 있습니까?
 ㄷ. (나): 아메리카 대륙이 표현되어 있습니까?
 ㄹ. (나): 아프리카가 유럽보다 위에 그려져 있습니까?

- ① ㄱ, ㄴ ② ㄱ, ㄷ ③ ㄴ, ㄷ ④ ㄴ, ㄹ ⑤ ㄷ, ㄹ

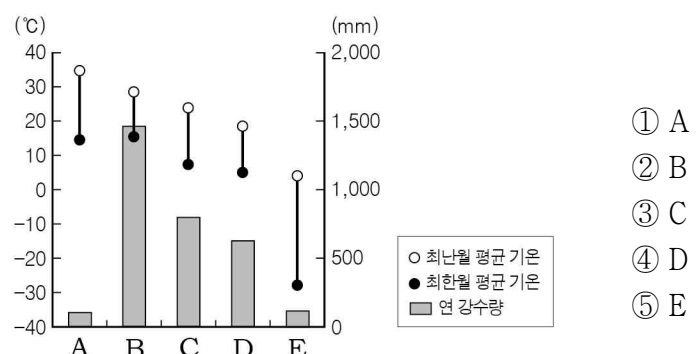
9. 그래프는 세 국가의 출생률과 사망률을 나타낸 것이다. A~C 국가에 대한 추론으로 옳은 것은? (단, A~C는 터키, 프랑스, 나이지리아 중 하나임.)



- ① A는 세 국가 중 2015년에 노인 인구 비중이 가장 높을 것이다.
- ② C는 2015년에 피라미드형 인구 구조가 나타날 것이다.
- ③ A는 B보다 2015년에 중위 연령이 높을 것이다.
- ④ A는 C보다 2015년에 인구의 자연 증가율이 높을 것이다.
- ⑤ B는 C보다 경제 발전 수준이 높을 것이다.

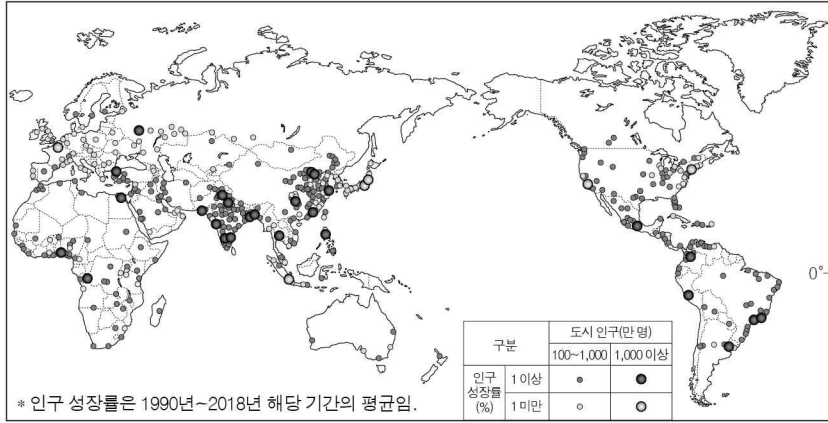
10. (가) 지역의 기후 특성을 그래프의 A~E에서 고른 것은? [3점]

(가)에서는 여름 동안 작은 풀과 이끼류 등의 식생이 나타난다. 지표면에는 동결과 융해가 반복되는 활동층이 발달해 있고 그 아래는 대부분 영구 동토층이 나타난다. 여름철에 기온이 상승하면 활동층이 녹아 지반이 불안정해져 가옥이 붕괴되기도 한다.



- ① A
- ② B
- ③ C
- ④ D
- ⑤ E

11. 지도는 세계 대도시의 인구 규모와 인구 성장률을 나타낸 것이다. 이에 대한 옳은 분석을 <보기>에서 고른 것은? [3점]

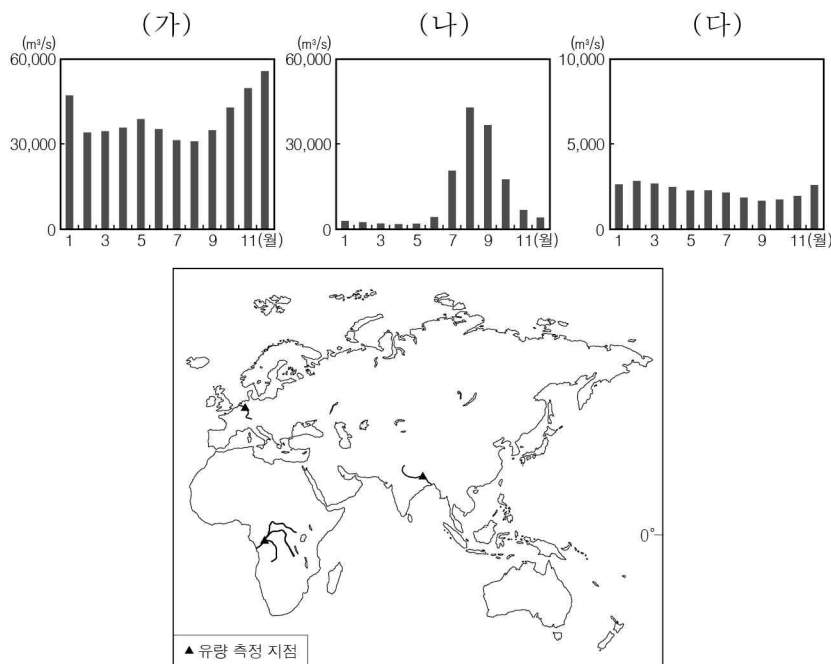


< 보기 >

- ㄱ. 인구 성장률 1% 미만의 대도시는 아프리카보다 유럽에 많이 분포한다.
- ㄴ. 인구 백만 명 이상의 대도시는 북반구보다 남반구에 많이 분포한다.
- ㄷ. 인구 천만 명 이상의 대도시는 라틴 아메리카가 앵글로아메리카보다 많다.
- ㄹ. 라틴 아메리카의 인구 백만 명 이상의 대도시는 해안보다 내륙 쪽에 주로 분포한다.

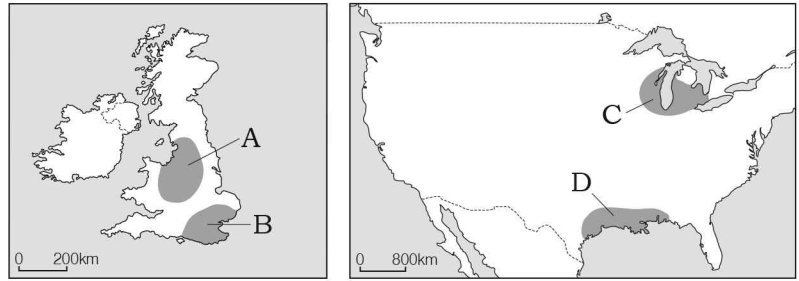
- ① ㄱ, ㄴ ② ㄱ, ㄷ ③ ㄴ, ㄷ ④ ㄴ, ㄹ ⑤ ㄷ, ㄹ

12. 그래프는 지도에 표시된 세 하천의 월평균 유량을 나타낸 것이다. (가)~(다) 하천에 대한 설명으로 옳은 것은? [3점]



- ① (가)는 인도양으로 유입한다.
- ② (나)는 주로 건조 기후 지역을 흐른다.
- ③ (다)는 여러 국가의 영토를 거쳐 흐르는 하천이다.
- ④ (가)는 (나)보다 계절풍의 영향으로 유량 변화가 크다.
- ⑤ (다)는 (가)보다 유역 면적이 넓다.

13. 지도의 A~D 공업 지역에 대한 설명으로 옳지 않은 것은? [3점]



- ① A의 형성 초기에 주요 입지 요인은 풍부한 지하자원이다.
- ② C는 온화한 기후를 바탕으로 영화 제작 산업이 발달해 있다.
- ③ D는 석유 화학 및 우주 항공 산업이 발달해 있다.
- ④ B는 A보다 지식 집약적인 고부가 가치 산업이 발달해 있다.
- ⑤ C는 D보다 형성 시기가 이른다.

14. 다음 자료의 밑줄 친 ㉠~㉣에 대한 설명으로 옳지 않은 것은?

인도네시아

연관검색어 2018 아시안게임 개최국 세계에서 모슬렘 수가 가장 많은 국가 발리섬

지리 정보 여행 정보 기타 정보

- 수 도 자카르타 (㉠ 표준 경선: 동경 105°)
- 인 구 약 266,495천 명
- 문화권 ㉡ 동남아시아 문화권
- 종 교 ㉢ 이슬람교(87%), 크리스티교(10%), 기타(3%)
- 민 족 자바족(41%), 순다족(15%), 그 외 300여 종족 분포
- ㉣ 국가 간 교역량 수출액 1,640억 달러, 수입액 1,350억 달러(2016년 기준)
 - ↳ 주요 수출국(억 달러): 미국(195), 중국(186), 일본(175) 등
 - ↳ 주요 수입국(억 달러): 중국(310), 싱가포르(151), 일본(121) 등
- 지역 경제 협력체 동남아시아 국가 연합(ASEAN) 회원국
- 우리나라와의 관계 ㉣ 한국-ASEAN 자유무역협정 체결

- ① ㉠을 통해 영국과의 시차를 알 수 있다.
- ② ㉡은 동질 지역에 해당한다.
- ③ ㉢은 원격 탐사를 통해 수집한 정보이다.
- ④ ㉣은 유선도로 표현할 수 있다.
- ⑤ ㉣은 관계 정보에 해당한다.

15. 다음의 (가), (나) 인종(민족)에 대한 옳은 설명을 <보기>에서 고른 것은? (단, (가), (나)는 아프리카계와 유럽계 중 하나임.)

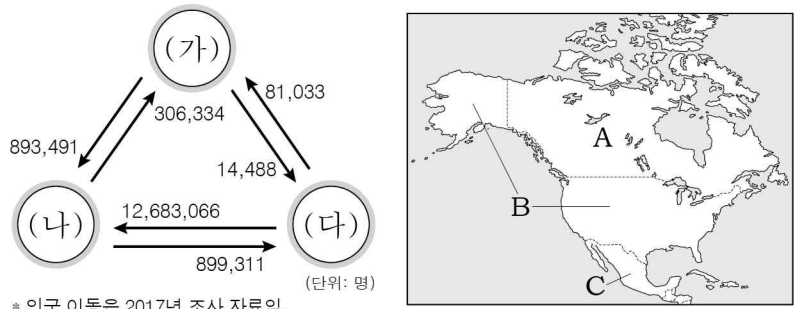
‘소울푸드(soul food)’는 과거 미국 남부 지방에서 생활했던 (가)가 먹었던 음식으로 그들의 고단한 삶을 상징한다. 이들은 (나)가 경영하는 대규모 목화 플랜테이션 농장에서 노예로 일하며 농장주가 주로 사용하지 않는 식재료로 음식을 만들어 먹었다. 당시 닭의 목과 날개 부위를 기름에 튀겨 먹었던 음식이 오늘날 프라이드치킨으로 대중화되었고, 이 프라이드치킨이 대표적인 소울푸드이다.

< 보기 >

- ㄱ. (가)는 내륙의 보호 구역에서 주로 거주한다.
- ㄴ. (나)는 가정에서 주로 에스파냐어를 사용한다.
- ㄷ. (가)는 (나)보다 미국 내에서 사회·경제적 지위가 낮다.
- ㄹ. (나)는 (가)보다 미국의 총인구에서 차지하는 비중이 높다.

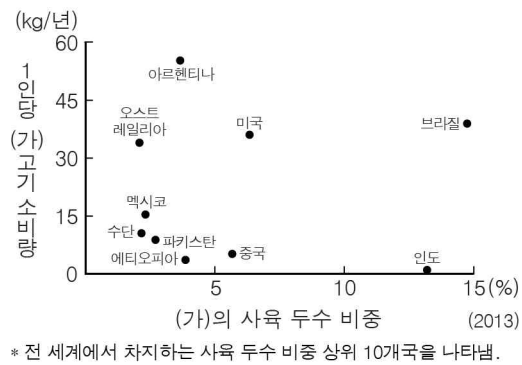
- ① ㄱ, ㄴ ② ㄱ, ㄷ ③ ㄴ, ㄷ ④ ㄴ, ㄹ ⑤ ㄷ, ㄹ

16. 그림은 지도의 A~C 국가 간 인구 이동을 나타낸 것이다. (가)~(다)에 해당하는 국가로 옳은 것은?



- | | | | | | | | |
|---|-----|-----|-----|---|-----|-----|-----|
| | (가) | (나) | (다) | | (가) | (나) | (다) |
| ① | A | B | C | ② | A | C | B |
| ③ | B | A | C | ④ | C | A | B |
| ⑤ | C | B | A | | | | |

17. 그래프의 (가) 가축에 대한 옳은 설명을 <보기>에서 고른 것은? (단, (가)는 소, 양, 돼지 중 하나임.) [3점]



< 보기 >

ㄱ. 이슬람교 신자들은 먹는 것을 금기시한다.
 ㄴ. 아시아에서는 농업 노동력을 대체하기도 한다.
 ㄷ. 모직 공업의 주원료로 이용되며 기업적으로 사육된다.
 ㄹ. 인도에서는 종교적인 이유로 1인당 고기 소비량이 적다.

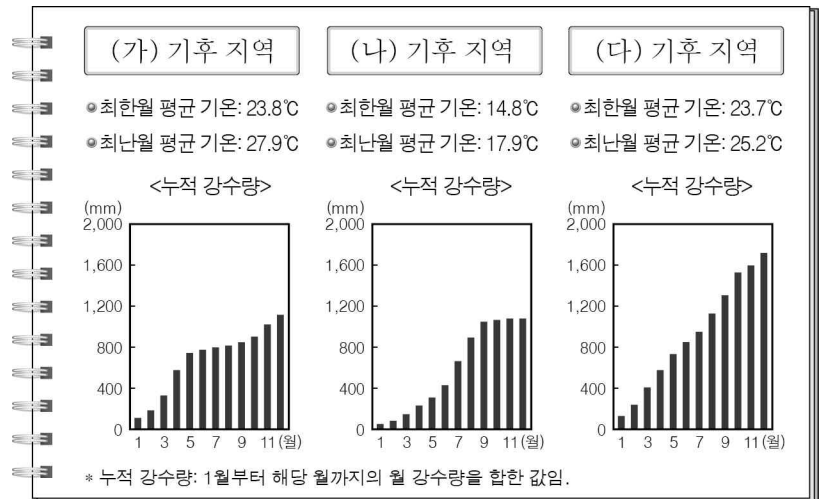
- ① ㄱ, ㄴ ② ㄱ, ㄷ ③ ㄴ, ㄷ ④ ㄴ, ㄹ ⑤ ㄷ, ㄹ

18. 자료는 지도의 세 국가에서 신자 수 비중이 가장 큰 종교를 나타낸 것이다. (가)~(다) 종교에 대한 설명으로 옳은 것은? (단, (가)~(다)는 이슬람교, 크리스티교, 힌두교 중 하나임.) [3점]



- ① (가)의 대표적 경관은 첨탑과 둥근 지붕의 모스크이다.
 ② (나)의 신자들은 라마단이라는 금식 기간을 갖는다.
 ③ (다)는 서남아시아에서 발생하여 유럽으로 전파되었다.
 ④ (가), (나)는 여러 신을 믿는 다신교이다.
 ⑤ (나)는 (다)보다 전 세계 신자 수가 적다.

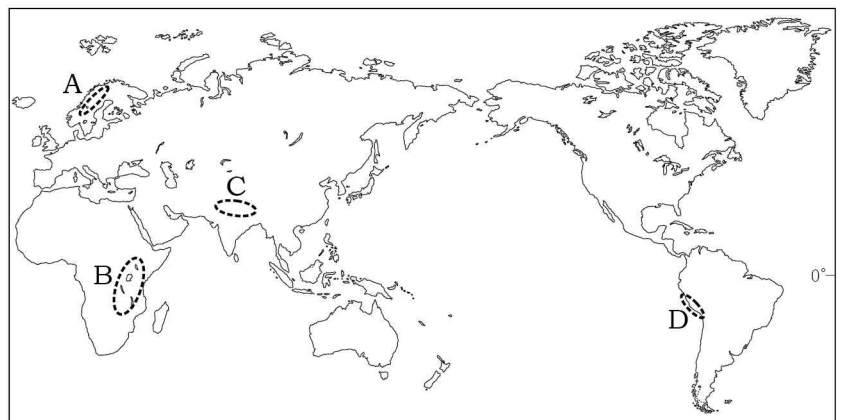
19. 다음 자료는 (가)~(다) 기후 지역에 대하여 학생이 정리한 것이다. 이에 대한 설명으로 옳지 않은 것은? (단, (가)~(다)는 열대 우림 기후, 사바나 기후, 열대 고산 기후 중 하나임.) [3점]



- ① (가)는 우기와 건기가 뚜렷하게 구분된다.
 ② (나)는 해발 고도의 영향으로 연중 온화한 기후가 지속된다.
 ③ (다)는 연중 무역풍의 영향을 받는다.
 ④ (가)는 (다)보다 단위 면적당 수목 밀도가 높다.
 ⑤ (다)는 (나)보다 대류성 강수의 발생 빈도가 높다.

20. (가), (나)에 해당하는 지역을 지도의 A~D에서 고른 것은?

(가) 대륙의 내부에서 지각판이 서로 갈라져 대규모의 지구대가 형성되었다. 화산과 지진 활동이 활발하며, 단층 작용에 의해 형성된 호수와 폭포가 분포한다.
 (나) 두 대륙판의 충돌로 해발 고도가 높고 험준한 대규모의 습곡 산지가 형성되었다. 지진은 빈번하게 발생하지만 지각이 두꺼워 화산 활동은 거의 일어나지 않는다.



- | | | | | | | | | |
|---|-----|-----|---|-----|-----|---|-----|-----|
| | (가) | (나) | | (가) | (나) | | (가) | (나) |
| ① | A | D | ② | B | A | ③ | B | C |
| ④ | C | B | ⑤ | D | C | | | |

※ 확인 사항

답안지의 해당란에 필요한 내용을 정확히 기입(표기)했는지 확인하십시오.