

제 4 교시

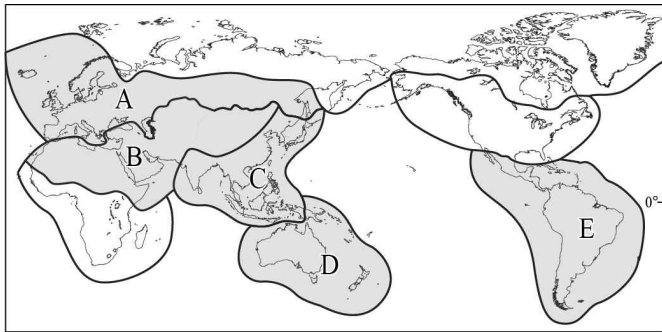
사회탐구 영역 (세계 지리)

성명		수험번호					2		
----	--	------	--	--	--	--	---	--	--

1. 다음 자료는 어떤 문화 지역을 ‘워드 클라우드’로 표현한 것이다. (가)에 해당하는 문화 지역을 지도의 A~E에서 고른 것은?



* 워드 클라우드(Word cloud)는 문서의 키워드, 개념 등을 직관적으로 파악할 수 있도록 핵심 단어를 시각적으로 돋보이게 하는 기법임.

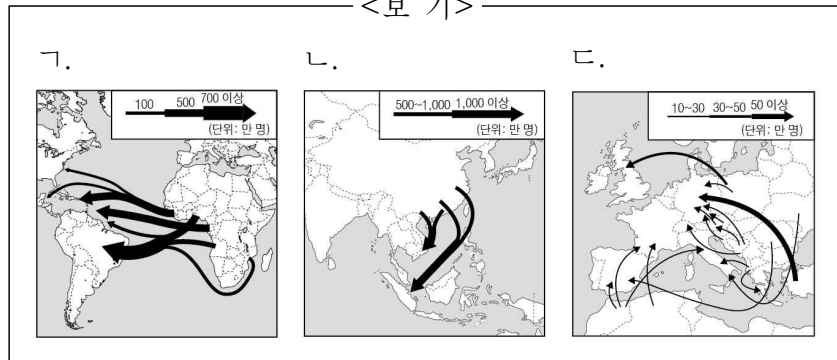


- ① A ② B ③ C ④ D ⑤ E

2. 다음은 세계 지리 수업의 한 장면이다. (가), (나)에 해당하는 인구 이동을 <보기>에서 고른 것은? [3점]

교사: (가), (나) 인구 이동에 대해 이야기해 볼까요?	
(가)	학생1: 산업이 발달한 선진국으로의 경제적 인구 이동입니다. 학생2: 이주민들은 단순노동직에 종사하는 비중이 큼니다.
(나)	학생3: 강제적 인구 이동입니다. 학생4: 이주 초기 이주민들은 1차 산업에 종사하는 비중이 컸습니다.

<보기>



- | | | | | | |
|---|-----|-----|---|-----|-----|
| | (가) | (나) | | (가) | (나) |
| ① | ㄱ | ㄴ | ② | ㄱ | ㄷ |
| ③ | ㄴ | ㄷ | ④ | ㄷ | ㄱ |
| ⑤ | ㄷ | ㄴ | | | |

3. 다음 글의 (가)~(다) 종교에 대한 옳은 설명을 <보기>에서 고른 것은?

- (가)는 십자가와 종탑이 있는 건축물이 보편적 경관이며, 십자가는 종탑 또는 돔 모양의 지붕 위에 있다.
- (나)는 돔과 첨탑으로 이루어져 있는 모스크가 유명하고, 모스크는 예배와 더불어 각종 모임의 장소로도 이용된다.
- (다)는 부처상과 탑 등이 대표적인 경관이며, 탑은 지역에 따라 다양한 재료로 지어진다.

<보기>

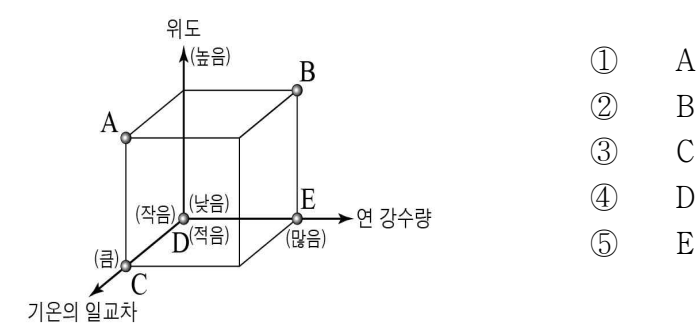
- ㄱ. (가)는 민족 종교, (나)는 보편 종교에 해당한다.
- ㄴ. (가)의 여성 신도들은 전통 의상으로 히잡을 두른다.
- ㄷ. (다)는 (나)보다 발생 시기가 이른다.
- ㄹ. (가)~(다)의 기원지는 모두 같은 대륙에 있다.

- ① ㄱ, ㄴ ② ㄱ, ㄷ ③ ㄴ, ㄷ ④ ㄴ, ㄹ ⑤ ㄷ, ㄹ

4. 다음 자료는 두 기후 지역의 대표적인 전통 가옥을 나타낸 것이다. (가)와 비교한 (나) 기후 지역의 상대적 특징을 그림의 A~E에서 고른 것은? [3점]

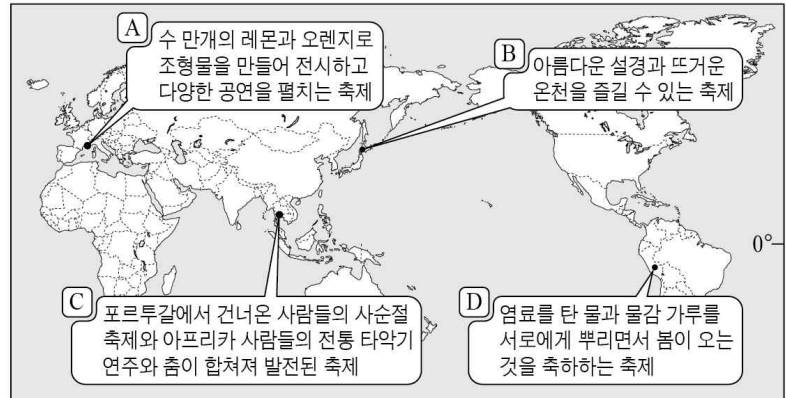


가축과 함께 풀과 물을 찾아다니는 이동식 생활에 적합한 천막집 지면의 열기와 습기를 차단하고 해충의 침입을 막기 위한 고상가옥



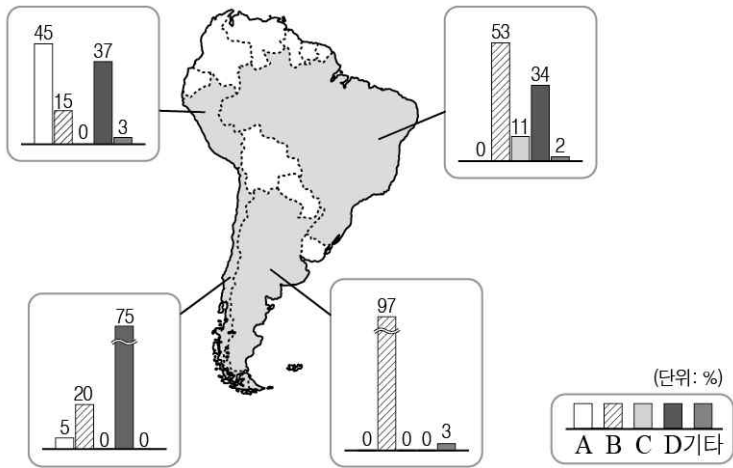
- ① A
② B
③ C
④ D
⑤ E

5. 지도에 표시된 지역에서 개최되는 축제에 대한 옳은 설명을 A~D에서 고른 것은?



- ① A, B ② A, C ③ B, C ④ B, D ⑤ C, D

6. 그래프는 지도에 표시된 국가의 인종(민족) 구성을 나타낸 것이다. A~D에 대한 설명으로 옳은 것은? (단, A~D는 아프리카계, 원주민, 유럽계, 혼혈 중 하나임.) [3점]



- ① A는 C보다 라틴 아메리카에서 거주한 역사가 길다.
- ② B는 플랜테이션 노동력 확보를 위해 이주되었다.
- ③ C에는 메스티소, 무라토, 삼보 등이 있다.
- ④ D는 고산 지역에서 고대 문명을 발달시켰다.
- ⑤ A~D 중 A는 라틴 아메리카 인구에서 차지하는 비중이 가장 크다.

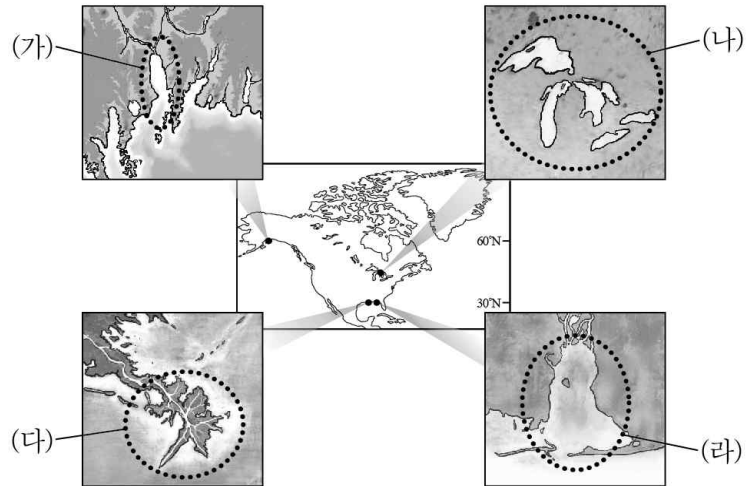
7. 다음 글의 밑줄 친 ㉠~㉣에 대한 옳은 설명을 <보기>에서 고른 것은? [3점]

두바이 거주민의 4분의 3이상을 차지하는 외국인 노동자들은 ㉠ 두바이에서 행해지는 거의 모든 노동을 담당하고 있다. 이들의 대부분은 건설 현장의 노동자로 일하거나 부유한 ㉡ 두바이 사람들의 집에서 요리, 청소 등의 가사 도우미, 운전기사 등으로 일한다. 반면에 ㉢ 서양에서 온 외국인 노동자들은 초고층 건물의 건설 현장에서 책임자로 일하거나 낙타 사육 농장의 동물 의사 또는 시추 현장의 엔지니어로 일한다. ... (중략) ...
자동차를 타고 ㉣ 금요 예배를 보러 사원으로 가는 대다수의 부유한 두바이 사람들은 시추탑과 석유 시설을 가까이서 본 적이 거의 없다.
- 「빨간 양털 조끼의 세계 여행」 중에서-

<보 기>
 가. ㉠은 유입 인구보다 유출 인구가 많다.
 나. ㉡은 아랍어를 공용어로 사용한다.
 다. ㉢은 전문직에 종사하는 비중이 크다.
 리. ㉣에는 다양한 신들의 모습이 그려져 있다.

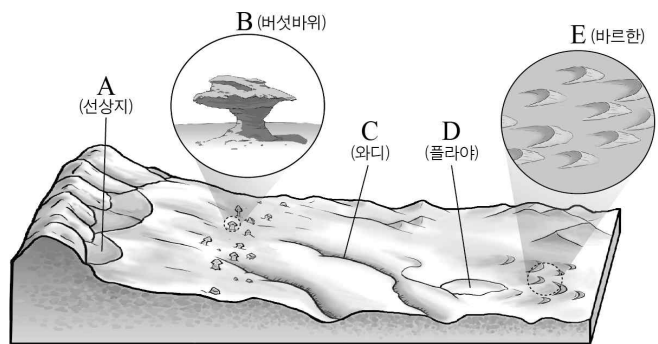
- ① 가, 나 ② 가, 다 ③ 나, 다 ④ 나, 리 ⑤ 다, 리

8. 지도의 (가)~(라) 지형에 대한 설명으로 옳지 않은 것은? [3점]



- ① (가)는 해수면 상승으로 형성된 피오르 해안이다.
- ② (나)는 빙하가 후퇴하면서 형성된 호수이다.
- ③ (다)는 조수 간만의 차가 작은 해안에서 발달이 유리하다.
- ④ (라)는 시간이 경과되면서 호수의 규모가 축소된다.
- ⑤ (다)와 (라)는 해안의 돌출부에 발달한다.

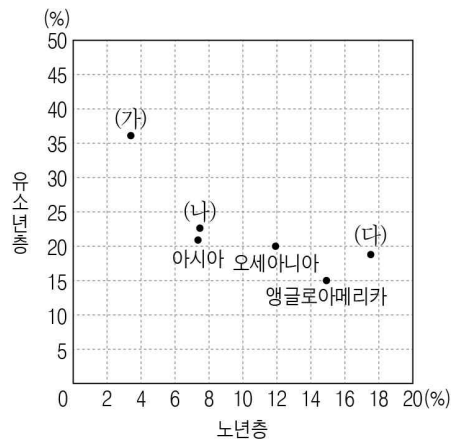
9. 그림은 건조 지형을 모식적으로 나타낸 것이다. A~E에 대한 설명으로 옳은 것은?



- ① A는 유수에 의해 퇴적된 부채꼴 모양의 지형이다.
- ② B는 바람의 퇴적 작용으로 형성된 모래 언덕이다.
- ③ C는 연중 물이 흐르는 하천이다.
- ④ D는 지하 관개 수로의 주요 물 공급원이다.
- ⑤ E는 포상홍수에 의한 환경사의 침식 지형이다.

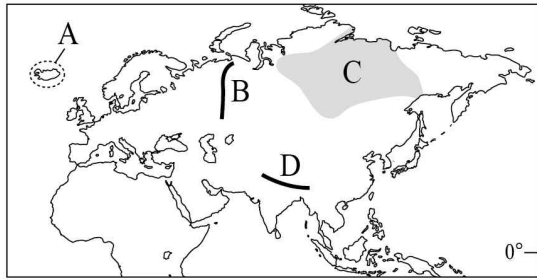
10. (가)~(다)에 대한 설명으로 옳은 것은? (단, (가)~(다)는 라틴 아메리카, 아프리카, 유럽 중 하나임.) [3점]

<지역(대륙)별 유소년층과 노년층의 인구 비중>



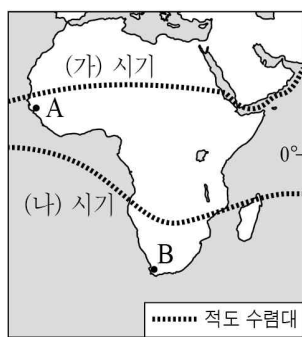
- ① (가)는 유럽, (나)는 아프리카이다.
- ② (가)는 중형 인구 구조가 나타난다.
- ③ (나)는 (가)보다 총 부양비가 높다.
- ④ (다)는 (가)보다 노령화 지수가 높다.
- ⑤ (가)~(다) 중 중위 연령은 (가)가 가장 높다.

11. 지도에 표시된 A~D 대지형에 대한 설명으로 옳지 않은 것은?



- ① A는 D보다 화산 활동이 활발하다.
- ② B는 C보다 형성 시기가 이르다.
- ③ C는 안정 지괴로 철광석이 주로 분포한다.
- ④ D는 B보다 평균 해발 고도가 높다.
- ⑤ A는 지각 판이 분리, D는 지각 판이 충돌하는 경계이다.

12. 지도는 (가), (나) 시기의 적도 수렴대 위치를 나타낸 것이다. 이에 대한 옳은 설명을 <보기>에서 고른 것은? (단, (가), (나)는 1월과 7월 중 하나임.) [3점]

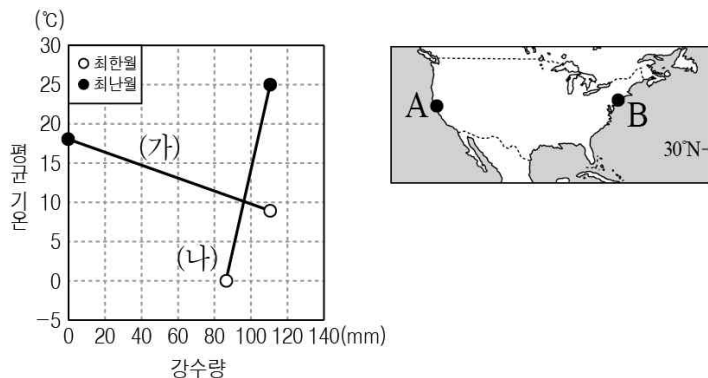


<보 기>

ㄱ. A의 강수량은 (나)보다 (가) 시기에 많다.
 ㄴ. B의 낮의 길이는 (가)보다 (나) 시기에 길다.
 ㄷ. (나) 시기에 A는 남동 무역풍이 우세하다.
 ㄹ. (가)는 1월, (나)는 7월이다.

- ① ㄱ, ㄴ ② ㄱ, ㄷ ③ ㄴ, ㄷ ④ ㄴ, ㄹ ⑤ ㄷ, ㄹ

13. 그래프는 지도에 표시된 두 지점의 기후 값을 나타낸 것이다. (가), (나) 지역에 대한 옳은 설명을 <보기>에서 고른 것은? [3점]

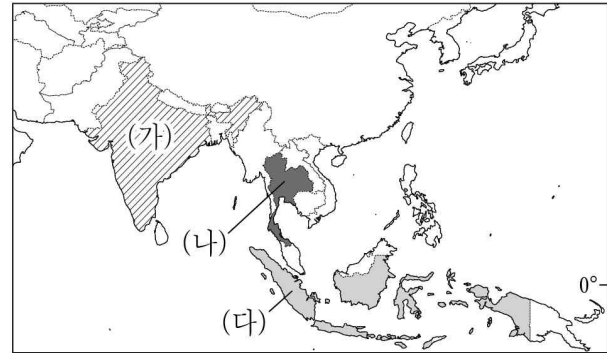


<보 기>

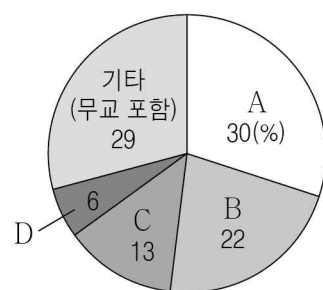
ㄱ. (가)는 여름에 아열대 고압대의 영향을 많이 받는다.
 ㄴ. (가)는 (나)보다 연교차가 크다.
 ㄷ. (나)는 (가)보다 강수의 편차가 작다.
 ㄹ. (가)는 B, (나)는 A이다.

- ① ㄱ, ㄴ ② ㄱ, ㄷ ③ ㄴ, ㄷ ④ ㄴ, ㄹ ⑤ ㄷ, ㄹ

14. 지도에 표시된 (가)~(다) 국가의 신자 수 비중이 가장 높은 종교를 그래프의 A~D에서 고른 것은? [3점]



<세계의 종교 인구 구성>



- | | (가) | (나) | (다) |
|---|-----|-----|-----|
| ① | B | A | D |
| ② | B | C | A |
| ③ | C | B | A |
| ④ | C | D | B |
| ⑤ | D | A | C |

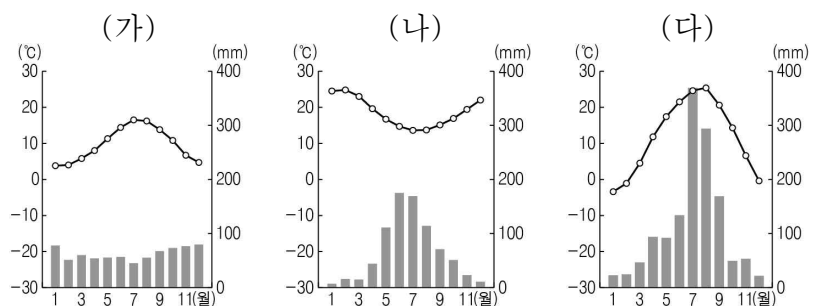
15. 다음은 세계 지리 수업의 한 장면이다. 교사의 질문에 옳게 대답한 학생을 고른 것은?

교사: (가), (나) 세계지도에 대해 설명해 볼까요?

갑: (가)의 A는 지중해입니다.
 을: (가)의 위쪽은 동쪽입니다.
 병: (나)는 크리스티교 세계관이 반영되어 있습니다.
 정: (가), (나)에는 아메리카가 표현되어 있습니다.

- ① 갑, 을 ② 갑, 병 ③ 을, 병 ④ 을, 정 ⑤ 병, 정

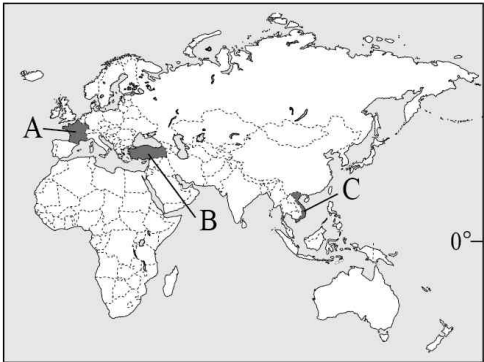
16. (가)~(다)와 같은 기후 특성이 나타나는 지역에 대한 설명으로 옳지 않은 것은?



- ① (가)는 목초 재배에 유리하여 혼합 농업이 발달한다.
- ② (나)는 여름이 고온 건조하여 포도, 오렌지 등을 재배한다.
- ③ (다)는 (가)보다 하천 교통 발달에 유리하다.
- ④ (다)는 (나)보다 벼농사에 유리하다.
- ⑤ (가), (다)는 북반구, (나)는 남반구에 위치한다.

17. 다음 글은 두 국가를 대표하는 전통 음식을 나타낸 것이다. (가), (나)에 해당하는 국가를 지도의 A~C에서 고른 것은?

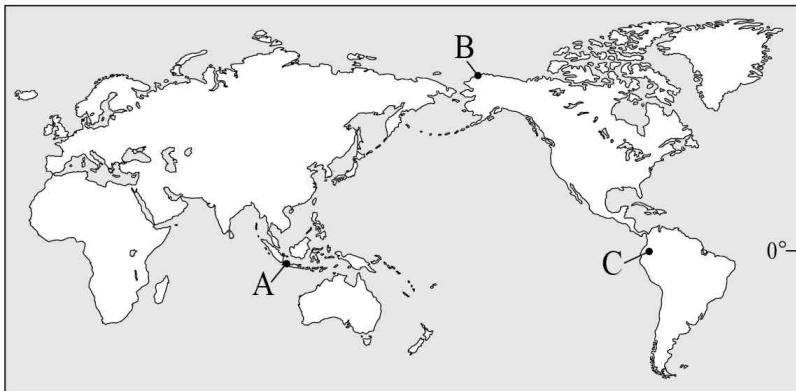
(가) '피'는 쌀가루로 만든 국수를 소나 닭의 뼈로 고아 만든 국물에 넣어 숙주나물과 고수 잎 등을 얹어 먹는 음식이다.
 (나) '케밥'은 유목 생활에서 쉽고 간단하게 육류를 요리해 먹던 것이 발전한 것으로 고기를 얇게 썰어 쇠꼬챙이에 끼우고 불에 구워 먹는 음식이다.



- | | | |
|---|-----|-----|
| | (가) | (나) |
| ① | A | B |
| ② | B | A |
| ③ | B | C |
| ④ | C | A |
| ⑤ | C | B |

18. 다음 글은 세계의 기후 구분에 대해 학생이 정리한 내용의 일부이다. (가)~(다)에 해당하는 지역을 지도의 A~C에서 고른 것은? [3점]

1. 열대 기후(A): 최한월 평균 기온 18°C 이상
 ○ f: 월 강수량 60mm 이상, 연중 습윤 (가)
 ○ w: 건기와 우기가 뚜렷, 겨울 건조
 ○ m: f와 w의 중간, 몬순 기후
 ※ 열대 고산 기후: 해발 고도가 높아 월평균 기온이 15°C 내외로 유지 (나)
 ...<중략>...
 5. 한대 기후(E): 최난월 평균 기온 10°C 미만
 ○ T: 최난월 평균 기온 0~10°C 미만 (다)
 ○ F: 최난월 평균 기온 0°C 미만



- | | | | | | | | |
|---|-----|-----|-----|---|-----|-----|-----|
| | (가) | (나) | (다) | | (가) | (나) | (다) |
| ① | A | B | C | ② | A | C | B |
| ③ | B | A | C | ④ | C | A | B |
| ⑤ | C | B | A | | | | |

19. 다음 자료는 어떤 기후 지역의 특성을 나타낸 것이다. 이 기후 지역에 대한 옳은 설명을 <보기>에서 고른 것은?

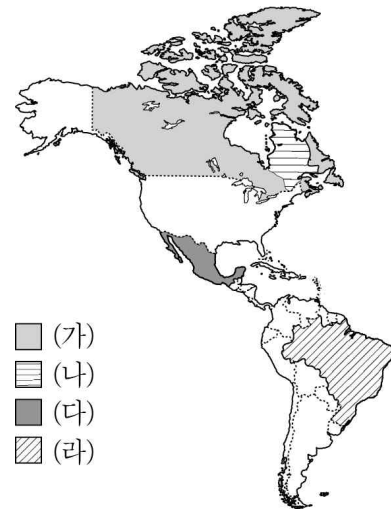
이 지역에는 토양 내 수분이 동결과 용해를 반복하면서 자갈과 모래 등이 분급되어 다각형 모양의 지형이 발달한다.
 또한 여름철 기온 상승으로 인해 활동층이 녹아 지표가 불안정해져 건물이 붕괴되는 현상이 나타난다. 이를 방지하기 위해 건물을 지을 때에는 기둥을 땅속 깊이 박은 후 건물 바닥을 지면에서 띄워 짓는다.



<보 기>
 ㄱ. 대류성 강수의 발생 일수가 많다.
 ㄴ. 타이가라 불리는 침엽수림대가 주로 분포한다.
 ㄷ. 주민들은 순록 유목이나 수렵 및 어업 활동을 한다.
 ㄹ. 암석의 화학적 풍화 작용보다 물리적 풍화 작용이 활발하다.

- ① ㄱ, ㄴ ② ㄱ, ㄷ ③ ㄴ, ㄷ ④ ㄴ, ㄹ ⑤ ㄷ, ㄹ

20. 지도는 세 국가에서 주로 사용하는 언어 분포를 나타낸 것이다. (가)~(라) 언어에 대한 옳은 설명을 <보기>에서 고른 것은?



<보 기>
 ㄱ. (가)는 단일 언어 중 세계에서 모국어로 사용하는 인구가 가장 많다.
 ㄴ. (나)는 프랑스 식민지 개척 과정에서 전파되었다.
 ㄷ. (다)를 사용하는 사람들은 주로 가톨릭교를 신봉한다.
 ㄹ. (라)는 (다)보다 라틴 아메리카에서 공용어로 사용하는 국가의 수가 많다.

- ① ㄱ, ㄴ ② ㄱ, ㄷ ③ ㄴ, ㄷ ④ ㄴ, ㄹ ⑤ ㄷ, ㄹ

* 확인 사항
 ○ 답안지의 해당란에 필요한 내용을 정확히 기입(표기)했는지 확인 하시오.